



***Nacionalni centar za vanjsko
vrednovanje obrazovanja***

Adesivo per l'identificazione
dell'alunno/a

INCOLLARE
ATTENTAMENTE

STORIA



Pagina vuota



INDICAZIONI

Seguite attentamente tutte le indicazioni.

Non voltate pagina e non cominciate a risolvere il test fino a quando non ve lo permette l'insegnante di sorveglianza.

Incollate gli adesivi di identificazione su tutti i materiali d'esame che avete ricevuto nella busta.

L'esame ha una durata di 90 minuti senza pause.

Distribuite bene il tempo a vostra disposizione in modo da risolvere tutti i quesiti.

Prima di ogni gruppo di quesiti ci sono le indicazioni per il loro svolgimento.

Leggetele attentamente.

Nel corso dello svolgimento dell'esame è permesso l'uso della penna a sfera di colore blu o nero.

Scrivete in modo chiaro e leggibile. Le risposte illeggibili verranno valutate con zero (0) punti.

Dopo aver risolto il test, controllate le risposte.

Vi facciamo i nostri migliori auguri!

Questo fascicolo d'esame ha 36 pagine, di cui 3 vuote.


Modalità di compilazione del foglio per le risposte

Giusto

A	X	B		C	
---	---	---	--	---	--

Correzione della risposta errata

A	●	B		C	X
---	---	---	--	---	---

C 

↑ ↑

Risposta esatta Firma o
ricopiata sigla

Sbagliato

A		B	X	C	○
---	--	---	---	---	---



Storia

I. Quesiti a scelta multipla

Nei seguenti quesiti dovete scegliere una risposta tra le quattro proposte.
Indicate con una X le risposte e ricopiatele obbligatoriamente nel foglio per le risposte.
Ogni risposta esatta vale 1 punto.

1. Tra le seguenti, qual è l'invenzione più importante del mesolitico?

- A. l'arco e le frecce
- B. la ruota
- C. le palafitte
- D. la fibbia di metallo

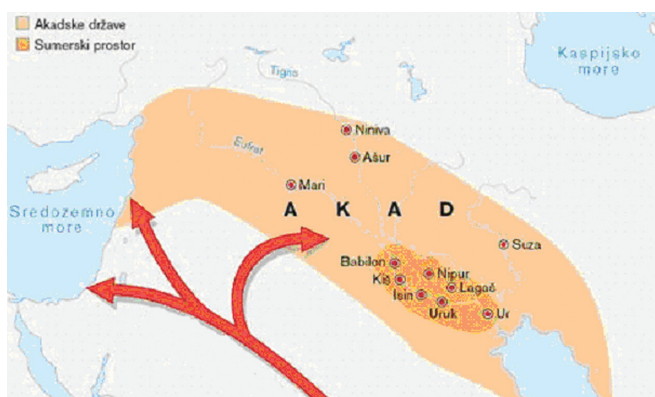
- A. ☐
- B. ☐
- C. ☐
- D. ☐

2. Quale ceto sociale romano diede il maggior contributo alla romanizzazione dei territori illirici?

- A. gli schiavi coloni
- B. i proletari
- C. i latifondisti
- D. i veterani

- A. ☐
- B. ☐
- C. ☐
- D. ☐

3. Come si chiamano i popoli la cui migrazione è illustrata nella cartina?



AKAD = AKKAD

Akadske države = Stati accadici

Sumerski prostor = area sumera

Sredozemno more = Mar Mediterraneo

Kaspijsko more = Mar Caspio

- A. Semiti
- B. Indoeuropei
- C. Arabi
- D. Dravidi

- A. ☐
- B. ☐
- C. ☐
- D. ☐



Storia

<p>4. Quale imperatore romano istituì la prima provincia romana nel territorio dell'attuale Croazia?</p> <p>A. Diocleziano B. Tiberio C. Marco Aurelio D. Augusto</p>	<p>A. <input type="checkbox"/></p> <p>B. <input type="checkbox"/></p> <p>C. <input type="checkbox"/></p> <p>D. <input type="checkbox"/></p>
<p>5. Come si chiama il porto della <i>polis</i> di Atene?</p> <p>A. Ostia B. Sunion C. Pireo D. Salamina</p>	<p>A. <input type="checkbox"/></p> <p>B. <input type="checkbox"/></p> <p>C. <input type="checkbox"/></p> <p>D. <input type="checkbox"/></p>
<p>6. In quale stato Cirillo e Metodio svolsero una funzione di opposizione all'influenza germanica?</p> <p>A. nel principato di Croazia B. nel principato della Grande Moravia C. nel principato di Kijev D. nel principato di Bulgaria</p>	<p>A. <input type="checkbox"/></p> <p>B. <input type="checkbox"/></p> <p>C. <input type="checkbox"/></p> <p>D. <input type="checkbox"/></p>
<p>7. In che tipo di unione si trovarono insieme la Croazia e l'Ungheria dopo il 1102?</p> <p>A. reale B. parlamentare C. personale D. economica</p>	<p>A. <input type="checkbox"/></p> <p>B. <input type="checkbox"/></p> <p>C. <input type="checkbox"/></p> <p>D. <input type="checkbox"/></p>
<p>8. Quale periodo della storia dell'Europa centrale è caratterizzato dalla ripresa dell'economia monetaria?</p> <p>A. l'alto Medioevo B. il basso Medioevo C. il tardo Medioevo D. la prima età moderna</p>	<p>A. <input type="checkbox"/></p> <p>B. <input type="checkbox"/></p> <p>C. <input type="checkbox"/></p> <p>D. <input type="checkbox"/></p>
<p>POV D-S002</p>	



Storia

9. Quale crociata provocò la spartizione dell'impero bizantino illustrata nella cartina?



Latinsko Carstvo = Impero latino
Konstantinopolis = Costantinopoli
Nikeja = Nicea
Nikejsko Carstvo = Impero di Nicea
Crno more = Mar Nero
Sredozemno more = Mar Mediterraneo

- A. Quarta crociata
- B. Terza crociata
- C. Seconda crociata
- D. Prima crociata

- A. ☐
- B. ☐
- C. ☐
- D. ☐

10. Quale battaglia rappresentò la più grave sconfitta croata nella guerra difensiva contro gli Ottomani?

- A. la battaglia di Sisak
- B. la battaglia di Krbava
- C. la battaglia di Siget
- D. la battaglia di Mohacs

- A. ☐
- B. ☐
- C. ☐
- D. ☐

11. Quale organo politico nel 1792 proclamò la Francia una repubblica?

- A. il Direttorio
- B. l'Assemblea degli Stati generali
- C. la Convenzione nazionale
- D. il Consolato

- A. ☐
- B. ☐
- C. ☐
- D. ☐

12. Da quale pressione politica il bano croato Ivan Erdödy difese i diritti municipali croati usando la frase *Regnum regno non proscribit leges* ("Un regno non prescrive leggi a un altro regno")?

- A. degli Asburgo
- B. di Venezia
- C. degli Ottomani
- D. dell'Ungheria

- A. ☐
- B. ☐
- C. ☐
- D. ☐



Storia

13. Chi promosse la “tipografia per la stampa di libri illirici” a Zagabria nel 1794?

- A. Juraj Haulik
- B. Ljudevit Gaj
- C. Ivan Tratner
- D. Maksimilijan Vrhovac

- A. ☐
- B. ☐
- C. ☐
- D. ☐

14. Quale sovrano cercò di europeizzare la sua nobiltà per mezzo delle iniziative illustrate nella figura?



- A. Pietro I il Grande
- B. Ivan IV il Terribile
- C. Aleksandar Nevski
- D. Dimitrij Donskoj

- A. ☐
- B. ☐
- C. ☐
- D. ☐

15. Quale tra le seguenti questioni politiche croate rimase senza una soluzione nel corso del XIX, fino alla caduta della monarchia austroungarica?

- A. l'esistenza di un'unica lingua letteraria
- B. l'esistenza della Dieta croata
- C. la frammentazione del territorio croato
- D. l'inesistenza di una classe borghese

- A. ☐
- B. ☐
- C. ☐
- D. ☐

16. Quale tra gli stati indicati uscì per primo dalla prima guerra mondiale?

- A. l'Impero ottomano
- B. la Russia
- C. la monarchia austroungarica
- D. l'Italia

- A. ☐
- B. ☐
- C. ☐
- D. ☐



Storia

<p>17. Con quale partito politico il Partito contadino croato si coalizzò nel 1927?</p> <p>A. con il Partito radicale di Nikola Pašić B. con il Partito democratico indipendente di Svetozar Pribičević C. con il Partito comunista di Jugoslavia di Josip Broz D. con il Partito croato del diritto di Ante Pavelić</p>	<p>A. <input type="checkbox"/></p> <p>B. <input type="checkbox"/></p> <p>C. <input type="checkbox"/></p> <p>D. <input type="checkbox"/></p>
<p>18. Con quale documento l'opposizione unita, guidata da Vladko Maček, insorse contro la costituzione <i>octroyée</i> del Regno di Jugoslavia?</p> <p>A. i Punti di Lubiana B. l'accordo Cvetković-Maček C. il Memorandum alla Società delle Nazioni D. i Punti di Zagabria</p>	<p>A. <input type="checkbox"/></p> <p>B. <input type="checkbox"/></p> <p>C. <input type="checkbox"/></p> <p>D. <input type="checkbox"/></p>
<p>19. Che cosa si celebra ai giorni nostri nella Repubblica di Croazia il 30 maggio?</p> <p>A. il giorno dell'indipendenza B. il giorno della Dieta croata C. il giorno del ringraziamento patriottico D. il giorno della lotta antifascista</p>	<p>A. <input type="checkbox"/></p> <p>B. <input type="checkbox"/></p> <p>C. <input type="checkbox"/></p> <p>D. <input type="checkbox"/></p>
<p>20. Quale periodo della storia europea è caratterizzato dalla divisione politica illustrata nella cartina?</p> <p>Zapadni blok = blocco occidentale Istočni blok = blocco orientale</p> <p>A. il periodo della seconda guerra mondiale B. il periodo tra le due guerre mondiali C. il periodo successivo alla seconda guerra mondiale D. il periodo successivo alla caduta del muro di Berlino</p>	<div data-bbox="778 1384 1267 1926"> </div> <p>A. <input type="checkbox"/></p> <p>B. <input type="checkbox"/></p> <p>C. <input type="checkbox"/></p> <p>D. <input type="checkbox"/></p>
<p>POV D-S002</p>	<p>01</p>


II. Quesiti a completamento

Nei seguenti quesiti completate le frasi date scrivendo nell'apposito spazio i termini mancanti. Scrivete le risposte nell'apposito spazio del presente fascicolo. Non occupate lo spazio riservato alla valutazione.


<p>21. La colonia romana nella valle del fiume Narenta (Neretva) si chiamava _____.</p>	<p>0 <input type="checkbox"/></p> <p>1 <input type="checkbox"/></p> <p>punto</p>
<p>22. La culla dell'umanità è il continente _____.</p>	<p>0 <input type="checkbox"/></p> <p>1 <input type="checkbox"/></p> <p>punto</p>
<p>23. Le guerre che misero in crisi la sopravvivenza delle città-stato (<i>polis</i>) dell'antica Grecia furono le guerre _____.</p>	<p>0 <input type="checkbox"/></p> <p>1 <input type="checkbox"/></p> <p>punto</p>
<p>24. Nel periodo del basso Medioevo gli abitanti _____ appoggiavano i sovrani che cercavano di rafforzare il potere centrale.</p>	<p>0 <input type="checkbox"/></p> <p>1 <input type="checkbox"/></p> <p>punto</p>



Storia

25. I Veneziani persero i territori tra il Quarnero e Durazzo nel 1358 in seguito alla pace di _____.	0 <input type="checkbox"/> 1 <input type="checkbox"/> punto
26. La prima linea ferroviaria croata, inaugurata nel 1862, collegava, passando per Zagabria, le città di Zidani Most e _____.	0 <input type="checkbox"/> 1 <input type="checkbox"/> punto
27. Il Secondo Reich o Secondo impero tedesco fu proclamato il 18 gennaio 1871 a _____.	0 <input type="checkbox"/> 1 <input type="checkbox"/> punto
28. Il giorno della lotta antifascista in Croazia si festeggia il 22 giugno per commemorare la formazione de _____.	0 <input type="checkbox"/> 1 <input type="checkbox"/> punto
29. La vittima più famosa del processo politico montato nella Jugoslavia comunista del dopoguerra fu l'arcivescovo di Zagabria _____.	0 <input type="checkbox"/> 1 <input type="checkbox"/> punto
POV D-S002	 02

Storia

<p>30. La caduta del comunismo in Europa ebbe inizio nel novembre del 1989 con la distruzione de _____.</p>	<div>0 <input type="checkbox"/></div> <div>1 <input type="checkbox"/></div> <div>punto</div>
<div>POV D-S002</div> <div> 02</div>	

III. Quesiti a scelta multipla

Nei seguenti quesiti dovete scegliere una risposta tra le quattro proposte.
Indicate le risposte con una X e ricopiatele obbligatoriamente nel foglio per le risposte.

31. Quale serie definisce correttamente la successione cronologica dell'inizio dell'utilizzo dei materiali indicati?

- A. pietra → ferro → rame → bronzo
- B. pietra → bronzo → ferro → rame
- C. pietra → ferro → bronzo → rame
- D. pietra → rame → bronzo → ferro

- A. ☐
- B. ☐
- C. ☐
- D. ☐

32. Quale serie definisce correttamente la successione cronologica dell'opera dei riformatori ateniesi?

- A. Clistene → Solone → Pericle → Dracone
- B. Solone → Dracone → Pericle → Clistene
- C. Dracone → Solone → Clistene → Pericle
- D. Pericle → Clistene → Solone → Dracone

- A. ☐
- B. ☐
- C. ☐
- D. ☐

33. Quale serie definisce correttamente la successione cronologica del governo dei principi del principato croato?

- A. Borna → Trpimir → Mislav → Domagoj
- B. Borna → Mislav → Trpimir → Domagoj
- C. Borna → Domagoj → Mislav → Trpimir
- D. Borna → Mislav → Domagoj → Trpimir

- A. ☐
- B. ☐
- C. ☐
- D. ☐



34. Quale serie definisce correttamente il rapporto di causa e conseguenza degli avvenimenti legati alla Riforma?


- A. 95 tesi sulla porta della chiesa di Wittenberg → pace religiosa di Augusta → la grande guerra dei contadini in Germania → applicazione delle decisioni del Concilio di Trento
- B. 95 tesi sulla porta della chiesa di Wittenberg → applicazione delle decisioni del Concilio di Trento → la grande guerra dei contadini in Germania → pace religiosa di Augusta
- C. 95 tesi sulla porta della chiesa di Wittenberg → la grande guerra dei contadini in Germania → applicazione delle decisioni del Concilio di Trento → pace religiosa di Augusta
- D. 95 tesi sulla porta della chiesa di Wittenberg → la grande guerra dei contadini in Germania → pace religiosa di Augusta → applicazione delle decisioni del Concilio di Trento

- A. ☐
- B. ☐
- C. ☐
- D. ☐

35. Quale serie definisce correttamente la successione cronologica dello sviluppo del Partito nazionale in Croazia nel XIX secolo?

- A. Partito nazionale (*Narodna stranka*) → Partito illirico → Partito nazionale indipendente (*Neodvisna narodna stranka*) → Partito nazionale indipendente (*Samostalna narodna stranka*)
- B. Partito illirico → Partito nazionale indipendente (*Samostalna narodna stranka*) → Partito nazionale indipendente (*Neodvisna narodna stranka*) → Partito nazionale (*Narodna stranka*)
- C. Partito illirico → Partito nazionale (*Narodna stranka*) → Partito nazionale indipendente (*Samostalna narodna stranka*) → Partito nazionale indipendente (*Neodvisna narodna stranka*)
- D. Partito illirico → Partito nazionale indipendente (*Samostalna narodna stranka*) → Partito nazionale (*Narodna stranka*) → Partito nazionale indipendente (*Neodvisna narodna stranka*)

- A. ☐
- B. ☐
- C. ☐
- D. ☐



Storia

36. Quale serie definisce correttamente la successione cronologica degli avvenimenti legati al processo di unificazione della Germania?

- A.** Confederazione del Nord → guerra di Austria e Prussia contro la Danimarca → guerra austro-prussiana → guerra franco-prussiana
- B.** guerra di Austria e Prussia contro la Danimarca → guerra austro-prussiana → Confederazione del Nord → guerra franco-prussiana
- C.** Confederazione del Nord → guerra austro-prussiana → guerra di Austria e Prussia contro la Danimarca → guerra franco-prussiana
- D.** guerra di Austria e Prussia contro la Danimarca → guerra austro-prussiana → guerra franco-prussiana → Confederazione del Nord

A. ☐
B. ☐
C. ☐
D. ☐

37. Quale serie definisce correttamente la successione cronologica delle conferenze indicate durante la seconda guerra mondiale?

- A.** conferenza di Washington → conferenza di Teheran → conferenza di Yalta → conferenza di Potsdam
- B.** conferenza di Washington → conferenza di Teheran → conferenza di Potsdam → conferenza di Yalta
- C.** conferenza di Washington → conferenza di Yalta → conferenza di Potsdam → conferenza di Teheran
- D.** conferenza di Teheran → conferenza di Yalta → conferenza di Washington → conferenza di Potsdam

A. ☐
B. ☐
C. ☐
D. ☐



IV. Quesiti a collegamento e ordinamento

Nei seguenti quesiti collegate a ciascuna parte di domanda (indicata con un numero) la rispettiva parte di risposta (indicata con una lettera).
Indicate con una X le risposte e ricopiatele obbligatoriamente nel foglio per le risposte.

38. Collegate a ciascun oggetto di studio la rispettiva scienza ausiliaria della storia.

- 1. scrittura antica
- 2. stemmi
- 3. sigilli
- 4. alberi genealogici

- A. diplomatica
- B. epigrafia
- C. sfragistica
- D. paleografia
- E. araldica
- F. genealogia

	A.	B.	C.	D.	E.	F.
1.	<input type="checkbox"/>	<input type="checkbox"/>	<input type="checkbox"/>	<input type="checkbox"/>	<input type="checkbox"/>	<input type="checkbox"/>
2.	<input type="checkbox"/>	<input type="checkbox"/>	<input type="checkbox"/>	<input type="checkbox"/>	<input type="checkbox"/>	<input type="checkbox"/>
3.	<input type="checkbox"/>	<input type="checkbox"/>	<input type="checkbox"/>	<input type="checkbox"/>	<input type="checkbox"/>	<input type="checkbox"/>
4.	<input type="checkbox"/>	<input type="checkbox"/>	<input type="checkbox"/>	<input type="checkbox"/>	<input type="checkbox"/>	<input type="checkbox"/>



Storia

39. Ai seguenti ominidi collegate le rispettive conquiste.

1. uomo di Neandertal
2. uomo di Cro-Magnon
3. *homo erectus*
4. australopiteco

- A. il primo a camminare in posizione eretta
- B. culto degli antenati morti
- C. invenzione del tornio per la terracotta
- D. impiego sistematico del fuoco
- E. prime creazioni artistiche
- F. il primo a coltivare piante

	A.	B.	C.	D.	E.	F.
1.	<input type="checkbox"/>	<input type="checkbox"/>	<input type="checkbox"/>	<input type="checkbox"/>	<input type="checkbox"/>	<input type="checkbox"/>
2.	<input type="checkbox"/>	<input type="checkbox"/>	<input type="checkbox"/>	<input type="checkbox"/>	<input type="checkbox"/>	<input type="checkbox"/>
3.	<input type="checkbox"/>	<input type="checkbox"/>	<input type="checkbox"/>	<input type="checkbox"/>	<input type="checkbox"/>	<input type="checkbox"/>
4.	<input type="checkbox"/>	<input type="checkbox"/>	<input type="checkbox"/>	<input type="checkbox"/>	<input type="checkbox"/>	<input type="checkbox"/>

40. Alle seguenti opere storiografiche croate collegate i rispettivi autori.

1. *Povijest Hrvata u vrijeme narodnih vladara* (Storia dei croati al tempo dei sovrani nazionali)
2. *Povijest Hrvatska* (Storia della Croazia)
3. *Povijest salonitanskih i splitskih biskupa*
(*Historia Salonitana, Storia dei vescovi salonitani e spalatini*)
4. *O Kraljevstvu Dalmacije i Hrvatske u šest knjiga* (Sul regno di Dalmazia e Croazia in sei libri)

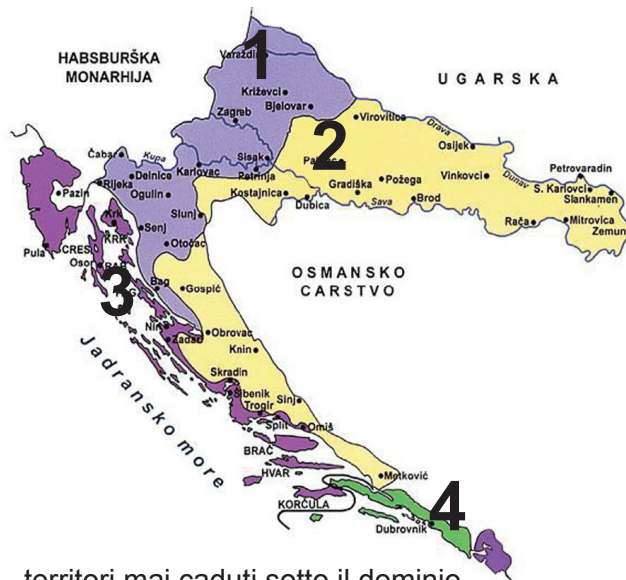
- A. Tadija Smičiklas
- B. Ivan Lucić Lucius
- C. Vjekoslav Klaić
- D. Ferdo Šišić
- E. Tommaso Arcidiacono
- F. Juraj Rattkay

	A.	B.	C.	D.	E.	F.
1.	<input type="checkbox"/>	<input type="checkbox"/>	<input type="checkbox"/>	<input type="checkbox"/>	<input type="checkbox"/>	<input type="checkbox"/>
2.	<input type="checkbox"/>	<input type="checkbox"/>	<input type="checkbox"/>	<input type="checkbox"/>	<input type="checkbox"/>	<input type="checkbox"/>
3.	<input type="checkbox"/>	<input type="checkbox"/>	<input type="checkbox"/>	<input type="checkbox"/>	<input type="checkbox"/>	<input type="checkbox"/>
4.	<input type="checkbox"/>	<input type="checkbox"/>	<input type="checkbox"/>	<input type="checkbox"/>	<input type="checkbox"/>	<input type="checkbox"/>



Storia

41. Osservate attentamente la cartina, che rappresenta i territori croati al tempo del conflitto con gli Ottomani.
Ai territori indicati con i numeri che vanno da 1 a 4 collegate il rispettivo status.



Habsburška Monarhija = monarchia asburgica
Ugarska = Ungheria
Osmansko Carstvo = Impero ottomano
Jadransko more = Mare Adriatico
Pula = Pola
Pazin = Pisino
Rijeka = Fiume
Zagreb = Zagabria
Zadar = Zara
Split = Spalato
Dubrovnik = Ragusa

- A. territori mai caduti sotto il dominio dell'Impero ottomano
- B. territori liberati con la pace di Belgrado (1739)
- C. territori liberati con la pace di Karlowitz (1699)
- D. territori autonomi sotto la sovranità del sultano
- E. territori sottoposti al potere della Repubblica di Venezia
- F. territori liberati con la pace di Svištov (1792)

	A.	B.	C.	D.	E.	F.
1.	<input type="checkbox"/>	<input type="checkbox"/>	<input type="checkbox"/>	<input type="checkbox"/>	<input type="checkbox"/>	<input type="checkbox"/>
2.	<input type="checkbox"/>	<input type="checkbox"/>	<input type="checkbox"/>	<input type="checkbox"/>	<input type="checkbox"/>	<input type="checkbox"/>
3.	<input type="checkbox"/>	<input type="checkbox"/>	<input type="checkbox"/>	<input type="checkbox"/>	<input type="checkbox"/>	<input type="checkbox"/>
4.	<input type="checkbox"/>	<input type="checkbox"/>	<input type="checkbox"/>	<input type="checkbox"/>	<input type="checkbox"/>	<input type="checkbox"/>

42. Collegate ai vari sovrani gli avvenimenti relativi al periodo del loro regno.

- 1. Bela IV Arpad
- 2. Luigi (Ludovico) I d'Angiò
- 3. Mattia Corvino
- 4. Sigismondo di Lussemburgo

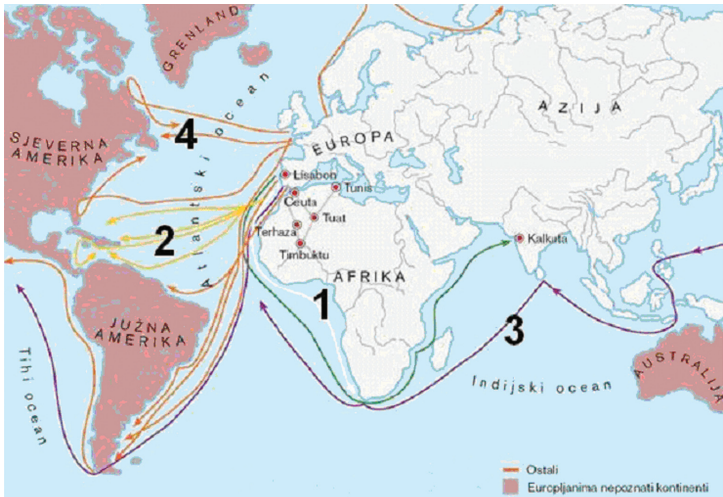
- A. pace di Zara del 1358
- B. "dieta di sangue di Križevci"
- C. istituzione della diocesi di Zagabria
- D. fondazione dei banati di Jajce e Srebrenica
- E. battaglia di Krbava
- F. fondazione delle libere città regie

	A.	B.	C.	D.	E.	F.
1.	<input type="checkbox"/>	<input type="checkbox"/>	<input type="checkbox"/>	<input type="checkbox"/>	<input type="checkbox"/>	<input type="checkbox"/>
2.	<input type="checkbox"/>	<input type="checkbox"/>	<input type="checkbox"/>	<input type="checkbox"/>	<input type="checkbox"/>	<input type="checkbox"/>
3.	<input type="checkbox"/>	<input type="checkbox"/>	<input type="checkbox"/>	<input type="checkbox"/>	<input type="checkbox"/>	<input type="checkbox"/>
4.	<input type="checkbox"/>	<input type="checkbox"/>	<input type="checkbox"/>	<input type="checkbox"/>	<input type="checkbox"/>	<input type="checkbox"/>



Storia

43. Osservate attentamente la cartina; agli itinerari indicati con i numeri che vanno da 1 a 4 collegate i rispettivi esploratori.



Sjeverna Amerika = America del Nord
Južna Amerika = America del Sud
Tihi ocean = Oceano Pacifico
Grenland = Groenlandia
Atlantski ocean = Oceano Atlantico
Afrika = Africa
Lisabon = Lisbona
Tunis = Tunisi
Kalkuta = Calcutta
Indijski ocean = Oceano Indiano
Azija = Asia
Australija = Australia


- A. Amerigo Vespucci
- B. Bartolomeo Diaz
- C. Ferdinando Magellano
- D. Giovanni Caboto
- E. Cristoforo Colombo
- F. Vasco da Gama

	A.	B.	C.	D.	E.	F.
1.						
2.						
3.						
4.						



44. Osservate attentamente le prime pagine dei giornali qui riprodotte. Collegare ai numeri corrispondenti alle riproduzioni il periodo in cui questi giornali furono fondati.


1.



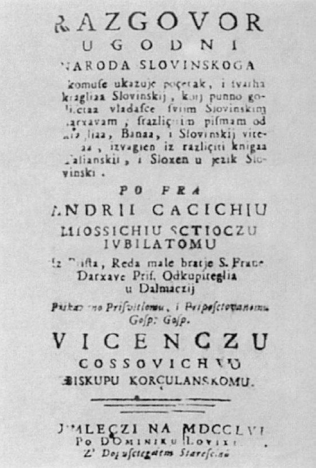
2.



3.



4.



- A. periodo prerisorgimentale (precedente al risveglio nazionale croato)
- B. periodo dell'Illuminismo
- C. periodo delle rivoluzioni del 1848/1849
- D. periodo dell'amministrazione francese dei territori croati
- E. periodo risorgimentale (risveglio nazionale croato)
- F. periodo della nascita della Croazia borghese

	A.	B.	C.	D.	E.	F.
1.						
2.						
3.						
4.						



Storia

45. Collegare alle seguenti alleanze politiche e militari i rispettivi membri.

- 1. Intesa
- 2. Santa Alleanza
- 3. Alleanza dei tre imperatori
- 4. Triplice alleanza

- A. Gran Bretagna, Francia, Russia
- B. Monarchia asburgica, Prussia, Russia
- C. Francia, Russia, Germania
- D. Gran Bretagna, Prussia, Francia
- E. Austria-Ungheria, Germania, Russia
- F. Germania, Austria-Ungheria, Italia

	A.	B.	C.	D.	E.	F.
1.	<input type="checkbox"/>	<input type="checkbox"/>	<input type="checkbox"/>	<input type="checkbox"/>	<input type="checkbox"/>	<input type="checkbox"/>
2.	<input type="checkbox"/>	<input type="checkbox"/>	<input type="checkbox"/>	<input type="checkbox"/>	<input type="checkbox"/>	<input type="checkbox"/>
3.	<input type="checkbox"/>	<input type="checkbox"/>	<input type="checkbox"/>	<input type="checkbox"/>	<input type="checkbox"/>	<input type="checkbox"/>
4.	<input type="checkbox"/>	<input type="checkbox"/>	<input type="checkbox"/>	<input type="checkbox"/>	<input type="checkbox"/>	<input type="checkbox"/>

46. Ai seguenti partiti politici croati del XIX secolo collegare i rispettivi leader politici.

- 1. Partito illirico
- 2. Partito del diritto puro
- 3. Partito unionista
- 4. Partito del diritto

- A. Ante Starčević
- B. Franjo Rački
- C. Ivan Mažuranić
- D. Josip Frank
- E. Levin Rauch
- F. Ljudevit Gaj

	A.	B.	C.	D.	E.	F.
1.	<input type="checkbox"/>	<input type="checkbox"/>	<input type="checkbox"/>	<input type="checkbox"/>	<input type="checkbox"/>	<input type="checkbox"/>
2.	<input type="checkbox"/>	<input type="checkbox"/>	<input type="checkbox"/>	<input type="checkbox"/>	<input type="checkbox"/>	<input type="checkbox"/>
3.	<input type="checkbox"/>	<input type="checkbox"/>	<input type="checkbox"/>	<input type="checkbox"/>	<input type="checkbox"/>	<input type="checkbox"/>
4.	<input type="checkbox"/>	<input type="checkbox"/>	<input type="checkbox"/>	<input type="checkbox"/>	<input type="checkbox"/>	<input type="checkbox"/>



Storia

47. Collegare i seguenti avvenimenti politici con gli stati e gli anni in cui ebbero luogo.

1. *primavera di Praga*
2. *primavera croata*
3. *rivoluzione di velluto*
4. *rivoluzione culturale*

- A. Cina, 1966
- B. Cecoslovacchia, 1968
- C. Croazia, 1971
- D. Polonia, 1980
- E. Croazia, 1989
- F. Cecoslovacchia, 1989

	A.	B.	C.	D.	E.	F.
1.						
2.						
3.						
4.						

48. Osservate attentamente la seguente cartina storica, che mostra i territori croati e la Bosnia-Erzegovina alla vigilia della prima guerra mondiale. Collegare ai territori indicati dai numeri che vanno da 1 a 4 il rispettivo status o appartenenza giuridico-amministrativa.



- Jadransko more = Mare Adriatico
- Pula = Pola
- Poreč = Parenzo
- Rovinj = Rovigno
- Rijeka = Fiume
- Zagreb = Zagabria
- Zadar = Zara
- Split = Spalato
- Dubrovnik = Ragusa
- Bosna = Bosnia
- Hercegovina = Erzegovina
- Srbija = Serbia
- Osmansko C. = Impero ottomano
- Ugarska = Ungheria
- Italija = Italia
- Crna Gora = Montenegro

- A. annesso all'amministrazione congiunta austro-ungarica
- B. amministrazione ungherese e parte integrante del territorio statale ungherese
- C. corpo separato unito alla corona ungherese
- D. amministrazione italiana
- E. amministrazione austriaca
- F. amministrazione della Dieta croata

	A.	B.	C.	D.	E.	F.
1.						
2.						
3.						
4.						



Storia

49. Osservate attentamente la cartina storica, che mostra la spartizione del Regno di Jugoslavia all'inizio della seconda guerra mondiale. Collegate ai territori indicati con i numeri che vanno da 1 a 4 il loro status o la loro appartenenza politico-territoriale.



Italija = Italia
Austrija = Austria
Mađarska = Ungheria
Rumunjska = Romania
Bugarska = Bulgaria
Grčka = Grecia
Albanija = Albania
Split = Spalato
Jadransko more = Mare Adriatico

- A. amministrazione delle forze di occupazione tedesche
- B. territori annessi alla Germania
- C. territori occupati dagli Ungheresi
- D. territori annessi all'Italia
- E. territori annessi alla Slovenia
- F. territori dello Stato Indipendente di Croazia

	A.	B.	C.	D.	E.	F.
1.	<input type="checkbox"/>	<input type="checkbox"/>	<input type="checkbox"/>	<input type="checkbox"/>	<input type="checkbox"/>	<input type="checkbox"/>
2.	<input type="checkbox"/>	<input type="checkbox"/>	<input type="checkbox"/>	<input type="checkbox"/>	<input type="checkbox"/>	<input type="checkbox"/>
3.	<input type="checkbox"/>	<input type="checkbox"/>	<input type="checkbox"/>	<input type="checkbox"/>	<input type="checkbox"/>	<input type="checkbox"/>
4.	<input type="checkbox"/>	<input type="checkbox"/>	<input type="checkbox"/>	<input type="checkbox"/>	<input type="checkbox"/>	<input type="checkbox"/>



Storia

50. Osservate attentamente la cartina storica, che rappresenta la situazione durante la prima guerra mondiale. Collegate ai territori indicati con i numeri che vanno da 1 a 4 le relative vicende belliche.



- Francuska = Francia
- Italija = Italia
- Albanija = Albania
- Austro-Ugarska = Austro-Ungheria
- Njemačka = Germania
- Rusija = Russia
- Grčka = Grecia
- Švicarska = Svizzera
- Rumunjska = Romania
- Bugarska = Bulgaria

- A. sfondamento del fronte di Salonicco (1918)
- B. linea del fronte dell'Isonzo
- C. blocco navale della Germania
- D. offensiva di Brusilov (1916)
- E. superiorità dell'Intesa con l'entrata in guerra degli USA
- F. spedizione dei Dardanelli (1915)

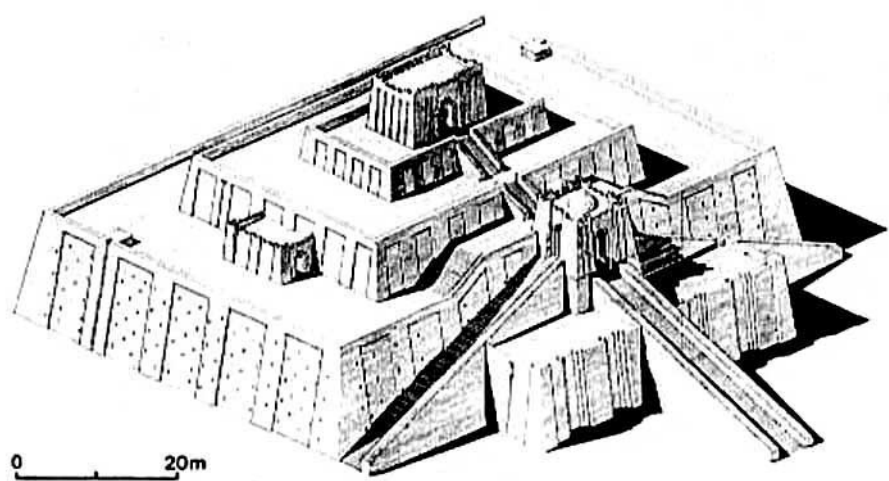
	A.	B.	C.	D.	E.	F.
1.						
2.						
3.						
4.						



V. Quesiti a risposta breve

Nei seguenti quesiti esaminate le fonti storiche proposte e rispondete alle domande date. Scrivete le risposte nell'apposito spazio nel presente fascicolo. Non occupate lo spazio riservato alla valutazione.

51. Osservate attentamente la figura e rispondete alle domande.



51.1. Come si chiama la costruzione raffigurata nella figura?

0 ☐
1 ☐

punto


51.2. Come si chiama la civiltà che per prima eresse tali costruzioni?

0 ☐
1 ☐

punto



Storia

<p>51.3. Che cosa si trova in cima a queste costruzioni?</p> <p>_____</p>	<div>0 <input type="checkbox"/></div> <div>1 <input type="checkbox"/></div> <div>punto</div>
<div>POV D-S002</div> <div> 02</div>	

52. Osservate attentamente la cartina storica, che rappresenta le province romane, e rispondete alle domande.



Panonija Savija = Pannonia Savia
Valerija = Valeria
Druga Panonija = Seconda Pannonia
Dakija = Dacia
Dalmacija = Dalmazia
Gornja Mezija = Mesia superiore

52.1. Quale imperatore romano organizzò (sotto l'aspetto amministrativo e territoriale) questi territori nel modo raffigurato nella cartina?

0 ☐
1 ☐

punto

52.2. Quale città rappresentava il principale centro economico e amministrativo della Seconda Pannonia (*Pannonie Secunde*)?

0 ☐
1 ☐

punto

52.3. Come si chiama il sistema di governo basato sulla divisione dell'impero in 4 prefetture con quattro coregnanti?

0 ☐
1 ☐

punto



Storia

53. Osservate attentamente la fotografia dei resti di una città in pietra appartenente all'America precolombiana e rispondete alle domande.



53.1. Quale popolo precolombiano costruì questa città?

0 ☐
1 ☐

punto

53.2. Come si chiama questa città?

0 ☐
1 ☐

punto

53.3. Come si chiama la scrittura usata da questo popolo?

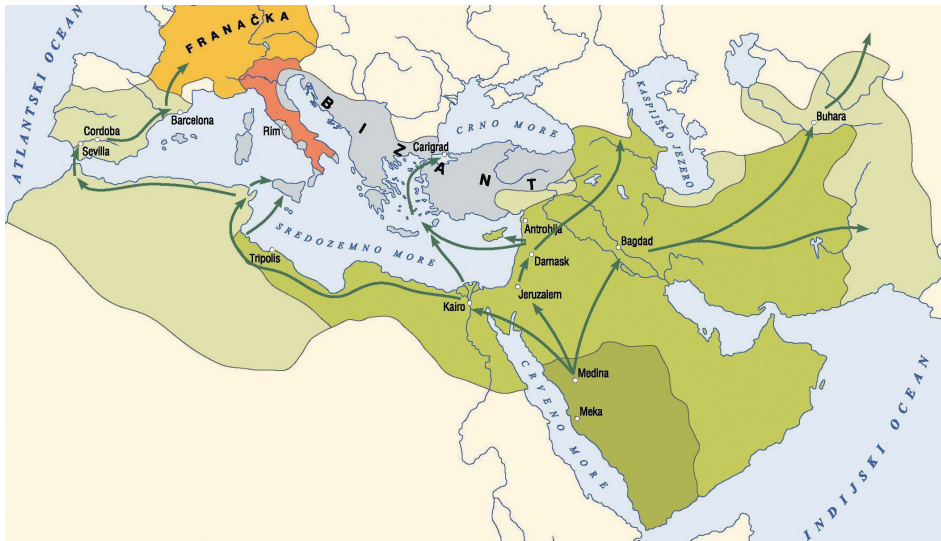
0 ☐
1 ☐

punto



Storia

54. Osservate attentamente la carta storica del Mediterraneo durante l'alto Medioevo e rispondete alle domande.



Bizant = Bisanzio
Franačka = Regno dei Franchi
Rim = Roma

54.1. Di quale popolo questa cartina mostra le conquiste e l'avanzata?

0 ☐
1 ☐

punto

54.2. Quale comandante militare fermò la loro avanzata in Europa occidentale?

0 ☐
1 ☐

punto

54.3. Come si chiamava il loro stato sul suolo europeo?

0 ☐
1 ☐

punto



Storia

55. Leggete i seguenti brani, tratti da una fonte storica, e rispondete alle domande.

*Il vescovo Giovanni, servo dei servi del Signore, all'amato figlio Tomislav, re dei Croati, e a Mihajlo, sublime principe di Hum, e allo stimatissimo e santissimo fratello nostro Giovanni, arcivescovo della chiesa salonitana e a tutti i vescovi sottoposti, e quindi a tutti gli župani e a tutti i sacerdoti e a tutto il popolo che abita in Slavonia e in Dalmazia, carissimi figli nostri...
... Per questo vi invitiamo, carissimi figli, ad affidare i vostri teneri figli fin dalla prima età a Dio per farli studiare, affinché istruiti da Dio essi possano con le loro ammonizioni contro gli errori peccaminosi, sollevarvi nelle regioni del cielo, in cui c'è Cristo con le sue schiere di eletti...
Per questo vi ammoniamo nuovamente, carissimi figli, a restare legati a noi e, credendo a noi in tutto, accogliate sia la lingua sia i riti degli stimatissimi vescovi, ossia Giovanni della santa chiesa anconitana e Leone della santa chiesa di Palestina, (che sono) nostri funzionari, e da noi inviati a voi e ispirati da particolare fervore...*

55.1. Quando e dove si tiene il concilio ecclesiastico a cui questa missiva è indirizzata?

0

☐

1

☐

punto

55.2. In quale lingua si doveva celebrare la liturgia secondo le decisioni di questo concilio?

0

☐

1

☐

punto

55.3. Chi si oppone alle decisioni prese da questo concilio?

0

☐

1

☐

punto



56. Osservate attentamente questa fonte storica, risalente alla seconda metà del XIX secolo e rispondete alle domande.



Pod ugarskom krunom, kano
s bratom, rukuje se Madjar sa
Hervatom =
Sotto la corona ungherese, come
con un fratello, si stringe la mano il
Magiario con il Croato

56.1. In occasione della firma di quale documento giuridico-politico fu pubblicato questo volantino?

0

1

punto

56.2. In che anno fu firmato tale documento?

0

1

punto

56.3. Quale lingua diventò la lingua ufficiale in Croazia in seguito a tale documento?

0

1

punto



Storia

57. Osservate attentamente la seguente figura e rispondete alle domande.



57.1. Come si chiama l'istituzione internazionale simboleggiata da questo segno?

0

☐

1

☐

punto

57.2. Le vittime di quale guerra spinsero alla creazione di questa organizzazione?

0

☐

1

☐

punto

57.3. Come si chiama, con nome e cognome, il suo fondatore?

0

☐

1

☐

punto



Storia

58. Osservate attentamente la seguente cartina storica, che raffigura i territori croati nel XVIII secolo, e rispondete alle domande.



Rijeka = Fiume
Zagreb = Zagabria

58.1. Al tempo di quale sovrano esisteva tale divisione amministrativo-territoriale dei territori croati?

0 ☐
1 ☐

punto

58.2. Come si chiamava l'organo di governo a cui era sottoposto il territorio croato indicato dal numero 1?

0 ☐
1 ☐

punto

58.3. Quali tre contee (županije) furono restaurate in quel periodo?

0 ☐
1 ☐

punto



59. Osservate attentamente la carta storica del Regno dei Serbi, dei Croati e degli Sloveni e rispondete alle domande.



59.1. Come si chiamava la costituzione che prevedeva la divisione del Regno dei Serbi, Croati e Sloveni rappresentata nella cartina?

0 ☐
1 ☐

punto

59.2. Quale tipo di politica assumeva valore di legge con questa costituzione?

0 ☐
1 ☐

punto

59.3. Con quale atto regio fu abolita la divisione territoriale del Regno dei Serbi, Croati e Sloveni qui illustrata?

0 ☐
1 ☐

punto



Storia

60. Osservate attentamente la seguente fotografia, risalente alla guerra patriottica, e rispondete alle domande.



60.1. Di quale città croata la fotografia mostra le devastazioni subite durante la guerra patriottica?

0 ☐
1 ☐

punto

60.2. In che data fu occupata questa città?

0 ☐
1 ☐

punto

60.3. Come si chiama il luogo delle liquidazioni di massa dei difensori croati e degli abitanti di questa città?

0 ☐
1 ☐

punto



Pagina vuota



Pagina vuota

