



***Nacionalni centar za vanjsko  
vrednovanje obrazovanja***

Идентификациона  
налепница

ПАЖЉИВО НАЛЕПИТИ

# ИСТОРИЈА

POV D-S002



12



# Историја

Празна страница

POV D-S002



99



## УПУТСТВО

Пажљиво следите сва упутства.

Не окрећите страницу и не решавајте тест док то не одобри дежурни наставник.

Налепите идентификациону налепницу на све испитне материјале које сте добили у коверти.

Испит траје 90 минута без прекида.

Добро распоредите време како бисте могли решити све задатке.

Испред сваке скупине задатака је упутство за њихово решавање.

Пажљиво га прочитајте.

Током писања испита допуштено је користити хемиску оловку плаве или црне боје.

Пишите јасно и читлко. Нечитки одговори бодоваће се с нула (0) бодова.

Када решите тест, проверите одговоре.

Желимо Вам пуно успеха!

Ова испитна књижица има 36 страница, од тога 3 празне.

### Начин попуњавања листа за одговоре

Добро



Исправљање погрешног уноса



Преписани  
тачан  
одговор



Потпис  
или  
параф

Лоше



POV D-S002



99



# Историја

## I Задаци вишеструког избора

У следећим задацима између четири понуђена требате одабрати један одговор. Одговоре обележите знаком X и обавезно их препишите на лист за одговоре. Сваки тачан одговор доноси 1 бод.

1. Шта је од наведеног најзначајнији проналазак из доба мезолита?

- A. лук и стрела
- B. точак
- C. сојеница
- D. метална фибула

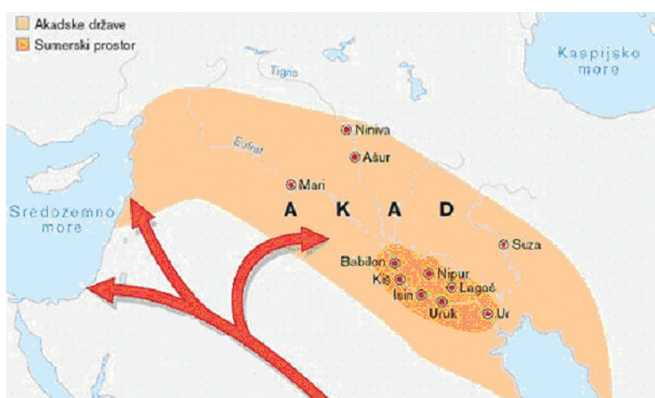
- A. ☐
- B. ☐
- C. ☐
- D. ☐

2. Који је римски staleж највише допринео романизацији илирских простора?

- A. робови колони
- B. пролетери
- C. латифундисти
- D. војници ветерани

- A. ☐
- B. ☐
- C. ☐
- D. ☐

3. Како се зове група народа чија је сеоба приказана на карти?



- A. Семити
- B. Индоевропљани
- C. Арапи
- D. Дравиди


- A. ☐
- B. ☐
- C. ☐
- D. ☐

POV Д-S002



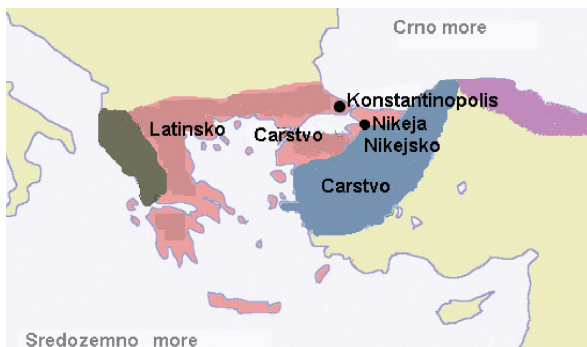
01

# Историја

<p>4. Који је римски цар успоставио прву римску провинцију на данашњим хрватским просторима?</p> <p>A. Диоклецијан B. Тиберије C. Марко Аурелије D. Аугуст</p>	<p>A. <input type="checkbox"/></p> <p>B. <input type="checkbox"/></p> <p>C. <input type="checkbox"/></p> <p>D. <input type="checkbox"/></p>
<p>5. Како се зове лука полиса Атине?</p> <p>A. Остија B. Сунион C. Пиреј D. Саламина</p>	<p>A. <input type="checkbox"/></p> <p>B. <input type="checkbox"/></p> <p>C. <input type="checkbox"/></p> <p>D. <input type="checkbox"/></p>
<p>6. У којој су држави Ћирило и Методије деловали као опозиција немачком утицају?</p> <p>A. у Кнежевини Хрватској B. у Великоморавској кнежевини C. у Кијевској кнежевини D. у Кнежевини Бугарској</p>	<p>A. <input type="checkbox"/></p> <p>B. <input type="checkbox"/></p> <p>C. <input type="checkbox"/></p> <p>D. <input type="checkbox"/></p>
<p>7. У каквој су унији биле Хрватска и Угарска након 1102. године?</p> <p>A. у реалној B. у парламентарној C. у персоналној D. у привредној</p>	<p>A. <input type="checkbox"/></p> <p>B. <input type="checkbox"/></p> <p>C. <input type="checkbox"/></p> <p>D. <input type="checkbox"/></p>
<p>8. Који период средњоевропске историје карактерише обнова робно-новчане привреде?</p> <p>A. рани средњи век B. развијени средњи век C. касни средњи век D. рани нови век</p>	<p>A. <input type="checkbox"/></p> <p>B. <input type="checkbox"/></p> <p>C. <input type="checkbox"/></p> <p>D. <input type="checkbox"/></p>
<p>POV Д-S002</p> <div><p>01</p></div>	

# Историја

9. Последица којег крсташког рата је подела византиског царства приказана на карти?



- A. 4. крсташког рата
- B. 3. крсташког рата
- C. 2. крсташког рата
- D. 1. крсташког рата

- A. ☐
- B. ☐
- C. ☐
- D. ☐

10. Која је битка била највећи хрватски пораз у одбрамбеном рату с Турцима?

- A. Сисачка
- B. Крбавска
- C. Сигетска
- D. Мохачка

- A. ☐
- B. ☐
- C. ☐
- D. ☐

11. Које је политичко тело 1792. године прогласило Француску републиком?

- A. Директориј
- B. Скупштина генералних стајежа
- C. Народни конвент
- D. Конзулат

- A. ☐
- B. ☐
- C. ☐
- D. ☐

12. Од чијег политичког притиска хрватски бан Иван Ердеди брани хрватска муниципална права реченицом *Regnum regno non proscribit leges* („Краљевство краљевству не прописује законе“)?

- A. хабсбуршког
- B. млетачког
- C. турског
- D. угарског

- A. ☐
- B. ☐
- C. ☐
- D. ☐

POV Д-S002



01

# Историја

13. Ко је у Загребу 1794. године покренуо „штампарију за штампање илирских књига“?

- A. Јурај Хаулик
- B. Људевит Гај
- C. Иван Тратнер
- D. Максимилијан Врховац

A. ☐

B. ☐

C. ☐

D. ☐

14. Који је владар настојао европеизирати своје племство поступцима приказанима на слици?



- A. Петар I Велики
- B. Иван IV Грозни
- C. Александар Невски
- D. Димитрије Донски

A. ☐

B. ☐

C. ☐

D. ☐

15. Које од наведених хрватских политичких питања остаје нерешено током 19. века па до слома Аустро-Угарске монархије?

- A. постојање јединственог књижевног језика
- B. постојање Хрватског сабора
- C. разједињеност хрватских земаља
- D. непостојање грађанског staleжа

A. ☐

B. ☐

C. ☐

D. ☐

16. Која је од наведених држава прва изишла из Првог светског рата?

- A. Турско царство
- B. Русија
- C. Аустро-Угарска монархија
- D. Италија

A. ☐

B. ☐

C. ☐

D. ☐

POV D-S002



01

# Историја

17. С којом је политичком странком Хрватска сељачка странка започела коалицијску сарадњу 1927. године?

- A. с Радикалном странком Николе Пашића
- B. са Самосталном демократском странком Светозара Прибичевића
- C. с Комунистичком партијом Југославије Јосипа Броза
- D. с Хрватском странком права Анте Павелића

A.

B.

C.

D.

18. Којим документом удружена опозиција на челу с Влатком Мачеком устаје против Октроираног устава Краљевине Југославије?

- A. Љубљанским пунктацијама
- B. Споразумом Цветковић-Мачек
- C. Меморандумом Лиги народа
- D. Загребачким пунктацијама

A.

B.

C.

D.

19. Шта се данас обележава у Републици Хрватској 30. маја?

- A. Дан независности
- B. Дан Хрватског сабора
- C. Дан домовинске захвалности
- D. Дан антифашистичке борбе

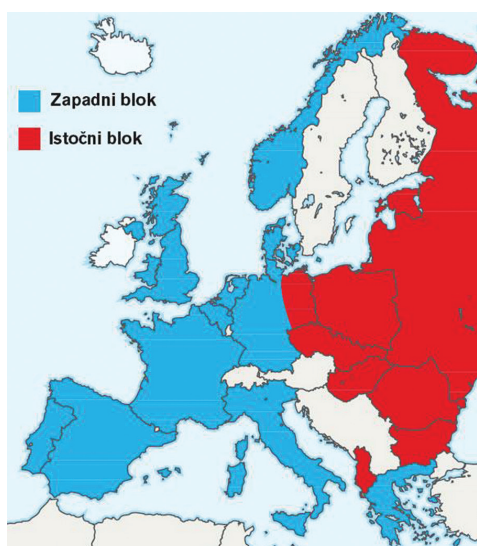
A.

B.

C.

D.

20. Који је период европске историје обележила политичка подела каква је приказана на карти?



- A. током Другог светског рата
- B. између два светска рата
- C. после Другог светског рата
- D. после пада Берлинског зида

A.

B.

C.

D.

POV Д-S002



01

# Историја

## II Задаци допуњавања

У следећим задацима допуните реченице уписивањем појмова који недостају.  
Одговоре упишите на предвиђено место у овој књижици.  
Не попуњавајте простор за бодовање.

21. Римска колонија у долини реке Неретве звала се

\_\_\_\_\_.

0

1

бод

22. Колевка човечанства је континент \_\_\_\_\_.

0

1

бод

23. Ратови који су довели до кризе опстанка градова-држава (полиса) у старој  
Грчкој су \_\_\_\_\_.

0

1

бод

24. У раздобљу развијеног средњег века ослонац владарима у јачању централне  
власти пружали су становници \_\_\_\_\_.

0

1


бод

POV Д-S002



02

# Историја

<b>25.</b> Млечани су изгубили простор од Кварнера до Драча 1358. године миром у _____.	0 <input type="checkbox"/> 1 <input type="checkbox"/>  бод
<b>26.</b> Прва хрватска железничка пруга, пуштена у промет 1862. године, повезивала је преко Загреба градове Зидани Мост и _____.	0 <input type="checkbox"/> 1 <input type="checkbox"/>  бод
<b>27.</b> Други Рајх или Друго немачко царство проглашено је 18. јануара 1871. године у _____.	0 <input type="checkbox"/> 1 <input type="checkbox"/>  бод
<b>28.</b> Дан антифашистичке борбе у Хрватској слави се 22. јуна у знак сећања на формирање _____.	0 <input type="checkbox"/> 1 <input type="checkbox"/>  бод
<b>29.</b> Најпознатија жртва монтираног политичког процеса у послератној комунистичкој Југославији био је загребачки надбискуп _____.	0 <input type="checkbox"/> 1 <input type="checkbox"/>  бод
POV Д-S002	 02



# Историја

**30.** Почетак пада комунизма у Европи започео је у новембру 1989. године рушењем

\_\_\_\_\_.

0

1

бод

POV Д-S002



02



# Историја

## III Задаци вишеструког избора

У следећим задацима између четири понуђена требате одабрати један одговор. Одговоре обележите знаком X и обавезно их препишите на лист за одговоре.

**31.** Који низ одређује тачан хронолошки редослед почетка употребе наведених материјала?

- A. камен → гвожђе → бакар → бронза
- B. камен → бронза → гвожђе → бакар
- C. камен → гвожђе → бронза → бакар
- D. камен → бакар → бронза → гвожђе

- A. ☐
- B. ☐
- C. ☐
- D. ☐

**32.** Који низ одређује тачан хронолошки редослед деловања атинских реформатора?

- A. Клистен → Солон → Перикло → Дракон
- B. Солон → Дракон → Перикло → Клистен
- C. Дракон → Солон → Клистен → Перикло
- D. Перикло → Клистен → Солон → Дракон

- A. ☐
- B. ☐
- C. ☐
- D. ☐

**33.** Који низ одређује тачан хронолошки редослед владавине кнежева Кнежевине Хрватске?

- A. Борна → Трпимир → Мислав → Домагој
- B. Борна → Мислав → Трпимир → Домагој
- C. Борна → Домагој → Мислав → Трпимир
- D. Борна → Мислав → Домагој → Трпимир

- A. ☐
- B. ☐
- C. ☐
- D. ☐

POV Д-S002



02

# Историја

**34.** Који низ одређује тачан узрочно-последични редослед догађаја везаних уз реформацију?

- A. 95 теза на вратима цркве у Витенбергу → Аугсбуршки верски мир → Велики сељачки немачки рат → примена закључака Тридентског концила
- B. 95 теза на вратима цркве у Витенбергу → примена закључака Тридентског концила → Велики сељачки немачки рат → Аугсбуршки верски мир
- C. 95 теза на вратима цркве у Витенбергу → Велики сељачки немачки рат → примена закључака Тридентског концила → Аугсбуршки верски мир
- D. 95 теза на вратима цркве у Витенбергу → Велики сељачки немачки рат → Аугсбуршки верски мир → примена закључака Тридентског концила

A.

B.

C.

D.

**35.** Који низ одређује тачан хронолошки редослед развоја народњаштва у Хрватској у 19. веку?

- A. Народна странка → Илирска странка → Неодвисна народна странка → Самостална народна странка
- B. Илирска странка → Самостална народна странка → Неодвисна народна странка → Народна странка
- C. Илирска странка → Народна странка → Самостална народна странка → Неодвисна народна странка
- D. Илирска странка → Самостална народна странка → Народна странка → Неодвисна народна странка

A.

B.

C.

D.

POV Д-S002



02

# Историја

**36.** Који низ одређује тачан хронолошки редослед догађања у процесу уједињења Немачке?

- A.** Севернонемачки савез → Рат Аустрије и Пруске против Данске → Аустро-пруски рат → Француско-пруски рат
- B.** Рат Аустрије и Пруске против Данске → Аустро-пруски рат → Севернонемачки савез → Француско-пруски рат
- C.** Севернонемачки савез → Аустро-пруски рат → Рат Аустрије и Пруске против Данске → Француско-пруски рат
- D.** Рат Аустрије и Пруске против Данске → Аустро-пруски рат → Француско-пруски рат → Севернонемачки савез

**A.** ☐  
**B.** ☐  
**C.** ☐  
**D.** ☐

**37.** Који низ одређује тачан хронолошки редослед наведених конференција из времена Другог светског рата?

- A.** Вашингтонска конференција → Техеранска конференција → конференција на Јалти → Потсдамска конференција
- B.** Вашингтонска конференција → Техеранска конференција → Потсдамска конференција → конференција на Јалти
- C.** Вашингтонска конференција → конференција на Јалти → Потсдамска конференција → Техеранска конференција
- D.** Техеранска конференција → конференција на Јалти → Вашингтонска конференција → Потсдамска конференција

**A.** ☐  
**B.** ☐  
**C.** ☐  
**D.** ☐

POV Д-S002



01

# Историја

## IV Задаци повезивања и сређивања

У следећим задацима свакој честици питања означеној бројем придружите одговарајућу честицу одговора означену словом.  
Одговоре обележите знаком X и обавезно их препишите на лист за одговоре.

**38.** Предметима истраживања придружите помоћне историјске науке.

1. стара писма
2. грбови
3. печати
4. родослови

- A. дипломатија
- B. епиграфија
- C. сфрагистика
- D. палеографија
- E. хералдика
- F. генеалогичка

	A.	B.	C.	D.	E.	F.
1.						
2.						
3.						
4.						

POV Д-S002



05

# Историја

39. Првим типовима људи придружите њихова постигнућа.

1. неандерталац
2. кромањонац
3. „хомо еректус“
4. аустралопитекус

- A. први усправно ходао
- B. култ мртвих предака
- C. пронашао лончарско коло
- D. континуирана употреба ватре
- E. прво уметничко стварање
- F. први култивирао биљке

	A.	B.	C.	D.	E.	F.
1.	<input type="checkbox"/>	<input type="checkbox"/>	<input type="checkbox"/>	<input type="checkbox"/>	<input type="checkbox"/>	<input type="checkbox"/>
2.	<input type="checkbox"/>	<input type="checkbox"/>	<input type="checkbox"/>	<input type="checkbox"/>	<input type="checkbox"/>	<input type="checkbox"/>
3.	<input type="checkbox"/>	<input type="checkbox"/>	<input type="checkbox"/>	<input type="checkbox"/>	<input type="checkbox"/>	<input type="checkbox"/>
4.	<input type="checkbox"/>	<input type="checkbox"/>	<input type="checkbox"/>	<input type="checkbox"/>	<input type="checkbox"/>	<input type="checkbox"/>

40. Хрватским историографским делима придружите ауторе.

1. „Историја Хрвата у време народних владара“
2. „Историја Хрватска“
3. „Историја салонитанских и сплитских бискупа (*Historia Salonitana*)“
4. „О Краљевству Далмације и Хрватске у шест књига“

- A. Тадија Смичиклас
- B. Иван Луцић Луциус
- C. Вјекослав Клаић
- D. Фердо Шишић
- E. Тома Архиђакон
- F. Јурај Раткај

	A.	B.	C.	D.	E.	F.
1.	<input type="checkbox"/>	<input type="checkbox"/>	<input type="checkbox"/>	<input type="checkbox"/>	<input type="checkbox"/>	<input type="checkbox"/>
2.	<input type="checkbox"/>	<input type="checkbox"/>	<input type="checkbox"/>	<input type="checkbox"/>	<input type="checkbox"/>	<input type="checkbox"/>
3.	<input type="checkbox"/>	<input type="checkbox"/>	<input type="checkbox"/>	<input type="checkbox"/>	<input type="checkbox"/>	<input type="checkbox"/>
4.	<input type="checkbox"/>	<input type="checkbox"/>	<input type="checkbox"/>	<input type="checkbox"/>	<input type="checkbox"/>	<input type="checkbox"/>

POV Д-S002



05

# Историја

41. Пажљиво проучите карту хрватских земаља у време сукоба с Турцима. Просторима обележеним бројевима од 1 до 4 придружите припадајући статус.



- A. никада није пало под власт Турског царства  
 B. ослобођено миром у Београду 1739. године  
 C. ослобођено миром у Сремским Карловцима 1699. године  
 D. самосталност под султановим суверенитетом  
 E. под управом Млетачке републике  
 F. ослобођено миром у Свиштову 1792. године

	A.	B.	C.	D.	E.	F.
1.	<input type="checkbox"/>	<input type="checkbox"/>	<input type="checkbox"/>	<input type="checkbox"/>	<input type="checkbox"/>	<input type="checkbox"/>
2.	<input type="checkbox"/>	<input type="checkbox"/>	<input type="checkbox"/>	<input type="checkbox"/>	<input type="checkbox"/>	<input type="checkbox"/>
3.	<input type="checkbox"/>	<input type="checkbox"/>	<input type="checkbox"/>	<input type="checkbox"/>	<input type="checkbox"/>	<input type="checkbox"/>
4.	<input type="checkbox"/>	<input type="checkbox"/>	<input type="checkbox"/>	<input type="checkbox"/>	<input type="checkbox"/>	<input type="checkbox"/>

42. Владарима придружите припадајуће догађаје из раздобља њихове владавине.

1. Бела IV Арпадовић  
 2. Лудовик I Анжувински  
 3. Матија Корвин  
 4. Сигисмунд Луксембуршки

- A. мир у Задру 1358.  
 B. „крвави сабор крижевачки”  
 C. основана загребачка бискупија  
 D. оснивање Јајачке и Сребрничке бановине  
 E. Крбавска битка  
 F. оснивање слободних краљевских градова

	A.	B.	C.	D.	E.	F.
1.	<input type="checkbox"/>	<input type="checkbox"/>	<input type="checkbox"/>	<input type="checkbox"/>	<input type="checkbox"/>	<input type="checkbox"/>
2.	<input type="checkbox"/>	<input type="checkbox"/>	<input type="checkbox"/>	<input type="checkbox"/>	<input type="checkbox"/>	<input type="checkbox"/>
3.	<input type="checkbox"/>	<input type="checkbox"/>	<input type="checkbox"/>	<input type="checkbox"/>	<input type="checkbox"/>	<input type="checkbox"/>
4.	<input type="checkbox"/>	<input type="checkbox"/>	<input type="checkbox"/>	<input type="checkbox"/>	<input type="checkbox"/>	<input type="checkbox"/>

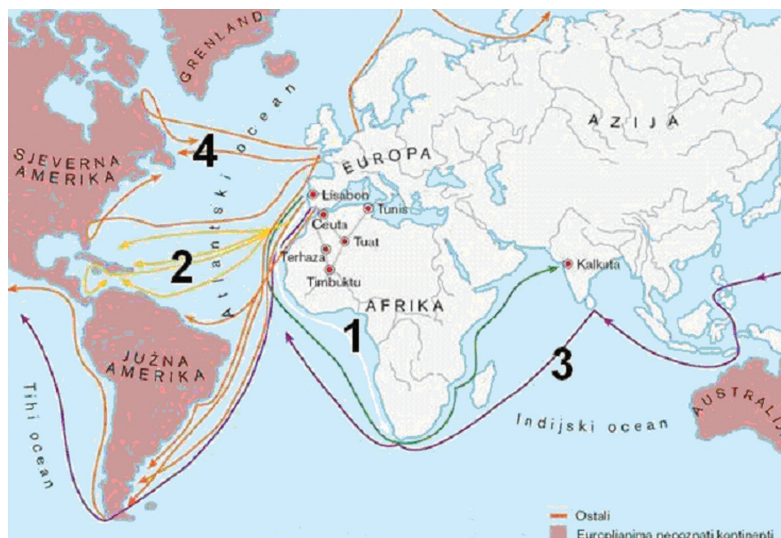
POV Д-S002



05

# Историја

43. Пажљиво проучите карту и смеровима путовања обележеним бројевима од 1 до 4 придружите истраживаче.



- A. Америго Веспучи
- B. Бартоломео Диас
- C. Фернандо Магелан
- D. Џон Кабот
- E. Кристофор Колумбо
- F. Васко де Гама

	A.	B.	C.	D.	E.	F.
1.						
2.						
3.						
4.						

POV Д-S002




05


# Историја

44. Пажљиво проучите насловну страну новина. Бројевима којима су обележене придружите време њиховог настанка.

1.



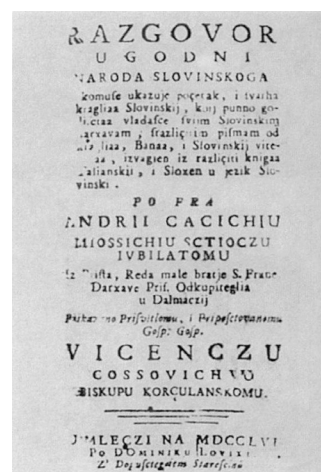
2.



3.



4.



- A. период до препорода  
B. доба просветiteljstva  
C. доба револуционарне 1848/1849. године  
D. доба француске управе хрватским просторима  
E. период препорода  
F. период настанка грађанске Хрватске

	A.	B.	C.	D.	E.	F.
1.						
2.						
3.						
4.						

POV D-S002



05

# Историја

**45.** Политичким и војним савезима придржите припадајуће чланице.

1. Антанта
2. Света алијанса
3. Троцарски савез
4. Тројни савез

- A.** Велика Британија, Француска, Русија  
**B.** Хабсбуршка монархија, Пруска, Русија  
**C.** Француска, Русија, Немачка  
**D.** Велика Британија, Пруска, Француска  
**E.** Аустро-Угарска, Немачка, Русија  
**F.** Немачка, Аустро-Угарска, Италија

	A.	B.	C.	D.	E.	F.
1.	<input type="checkbox"/>	<input type="checkbox"/>	<input type="checkbox"/>	<input type="checkbox"/>	<input type="checkbox"/>	<input type="checkbox"/>
2.	<input type="checkbox"/>	<input type="checkbox"/>	<input type="checkbox"/>	<input type="checkbox"/>	<input type="checkbox"/>	<input type="checkbox"/>
3.	<input type="checkbox"/>	<input type="checkbox"/>	<input type="checkbox"/>	<input type="checkbox"/>	<input type="checkbox"/>	<input type="checkbox"/>
4.	<input type="checkbox"/>	<input type="checkbox"/>	<input type="checkbox"/>	<input type="checkbox"/>	<input type="checkbox"/>	<input type="checkbox"/>

**46.** Хрватским политичким странкама из 19. века придржите њихове политичке вође.

1. Илирска странка
2. Чиста странка права
3. Унионистичка странка
4. Странка права

- A.** Анте Старчевић  
**B.** Фрањо Рачки  
**C.** Иван Мажуранић  
**D.** Јосип Франк  
**E.** Левин Раух  
**F.** Људевит Гај

	A.	B.	C.	D.	E.	F.
1.	<input type="checkbox"/>	<input type="checkbox"/>	<input type="checkbox"/>	<input type="checkbox"/>	<input type="checkbox"/>	<input type="checkbox"/>
2.	<input type="checkbox"/>	<input type="checkbox"/>	<input type="checkbox"/>	<input type="checkbox"/>	<input type="checkbox"/>	<input type="checkbox"/>
3.	<input type="checkbox"/>	<input type="checkbox"/>	<input type="checkbox"/>	<input type="checkbox"/>	<input type="checkbox"/>	<input type="checkbox"/>
4.	<input type="checkbox"/>	<input type="checkbox"/>	<input type="checkbox"/>	<input type="checkbox"/>	<input type="checkbox"/>	<input type="checkbox"/>

POV Д-S002



05

# Историја

47. Политичке догађаје придружите државама и годинама догађања.

1. „прашко пролеће”
2. „хрватско пролеће”
3. „баршунаста револуција”
4. „културна револуција”

- A. Кина, 1966.  
 B. Чехословачка, 1968.  
 C. Хрватска, 1971.  
 D. Пољска, 1980.  
 E. Хрватска, 1989.  
 F. Чехословачка, 1989.

	A.	B.	C.	D.	E.	F.
1.						
2.						
3.						
4.						

48. Пажљиво проучите историјску карту хрватских земаља и Босне и Херцеговине пред Први светски рат. Просторима обележеним бројевима од 1 до 4 придружите управно-правну припадност или статус.



- A. анектирано под заједничку аустро-угарску управу  
 B. угарска управа и саставни део угарског државног територија  
 C. посебно тело спојено с угарском круном  
 D. талијанска управа  
 E. аустријска управа  
 F. управа Хрватског сабора

	A.	B.	C.	D.	E.	F.
1.						
2.						
3.						
4.						

POV Д-S002



05

# Историја

49. Пажљиво проучите историјску карту подељене Краљевине Југославије почетком Другог светског рата. Просторима обележеним бројевима од 1 до 4 придружите политичко-територијалну припадност или статус.



- A. под немачком окупационом управом
- B. директно прикључено Немачкој
- C. окупирано од Мађара
- D. директно прикључено Италији
- E. директно прикључено Словенији
- F. територија Независне Државе Хрватске

	A.	B.	C.	D.	E.	F.
1.	<input type="checkbox"/>	<input type="checkbox"/>	<input type="checkbox"/>	<input type="checkbox"/>	<input type="checkbox"/>	<input type="checkbox"/>
2.	<input type="checkbox"/>	<input type="checkbox"/>	<input type="checkbox"/>	<input type="checkbox"/>	<input type="checkbox"/>	<input type="checkbox"/>
3.	<input type="checkbox"/>	<input type="checkbox"/>	<input type="checkbox"/>	<input type="checkbox"/>	<input type="checkbox"/>	<input type="checkbox"/>
4.	<input type="checkbox"/>	<input type="checkbox"/>	<input type="checkbox"/>	<input type="checkbox"/>	<input type="checkbox"/>	<input type="checkbox"/>

POV D-S002



05

# Историја

50. Пажљиво проучите историјску карту из времена Првог светског рата. Просторима обележеним бројевима од 1 до 4 придружите војна деловања.



- A. пробој солунског фронта 1918. године
- B. линије сочанског фронта
- C. поморска блокада Немачке
- D. Брусиловљева офанзива 1916. године
- E. надмоћ Антанте уласком САД-а у рат
- F. дарданелска експедиција 1915. године

	A.	B.	C.	D.	E.	F.
1.	<input type="checkbox"/>	<input type="checkbox"/>	<input type="checkbox"/>	<input type="checkbox"/>	<input type="checkbox"/>	<input type="checkbox"/>
2.	<input type="checkbox"/>	<input type="checkbox"/>	<input type="checkbox"/>	<input type="checkbox"/>	<input type="checkbox"/>	<input type="checkbox"/>
3.	<input type="checkbox"/>	<input type="checkbox"/>	<input type="checkbox"/>	<input type="checkbox"/>	<input type="checkbox"/>	<input type="checkbox"/>
4.	<input type="checkbox"/>	<input type="checkbox"/>	<input type="checkbox"/>	<input type="checkbox"/>	<input type="checkbox"/>	<input type="checkbox"/>

POV Д-S002



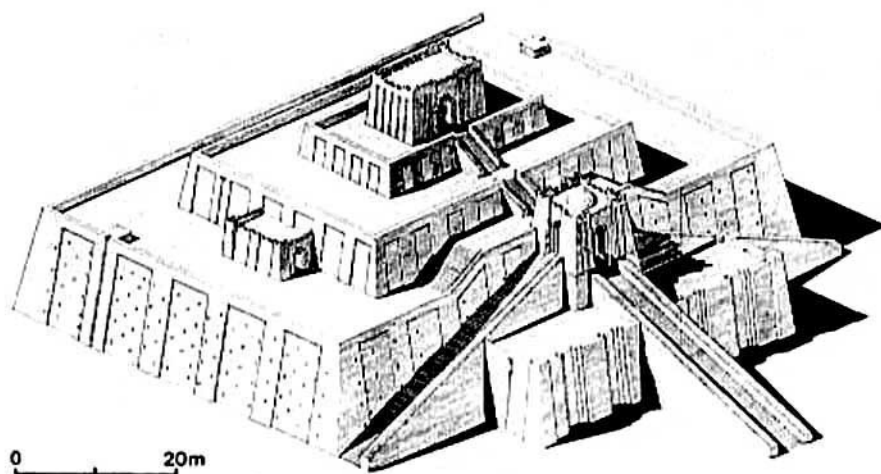
05

# Историја

## V Задаци кратких одговора

У следећим задацима проучите историјске изворе и одговорите на постављена питања. Одговоре упишите на предвиђено место у овој књижици. Не попуњавајте простор за бодовање.

**51.** Пажљиво погледајте слику и одговорите на питања.



**51.1.** Како се зове грађевина приказана на слици?

\_\_\_\_\_

0

☐

1

☐

бод

**51.2.** Именујте цивилизацију која прва гради овакве грађевине.

\_\_\_\_\_

0

☐

1

☐

бод

POV Д-S002



02



# Историја

51.3. Шта се налази на врху ових грађевина?

\_\_\_\_\_

0

☐

1

☐

бод

POV Д-S002



02



# Историја

**52.** Пажљиво проучите историјску карту римских провинција и одговорите на постављена питања.



**52.1.** Који је римски цар направио овакву административно-територијалну поделу простора приказаних на карти?

0

1

бод

**52.2.** Који је град био главно привредно и административно средиште Друге Паноније („*Panonie Secunde*“)?

0

1

бод

**52.3.** Како се зове облик власти утемељен на подели Царства на 4 префектуре са четворицом савладара?

0

1

бод

POV Д-S002



02

# Историја

- 53.** Пажљиво проучите слику остатака знаменитог града из периода предколумбовске Америке и одговорите на постављена питања.



**53.1.** Који је предколумбовски народ изградио овај град?

\_\_\_\_\_

0

☐

1

☐

бод

**53.2.** Како се зове овај град?

\_\_\_\_\_

0

☐

1

☐

бод

**53.3.** Како се зове систем писма којим се служио овај народ?

\_\_\_\_\_

0

☐

1

☐

бод

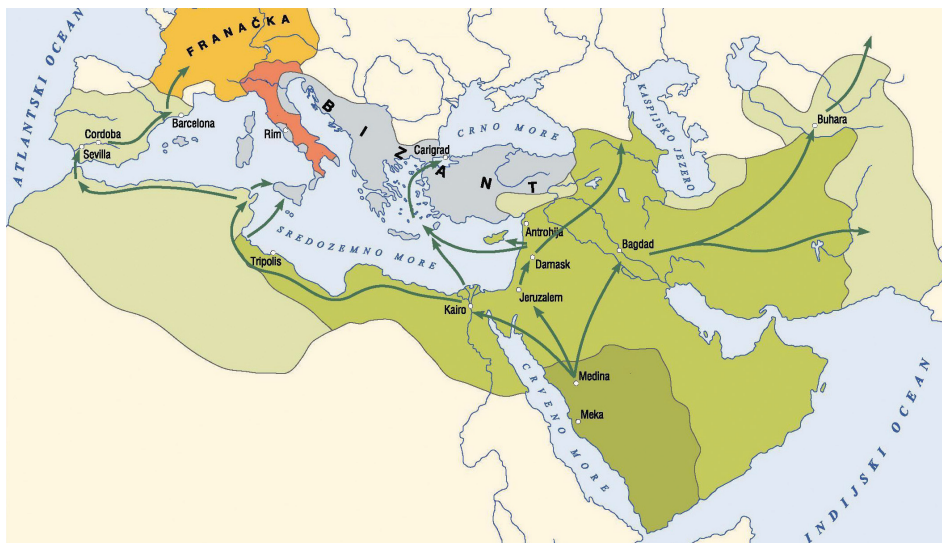
POV Д-S002



02

# Историја

**54.** Пажљиво проучите историјску карту Средоземља у раном средњем веку и одговорите на постављена питања.



**54.1.** Освајања и продоре којег народа приказује карта?

0

1

бод

**54.2.** Који је војсковођа зауставио њихов даљњи продор у западну Европу?

0

1

бод

**54.3.** Како се звала њихова држава на европском копну?

0

1

бод

POV Д-S002



02

# Историја

**55.** Прочитајте делове изворног историјског текста и одговорите на постављена питања.

„Иван бискуп, слуга слугу Божјих, љубљеном сину Томиславу, краљу Хрвата, и Михајлу, изврсном кнезу Хумљана, те препоштованом и пресветом брату нашем Ивану, надбискупу цркве салонитске и свим подложним бискупима, надаље свим жупанима и свим свећеницима и читаву народу који борави у Славонији и Далмацији, предрагим нашим синовима...

... Због тога вас опомињемо, предраги синови, да своју њежну дјецу од малих ногу предате Богу на науке да би вас од Бога поучени могли својим опоменама од грешних заблуда придићи у небески крај, у којем је Крист са свим четама изабраника... Стога вас и опет опомињемо, предраги синови, да останете у вези с нама и да, вјерујући нам у свему, прихватите и језик и одредбе пречасних бискупа, тј. Ивана свете цркве анконитанске и Леона свете палестинске цркве, (који су) наши службеници, и од нас вама послани и особитом ревношћу задојени...”

**55.1.** Када се и где одржава црквени сабор на који је ово писмо упућено?

\_\_\_\_\_

0

☐

1

☐

бод

**55.2.** На којем се језику морала обављати служба одредбама овог сабора?

\_\_\_\_\_

0

☐

1

☐

бод

**55.3.** Која се особа супротставља донешеним одлукама овог сабора?

\_\_\_\_\_

0

☐

1

☐

бод

POV Д-S002



02

# Историја

**56.** Пажљиво проучите историјски извор из друге половине 19. века и одговорите на постављена питања.



**56.1.** Поводом потписивања којег правно-политичког документа је објављен овај летак?

\_\_\_\_\_

0

☐

1

☐

бод

**56.2.** Које је године потписан тај документ?

\_\_\_\_\_

0

☐

1

☐

бод

**56.3.** Који је језик тим документом одређен као службени у Хрватској?

\_\_\_\_\_

0

☐

1

☐

бод

POV Д-S002



02

# Историја

**57.** Пажљиво погледајте приказани сликовни прилог и одговорите на постављена питања.



**57.1.** Како се зове међународна институција коју симболизира овај знак?

\_\_\_\_\_

0

☐

1

☐

бод

**57.2.** Жртве којег рата су потакнуле оснивање ове организације?

\_\_\_\_\_

0

☐

1

☐

бод

**57.3.** Како се зове, именом и презименом, њен оснивач?

\_\_\_\_\_

0

☐

1

☐

бод

POV Д-S002



02

# Историја

**58.** Пажљиво проучите историјску карту хрватских земаља у 18. веку и одговорите на постављена питања.



**58.1.** У време чијег владања је постојала оваква територијално-управна подела хрватских земаља?

\_\_\_\_\_

0

1

бод

**58.2.** Како се зове тело власти под чијом је управом био хрватски простор обележен бројем 1?

\_\_\_\_\_

0

1

бод

**58.3.** Које су три жупаније тада обновљене?

\_\_\_\_\_

0

1

бод

POV Д-S002



02

# Историја

**59.** Пажљиво проучите историјску карту Краљевине Срба, Хрвата и Словенаца и одговорите на постављена питања.



**59.1.** Како се зове устав према којем је обављена приказана територијална подела Краљевине Срба, Хрвата и Словенаца?

\_\_\_\_\_

0 ☐  
1 ☐

бод

**59.2.** Каква је политика озакоњена тим уставом?

\_\_\_\_\_

0 ☐  
1 ☐

бод

**59.3.** Којим је краљевским чином укинута приказана територијална подела Краљевине Срба, Хрвата и Словенаца?

\_\_\_\_\_

0 ☐  
1 ☐

бод

POV Д-S002



02

# Историја

**60.** Пажљиво погледајте фотографију из времена Домовинског рата и одговорите на постављена питања.



**60.1.** Разарања којег хрватског града у Домовинском рату приказује фотографија?

\_\_\_\_\_

0 ☐  
1 ☐

бод

**60.2.** Којег је датума окупиран овај град?

\_\_\_\_\_

0 ☐  
1 ☐

бод

**60.3.** Како се зове место масовне ликвидације хрватских бранитеља и грађана тога града?

\_\_\_\_\_

0 ☐  
1 ☐

бод

POV Д-S002



02

# Историја

Празна страница

POV D-S002



99

# Историја

Празна страница

POV D-S002



99