



NACIONALNI CENTAR ZA VANJSKO  
VREDNOVANJE OBRAZOVANJA

Identifikacijska  
naljepnica  
PAŽLJIVO NALIJEPI

# GEOGRAFIJA

Ispitna knjižica 2

GEO IK-2 D-S005



GEO.05.HR.R.K2.20



12



# Geografija

Prazna stranica

GEO IK-2 D-S005



99



## UPUTE

Pozorno slijedite sve upute.

Ne okrećite stranicu i ne rješavajte test dok to ne odobri dežurni nastavnik.

Nalijepite identifikacijsku naljepnicu na sve ispitne materijale koje ste dobili u omotnici.

Ispit traje 90 minuta bez prekida.

Zadaci se nalaze u dvjema ispitnim knjižicama.

Redoslijed rješavanja birajte sami.

Dobro rasporedite vrijeme kako biste mogli riješiti sve zadatke.

Ispred svake skupine zadataka je uputa za njihovo rješavanje.

Pozorno ju pročitajte.

Odgovore treba upisati samo na predviđeno mjesto u ovoj knjižici.

Pišite jasno i čitljivo. Nečitki odgovori bodovat će se s nula (0) bodova.

Tijekom pisanja ispita dopušteno je rabiti kemijsku olovku plave ili crne boje.

Kada riješite test, provjerite svoje odgovore.

Želimo Vam puno uspjeha!

Ova ispitna knjižica ima 20 stranica, od toga 2 prazne.

### Način popunjavanja lista za odgovore

Dobro

A	X	B		C	
---	---	---	--	---	--

Ispravljanje pogrešnog unosa

A	●	B		C	X
---	---	---	--	---	---

C

Prepisani  
točan  
odgovor

Paraf

Loše

A		B	X	C	○
---	--	---	---	---	---

GEO IK-2 D-S005



99

# Geografija

## V. Zadaci dopunjavanja i kratkih odgovora

U sljedećim zadacima dopunite rečenice i popunite tablice upisivanjem pojmova koji nedostaju i upišite u kartu tražene brojeve i oznake.

U zadacima s računanjem potrebno je prikazati i postupak.

Ne popunjavajte prostor za bodovanje.

**45.** U kojem je mjerilu izrađen globus ako mu opseg ekvatora iznosi 1 metar?

Prostor za računanje:

Izrađen je u mjerilu \_\_\_\_\_.

0

2

bod

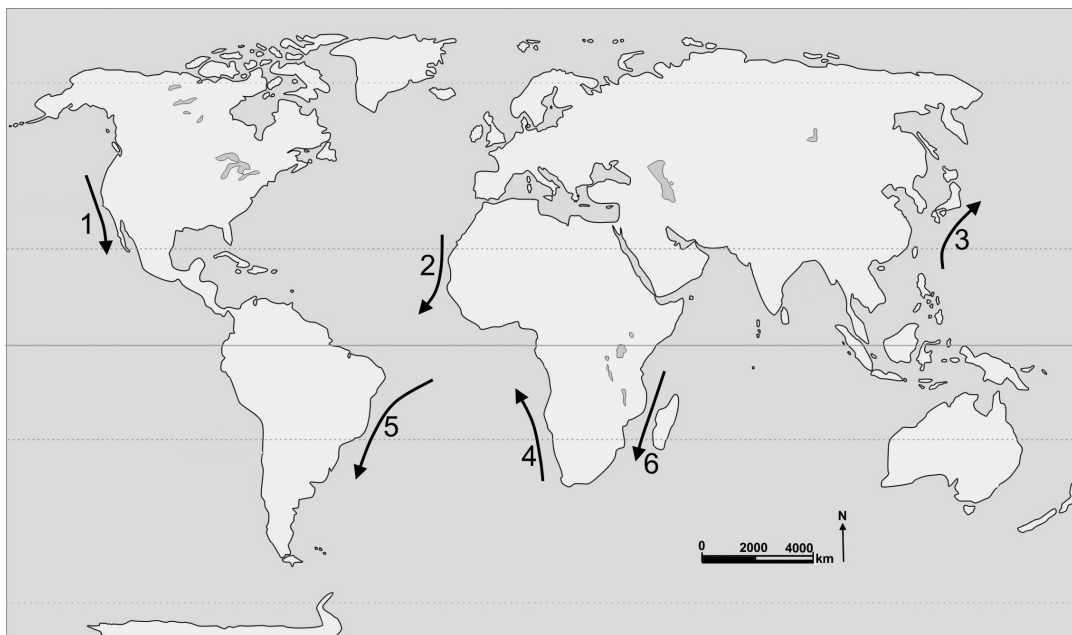
GEO IK-2 D-S005



02

# Geografija

46. Sljedeće zadatke riješite analizom priložene karte svijeta na kojoj su brojevima od 1 do 6 označene odabrane morske struje.



Upišite u tablicu imena **hladnih** morskih struja i njihove brojeve s geografske karte.

	Naziv hladne morske struje	Broj na karti
46.1.	_____ struja	
46.2.	_____ struja	
46.3.	_____ struja	

0 ☐

2 ☐

bod

0 ☐

2 ☐

bod

0 ☐

2 ☐

bod

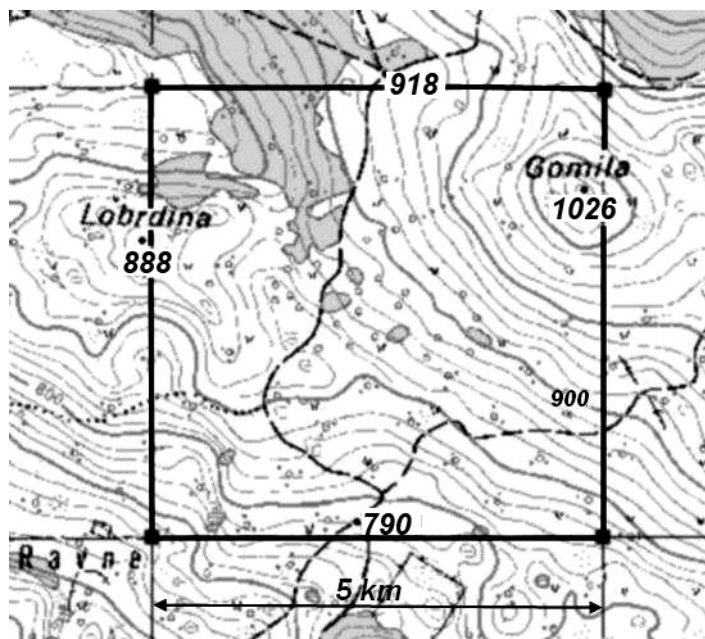
GEO IK-2 D-S005



02

# Geografija

47. Izračunajte energiju reljefa na označenome kvadratu topografske karte.



Prostor za računanje:

Energija reljefa je \_\_\_\_\_ m/km<sup>2</sup>.

0

2

bod

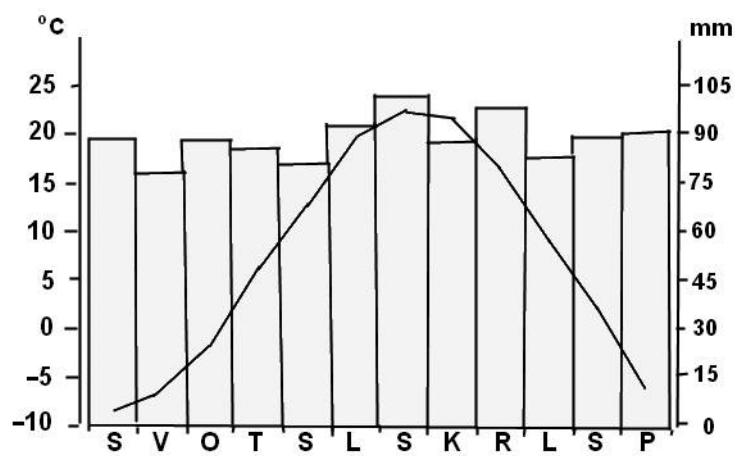
GEO IK-2 D-S005



02

# Geografija

48. Analizirajte priloženi klimatski dijagram.



Koji je tip klime, prema Köppenu, prikazan na priloženome klimatskome dijagramu?

\_\_\_\_\_

0

2

bod

GEO IK-2 D-S005



02



# Geografija

**49.** Na temelju priloženih podataka odredite kojemu je podtipu općega kretanja stanovništva pripadao Grad Zagreb 2008. godine.

Broj živorođenih: 8 345 stanovnika

Broj umrlih: 8 319 stanovnika

Broj doseljenih: 10 498 stanovnika

Broj odseljenih: 8 113 stanovnika

Prostor za računanje:

Podtip općega kretanja stanovništva je \_\_\_\_\_.

0



2



bod

GEO IK-2 D-S005

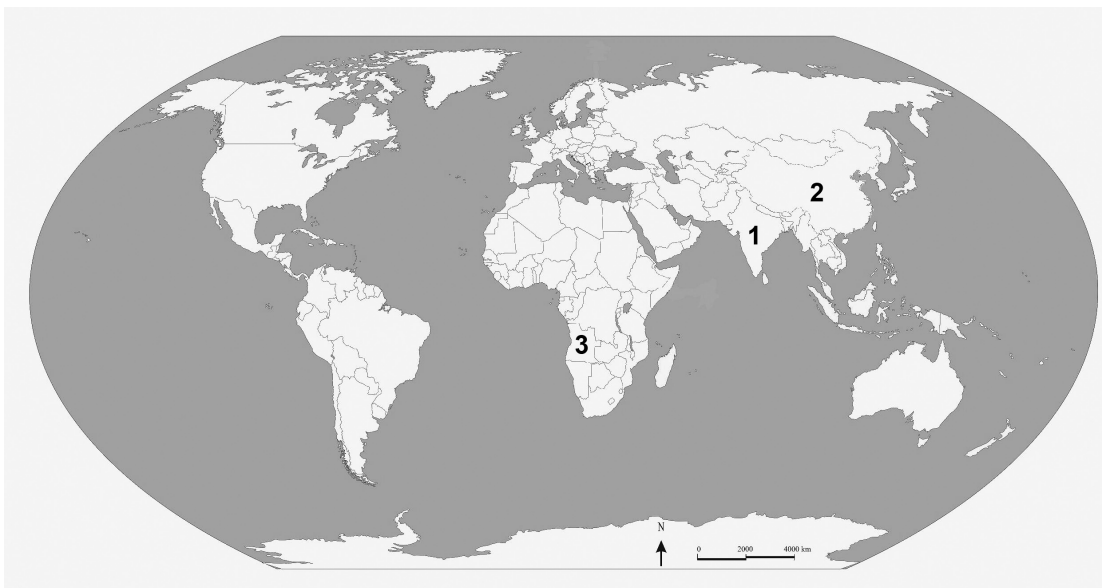


02



# Geografija

50. Sljedeće zadatke riješite analizom priložene karte svijeta na kojoj su brojevima 1, 2 i 3 označene odabrane države.



Upišite u tablicu imena država na koje se odnose navedene stope mortaliteta i njihove brojeve s geografske karte.

	Mortalitet	Ime države	Broj na karti
50.1.	država s mortalitetom dojenčadi 117,5‰ (2005. – 2010. godine)		
50.2.	država s mortalitetom dojenčadi 54,6‰ (2005. – 2010. godine)		
50.3.	država s mortalitetom dojenčadi 22,9‰ (2005. – 2010. godine)		

0

2

bod

0

2

bod

0

2

bod

GEO IK-2 D-S005



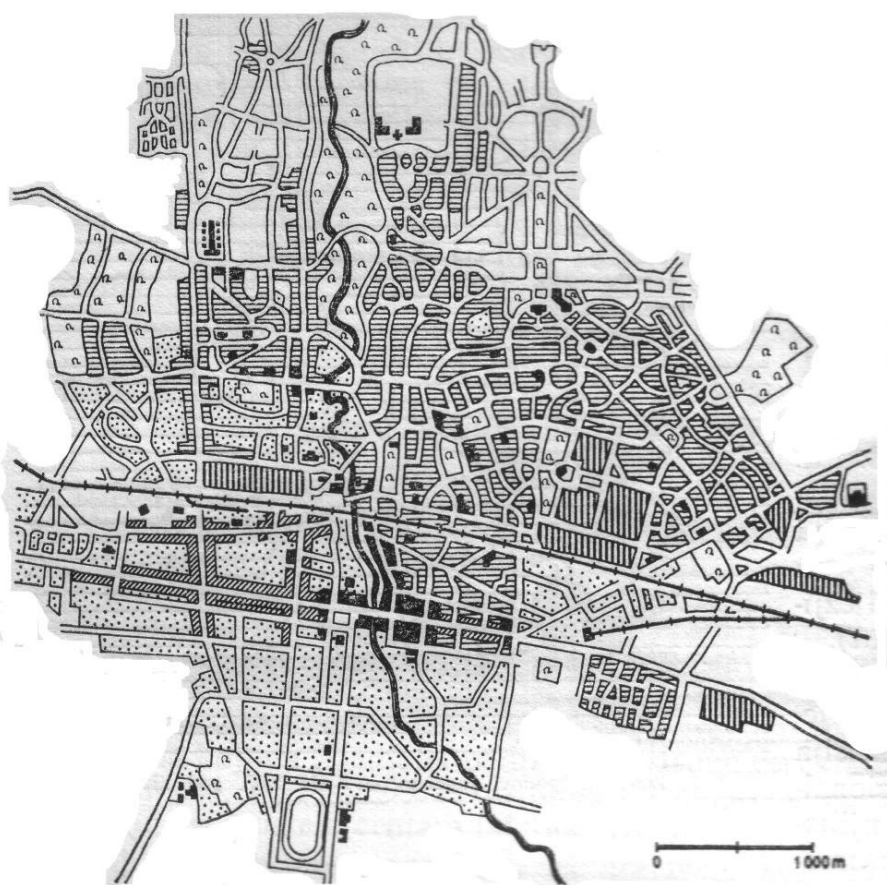
02


# Geografija

51. Sljedeće zadatke riješite analizom priloženoga plana grada.

51.1. Na crtežu je, prema socijalnoj strukturi, prikazan  
primjer \_\_\_\_\_ grada.

51.2. Karakterističan je za \_\_\_\_\_ (upiшите ime kontinenta).



-  kineske trgovačke i stambene četvrti
-  europske trgovine i hoteli
-  industrija, skladišta, vojarne
-  europske stambene četvrti
-  kampongs (domorodačke četvrti)

0 ☐  
1 ☐  
bod

0 ☐  
1 ☐  
bod

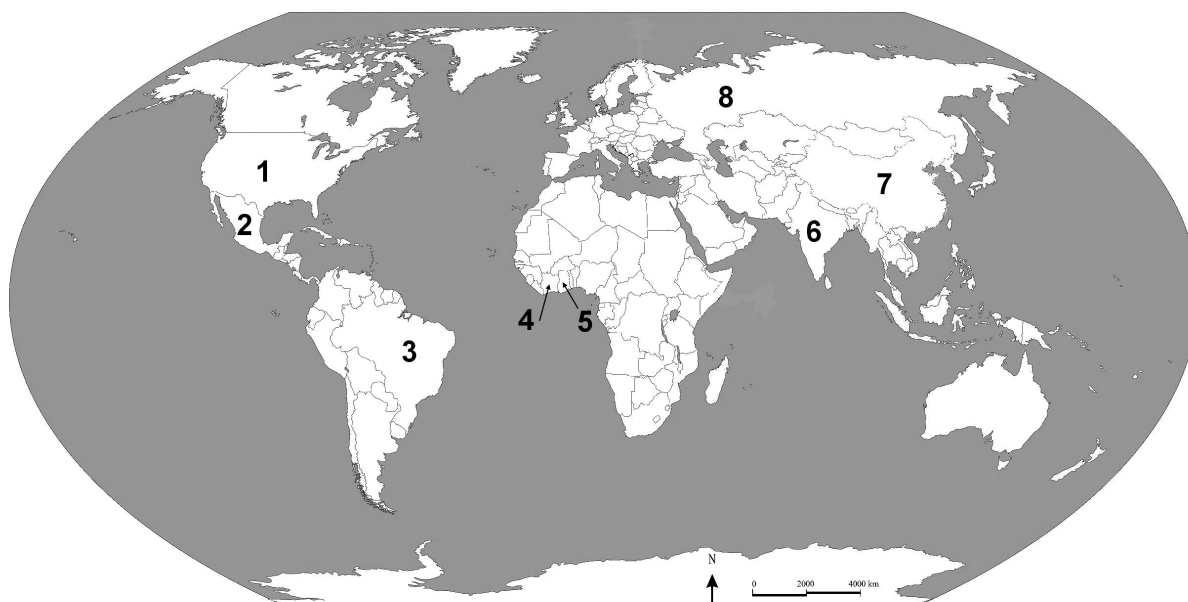
GEO IK-2 D-S005



02

# Geografija

52. Sljedeće zadatke riješite analizom priložene karte svijeta na kojoj su brojevima od 1 do 8 označene odabrane države.



Upišite u tablicu imena država na koje se odnose navedene karakteristike i njihove brojeve s geografske karte.

	Karakteristika	Ime države	Broj na karti	0 <input type="checkbox"/> 2 <input type="checkbox"/> bod
52.1.	najveći svjetski proizvođač jute (2005. – 2010.)			0 <input type="checkbox"/> 2 <input type="checkbox"/> bod
52.2.	najveći svjetski proizvođač kukuruza (2005. – 2010.)			0 <input type="checkbox"/> 2 <input type="checkbox"/> bod
52.3.	najveći svjetski proizvođač pamuka (2005. – 2010.)			0 <input type="checkbox"/> 2 <input type="checkbox"/> bod

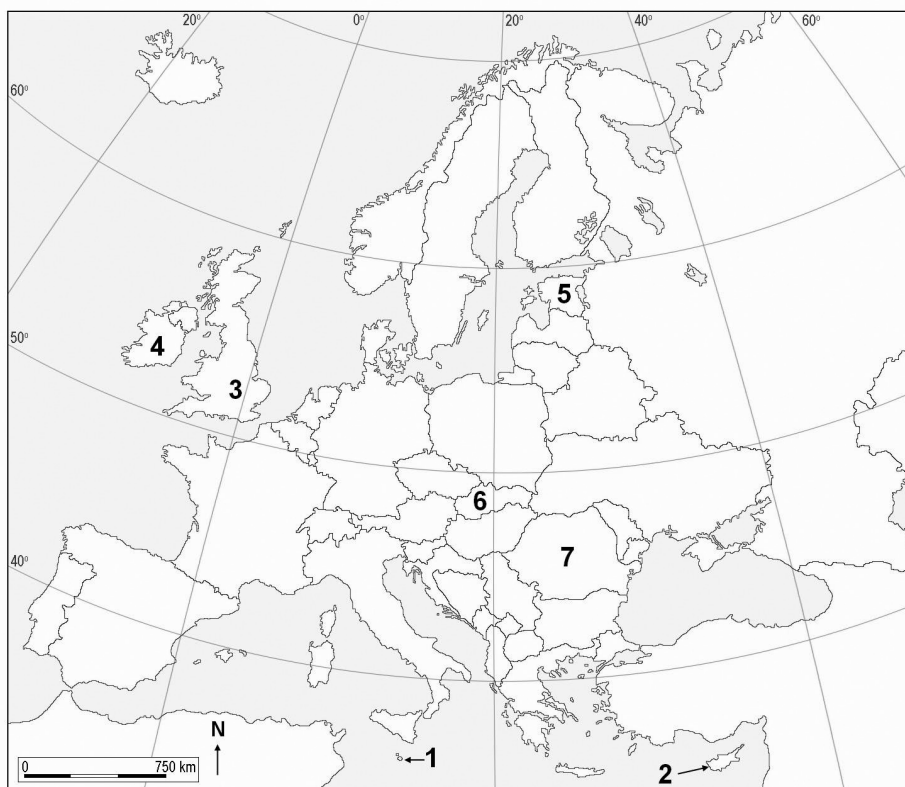
GEO IK-2 D-S005



02

# Geografija

**53.** Sljedeće zadatke riješite uz pomoć priložene karte Europe na kojoj su brojevima od 1 do 7 označene odabrane države.



Uz brojeve **1**, **5** i **7** s geografske karte u tablicu upišite imena država i godine ulaska u Europsku zajednicu (Europsku Uniju).

	Broj na karti	Ime države	Godina ulaska u Europsku zajednicu (Europsku Uniju)
53.1.	1		
53.2.	5		
53.3.	7		

0

2

bod

0

2

bod

0

2

bod

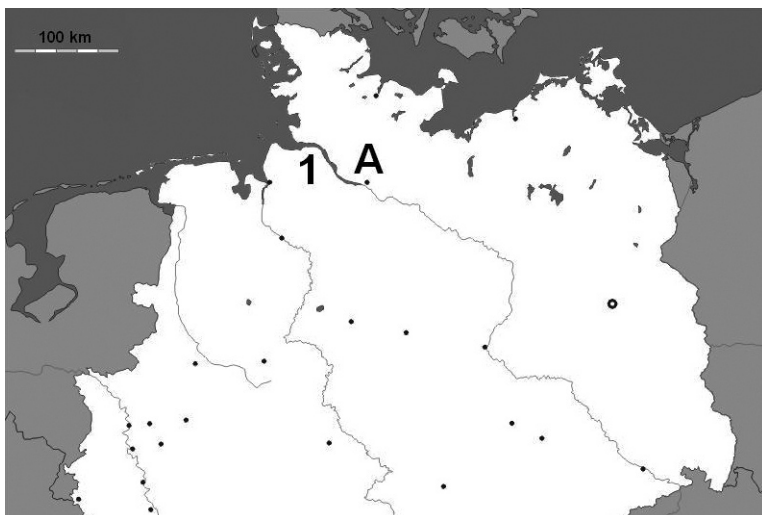
GEO IK-2 D-S005



02

# Geografija

**54.** Sljedeće zadatke riješite uz pomoć priložene geografske karte sjeverne Njemačke.



**54.1.** Koja je tip riječnoga ušća označen brojem 1?

\_\_\_\_\_

**54.2.** Koji je grad na karti označen slovom A?

\_\_\_\_\_

**54.3.** Koja rijeka ima ušće u tome gradu?

\_\_\_\_\_

0 ☐

2 ☐

bod

0 ☐

2 ☐

bod

0 ☐

2 ☐

bod

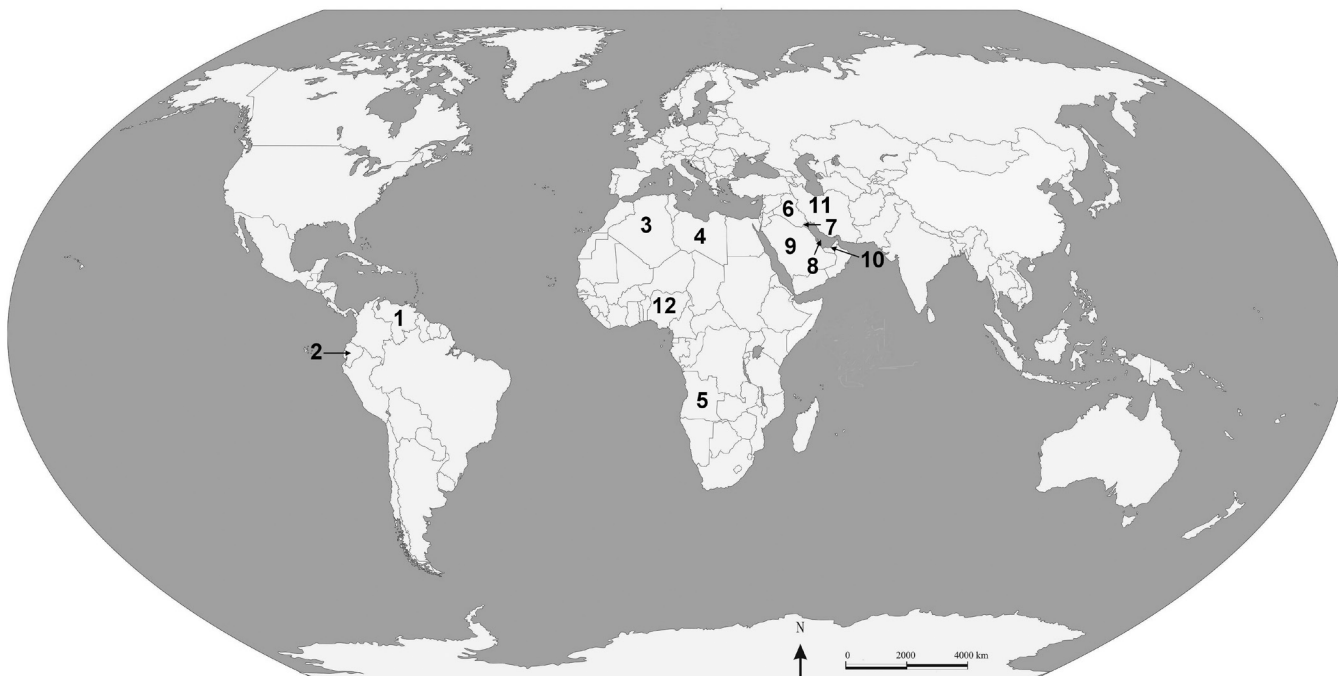
GEO IK-2 D-S005



02

# Geografija

**55.** Sljedeće zadatke riješite analizom priložene karte svijeta na kojoj su brojevima od **1** do **12** označene odabrane države.



**55.1.** Kojoj gospodarskoj organizaciji pripadaju države označene na karti brojevima od **1** do **12**?

\_\_\_\_\_

**55.2.** Koja je članica označena brojem **1**?

\_\_\_\_\_

0 ☐  
2 ☐  
bod

0 ☐  
2 ☐  
bod

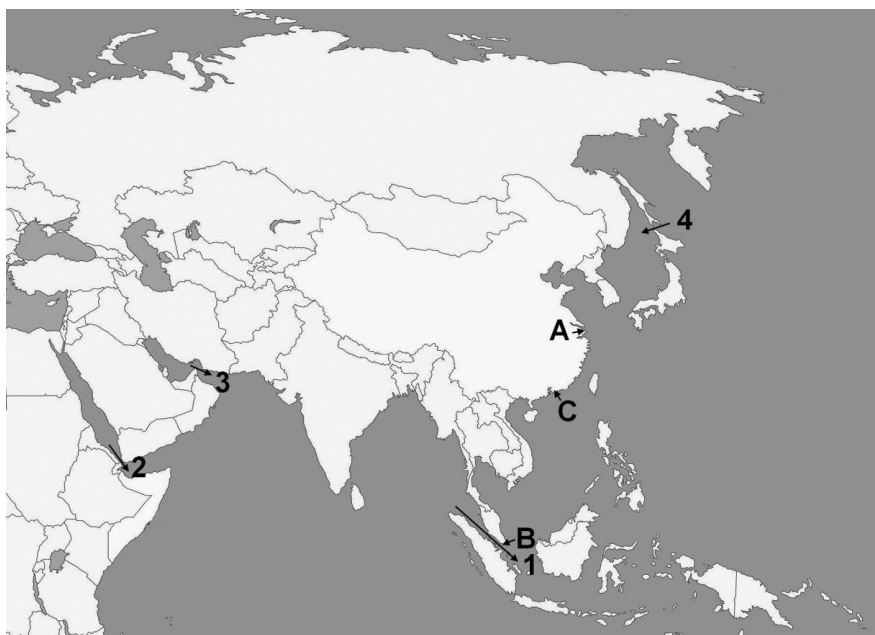
GEO IK-2 D-S005



02

# Geografija

56. Zadatak riješite uz pomoć priložene karte Azije na kojoj su brojevima od 1 do 4 označeni odabrani morski prolazi, a slovima A, B i C odabrani gradovi.



- 56.1. Grad koji je ujedno i najveća svjetska luka po prekrcanome teretu (2005. – 2010. godine) označen je na karti slovom \_\_\_\_\_.  
To je grad \_\_\_\_\_.
- 56.2. Grad koji je ujedno i najveća kontejnerska luka (2005. – 2010. godine) označen je na karti slovom \_\_\_\_\_.  
To je grad \_\_\_\_\_.
- 56.3. Morski prolaz koji povezuje Indijski i Tihi ocean označen je na karti brojem \_\_\_\_\_. To je \_\_\_\_\_ prolaz.
- 56.4. Morski prolaz koji predstavlja ulaz u Crveno more označen je na karti brojem \_\_\_\_\_. Ime prolaza je \_\_\_\_\_.

0 ☐

1 ☐

bod

0 ☐

1 ☐

bod

0 ☐

1 ☐

bod

0 ☐

1 ☐

bod

GEO IK-2 D-S005



02

# Geografija

57. Sljedeće zadatke riješite uz pomoć karte županija Republike Hrvatske.



Brojeve županija upišite u gornju kartu, a njihova imena na donje crte.

57.1. Upišite broj **1** u županiju u kojoj se nalazi Park prirode Lonjsko polje.

To je \_\_\_\_\_ županija.

57.2. Upišite broj **2** u županiju u kojoj se većim dijelom teritorija nalazi najstariji nacionalni park u Hrvatskoj.

To je \_\_\_\_\_ županija.

57.3. Upišite broj **3** u županiju u kojoj se nalazi najjužnija točka hrvatskoga teritorija.

To je \_\_\_\_\_ županija.

0

2

bod

0

2

bod

0

2

bod

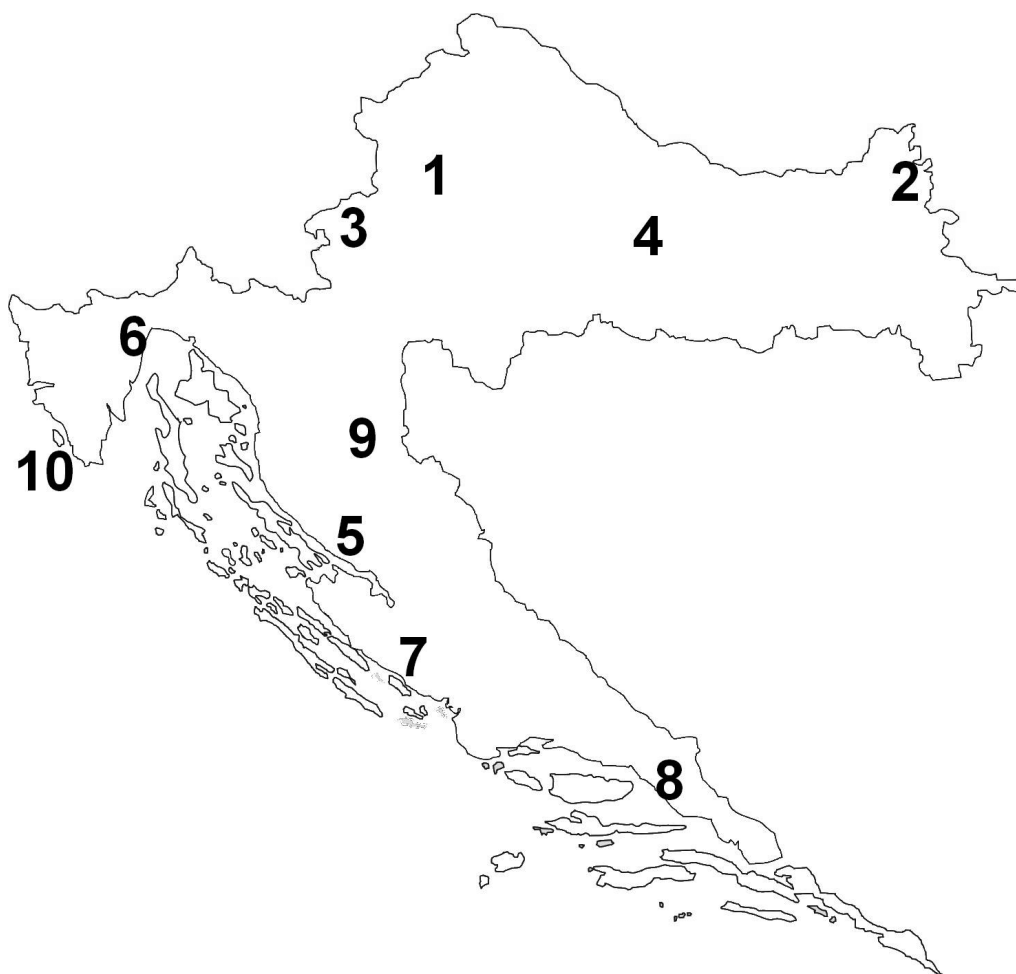
GEO IK-2 D-S005



02

# Geografija

**58.** Sljedeće zadatke riješite uz pomoć priložene karte Republike Hrvatske na kojoj su brojevima od **1** do **10** označene odabrane lokacije.



**58.1.** Park prirode Žumberak – Samoborsko gorje označen je na karti brojem \_\_\_\_\_.

**58.2.** Park prirode Učka označen je na karti brojem \_\_\_\_\_.

**58.3.** Vrh Sveti Jure označen je na karti brojem \_\_\_\_\_.

0

2

bod

0

2

bod

0

2

bod

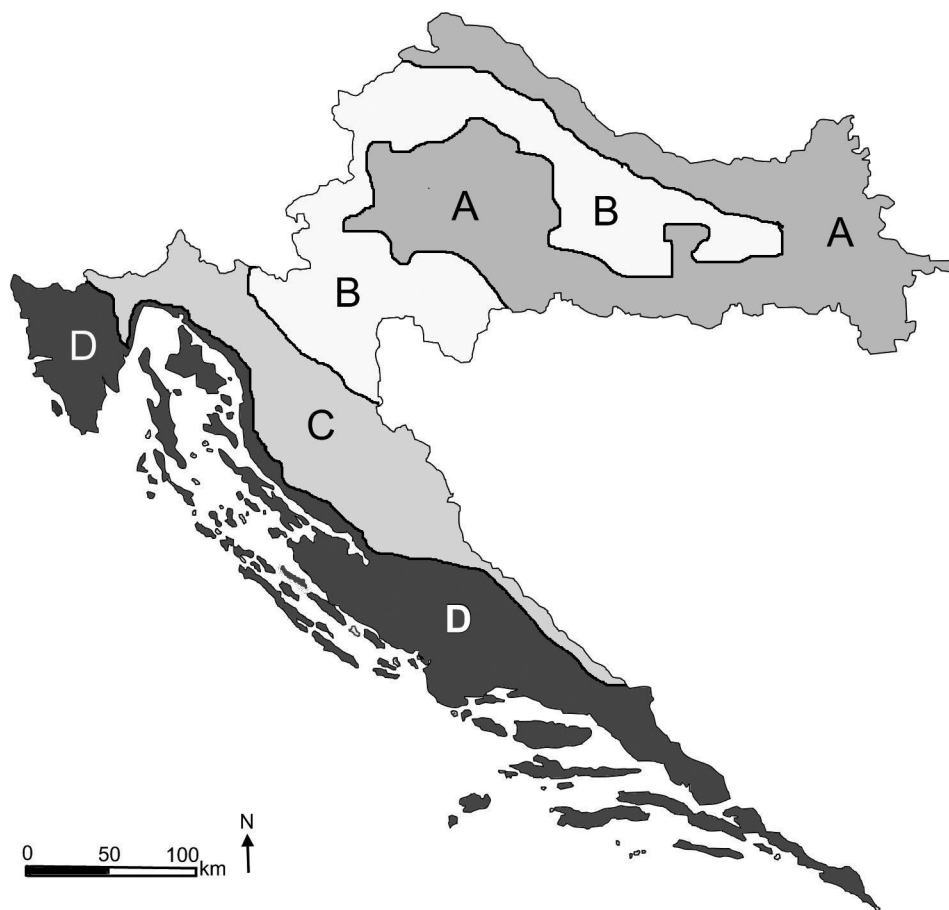
GEO IK-2 D-S005



02

# Geografija

59. Sljedeće zadatke riješite uz pomoć priložene karte Republike Hrvatske na kojoj su slovima **A**, **B**, **C** i **D** označene odabrane regije.



Uz opise regija upišite odgovarajuće slovo s geografske karte.

59.1. Regija u kojoj je uz stočarstvo razvijena proizvodnja krumpira  
označena je slovom \_\_\_\_\_.

59.2. Regija u kojoj važnu ulogu u poljoprivredi ima proizvodnja suncokreta  
označena je slovom \_\_\_\_\_.

59.3. Regija u kojoj je razvijena proizvodnja kapara označena je slovom \_\_\_\_\_.

0 ☐

2 ☐

bod

0 ☐

2 ☐

bod

0 ☐

2 ☐

bod

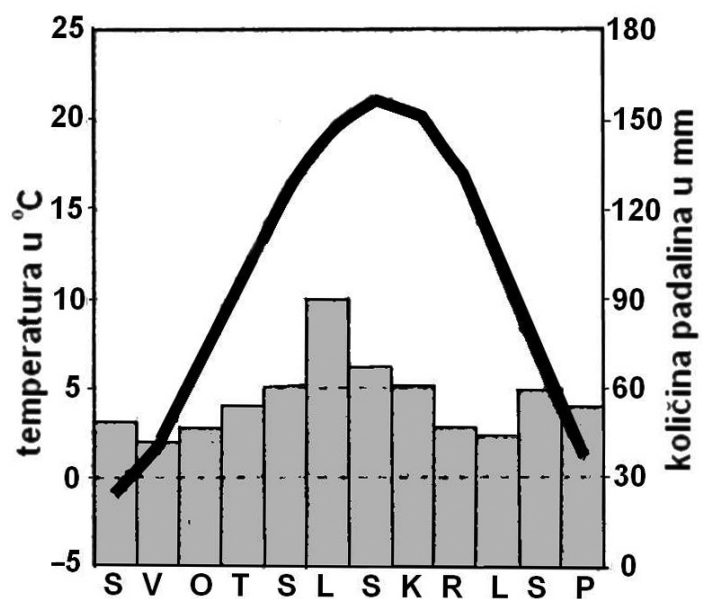
GEO IK-2 D-S005



02

# Geografija

60. Analizirajte priloženi klimatski dijagram.



Koji je tip klime prikazan na klimatskome dijagramu?

---

0

2

bod

GEO IK-2 D-S005



02

# Geografija

Prazna stranica

GEO IK-2 D-S005



99