

# Geografija

## V. Zadaci dopunjavanja i kratkih odgovora

U sljedećim zadacima dopunite rečenice i popunite tablice upisivanjem pojmova koji nedostaju i upišite u kartu tražene brojeve i oznake.

U zadacima s računanjem potrebno je prikazati i postupak.  
Ne popunjavajte prostor za bodovanje.

45. Koliko kilometara u prirodi prikazuje 17 centimetara na Osnovnoj državnoj karti (Hrvatskoj osnovnoj karti)?

Prostor za računanje:  $5000 \cdot 17 = 85000 \text{ cm} = 850 \text{ m} = 0,85 \text{ km}$

0,85 kilometara

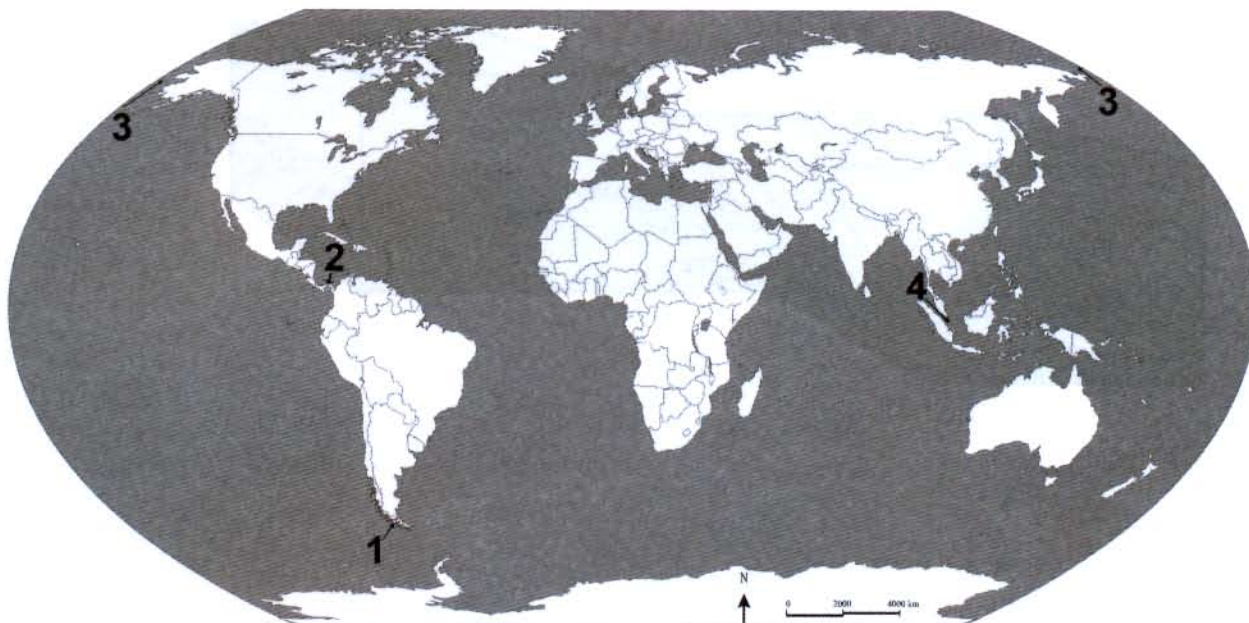
0

2

bod



46. Sljedeće zadatke riješite uz pomoć priložene karte svijeta na kojoj su označeni odabrani prolazi brojevima od 1 do 4.



Upišite u tablicu nazive prolaza na koje se odnose navedene karakteristike i njihove brojeve s geografske karte.

	Karakteristika	Naziv prolaza	Broj na karti
46.1.	prolaz kojim su prvi narodi došli iz Azije u Ameriku	Beringov prolaz	3
46.2.	prirodni prolaz koji povezuje Atlantski i Tihi ocean	Magellanov prolaz	1

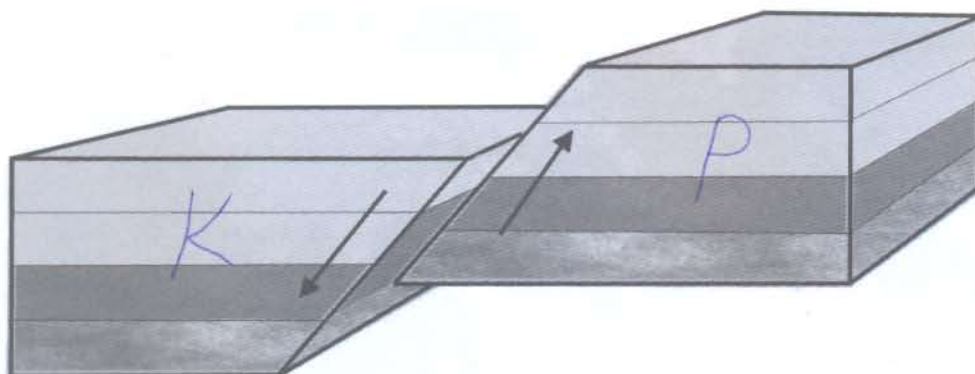
0	<input type="checkbox"/>
2	<input type="checkbox"/>
bod	

0	<input type="checkbox"/>
2	<input type="checkbox"/>
bod	



# Geografija

47. Sljedeće zadatke riješite uz pomoć priložene skice rasjeda.



47.1. Koja je vrsta rasjeda prikazana na skici?

normalni rasjed

47.2. Upišite slovo **P** na podinsko krilo na skici.

47.3. Upišite slovo **K** na krovinsko krilo na skici.

0 ☐  
2 ☐  
bod

0 ☐  
2 ☐  
bod

0 ☐  
2 ☐  
bod



# Geografija

48. Finale svjetskoga nogometnoga prvenstva između Nizozemske i Španjolske održano je u Johannesburgu ( $28^{\circ}2'$  i.g.d.) 11. srpnja 2010. u 20.30 sati po zonalnome vremenu.  
U koliko je sati po zonalnome vremenu počeo izravni prijenos utakmice u Haagu ( $4^{\circ}19'$  i.g.d.)?

Prostor za računanje:

19:30 sati

0 ☐  
2 ☐

bod

GEO IK-2 D-S006




02



# Geografija

49. Analizirajte priloženi dijagram.



Koji tip stanovništva prema obilježjima dobnoga sastava prikazuje dobnospolna piramida?

Stari (kontraktivni)

tip dobnoga sastava stanovništva

0

2

bod

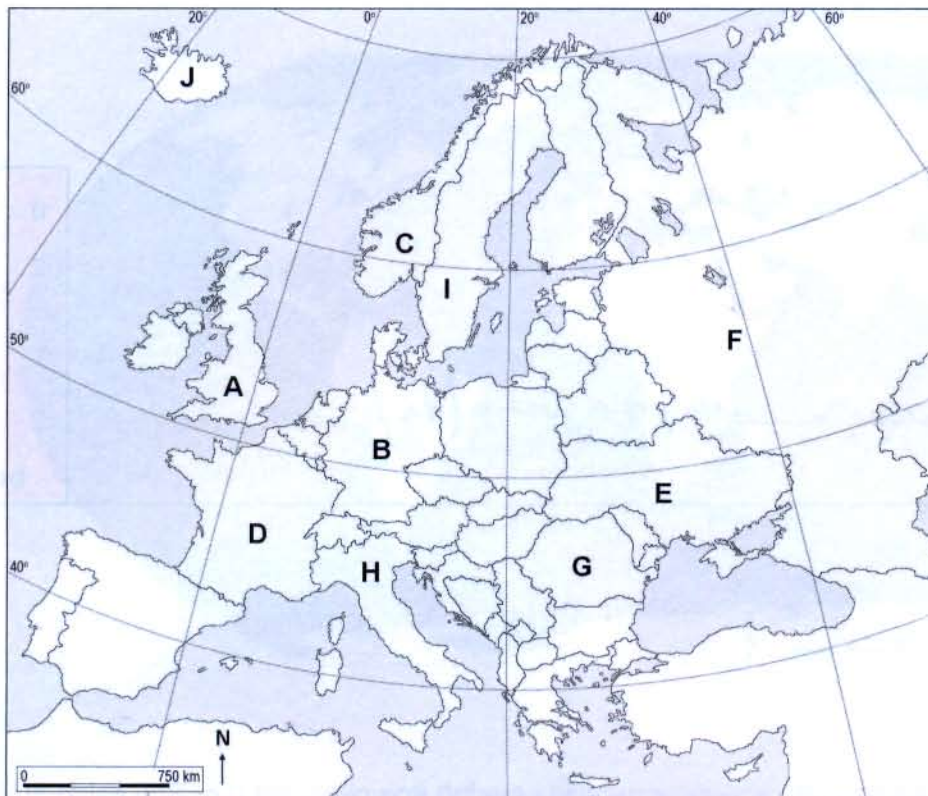
GEO IK-2 D-S006



02

# Geografija

50. Sljedeće zadatke riješite uz pomoć priložene karte Europe na kojoj su slovima od A do J označene odabrane države.



50.1. Upišite slovo kojim je označena država s najvećom proizvodnjom prirodnoga plina u posljednjih pet godina. F

50.2. Ime te države je Ruska Federacija.

50.3. Upišite slovo kojim je označena država koja je bila prva industrijska sila u povijesti. A

0	<input type="checkbox"/>
2	<input type="checkbox"/>
bod	
0	<input type="checkbox"/>
2	<input type="checkbox"/>
bod	
0	<input type="checkbox"/>
2	<input type="checkbox"/>
bod	



# Geografija

51. Koji podtip općega kretanja stanovništva ima država u kojoj je u međupopisnome razdoblju stopa prirodne promjene  $-4\text{‰}$ , a stopa neto migracija  $3\text{‰}$ ?

0

2

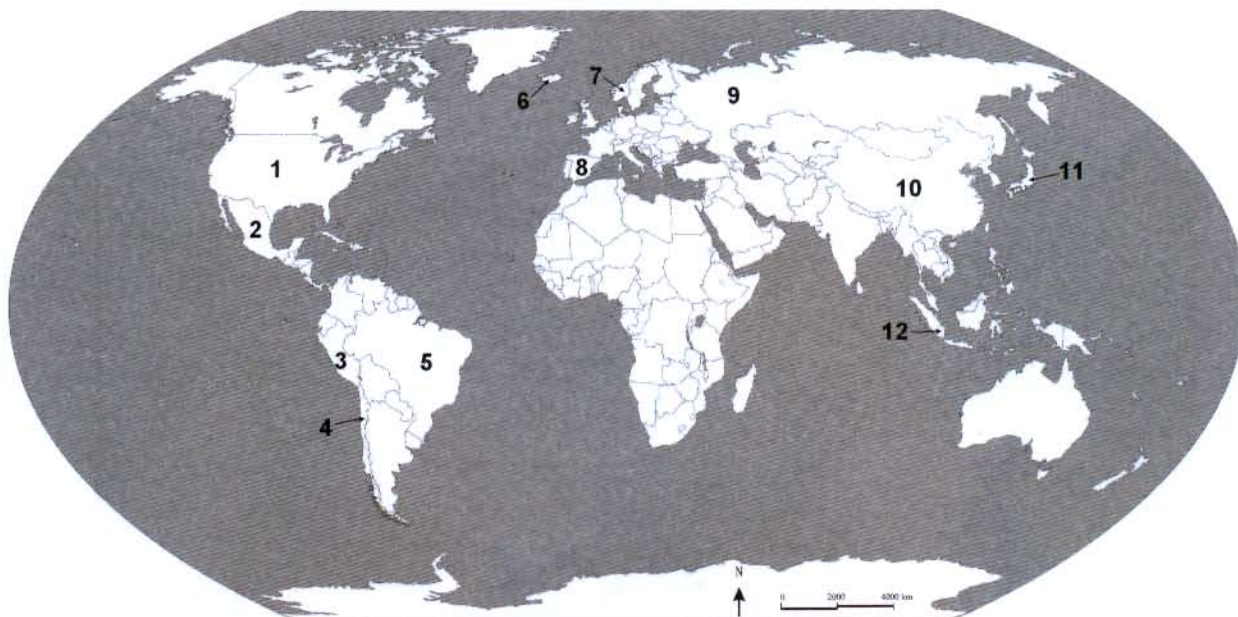
bod

vrlo slaba obnova i migracijom (14)



# Geografija

52. Sljedeće zadatke riješite analizom priložene karte svijeta.  
Na karti su brojevima od 1 do 12 označene države s najvećom količinom ulovljene i prerađene ribe u posljednjih pet godina.



Uz opise upišite u tablicu imena država i njihove brojeve s geografske karte.

	Opis	Ime države	Broj na karti
52.1.	država s najvećim godišnjim ulovom i preradom ribe u svijetu	Kina	10
52.2.	država s najvećim godišnjim ulovom i preradom ribe u Europi (bez Ruske Federacije)	Norveška	7
52.3.	država s najvećim godišnjim ulovom i preradom ribe u Latinskoj Americi	Peru	3

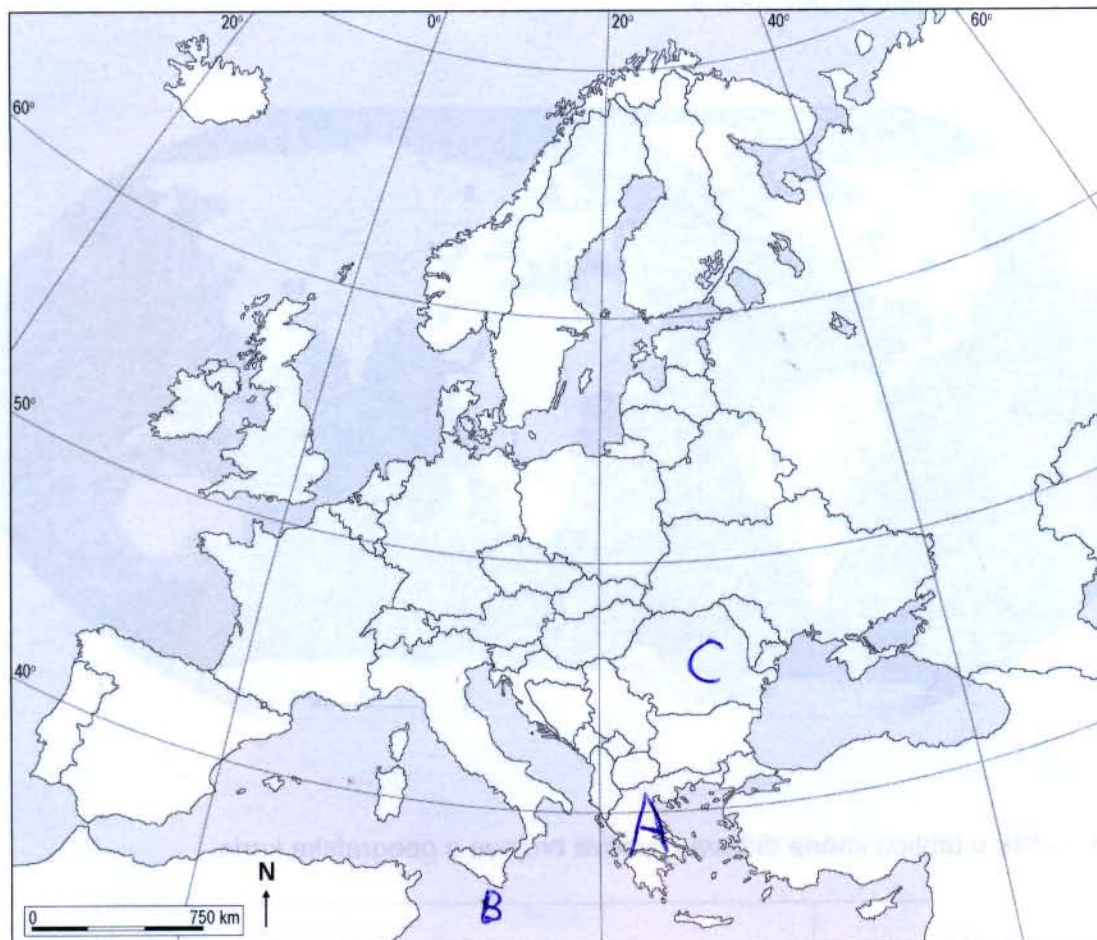
0	<input type="checkbox"/>
2	<input type="checkbox"/>
bod	
0	<input type="checkbox"/>
2	<input type="checkbox"/>
bod	
0	<input type="checkbox"/>
2	<input type="checkbox"/>
bod	





# Geografija

53. Sljedeće zadatke riješite na priloženoj karti Europe.



Na karti Europe upišite slova u odgovarajuće države.

53.1. Upišite slovo **A** u državu koja je u Europsku zajednicu (današnju Europsku Uniju) primljena 1981. godine.

53.2. Upišite slovo **B** u najgušće naseljenu državu koja je u Europsku Uniju primljena 2004. godine.

53.3. Upišite slovo **C** u državu koja je u Europsku Uniju primljena 2007. godine, a njezin službeni jezik pripada romanskoj skupini jezika.

0	<input type="checkbox"/>
2	<input type="checkbox"/>
bod	

0	<input type="checkbox"/>
2	<input type="checkbox"/>
bod	

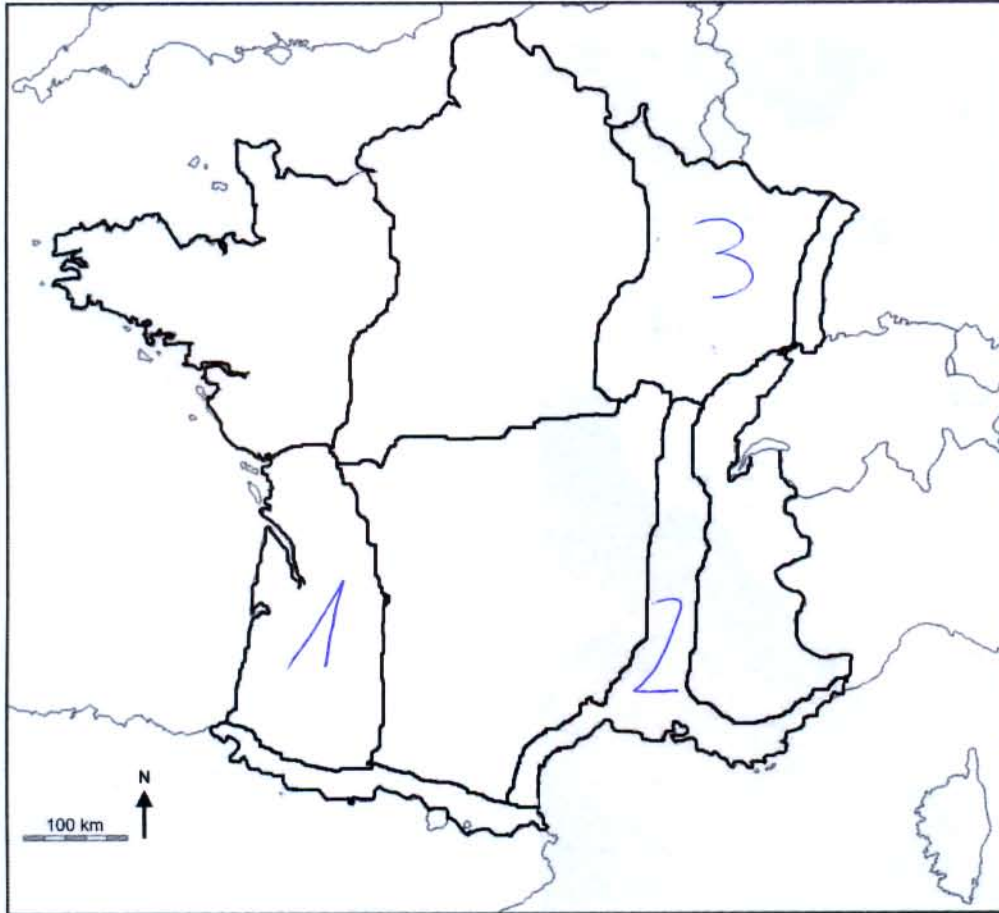
0	<input type="checkbox"/>
2	<input type="checkbox"/>
bod	





# Geografija

**54.** Sljedeće zadatke riješite na priloženoj slijepoj karti Francuske.



Na slijepoj karti Francuske upišite brojeve u odgovarajuće regije.

**54.1.** Upišite broj **1** u regiju koja raspolaže značajnim zalihama nafte i zemnoga plina.

**54.2.** Upišite broj **2** u regiju u kojoj se nalazi glavna pomorska luka Francuske.

**54.3.** Upišite broj **3** u regiju koja raspolaže značajnim zalihama željezne rude.

0 ☐

2 ☐

bod

0 ☐

2 ☐

bod

0 ☐

2 ☐

bod

GEO IK-2 D-S006



02

# Geografija

55. Sljedeće zadatke riješite uz pomoć priložene karte Južne Amerike na kojoj su brojevima od 1 do 6 označene odabrane rijeke i jezera.



Uz navedene pojmove upišite odgovarajući broj s karte.

55.1. La Plata 6

55.2. Orinoco 1

55.3. Titicaca 3

0 ☐

2 ☐

bod

0 ☐

2 ☐

bod

0 ☐

2 ☐

bod

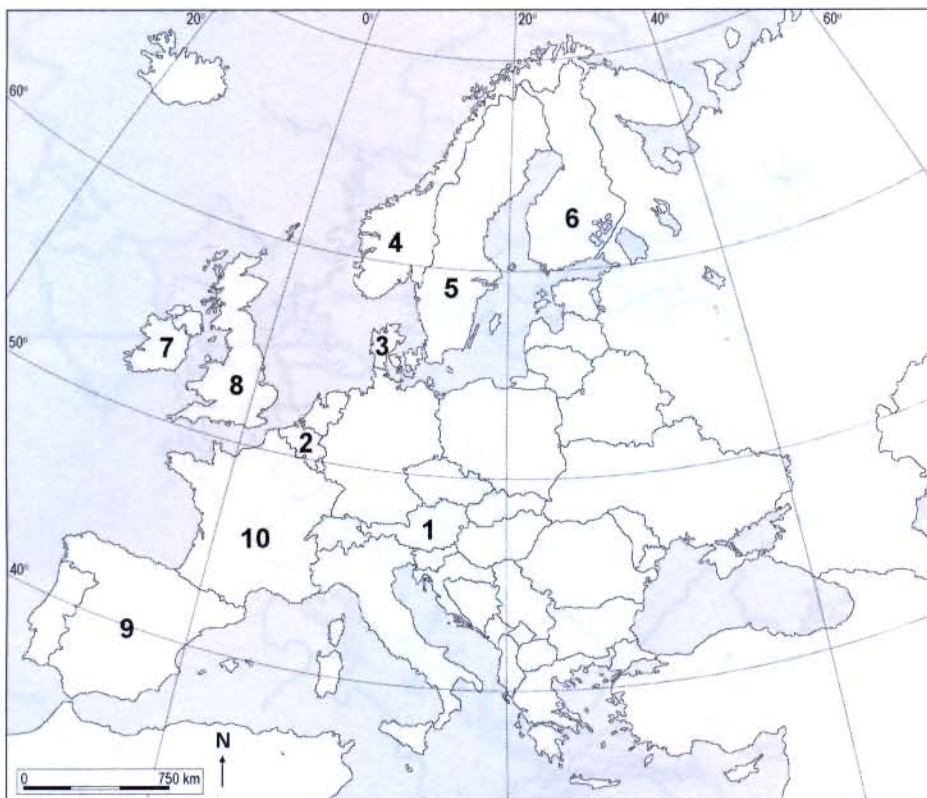
GEO IK-2 D-S006



02

# Geografija

56. Sljedeće zadatke riješite uz pomoć priložene karte Europe na kojoj su brojevima od 1 do 10 označene odabrane države.



Uz opise upišite u tablicu odgovarajuće brojeve s geografske karte i imena država.

	Opis	Broj na karti	Ime države
56.1.	država s najvećim brojem turističkih dolazaka	10	Francuska
56.2.	država s najvećom zaradom od turizma	9	Španjolska
56.3.	država u kojoj je počeo razvoj suvremenoga turizma	8	Ujedinjeno Kraljevstvo Velike Britanije i Severne Irske

0 ☐  
2 ☐  
bod

0 ☐  
2 ☐  
bod

0 ☐  
2 ☐  
bod

GEO IK-2 D-S006



02



**57.2.** Upišite broj **2** u upravno-teritorijalnu jedinicu prikazanu na karti koja se ističe visinom prihoda od turizma u zadnjih pet godina na području Panonske Hrvatske.

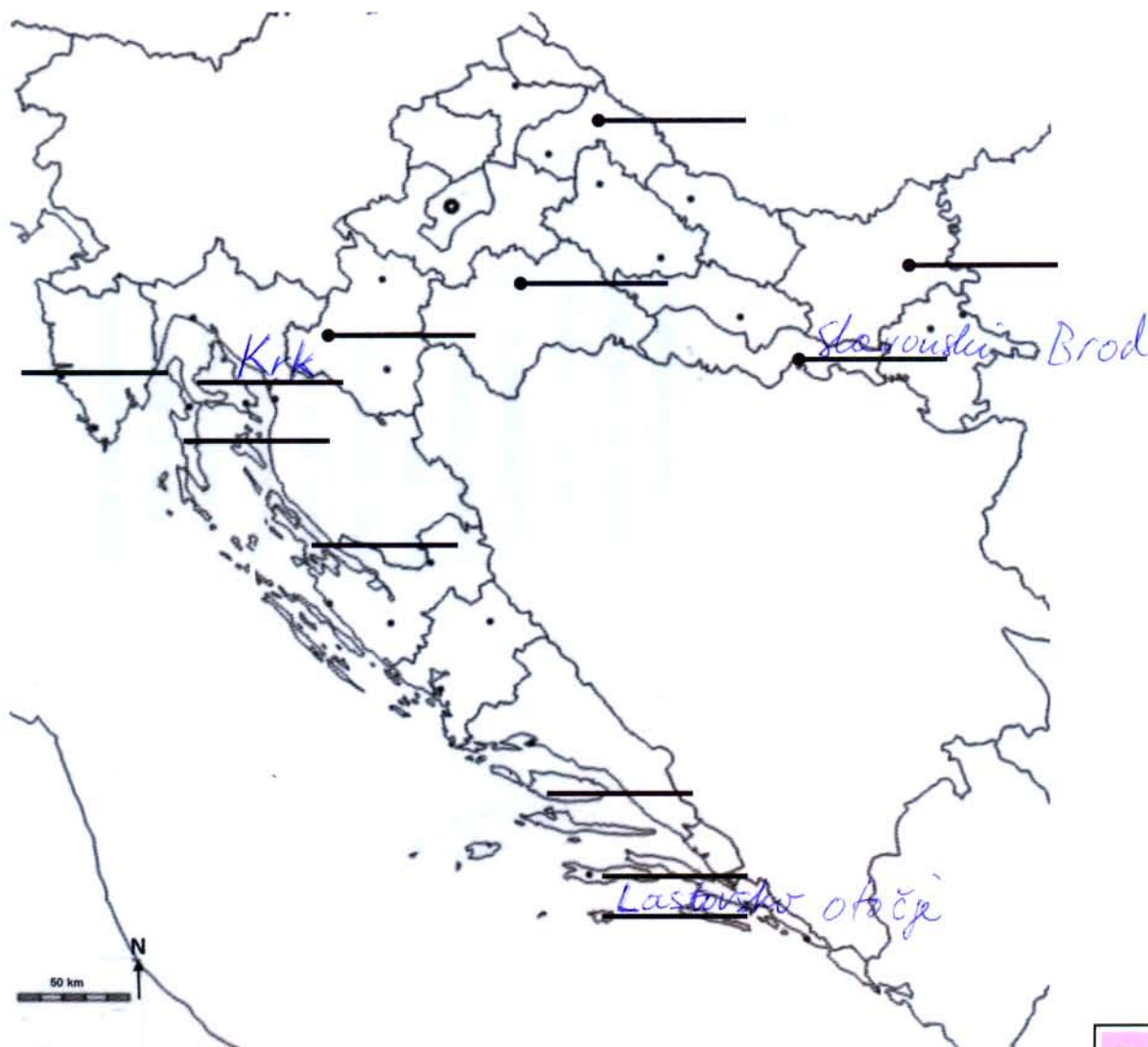
0	<input type="checkbox"/>
1	<input type="checkbox"/>
bod	
0	<input type="checkbox"/>
1	<input type="checkbox"/>
bod	



02

# Geografija

58. Zadatak riješite na priloženoj geografskoj karti Republike Hrvatske.



Na karti Republike Hrvatske upišite imena na odgovarajuće crte.

58.1. Na odgovarajuću crtu na karti upišite ime otoka na kojem je naftni terminal Omišalj.

58.2. Na odgovarajuću crtu na karti upišite ime najmlađega parka prirode.

58.3. Na odgovarajuću crtu na karti upišite ime današnjega naziva antičke Marsonije.

0 ☐

2 ☐

bod

0 ☐

2 ☐

bod

0 ☐

2 ☐

bod

GEO IK-2 D-S006



02



59. Zadatak riješite uz pomoć priložene geografske karte Republike Hrvatske na kojoj su slovima od A do F označene odabrane lokacije.



Uz navedene pojmove upišite odgovarajuće slovo s karte.

59.1. Upišite slovo kojim je označen strogi rezervat. B

59.2. Upišite slovo kojim je označen jedan od najstarijih arboretuma u Republici Hrvatskoj. D

0

2

bod

0

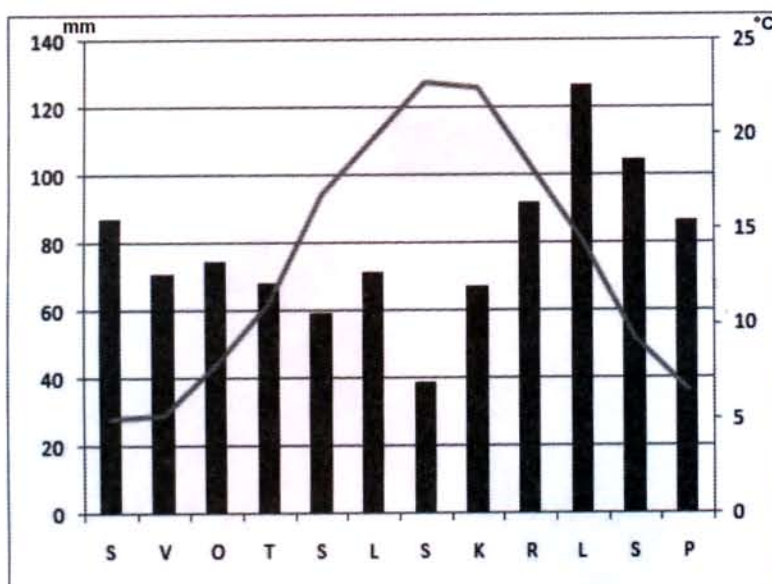
2

bod



# Geografija

60. Analizirajte priloženi klimatski dijagram.



Koji je **podtip** klime prikazan na priloženome klimatskome dijagramu?

Mjerenno topla vlažna klima s umjerenim ljetom  
(Cfa)

0

2

bod

GEO IK-2 D-S006



02