



Идентификациона
налепница

ПАЖЉИВО НАЛЕПИТИ

ИСТОРИЈА

POV D-S007



POV.07.SR.R.K1.40



12



Историја

Празна страница

POV D-S007



99

УПУТСТВА

Пажљиво следите сва упутства.

Не okreћите страницу и не решавајте тест док то не одобри дежурни наставник.

Налепите идентификациону налепницу на све испитне материјале које сте добили у коверти.

Испит траје 90 минута без прекида.

Задаци се налазе у две испитне књижице. Редослед решавања бирајте сами.

Добро распоредите време како бисте могли решити све задатке.

Испред сваке групе задатака је упутство за њихово решавање.

Пажљиво га прочитајте.

На листу за одговоре квадратић изабраног одговора обележавате знаком X.

Пишите јасно и читљиво. Нечитки одговори бодоваће се са нула (0) бодова.

Током писања испита допуштено је користити хемијску оловку плаве или црне боје, лењир, троугао, оловку, гумицу, фломастере у боји и шестар.

Када решите тест, проверите одговоре.

Желимо Вам пуно успеха!

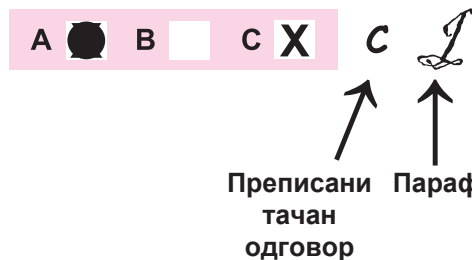
Ова испитна књижица има 40 страница, од тога 5 празних.

Начин попуњавања листа за одговоре

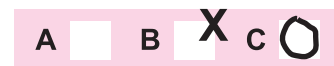
Добро



Исправљање погрешног уноса



Лоше



POV D-S007



99

Историја

I Задаци вишеструког избора

У следећим задацима између четири понуђена требате одабрати један одговор. Одговоре обележите знаком X и обавезно их препишите на лист за одговоре. Сваки тачан одговор доноси 1 бод.

1. Којем се народу металног доба приписује ширење употребе гвожђа Европом?

- A. Грцима
- B. Хетитима
- C. Илирима
- D. Келтима

- A. ☐
- B. ☐
- C. ☐
- D. ☐

2. Који је народ осмислио прво гласовно писмо алфавет?

- A. Феничани
- B. Хетити
- C. Сумерани
- D. Јевреји

- A. ☐
- B. ☐
- C. ☐
- D. ☐

3. Коме је римски сенат привремено предао неограничену власт у тренуцима велике опасности за државу?

- A. диктатору
- B. едилу
- C. квестору
- D. ликтору

- A. ☐
- B. ☐
- C. ☐
- D. ☐

4. Како се назива утврђено илирско насеље?

- A. базилика
- B. градина
- C. сухозид
- D. тумул

- A. ☐
- B. ☐
- C. ☐
- D. ☐

POV D-S007



01

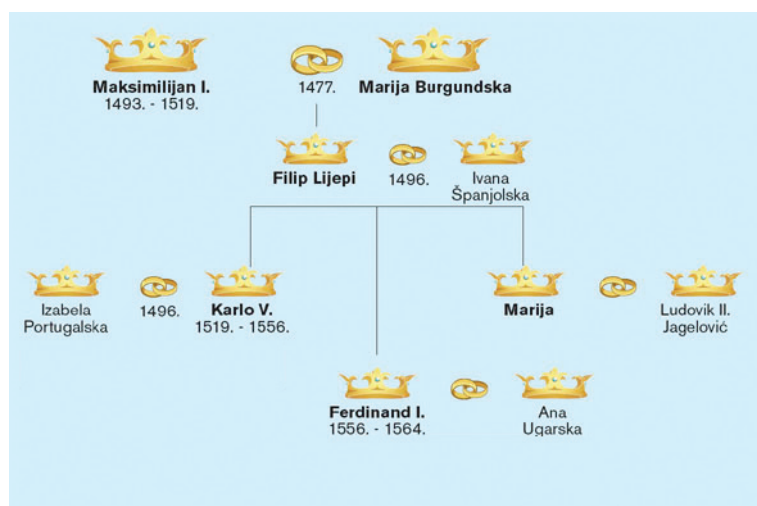
Историја

5. На којем је од наведених острва тиранин Дионизије Старији из грчке Сиракузе основао колонију?

- A. на Брачу
- B. на Хвару
- C. на Корчули
- D. на Вису

- A. ☐
- B. ☐
- C. ☐
- D. ☐

6. Пажљиво погледајте илустрацију.



Родослов које моћне европске владарске породице приказује илустрација?

- A. Цапета
- B. Хабсбурга
- C. Плантагенета
- D. Валоиса

- A. ☐
- B. ☐
- C. ☐
- D. ☐

7. У којој се држави развило друштвено уређење под називом шогунат?

- A. у Аустралији
- B. у Индији
- C. у Јапану
- D. у Кини

- A. ☐
- B. ☐
- C. ☐
- D. ☐

POV D-S007



01

Историја


<p>8. Која је држава стекла независност Вестфалским миром?</p> <p>A. Белгија B. Холандија C. Норвешка D. Шведска</p>	<p>A. <input type="checkbox"/> B. <input type="checkbox"/> C. <input type="checkbox"/> D. <input type="checkbox"/></p>
<p>9. На ком се извору темељи иранско-кавказка теорија о пореклу Хрвата?</p> <p>A. на "Љетопису попа Дукђанина" B. на "О управљању Царством Константина VII Порфирогенета" C. на "Историји салонитанских и сплитских бискупа" D. на танаиским (донским) таблама</p>	<p>A. <input type="checkbox"/> B. <input type="checkbox"/> C. <input type="checkbox"/> D. <input type="checkbox"/></p>
<p>10. Који се хрватски кнез у исправи из 852. године назива "милошћу божјом кнез Хрвата"?</p> <p>A. Домагој B. Мислав C. Трпимир D. Вишеслав</p>	<p>A. <input type="checkbox"/> B. <input type="checkbox"/> C. <input type="checkbox"/> D. <input type="checkbox"/></p>
<p>11. Како се назива духовни и мисаони покрет европске интелигенције 18. века?</p> <p>A. хуманизам B. камерализам C. меркантилизам D. просветитељство</p>	<p>A. <input type="checkbox"/> B. <input type="checkbox"/> C. <input type="checkbox"/> D. <input type="checkbox"/></p>
<p>12. Како се звао први председник САД-а?</p> <p>A. Абрахам Линколн B. Џорџ Вашингтон C. Џејмс Монро D. Томас Џеферсон</p>	<p>A. <input type="checkbox"/> B. <input type="checkbox"/> C. <input type="checkbox"/> D. <input type="checkbox"/></p>
<p>POV D-S007</p> <p>01</p>	

Историја

<p>13. Шта је био циљ реформи Ивана Мажуранића?</p> <p>A. јачање либерално-грађанског слоја B. јачање положаја цркве C. јачање радништва D. јачање војске</p>	<p>A. <input type="checkbox"/> B. <input type="checkbox"/> C. <input type="checkbox"/> D. <input type="checkbox"/></p>
<p>14. Уз који се значајан догађај хрватске историје везује датум 25. април 1848. године?</p> <p>A. проглашење хрватског језика службеним B. Јелачићево проглашење укидања кметства C. почетак заседања првог хрватског заступничког Сабора D. издавање документа “Захтевања народа”</p>	<p>A. <input type="checkbox"/> B. <input type="checkbox"/> C. <input type="checkbox"/> D. <input type="checkbox"/></p>
<p>15. Који је staleж током 18. века био носилац привредног напретка у Хрватској?</p> <p>A. грађанство B. крупно племство C. радништво D. сељаштво</p>	<p>A. <input type="checkbox"/> B. <input type="checkbox"/> C. <input type="checkbox"/> D. <input type="checkbox"/></p>
<p>16. Шта је била директна друштвено-политичка последица велике економске кризе?</p> <p>A. деколонизација B. јачање радикалних идеологија C. јачање улоге Лиге народа D. смањење радничких права</p>	<p>A. <input type="checkbox"/> B. <input type="checkbox"/> C. <input type="checkbox"/> D. <input type="checkbox"/></p>
<p>17. Који је научник открио антибиотик пеницилин?</p> <p>A. Алехандар Флеминг B. Ернест Рутерфорд C. Нилс Бор D. Вернер Форсман</p>	<p>A. <input type="checkbox"/> B. <input type="checkbox"/> C. <input type="checkbox"/> D. <input type="checkbox"/></p>
<p>POV D-S007</p> <p>01</p>	

Историја

18. Пажљиво проучите фотографију.



Како се зове научник приказан на фотографији?

- A. Лавослав Ружичка
- B. Никола Тесла
- C. Славољуб Пенкала
- D. Владимир Прелог

A.

B.

C.

D.

19. Пажљиво погледајте карту.



Које раздобље хрватске историје приказује карта?

- A. Првог светског рата
- B. између два светска рата
- C. Другог светског рата
- D. након Другог светског рата

A.

B.

C.

D.

POV D-S007



01



Историја

20. Која је телевизија прва почела емитирати програм на подручју Југославије 15. маја 1956. године?

- A.** Телевизија Београд
- B.** Телевизија Љубљана
- C.** Телевизија Скопље
- D.** Телевизија Загреб

A.

☐

B.

☐

C.

☐

D.

☐

POV D-S007



01

Историја

II Задаци допуњавања

У следећим задацима допуните реченице уписивањем појмова који недостају.
Одговоре упишите на предвиђено место у овој књижици.
Не попуњавајте простор за бодовање.

21. Најдужи трговачки пут старог и средњег века који је повезивао Кину преко
Хималаја и Индије са Средоземљем познат је под именом

_____.

0 ☐
1 ☐

бод

22. Лидијци су први народ старог века који је као средство плаћања користио

_____.

0 ☐
1 ☐

бод

23. Народ, који је илирска племена подучио узгоју маслина и винове лозе, био је

_____.

0 ☐
1 ☐

бод

24. Духовним наследником и обновитељем Западног Римског Царства у
раном средњем веку сматрао се краљ

_____.

0 ☐
1 ☐


бод

POV D-S007



02

Историја

25. Хрватско племство предвођено Петром Свачићем покушало се на Гвозду супротставити доласку краља _____.	0 <input type="checkbox"/> 1 <input type="checkbox"/> бод
26. Војно-политички савез који су основали владари Аустрије, Пруске и Русије са циљем очувања европског поретка створеног на Бечком конгресу звао се _____.	0 <input type="checkbox"/> 1 <input type="checkbox"/> бод
27. Дело “О муниципалним правима и статутима краљевина Далмације, Хрватске и Славоније” написао је _____.	0 <input type="checkbox"/> 1 <input type="checkbox"/> бод
28. Спољно-политичке односе САД-а између два светска рата обележила је политика _____.	0 <input type="checkbox"/> 1 <input type="checkbox"/> бод
29. Резолуција Сељачко демократске коалиције из 1932. године у којој је осуђена диктатура краља Александра назива се _____.	0 <input type="checkbox"/> 1 <input type="checkbox"/> бод
POV D-S007	 02



Историја

30. Деломично решење тзв. хрватског питања 1939. године било је оснивање

_____.

0

☐

1

☐

бод

POV D-S007



02



Историја

III Задаци вишеструког избора

У следећим задацима између четири понуђена требате одабрати један одговор. Одговоре обележите знаком X и обавезно их препишите на лист за одговоре.

31. Који низ одређује тачан хронолошки след раздобља најраније грчке историје?

- A. микенска култура → досељење првих грчких племена → досељење Дорана → „мрачно доба”
- B. досељење првих грчких племена → микенска култура → досељење Дорана → „мрачно доба”
- C. досељење Дорана → микенска култура → досељење првих грчких племена → „мрачно доба”
- D. „мрачно доба” → микенска култура → досељење првих грчких племена → досељење Дорана

A.

B.

C.

D.

32. Који низ одређује тачан узрочно-последични след друштвених процеса из раздобља касне Римске републике?

- A. грађански ратови → освајачки ратови → осиромашење сељаштва → појава плаћеничке војске
- B. освајачки ратови → појава плаћеничке војске → грађански ратови → осиромашење сељаштва
- C. осиромашење сељаштва → грађански ратови → освајачки ратови → појава плаћеничке војске
- D. освајачки ратови → осиромашење сељаштва → појава плаћеничке војске → грађански ратови

A.

B.

C.

D.

POV D-S007



02

Историја

33. Који низ одређује тачан хронолошки след догађаја из доба реформације и протуреформацијског покрета?

- A.** Тридесетогодишњи рат → објава Лутерових 95 теза → Вестфалски мир → Тридентски концил
- B.** Вестфалски мир → објава Лутерових 95 теза → Тридесетогодишњи рат → Тридентски концил
- C.** објава Лутерових 95 теза → Тридесетогодишњи рат → Тридентски концил → Вестфалски мир
- D.** Тридентски концил → објава Лутерових 95 теза → Тридесетогодишњи рат → Вестфалски мир

A.

B.

C.

D.

34. Који низ одређује тачан хронолошки след настанка споменика хрватског средњевековља?

- A.** Еуфразијева базилика → саркофаг краљице Јелене → Винодолски закон → Мисал по закону римског двора
- B.** Винодолски закон → Еуфразијева базилика → Мисал по закону римског двора → саркофаг краљице Јелене
- C.** саркофаг краљице Јелене → Винодолски закон → Еуфразијева базилика → Мисал по закону римског двора
- D.** Мисал по закону римског двора → Винодолски закон → саркофаг краљице Јелене → Еуфразијева базилика

A.

B.

C.

D.

POV D-S007



01

Историја

35. Који низ одређује тачан хронолошки след збивања током Француске револуције?

- A.** пад Бастиље → Француска постала уставна монархија
→ Конвент прогласио успостављање републике → јакобинска диктатура
- B.** пад Бастиље → Француска постала уставна монархија
→ јакобинска диктатура → Конвент прогласио успостављање републике
- C.** пад Бастиље → јакобинска диктатура → Француска постала уставна монархија → Конвент прогласио успостављање републике
- D.** Француска постала уставна монархија → пад Бастиље
→ јакобинска диктатура → Конвент прогласио успостављање републике

A.

B.

C.

D.

36. Који низ одређује тачан хронолошки след развоја страначког живота у Банској Хрватској?

- A.** Самостална народна странка → Хорватско-угерска страњка
→ Странка права → Социјалдемократска странка Хрватске и Славоније
- B.** Странка права → Самостална народна странка → Хорватско-угерска страњка → Социјалдемократска странка Хрватске и Славоније
- C.** Хорватско-угерска страњка → Странка права → Самостална народна странка → Социјалдемократска странка Хрватске и Славоније
- D.** Странка права → Хорватско-угерска страњка → Самостална народна странка → Социјалдемократска странка Хрватске и Славоније

A.

B.

C.

D.

POV D-S007



01



Историја

37. Који низ описује узрочно-последични след догађаја током велике економске кризе у САД-у?

- A.** Њу Дил → пад вредности деоница → засићеност тржишта некретнина и производа → отпуштања радника
- B.** пад вредности деоница → Њу Дил → отпуштања радника → засићеност тржишта некретнина и производа
- C.** засићеност тржишта некретнина и производа → пад вредности деоница → отпуштања радника → Њу Дил
- D.** отпуштања радника → засићеност тржишта некретнина и производа → пад вредности деоница → Њу Дил

A.

☐

B.

☐

C.

☐

D.

☐

POV D-S007



01



Историја

IV Задаци повезивања и сређивања

У следећим задацима свакој честици питања означеној бројем придружите одговарајућу честицу одговора означену словом.

Одговоре обележите знаком X и обавезно их препишите на лист за одговоре.

38. Атинским реформаторима придружите њихова постигнућа.

1. Дракон
2. Клистен
3. Перикло
4. Солон

- A. увео остракизам
- B. записао законе обичајног права
- C. увео тираниду
- D. увео тимократију
- E. укинуо демократију
- F. увео плате за обављање државних служби

	A.	B.	C.	D.	E.	F.
1.	<input type="checkbox"/>	<input type="checkbox"/>	<input type="checkbox"/>	<input type="checkbox"/>	<input type="checkbox"/>	<input type="checkbox"/>
2.	<input type="checkbox"/>	<input type="checkbox"/>	<input type="checkbox"/>	<input type="checkbox"/>	<input type="checkbox"/>	<input type="checkbox"/>
3.	<input type="checkbox"/>	<input type="checkbox"/>	<input type="checkbox"/>	<input type="checkbox"/>	<input type="checkbox"/>	<input type="checkbox"/>
4.	<input type="checkbox"/>	<input type="checkbox"/>	<input type="checkbox"/>	<input type="checkbox"/>	<input type="checkbox"/>	<input type="checkbox"/>


POV D-S007



05

Историја

39. Ликовима грчких богова приказаних на сликама придружите њихова имена.



1.



2.



3.



4.

- A. Афродита
- B. Атина
- C. Деметра
- D. Дионис
- E. Ерос
- F. Зеус

	A.	B.	C.	D.	E.	F.
1.	<input type="checkbox"/>	<input type="checkbox"/>	<input type="checkbox"/>	<input type="checkbox"/>	<input type="checkbox"/>	<input type="checkbox"/>
2.	<input type="checkbox"/>	<input type="checkbox"/>	<input type="checkbox"/>	<input type="checkbox"/>	<input type="checkbox"/>	<input type="checkbox"/>
3.	<input type="checkbox"/>	<input type="checkbox"/>	<input type="checkbox"/>	<input type="checkbox"/>	<input type="checkbox"/>	<input type="checkbox"/>
4.	<input type="checkbox"/>	<input type="checkbox"/>	<input type="checkbox"/>	<input type="checkbox"/>	<input type="checkbox"/>	<input type="checkbox"/>

POV D-S007



05

Историја

40. Пажљиво проучите историјску карту која приказује размештај илирских племена. Просторима обележеним бројевима од 1 до 4 придружите илирска племена.



- A. Ардијејци
- B. Далмати
- C. Хистри
- D. Јаподи
- E. Либурни
- F. Скордисци

	A.	B.	C.	D.	E.	F.
1.						
2.						
3.						
4.						

41. Државама придружите династије које су њима владале.

- 1. Византија
- 2. Француска
- 3. Пољска
- 4. Угарска

- A. Хоензолерн
- B. Комнени
- C. Пјастовићи
- D. Арпадовићи
- E. Тјудор
- F. Валоис

	A.	B.	C.	D.	E.	F.
1.						
2.						
3.						
4.						

POV D-S007



05

Историја

- 42.** Пажљиво проучите историјску карту која приказује подручја власти хрватских великашких породица. Просторима обележеним бројевима од 1 до 4 придружите имена племићких породица.



- A. Бабонићи
B. брибирски кнезови Шубићи
C. Цељски
D. крчки кнезови Франкопани
E. Курјаковићи
F. Нелипићи

	A.	B.	C.	D.	E.	F.
1.						
2.						
3.						
4.						

- 43.** Именима уметника придружите њихова дела.

1. Андрија Бувина
2. Јурај Далматинац
3. мајстор Радован
4. Онофрио дела Кава

- A. црква Св. Стошије у Задру
B. портал катедрале у Трогиру
C. шибенска катедрала
D. портал катедрале у Сплиту
E. Кнежев двор у Дубровнику
F. загребачка катедрала

	A.	B.	C.	D.	E.	F.
1.						
2.						
3.						
4.						

POV D-S007



05

Историја

44. Саобраћајницама 19. и почетка 20. века придружите њихова политичка значења.

1. Панамски канал
2. Суески канал
3. Трансконтинентална железница
4. Транссибирска железница

- A.** британска индустријализација
B. британски колонијализам
C. империјализам САД-а
D. индустријализација САД-а
E. руски империјализам
F. немачки колонијализам

	A.	B.	C.	D.	E.	F.
1.	<input type="checkbox"/>	<input type="checkbox"/>	<input type="checkbox"/>	<input type="checkbox"/>	<input type="checkbox"/>	<input type="checkbox"/>
2.	<input type="checkbox"/>	<input type="checkbox"/>	<input type="checkbox"/>	<input type="checkbox"/>	<input type="checkbox"/>	<input type="checkbox"/>
3.	<input type="checkbox"/>	<input type="checkbox"/>	<input type="checkbox"/>	<input type="checkbox"/>	<input type="checkbox"/>	<input type="checkbox"/>
4.	<input type="checkbox"/>	<input type="checkbox"/>	<input type="checkbox"/>	<input type="checkbox"/>	<input type="checkbox"/>	<input type="checkbox"/>

45. Представницима хрватског народног препорода придружите њихове доприносе.

1. Антун Михановић
2. Јанко Драшковић
3. Људевит Гај
4. Сидонија Рубидо

- A.** ауторство песме “Хорватска домовина”
B. учешће у извођењу прве хрватске опере “Љубав и злоба”
C. оснивање “Хрватско-славонског привредног друштва”
D. ауторство политичког програма “Дисертација”
E. оснивање “Друштва за југословенску историју и старине”
F. покретање “Новина хорватских”

	A.	B.	C.	D.	E.	F.
1.	<input type="checkbox"/>	<input type="checkbox"/>	<input type="checkbox"/>	<input type="checkbox"/>	<input type="checkbox"/>	<input type="checkbox"/>
2.	<input type="checkbox"/>	<input type="checkbox"/>	<input type="checkbox"/>	<input type="checkbox"/>	<input type="checkbox"/>	<input type="checkbox"/>
3.	<input type="checkbox"/>	<input type="checkbox"/>	<input type="checkbox"/>	<input type="checkbox"/>	<input type="checkbox"/>	<input type="checkbox"/>
4.	<input type="checkbox"/>	<input type="checkbox"/>	<input type="checkbox"/>	<input type="checkbox"/>	<input type="checkbox"/>	<input type="checkbox"/>

POV D-S007



05

Историја

46. Хрватским градовима придружите њихова привредна значења током 19. века.

1. Паг
2. Пула
3. Ровињ
4. Задар

- A.** ратно бродоградилиште
B. солана
C. рудник угљена
D. творница дувана
E. "Прва народна далматинска банка"
F. творница мараскина

	A.	B.	C.	D.	E.	F.
1.	<input type="checkbox"/>	<input type="checkbox"/>	<input type="checkbox"/>	<input type="checkbox"/>	<input type="checkbox"/>	<input type="checkbox"/>
2.	<input type="checkbox"/>	<input type="checkbox"/>	<input type="checkbox"/>	<input type="checkbox"/>	<input type="checkbox"/>	<input type="checkbox"/>
3.	<input type="checkbox"/>	<input type="checkbox"/>	<input type="checkbox"/>	<input type="checkbox"/>	<input type="checkbox"/>	<input type="checkbox"/>
4.	<input type="checkbox"/>	<input type="checkbox"/>	<input type="checkbox"/>	<input type="checkbox"/>	<input type="checkbox"/>	<input type="checkbox"/>

47. Политикама или идеологијама придружите њихова значења.

1. ционизам
2. "коначно решење"
3. петолетка
4. прохибиција

- A.** совјетски привредни програм
B. истребљење Јевреја
C. забрана усељавања Јевреја
D. обнова јеврејске државе
E. забрана производње и конзумације алкохола
F. забрана мешања у спољне послове

	A.	B.	C.	D.	E.	F.
1.	<input type="checkbox"/>	<input type="checkbox"/>	<input type="checkbox"/>	<input type="checkbox"/>	<input type="checkbox"/>	<input type="checkbox"/>
2.	<input type="checkbox"/>	<input type="checkbox"/>	<input type="checkbox"/>	<input type="checkbox"/>	<input type="checkbox"/>	<input type="checkbox"/>
3.	<input type="checkbox"/>	<input type="checkbox"/>	<input type="checkbox"/>	<input type="checkbox"/>	<input type="checkbox"/>	<input type="checkbox"/>
4.	<input type="checkbox"/>	<input type="checkbox"/>	<input type="checkbox"/>	<input type="checkbox"/>	<input type="checkbox"/>	<input type="checkbox"/>

POV D-S007



05

Историја

48. Добитницима Нобелове награде придружите подручја на којима су се истакнули.

1. Мајка Тереза
2. Марија Кири
3. Роберт Кох
4. Томас Ман

- A. економија
B. астрономија
C. хемија
D. књижевност
E. медицина
F. мир

	A.	B.	C.	D.	E.	F.
1.	<input type="checkbox"/>	<input type="checkbox"/>	<input type="checkbox"/>	<input type="checkbox"/>	<input type="checkbox"/>	<input type="checkbox"/>
2.	<input type="checkbox"/>	<input type="checkbox"/>	<input type="checkbox"/>	<input type="checkbox"/>	<input type="checkbox"/>	<input type="checkbox"/>
3.	<input type="checkbox"/>	<input type="checkbox"/>	<input type="checkbox"/>	<input type="checkbox"/>	<input type="checkbox"/>	<input type="checkbox"/>
4.	<input type="checkbox"/>	<input type="checkbox"/>	<input type="checkbox"/>	<input type="checkbox"/>	<input type="checkbox"/>	<input type="checkbox"/>

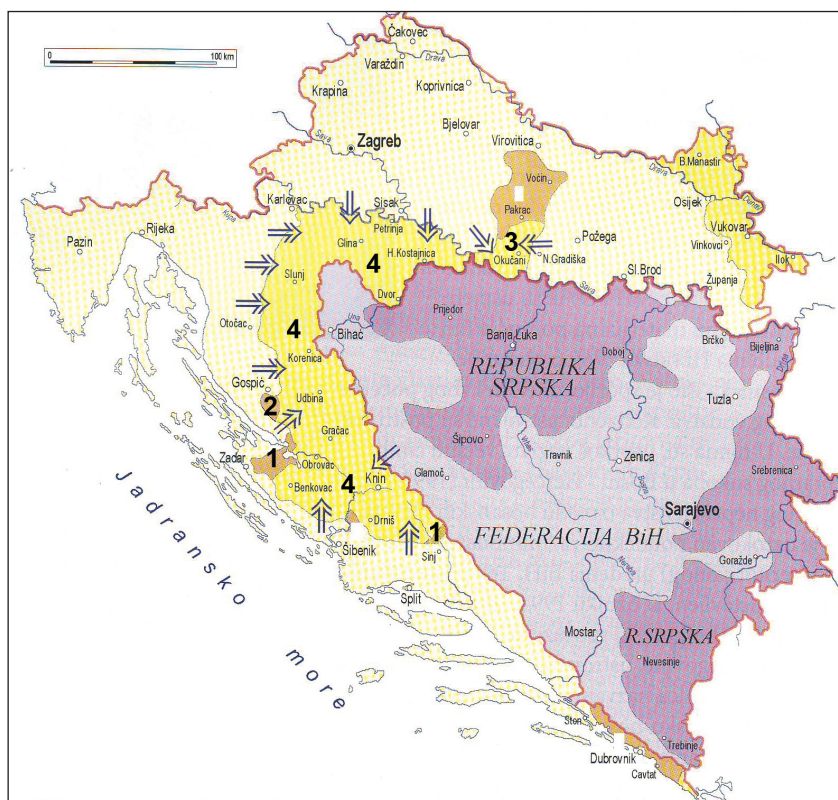
POV D-S007



05

Историја

49. Пажљиво проучите карту ослободилачких акција током Домовинског рата. Просторима обележеним бројевима од 1 до 4 придружите називе војно-полицијских операција.



- A. “Бљесак”
B. “Јужно ратиште”
C. “Масленица и Перуча”
D. “Медачки џеп”
E. “Миљевачко блато”
F. “Олуја”

	A.	B.	C.	D.	E.	F.
1.						
2.						
3.						
4.						

POV D-S007



05

Историја

50. Раздобљима придружите догађаје који су их обележили.

1. раздобље Краљевства СХС
2. раздобље Видовданског устава
3. раздобље краља Александра
4. раздобље кнеза Павла

- A. оснивање Југословенског одбора
- B. протести и петодецембарске жртве
- C. подела државе на бановине
- D. стварање Сељачко-демократске коалиције (СДК)
- E. потписивање споразума Цветковић-Мачек
- F. оснивање Сисачког партизанског одреда

	A.	B.	C.	D.	E.	F.
1.						
2.						
3.						
4.						

POV D-S007



05

Историја

V Задаци кратких одговора

У седећим задацима проучите историјске изворе и одговорите на постављена питања. Одговоре упишите на предвиђено место у овој књижици. Не попуњавајте простор за бодовање.

51. Прочитајте историјски извор из 2. века.

“Бландину су обесили о неки стуб, те је требало да послужи за храну дивљим зверима које су пустили на њу. Како је она била свезана у облику крста, улевала је борцима, побожно се молећи, особиту храброст, јер су они, борећи се, у сестри видели оног који је за њих био прибијен на крст. Кад ниједна дивља животиња није хтела дирнути Бландину, одвезаше је од стуба и поновно бацише у тамницу да би је сачували за нову борбу.”

51.1. О прогонима и мукама које друштвено-верске групе говори извор?

0

☐

1

☐

бод

51.2. Како су се називале грађевине у којима су се одвијали описани догађаји?

0

☐

1

☐

бод

POV D-S007



02



Историја

51.3. У доба којег су римског цара прогони те друштвено-верске групе били најмасовнији?

0

☐

1

☐

бод

POV D-S007



02



Историја

52. Пажљиво промотрите фотографију.



52.1. Чијој културној оставштини припада споменик са фотографије?

0

☐

1

☐

бод

52.2. У ком се хрватском граду налази тај споменик?

0

☐

1

☐

бод

52.3. У ком веку је настао тај споменик?

0

☐

1

☐

бод

POV D-S007



02

Историја

53. Прочитајте делове изворног историјског текста и одговорите на постављена питања.

(...)

21. Стога се варају навјесници опроста кад веле да ће човек по папинском опросту бити прост од свих мука и блажен.

27. Тко каже да ће душа онај тренутак селити из чистилишта чим грош падне у шкрињицу и зазвечи, тај проповеда трице и кучине.

32. Тко држи да је опросним писмима сигуран за своје блаженство, тај ће заједно са својим учитељима отићи до беса.

62. Право, истинито благо Цркве јест свето Јеванђеље величанства и милости Божје.

(...)

53.1. Како се зове аутор текста?

0 ☐
1 ☐

бод

53.2. Које је године настао тај текст?

0 ☐
1 ☐

бод

53.3. Како се зове покрет који започиње објавом тог текста?

0 ☐
1 ☐

бод

POV D-S007



02

Историја

54. Пажљиво проучите шему.



54.1. Како се зове друштвено уређење у којем је посед био подељен на начин приказан на шеми?

0 ☐
1 ☐

бод

54.2. Како се зове део поседа обележен бројем 1?

0 ☐
1 ☐

бод

54.3. Како се зове део поседа обележен бројем 2?

0 ☐
1 ☐

бод

POV D-S007



02

Историја

55. Пажљиво погледајте историјски извор приказан на слици.



55.1. Како се зове споменик приказан на слици?

0 ☐
1 ☐

бод

55.2. Име којег се владара спомиње на споменику?

0 ☐
1 ☐

бод

55.3. Којим је писмом писан споменик?

0 ☐
1 ☐

бод

POV D-S007



02

Историја

56. Пажљиво погледајте карикатуру с краја 19. века.



56.1. Коју државу деле ликови приказани на карикатури?

0

1

бод

56.2. Како се зове спољна политика 19. века коју проводе државе симболизоване ликовима на карикатури?

0

1

бод

56.3. Како се зове устанак народа те државе против наведене политике?

0

1

бод

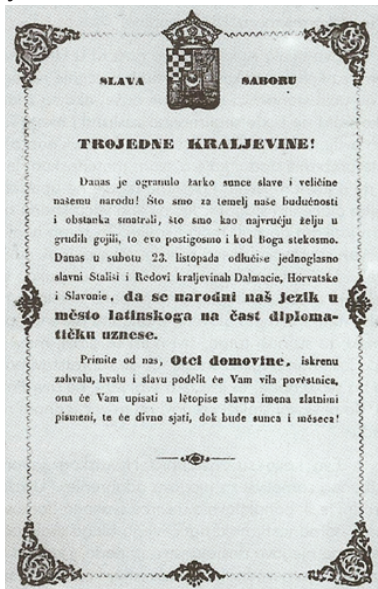
POV D-S007



02

Историја

57. Пажљиво проучите слику.



СЛАВА САБОРУ
ТРОЈЕДНЕ КРАЉЕВИНЕ
(...)
да се народни наш
језик уместо латинскога
на част дипломатичку
узнесе.
(...)

57.1. Које је године објављен летак приказан на слици?

0 ☐
1 ☐

бод

57.2. Који је језик, у време објаве тог летка, Сабор прогласио службеним у Хрватској и Славонији?

0 ☐
1 ☐

бод

57.3. Који је језик дотада био службени у Хрватској и Славонији?

0 ☐
1 ☐

бод

POV D-S007



02

Историја

58. Пажљиво прочитајте историјски извор.

“Кад смо дошли на Јелачићев трг, поредали смо се у округу пред спомеником. Они, који су били најближи, подигли су заставу на сабље, други су полијали жестом, а трећи запалили, а сви смо покликнули: „Живио хрватски краљ Фрањо Јосип И.! Слава Јелачићу! Абцуг Мађари!” (...) Послје свршеног чина вратили смо се у примерном реду на свеучилиште и ту се предложило, да ми, као што смо на сваком месту показали верност и лојалност краљу, и прије одласка Њ. Вел. предамо њему лавор-венац са натписом: „Хрватски свеучилишни грађани своје хрватскоме краљу после протеста против супремације Мађара”.

58.1. О ком историјском догађају говори извор?

0

☐

1

☐

бод

58.2. Које се године догодио тај догађај?

0

☐

1

☐

бод

58.3. Против политике којег је бана био усмерен тај догађај?

0

☐

1

☐

бод

POV D-S007



02

Историја

59. Пажљиво прочитајте текст.

Досадашња уставна одредба о „српскохрватском односно хрватскосрпском језику” својом непрецизношћу омогућује да се у пракси та два упоредна назива схвате као синоними, а не као темељ за равноправност и хрватског и српског књижевног језика, једнако међу собом, као и у односу према језицима осталих југословенских народа. Таква нејасноћа омогућује да се у примени српски књижевни језик силом стварности намеће као јединствен језик за Србе и Хрвате. Да је стварност заиста таква, доказују многобројни примери, а међу њима као најновији недавни Закључци пете скупштине Савеза композитора Југославије. Ти су закључци објављени упоредо у српској, словеначкој и македонској верзији као да хрватског књижевног језика уопште нема или као да је исти са српским књижевним језиком.

59.1. О којем је историјском документу овде реч?

0

☐

1

☐

бод

59.2. Које је године објављен?

0

☐

1

☐

бод

59.3. Како се зове часопис у којем је објављен?

0

☐

1

☐

бод

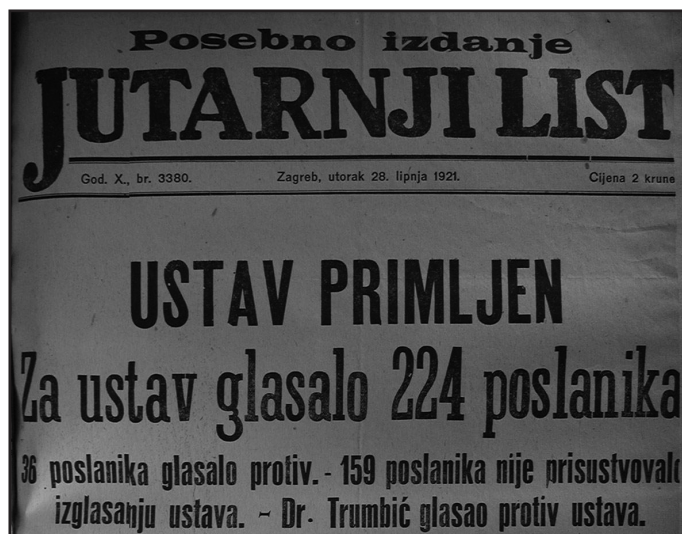
POV D-S007



02

Историја

60. Пажљиво погледајте историјски извор.



60.1. Како се зове устав чије прихватање објављују ове новине?

0

☐

1

☐

бод

60.2. Како се зове држава чији је то устав?

0

☐

1

☐

бод

60.3 На колико територијалних јединица је тај устав поделио државу?

0

☐

1

☐

бод

POV D-S007



02

Историја

Празна страница

POV D-S007



99

Историја

Празна страница

POV D-S007



99

Историја

Празна страница

POV D-S007



99

Историја

Празна страница

POV D-S007



99