



**NACIONALNI CENTAR ZA VANJSKO
VREDNOVANJE OBRAZOVANJA**

Identifikacijska
naljepnica

PAŽLJIVO NALIJEPI

POVIJEST

POV D-S006



POV.06.HR.R.K1.40



12



Povijest

Prazna stranica

POV D-S006



99



UPUTE

Pozorno slijedite sve upute.

Ne okrećite stranicu i ne rješavajte test dok to ne odobri dežurni nastavnik.

Nalijepite identifikacijsku naljepnicu na sve ispitne materijale koje ste dobili u omotnici.

Ispit traje 90 minuta bez prekida.

Dobro rasporedite vrijeme kako biste mogli riješiti sve zadatke.

Ispred svake skupine zadataka je uputa za njihovo rješavanje.

Pozorno ju pročitajte.

Tijekom pisanja ispita dopušteno je rabiti kemijsku olovku plave ili crne boje.

Pišite jasno i čitljivo. Nečitki odgovori bodovat će se s nula (0) bodova.

Kada riješite test, provjerite odgovore.

Želimo Vam puno uspjeha!

Ova ispitna knjižica ima 40 stranica, od toga 5 praznih.

Način popunjavanja lista za odgovore

Dobro

A	X	B		C	
---	---	---	--	---	--

Ispravljanje pogrešnog unosa

A	●	B		C	X
---	---	---	--	---	---

C

Prepisani
točan
odgovor

Paraf

Loše

A		B	X	C	○
---	--	---	---	---	---

POV D-S006



99

Povijest

I. Zadatci višestrukoga izbora

U sljedećim zadatcima između četiriju ponuđenih trebate odabrati jedan odgovor. Odgovore obilježite znakom X i obvezno ih prepisite na list za odgovore. Svaki točan odgovor donosi 1 bod.

1. Pozorno promotrite sliku.



Kojemu je egipatskomu faraonu pripadala posmrtna maska prikazana na slici?

- A. Sezostrisu I.
- B. Keopsu
- C. Ramzesu II.
- D. Tutankhamonu

- A. ☐
- B. ☐
- C. ☐
- D. ☐

2. Koji događaj određuje granicu između pretpovijesnoga i povijesnoga razdoblja?

- A. početak uporabe oruđa
- B. početak uporabe pisma
- C. početak uporabe metala
- D. početak uporabe vatre

- A. ☐
- B. ☐
- C. ☐
- D. ☐

3. Koji je asirski vladar bio utemeljitelj velike biblioteke u Ninivi?

- A. Asurbanipal II.
- B. Sanherib
- C. Sargon II.
- D. Tiglatpileasar III.

- A. ☐
- B. ☐
- C. ☐
- D. ☐

POV D-S006



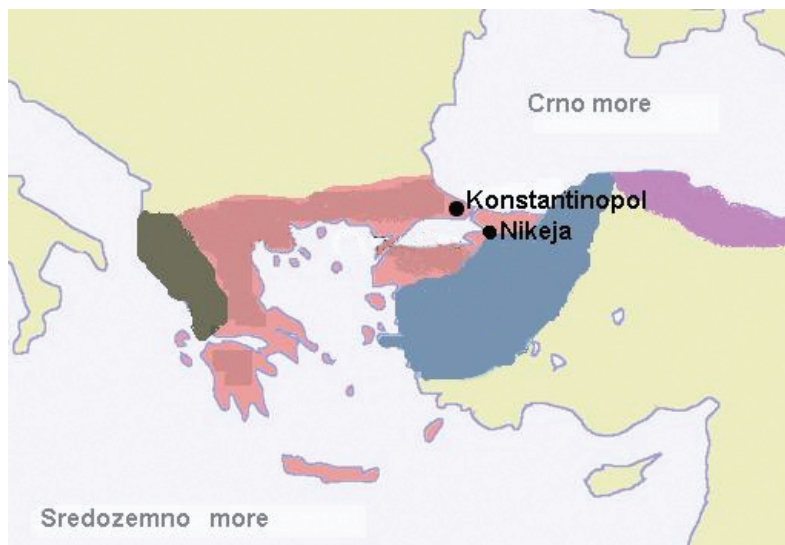
01

Povijest

<p>4. Koga se smatra začetnikom hrvatske historiografije?</p> <p>A. Ivana Kukuljevića Sakcinskoga B. Ivana Lucića/Lučića C. Franju Račkoga D. Tadiju Smičiklasa</p>	<p>A. <input type="checkbox"/></p> <p>B. <input type="checkbox"/></p> <p>C. <input type="checkbox"/></p> <p>D. <input type="checkbox"/></p>
<p>5. Koji je narod u razdoblju antičkoga Rima živio na otocima sjevernoga Jadrana?</p> <p>A. Ardijejci B. Delmati C. Histri D. Liburni</p>	<p>A. <input type="checkbox"/></p> <p>B. <input type="checkbox"/></p> <p>C. <input type="checkbox"/></p> <p>D. <input type="checkbox"/></p>
<p>6. Koji je vladar omogućio stvaranje Papinske Države?</p> <p>A. Astijag B. Justinijan C. Pipin Mali D. Teodorik</p>	<p>A. <input type="checkbox"/></p> <p>B. <input type="checkbox"/></p> <p>C. <input type="checkbox"/></p> <p>D. <input type="checkbox"/></p>
<p>POV D-S006</p> <p>01</p>	

Povijest

7. Pozorno promotrite zemljovid Bizanta početkom 13. stoljeća.



Kako se naziva carstvo koje su križari osnovali u četvrtome križarskome ratu 1204. godine?

- A. Bizantsko Carstvo
- B. Latinsko Carstvo
- C. Sveto Rimsko Carstvo Njemačke Narodnosti
- D. Trapezuntsko Carstvo

A. ☐

B. ☐

C. ☐

D. ☐

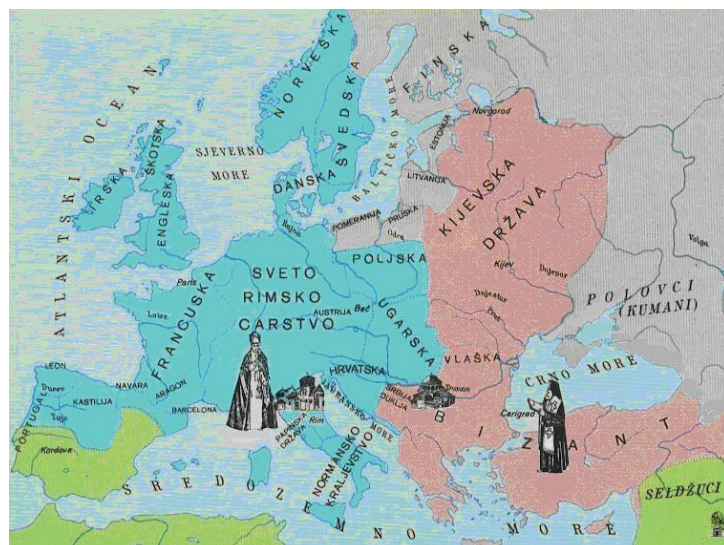
POV D-S006



01

Povijest

8. Pozorno promotrite povijesnu kartu Europe 11. stoljeća.



- Pogani
- Pravoslavci
- Katolici
- Muslimani

Koji je događaj uzrokovao ovakvu podjelu Europe?

- A. Crkveni raskol 1054.
- B. Bitka kod Hastingsa 1066.
- C. Državni sabor u Wormsu 1076.
- D. Crkveni sabor u Clermontu 1095.

- A. ☐
- B. ☐
- C. ☐
- D. ☐

9. U kojem su se gradu Zrinskih okupljali književnici i jezikoslovci novoga vijeka?

- A. u Ogulinu
- B. u Ozlju
- C. u Varaždinu
- D. u Zagrebu

- A. ☐
- B. ☐
- C. ☐
- D. ☐

10. Kako se zove najpoznatiji hrvatski protestanski pisac?

- A. Franjo Asiški
- B. Franjo Ksaverski
- C. Marko Križevčanin
- D. Matija Vlačić Ilirik

- A. ☐
- B. ☐
- C. ☐
- D. ☐

POV D-S006



01

Povijest

11. Što je bio uzrok kasnijoj pojavi industrijske revolucije u Pruskoj u odnosu na zapadnoeuropske zemlje?

- A. ulaganje kapitala u vlastite kolonije
- B. provođenje crkvenih reformi
- C. nedostatak kapitala
- D. vezanost seljaka uz zemlju

- A. ☐
- B. ☐
- C. ☐
- D. ☐

12. Koji izraz označuje krizu Osmanskoga Carstva te interese i borbe europskih velesila za prevlast u jugoistočnoj Europi i istočnome Sredozemlju u 19. stoljeću?

- A. balkansko pitanje
- B. istočno pitanje
- C. „ново uređenje”
- D. reformsko pitanje

- A. ☐
- B. ☐
- C. ☐
- D. ☐

13. Pozorno promotrite zemljovid.



Koje je razdoblje hrvatske prošlosti prikazano zemljovidom?

- A. razdoblje Napoleona
- B. razdoblje nakon Bečkoga kongresa
- C. kraj 18. stoljeća
- D. 1848./1849. godina

- A. ☐
- B. ☐
- C. ☐
- D. ☐

POV D-S006



01

Povijest

<p>14. Zbog čega je značajno uzdizanje Zagrebačke biskupije na rang nadbiskupije?</p> <p>A. Hrvatska je dobila crkveno središte neovisno od Austrije. B. Hrvatska je dobila crkveno središte neovisno od Ugarske. C. Odvojila se Katolička i Pravoslavna crkva u Hrvatskoj. D. Osnovana se hrvatska nacionalna crkva.</p>	<p>A. <input type="checkbox"/></p> <p>B. <input type="checkbox"/></p> <p>C. <input type="checkbox"/></p> <p>D. <input type="checkbox"/></p>
<p>15. Koje su stranke sudjelovale u sukobu 1845. godine, čija su posljedica „Srpanjske žrtve“?</p> <p>A. narodnjaci i mađaroni B. pravaši i unionisti C. samostalci i unionisti D. narodnjaci i republikanci</p>	<p>A. <input type="checkbox"/></p> <p>B. <input type="checkbox"/></p> <p>C. <input type="checkbox"/></p> <p>D. <input type="checkbox"/></p>
<p>16. Po čemu je značajan Mihail Gorbačov?</p> <p>A. Gušio je revoluciju u Mađarskoj. B. Osnovao je gulage. C. Poticao je blokovsko naoružanje. D. Proveo je perestrojku i glasnost.</p>	<p>A. <input type="checkbox"/></p> <p>B. <input type="checkbox"/></p> <p>C. <input type="checkbox"/></p> <p>D. <input type="checkbox"/></p>
<p>17. Prema kojoj je zemlji određena zajednička politika Njemačke i SSSR-a Sporazumom Ribbentrop-Molotov iz 1939. godine?</p> <p>A. prema Albaniji B. prema Italiji C. prema Poljskoj D. prema Velikoj Britaniji</p>	<p>A. <input type="checkbox"/></p> <p>B. <input type="checkbox"/></p> <p>C. <input type="checkbox"/></p> <p>D. <input type="checkbox"/></p>
<p>18. Čiju je suradnju zagovarala „politika novoga kursa“ u Hrvatskoj početkom 20. stoljeća?</p> <p>A. austrijske i hrvatske vlasti B. austrijske i ugarske vlasti C. austrijske i hrvatske oporbe D. hrvatske i ugarske oporbe</p>	<p>A. <input type="checkbox"/></p> <p>B. <input type="checkbox"/></p> <p>C. <input type="checkbox"/></p> <p>D. <input type="checkbox"/></p>
<div data-bbox="256 2104 435 2140" data-label="Text">POV D-S006</div> <div data-bbox="1357 2061 1512 2200" data-label="Image"> </div> <div data-bbox="1468 2162 1517 2198" data-label="Text">01</div>	

Povijest

19. Kojim su dokumentom zastupnici Jugoslavenkoga kluba zahtijevali sjedinjenje Južnih Slavena u Monarhiji u samostalno državno tijelo pod žezlom habsburške dinastije?

- A. Krfskom deklaracijom
- B. Niškom deklaracijom
- C. Svibanjskom deklaracijom
- D. Ženevskom deklaracijom

- A. ☐
- B. ☐
- C. ☐
- D. ☐

20. Koje je područje u cijelosti oslobođeno vojno-redarstvenom akcijom „Bljesak”?

- A. Dubrovačko zaleđe
- B. Istočna Slavonija
- C. Zadarsko zaleđe
- D. Zapadna Slavonija

- A. ☐
- B. ☐
- C. ☐
- D. ☐

POV D-S006



01

Povijest

II. Zadatci dopunjavanja

U sljedećim zadacima dopunite rečenice upisivanjem pojmova koji nedostaju.
Odgovore upišite na predviđeno mjesto u ovoj knjižici.
Ne popunjavajte prostor za bodovanje.

21. Stvaranje spartanskoga državnoga i društvenoga ustroja tradicija pripisuje legendarnomu zakonodavcu

_____.

0

1

bod

22. U razdoblju Rimske Republike proskripcije je u politički život uveo diktator

_____.

0

1

bod

23. Najstariji trag ljudske prisutnosti iz doba paleolitika na hrvatskome tlu jest

oblutak iz špilje _____.

0

1

bod

24. Srednjovjekovna udruženja trgovaca

nazivaju se _____.

0

1


bod

POV D-S006



02

Povijest

25. Prvi crkveni red koji je u vrijeme kneza Trpimira djelovao u Hrvatskoj bio je _____.	0 <input type="checkbox"/> 1 <input type="checkbox"/> bod
26. Novootvoreni pomorski put koji je od 1869. olakšao Velikoj Britaniji kontrolu Indije bio je _____.	0 <input type="checkbox"/> 1 <input type="checkbox"/> bod
27. Pisac političkoga programa preporodnoga pokreta izloženoga u djelu <i>Disertatia iliti razgovor darovan gospodi poklisarom</i> zove se _____.	0 <input type="checkbox"/> 1 <input type="checkbox"/> bod
28. Politika s kraja 19. i početka 20. stoljeća kojom se teži političkoj i gospodarskoj dominaciji nad drugim narodima i državama naziva se _____.	0 <input type="checkbox"/> 1 <input type="checkbox"/> bod
29. Vođa Hrvatske seljačke stranke nakon ubojstva Stjepana Radića bio je _____.	0 <input type="checkbox"/> 1 <input type="checkbox"/> bod
POV D-S006	 02



Povijest

30. Vojnici iz Hrvatske koji su zbog gladi, neimaštine i nedostatka motivacije

za povratkom na bojišnice Prvoga svjetskoga rata bježali iz vojske

i skrivali se po šumama

prozvani su _____.

0

1

bod

POV D-S006



02

Povijest

III. Zadatci višestrukoga izbora

U sljedećim zadacima između četiriju ponuđenih trebate odabrati jedan odgovor. Odgovore obilježite znakom X i obvezno ih prepisite na list za odgovore.

31. Koji niz određuje točan kronološki slijed vođa židovskoga naroda?

- A. Abraham → Saul → David → Salomon
- B. Abraham → David → Saul → Salomon
- C. Abraham → Salomon → David → Saul
- D. Abraham → Saul → Salomon → David

- A. ☐
- B. ☐
- C. ☐
- D. ☐

32. Koji niz određuje točan uzročno-posljedični slijed grčke povijesti?

- A. slabljenje polisa → makedonska dominacija grčkim svijetom → Peloponeski rat → osnutak Delskoga saveza
- B. slabljenje polisa → osnutak Delskoga saveza → makedonska dominacija grčkim svijetom → Peloponeski rat
- C. osnutak Delskoga saveza → Peloponeski rat → slabljenje polisa → makedonska dominacija grčkim svijetom
- D. makedonska dominacija grčkim svijetom → slabljenje polisa → Peloponeski rat → osnutak Delskoga saveza

- A. ☐
- B. ☐
- C. ☐
- D. ☐

33. Koji niz određuje točan kronološki slijed pojave vanjskih neprijatelja Bizantskoga Carstva?

- A. Franci → Arapi → avarsko-slavenski savez → Seldžuci
- B. avarsko-slavenski savez → Franci → Arapi → Seldžuci
- C. avarsko-slavenski savez → Seldžuci → Arapi → Franci
- D. Seldžuci → Franci → Arapi → avarsko-slavenski savez

- A. ☐
- B. ☐
- C. ☐
- D. ☐

POV D-S006



02

Povijest

34. Koji niz određuje točan kronološki slijed događaja iz hrvatske povijesti?

- A. *Pacta conventa* → Bitka na Gvozdu → Zlatna bula Andrije II. → poraz Bele IV. od Tatara
- B. Bitka na Gvozdu → *Pacta conventa* → Zlatna bula Andrije II. → poraz Bele IV. od Tatara
- C. Zlatna bula Andrije II. → Bitka na Gvozdu → *Pacta Conventa* → poraz Bele IV. od Tatara
- D. poraz Bele IV. od Tatara → Bitka na Gvozdu → *Pacta Conventa* → Zlatna bula Andrije II.

A.

B.

C.

D.

35. Koji niz određuje točan kronološki slijed događaja iz francuske povijesti?

- A. Bitka kod Leipziga → uspostava Direktorija → Napoleonov pohod na Rusiju → Bečki kongres
- B. Napoleonov pohod na Rusiju → uspostava Direktorija → Bitka kod Leipziga → Bečki kongres
- C. uspostava Direktorija → Napoleonov pohod na Rusiju → Bitka kod Leipziga → Bečki kongres
- D. Bečki kongres → uspostava Direktorija → Napoleonov pohod na Rusiju → Bitka kod Leipziga

A.

B.

C.

D.

POV D-S006



02

Povijest

36. Koji niz određuje uzročno-posljedični slijed događaja u Hrvatskoj u 19. stoljeću?

- A. Listopadska diploma → Hrvatsko-ugarska nagodba → ustanak u Rakovici
→ sjedinjenje Vojne krajine s Banskim Hrvatskom
- B. Hrvatsko-ugarska nagodba → ustanak u Rakovici → Listopadska diploma
→ sjedinjenje Vojne krajine s Banskim Hrvatskom
- C. Listopadska diploma → sjedinjenje Vojne krajine s Banskim Hrvatskom
→ Hrvatsko-ugarska nagodba → ustanak u Rakovici
- D. ustanak u Rakovici → sjedinjenje Vojne krajine s Banskim Hrvatskom
→ Hrvatsko-ugarska nagodba → Listopadska diploma

A.

B.

C.

D.

37. Koji niz određuje točan kronološki slijed integracijskih procesa u Europi?

- A. Europska zajednica za ugljen i čelik → Europska ekonomska zajednica
→ Europsko udruženje slobodne trgovine → Sporazum o Europskoj Uniji u
Maastrichtu
- B. Sporazum o Europskoj Uniji u Maastrichtu → Europska ekonomska zajednica
→ Europsko udruženje slobodne trgovine → Europska zajednica za ugljen i čelik
- C. Europsko udruženje slobodne trgovine → Europska zajednica za ugljen i čelik
→ Europska ekonomska zajednica → Sporazum o Europskoj Uniji u Maastrichtu
- D. Europska zajednica za ugljen i čelik → Europsko udruženje slobodne trgovine
→ Sporazum o Europskoj Uniji u Maastrichtu → Europska ekonomska zajednica

A.

B.

C.

D.

POV D-S006



01

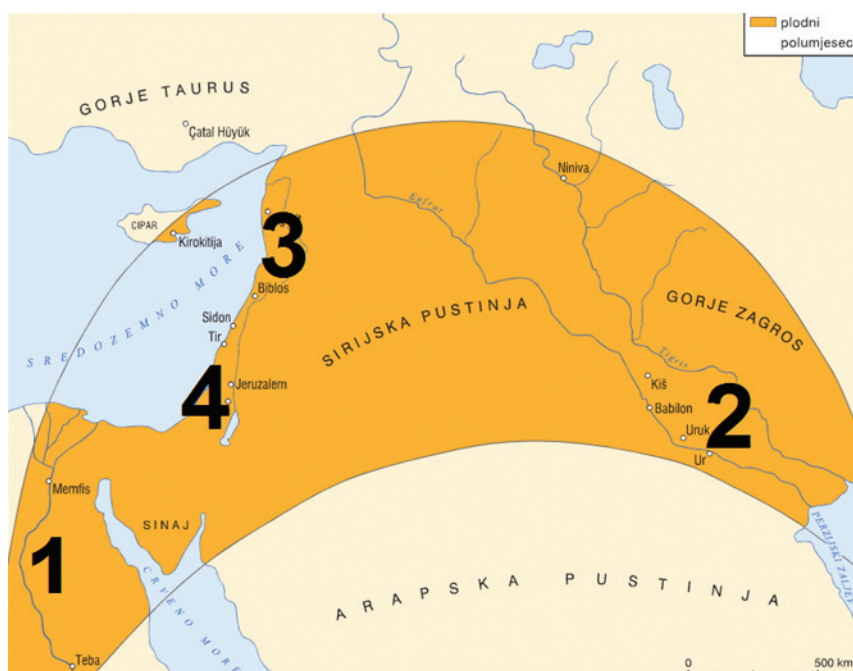
Povijest

IV. Zadatci povezivanja i sređivanja

U sljedećim zadacima svakoj čestici pitanja označenoj brojem pridružite odgovarajuću česticu odgovora označenu slovom.

Odgovore obilježite znakom X i obvezno ih prepisite na list za odgovore.

38. Pozorno promotrite povijesni zemljovid.



Područjima obilježenim brojevima od 1 do 4 na prostoru „plodnoga polumjeseca” pridružite imena država koje su se tamo razvile.

- A. Babilon
- B. Egipat
- C. Fenička država
- D. Medija
- E. Mohenjo Daro
- F. Židovska država

	A.	B.	C.	D.	E.	F.
1.	<input type="checkbox"/>	<input type="checkbox"/>	<input type="checkbox"/>	<input type="checkbox"/>	<input type="checkbox"/>	<input type="checkbox"/>
2.	<input type="checkbox"/>	<input type="checkbox"/>	<input type="checkbox"/>	<input type="checkbox"/>	<input type="checkbox"/>	<input type="checkbox"/>
3.	<input type="checkbox"/>	<input type="checkbox"/>	<input type="checkbox"/>	<input type="checkbox"/>	<input type="checkbox"/>	<input type="checkbox"/>
4.	<input type="checkbox"/>	<input type="checkbox"/>	<input type="checkbox"/>	<input type="checkbox"/>	<input type="checkbox"/>	<input type="checkbox"/>

POV D-S006



05

Povijest

39. Pomoćnim povijesnim znanostima pridružite predmete istraživanja.

1. kronologija
2. diplomatika
3. numizmatika
4. onomastika

- A. grbovi
- B. imena i nazivi
- C. vremenski sustavi
- D. pisane isprave
- E. rodoslovlja
- F. stari novac

	A.	B.	C.	D.	E.	F.
1.						
2.						
3.						
4.						

POV D-S006



05

Povijest

40. Materijalnim ostacima prikazanim na slikama pridružite kulture kojima su pripadali.



1.



2.



3.



4.

- A. danilska/neolitička
- B. egipatska
- C. grčka
- D. japodska/ilirska
- E. rimska
- F. vučedolska

	A.	B.	C.	D.	E.	F.
1.	<input type="checkbox"/>	<input type="checkbox"/>	<input type="checkbox"/>	<input type="checkbox"/>	<input type="checkbox"/>	<input type="checkbox"/>
2.	<input type="checkbox"/>	<input type="checkbox"/>	<input type="checkbox"/>	<input type="checkbox"/>	<input type="checkbox"/>	<input type="checkbox"/>
3.	<input type="checkbox"/>	<input type="checkbox"/>	<input type="checkbox"/>	<input type="checkbox"/>	<input type="checkbox"/>	<input type="checkbox"/>
4.	<input type="checkbox"/>	<input type="checkbox"/>	<input type="checkbox"/>	<input type="checkbox"/>	<input type="checkbox"/>	<input type="checkbox"/>

POV D-S006



05

Povijest

41. Imenima teritorijalnih jedinica pridružite narode koji su ih ustanovili.

1. marka
2. sandžak
3. sklavinija
4. tema

- A. Arapi
- B. Bizantinci
- C. Franci
- D. Normani
- E. Osmanlije
- F. Slaveni

	A.	B.	C.	D.	E.	F.
1.						
2.						
3.						
4.						

POV D-S006



05

Povijest

42. Pozorno promotrite zemljovid Hrvatske u 17. stoljeću.



Prostorima obilježenima brojevima od 1 do 4 pridružite imena pripadajućih političko-vojnih teritorija.

- A. Banska Hrvatska
- B. Banska krajina
- C. Hrvatska krajina
- D. Jajačka banovina
- E. Slavonska krajina
- F. Srebrenička banovina

	A.	B.	C.	D.	E.	F.
1.	<input type="checkbox"/>	<input type="checkbox"/>	<input type="checkbox"/>	<input type="checkbox"/>	<input type="checkbox"/>	<input type="checkbox"/>
2.	<input type="checkbox"/>	<input type="checkbox"/>	<input type="checkbox"/>	<input type="checkbox"/>	<input type="checkbox"/>	<input type="checkbox"/>
3.	<input type="checkbox"/>	<input type="checkbox"/>	<input type="checkbox"/>	<input type="checkbox"/>	<input type="checkbox"/>	<input type="checkbox"/>
4.	<input type="checkbox"/>	<input type="checkbox"/>	<input type="checkbox"/>	<input type="checkbox"/>	<input type="checkbox"/>	<input type="checkbox"/>

POV D-S006



05

Povijest

43. Istaknutim osobama hrvatske kulture pridružite njihova postignuća.

1. Bartol Kašić
2. Faust Vrančić
3. Ivan Ranger
4. Marko Marulić

- A. autor prve gramatike hrvatskoga jezika
B. istaknuti glazbenik
C. izumitelj i znanstvenik
D. „otac hrvatske historiografije”
E. barokni slikar
F. otac hrvatske književnosti

	A.	B.	C.	D.	E.	F.
1.	<input type="checkbox"/>	<input type="checkbox"/>	<input type="checkbox"/>	<input type="checkbox"/>	<input type="checkbox"/>	<input type="checkbox"/>
2.	<input type="checkbox"/>	<input type="checkbox"/>	<input type="checkbox"/>	<input type="checkbox"/>	<input type="checkbox"/>	<input type="checkbox"/>
3.	<input type="checkbox"/>	<input type="checkbox"/>	<input type="checkbox"/>	<input type="checkbox"/>	<input type="checkbox"/>	<input type="checkbox"/>
4.	<input type="checkbox"/>	<input type="checkbox"/>	<input type="checkbox"/>	<input type="checkbox"/>	<input type="checkbox"/>	<input type="checkbox"/>

44. Liberalnim i nacionalnim pokretima prve polovice 19. stoljeća pridružite zemlje u kojima se javljaju.

1. čartizam
2. *Risorgimento*
3. *srpanjska revolucija*
4. ustanak *dekabrista*

- A. Francuska
B. Italija
C. Njemačka
D. Rusija
E. Španjolska
F. Velika Britanija

	A.	B.	C.	D.	E.	F.
1.	<input type="checkbox"/>	<input type="checkbox"/>	<input type="checkbox"/>	<input type="checkbox"/>	<input type="checkbox"/>	<input type="checkbox"/>
2.	<input type="checkbox"/>	<input type="checkbox"/>	<input type="checkbox"/>	<input type="checkbox"/>	<input type="checkbox"/>	<input type="checkbox"/>
3.	<input type="checkbox"/>	<input type="checkbox"/>	<input type="checkbox"/>	<input type="checkbox"/>	<input type="checkbox"/>	<input type="checkbox"/>
4.	<input type="checkbox"/>	<input type="checkbox"/>	<input type="checkbox"/>	<input type="checkbox"/>	<input type="checkbox"/>	<input type="checkbox"/>

POV D-S006



05

Povijest

45. Hrvatskim banovima i banskim namjesnicima druge polovice 19. stoljeća pridružite događaje koji su se dogodili dok su bili na tim položajima.

1. Antun Vakanović
2. Khuen Héderváry
3. Ladislav Pejačević
4. Levin Rauch

- A. objavljena Listopadska diploma
- B. otvoreno Sveučilište u Zagrebu
- C. pripojena Vojna krajina Hrvatskoj
- D. provedena revizija Hrvatsko-ugarske nagodbe
- E. sklopljena Hrvatsko-ugarska nagodba
- F. spaljena mađarska zastava u Zagrebu

	A.	B.	C.	D.	E.	F.
1.	<input type="checkbox"/>	<input type="checkbox"/>	<input type="checkbox"/>	<input type="checkbox"/>	<input type="checkbox"/>	<input type="checkbox"/>
2.	<input type="checkbox"/>	<input type="checkbox"/>	<input type="checkbox"/>	<input type="checkbox"/>	<input type="checkbox"/>	<input type="checkbox"/>
3.	<input type="checkbox"/>	<input type="checkbox"/>	<input type="checkbox"/>	<input type="checkbox"/>	<input type="checkbox"/>	<input type="checkbox"/>
4.	<input type="checkbox"/>	<input type="checkbox"/>	<input type="checkbox"/>	<input type="checkbox"/>	<input type="checkbox"/>	<input type="checkbox"/>

46. Hrvatskim gradovima pridružite njihova gospodarska značenja tijekom 19. stoljeća.

1. Pag
2. Pula
3. Rovinj
4. Zadar

- A. ratno brodogradilište (Arsenal)
- B. solana
- C. rudnik ugljena
- D. tvornica duhana
- E. Prva pučka dalmatinska banka
- F. tvornica maraskina

	A.	B.	C.	D.	E.	F.
1.	<input type="checkbox"/>	<input type="checkbox"/>	<input type="checkbox"/>	<input type="checkbox"/>	<input type="checkbox"/>	<input type="checkbox"/>
2.	<input type="checkbox"/>	<input type="checkbox"/>	<input type="checkbox"/>	<input type="checkbox"/>	<input type="checkbox"/>	<input type="checkbox"/>
3.	<input type="checkbox"/>	<input type="checkbox"/>	<input type="checkbox"/>	<input type="checkbox"/>	<input type="checkbox"/>	<input type="checkbox"/>
4.	<input type="checkbox"/>	<input type="checkbox"/>	<input type="checkbox"/>	<input type="checkbox"/>	<input type="checkbox"/>	<input type="checkbox"/>

POV D-S006



05

Povijest

47. Tajnim imenima ratnih operacija pridružite njihova značenja.

1. *Baklja*
2. *Barbarossa*
3. *Morski lav*
4. *Overlord*

- A. američko iskrcavanje u sjevernoj Africi
- B. desant na Drvar
- C. operacija povlačenja iz Italije
- D. napad na SSSR
- E. plan osvajanja Velike Britanije
- F. saveznički desant na Francusku

	A.	B.	C.	D.	E.	F.
1.	<input type="checkbox"/>	<input type="checkbox"/>	<input type="checkbox"/>	<input type="checkbox"/>	<input type="checkbox"/>	<input type="checkbox"/>
2.	<input type="checkbox"/>	<input type="checkbox"/>	<input type="checkbox"/>	<input type="checkbox"/>	<input type="checkbox"/>	<input type="checkbox"/>
3.	<input type="checkbox"/>	<input type="checkbox"/>	<input type="checkbox"/>	<input type="checkbox"/>	<input type="checkbox"/>	<input type="checkbox"/>
4.	<input type="checkbox"/>	<input type="checkbox"/>	<input type="checkbox"/>	<input type="checkbox"/>	<input type="checkbox"/>	<input type="checkbox"/>

48. Ideologijama ili političkim doktrinama pridružite ime države koja ju je zastupala.

1. fašizam
2. izolacionizam
3. nacizam
4. ratni komunizam

- A. Italija
- B. Francuska
- C. Njemačka
- D. SAD
- E. SSSR
- F. Velika Britanija

	A.	B.	C.	D.	E.	F.
1.	<input type="checkbox"/>	<input type="checkbox"/>	<input type="checkbox"/>	<input type="checkbox"/>	<input type="checkbox"/>	<input type="checkbox"/>
2.	<input type="checkbox"/>	<input type="checkbox"/>	<input type="checkbox"/>	<input type="checkbox"/>	<input type="checkbox"/>	<input type="checkbox"/>
3.	<input type="checkbox"/>	<input type="checkbox"/>	<input type="checkbox"/>	<input type="checkbox"/>	<input type="checkbox"/>	<input type="checkbox"/>
4.	<input type="checkbox"/>	<input type="checkbox"/>	<input type="checkbox"/>	<input type="checkbox"/>	<input type="checkbox"/>	<input type="checkbox"/>

POV D-S006



05

Povijest

49. Područjima Hrvatske pridružite državno-pravne položaje početkom 20. stoljeća.

1. Banska Hrvatska
2. Dalmacija i Istra
3. Međimurje
4. Rijeka

- A. anektirana od strane Austrije 1908. godine
- B. izravno pod ugarskom vlašću
- C. pod upravom Ratnoga vijeća u Grazu
- D. posebno autonomno područje u okviru Ugarske
- E. pod upravom Hrvatskoga sabora
- F. nalazi se unutar austrijskoga dijela Monarhije

	A.	B.	C.	D.	E.	F.
1.	<input type="checkbox"/>	<input type="checkbox"/>	<input type="checkbox"/>	<input type="checkbox"/>	<input type="checkbox"/>	<input type="checkbox"/>
2.	<input type="checkbox"/>	<input type="checkbox"/>	<input type="checkbox"/>	<input type="checkbox"/>	<input type="checkbox"/>	<input type="checkbox"/>
3.	<input type="checkbox"/>	<input type="checkbox"/>	<input type="checkbox"/>	<input type="checkbox"/>	<input type="checkbox"/>	<input type="checkbox"/>
4.	<input type="checkbox"/>	<input type="checkbox"/>	<input type="checkbox"/>	<input type="checkbox"/>	<input type="checkbox"/>	<input type="checkbox"/>

50. Imenima političara pridružite njihove političke dužnosti.

1. Ivan Šubašić
2. Josip Broz Tito
3. Franjo Tuđman
4. Vladimir Nazor

- A. predsjednik SFRJ
- B. predsjednik jugoslavenske izbjegličke vlade
- C. predsjednik Matice hrvatske
- D. predsjednik samostalne Hrvatske
- E. predsjednik ZAVNOH-a
- F. predsjednik Centralnoga Komiteta SKH

	A.	B.	C.	D.	E.	F.
1.	<input type="checkbox"/>	<input type="checkbox"/>	<input type="checkbox"/>	<input type="checkbox"/>	<input type="checkbox"/>	<input type="checkbox"/>
2.	<input type="checkbox"/>	<input type="checkbox"/>	<input type="checkbox"/>	<input type="checkbox"/>	<input type="checkbox"/>	<input type="checkbox"/>
3.	<input type="checkbox"/>	<input type="checkbox"/>	<input type="checkbox"/>	<input type="checkbox"/>	<input type="checkbox"/>	<input type="checkbox"/>
4.	<input type="checkbox"/>	<input type="checkbox"/>	<input type="checkbox"/>	<input type="checkbox"/>	<input type="checkbox"/>	<input type="checkbox"/>

POV D-S006



05

Povijest

V. Zadatci kratkih odgovora

U sljedećim zadacima proučite povijesne izvore ili povijesne zemljovide i odgovorite na postavljena pitanja.

Odgovore upišite na predviđeno mjesto u ovoj knjižici.

Ne popunjavajte prostor za bodovanje

51. Pozorno pročitajte povijesni izvor.

... Helada zaključuje da očevidno trpi strašnu uvredu, čak tiranstvo, gledajući kako „mi od njezinih za ratne svrhe utjeranih doprinosa svoj grad pozlaćujemo i gizdamo kao taštu ženu ukrašavajući ga skupocjenim kamenjem, kipovima i hramovima od tisuću talenata”. Periklo je, opet, narodu objašnjavao da za novac ne duguju računa saveznicima jer ih brane u ratu i suzbijaju barbare, a da za to ne dobivaju ni jednoga konja, ni jedan brod, ni jednog vojnika. Što saveznici daju, to je jedino novac, a novac ne pripada onima koji ih daju, nego onima koji ih primaju ako ovi ispunjaju ono za što ih primaju.

51.1. O kojem stoljeću grčke povijesti govori izvor?

0

1

bod

51.2. Kako se nazivao savez koji spominje izvor?

0

1

bod

POV D-S006



02



Povijest

51.3. Koji se polis otvoreno suprotstavljao spomenutomu savezu?

0

☐

1

☐

bod

POV D-S006



02



Povijest

52. Pozorno promotrite sliku materijalnoga ostatka s istočne obale Jadrana.



52.1. O kulturnome nasljeđu kojega naroda svjedoči ovaj materijalni ostatak?

0 ☐

1 ☐

bod

52.2. Kako se nazivalo tadašnje antičko upravno-političko središte u kojem je pronađen materijalni ostatak?

0 ☐

1 ☐

bod

52.3. Koji je društveni sloj najviše doprinio širenju kulture toga naroda?

0 ☐

1 ☐

bod

POV D-S006



02

Povijest

53. Pozorno pročitajte povijesni izvor.

Tko kaže da će duša onaj čas seliti iz čistilišta čim groš padne u škrinjicu i zazveči, taj propovijeda trice i kućine. (...)
Tko drži da je oprosnim pismima siguran za svoje blaženstvo, taj će zajedno sa svojim učiteljima otići do bijesa. (...)
Kršćane treba poučavati: bolje radi tko siromahu daje ili potrebnomu posuđuje nego tko kupuje oprost. (...) Pravo, istinito blago Crkve jest sveto evanđelje veličanstva i milosti Božje.

53.1. Kako se zove autor ovoga teksta?

0 ☐
1 ☐

bod

53.2. Koje je godine nastao ovaj tekst?

0 ☐
1 ☐

bod

53.3. Koji je vjerski i društveni pokret započeo objavom ovoga teksta?

0 ☐
1 ☐

bod

POV D-S006



02

Povijest

54. Pozorno pročitajte povijesni izvor.

III. (145) Sve što je živo umire Alahovom voljom u času suđenom. Dat ćemo onome koji želi nagradu na ovome svijetu, a dat ćemo i onome tko želi nagradu i na onome svijetu i sigurno ćemo nagraditi zahvalne.

V. (38) Kradljivcu i kradljivici odsijecite ruke njihove, neka im to bude kazna za ono što su učinili i opomena od Alaha! Alah je silan i mudar.

VIII. (17) Vi njih niste ubijali nego Alah; i nisi ti bacio, kad si bacio, nego je Alah bacio, da bi vjernike lijepom kušnjom iskušao, – Alah zaista sve čuje i sve zna.

54.1. Kako se naziva knjiga iz koje je navedeni tekst?

0 ☐

1 ☐

bod

54.2. Koga se smatra autorom navedenoga teksta?

0 ☐

1 ☐

bod

54.3. U kojem je stoljeću nastala knjiga?

0 ☐

1 ☐

bod

POV D-S006



02

Povijest

55. Pozorno pročitajte povijesni izvor.

(...) Ali ban Derenčin, u koga bijaše više smjelosti kod savjetovanja nego snage kod izvođenja stvari, nagovaraše da se boj zametne na otvorenom polju. On je tako sudio prezirući neprijatelja, dok su se Hrvati njemu opirali jer ih je malo bilo. (...)
Kad se tako poređаше vojske, turski vojvoda Ismail-beg takvom silom udari na prve naše čete da je knez Bernardin ne samo bio iz svog reda potisnut, te je morao uzmaknuti, nego je bio i prinuđen da ostavi svoje pješake. Nato bijahu potjerani u krvav i sramotan bijeg sve do Krbave. (...)
Ban Derenčin bude zarobljen, a sin njegov ubijen (...). To je prvi rasap kraljevstva hrvatskog, i tu je čitavo plemstvo hrvatsko izginulo.

55.1. Gdje se odigrala bitka opisana u tekstu?

0 ☐

1 ☐

bod

55.2. Koje se godine odigrala bitka opisana u tekstu?

0 ☐

1 ☐

bod

55.3. Koja se dinastija tada nalazila na hrvatsko-ugarskome prijestolju?

0 ☐

1 ☐

bod

POV D-S006



02

Povijest

56. Pozorno promotrite zemljovid.



56.1. Kako se naziva država prikazana na zemljovidu?

0 ☐
1 ☐

bod

56.2. Koje je godine uspostavljen njezin unutarnji ustroj?

0 ☐
1 ☐

bod

56.3. Do koje je godine ova država opstala u obliku prikazanome na zemljovidu?

0 ☐
1 ☐

bod


POV D-S006



02

Povijest

57. Pozorno promotrite sliku.



57.1. Kako se naziva razdoblje hrvatske prošlosti obilježeno umjetničkim djelom prikazanim na slici?

0 ☐
1 ☐

bod

57.2. Kako se zove autor umjetničkoga djela prikazanoga na slici?

0 ☐
1 ☐

bod

57.3. U kojoj se kulturnoj instituciji nalazi djelo prikazano na slici?

0 ☐
1 ☐

bod

POV D-S006



02

Povijest

58. Pozorno pročitajte govor iz 1843. godine.

„(...) Mi svoj jezik čuvamo još uvijek za družinu i za naše kmetove! U općinski žvot i u poslove uveli smo u onih još barbarskih vremena, kad na cijelom svijetu jedini jezik latinski za izobražen izdjelan držao se jest, taj jezik. U društveni život i u familiju našu uvukao se s vremenom jezik njemački i promijenio prirodenu našu narav i način mišljenja otaca naših, u Primorju pako to učinio je jezik talijanski. (...) Mi smo malo latini, malo Nijemci, malo Talijani, malo Mađari i malo Slavjani, a ukupno, iskreno

govoreći, nismo baš ništa! Mrtvi jezik rimski i živi mađarski, njemački i talijanski, to su naši tutori; živi nam se groze, mrtvi nas drže za grlo, duši nas i nemoćne nas vodi i predaje živima u ruke! Sada imamo još toliko sile da se suprotstavimo mrtvima, zamala ne ćemo moći nadvladati žive ako se čvrsto ne stavimo na svoje noge, to jest ako svoj jezik ne utvrdimo u domovini i postavimo ga vladajućim.“

H. Matković, *Suvremena politička povijest Hrvatske*, Zagreb, 1995.

58.1. Koji je zastupnik izgovorio ovaj govor u Hrvatskome saboru 1843. godine?

0 ☐

1 ☐

bod

58.2. Za koji se prijedlog zalaže zastupnik ovim govorom?

0 ☐

1 ☐

bod

58.3. Koje je godine ostvaren taj prijedlog?

0 ☐

1 ☐

bod

POV D-S006



02

Povijest

59. Pozorno pročitajte povijesni izvor.

Najviši narodni i državni interesi i njihova budućnost zapovijedaju Mi, da se i kao vladalac i kao sin ove zemlje obratim neposredno narodu i da mu otvoreno i iskreno kažem ono, što Mi u današnjem trenutku nalaže moja savjest i moja ljubav prema otadžbini. Nastupio je čas, kada između naroda i kralja ne može i ne smije više biti posrednika. (...) Parlamentarni rad i sav naš politički život dobivaju sve više negativno obilježje, od čega narod i država imaju za sada samo štete. (...) Parlamentarizam (...) je postao smetnja za svaki plodonosni rad u državi. Žalosni događaji i razdori u Narodnoj skupštini pokolebali su kod naroda vjeru u korisnost te ustanove (...).

59.1. Navedite ime i prezime osobe koja je izdala citirani proglas/manifest.

0 ☐

1 ☐

bod

59.2. Navedite dan, mjesec i godinu kada je objavljen citirani proglas/manifest.

0 ☐

1 ☐

bod

59.3. Koji je događaj bio povod objavi toga proglasa/manifesta?

0 ☐

1 ☐

bod

POV D-S006



02

Povijest

60. Pozorno promotrite ilustraciju.



60.1. Obljetnicu kojega događaja obilježava ovaj niz poštanskih maraka?

0 ☐
1 ☐

bod

60.2. Koje se godine taj povijesni događaj dogodio?

0 ☐
1 ☐

bod

60.3. Navedite ime i prezime osobe prikazane na ovome nizu poštanskih maraka.

0 ☐
1 ☐

bod

POV D-S006



02

Povijest

Prazna stranica

POV D-S006



99

Povijest

Prazna stranica

POV D-S006



99

Povijest

Prazna stranica

POV D-S006



99

Povijest

Prazna stranica

POV D-S006



99