



**NACIONALNI CENTAR ZA VANJSKO  
VREDNOVANJE OBRAZOVANJA**

Identifikacijska  
naljepnica

**PAŽLJIVO NALIJEPI**

# POVIJEST

POV D-S007



POV.07.HR.R.K1.40



12



# Povijest

Prazna stranica

POV D-S007



99



## UPUTE

Pozorno slijedite sve upute.

Ne okrećite stranicu i ne rješavajte test dok to ne odobri dežurni nastavnik.

Nalijepite identifikacijsku naljepnicu na sve ispitne materijale koje ste dobili u omotnici.

Ispit traje 90 minuta bez prekida.

Dobro rasporedite vrijeme kako biste mogli riješiti sve zadatke.

Ispred svake skupine zadataka je uputa za njihovo rješavanje.

Pozorno ju pročitajte.

Tijekom pisanja ispita dopušteno je rabiti kemijsku olovku plave ili crne boje.

Pišite jasno i čitljivo. Nečitki odgovori bodovat će se s nula (0) bodova.

Kada riješite test, provjerite odgovore.

Želimo Vam puno uspjeha!

Ova ispitna knjižica ima 40 stranica, od toga 5 praznih.

### Način popunjavanja lista za odgovore

Dobro

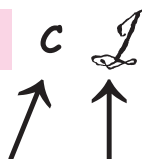
A	<input checked="" type="checkbox"/>	B	<input type="checkbox"/>	C	<input type="checkbox"/>
---	-------------------------------------	---	--------------------------	---	--------------------------

Ispravljanje pogrešnog unosa

A	<input checked="" type="checkbox"/>	B	<input type="checkbox"/>	C	<input checked="" type="checkbox"/>
---	-------------------------------------	---	--------------------------	---	-------------------------------------

C

Prepisani  
točan  
odgovor



Paraf

Loše

A	<input type="checkbox"/>	B	<input checked="" type="checkbox"/>	C	<input type="checkbox"/>
---	--------------------------	---	-------------------------------------	---	--------------------------

POV D-S007



99

# Povijest

## I. Zadatci višestrukoga izbora

U sljedećim zadatcima između četiriju ponuđenih trebate odabrati jedan odgovor. Odgovore obilježite znakom X i obvezno ih prepisite na list za odgovore. Svaki točan odgovor donosi 1 bod.

1. Kojemu se narodu metalnoga doba pripisuje širenje uporabe željeza Europom?

- A. Grcima
- B. Hetitima
- C. Ilirima
- D. Keltima

- A. ☐
- B. ☐
- C. ☐
- D. ☐

2. Koji je narod osmislio prvo glasovno pismo alfabet?

- A. Feničani
- B. Hetiti
- C. Sumerani
- D. Židovi

- A. ☐
- B. ☐
- C. ☐
- D. ☐

3. Komu je rimski senat privremeno predao neograničenu vlast u trenutcima velike opasnosti za državu?

- A. diktatoru
- B. edilu
- C. kvestoru
- D. liktoru

- A. ☐
- B. ☐
- C. ☐
- D. ☐

4. Kako se naziva utvrđeno ilirsko naselje?

- A. bazilika
- B. gradina
- C. suhozid
- D. tumul

- A. ☐
- B. ☐
- C. ☐
- D. ☐

POV D-S007



01

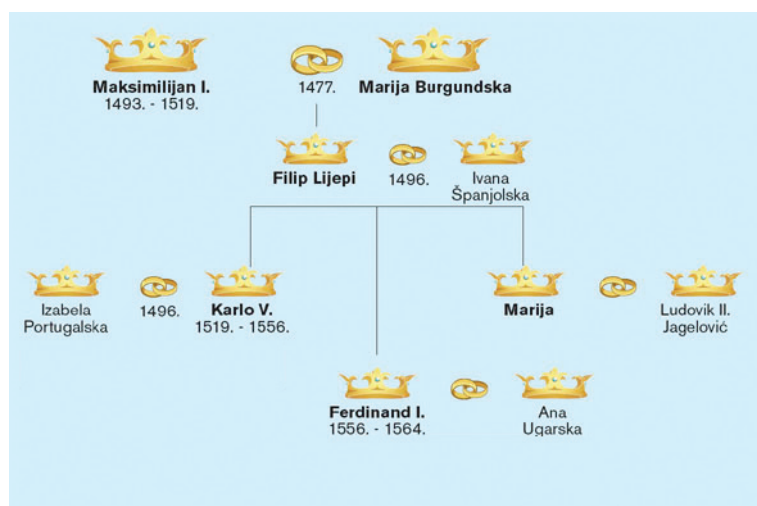
# Povijest

5. Na kojem je od navedenih otoka tiranin Dionizije Stariji iz grčke Sirakuze osnovao koloniju?

- A. na Braču
- B. na Hvaru
- C. na Korčuli
- D. na Visu

- A. ☐
- B. ☐
- C. ☐
- D. ☐

6. Pozorno promotrite ilustraciju.



Rodoslovlje koje moćne europske vladarske obitelji prikazuje ilustracija?

- A. Capeta
- B. Habsburga
- C. Plantageneta
- D. Valoisa

- A. ☐
- B. ☐
- C. ☐
- D. ☐

7. U kojoj se državi razvio društveni ustroj pod nazivom šogunat?

- A. u Australiji
- B. u Indiji
- C. u Japanu
- D. u Kini


- A. ☐
- B. ☐
- C. ☐
- D. ☐

POV D-S007



01

# Povijest


<p>8. Koja je država stekla nezavisnost Westfalskim mirom?</p> <p>A. Belgija B. Nizozemska C. Norveška D. Švedska</p>	<p>A. <input type="checkbox"/></p> <p>B. <input type="checkbox"/></p> <p>C. <input type="checkbox"/></p> <p>D. <input type="checkbox"/></p>
<p>9. Na kojem se izvoru temelji iransko-kavkaska teorija o podrijetlu Hrvata?</p> <p>A. na <i>Ljetopisu popa Dukljanina</i> B. na <i>O upravljanju Carstvom</i> Konstantina VII. Porfirogeneta C. na <i>Povijesti salonitanskih i splitskih biskupa</i> D. na tanaiskim (donskim) pločama</p>	<p>A. <input type="checkbox"/></p> <p>B. <input type="checkbox"/></p> <p>C. <input type="checkbox"/></p> <p>D. <input type="checkbox"/></p>
<p>10. Koji se hrvatski knez u ispravi iz 852. godine naziva <i>mišošu božjom knez Hrvata</i>?</p> <p>A. Domagoj B. Mislav C. Trpimir D. Višeslav</p>	<p>A. <input type="checkbox"/></p> <p>B. <input type="checkbox"/></p> <p>C. <input type="checkbox"/></p> <p>D. <input type="checkbox"/></p>
<p>11. Kako se naziva duhovni i misaoni pokret europske inteligencije 18. stoljeća?</p> <p>A. humanizam B. kameralizam C. merkantilizam D. prosvjetiteljstvo</p>	<p>A. <input type="checkbox"/></p> <p>B. <input type="checkbox"/></p> <p>C. <input type="checkbox"/></p> <p>D. <input type="checkbox"/></p>
<p>12. Kako se zvao prvi predsjednik SAD-a?</p> <p>A. Abraham Lincoln B. George Washington C. James Monroe D. Thomas Jefferson</p>	<p>A. <input type="checkbox"/></p> <p>B. <input type="checkbox"/></p> <p>C. <input type="checkbox"/></p> <p>D. <input type="checkbox"/></p>
<div data-bbox="260 2107 434 2143">POV D-S007</div> <div data-bbox="1362 2066 1519 2167">  </div> <div data-bbox="1475 2167 1519 2203">01</div>	

# Povijest

<p><b>13.</b> Što je bio cilj reformi Ivana Mažuranića?</p> <p>A. jačanje liberalno-građanskoga sloja B. jačanje položaja crkve C. jačanje radništva D. jačanje vojske</p>	<p>A. <input type="checkbox"/> B. <input type="checkbox"/> C. <input type="checkbox"/> D. <input type="checkbox"/></p>
<p><b>14.</b> Uz koji se značajan događaj hrvatske povijesti vezuje datum 25. travnja 1848. godine?</p> <p>A. uz proglašenje hrvatskoga jezika službenim B. uz Jelačićevo proglašenje ukidanja kmetstva C. uz početak zasjedanja prvoga hrvatskoga zastupničkoga Sabora D. uz izdavanje dokumenta <i>Zahtijevanja naroda</i></p>	<p>A. <input type="checkbox"/> B. <input type="checkbox"/> C. <input type="checkbox"/> D. <input type="checkbox"/></p>
<p><b>15.</b> Koji je stalež tijekom 18. stoljeća bio nositelj gospodarskoga napretka u Hrvatskoj?</p> <p>A. građanstvo B. krupno plemstvo C. radništvo D. seljaštvo</p>	<p>A. <input type="checkbox"/> B. <input type="checkbox"/> C. <input type="checkbox"/> D. <input type="checkbox"/></p>
<p><b>16.</b> Što je bila izravna društveno-politička posljedica velike gospodarske krize?</p> <p>A. dekolonizacija B. jačanje radikalnih ideologija C. jačanje uloge Lige naroda D. smanjenje radničkih prava</p>	<p>A. <input type="checkbox"/> B. <input type="checkbox"/> C. <input type="checkbox"/> D. <input type="checkbox"/></p>
<p><b>17.</b> Koji je znanstvenik otkrio antibiotik penicilin?</p> <p>A. Alexander Fleming B. Ernest Rutherford C. Niels Bohr D. Werner Forssmann</p>	<p>A. <input type="checkbox"/> B. <input type="checkbox"/> C. <input type="checkbox"/> D. <input type="checkbox"/></p>
<p>POV D-S007</p> <p>01</p>	

# Povijest

18. Pozorno promotrite fotografiju.



Kako se zove znanstvenik prikazan na fotografiji?

- A. Lavoslav Ružička
- B. Nikola Tesla
- C. Slavoľjub Penkala
- D. Vladimir Prelog

A.

B.

C.

D.

19. Pozorno promotrite zemljovid.



Koje razdoblje hrvatske povijesti prikazuje zemljovid?

- A. Prvoga svjetskoga rata
- B. između dvaju svjetskih ratova
- C. Drugoga svjetskoga rata
- D. nakon Drugoga svjetskoga rata

A.

B.

C.

D.

POV D-S007



01





# Povijest

**20.** Koja je televizija prva počela emitirati program na području Jugoslavije 15. svibnja 1956. godine?

- A.** Televizija Beograd
- B.** Televizija Ljubljana
- C.** Televizija Skopje
- D.** Televizija Zagreb

- A.** ☐
- B.** ☐
- C.** ☐
- D.** ☐

POV D-S007



01

# Povijest

## II. Zadatci dopunjavanja

U sljedećim zadatcima dopunite rečenice upisivanjem pojmova koji nedostaju.  
Odgovore upišite na predviđeno mjesto u ovoj knjižici.  
Ne popunjavajte prostor za bodovanje.

**21.** Najduži trgovački put staroga i srednjega vijeka koji je povezivao Kinu preko Himalaja i Indije sa Sredozemljem poznat je pod imenom

\_\_\_\_\_.

0 ☐

1 ☐

bod

**22.** Lidijci su prvi narod staroga vijeka koji je kao sredstvo plaćanja rabio

\_\_\_\_\_.

0 ☐

1 ☐

bod

**23.** Narod, koji je ilirska plemena poučio uzgoju maslina i vinove loze, bio je

\_\_\_\_\_.

0 ☐

1 ☐

bod

**24.** Duhovnim nasljednikom i obnoviteljem Zapadnoga Rimskoga Carstva u ranome srednjem vijeku smatrao se kralj

\_\_\_\_\_.

0 ☐

1 ☐


bod

POV D-S007



02

# Povijest

<p><b>25.</b> Hrvatsko plemstvo predvođeno Petrom Svačićem pokušalo se na Gvozdu suprotstaviti dolasku kralja</p> <p>_____.</p>	<p>0 <input type="checkbox"/></p> <p>1 <input type="checkbox"/></p> <p>bod</p>
<p><b>26.</b> Vojno-politički savez koji su osnovali vladari Austrije, Pruske i Rusije s ciljem očuvanja europskoga poretka stvorenoga na Bečkome kongresu nazivao se</p> <p>_____.</p>	<p>0 <input type="checkbox"/></p> <p>1 <input type="checkbox"/></p> <p>bod</p>
<p><b>27.</b> Djelo <i>O municipalnim pravima i statutima kraljevinâ Dalmacije, Hrvatske i Slavonije</i> napisao je _____.</p>	<p>0 <input type="checkbox"/></p> <p>1 <input type="checkbox"/></p> <p>bod</p>
<p><b>28.</b> Vanjsko-političke odnose SAD-a između dvaju svjetskih ratova obilježila je politika</p> <p>_____.</p>	<p>0 <input type="checkbox"/></p> <p>1 <input type="checkbox"/></p> <p>bod</p>
<p><b>29.</b> Rezolucija Seljačko demokratske koalicije iz 1932. godine u kojoj je osuđena diktatura kralja Aleksandra naziva se</p> <p>_____.</p>	<p>0 <input type="checkbox"/></p> <p>1 <input type="checkbox"/></p> <p>bod</p>
<div>POV D-S007</div> <div>  <div>02</div> </div>	



# Povijest

**30.** Djelomično rješenje tzv. hrvatskoga pitanja 1939. godine bilo je osnivanje

\_\_\_\_\_.

0

☐

1

☐

bod

POV D-S007



02



# Povijest

## III. Zadatci višestrukoga izbora

U sljedećim zadacima između četiriju ponuđenih trebate odabrati jedan odgovor. Odgovore obilježite znakom X i obvezno ih prepisite na list za odgovore.

**31.** Koji niz određuje točan kronološki slijed razdoblja najranije grčke povijesti?

- A. mikenska kultura → doseljenje prvih grčkih plemena → doseljenje Dorana → „mračno doba”
- B. doseljenje prvih grčkih plemena → mikenska kultura → doseljenje Dorana → „mračno doba”
- C. doseljenje Dorana → mikenska kultura → doseljenje prvih grčkih plemena → „mračno doba”
- D. „mračno doba” → mikenska kultura → doseljenje prvih grčkih plemena → doseljenje Dorana

A. ☐  
B. ☐  
C. ☐  
D. ☐

**32.** Koji niz određuje točan uzročno-posljedični slijed društvenih procesa iz razdoblja kasne Rimske Republike?

- A. građanski ratovi → osvajajući ratovi → osiromašenje seljaštva → pojava plaćeničke vojske
- B. osvajajući ratovi → pojava plaćeničke vojske → građanski ratovi → osiromašenje seljaštva
- C. osiromašenje seljaštva → građanski ratovi → osvajajući ratovi → pojava plaćeničke vojske
- D. osvajajući ratovi → osiromašenje seljaštva → pojava plaćeničke vojske → građanski ratovi

A. ☐  
B. ☐  
C. ☐  
D. ☐

POV D-S007



02

# Povijest

**33.** Koji niz određuje točan kronološki slijed događaja iz doba reformacije i protureformacijskoga pokreta?

- A. Tridesetogodišnji rat → objava Lutherovih 95 teza → Westfalski mir → Tridentski koncil
- B. Westfalski mir → objava Lutherovih 95 teza → Tridesetogodišnji rat → Tridentski koncil
- C. objava Lutherovih 95 teza → Tridesetogodišnji rat → Tridentski koncil → Westfalski mir
- D. Tridentski koncil → objava Lutherovih 95 teza → Tridesetogodišnji rat → Westfalski mir

A.

B.

C.

D.

**34.** Koji niz određuje točan kronološki slijed nastanka spomenika hrvatskoga srednjovjekovlja?

- A. Eufrazijeva bazilika → sarkofag kraljice Jelene → Vinodolski zakon → Misal po zakonu rimskoga dvora
- B. Vinodolski zakon → Eufrazijeva bazilika → Misal po zakonu rimskoga dvora → sarkofag kraljice Jelene
- C. sarkofag kraljice Jelene → Vinodolski zakon → Eufrazijeva bazilika → Misal po zakonu rimskoga dvora
- D. Misal po zakonu rimskoga dvora → Vinodolski zakon → sarkofag kraljice Jelene → Eufrazijeva bazilika

A.

B.

C.

D.

POV D-S007



01

# Povijest

**35.** Koji niz određuje točan kronološki slijed zbivanja tijekom Francuske revolucije?

- A. pad Bastille → Francuska postala ustavna monarhija → Konvent proglasio uspostavu republike → jakobinska diktatura
- B. pad Bastille → Francuska postala ustavna monarhija → jakobinska diktatura → Konvent proglasio uspostavu republike
- C. pad Bastille → jakobinska diktatura → Francuska postala ustavna monarhija → Konvent proglasio uspostavu republike
- D. Francuska postala ustavna monarhija → pad Bastille → jakobinska diktatura → Konvent proglasio uspostavu republike

A.

B.

C.

D.

**36.** Koji niz određuje točan kronološki slijed razvoja stranačkoga života u Banskoj Hrvatskoj?

- A. Samostalna narodna stranka → Horvatsko-vugerska stranjka → Stranka prava → Socijaldemokratska stranka Hrvatske i Slavonije
- B. Stranka prava → Samostalna narodna stranka → Horvatsko-vugerska stranjka → Socijaldemokratska stranka Hrvatske i Slavonije
- C. Horvatsko-vugerska stranjka → Stranka prava → Samostalna narodna stranka → Socijaldemokratska stranka Hrvatske i Slavonije
- D. Stranka prava → Horvatsko-vugerska stranjka → Samostalna narodna stranka → Socijaldemokratska stranka Hrvatske i Slavonije

A.

B.

C.

D.

POV D-S007



01



# Povijest

**37.** Koji niz opisuje uzročno-posljedični slijed događaja tijekom velike gospodarske krize u SAD-u?

- A.** New Deal → pad vrijednosti dionica → zasićenost tržišta nekretnina i proizvoda → otpuštanja radnika
- B.** pad vrijednosti dionica → New Deal → otpuštanja radnika → zasićenost tržišta nekretnina i proizvoda
- C.** zasićenost tržišta nekretnina i proizvoda → pad vrijednosti dionica → otpuštanja radnika → New Deal
- D.** otpuštanja radnika → zasićenost tržišta nekretnina i proizvoda → pad vrijednosti dionica → New Deal

**A.**

☐

**B.**

☐

**C.**

☐

**D.**

☐

POV D-S007



01





# Povijest

## IV. Zadatci povezivanja i sređivanja

U sljedećim zadatcima svakoj čestici pitanja označenoj brojem pridružite odgovarajuću česticu odgovora označenu slovom.

Odgovore obilježite znakom X i obvezno ih prepisite na list za odgovore.

**38.** Atenskim reformatorima pridružite njihova postignuća.

1. Drakon
2. Klisten
3. Periklo
4. Solon

- A. uveo ostrakizam
- B. zapisao zakone običajnog prava
- C. uveo tiranidu
- D. uveo timokraciju
- E. ukinuo demokraciju
- F. uveo plaće za obavljanje državnih službi

	A.	B.	C.	D.	E.	F.
1.	<input type="checkbox"/>	<input type="checkbox"/>	<input type="checkbox"/>	<input type="checkbox"/>	<input type="checkbox"/>	<input type="checkbox"/>
2.	<input type="checkbox"/>	<input type="checkbox"/>	<input type="checkbox"/>	<input type="checkbox"/>	<input type="checkbox"/>	<input type="checkbox"/>
3.	<input type="checkbox"/>	<input type="checkbox"/>	<input type="checkbox"/>	<input type="checkbox"/>	<input type="checkbox"/>	<input type="checkbox"/>
4.	<input type="checkbox"/>	<input type="checkbox"/>	<input type="checkbox"/>	<input type="checkbox"/>	<input type="checkbox"/>	<input type="checkbox"/>


POV D-S007



05

# Povijest

39. Likovima grčkih bogova prikazanih na slikama pridružite njihova imena.



1.



2.



3.



4.

- A. Afrodita
- B. Atena
- C. Demetra
- D. Dioniz
- E. Eros
- F. Zeus

	A.	B.	C.	D.	E.	F.
1.	<input type="checkbox"/>	<input type="checkbox"/>	<input type="checkbox"/>	<input type="checkbox"/>	<input type="checkbox"/>	<input type="checkbox"/>
2.	<input type="checkbox"/>	<input type="checkbox"/>	<input type="checkbox"/>	<input type="checkbox"/>	<input type="checkbox"/>	<input type="checkbox"/>
3.	<input type="checkbox"/>	<input type="checkbox"/>	<input type="checkbox"/>	<input type="checkbox"/>	<input type="checkbox"/>	<input type="checkbox"/>
4.	<input type="checkbox"/>	<input type="checkbox"/>	<input type="checkbox"/>	<input type="checkbox"/>	<input type="checkbox"/>	<input type="checkbox"/>

POV D-S007



05

# Povijest

40. Pozorno promotrite povijesni zemljovid koji prikazuje razmještaj ilirskih plemena. Prostorima obilježenima brojevima od 1 do 4 pridružite ilirska plemena.



- A. Ardijejci
- B. Delmati
- C. Histri
- D. Japodi
- E. Liburni
- F. Skordisci

	A.	B.	C.	D.	E.	F.
1.						
2.						
3.						
4.						

41. Državama pridružite dinastije koje su njima vladale.

- 1. Bizant
- 2. Francuska
- 3. Poljska
- 4. Ugarska

- A. Hohenzollern
- B. Komneni
- C. Pjastovići
- D. Arpadovići
- E. Tudor
- F. Valois

	A.	B.	C.	D.	E.	F.
1.						
2.						
3.						
4.						

POV D-S007



05

# Povijest

- 42.** Pozorno promotrite povijesni zemljovid koji prikazuje područja vlasti hrvatskih velikaških obitelji. Prostorima obilježenima brojevima od 1 do 4 pridružite imena plemićkih obitelji.



- A. Babonići  
B. brijunski knezovi Šubići  
C. Celjski  
D. krčki knezovi Frankopani  
E. Kurjakovići  
F. Nelipići

	A.	B.	C.	D.	E.	F.
1.						
2.						
3.						
4.						

- 43.** Imenima umjetnika pridružite njihova djela.

1. Andrija Buvina  
2. Juraj Dalmatinac  
3. majstor Radovan  
4. Onofrio de la Cava

- A. crkva sv. Stošije u Zadru  
B. portal katedrale u Trogiru  
C. šibenska katedrala  
D. portal katedrale u Splitu  
E. Knežev dvor u Dubrovniku  
F. zagrebačka katedrala

	A.	B.	C.	D.	E.	F.
1.						
2.						
3.						
4.						

POV D-S007



05

# Povijest

44. Prometnicama 19. i početka 20. stoljeća pridružite njihova politička značenja.

1. Panamski kanal
2. Sueski kanal
3. Transkontinentalna željeznica
4. Transsibirska željeznica

- A. britanska industrijalizacija
- B. britanski kolonijalizam
- C. imperijalizam SAD-a
- D. industrijalizacija SAD-a
- E. ruski imperijalizam
- F. njemački kolonijalizam

	A.	B.	C.	D.	E.	F.
1.	<input type="checkbox"/>	<input type="checkbox"/>	<input type="checkbox"/>	<input type="checkbox"/>	<input type="checkbox"/>	<input type="checkbox"/>
2.	<input type="checkbox"/>	<input type="checkbox"/>	<input type="checkbox"/>	<input type="checkbox"/>	<input type="checkbox"/>	<input type="checkbox"/>
3.	<input type="checkbox"/>	<input type="checkbox"/>	<input type="checkbox"/>	<input type="checkbox"/>	<input type="checkbox"/>	<input type="checkbox"/>
4.	<input type="checkbox"/>	<input type="checkbox"/>	<input type="checkbox"/>	<input type="checkbox"/>	<input type="checkbox"/>	<input type="checkbox"/>

45. Predstavnicima hrvatskoga narodnoga preporoda pridružite njihove doprinose.

1. Antun Mihanović
2. Janko Drašković
3. Ljudevit Gaj
4. Sidonija Rubido

- A. autorstvo pjesme *Horvatska domovina*
- B. sudjelovanje u izvedbi prve hrvatske opere *Ljubav i zloba*
- C. osnutak *Hrvatsko-slavonskoga gospodarskoga društva*
- D. autorstvo političkoga programa *Disertacija*
- E. osnutak *Društva za jugoslavensku povjesnicu i starine*
- F. pokretanje *Novina horvatzkih*

	A.	B.	C.	D.	E.	F.
1.	<input type="checkbox"/>	<input type="checkbox"/>	<input type="checkbox"/>	<input type="checkbox"/>	<input type="checkbox"/>	<input type="checkbox"/>
2.	<input type="checkbox"/>	<input type="checkbox"/>	<input type="checkbox"/>	<input type="checkbox"/>	<input type="checkbox"/>	<input type="checkbox"/>
3.	<input type="checkbox"/>	<input type="checkbox"/>	<input type="checkbox"/>	<input type="checkbox"/>	<input type="checkbox"/>	<input type="checkbox"/>
4.	<input type="checkbox"/>	<input type="checkbox"/>	<input type="checkbox"/>	<input type="checkbox"/>	<input type="checkbox"/>	<input type="checkbox"/>

POV D-S007



05

# Povijest

46. Hrvatskim gradovima pridružite njihova gospodarska značenja tijekom 19. stoljeća.

1. Pag
2. Pula
3. Rovinj
4. Zadar

- A. ratno brodogradilište
- B. solana
- C. rudnik ugljena
- D. tvornica duhana
- E. *Prva pučka dalmatinska banka*
- F. tvornica maraskina

	A.	B.	C.	D.	E.	F.
1.	<input type="checkbox"/>	<input type="checkbox"/>	<input type="checkbox"/>	<input type="checkbox"/>	<input type="checkbox"/>	<input type="checkbox"/>
2.	<input type="checkbox"/>	<input type="checkbox"/>	<input type="checkbox"/>	<input type="checkbox"/>	<input type="checkbox"/>	<input type="checkbox"/>
3.	<input type="checkbox"/>	<input type="checkbox"/>	<input type="checkbox"/>	<input type="checkbox"/>	<input type="checkbox"/>	<input type="checkbox"/>
4.	<input type="checkbox"/>	<input type="checkbox"/>	<input type="checkbox"/>	<input type="checkbox"/>	<input type="checkbox"/>	<input type="checkbox"/>

47. Politikama ili ideologijama pridružite njihova značenja.

1. cionizam
2. „konačno rješenje”
3. petoljetka
4. prohibicija

- A. sovjetski gospodarski program
- B. istrjebljenje Židova
- C. zabrana useljavanja Židova
- D. obnova židovske države
- E. zabrana proizvodnje i konzumacije alkohola
- F. zabrana miješanja u vanjske poslove

	A.	B.	C.	D.	E.	F.
1.	<input type="checkbox"/>	<input type="checkbox"/>	<input type="checkbox"/>	<input type="checkbox"/>	<input type="checkbox"/>	<input type="checkbox"/>
2.	<input type="checkbox"/>	<input type="checkbox"/>	<input type="checkbox"/>	<input type="checkbox"/>	<input type="checkbox"/>	<input type="checkbox"/>
3.	<input type="checkbox"/>	<input type="checkbox"/>	<input type="checkbox"/>	<input type="checkbox"/>	<input type="checkbox"/>	<input type="checkbox"/>
4.	<input type="checkbox"/>	<input type="checkbox"/>	<input type="checkbox"/>	<input type="checkbox"/>	<input type="checkbox"/>	<input type="checkbox"/>

POV D-S007



05

# Povijest

**48.** Dobitnicima Nobelove nagrade pridružite područja na kojima su se istaknuli.

1. Majka Tereza
2. Marie Curie
3. Robert Koch
4. Thomas Mann

- A. ekonomija
- B. astronomija
- C. kemija
- D. književnost
- E. medicina
- F. mir

	A.	B.	C.	D.	E.	F.
1.	<input type="checkbox"/>	<input type="checkbox"/>	<input type="checkbox"/>	<input type="checkbox"/>	<input type="checkbox"/>	<input type="checkbox"/>
2.	<input type="checkbox"/>	<input type="checkbox"/>	<input type="checkbox"/>	<input type="checkbox"/>	<input type="checkbox"/>	<input type="checkbox"/>
3.	<input type="checkbox"/>	<input type="checkbox"/>	<input type="checkbox"/>	<input type="checkbox"/>	<input type="checkbox"/>	<input type="checkbox"/>
4.	<input type="checkbox"/>	<input type="checkbox"/>	<input type="checkbox"/>	<input type="checkbox"/>	<input type="checkbox"/>	<input type="checkbox"/>

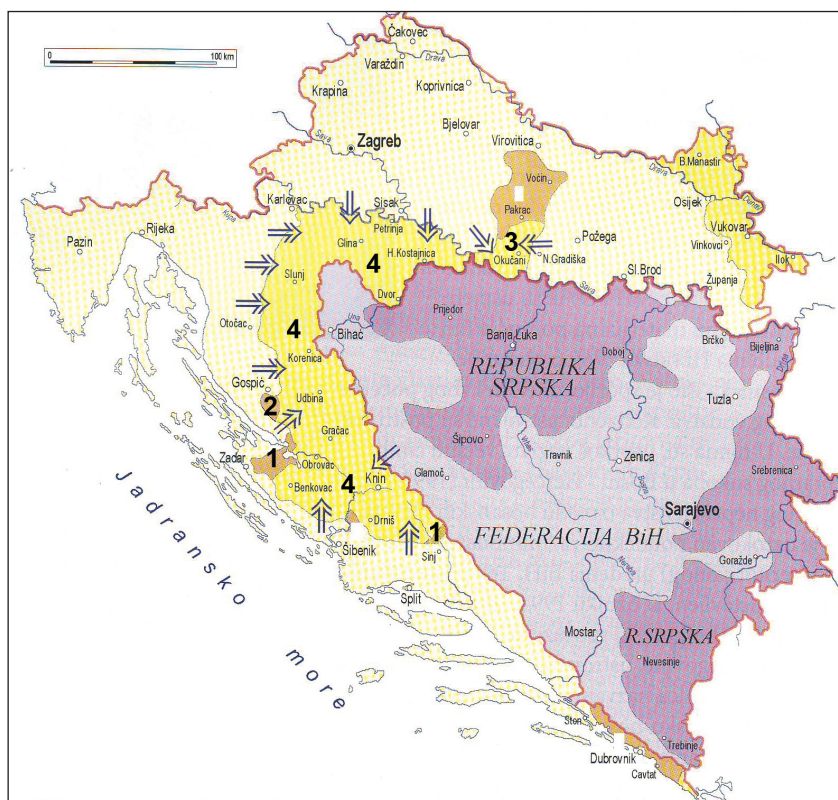
POV D-S007



05

# Povijest

49. Pozorno promotrite zemljovid oslobodilačkih akcija tijekom Domovinskoga rata. Prostorima obilježenima brojevima od 1 do 4 pridružite nazive vojno-redarstvenih operacija.



- A. Bljesak  
B. Južno bojište  
C. Maslenica i Peruća  
D. Medački džep  
E. Miljevačko blato  
F. Oluja

	A.	B.	C.	D.	E.	F.
1.						
2.						
3.						
4.						

POV D-S007



05



# Povijest

**50.** Razdobljima pridružite događaje koji su ih obilježili.

1. razdoblje Kraljevstva SHS
  2. razdoblje Vidovdanskih ustava
  3. razdoblje kralja Aleksandra
  4. razdoblje kneza Pavla
- 
- A. osnivanje Jugoslavenskoga odbora
  - B. prosvjedi i petoprosinačke žrtve
  - C. podjela države na banovine
  - D. stvaranje Seljačko-demokratske koalicije (SDK)
  - E. potpisivanje sporazuma Cvetković-Maček
  - F. osnivanje Sisačkoga partizanskoga odreda

	A.	B.	C.	D.	E.	F.
1.	<input type="checkbox"/>	<input type="checkbox"/>	<input type="checkbox"/>	<input type="checkbox"/>	<input type="checkbox"/>	<input type="checkbox"/>
2.	<input type="checkbox"/>	<input type="checkbox"/>	<input type="checkbox"/>	<input type="checkbox"/>	<input type="checkbox"/>	<input type="checkbox"/>
3.	<input type="checkbox"/>	<input type="checkbox"/>	<input type="checkbox"/>	<input type="checkbox"/>	<input type="checkbox"/>	<input type="checkbox"/>
4.	<input type="checkbox"/>	<input type="checkbox"/>	<input type="checkbox"/>	<input type="checkbox"/>	<input type="checkbox"/>	<input type="checkbox"/>

POV D-S007



05

# Povijest

## V. Zadatci kratkih odgovora

U sljedećim zadacima proučite povijesne izvore i odgovorite na postavljena pitanja. Odgovore upišite na predviđeno mjesto u ovoj knjižici. Ne popunjavajte prostor za bodovanje.

**51.** Pročitajte povijesni izvor iz 2. stoljeća.

*Blandinu su objesili o neki stup, te je trebalo da posluži za hranu divljim zvijerima koje su pustili na nju. Kako je ona bila svezana u obliku križa, ulijevala je borcima, pobožno se moleći, osobitu hrabrost, jer su oni, boreći se, u sestri vidjeli onoga koji je za njih bio pribijen na križ. Kad nijedna divlja životinja nije htjela dimnuti Blandinu, odvezaše je od stupa i ponovno baciše u tamnicu da bi je sačuvali za novu borbu.*

**51.1.** O progonima i mukama koje društveno-vjerske skupine govori izvor?

0

1

bod

**51.2.** Kako su se nazivale građevine u kojima su se odvijali opisani događaji?

0

1

bod

POV D-S007



02



# Povijest

**51.3.** U doba kojega su rimskoga cara progoni te društveno-vjerske skupine bili najmasovniji?

\_\_\_\_\_

0

☐

1

☐

bod

POV D-S007



02

# Povijest

52. Pozorno promotrite fotografiju.



52.1. Čijoj kulturnoj ostavštini pripada spomenik s fotografije?

0

☐

1

☐

bod

52.2. U kojem se hrvatskome gradu nalazi taj spomenik?

0

☐

1

☐

bod

52.3. U kojem je stoljeću nastao taj spomenik?

0

☐

1

☐

bod

POV D-S007



02

# Povijest

**53.** Pročitajte dijelove izvornoga povijesnoga teksta i odgovorite na postavljena pitanja.

(...)

21. *Stoga se varaju navjesnici oprosta kad vele da će čovjek po papinskom oprostu biti prost od svih muka i blažen.*

27. *Tko kaže da će duša onaj trenutak seliti iz čistilišta čim groš padne u škrinjicu i zazveči, taj propovijeda trice i kučine.*

32. *Tko drži da je oprosnim pismima siguran za svoje blaženstvo, taj će zajedno sa svojim učiteljima otići do bijesa.*

62. *Pravo, istinito blago Crkve jest sveto Evanđelje veličanstva i milosti Božje.*

(...)

**53.1.** Kako se zove autor teksta?

\_\_\_\_\_

0

☐

1

☐

bod

**53.2.** Koje je godine nastao taj tekst?

\_\_\_\_\_

0

☐

1

☐

bod

**53.3.** Kako se naziva pokret koji započinje objavom toga teksta?

\_\_\_\_\_

0

☐

1

☐

bod

POV D-S007



02

# Povijest

54. Pozorno proučite shemu.



54.1. Kako se naziva društveno uređenje u kojem je posjed bio podijeljen na način prikazan na shemi?

\_\_\_\_\_

0 ☐  
1 ☐

bod

54.2. Kako se naziva dio posjeda obilježen brojem 1?

\_\_\_\_\_

0 ☐  
1 ☐

bod

54.3. Kako se naziva dio posjeda obilježen brojem 2?

\_\_\_\_\_

0 ☐  
1 ☐

bod

POV D-S007



02

# Povijest

55. Pozorno promotrite povijesni izvor prikazan na slici.



55.1. Kako se naziva spomenik prikazan na slici?

\_\_\_\_\_

0 ☐  
1 ☐

bod

55.2. Ime kojega vladara se spominje na spomeniku?

\_\_\_\_\_

0 ☐  
1 ☐

bod

55.3. Kojim je pismom pisan spomenik?

\_\_\_\_\_

0 ☐  
1 ☐

bod

POV D-S007



02

# Povijest

**56.** Pozorno promotrite karikaturu s kraja 19. stoljeća.



**56.1.** Koju državu dijele likovi prikazani na karikaturi?

\_\_\_\_\_

0

☐

1

☐

bod

**56.2.** Kako se naziva vanjska politika 19. stoljeća koju provode države simbolizirane likovima na karikaturi?

\_\_\_\_\_

0

☐

1

☐

bod

**56.3.** Kako se naziva ustanak naroda te države protiv navedene politike?

\_\_\_\_\_

0

☐

1

☐

bod

POV D-S007



02



# Povijest

57. Pozorno promotrite sliku.



57.1. Koje je godine objavljen letak prikazan na slici?

0

1

bod

57.2. Koji je jezik, u vrijeme objave toga letka, Sabor proglasio službenim u Hrvatskoj i Slavoniji?

0

1

bod

57.3. Koji je jezik dotada bio službeni u Hrvatskoj i Slavoniji?

0

1

bod

POV D-S007



02

# Povijest

**58.** Pozorno pročitajte povijesni izvor.

*Kad smo došli na Jelačićev trg, poredali smo se u okrug pred spomenikom. Oni, koji su bili najbliži, podigli su zastavu na sablje, drugi su polijali žestom, a treći zapalili, a svi smo pokliknuli: „Živio hrvatski kralj Franjo Josip I.! Slava Jelačiću! Abcug Magjari!” (...) Poslije svršenog čina vratili smo se u uzornom redu na sveučilište i tu se je predložilo, da mi, kao što smo na svakom mjestu pokazali vjernost i lojalnost kralju, i prije odlazka Nj. Vel. predamo njemu lovor-vijenac sa nadpisom: „Hrvatski sveučilišni građani svome hrvatskome kralju poslije prosvjeda proti supremaciji Magjara.”*

**58.1.** O kojem povijesnome događaju govori izvor?

\_\_\_\_\_

0

☐

1

☐

bod

**58.2.** Koje se godine dogodio taj događaj?

\_\_\_\_\_

0

☐

1

☐

bod

**58.3.** Protiv politike kojega je bana bio usmjeren taj događaj?

\_\_\_\_\_

0

☐

1

☐

bod

POV D-S007



02

# Povijest

**59.** Pozorno pročitajte tekst.

*Dosadašnja ustavna odredba o „srpskohrvatskom odnosno hrvatskosrpskom jeziku” svojom nepreciznošću omogućuje da se u praksi ta dva usporedna naziva shvate kao sinonimi, a ne kao temelj za ravnopravnost i hrvatskog i srpskog književnog jezika, jednako među sobom, kao i u odnosu prema jezicima ostalih jugoslavenskih naroda. Takva nejasnoća omogućuje da se u primjeni srpski književni jezik silom stvarnosti nameće kao jedinstven jezik za Srbe i Hrvate. Da je stvarnost zaista takva, dokazuju mnogobrojni primjeri, a među njima kao najnoviji nedavni Zaključci pete skupštine Saveza kompozitora Jugoslavije. Ti su zaključci objavljeni usporedno u srpskoj, slovenskoj i makedonskoj verziji kao da hrvatskoga književnoga jezika uopće nema ili kao da je istovjetan sa srpskim književnim jezikom.*

**59.1.** O kojem je povijesnome dokumentu ovdje riječ?

\_\_\_\_\_

0

☐

1

☐

bod

**59.2.** Koje je godine objavljen?

\_\_\_\_\_

0

☐

1

☐

bod

**59.3.** Kako se naziva časopis u kojem je objavljen?

\_\_\_\_\_

0

☐

1

☐

bod

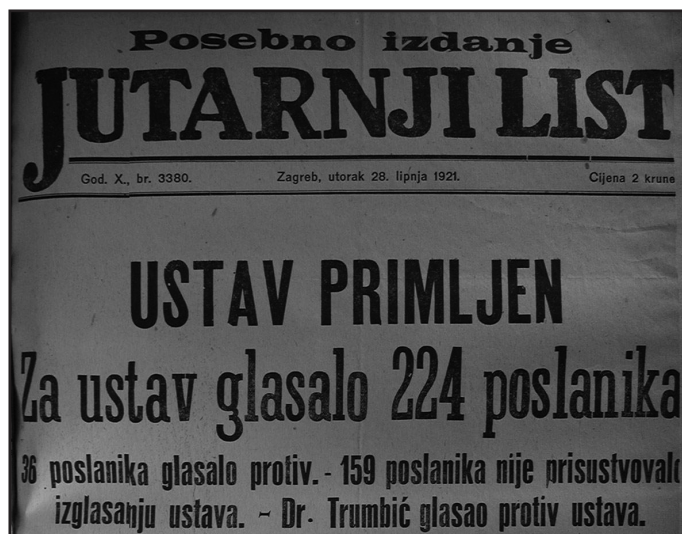
POV D-S007



02

# Povijest

60. Pozorno promotrite povijesni izvor.



60.1. Kako se naziva ustav čije prihvaćanje objavljuju ove novine?

\_\_\_\_\_

0 ☐  
1 ☐

bod

60.2. Kako se naziva država čiji je to ustav?

\_\_\_\_\_

0 ☐  
1 ☐

bod

60.3. Na koliko teritorijalnih jedinica je taj ustav podijelio državu?

\_\_\_\_\_

0 ☐  
1 ☐

bod

POV D-S007



# Povijest

Prazna stranica

POV D-S007



99

# Povijest

Prazna stranica

POV D-S007



99

# Povijest

Prazna stranica

POV D-S007



99

# Povijest

Prazna stranica

POV D-S007



99