



NACIONALNI CENTAR ZA VANJSKO  
VREDNOVANJE OBRAZOVANJA

Identifikacijska  
naljepnica

PAŽLJIVO NALIJEPI

# GEOGRAFIJA

Ispitna knjižica 2

GEO IK-2 D-S009

GEO.09.HR.R.K2.24



0206



12

# Geografija

Prazna stranica

GEO IK-2 D-S009



99

## UPUTE

Pozorno slijedite sve upute.

Ne okrećite stranicu i ne rješavajte ispit dok to ne odobri dežurni nastavnik.

Nalijepite identifikacijske naljepnice na sve ispitne materijale koje ste dobili u sigurnosnoj vrećici.

Ispit traje 90 minuta bez stanke.

Zadatci se nalaze u dvjema ispitnim knjižicama.

Redoslijed rješavanja birajte sami.

Dobro rasporedite vrijeme kako biste mogli riješiti sve zadatke.

Ispred svake skupine zadataka je uputa za njihovo rješavanje.

Pozorno ju pročitajte.

Odgovore treba upisati samo na predviđeno mjesto u ovoj knjižici.

Pišite jasno i čitko. Nečitki odgovori bodovat će se s nula (0) bodova.

Tijekom pisanja ispita dopušteno je rabiti kemijsku olovku plave ili crne boje.

Kada riješite ispit, provjerite svoje odgovore.

Želimo Vam puno uspjeha!

Ova ispitna knjižica ima 24 stranice, od toga 3 prazne.

Ako ste pogriješili prilikom pisanja odgovora, ispravljate ovako:

a) zadatak zatvorenog tipa

Dobro



Ispravljanje pogrešnog unosa



Loše



Prepisani točan odgovor



Paraf (skraćeni potpis)

b) zadatak otvorenog tipa

~~(Marko Marulić)~~

Petar Preradović



Precrtan netočan odgovor u zagradama

Točan odgovor

Paraf (skraćeni potpis)

GEO IK-2 D-S009



99

# Geografija

## V. Zadatci dopunjavanja i kratkog odgovora

U sljedećim zadatcima dopunite rečenice i popunite tablice upisivanjem pojmova koji nedostaju te upišite u kartu tražene brojeve i oznake.

U zadatcima s računanjem potrebno je prikazati i postupak.

Ne popunjavajte prostor za bodovanje.

41. S priloženog isječka topografske karte precrtajte odgovarajuće topografske znakove.



41.1. spilja \_\_\_\_\_

41.2. kota (najviša točka na isječku) \_\_\_\_\_

41.3. crkva \_\_\_\_\_

0

2

bod

0

2

bod

0

2

bod

GEO IK-2 D-S009



02



# Geografija

**42.** S koliko je centimetara na *Osnovnoj državnoj karti* prikazana udaljenost iz prirode od jednog kilometra?

Prostor za računanje:

Odgovor: \_\_\_\_\_ cm

0   
2   
bod

**43.** Koje države Europe imaju isto zonalno vrijeme kao i Ujedinjeno Kraljevstvo?

Isto zonalno vrijeme je u

\_\_\_\_\_.

0   
2   
bod

GEO IK-2 D-S009

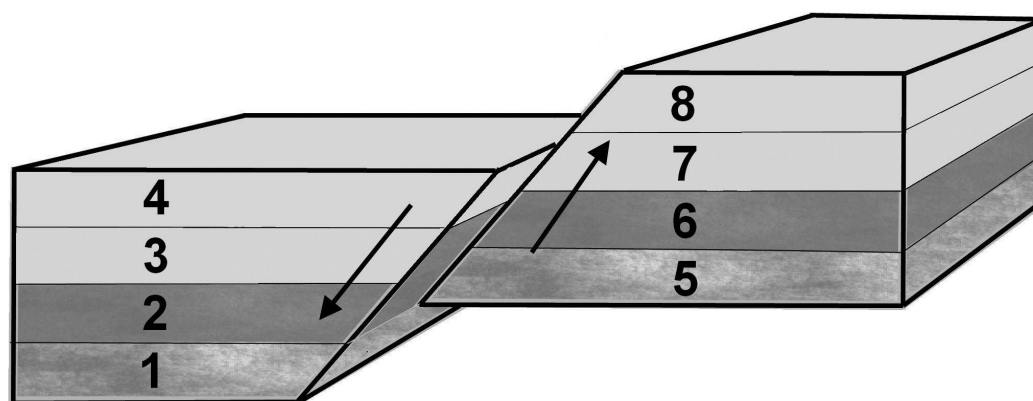


02



# Geografija

44. Sljedeće zadatke riješite s pomoću priložene skice rasjeda.



44.1. U uvjetima normalne slojevitosti topografska podina na podinskom krilu  
označena je brojem \_\_\_\_\_.

44.2. U uvjetima normalne slojevitosti stratigrafska podina na krovinskom krilu  
označena je brojem \_\_\_\_\_, a stratigrafska krovina brojem \_\_\_\_\_.

0

☐

2

☐

bod

0

☐

1

☐

2

☐

bod

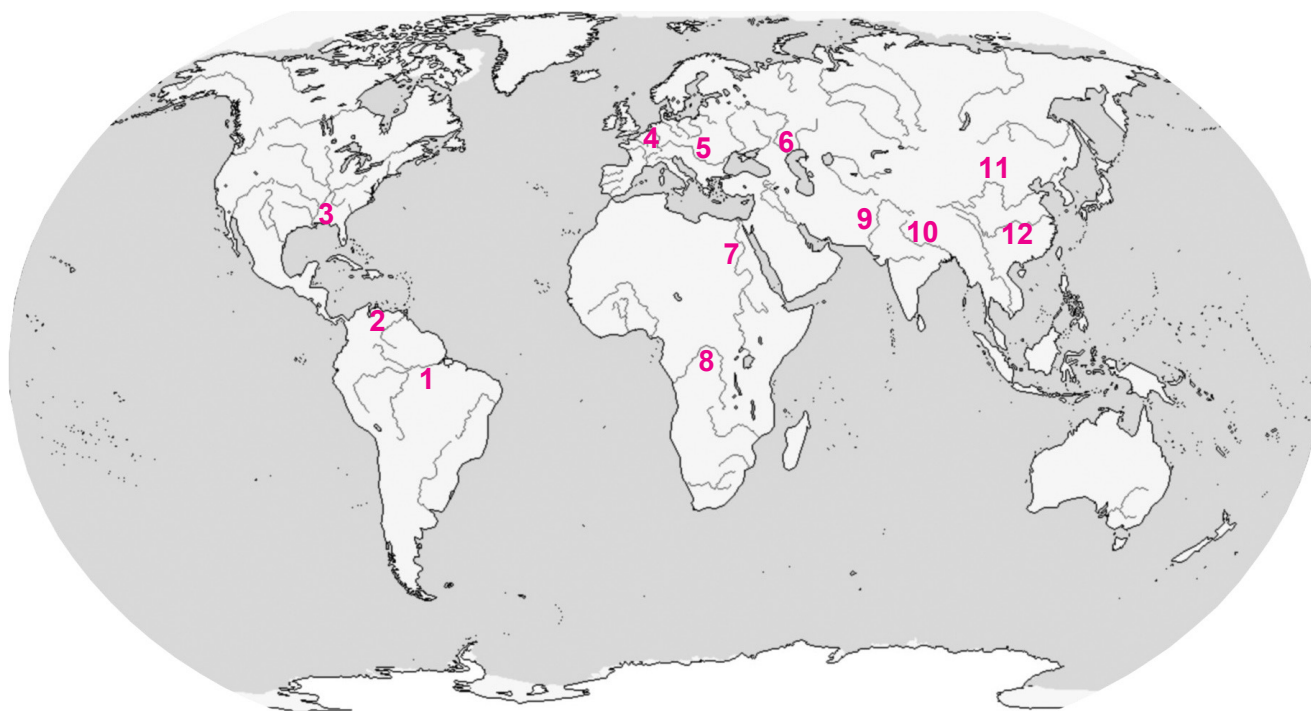
GEO IK-2 D-S009



02

# Geografija

45. Sljedeće zadatke riješite analizom priložene geografske karte svijeta na kojoj su brojevima od 1 do 12 označene odabrane rijeke.



Upišite u tablicu imena opisanih rijeka i njihove brojeve s geografske karte.

Opis rijeke	Ime rijeke	Broj
45.1. izvorišni krak je odvirak jezera Tana		
45.2. u porječju su arheološka nalazišta Harapa i Mohenjo Daro		
45.3. plovna za oceanske brodove do luke Manaus		

0

2

bod

0

2

bod

0

2

bod

GEO IK-2 D-S009



02



# Geografija

- 46.** Neko je naselje prema popisu stanovništva 2001. godine imalo 45 000 stanovnika. U posljednjem međupopisnom razdoblju natalitet je iznosio 625 osoba godišnje, a mortalitet 360 osoba godišnje. U istom je međupopisnom razdoblju u naselje uselilo 30 000 stanovnika, a iz naselja je iselilo 14 000 stanovnika. Izračunajte broj stanovnika tog naselja 2011. godine.

Prostor za računanje:

Odgovor: \_\_\_\_\_

0

2

bod

GEO IK-2 D-S009

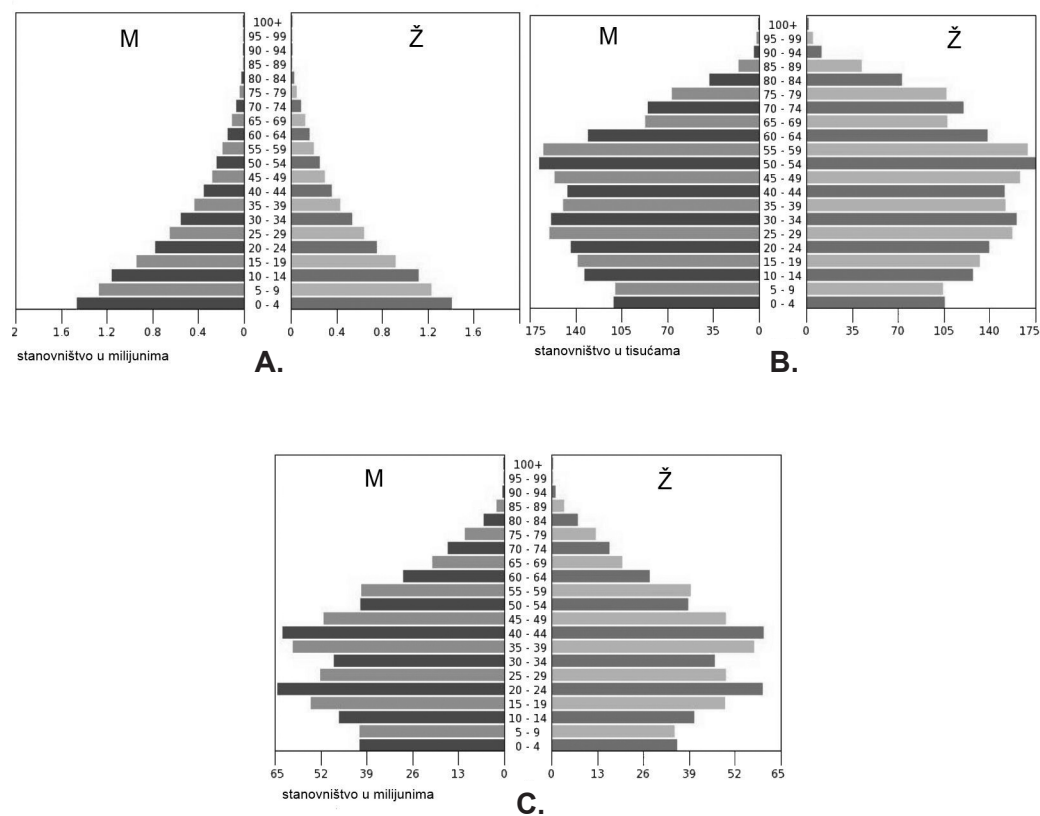


02



# Geografija

47. Prema prikazanim dobno-spolnim strukturama stanovništva odabranih država dopunite sljedeće rečenice.



47.1. Mirovinski fondovi najopterećeniji su u državi čija je dobno-spolna struktura stanovništva označena slovom \_\_\_\_\_.

47.2. Najviše stope nataliteta u budućnosti mogu se očekivati u državi čija je dobno-spolna struktura stanovništva označena slovom \_\_\_\_\_.

47.3. Najviše stope mortaliteta mogu se očekivati u državi čija je dobno-spolna struktura stanovništva označena slovom \_\_\_\_\_.

47.4. Dobno-spolna struktura stanovništva Kine je na prikazu označena slovom \_\_\_\_\_.

0 ☐  
1 ☐  
bod

0 ☐  
1 ☐  
bod

0 ☐  
1 ☐  
bod

0 ☐  
1 ☐  
bod

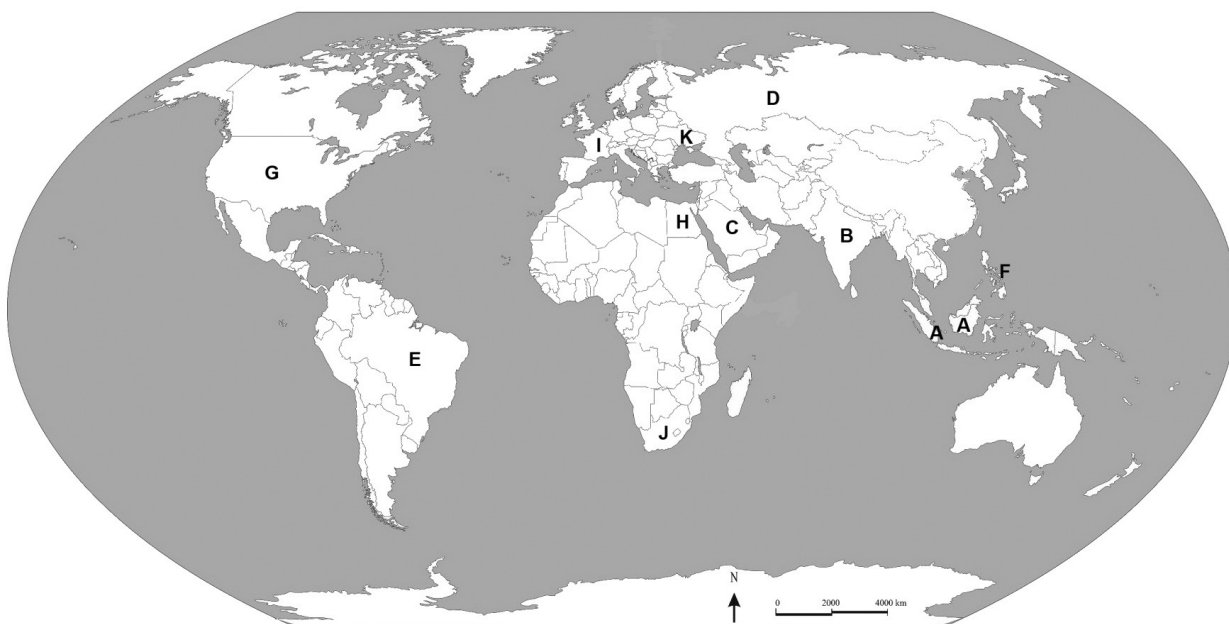
GEO IK-2 D-S009



02

# Geografija

48. Sljedeće zadatke riješite analizom priložene geografske karte svijeta na kojoj su slovima od A do K označene odabrane države.



48.1. Kojim je slovom označena država u kojoj je nastao islam? \_\_\_\_\_

48.2. Koje je ime azijske države u kojoj su katolici najbrojnija vjerska zajednica? \_\_\_\_\_

48.3. Kojim je slovom označena država s najvećim brojem muslimana na svijetu? \_\_\_\_\_

0 ☐

2 ☐

bod

0 ☐

2 ☐

bod

0 ☐

2 ☐

bod

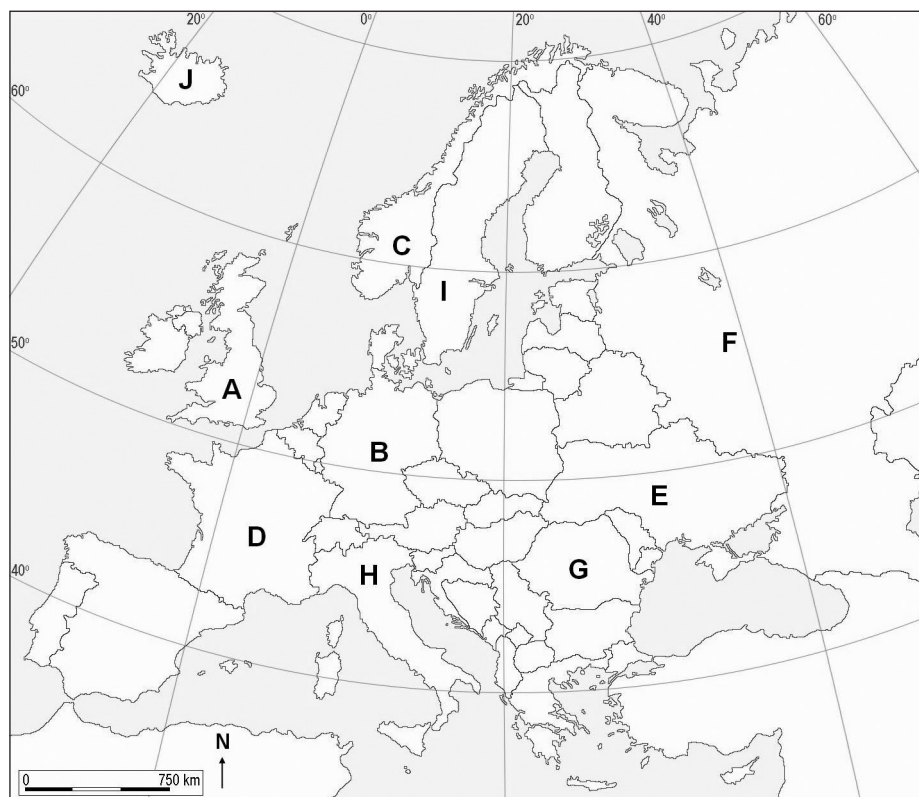
GEO IK-2 D-S009



02

# Geografija

**49.** Sljedeće zadatke riješite s pomoću priložene karte Europe na kojoj su slovima od **A** do **J** označene odabrane države.



**49.1.** Upišite slovo kojim je na karti označena država u kojoj je počeo razvoj suvremenog turizma. \_\_\_\_\_

**49.2.** Upišite slovo kojim je na karti označena najjača turistička emitivna država Europe u posljednjem desetljeću. \_\_\_\_\_

**49.3.** Upišite slovo kojim je na karti označena najjača turistička receptivna država Europe u posljednjem desetljeću. \_\_\_\_\_

0

2

bod

0

2

bod

0

2

bod

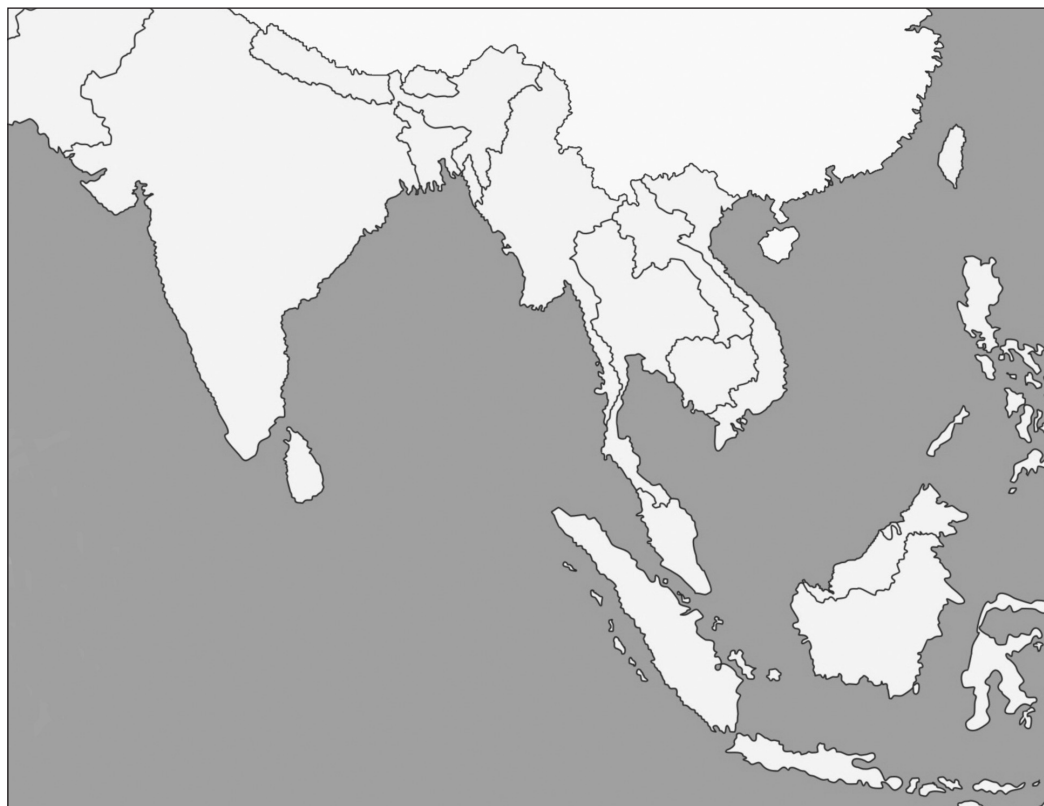
GEO IK-2 D-S009



02

# Geografija

50. Sljedeće zadatke riješite s pomoću priložene geografske karte Azije.



U tablicu upišite današnja imena otoka te ih na karti označite pripadajućim brojevima.

	Kolonijalno ime	Današnje ime	Broj
50.1.	Borneo		1
50.2.	Cejlon		2
50.3.	Formoza		3
50.4.	Celebes		4

0 ☐  
1 ☐  
bod

0 ☐  
1 ☐  
bod

0 ☐  
1 ☐  
bod

0 ☐  
1 ☐  
bod

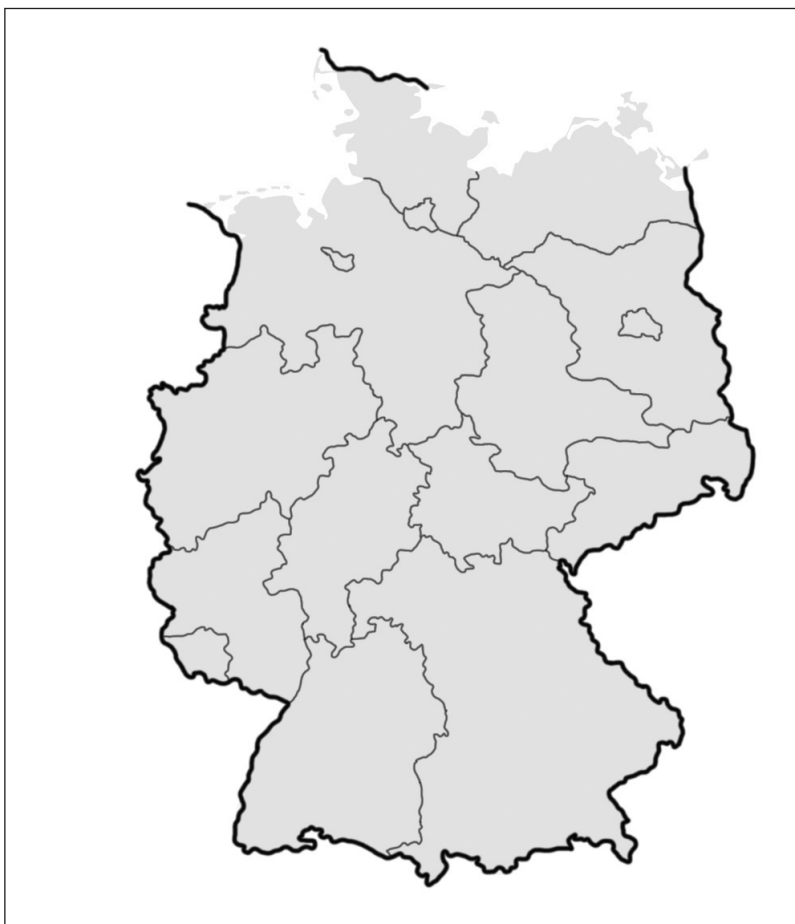
GEO IK-2 D-S009



02

# Geografija

**51.** Sljedeće zadatke riješite s pomoću priložene geografske karte njemačkih saveznih zemalja i saveznih gradova.



U priloženu geografsku kartu upišite odgovarajuće brojeve.

**51.1.** Upišite broj **1** u saveznu zemlju u kojoj se nalazi sjedište Europske središnje banke.

**51.2.** Upišite broj **2** u saveznu zemlju u kojoj se nalazi *Ballungsgebiet* Ruhr.

**51.3.** Upišite broj **3** u saveznu zemlju u kojoj se nalazi Stuttgart.

**51.4.** Upišite broj **4** u saveznu zemlju u kojoj se nalaze dva *Ballungsgebiete* i koja ujedno pripada skupini problemskih regija.

0 ☐  
1 ☐  
bod

0 ☐  
1 ☐  
bod

0 ☐  
1 ☐  
bod

0 ☐  
1 ☐  
bod

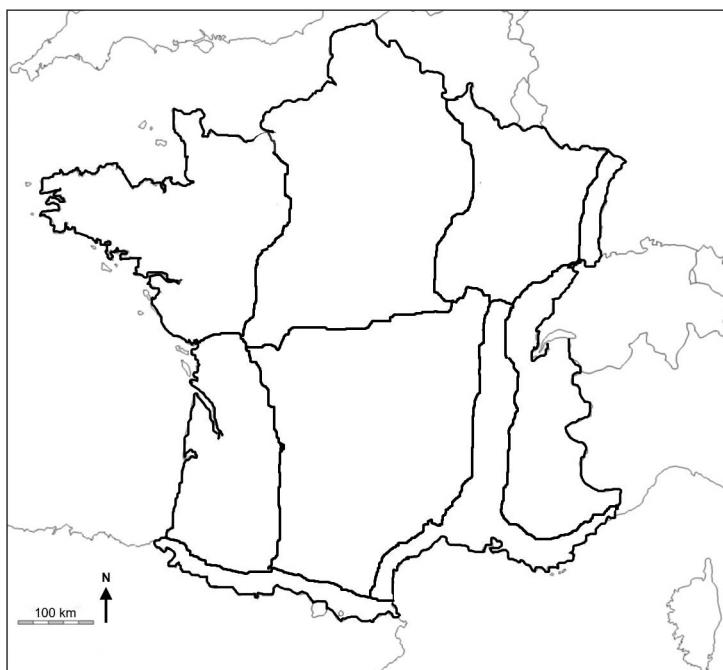
GEO IK-2 D-S009



02

# Geografija

**52.** Sljedeće zadatke riješite na priloženoj geografskoj karti Francuske.



**52.1.** Upišite broj **1** u regiju u kojoj se nalazi sjedište Europskog parlamenta.

**52.2.** Upišite broj **2** u regiju u kojoj se nalazi sjedište OECD-a.

**52.3.** Upišite broj **3** u regiju s najrazvijenijim zimskim turizmom.

0

2

bod

0

2

bod

0

2

bod

GEO IK-2 D-S009



02

# Geografija

53. Sljedeće zadatke riješite na priloženoj geografskoj karti Europe.



U priloženu geografsku kartu upišite odgovarajuće brojeve, a na crte u zadatcima nazive opisanih država.

**53.1.** Upišite broj **1** u državu članicu Europske unije s kojom Republika Hrvatska ima granicu na kopnu i na moru.

To je država \_\_\_\_\_.

**53.2.** Upišite broj **2** u brojem stanovnika najveću državu članicu Europske unije čiji službeni jezik pripada skupini romanskih jezika.

To je država \_\_\_\_\_.

**53.3.** Upišite broj **3** u državu članicu Europske unije čiji službeni jezik pripada skupini južnoslavenskih jezika, a zadnja je istupila iz CEFTA-e.

To je država \_\_\_\_\_.

**53.4.** Upišite broj **4** u državu članicu CEFTA-e s kojom Republika Hrvatska ima najdulju kopnenu granicu.

To je država \_\_\_\_\_.

0 ☐

1 ☐

bod

0 ☐

1 ☐

bod

0 ☐

1 ☐

bod

0 ☐

1 ☐

bod

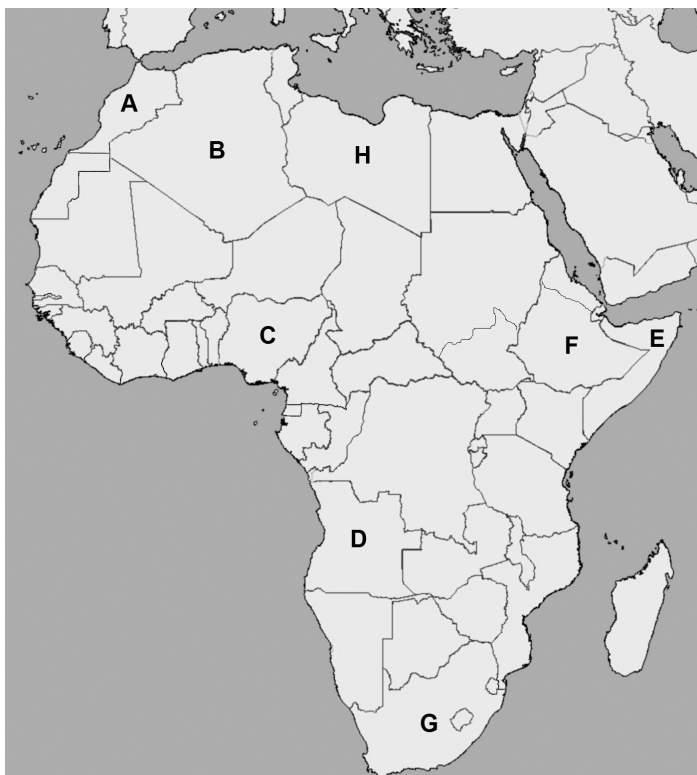
GEO IK-2 D-S009



02

# Geografija

54. Sljedeće zadatke riješite s pomoću priložene geografske karte Afrike na kojoj su slovima od **A** do **H** označene odabrane države.



Upišite u tablicu imena opisanih država i njihova slova s geografske karte.

	Opis države	Ime države	Slovo kojim je označena na karti
54.1.	država sjeverne Afrike u kojoj su turistička atrakcija kraljevski gradovi		
54.2.	država s najvećim brojem starosjedioca Afrike (Sani, Khoi-Khoi)		
54.3.	politički nestabilna država u kojoj su do 2011. godine proglašene četiri samostalne cjeline		

0

2

bod

0

2

bod

0

2

bod

GEO IK-2 D-S009

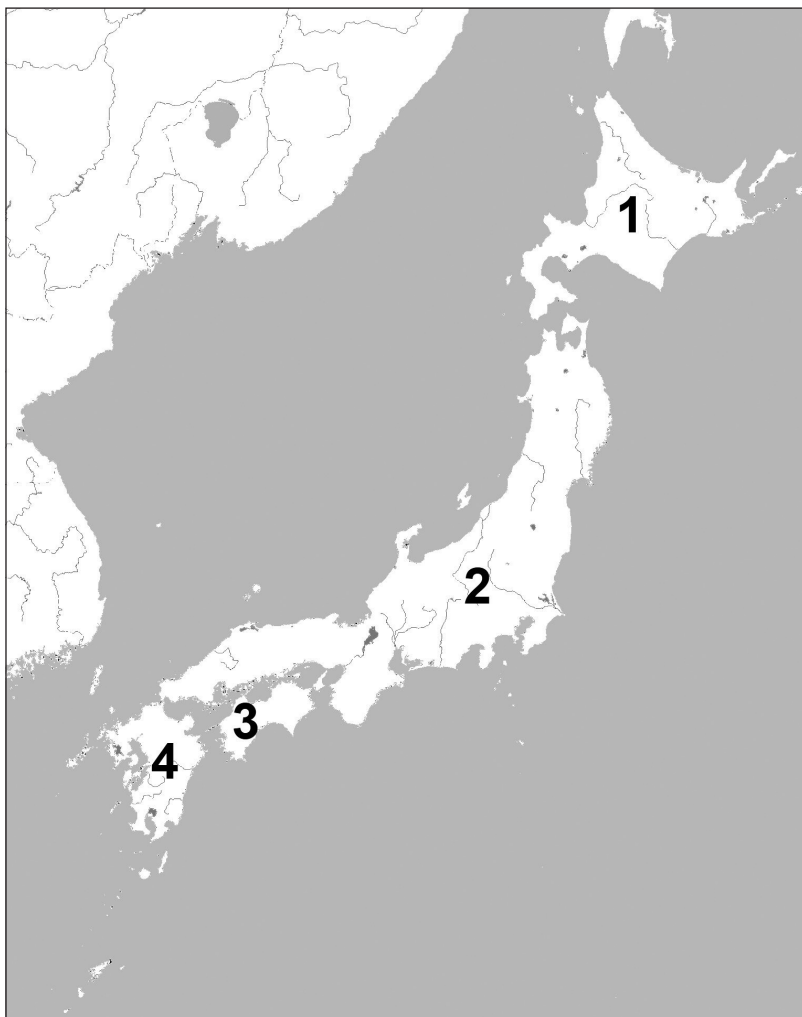


02



# Geografija

55. Sljedeće zadatke riješite na priloženoj geografskoj karti Japana.



Upišite broj s karte koji odgovara opisu tog otoka.

55.1. Otok na kojem se nalazi nuklearna elektrana Fukushima \_\_\_\_\_

55.2. Otok na kojem žive prastanovnici Japana \_\_\_\_\_

0 ☐  
1 ☐  
bod

0 ☐  
1 ☐  
bod

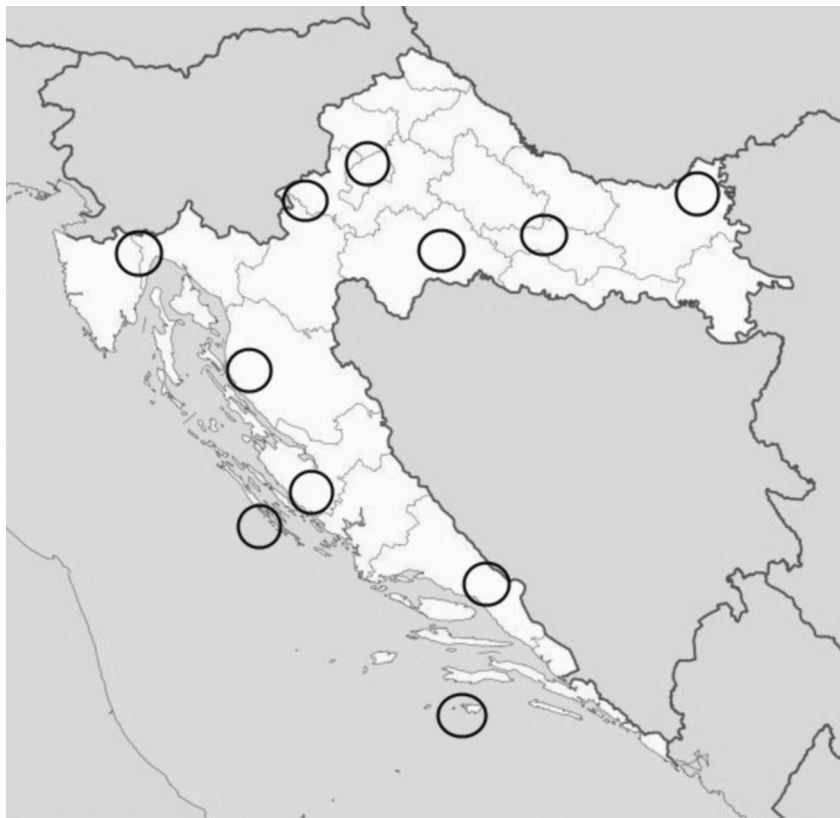
GEO IK-2 D-S009



02

# Geografija

**56.** Sljedeće zadatke riješite na priloženoj geografskoj karti Republike Hrvatske.



U priloženu geografsku kartu upišite odgovarajuće brojeve, a na crte u zadatcima imena opisanih parkova prirode.

**56.1.** Upišite broj **1** u krug uz park prirode koji se dijelom nalazi na poloju rijeke Save.

Ime tog parka prirode je \_\_\_\_\_.

**56.2.** Upišite broj **2** u krug uz park prirode koji se dijelom nalazi na poloju rijeke Dunav.

Ime tog parka prirode je \_\_\_\_\_.

**56.3.** Upišite broj **3** u krug uz park prirode u kojem se nalazi geomorfološki spomenik Rupnica.

Ime tog parka prirode je \_\_\_\_\_.

0

2

bod

0

2

bod

0

2

bod

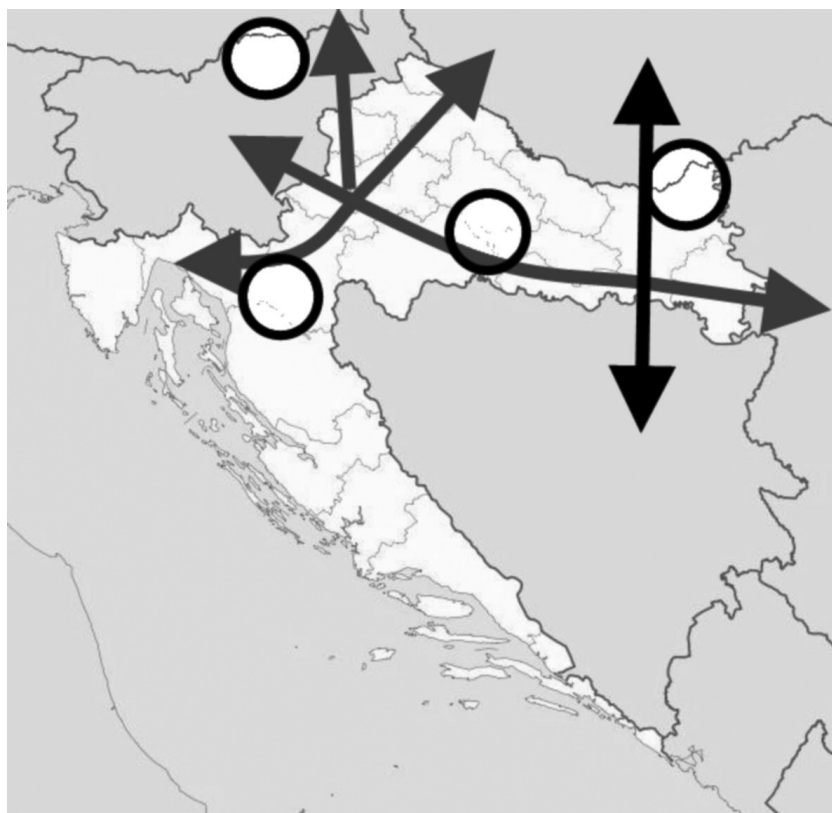
GEO IK-2 D-S009



02

# Geografija

57. Sljedeće zadatke riješite na priloženoj geografskoj karti Republike Hrvatske.



U priloženu geografsku kartu upišite odgovarajuće brojeve, a na crte u zadatcima upišite oznake opisanih koridora.

**57.1.** Upišite broj **1** u krug na paneuropskom koridoru kojim prolazi najvažniji longitudinalni prometni pravac u Hrvatskoj.

Oznaka tog koridora je \_\_\_\_\_.

**57.2.** Upišite broj **2** u krug na ogranku paneuropskog koridora kojim prolazi pyhrnski prometni pravac.

Oznaka tog ogranka je \_\_\_\_\_.

0	<input type="text"/>
2	<input type="text"/>
bod	

0	<input type="text"/>
2	<input type="text"/>
bod	

GEO IK-2 D-S009



02



# Geografija

- 58.** Izračunajte koliko je stanovnika imala Republika Hrvatska 31. ožujka 2011. godine u ponoć ako joj je gustoća naseljenosti tada bila 75,8 st./km<sup>2</sup>.

Prostor za računanje:

Odgovor: \_\_\_\_\_

0

2

bod

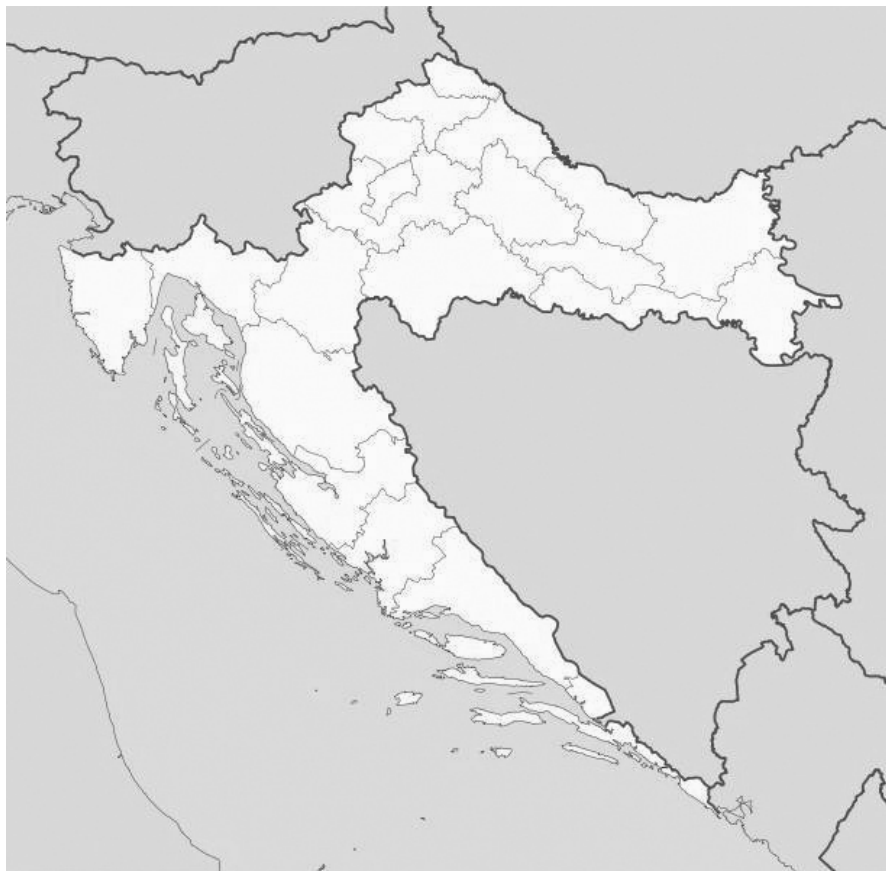
GEO IK-2 D-S009



02

# Geografija

**59.** Sljedeće zadatke riješite na priloženoj geografskoj karti Republike Hrvatske.



**59.1.** Upišite broj **1** na kartu u prostor županije s najvećim brojem toplica u Hrvatskoj posljednjih desetak godina.

**59.2.** Upišite broj **2** na kartu u županiju u kojoj se nalaze Daruvarske toplice.

0	<input type="checkbox"/>
1	<input type="checkbox"/>
bod	

0	<input type="checkbox"/>
1	<input type="checkbox"/>
bod	

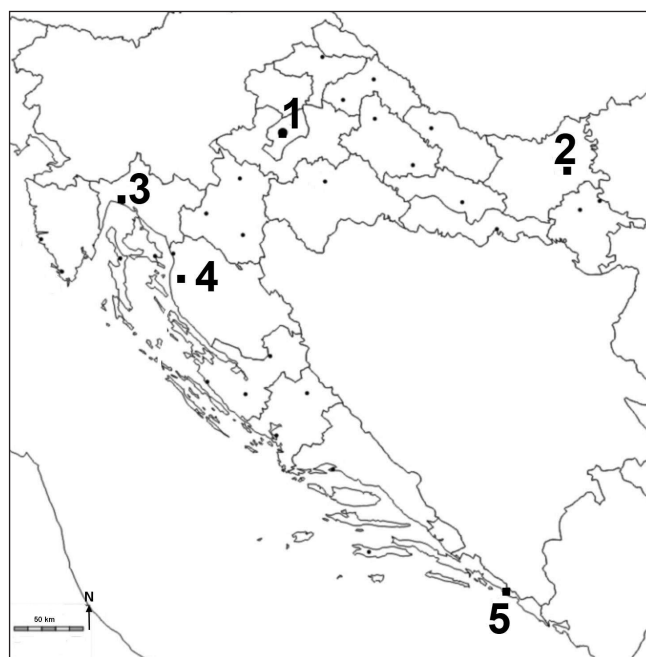
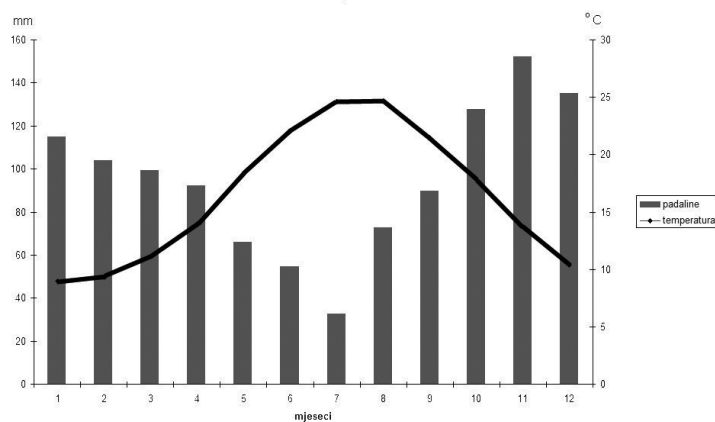
GEO IK-2 D-S009



02

# Geografija

60. Analizirajte priloženi klimatski dijagram i dopunite rečenice.



60.1. Godišnja temperaturna amplituda iznosi \_\_\_\_\_.

60.2. **Podtip** klime prikazan na klimatskom dijagramu naziva se \_\_\_\_\_.

60.3. Grad kojem pripada priloženi klimatski dijagram na karti je označen brojem \_\_\_\_\_.

0

2

bod

0

2

bod

0

2

bod

GEO IK-2 D-S009



02

# Geografija

Prazna stranica

GEO IK-2 D-S009



99

# Geografija

Prazna stranica

GEO IK-2 D-S009



99