



Identifikacijska  
naljepnica  
PAŽLJIVO NALIJEPI

# POVIJEST

POV D-S011



POV.11.HR.R.K1.36

0527



12



# Povijest

Prazna stranica

POV D-S011



99



## UPUTE

Pozorno slijedite sve upute.

Ne okrećite stranicu i ne rješavajte ispit dok to ne odobri dežurni nastavnik.

Nalijepite identifikacijske naljepnice na sve ispitne materijale koje ste dobili u sigurnosnoj vrećici.

Ispit traje 120 minuta bez stanke.

Dobro rasporedite vrijeme kako biste mogli riješiti sve zadatke.

Ispred svake skupine zadataka je uputa za njihovo rješavanje.

Pozorno ju pročitajte.

Tijekom pisanja ispita dopušteno je rabiti kemijsku olovku plave ili crne boje.

Pišite jasno i čitko. Nečitki odgovori bodovat će se s nula (0) bodova.

Kada riješite ispit, provjerite odgovore.

Želimo Vam puno uspjeha!

Ova ispitna knjižica ima 36 stranica, od toga 2 prazne.

Ako ste pogriješili prilikom pisanja odgovora, ispravljate ovako:

a) zadatak zatvorenog tipa

Dobro



Ispravljanje pogrešnog unosa




Loše




Prepisani točan odgovor

Paraf (skraćeni potpis)

b) zadatak otvorenog tipa



Precrtan netočan odgovor u zagradama



Točan odgovor



Paraf (skraćeni potpis)

POV D-S011



99

# Povijest

Prva ispitna cjelina

## I. Zadatci višestrukog izbora

U sljedećim zadatcima između četiriju ponuđenih trebate odabrati jedan odgovor. Odgovore obilježite znakom X i obvezno ih prepisite na list za odgovore.

1. Što je predmet istraživanja pomoćne povijesne znanosti sfragistike?

- A. grb
- B. pečat
- C. pismo
- D. isprava

- A. ☐
- B. ☐
- C. ☐
- D. ☐

2. Tragovi kojeg pisma su najstariji na hrvatskim prostorima?

- A. etruščanskog
- B. feničkog
- C. grčkog
- D. latinskog

- A. ☐
- B. ☐
- C. ☐
- D. ☐

3. Kako se zvao rimski govornik i političar koji je razotkrio Katilininu urotu?

- A. Gaj Julije Cezar
- B. Marko Antonije
- C. Marko Licinije Kras
- D. Marko Tulije Ciceron

- A. ☐
- B. ☐
- C. ☐
- D. ☐

4. Koje je grčko pleme bilo nositelj razvoja drevne Mikene?

- A. Ahejci
- B. Jonjani
- C. Eoljani
- D. Dorani

- A. ☐
- B. ☐
- C. ☐
- D. ☐

POV D-S011



01

# Povijest

5. Koji je rimski car u potpunosti osvojio prostore današnje Hrvatske?

- A. August
- B. Dioklecijan
- C. Marko Aurelije
- D. Tiberije

- A. ☐
- B. ☐
- C. ☐
- D. ☐

6. Kretanje i smještanje kojeg naroda prikazuje ovaj povijesni zemljovid?



- A. Avara
- B. Bugara
- C. Tatara
- D. Ugra

- A. ☐
- B. ☐
- C. ☐
- D. ☐

7. Koja titula hrvatskog vladara je prvi put napisana hrvatskim jezikom na prikazanom spomeniku?



- A. knez
- B. ban
- C. kralj
- D. herceg

- A. ☐
- B. ☐
- C. ☐
- D. ☐

POV D-S011



# Povijest

<p>8. Što je od navedenog obilježje europskog razvijenog srednjeg vijeka?</p> <p>A. dvopoljna zemljoradnja B. karolinška renesansa C. naturalno gospodarstvo D. robno-novčano gospodarstvo</p>	<p>A. <input type="checkbox"/></p> <p>B. <input type="checkbox"/></p> <p>C. <input type="checkbox"/></p> <p>D. <input type="checkbox"/></p>
<p>9. Koje je osnovno obilježje politike dinastije Anžuvina nakon dolaska na hrvatsko-ugarsko prijestolje?</p> <p>A. jačanje kraljevske vlasti B. jačanje moći velikaških obitelji C. slabljenje moći Crkve D. obrambeni ratovi</p>	<p>A. <input type="checkbox"/></p> <p>B. <input type="checkbox"/></p> <p>C. <input type="checkbox"/></p> <p>D. <input type="checkbox"/></p>
<p>10. U sastavu koje države se nalazi današnja Hrvatska od 1867. do 1918. godine?</p> <p>A. Ugarsko-Hrvatskog Kraljevstva B. Kraljevine Dalmacije, Hrvatske i Slavonije C. Banske Hrvatske D. Austro-Ugarske Monarhije</p>	<p>A. <input type="checkbox"/></p> <p>B. <input type="checkbox"/></p> <p>C. <input type="checkbox"/></p> <p>D. <input type="checkbox"/></p>
<p>POV D-S011</p> <p>01</p>	

# Povijest

11. Tko je vladao Habsburškom Monarhijom i hrvatskim zemljama u vrijeme koje je prikazano na povijesnom zemljovidu?



- A. Franjo Josip I.  
B. Josip II.  
C. Karlo III.  
D. Marija Terezija

- A. ☐  
B. ☐  
C. ☐  
D. ☐

12. Koji od navedenih pojedinaca pripada hrvatskim dopreporoditeljima?

- A. Eugen Kvaternik  
B. Ivan Kukuljević Sakcinski  
C. Juraj Haulik  
D. Maksimilijan Vrhovac

- A. ☐  
B. ☐  
C. ☐  
D. ☐

13. U kojoj je europskoj državi donesen prvi nacionalni ustav pod utjecajem prosvjetiteljstva?

- A. u Austriji  
B. u Engleskoj  
C. u Francuskoj  
D. u Poljskoj

- A. ☐  
B. ☐  
C. ☐  
D. ☐

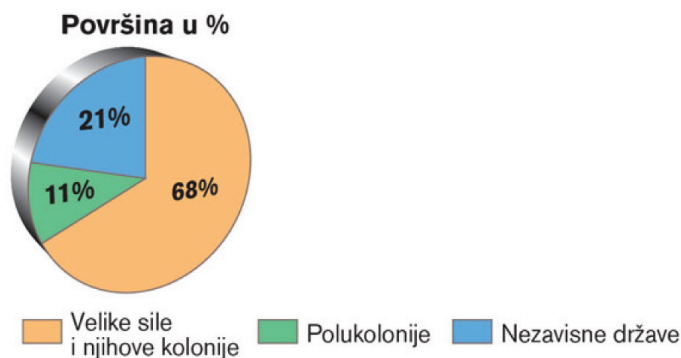
POV D-S011



01

# Povijest

14. Koje je povijesno vrijeme obilježeno podjelom svijeta prikazanom na grafu?



- A. imperijalizam
- B. neokolonijalizam
- C. prosvijećeni apsolutizam
- D. dvorski apsolutizam

- A. ☐
- B. ☐
- C. ☐
- D. ☐

15. Tko su bili prvi kolonizatori otoka Manhattan u današnjem New Yorku?

- A. Englezi
- B. Francuzi
- C. Nizozemci
- D. Španjolci

- A. ☐
- B. ☐
- C. ☐
- D. ☐

16. Koji je događaj iz suvremene povijesti utjecao na formiranje međunarodne protuterorističke koalicije pod vodstvom Sjedinjenih Američkih Država?

- A. napad na Svjetski trgovački centar i Pentagon
- B. pad Berlinskog zida
- C. izbor Baracka Obame za predsjednika
- D. iračka okupacija Kuvajta

- A. ☐
- B. ☐
- C. ☐
- D. ☐

17. Što se napada i kritizira Zagrebačkim punktacijama?

- A. Vidovdanski ustav
- B. Sporazum Cvetković-Maček
- C. Šestosiječanjska diktatura
- D. Oktroirani ustav

- A. ☐
- B. ☐
- C. ☐
- D. ☐

POV D-S011



01



# Povijest

<p><b>18.</b> Koje je političko tijelo poništilo odredbe Rapalskog i Rimskog ugovora?</p> <p><b>A.</b> Glavni štab partizanskih odreda Hrvatske <b>B.</b> Glavni ustaški stan <b>C.</b> Komunistička partija Hrvatske <b>D.</b> Zemaljsko antifašističko vijeće narodnog oslobođenja Hrvatske</p>	<p><b>A.</b> <input type="checkbox"/> <b>B.</b> <input type="checkbox"/> <b>C.</b> <input type="checkbox"/> <b>D.</b> <input type="checkbox"/></p>
<p><b>19.</b> U kojoj je državnoj zajednici Hrvatska izgubila prostore Boke kotorske?</p> <p><b>A.</b> u Austro-Ugarskoj Monarhiji <b>B.</b> u Federativnoj Narodnoj Republici Jugoslaviji <b>C.</b> u Kraljevini Jugoslaviji <b>D.</b> u Državi Slovenaca, Hrvata i Srba</p>	<p><b>A.</b> <input type="checkbox"/> <b>B.</b> <input type="checkbox"/> <b>C.</b> <input type="checkbox"/> <b>D.</b> <input type="checkbox"/></p>
<p><b>20.</b> Koji je događaj pokrenuo tzv. domino efekt raspada socijalističkih poredaka u Europi?</p> <p><b>A.</b> ujedinjenje Savezne i Demokratske Republike Njemačke <b>B.</b> pad Berlinskog zida <b>C.</b> smrt Josipa Broza Tita <b>D.</b> nuklearna katastrofa u Černobilu</p>	<p><b>A.</b> <input type="checkbox"/> <b>B.</b> <input type="checkbox"/> <b>C.</b> <input type="checkbox"/> <b>D.</b> <input type="checkbox"/></p>
<p>POV D-S011</p> <p>01</p>	

# Povijest

## II. Zadatci kratkog odgovora

U sljedećim zadatcima odgovorite na postavljena pitanja jednom riječju ili jednostavnom rečenicom. Odgovore upišite na predviđena mjesta u ovoj knjižici. Ne popunjavajte prostor za bodovanje.

**21.** Kako se zove atenski vojskovođa koji je zaslužan za pobjedu nad Perzijancima kod Salamine?

\_\_\_\_\_

0

☐

1

☐

bod

**22.** Kako se naziva utvrđeni grad Histra koji su Rimljani pokorili krajem 2. stoljeća prije Krista?

\_\_\_\_\_

0

☐

1

☐

bod

**23.** Kako se naziva društveni stalež u Rimu koji je nastao nakon punskih ratova propadanjem slobodnih seljaka?

\_\_\_\_\_

0

☐

1

☐

bod

**24.** Kako se zove hrvatski paleoantropolog koji je pronašao bogato nalazište neandertalaca na Hušnjakovom brdu kraj Krapine?

\_\_\_\_\_

0

☐

1

☐


bod

POV D-S011



02

# Povijest

<p><b>25.</b> Koja su dva naroda Bitkom kod Kadeša razdijelila interesne sfere na Bliskom istoku?</p> <p>_____</p>	<p>0 <input type="checkbox"/></p> <p>1 <input type="checkbox"/></p> <p>bod</p>
<p><b>26.</b> Što je, uz motiv žene, najčešći motiv umjetnika u paleolitiku?</p> <p>_____</p>	<p>0 <input type="checkbox"/></p> <p>1 <input type="checkbox"/></p> <p>bod</p>
<p><b>27.</b> Kako se zove egipatski svećenik, autor <i>Aegyptice</i>, popisa egipatskih vladara i dinastija?</p> <p>_____</p>	<p>0 <input type="checkbox"/></p> <p>1 <input type="checkbox"/></p> <p>bod</p>
<p>POV D-S011</p> <p> 02</p>	

# Povijest

28. Kako se naziva povijesno-pravni dokument prikazan na slici kojim je Hrvatska ušla u sastav Habsburške Monarhije?



0 ☐  
1 ☐

bod

29. Koji je bizantski car uveo vojno-administrativnu podjelu Carstva na teme?

0 ☐  
1 ☐

bod

30. Koji je narod živio na prostorima Južne Amerike na području Anda prije dolaska Europljana?

0 ☐  
1 ☐

bod

POV D-S011



02

# Povijest

**31.** Koja je država tijekom tzv. protudvorskog pokreta postala samostalno kraljevstvo odvojeno od Ugarsko-Hrvatskog Kraljevstva?

\_\_\_\_\_

0 ☐

1 ☐

bod

**32.** Kojoj su državi bili ugroženi trgovački i pomorski interesi Navigacijskim aktom engleskog parlamenta iz 1651. godine?

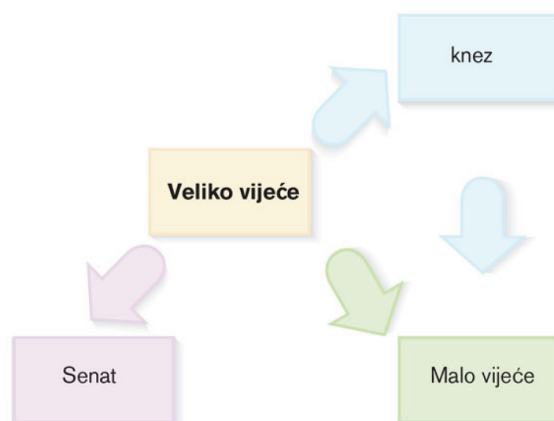
\_\_\_\_\_

0 ☐

1 ☐

bod

**33.** Kojoj državi pripada sustav vlasti prikazan priloženom shemom?



\_\_\_\_\_

0 ☐

1 ☐

bod

**34.** Koji je izum omogućio brže širenje novih ideja i dostupniji sustav učenja od 15. stoljeća?

\_\_\_\_\_

0 ☐

1 ☐


bod

POV D-S011



02

# Povijest

<p><b>35.</b> Kako se naziva dokument kojim je 1860. godine vraćeno ustavno stanje u Habsburškoj Monarhiji?</p> <p>_____</p>	<p>0 <input type="checkbox"/></p> <p>1 <input type="checkbox"/></p> <p>bod</p>
<p><b>36.</b> Pod protektorat koje države je došao poluotok Krim Mirom u Kučuk-Kajnardžiju?</p> <p>_____</p>	<p>0 <input type="checkbox"/></p> <p>1 <input type="checkbox"/></p> <p>bod</p>
<p><b>37.</b> Tko je bio hrvatski ban u vrijeme raskola Stranke prava?</p> <p>_____</p>	<p>0 <input type="checkbox"/></p> <p>1 <input type="checkbox"/></p> <p>bod</p>
<p><b>38.</b> Kako se naziva kulturna institucija koja je nastala 1842. godine sa zadaćom tiskanja knjiga na narodnom jeziku?</p> <p>_____</p>	<p>0 <input type="checkbox"/></p> <p>1 <input type="checkbox"/></p> <p>bod</p>
<p><b>39.</b> Odlukama kojeg kongresa je započelo doba restauracije apsolutizma u europskim monarhijama?</p> <p>_____</p>	<p>0 <input type="checkbox"/></p> <p>1 <input type="checkbox"/></p> <p>bod</p>
<p>POV D-S011</p> <p> 02</p>	

# Povijest

40. Koja je stranka postigla veliku izbornu pobjedu nad autonomašima u Splitu 1882. godine?

\_\_\_\_\_

0 ☐

1 ☐

bod

41. Koje su dvije poljoprivredne kulture prevladavale u sustavnom promicanju kameralističkih ideja na prostoru Slavonije tijekom 18. stoljeća?


\_\_\_\_\_

0 ☐

1 ☐

bod

42. Iz koje godine datira tehnički izum koji je omogućio vid društvene dokolice prikazan na plakatu?



\_\_\_\_\_

0 ☐

1 ☐

bod

43. Koja je stranka pobjedom na izborima 1906. godine označila konačan slom prorežimski orijentirane Narodne stranke?

\_\_\_\_\_

0 ☐

1 ☐


bod

POV D-S011



02

# Povijest

<p><b>44.</b> Na kojoj su se međunarodnoj konferenciji prvi put sastali Roosevelt, Churchill i Staljin te dogovorili otvaranje novog bojišta u Europi?</p> <p>_____</p>	<p>0 <input type="checkbox"/></p> <p>1 <input type="checkbox"/></p> <p>bod</p>
<p><b>45.</b> Koji se dio teritorija Republike Hrvatske trebao mirno reintegrirati u pravni sustav u roku od godine dana temeljem odluka Daytonskog sporazuma?</p> <p>_____</p>	<p>0 <input type="checkbox"/></p> <p>1 <input type="checkbox"/></p> <p>bod</p>
<p><b>46.</b> Koji je otok bio politička kaznionica tzv. informbiroovaca?</p> <p>_____</p>	<p>0 <input type="checkbox"/></p> <p>1 <input type="checkbox"/></p> <p>bod</p>
<p><b>47.</b> Koji je događaj bio neposredni povod Prvog svjetskog rata?</p> <p>_____</p>	<p>0 <input type="checkbox"/></p> <p>1 <input type="checkbox"/></p> <p>bod</p>
<p><b>48.</b> Kako se naziva operacija združenih snaga UN-a kojom se Kuvajt oslobađa od snaga režima Saddama Huseina?</p> <p>_____</p>	<p>0 <input type="checkbox"/></p> <p>1 <input type="checkbox"/></p> <p>bod</p>
<p>POV D-S011</p> <p> 02</p>	





# Povijest

**49.** Kako se nazivaju profesionalne postrojbe hrvatske vojske formirane u travnju 1991. godine?

\_\_\_\_\_

0

☐

1

☐

bod

POV D-S011



02



# Povijest

Druga ispitna cjelina

## III. Zadatci višestrukog izbora

U sljedećim zadatcima između četiriju ponuđenih trebate odabrati jedan odgovor. Odgovore obilježite znakom X i obavezno ih prepisite na list za odgovore.

**50.** Koji niz određuje točan kronološki slijed navedenih bitaka Grčko-perzijskog rata?

- A. Termopil → Salamina → Plateja → Maraton
- B. Salamina → Termopil → Maraton → Plateja
- C. Plateja → Termopil → Maraton → Salamina
- D. Maraton → Termopil → Salamina → Plateja

A.

B.

C.

D.

**51.** Koji niz određuje točan kronološki slijed navedenih ratova iz rimske povijesti?

- A. Prvi punski rat → rat protiv Pira → rat protiv Teute → ratovi protiv Samnićana
- B. ratovi protiv Samnićana → rat protiv Pira → Prvi punski rat → rat protiv Teute
- C. rat protiv Pira → Prvi punski rat → ratovi protiv Samnićana → rat protiv Teute
- D. rat protiv Teute → ratovi protiv Samnićana → rat protiv Pira → Prvi punski rat

A.

B.

C.

D.

**52.** Koji niz određuje točan kronološki slijed navedenih pretpovijesnih nalazišta na tlu Hrvatske?

- A. Hušnjakovo brdo → Šandalja I. → Smilčić → Vučedol
- B. Smilčić → Vučedol → Hušnjakovo brdo → Šandalja I.
- C. Šandalja I. → Hušnjakovo brdo → Smilčić → Vučedol
- D. Vučedol → Smilčić → Šandalja I. → Hušnjakovo brdo

A.

B.

C.

D.

**53.** Koji niz određuje točan kronološki slijed formiranja navedenih gradova?

- A. Split → Issa → Salona → Mursa
- B. Salona → Split → Issa → Mursa
- C. Issa → Salona → Mursa → Split
- D. Mursa → Issa → Salona → Split

A.

B.

C.

D.

POV D-S011



02

# Povijest

**54.** Koji niz određuje točan kronološki slijed navedenih događaja i procesa iz vremena Velike seobe naroda?

- A. podjela Rimskog Carstva na Istočno i Zapadno → smještaj Langobarda u sjevernu Italiju → prodor Huna u Europu → pad Zapadnog Rimskog Carstva
- B. prodor Huna u Europu → podjela Rimskog Carstva na Istočno i Zapadno → pad Zapadnog Rimskog Carstva → smještaj Langobarda u sjevernu Italiju
- C. pad Zapadnog Rimskog Carstva → prodor Huna u Europu → podjela Rimskog Carstva na Istočno i Zapadno → smještaj Langobarda u sjevernu Italiju
- D. smještaj Langobarda u sjevernu Italiju → pad Zapadnog Rimskog Carstva → podjela Rimskog Carstva na Istočno i Zapadno → prodor Huna u Europu

A. ☐  
B. ☐  
C. ☐  
D. ☐

**55.** Koji niz određuje točan kronološki slijed navedenih događaja i procesa iz povijesti ranosrednjovjekovne Hrvatske?

- A. dolazak benediktinaca → formiranje državne administracije → priznanje kraljevstva od Bizanta → pristajanje uz kršćanstvo
- B. pristajanje uz kršćanstvo → dolazak benediktinaca → formiranje državne administracije → priznanje kraljevstva od Bizanta
- C. dolazak benediktinaca → pristajanje uz kršćanstvo → formiranje državne administracije → priznanje kraljevstva od Bizanta
- D. priznanje kraljevstva od Bizanta → pristajanje uz kršćanstvo → dolazak benediktinaca → formiranje državne administracije

A. ☐  
B. ☐  
C. ☐  
D. ☐

**56.** Koji niz određuje točan kronološki slijed vladavine navedenih engleskih vladara?

- A. Elizabeta I. Tudor → Karlo I. Stuart → Henrik VIII. Tudor → Vilim III. Oranski
- B. Henrik VIII. Tudor → Elizabeta I. Tudor → Karlo I. Stuart → Vilim III. Oranski
- C. Vilim III. Oranski → Henrik VIII. Tudor → Elizabeta I. Tudor → Karlo I. Stuart
- D. Karlo I. Stuart → Henrik VIII. Tudor → Elizabeta I. Tudor → Vilim III. Oranski

A. ☐  
B. ☐  
C. ☐  
D. ☐

POV D-S011



01

# Povijest

**57.** Koji niz određuje točan kronološki slijed navedenih događaja iz vremena dinastičke krize i tzv. protudvorskog pokreta?

- A. krunidba Karla Dračkog → krunidba Sigismunda Luksemburškog → prodaja Dalmacije Mlečanima → smrt Ludovika I. Anžuvinskog
- B. krunidba Sigismunda Luksemburškog → smrt Ludovika I. Anžuvinskog → prodaja Dalmacije Mlečanima → krunidba Karla Dračkog
- C. prodaja Dalmacije Mlečanima → krunidba Karla Dračkog → smrt Ludovika I. Anžuvinskog → krunidba Sigismunda Luksemburškog
- D. smrt Ludovika I. Anžuvinskog → krunidba Karla Dračkog → krunidba Sigismunda Luksemburškog → prodaja Dalmacije Mlečanima

A. ☐  
B. ☐  
C. ☐  
D. ☐

**58.** Koji niz određuje točan kronološki slijed navedenih događaja vezanih za otpor Zrinskih i Frankopana apsolutizmu i centralizmu habsburškog dvora?

- A. veze s Francuskom → Mir u Vašvaru → veze s Osmanlijskim Carstvom → smaknuće u Bečkom Novom Mjestu
- B. Mir u Vašvaru → veze s Francuskom → veze s Osmanlijskim Carstvom → smaknuće u Bečkom Novom Mjestu
- C. veze s Osmanlijskim Carstvom → veze s Francuskom → Mir u Vašvaru → smaknuće u Bečkom Novom Mjestu
- D. veze s Francuskom → veze s Osmanlijskim Carstvom → Mir u Vašvaru → smaknuće u Bečkom Novom Mjestu

A. ☐  
B. ☐  
C. ☐  
D. ☐

**59.** Koji niz određuje točan kronološki slijed navedenih razvoja oblika proizvodnje i radničkog pokreta?

- A. ludistički pokret → tvornice → manufakture → čartistički pokret
- B. čartistički pokret → ludistički pokret → manufakture → tvornice
- C. tvornice → manufakture → čartistički pokret → ludistički pokret
- D. manufakture → tvornice → ludistički pokret → čartistički pokret

A. ☐  
B. ☐  
C. ☐  
D. ☐

POV D-S011



01

# Povijest

**60.** Koji niz određuje točan kronološki slijed navedenih događaja iz povijesti hrvatskog narodnog preporoda?

- A. izdavanje *Kratke osnove hrvatsko-slavonskog pravopisanja* → izvedba opere *Ljubav i zloba* → Kukuljevićev govor u Saboru na hrvatskom jeziku → osnivanje *Matice ilirske*
- B. osnivanje *Matice ilirske* → izdavanje *Kratke osnove hrvatsko-slavonskog pravopisanja* → izvedba opere *Ljubav i zloba* → Kukuljevićev govor u Saboru na hrvatskom jeziku
- C. izdavanje *Kratke osnove hrvatsko-slavonskog pravopisanja* → osnivanje *Matice ilirske* → Kukuljevićev govor u Saboru na hrvatskom jeziku → izvedba opere *Ljubav i zloba*
- D. izdavanje *Kratke osnove hrvatsko-slavonskog pravopisanja* → Kukuljevićev govor u Saboru na hrvatskom jeziku → osnivanje *Matice ilirske* → izvedba opere *Ljubav i zloba*

A. ☐  
B. ☐  
C. ☐  
D. ☐

**61.** Koji niz određuje točan kronološki slijed nastajanja britanskog kolonijalnog imperija?

- A. Gibraltar → Virginija → Transvaal i Oranje → Australija
- B. Virginija → Gibraltar → Australija → Transvaal i Oranje
- C. Australija → Gibraltar → Transvaal i Oranje → Virginija
- D. Transvaal i Oranje → Australija → Virginija → Gibraltar

A. ☐  
B. ☐  
C. ☐  
D. ☐

**62.** Koji niz određuje točan kronološki slijed navedenih događaja iz povijesti rješavanja tzv. Istočnog pitanja?

- A. San Stefanski mir → rusko-turski rat → Berlinski kongres → bosanskohercegovački ustanak
- B. rusko-turski rat → San Stefanski mir → bosanskohercegovački ustanak → Berlinski kongres
- C. rusko-turski rat → bosanskohercegovački ustanak → Berlinski kongres → San Stefanski mir
- D. bosanskohercegovački ustanak → rusko-turski rat → San Stefanski mir → Berlinski kongres

A. ☐  
B. ☐  
C. ☐  
D. ☐

POV D-S011



01

# Povijest

**63.** Koji niz određuje točan kronološki slijed vladavine navedenih banova?

- A. Ladislav Pejačević → Khuen Héderváry → Teodor Pejačević → Pavao Rauch
- B. Teodor Pejačević → Pavao Rauch → Ladislav Pejačević → Khuen Héderváry
- C. Pavao Rauch → Ladislav Pejačević → Teodor Pejačević → Khuen Héderváry
- D. Khuen Héderváry → Ladislav Pejačević → Teodor Pejačević → Pavao Rauch

- A. ☐
- B. ☐
- C. ☐
- D. ☐

**64.** Koji niz određuje točan kronološki slijed navedenih događaja svjetske povijesti između dvaju svjetskih ratova?

- A. građanski rat u Španjolskoj → dolazak fašista na vlast u Italiji → početak velike gospodarske krize → dolazak nacista na vlast u Njemačkoj
- B. početak velike gospodarske krize → dolazak fašista na vlast u Italiji → dolazak nacista na vlast u Njemačkoj → građanski rat u Španjolskoj
- C. dolazak nacista na vlast u Njemačkoj → dolazak fašista na vlast u Italiji → početak velike gospodarske krize → građanski rat u Španjolskoj
- D. dolazak fašista na vlast u Italiji → početak velike gospodarske krize → dolazak nacista na vlast u Njemačkoj → građanski rat u Španjolskoj

- A. ☐
- B. ☐
- C. ☐
- D. ☐

**65.** Koji niz određuje točan kronološki slijed navedenih događaja iz hrvatske povijesti između dvaju svjetskih ratova?

- A. formirana vlada Milana Stojadinovića → donesen Oktroirani ustav → objavljene Zagrebačke punktacije → ubijen kralj Aleksandar
- B. ubijen kralj Aleksandar → donesen Oktroirani ustav → objavljene Zagrebačke punktacije → formirana vlada Milana Stojadinovića
- C. donesen Oktroirani ustav → objavljene Zagrebačke punktacije → ubijen kralj Aleksandar → formirana vlada Milana Stojadinovića
- D. objavljene Zagrebačke punktacije → donesen Oktroirani ustav → ubijen kralj Aleksandar → formirana vlada Milana Stojadinovića

- A. ☐
- B. ☐
- C. ☐
- D. ☐

POV D-S011



# Povijest

**66.** Koji niz određuje točan kronološki slijed navedenih događaja iz vremena Drugog svjetskog rata?

- A. iskrcavanje saveznika na Siciliji → kapitulacija Italije → iskrcavanje saveznika u Normandiji → kapitulacija Njemačke
- B. kapitulacija Italije → iskrcavanje saveznika u Normandiji → iskrcavanje saveznika na Siciliji → kapitulacija Njemačke
- C. kapitulacija Njemačke → iskrcavanje saveznika u Normandiji → kapitulacija Italije → iskrcavanje saveznika na Siciliji
- D. kapitulacija Njemačke → iskrcavanje saveznika na Siciliji → iskrcavanje saveznika u Normandiji → kapitulacija Italije

A.

B.

C.

D.

**67.** Koji niz određuje točan kronološki slijed navedenih događaja iz vremena stvaranja samostalne hrvatske države?

- A. Ustav Republike Hrvatske → međunarodno priznanje Republike Hrvatske → referendum o položaju Hrvatske u SFRJ → prvi slobodni višestranački izbori
- B. prvi slobodni višestranački izbori → Ustav Republike Hrvatske → referendum o položaju Hrvatske u SFRJ → međunarodno priznanje Republike Hrvatske
- C. referendum o položaju Hrvatske u SFRJ → međunarodno priznanje Republike Hrvatske → prvi slobodni višestranački izbori → Ustav Republike Hrvatske
- D. međunarodno priznanje Republike Hrvatske → Ustav Republike Hrvatske → prvi slobodni višestranački izbori → referendum o položaju Hrvatske u SFRJ

A.

B.

C.

D.

POV D-S011



01



# Povijest

**68.** Koji niz određuje točan kronološki slijed navedenih događaja iz Drugog svjetskog rata?

- A.** Rimski ugovori → pristup Kraljevine Jugoslavije Trojnom paktu → kapitulacija Kraljevine Jugoslavije → nastanak Nezavisne Države Hrvatske
- B.** pristup Kraljevine Jugoslavije Trojnom paktu → nastanak Nezavisne Države Hrvatske → kapitulacija Kraljevine Jugoslavije → Rimski ugovori
- C.** kapitulacija Kraljevine Jugoslavije → pristup Kraljevine Jugoslavije Trojnom paktu → nastanak Nezavisne Države Hrvatske → Rimski ugovori
- D.** nastanak Nezavisne Države Hrvatske → pristup Kraljevine Jugoslavije Trojnom paktu → kapitulacija Kraljevine Jugoslavije → Rimski ugovori

**A.** ☐  
**B.** ☐  
**C.** ☐  
**D.** ☐

POV D-S011



01





# Povijest

## IV. Zadatci povezivanja

U sljedećim zadatcima svakoj čestici pitanja označenoj brojem pridružite odgovarajuću česticu odgovora označenu slovom.  
Odgovore obilježite znakom X i obvezno ih prepisite na list za odgovore.

69. Svakom sadržaju pridružite pomoćnu povijesnu znanost koja se njime bavi.



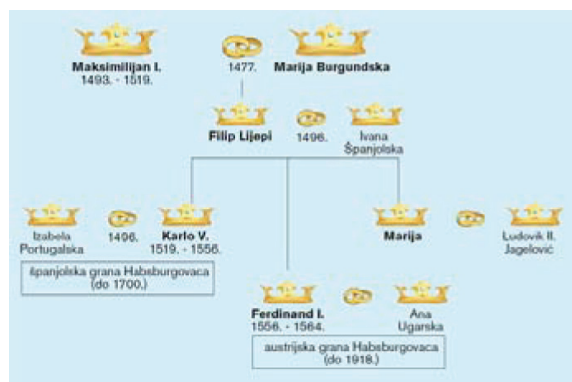
1.



2.



3.



4.

- A. numizmatika
- B. epigrafija
- C. sfragistika
- D. onomastika
- E. heraldika
- F. genealogija

	A.	B.	C.	D.	E.	F.
1.	<input type="checkbox"/>	<input type="checkbox"/>	<input type="checkbox"/>	<input type="checkbox"/>	<input type="checkbox"/>	<input type="checkbox"/>
2.	<input type="checkbox"/>	<input type="checkbox"/>	<input type="checkbox"/>	<input type="checkbox"/>	<input type="checkbox"/>	<input type="checkbox"/>
3.	<input type="checkbox"/>	<input type="checkbox"/>	<input type="checkbox"/>	<input type="checkbox"/>	<input type="checkbox"/>	<input type="checkbox"/>
4.	<input type="checkbox"/>	<input type="checkbox"/>	<input type="checkbox"/>	<input type="checkbox"/>	<input type="checkbox"/>	<input type="checkbox"/>

POV D-S011



05

# Povijest

**70.** Svakom događaju pridružite osobu koja se s njim povezuje.

1. Sabor u Dubravi kod Čazme
2. Sabor u Cetingradu
3. Sabor u Koprivnici
4. *krvavi sabor križevački*

- A. Ferdinand Habsburški
- B. Ivan Zapolja
- C. Krsto Frankopan
- D. Matijaš Korvin
- E. Nikola Jurišić
- F. Stjepan Lacković

	A.	B.	C.	D.	E.	F.
1.	<input type="checkbox"/>	<input type="checkbox"/>	<input type="checkbox"/>	<input type="checkbox"/>	<input type="checkbox"/>	<input type="checkbox"/>
2.	<input type="checkbox"/>	<input type="checkbox"/>	<input type="checkbox"/>	<input type="checkbox"/>	<input type="checkbox"/>	<input type="checkbox"/>
3.	<input type="checkbox"/>	<input type="checkbox"/>	<input type="checkbox"/>	<input type="checkbox"/>	<input type="checkbox"/>	<input type="checkbox"/>
4.	<input type="checkbox"/>	<input type="checkbox"/>	<input type="checkbox"/>	<input type="checkbox"/>	<input type="checkbox"/>	<input type="checkbox"/>

**71.** Svakom prosvjetitelju pridružite njegovo djelo.

1. Charles de Montesquieu
2. Denis Diderot
3. Francois Voltaire
4. Jean Jacques Rousseau

- A. *Enciklopedija*
- B. *Duh zakona*
- C. *Candide*
- D. *Bogatstvo naroda*
- E. *Društveni ugovor*
- F. *Kritika čistog uma*

	A.	B.	C.	D.	E.	F.
1.	<input type="checkbox"/>	<input type="checkbox"/>	<input type="checkbox"/>	<input type="checkbox"/>	<input type="checkbox"/>	<input type="checkbox"/>
2.	<input type="checkbox"/>	<input type="checkbox"/>	<input type="checkbox"/>	<input type="checkbox"/>	<input type="checkbox"/>	<input type="checkbox"/>
3.	<input type="checkbox"/>	<input type="checkbox"/>	<input type="checkbox"/>	<input type="checkbox"/>	<input type="checkbox"/>	<input type="checkbox"/>
4.	<input type="checkbox"/>	<input type="checkbox"/>	<input type="checkbox"/>	<input type="checkbox"/>	<input type="checkbox"/>	<input type="checkbox"/>

POV D-S011



05

# Povijest

**72.** Svakom povijesnom događaju pridružite osobu koja je u njemu sudjelovala.

1. stvaranje ustaškog pokreta
2. atentat u beogradskoj skupštini
3. sastavljanje Zagrebačkih punktacija
4. nastanak Banovine Hrvatske

- A. Ante Pavelić
- B. Ante Trumbić
- C. Nikola Pašić
- D. Puniša Račić
- E. Svetozar Pribićević
- F. Vladko Maček

	A.	B.	C.	D.	E.	F.
1.	<input type="checkbox"/>	<input type="checkbox"/>	<input type="checkbox"/>	<input type="checkbox"/>	<input type="checkbox"/>	<input type="checkbox"/>
2.	<input type="checkbox"/>	<input type="checkbox"/>	<input type="checkbox"/>	<input type="checkbox"/>	<input type="checkbox"/>	<input type="checkbox"/>
3.	<input type="checkbox"/>	<input type="checkbox"/>	<input type="checkbox"/>	<input type="checkbox"/>	<input type="checkbox"/>	<input type="checkbox"/>
4.	<input type="checkbox"/>	<input type="checkbox"/>	<input type="checkbox"/>	<input type="checkbox"/>	<input type="checkbox"/>	<input type="checkbox"/>

POV D-S011



05

# Povijest

## V. Zadatci kratkog odgovora (uz polazni sadržaj)

U sljedećim zadacima proučite povijesne izvore, povijesne zemljovide i slikovne priloge te odgovorite na postavljena pitanja jednom riječju ili jednostavnom rečenicom.

Odgovore upišite na predviđeno mjesto u ovoj knjižici.

Ne popunjavajte prostor za bodovanje.

**73.** Pozorno analizirajte povijesni izvor i odgovorite na postavljena pitanja.

*Neka je sa srećom. Za hijeromnamona Praksidama [Mahaneja mjeseca utvrđen je ugovor o osnivanju naseobine između] Isejaca te Pila i njegova sina Daza. Ovo [su osnivači naseobine ugovorili] i narod odlučio: da oni koji su prvi [zauzeli zemlju] i obzidali grad dobiju posebno zemljište za gradnju kuće unutar utvrđenoga grada, posebno s dijelom, a od zemlje koja je [izvan grada] da isti dobiju odvojeno prvi ždrjeb obradive zemlje od tri pletra, a od ostale djelove; da se zapiše [kakav je ždrjeb i kakav dio] svaki dobio; u trajnom posjedu neka bude njima i [njihovim potomcima] jedan pletar i pol po svakome; kasniji doseljenici neka dobiju od [neraspodijeljene zemlje u polju] četiri i pol pletra; da se [vlasti zakunu da neće nikad] ni grad ni zemlju ponovno dijeliti; ako netko od vladajućih nešto predloži ili se pak netko složi protiv ove [psefizme, taj neka potpadne pod atimiju,] a imetak njegov nek postane narodnim vlasništvom; nekažnjen nek ostane [onaj koji ga ubije]...*

**73.1.** Kako se naziva antički spomenik, pronađen na hrvatskom prostoru, na kojem je napisan prikazani povijesni izvor?

---

0

1

bod

**73.2.** Koji je antički narod osnovao naselje koje se spominje u prikazanom povijesnom izvoru?

---

0

1

bod

POV D-S011



02

# Povijest

74. Pozorno analizirajte povijesni zemljovid i odgovorite na postavljena pitanja.



74.1. U vrijeme kojeg rimskog cara je izvršena podjela prostora prikazana na povijesnom zemljovidu?

0

☐

1

☐

bod

74.2. Kojim je antičkim nazivom na povijesnom zemljovidu zabilježeno ime današnjih Vinkovaca?

0

☐

1

☐

bod

POV D-S011



02

# Povijest

- 75.** Pozorno pogledajte slikovni prilog sakralnog predmeta iz ranog srednjeg vijeka hrvatske povijesti i odgovorite na postavljena pitanja.



**75.1.** Koji je liturgijski predmet prikazan na slikovnom prilogu?

0

☐

1

☐

bod

**75.2.** Kako se naziva najpoznatija crkva franačkog tipa na tlu ranosrednjovjekovne Hrvatske?

0

☐

1

☐

bod

POV D-S011



02

# Povijest

**76.** Pozorno analizirajte povijesni izvor i odgovorite na postavljena pitanja.

*Ta nemila pošast najprije je počela sijati smrt među tupom stokom: šuga i guba potpuno su napadale na konje, goveda, ovce i koze tako da su im se dlake otkidale s leđa i padale na zemlju. Mršavjeli su i slabili te poslije malo dana ugibali. (...) Kad bi se čovjeku na kojem dijelu pojavio kakav znak žlijezde ili čira, spopala bi ga vrućica s groznicom. Takav nije više gajio nikakovu nadu da će na ovom svijetu dulje živjeti, već je smjesta najprije pobožno i skrušena srca ispovijedao svećeniku svoje grijehe, preporučivao dušu Bogu i stvarao oporuku. Ostali ljudi koji su još bili zdravi, vidjevši u kratkom vremenu tako strašan pomor i smrt mnogih ljudi i ne poznajući tu pošast, od silnog straha bili su kao bez duše i pameti, jer su se bojali slične nesreće i mislili da je došao kraj svijeta.*

**76.1.** U kojem se stoljeću u Europi javila opisana bolest?

0

1

bod

**76.2.** Koji je europski dugogodišnji rat obilježio englesku i francusku povijest u tom razdoblju?

0

1

bod

POV D-S011



02

# Povijest

77. Analizirajte povijesni zemljovid hrvatskih zemalja i odgovorite na postavljena pitanja.



77.1. Pod čijom su upravom bili prostori obilježeni plavom bojom?

0

☐

1

☐

bod

77.2. Pod čijom su upravom bili hrvatski prostori obilježeni ružičastom bojom?

0

☐

1

☐

bod

POV D-S011



02



# Povijest

78. Pozorno analizirajte prigodnu kovanicu i odgovorite na postavljena pitanja.



78.1. Kako se naziva dokument iz vremena pontifikata pape prikazanog na prigodnoj kovanici kojim je Crkva započela angažirano djelovanje na polju socijalne politike?

---

0

☐

1

☐

bod

78.2. Kako se nazivaju stranke čija se socijalna politika temelji na kršćanskim načelima?

---

0

☐

1

☐

bod

POV D-S011



02

# Povijest

- 79.** Pozorno pročitajte dio povijesnoga govora *Generali, Hrvatska se ne boji!* održanog u kolovozu 1991. godine na prosvjednom skupu pred zgradom Komande Pete vojne oblasti JNA i odgovorite na postavljena pitanja.

*Ja vas volim i ja se vama ponosim! I kad bih morao birati da li ću s vama umrijeti ili s generalskim strašilima živjeti, izabrao bih smrt. (...)*

*Kad bi generali imali obitelj, kad bi generali imali djecu, kad bi generali imali bližnje, nikad ne bi zaposjeli ovu našu zgradu. (...) Jer onaj tko tuđu djecu ubija – nema djece; jer onaj tko tuđe majke uciviljuje – nema majke; jer onaj tko tuđe domove ruši – nema doma. (...)*

*Ali mi imamo svoje gradove, mi imamo svoju kulturu, mi imamo svoju domovinu, svoju naciju. Neka nas puste na miru! Neka odlaze odavde!*

**79.1.** Koji je hrvatski političar održao navedeni govor?

\_\_\_\_\_

0

☐

1

☐

bod

**79.2.** Kako se naziva spontani pokret majki koje su se borile za puštanje svojih sinova/ročnika JNA?

\_\_\_\_\_

0

☐

1

☐

bod

POV D-S011



02

# Povijest

**80.** Pozorno proučite fragment povijesnog izvora i odgovorite na postavljena pitanja.

*Sudac Jackson je zatim u ime optužbe održao nastupni govor. On je opisao uspon stranke na vlast pomoću njenih udarnih trupa. (...) Mjesec dana nakon Hitlerovog dolaska na vlast došlo je do paleža Reichstaga, što su uzeli kao izgovor da od von Hindenburga dobiju stavljanje van snage najvažnijih odredbi Weimarskog ustava i povjeravanja diktatorskih ovlasti Hitleru. (...) Nacisti su ostvarili svoju ideologiju, progoneći razne crkve, naročito katoličku, usprkos konkordatu, koji su potpisali sa Sv. Stolicom... Ghetto je bio laboratorij za ispitivanje represivnih mjera. Židovska je imovina bila prva na redu za eksproprijaciju; međutim, običaj se širio i uključio slične mjere protiv antinacistički raspoloženih Nijemaca, Poljaka, Čeha, Francuza i Belgijanaca. Istrebljenje Židova omogućilo je nacistima da steknu vještinu u upotrebi sličnih mjera...*

*Sudac Jackson nastavio je sa zločinima u toku rata: ubijanje ratnih zarobljenika i talaca; pljačkanje umjetničkog blaga u okupiranim krajevima, nasilno regrutiranje ropske radne snage i njeno izgladnjivanje, rat protiv civilnog stanovništva na temelju ideologije „rase gospodara”.*

**80.1.** Gdje je održano suđenje koje se spominje u prikazanom povijesnom izvoru?

0

☐

1

☐

bod

**80.2.** Na kojoj je savezničkoj konferenciji donesena odluka o denacifikaciji Njemačke?

0

☐

1

☐

bod

POV D-S011



02

# Povijest

Prazna stranica

POV D-S011



99