



Идентификациона
налепница

ПАЖЉИВО НАЛЕПИТИ

ИСТОРИЈА

POV D-S009



POV.09.SR.R.K1.36



Историја

Празна страница

POV D-S009



99

УПУТСТВА

Пажљиво следите сва упутства.

Не okreћите страницу и не решавајте испит све док то не одобри дежурни наставник.

Налепите идентификационе налепнице на све испитне материјале које сте добили у сигурносној врећици.

Испит траје 120 минута без паузе.

Добро распоредите време како бисте могли да решите све задатке.

Испред сваке групе задатака је упутство за њихово решавање.

Пажљиво га прочитајте.

Током писања испита дозвољено је да користите хемијску оловку плаве или црне боје.

Пишите јасно и читко. Нечитки одговори бодоваће се са нула (0) бодова.

Кад решите испит, проверите одговоре.

Желимо Вам много успеха!

Ова испитна књижица има 36 страница, од тога 2 празне.

Ако сте погрешили приликом писања одговора, исправљате овако:

а) задатак затвореног типа

Добро



Исправљање погрешног уноса



Лоше

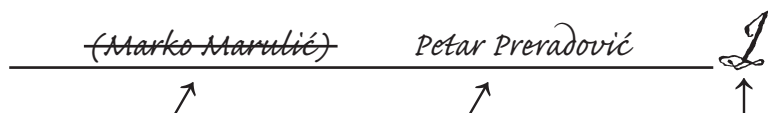


Преписани тачан одговор



Параф (скраћени потпис)

б) задатак отвореног типа



Прецртан нетачан одговор у заградама

Тачан одговор

Параф (скраћени потпис)

POV D-S009



99

Историја

Прва испитна целина

I Задаци вишеструког избора

У наредним задацима између четири понуђена треба да одаберете један одговор. Одговоре обележите знаком »Х« и обавезно их препишите на лист за одговоре.

1. За које се доба праисторије везује настанак и развој керамичарских култура?

- A. за енеолит
- B. за мезолит
- C. за неолит
- D. за палеолит

- A. ☐
- B. ☐
- C. ☐
- D. ☐

2. За коју се ранохришћанску епископију везује деловање светог Квирина?

- A. за Салону
- B. за Сисциу
- C. за Сирмиум
- D. за Стридон

- A. ☐
- B. ☐
- C. ☐
- D. ☐

3. Где се налазила држава Хетита?

- A. на Далеком истоку
- B. у југоисточној Европи
- C. у северној Африци
- D. у Малој Азији

- A. ☐
- B. ☐
- C. ☐
- D. ☐

POV D-S009



01

Историја

4. Положај којих народа/племена приказује ова карта?



- A. Илира
- B. Келта
- C. Пелазга
- D. Трачана

- A. ☐
- B. ☐
- C. ☐
- D. ☐

5. Који архонт је покушао да тимократријом реши друштвене проблеме Атине?

- A. Клистен
- B. Ликург
- C. Пизистрат
- D. Солон

- A. ☐
- B. ☐
- C. ☐
- D. ☐

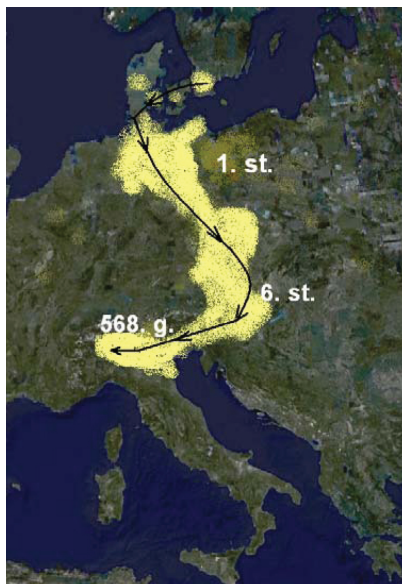
POV D-S009



01

Историја

6. Како се зове народ чија је сеоба приказана на карти?



- A. Лангобарди
- B. Остроготи
- C. Свеви
- D. Визиготи

- A. ☐
- B. ☐
- C. ☐
- D. ☐

7. О чему сведочи надгробни споменик хрватске краљице Јелене из 10. века?

- A. о родослову хрватских народних владара
- B. о византијској власти
- C. о франачкој власти
- D. о њеном пореклу

- A. ☐
- B. ☐
- C. ☐
- D. ☐

8. Који се назив користи за напредак на културном и уметничком плану за време каролиншких владара?

- A. романика
- B. каролиншка ренесанса
- C. готика
- D. италијански хуманизам

- A. ☐
- B. ☐
- C. ☐
- D. ☐

POV D-S009



01

Историја

9. Која је структура друштва приказана овом пирамидалном схемом?



- A. феудалног
- B. робовласничког
- C. ранокапиталистичког
- D. гродовско-племенског

A. ☐

B. ☐

C. ☐

D. ☐

10. Којим се појмом означава повратак с новчане на натуралну ренту у делу Хрватске током 16. века?

- A. колонат
- B. рефеудализација
- C. феудализација
- D. комутација

A. ☐

B. ☐

C. ☐

D. ☐

11. Којим је ратом Велика Британија одузела већину француских колонијалних поседа у Северној Америци?

- A. Америчким ратом за независност
- B. Ратом за аустријско наслеђе
- C. Седмогодишњим ратом
- D. Ратом за шпанско наслеђе

A. ☐

B. ☐

C. ☐

D. ☐

12. Која је држава престала да постоји одредбама мира у Кампоформију из 1797. године?

- A. Хабсбуршка Монархија
- B. Млетачка Република
- C. Османско Царство
- D. Сардинијско Краљевство

A. ☐

B. ☐

C. ☐

D. ☐

POV D-S009



01

Историја

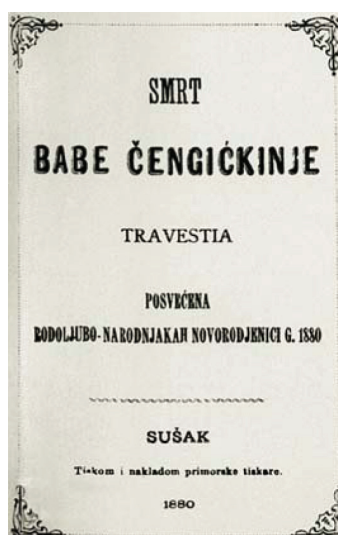
13. Који је хрватски бан посебним законом потврдио жупанијску поделу приказану на карти?



- A. Иван Мажуранић
B. Јосип Шокчевић
C. Куен Хедервари
D. Ладислав Пејачевић

- A. ☐
B. ☐
C. ☐
D. ☐

14. Који је хрватски бан због политичких потеза исмејан у овој политичкој трагедији?



- A. Иван Мажуранић
B. Јосип Јелачић
C. Јосип Шокчевић
D. Куен Хедервари

- A. ☐
B. ☐
C. ☐
D. ☐

POV D-S009



01

Историја

<p>15. Током ког рата је Велика Британија формирала савремену санитетску службу?</p> <p>A. Седмогодишњег рата B. Кримског рата C. Другог бурског рата D. Америчког рата за независност</p>	<p>A. <input type="checkbox"/> B. <input type="checkbox"/> C. <input type="checkbox"/> D. <input type="checkbox"/></p>
<p>16. Којим је поводом Владко Мачек изјавио цитирану реченицу?</p> <p>»Како видите лајбек (прслук) је раскопчан. Видовдански устав, који је преко седам година тиштио хрватски народ, срушен је...«</p> <p>A. проглашења Краљевства Срба, Хрвата и Словенаца B. проглашење Бановине Хрватске C. проглашење Шестојануарске диктатуре D. проглашење Октобарског устава</p>	<p>A. <input type="checkbox"/> B. <input type="checkbox"/> C. <input type="checkbox"/> D. <input type="checkbox"/></p>
<p>17. Како се назива економска политика која је формирала колхозе и совхозе у Совјетском Савезу?</p> <p>A. Нова економска политика (НЕП) B. планска економија C. колективизација D. ратни комунизам</p>	<p>A. <input type="checkbox"/> B. <input type="checkbox"/> C. <input type="checkbox"/> D. <input type="checkbox"/></p>
<p>18. Која је институција стајала иза »Декларације о називу и положају хрватског књижевног језика«?</p> <p>A. Југославенски лексикографски завод B. Матица хрватска C. Југославенска академија знаности и умјетности D. Институт за историју радничког покрета</p>	<p>A. <input type="checkbox"/> B. <input type="checkbox"/> C. <input type="checkbox"/> D. <input type="checkbox"/></p>
<p>POV D-S009</p> <p>01</p>	

Историја

19. Које су се године грађани Републике Хрватске позитивно изјаснили о наведеном питању са 93,24 % гласова?

»Јесте ли за то да Република Хрватска, као суверена и самостална држава, која јамчи културну аутономију и сва грађанска права Србима и припадницима других националности у Хрватској, може ступити у савез суверених држава с другим државама (према приједлогу Републике Хрватске и Републике Словеније за рјешење државне кризе СФРЈ)?«

- A. 1990.
- B. 1991.
- C. 1992.
- D. 1993.

- A. ☐
- B. ☐
- C. ☐
- D. ☐

20. Како се зове политика попуштања напетости у доба »Хладног рата«?

- A. политика отворених врата
- B. политика детанта
- C. политика несврстаних
- D. политика деколонизације

- A. ☐
- B. ☐
- C. ☐
- D. ☐

POV D-S009



01

Историја

II Задаци кратког одговора

У наредним задацима одговорите на постављена питања једном речју или једноставном реченицом.

Одговоре упишите на предвиђена места у овој књижици.

Не попуњавајте простор за бодовање.

21. Како се зове ера која почиње 16. јула 622. године по хришћанском начину рачунања времена?

0 ☐
1 ☐

бод

22. Који народ у 4. веку пре Христа продире из централне Европе на део територије данашње Хрватске?

0 ☐
1 ☐

бод

23. Који је војсковођа у Другом пунском рату повео војску из Хиспаније преко Галије и Алпа према Риму?

0 ☐
1 ☐

бод

24. Коју је колонију римских ветерана у Истри основао цар Август?

0 ☐
1 ☐


бод

POV D-S009




02

Историја

25. У ком се периоду каменог доба јавља тзв. култура облутака? _____	<div>0 <input type="checkbox"/></div> <div>1 <input type="checkbox"/></div> <div>бод</div>
26. Како се зове слој становника Спарте који су били робови? _____	<div>0 <input type="checkbox"/></div> <div>1 <input type="checkbox"/></div> <div>бод</div>
27. Који је хрватски историчар поводом хиљаду година Хрватског краљевства објавио дело »Повијест Хрвата у вријеме народних владара«? _____	<div>0 <input type="checkbox"/></div> <div>1 <input type="checkbox"/></div> <div>бод</div>
28. Коју је функцију обављао Карло Мартел на двору меровиншких краљева? _____	<div>0 <input type="checkbox"/></div> <div>1 <input type="checkbox"/></div> <div>бод</div>
29. Који је народ 955. године зауставио Отон I битком на Лешком пољу код данашњег Аугсбурга? _____	<div>0 <input type="checkbox"/></div> <div>1 <input type="checkbox"/></div> <div>бод</div>
POV D-S009	
 02	

Историја

<p>30. Који документ из 1630. године регулише положај пребега и Влаха на територији Хрватско-славонске војне границе?</p> <p>_____</p>	<p>0 <input type="checkbox"/></p> <p>1 <input type="checkbox"/></p> <p>бод</p>
<p>31. Које је краљевство завладало источном јадранском територијом од Кварнера до Драча одредбама мира у Задру из 1358. године?</p> <p>_____</p>	<p>0 <input type="checkbox"/></p> <p>1 <input type="checkbox"/></p> <p>бод</p>
<p>32. Који је хрватски град погодио снажан земљотрес 1667. године?</p> <p>_____</p>	<p>0 <input type="checkbox"/></p> <p>1 <input type="checkbox"/></p> <p>бод</p>
<p>33. Како се називају две политичке партије у Енглеској настале током грађанског рата и револуције у 17. веку?</p> <p>_____</p>	<p>0 <input type="checkbox"/></p> <p>1 <input type="checkbox"/></p> <p>бод</p>
<p>POV D-S009</p> <p> 02</p>	

Историја

34. Како се зове средњовековна држава која је на карти означена жутом бојом?



0

1

бод

35. Којој политичкој партији из 19. века припада изрека »Да Бог поживи конституцију Угарску, Краљевину Хрватску и народност Илирску«?

0

1

бод

36. Како је хрватски народ звао државне службенике у време Баховог апсолутизма?

0

1

бод

37. Коју су стратешку тачку стекли Британци у Средоземном мору за време Рата за шпанско наслеђе?

0

1


бод

POV D-S009



02

Историја

<p>38. Како се зове хрватски писац, аутор дела »Croatia rediviva« (Оживела Хрватска)?</p> <p>_____</p>	<p>0 <input type="checkbox"/></p> <p>1 <input type="checkbox"/></p> <p>бод</p>
<p>39. Како се зову политичка окупљања из друге половине 19. века која су допринела стварању савремене словенске нације?</p> <p>_____</p>	<p>0 <input type="checkbox"/></p> <p>1 <input type="checkbox"/></p> <p>бод</p>
<p>40. Како се зове спољнополитичка доктрина Сједињених Америчких Држава према земљама Латинске Америке у 19. веку?</p> <p>_____</p>	<p>0 <input type="checkbox"/></p> <p>1 <input type="checkbox"/></p> <p>бод</p>
<p>POV D-S009</p> <p> 02</p>	

Историја

41. Којим су миром ослобођени хрватске територије од османлијске власти, а означене су на карти жутом бојом?



0

1

бод

42. Како се зове политичко тело које је 29. октобра 1918. године донело одлуку о прекиду државних и правних веза Краљевине Хрватске, Славоније и Далмације са Краљевином Угарском и Царевиним Аустријом?

0

1

бод

43. Где су одржане Олимпијске игре на којима је Хрватска као самостална држава освојила прве медаље?

0

1


бод

POV D-S009



02

Историја

<p>44. Како се зове покретач и организатор модерне здравствене службе у Хрватској између два светска рата?</p> <p>_____</p>	<p>0 <input type="checkbox"/></p> <p>1 <input type="checkbox"/></p> <p>бод</p>
<p>45. Како се зове совјетски државник који је покренуо политику гласности и перестројке у СССР-у?</p> <p>_____</p>	<p>0 <input type="checkbox"/></p> <p>1 <input type="checkbox"/></p> <p>бод</p>
<p>46. Којом је Земљином паралелом успостављена данашња граница између Северне и Јужне Кореје 1953. године?</p> <p>_____</p>	<p>0 <input type="checkbox"/></p> <p>1 <input type="checkbox"/></p> <p>бод</p>
<p>47. Која је држава настала током Првог балканског рата?</p> <p>_____</p>	<p>0 <input type="checkbox"/></p> <p>1 <input type="checkbox"/></p> <p>бод</p>
<p>48. Која је држава подељена »политиком попуштања« западних држава на Минхенској конференцији 1938. године?</p> <p>_____</p>	<p>0 <input type="checkbox"/></p> <p>1 <input type="checkbox"/></p> <p>бод</p>
<p>POV D-S009</p> <p> 02</p>	

Историја

Друга испитна целина

III Задаци вишеструког избора

У наредним задацима између четири понуђена треба да одаберете један одговор. Одговоре обележите знаком »Х« и обавезно их препишите на лист за одговоре.

49. Који низ одређује тачан хронолошки редослед почетка употребе наведеног оруђа и оружја?

- A. облутак → лук и стрела → ручни клин → копље
- B. ручни клин → копље → облутак → лук и стрела
- C. облутак → ручни клин → копље → лук и стрела
- D. копље → облутак → ручни клин → лук и стрела

A.

B.

C.

D.

50. Који низ одређује тачан хронолошки редослед наведених догађаја из јеврејске историје старог века?

- A. египатско ропство → савез с Јахве → вавилонско ропство → доба краљева
- B. савез с Јахве → вавилонско ропство → доба краљева → египатско ропство
- C. египатско ропство → савез с Јахве → доба краљева → вавилонско ропство
- D. египатско ропство → вавилонско ропство → доба краљева → савез с Јахве

A.

B.

C.

D.

POV D-S009



02

Историја

51. Који низ одређује тачан хронолошки редослед наведених догађаја из римске историје?

- A. Милански едикт → хришћанство као државна вера → Вандали пљачкају Рим → пад Западног Римског царства
- B. хришћанство као државна вера → Милански едикт → Вандали пљачкају Рим → пад Западног Римског царства
- C. Вандали пљачкају Рим → Милански едикт → хришћанство као државна вера → пад Западног Римског царства
- D. пад Западног Римског царства → Милански едикт → хришћанство као државна вера → Вандали пљачкају Рим

A. ☐
B. ☐
C. ☐
D. ☐

52. Који низ одређује тачан хронолошки редослед наведених локалитета?

- A. Вучедол → Шандаља I → Данило → Хушњаково брдо
- B. Шандаља I → Данило → Хушњаково брдо → Вучедол
- C. Шандаља I → Хушњаково брдо → Данило → Вучедол
- D. Данило → Хушњаково брдо → Шандаља I → Вучедол

A. ☐
B. ☐
C. ☐
D. ☐

53. Који низ одређује тачан хронолошки редослед наведених античких споменика на хрватским територијама?

- A. Августов храм у Пули → Диоклецијанова палата → Каирос → Арена у Пули
- B. Каирос → Диоклецијанова палата → Августов храм у Пули → Арена у Пули
- C. Арена у Пули → Каирос → Диоклецијанова палата → Августов храм у Пули
- D. Каирос → Августов храм у Пули → Арена у Пули → Диоклецијанова палата

A. ☐
B. ☐
C. ☐
D. ☐

POV D-S009



01

Историја

54. Који низ одређује тачан хронолошки редослед наведених докумената из хрватске историје раног средњег века?

- A.** писмо папе Јована VIII Домагоју → писмо папе Јована X Томиславу → писмо папе Јована VIII Бранимиру → крунидбена писана заклетва Дмитра Звонимира
- B.** писмо папе Јована VIII Бранимиру → писмо папе Јована X Томиславу → писмо папе Јована VIII Домагоју → крунидбена писана заклетва Дмитра Звонимира
- C.** писмо папе Јована VIII Домагоју → писмо папе Јована VIII Бранимиру → писмо папе Јована X Томиславу → крунидбена писана заклетва Дмитра Звонимира
- D.** писмо папе Јована X Томиславу → писмо папе Јована VIII Домагоју → писмо папе Јована VIII Бранимиру → крунидбена писана заклетва Дмитра Звонимира

A. ☐
B. ☐
C. ☐
D. ☐

55. Који низ одређује тачан хронолошки редослед појаве наведених црквених редова?

- A.** бенедиктинци → темплари → фрањевци → исусовци
- B.** фрањевци → бенедиктинци → исусовци → темплари
- C.** исусовци → бенедиктинци → фрањевци → темплари
- D.** темплари → бенедиктинци → фрањевци → исусовци

A. ☐
B. ☐
C. ☐
D. ☐

56. Који низ одређује тачан хронолошки редослед наведених ратних година?

- A.** битка код Хестингса → почетак крсташких ратова → Рат ружа → почетак Стогодишњег рата
- B.** почетак Стогодишњег рата → битка код Хестингса → почетак крсташких ратова → Рат ружа
- C.** битка код Хестингса → почетак крсташких ратова → почетак Стогодишњег рата → Рат ружа
- D.** почетак крсташких ратова → битка код Хестингса → Рат ружа → почетак Стогодишњег рата

A. ☐
B. ☐
C. ☐
D. ☐

POV D-S009



01

Историја

57. Који низ одређује тачан хронолошки редослед наведених битака са Турцима Османлијама?

- A. Крбавско поље → Клис → Сигет → Сисак
- B. Клис → Крбавско поље → Сисак → Сигет
- C. Крбавско поље → Сисак → Сигет → Клис
- D. Клис → Сигет → Крбавско поље → Сисак

- A. ☐
- B. ☐
- C. ☐
- D. ☐

58. Који низ одређује тачан хронолошки редослед догађаја за време тзв. Противдворског покрета?

- A. продаја Далмације Млечанима → »крвави сабор крижевачки« → смрт Лудовика I Анжујца → битка код Никопоља
- B. продаја Далмације Млечанима → смрт Лудовика I Анжујца → »крвави сабор крижевачки« → битка код Никопоља
- C. смрт Лудовика I Анжујца → битка код Никопоља → »крвави сабор крижевачки« → продаја Далмације Млечанима
- D. »крвави сабор крижевачки« → смрт Лудовика I Анжујца → битка код Никопоља → продаја Далмације Млечанима

- A. ☐
- B. ☐
- C. ☐
- D. ☐

59. Који низ одређује тачан хронолошки редослед формирања наведених политичких странака у Банској Хрватској током 19. века?

- A. Илirsка странка → Странка права → Неодвисна народна странка → Напредна омладина
- B. Илirsка странка → Странка права → Напредна омладина → Неодвисна народна странка
- C. Илirsка странка → Напредна омладина → Странка права → Неодвисна народна странка
- D. Странка права → Илirsка странка → Напредна омладина → Неодвисна народна странка

- A. ☐
- B. ☐
- C. ☐
- D. ☐

POV D-S009



01

Историја

60. Који низ одређује тачан хронолошки редослед наведених догађаја из хрватске историје у другој половини 19. века?

- A. прво заседање Далматинског и Истарског сабора → Прва господарска изложба → Хрватско-угарска нагодба → Раковичка буна
- B. Прва господарска изложба → прво заседање Далматинског и Истарског сабора → Хрватско-угарска нагодба → Раковичка буна
- C. прво заседање Далматинског и Истарског сабора → Раковичка буна → Прва господарска изложба → Хрватско-угарска нагодба
- D. Раковичка буна → прво заседање Далматинског и Истарског сабора → Прва господарска изложба → Хрватско-угарска нагодба

A. ☐
B. ☐
C. ☐
D. ☐

61. Који низ одређује тачан хронолошки редослед наведених догађаја из француске историје?

- A. Република → Конзулат → Директоријум → Царство
- B. Директоријум → Република → Конзулат → Царство
- C. Република → Директоријум → Конзулат → Царство
- D. Конзулат → Република → Директоријум → Царство

A. ☐
B. ☐
C. ☐
D. ☐

62. Који низ одређује тачан хронолошки редослед наведених догађаја из европске историје у другој половини 19. века?

- A. Берлински конгрес → проглашење Краљевине Италије → завршетак уједињења Немачке → формирање Аустроугарске монархије
- B. проглашење Краљевине Италије → формирање Аустроугарске монархије → завршетак уједињења Немачке → Берлински конгрес
- C. формирање Аустроугарске монархије → проглашење Краљевине Италије → завршетак уједињења Немачке → Берлински конгрес
- D. проглашење Краљевине Италије → завршетак уједињења Немачке → формирање Аустроугарске монархије → Берлински конгрес

A. ☐
B. ☐
C. ☐
D. ☐

POV D-S009



01

Историја

63. Који низ одређује тачан хронолошки редослед наведених догађаја из америчке историје 18. века?

- A. Декларација независности → мир у Паризу → Закон о таксама → Бостонска чајанка
- B. Закон о таксама → Декларација независности → Бостонска чајанка → мир у Паризу
- C. Бостонска чајанка → Закон о таксама → мир у Паризу → Декларација независности
- D. Закон о таксама → Бостонска чајанка → Декларација независности → мир у Паризу

A.

B.

C.

D.

64. Који низ одређује тачан хронолошки редослед наведених догађаја из историје света после Другог светског рата?

- A. оснивање Покрета несврстаних → почетак »Хладног рата« → Прашко пролеће → пад Берлинског зида
- B. почетак »Хладног рата« → оснивање Покрета несврстаних → Прашко пролеће → пад Берлинског зида
- C. Прашко пролеће → почетак »Хладног рата« → оснивање Покрета несврстаних → пад Берлинског зида
- D. пад Берлинског зида → Прашко пролеће → почетак »Хладног рата« → оснивање Покрета несврстаних

A.

B.

C.

D.

POV D-S009



01

Историја

65. Који низ одређује тачан хронолошки редослед наведених догађаја у Царској Русији у 20. веку?

- A.** Октобарска револуција → Априлске тезе → крвава недеља → Фебруарска револуција
- B.** Априлске тезе → Октобарска револуција → крвава недеља → Фебруарска револуција
- C.** крвава недеља → Фебруарска револуција → Априлске тезе → Октобарска револуција
- D.** Фебруарска револуција → Априлске тезе → крвава недеља → Октобарска револуција

A.

B.

C.

D.

66. Који низ одређује тачан хронолошки редослед наведених докумената?

- A.** Крфска декларација → Мајска декларација → Прводецембарско проглашење → Женевска декларација
- B.** Прводецембарско проглашење → Мајска декларација → Крфска декларација → Женевска декларација
- C.** Крфска декларација → Прводецембарско проглашење → Мајска декларација → Женевска декларација
- D.** Мајска декларација → Крфска декларација → Женевска декларација → Прводецембарско проглашење

A.

B.

C.

D.

POV D-S009



01

Историја

67. Који низ одређује тачан хронолошки редослед наведених ослободилачких акција хрватске полиције и војске током Домовинског рата?

- A. Олуја → Бљесак → Медачки џеп → Масленица
- B. Масленица → Медачки џеп → Бљесак → Олуја
- C. Бљесак → Медачки џеп → Масленица → Олуја
- D. Олуја → Масленица → Медачки џеп → Бљесак

A.

B.

C.

D.

68. Који низ одређује тачан хронолошки редослед наведених догађаја у Југославији између два светска рата?

- A. оснивање Бановине Хрватске → Шестојануарска диктатура → атентат у Марсеју → Октроисани устав
- B. Шестојануарска диктатура → Октроисани устав → атентат у Марсеју → оснивање Бановине Хрватске
- C. Октроисани устав → атентат у Марсеју → Шестојануарска диктатура → оснивање Бановине Хрватске
- D. Шестојануарска диктатура → оснивање Бановине Хрватске → Октроисани устав → атентат у Марсеју

A.

B.

C.

D.

POV D-S009



01

Историја

IV Задаци повезивања

У наредним задацима сваком делу питања означеним бројем придружите део одговора означеним словом.

Одговоре обележите знаком »Х« и обавезно их препишите на лист за одговоре.

69. Сваком временском одређењу или датовању придружите одговарајућу годину.

1. 100. година од оснивања Рима
2. прва година II Олимпијаде
3. почетак старог века
4. почетак средњег века

- A.** око 3500. г. пре Христа
B. 772. г. пре Христа
C. 753. г. пре Христа
D. 653. г. пре Христа
E. 375. г.
F. 476. г.

	A.	B.	C.	D.	E.	F.
1.						
2.						
3.						
4.						

70. Сваком хрватском месту придружите одговарајућу старохрватску цркву.

1. Цетина
2. Јурандвор
3. Нин
4. Задар

- A.** црква св. Луције
B. црква св. Тројице
C. црква св. Јакова
D. црква св. Крижа
E. црква св. Спаса
F. црква св. Доната

	A.	B.	C.	D.	E.	F.
1.						
2.						
3.						
4.						

POV D-S009



05

Историја

71. Сваком проналаску придружите његовог проналазача.

1. усавршавање парне машине
2. изменична струја
3. мотор са унутрашњим сагоревањем
4. локомотива

- A.** Џорџ Стивенсон
B. Џејмс Ват
C. Никола Тесла
D. Роберт Кох
E. Рудолф Дизел
F. Томас Алва Едисон

	A.	B.	C.	D.	E.	F.
1.						
2.						
3.						
4.						

72. Свакој особи придружите подручје њеног деловања.

1. Ђурђица Бједов
2. Марија Јурић-Загорка
3. Савка Дапчевић-Кучар
4. Весна Парун

- A.** песништво
B. политика
C. новинарство
D. глума
E. сликарство
F. спорт

	A.	B.	C.	D.	E.	F.
1.						
2.						
3.						
4.						

POV D-S009



05

Историја

V Задаци кратког одговора (уз полазни садржај)

У наредним задацима проучите историјске изворе, историјске карте и сликовне додатке те одговорите на постављена питања једном речју или једноставном реченицом. Одговоре упишите на предвиђено место у овој књижици. Не попуњавајте простор за бодовање.

73. Пажљиво погледајте део славолука римска цара Тита и одговорите на постављена питања.



73.1. Разарање и пљачкање ког града је приказано на делу Титовог славолука?

0

1

бод

73.2. Који народ симболише менора на слици?

0

1

бод

POV D-S009



02

Историја

74. Пажљиво анализирајте сликовни додатак античких остатака грађевине који је водио од извора реке Јадро и одговорите на постављена питања.



74.1. Како се зову приказане врсте античких грађевина?

0 ☐
1 ☐

бод

74.2. За време ког цара је саграђен приказани објекат?

0 ☐
1 ☐

бод

POV D-S009



02

Историја

75. Пажљиво проучите историјску карту Пиринејског полуострва из 12. века и одговорите на постављена питања.



75.1. Које се две доминантне религије сукобљавају на Пиринејском полуострву од 8. до 15. века?

0

1

бод

75.2. Који је град био последњи ослобођен у тзв. реконквисти?

0

1

бод

POV D-S009



02

Историја

76. Пажљиво прочитајте одломак из историјског извора и одговорите на постављена питања.

- 1 *Vъ ime B(o)žie, amen. Let g(ospod)nih 128[8], indicio pravo
dan 6 miseca jenvara.-
Vъ vrěme krala Ladislava preslavnoga krala ugrskoga kralestva
nega leto 6 na deset[e]*
- 5 *Va vrime ubo velikih muži gospode Fedriga,
Ivana, Levnarda, Duima, Bartola i Vida,
krčkih, vinodolskih i modruških knezi.-
Zač dole kr[at] videći ludi ki bludeći
svoih stariih[i is]kušениh zakon zato ubo edin
10 *po edinom i [vsi] ludi vinodolski želeći
one stare d[obre z]akone shraniti e na puni ke
nih prvi v[sag]da su [shra]neni neurěeni.-**

76.1. Како се зове документ коме припада цитирани део?

0 ☐

1 ☐

бод

76.2. Којим је писмом изворно писан тај документ?

0 ☐

1 ☐

бод

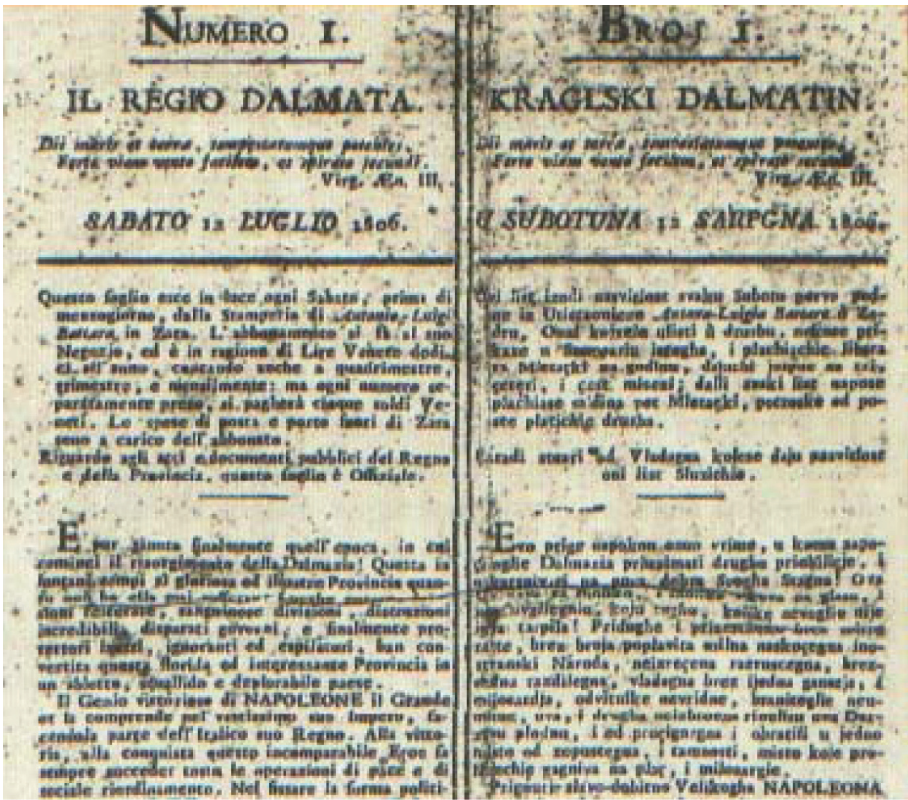
POV D-S009




02

Историја

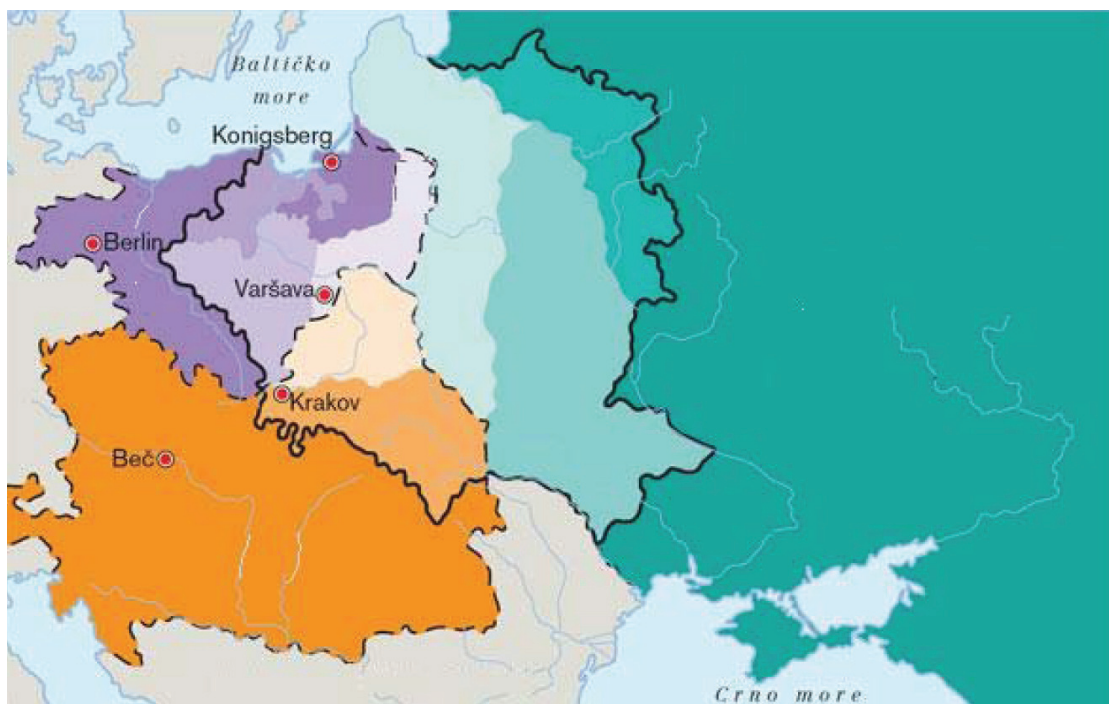
77. Пажљиво погледајте сликовни додатак и одговорите на постављена питања.



<p>77.1. За време управе којег царства Далмацијом је покренуто издавање приказаних новина?</p> <p>_____</p>	<div>0<input type="checkbox"/></div> <div>1<input type="checkbox"/></div> <div>бод</div>
<p>77.2. Како се зове цивилни управник Далмације заслужан за покретање тих новина?</p> <p>_____</p>	<div>0<input type="checkbox"/></div> <div>1<input type="checkbox"/></div> <div>бод</div>
<p>POV D-S009</p>	<div> 02</div>

Историја

78. Пажљиво проучите историјску карту и одговорите на постављена питања.



78.1. Комадање које европске државе приказује карта?

0

1

бод

78.2. Које су три државе суделовале у том распарчавању?

0

1

бод

POV D-S009



02

Историја

79. Пажљиво прочитајте историјски извор и одговорите на постављена питања.

Чл. 1. Њихове земље не теже ни за каквим територијалним или било каквим другим повећањем.

Чл. 2. Њихова жеља је да не буде никаквих територијалних промена које не би одговарале слободно израженој вољи заинтересованих народа.

Чл. 3. Оне поштују право свих народа да изаберу облик владавине који им одговара; оне желе да суверена права и право управљања самим собом буду враћена онима којима су била силом одузета.

Чл. 4. Оне ће, потпуно поштујући своје постојеће обавезе настојати да придонесу да све државе велике или мале, победнице и побеђене – имају под једнаким условима приступ светској трговини и сировинама за њихово економско благостање.

Чл. 5. Оне желе постићи најцеловитију сарадњу међу свим народима на економском пољу, како би се обезбедили бољи услови рада, економски напредак и социјално осигурање.

Чл. 6. Оне се надају да ће се после коначног уништења нацистичке тираније, успоставити мир, који ће омогућити свим народима да живе у безбедности у својим границама, и обезбедити свим људима у свим земљама да могу да живе ослобођени страха и беде.

79.1. Како се зове приказани историјски документ са почетка Другог светског рата?

0

☐

1

☐

бод

79.2. Која два државника су потписала тај документ?

0

☐

1

☐

бод

POV D-S009



02

Историја

80. Пажљиво прочитајте историјски извор и одговорите на постављена питања.

1. Република Хрватска од дана 8. октобра 1991. године раскида државно-правне везе на темељу којих је заједно са осталим република и покрајинама чинила досадашњу СФРЈ.
2. Република Хрватска одриче легитимитет и легалитет свим телима досадашње федерације – СФРЈ.
3. Република Хрватска не признаје ваљаним нити један правни акт било којег тела које наступа у име бивше федерације – СФРЈ.
4. Република Хрватска признаје самосталност и сувереност осталих република бивше СФРЈ, на темељу начела узајамности и спремна је са оним република с којима није у оружаном сукобу да успостави и развија пријатељске, политичке, привредне, културне и друге односе.
5. Република Хрватска као суверена и самостална држава јамчећи и осигуравајући темељна права човека и националних мањина, загарантованим изричито Општом декларацијом Уједињених народа, Завршним актом Хелсиншке конференције, документима КЕСС-а и Паришком повељом у склопу европских интеграцијских токова, приправна је улазити у међудржавне и међурегионалне асоцијације с другим демократским државама.
6. Република Хрватска наставиће поступак утврђивања међусобних права и обавеза у односу на остале републике бивше СФРЈ и у односу на бившу федерацију.
7. Ова одлука ступа на снагу у тренутку њеног доношења 8. октобра 1991.

80.1. Који државни празник обележава дан ступања на снагу приказаног документа?

0

☐

1

☐

бод

80.2. Који је пуни назив државе из које је тим документом иступила Хрватска?

0

☐

1

☐

бод

POV D-S009



02

Историја

Празна страница

POV D-S009



99