

GEOGRAFIJA

Ispitna knjižica 2

GEO IK-2 D-S015

GEO.15.HR.R.K2.24



12

Geografija

Prazna stranica



OPĆE UPUTE

Pozorno pročitajte sve upute i slijedite ih.

Ne okrećite stranicu i ne rješavajte zadatke dok to ne odobri dežurni nastavnik.

Nalijepite identifikacijske naljepnice na sve ispitne materijale koje ste dobili u sigurnosnoj vrećici.

Ispit traje **90** minuta bez stanke.

Zadatci se nalaze u dvjema ispitnim knjižicama. Redoslijed rješavanja birajte sami.

Dobro rasporedite vrijeme kako biste mogli riješiti sve zadatke.

Ispred svake skupine zadataka je uputa za njihovo rješavanje. Pozorno je pročitajte.

Odgovore upišite **samo** na predviđeno mjesto u ovoj ispitnoj knjižici.

Pišite čitko. Nečitki odgovori bodovat će se s nula (0) bodova. Ako pogriješite u pisanju, pogreške stavite u zagrade, precrtajte ih i stavite skraćeni potpis.

Upotrebjavajte isključivo kemijsku olovku kojom se piše plavom ili crnom bojom.

Kada riješite zadatke, provjerite odgovore.

Želimo Vam mnogo uspjeha!

Ova ispitna knjižica ima 24 stranice, od toga 2 prazne.

Ako ste pogriješili u pisanju odgovora, ispravite ovako:

a) zadatak zatvorenoga tipa

Ispravno



Ispravak pogrešnog unosa



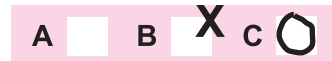
C



Prepisan točan odgovor

Skraćeni potpis

Neispravno



b) zadatak otvorenoga tipa

~~(Marko Marulić)~~

Petar Preradović



Precrtan netočan odgovor u zagradama

Točan odgovor

Skraćeni potpis



Geografija

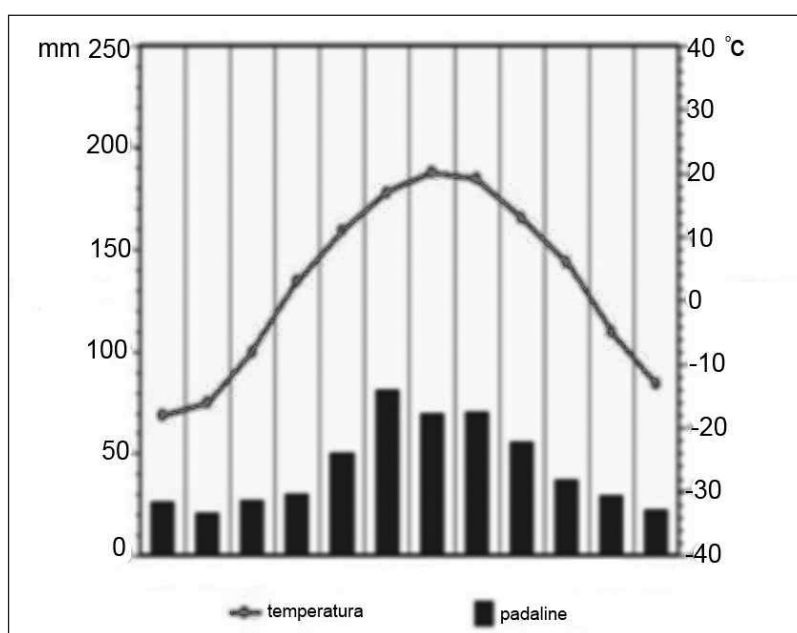
V. Zadaci kratkoga odgovora i dopunjavanja

U sljedećim zadacima odgovorite kratkim odgovorom (riječju ili brojem) ili dopunite rečenicu, kartu ili tablicu upisivanjem sadržaja koji nedostaje.

Odgovore upišite **samo** na predviđeno mjesto u ovoj ispitnoj knjižici.

Ne popunjavajte prostor za bodovanje.

41. Zadatak riješite analizom priloženoga klimatskog dijagrama.



Dopunite sljedeće rečenice.

41.1. Dijagram je izrađen za meteorološku postaju koja ima

_____ tip klime.

0 ☐
2 ☐
bod

41.2. Godišnja amplituda temperature zraka iznosi _____.
(Zaokružite na cijeli broj.)

0 ☐
2 ☐
bod

41.3. Vegetacijska zajednica koja je karakteristična za prikazani tip klime

naziva se _____.

0 ☐
2 ☐
bod



Geografija

- 42.** Koliko kvadratnih kilometara u prirodi prikazuje kvadrat ucrtan na karti u mjerilu 1:25 000, a čija je stranica duljine 4 centimetra?

Prostor za računanje:

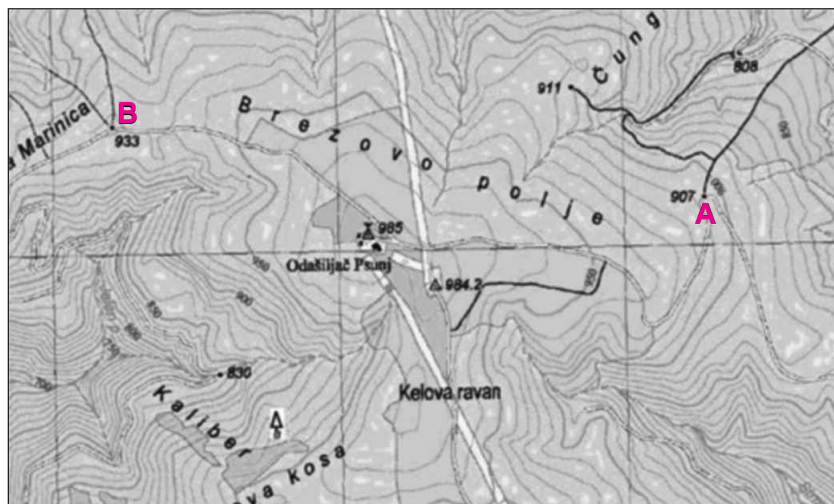
Odgovor: _____

0 ☐
2 ☐
bod



Geografija

43. Zadatak riješite s pomoću priloženoga isječka geografske karte.



Kolika je relativna visina kote **B** u odnosu na kotu **A**? _____

0

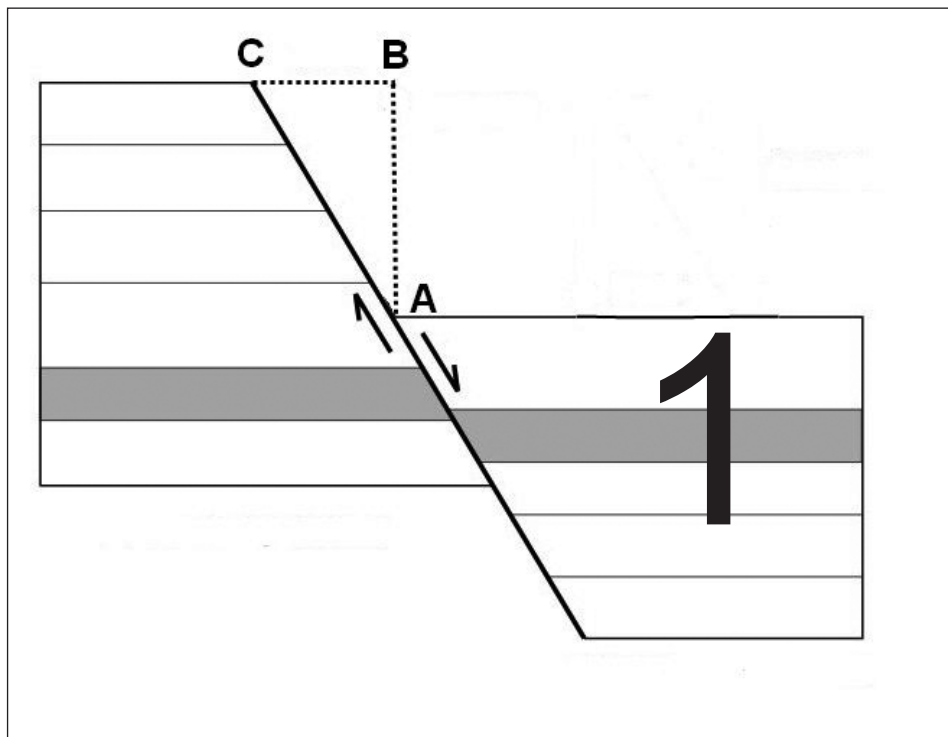
2

bod



Geografija

44. Zadatak riješite s pomoću priloženoga crteža.



44.1. Kako se naziva krilo rasjeda označeno brojem 1?

44.2. Kako se naziva pomak krila između točaka A i B?

0 ☐

1 ☐

bod

0 ☐

1 ☐

bod



Geografija

45. Zadatak riješite s pomoću priložene geografske karte.



45.1. Kako glasi puni naziv tipa klime koji prevladava u obalnome dijelu prostora označenoga na karti crvenom bojom? _____

45.2. U kojoj je od država, čiji je obalni prostor na karti označen crvenom bojom, najrazvijeniji kupališni turizam? _____
(Upišite ime države.)

0	<input type="checkbox"/>
2	<input type="checkbox"/>
bod	

0	<input type="checkbox"/>
2	<input type="checkbox"/>
bod	



Geografija

- 46.** Izračunajte broj stanovnika za naselje za 2001. godinu ako je popisom 2011. godine utvrđeno **676** stanovnika, prirodna promjena je **0**, a migracijski saldo je **+21** stanovnik.

Prostor za računanje:

Odgovor: _____

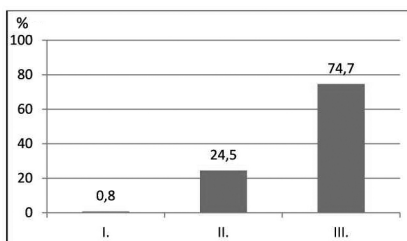
0 ☐
2 ☐
bod



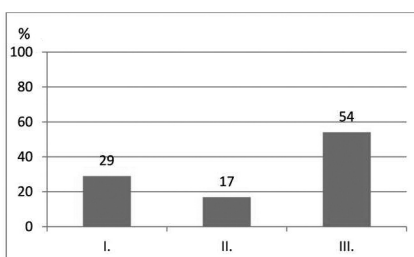
Geografija

47. Zadatak riješite analizom priloženih grafičkih prikaza gospodarske strukture stanovništva Belgije, Čilea, Haitija i Nigerije. Na crtu uz svaki grafički prikaz upišite ime države kojoj pripada.

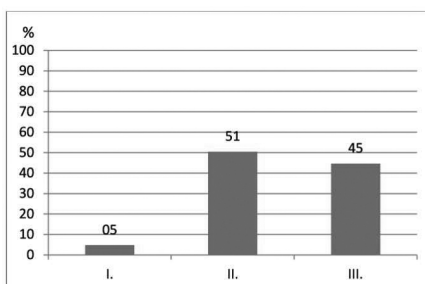
47.1.



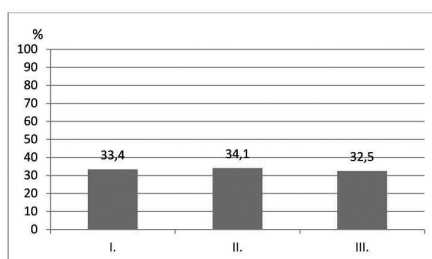
47.2.



47.3.



47.4.



0 ☐
1 ☐
bod

0 ☐
1 ☐
bod

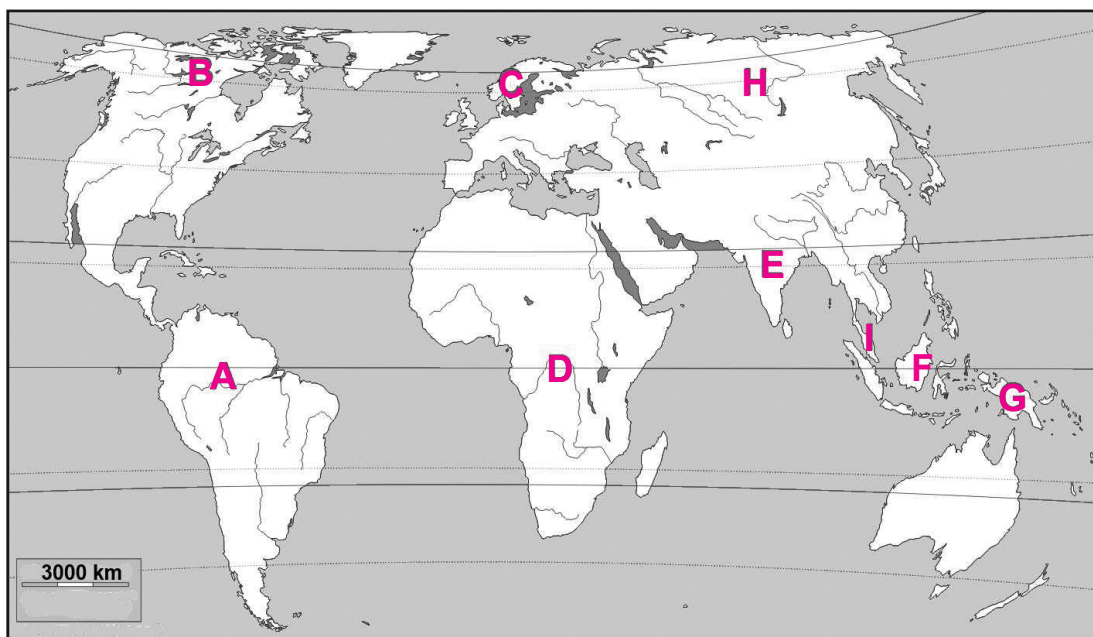
0 ☐
1 ☐
bod

0 ☐
1 ☐
bod



Geografija

48. Zadatak riješite s pomoću priložene geografske karte svijeta.



48.1. Kako se nazivaju izvorne (prirodne) šume koje rastu u prostoru označenome na karti slovima **A** i **D**? _____

48.2. Malezija je na karti označena slovom _____.

48.3. Nova Gvineja je na karti označena slovom _____.

0 ☐

2 ☐

bod

0 ☐

2 ☐

bod

0 ☐

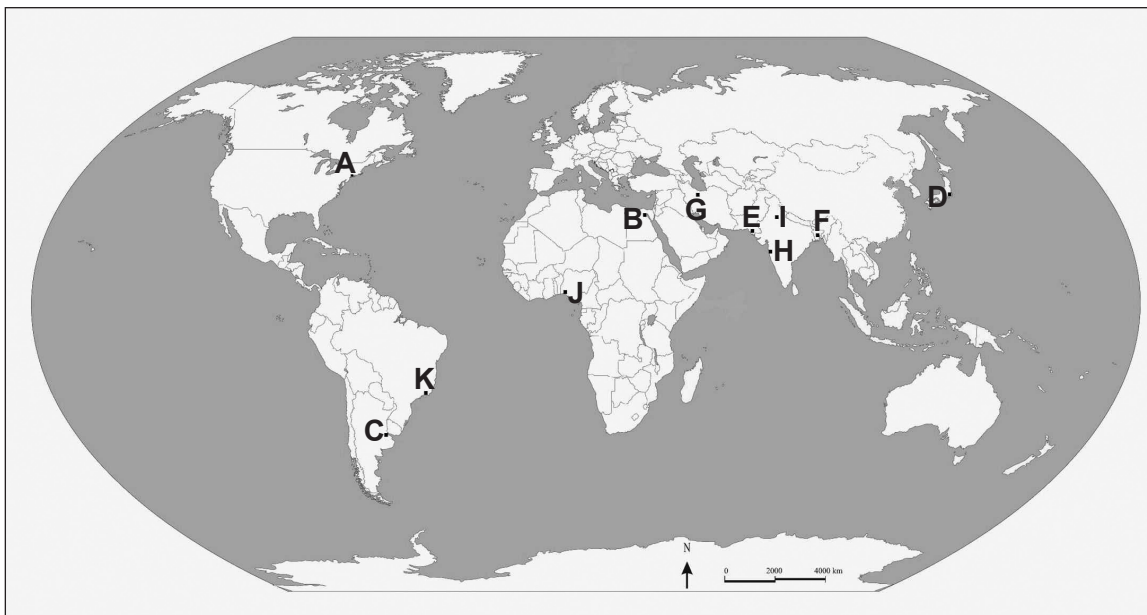
2 ☐

bod



Geografija

49. Zadatak riješite s pomoću priložene geografske karte svijeta na kojoj su označeni odabrani gradovi.



Dopunite sljedeće rečenice.

49.1. Ime megagrađa na rijeci Nil je _____,

a označen je na karti slovom _____.

49.2. Ime megagrađa u Bangladešu je _____,

a označen je na karti slovom _____.

49.3. Ime megagrađa u japanskoj regiji Kanto je _____,

a označen je na karti slovom _____.

0 ☐

2 ☐

bod

0 ☐

2 ☐

bod

0 ☐

2 ☐

bod

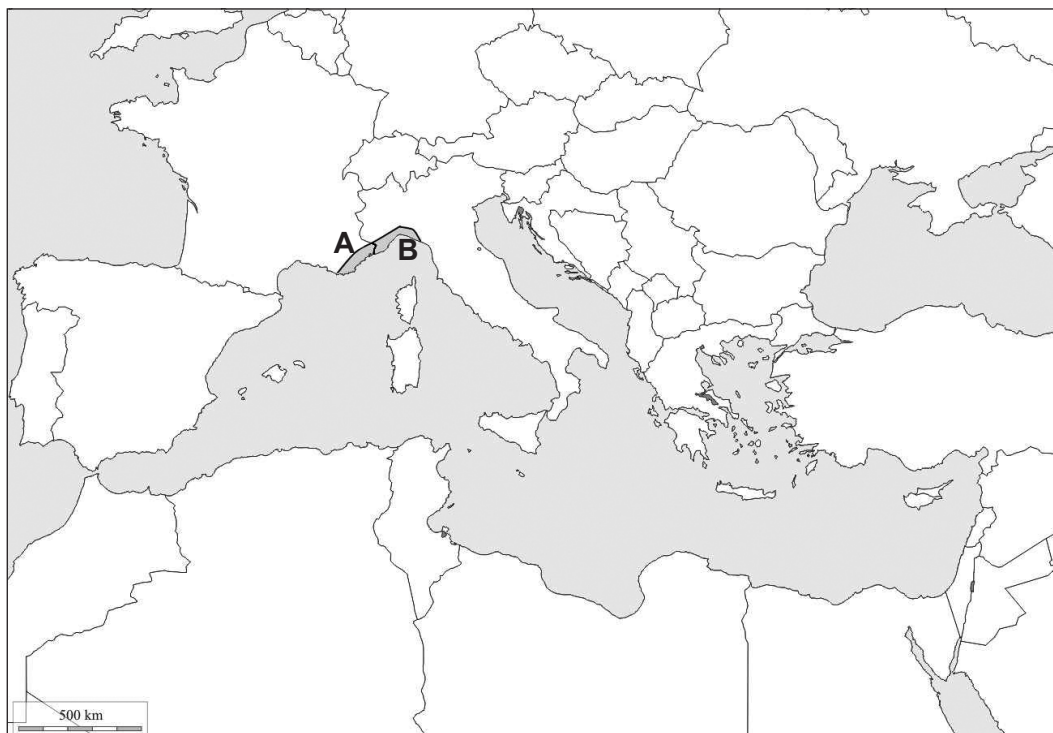
GEO IK-2 D-S015



02

Geografija

50. Zadatak riješite s pomoću priložene geografske karte Sredozemlja.



Dopunite sljedeće rečenice.

50.1. Ime turističke regije označene na karti slovom **A** je _____.

50.2. Turistička regija označena na karti slovom **B** nalazi se na obali
_____ mora.

0	<input type="checkbox"/>
1	<input type="checkbox"/>
bod	

0	<input type="checkbox"/>
1	<input type="checkbox"/>
bod	



Geografija

51. Zadatak riješite s pomoću priložene geografske karte Njemačke.



Upišite na kartu tražena slova i dopunite sljedeće rečenice.

51.1. Upišite slovo **R** u saveznu zemlju u kojoj se nalazi Ruhr.

Ime te njemačke savezne zemlje je _____.

51.2. Upišite slovo **N** u saveznu zemlju u kojoj se nalazi Nürnberg.

Ime te njemačke savezne zemlje je _____.

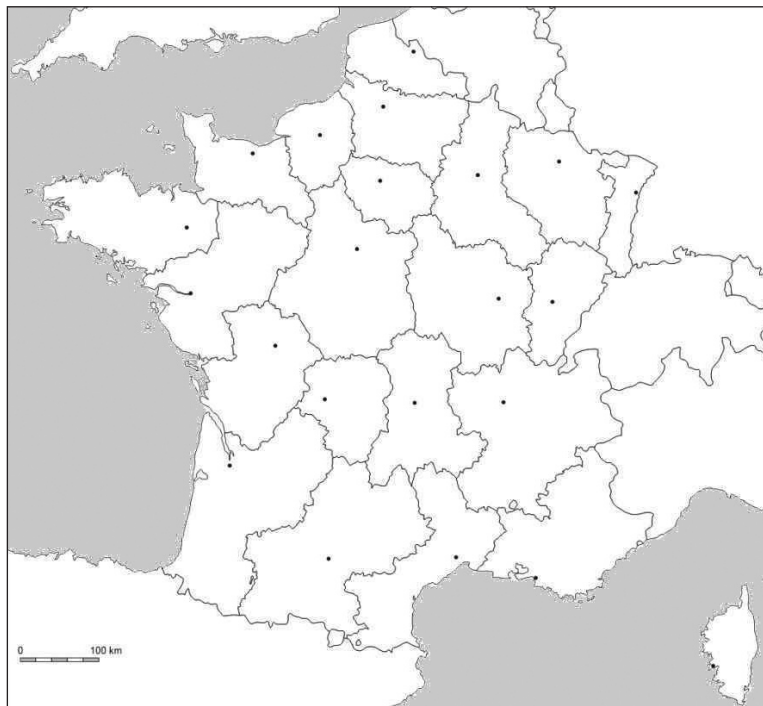
0	<input type="text"/>
2	<input type="text"/>
bod	

0	<input type="text"/>
2	<input type="text"/>
bod	



Geografija

52. Zadatak riješite s pomoću priložene geografske karte Francuske.



Upišite na kartu tražene brojeve.

52.1. Upišite na kartu broj **1** u prostor regije u kojoj je vodeće demografsko i gospodarsko središte Strasbourg.

52.2. Upišite na kartu broj **2** u prostor regije u kojoj je vodeće demografsko i gospodarsko središte Lyon.

52.3. Upišite na kartu broj **3** u prostor regije u kojoj je vodeće demografsko i gospodarsko središte Lille.

0
2
bod

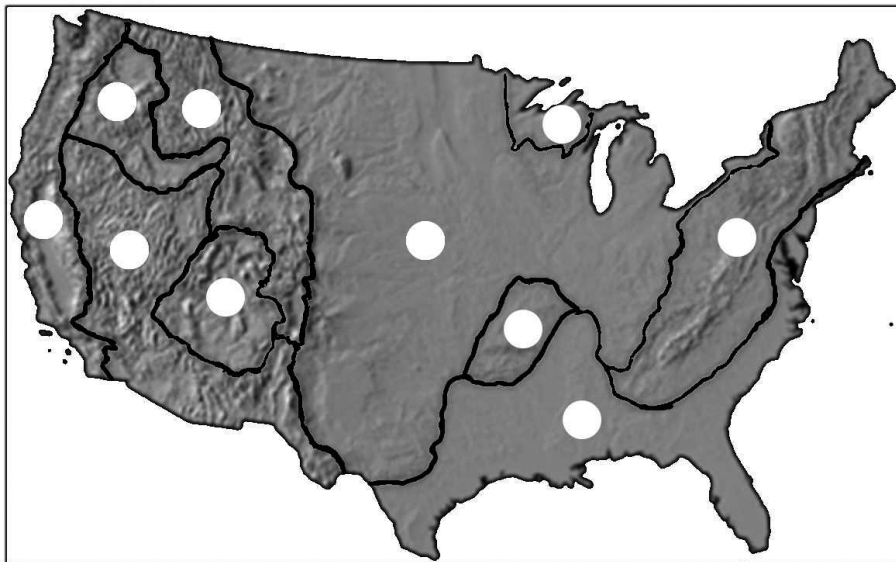
0
2
bod

0
2
bod



Geografija

53. Zadatak riješite s pomoću priložene geografske karte SAD-a.



Upišite na kartu tražene brojeve u bijele kružice pojedinih cjelina na karti.

53.1. Upišite broj **1** u cjelinu u kojoj se nalazi prometno važan zaljev Chesapeake.

53.2. Upišite broj **2** u cjelinu bogatu prirodnim resursima, posebno ugljenom.

53.3. Upišite broj **3** u cjelinu u kojoj se nalazi planina Sierra Nevada.

53.4. Upišite broj **4** u cjelinu u kojoj se nalaze prostrane američke prerije.

0 ☐
1 ☐
bod

0 ☐
1 ☐
bod

0 ☐
1 ☐
bod

0 ☐
1 ☐
bod



Geografija

54. Zadatak riješite s pomoću priložene geografske karte Južne Amerike.



Upišite na kartu tražena slova i nadopunite sljedeće rečenice.

54.1. Ime rijeke označene na karti brojem **1** je _____,
a ime države u kojoj se nalazi ušće te rijeke je _____.

0	<input type="checkbox"/>
2	<input type="checkbox"/>
bod	

54.2. Upišite slovo **A** na kartu u državu koja se naziva pradomovinom Inka.
Ime te države je _____.

0	<input type="checkbox"/>
2	<input type="checkbox"/>
bod	

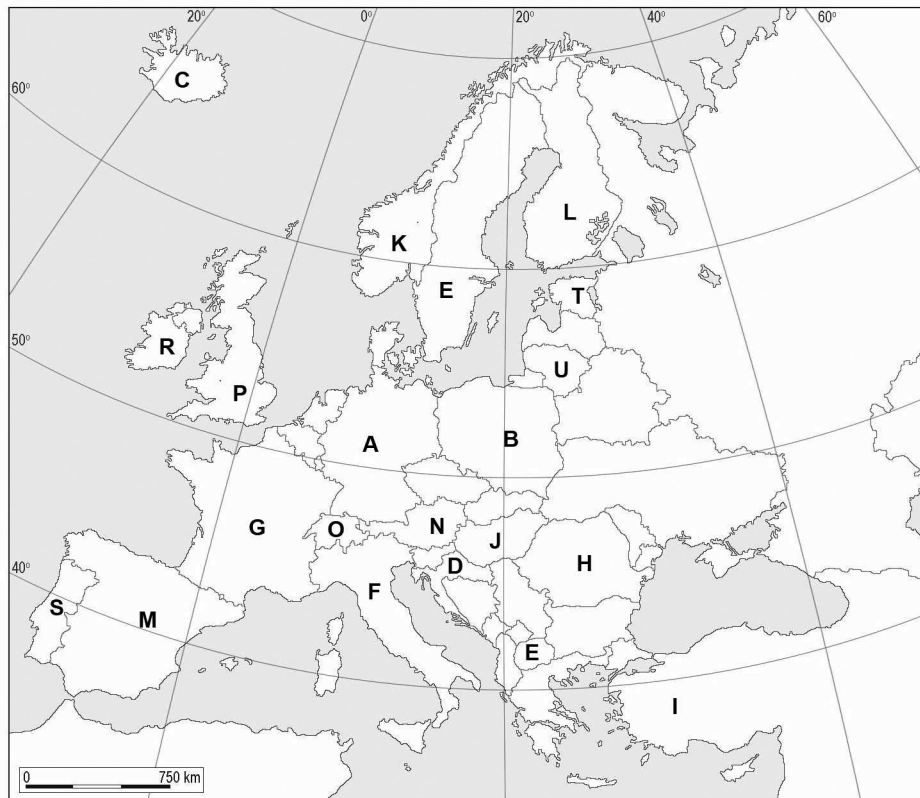
54.3. Upišite na kartu slovo **B** u državu čiji je glavni grad Santiago.
Ime te države je _____.

0	<input type="checkbox"/>
2	<input type="checkbox"/>
bod	



Geografija

55. Zadatak riješite s pomoću priložene geografske karte Europe.



Dopunite sljedeće rečenice.

55.1. Država-kandidatkinja za članstvo u Europskoj uniji koja 2013. godine ima najmanji broj stanovnika označena je na karti slovom _____.

55.2. Jezik kojim govore stanovnici države označene na karti slovom **K** pripada skupini indoeuropskih jezika koja se naziva _____ jezici.

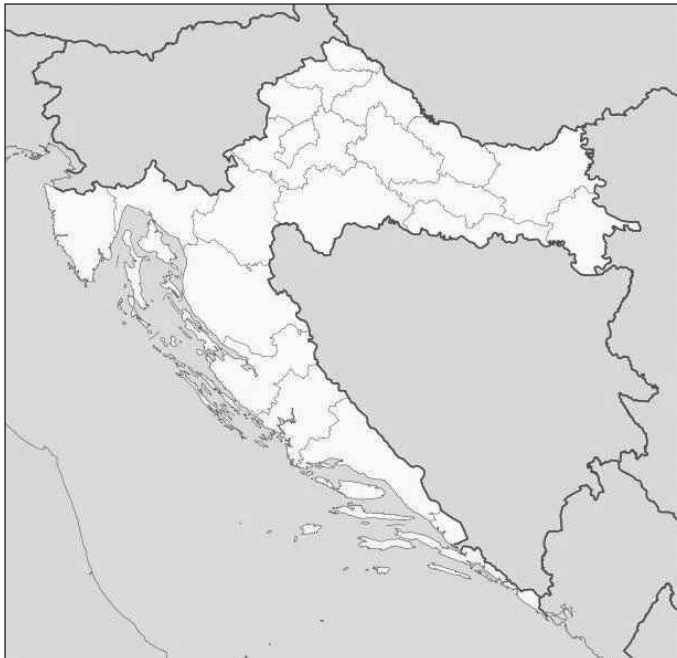
0	<input type="checkbox"/>
1	<input type="checkbox"/>
bod	

0	<input type="checkbox"/>
1	<input type="checkbox"/>
bod	



Geografija

56. Zadatak riješite s pomoću priložene geografske karte Hrvatske.



Upišite na kartu oznake traženih upravnih regija, a na crte upišite njihova imena.

56.1. Označite na karti brojevima redom od **1** nadalje upravne regije koje **nemaju** graničnu crtu prema susjednim državama. Te brojeve s karte zatim prepisite na donju crtu i uz njih napišite imena pripadajućih upravnih regija.

56.2. Označite na karti slovima **A, B, C i D** županije koje imaju kopnenu granicu prema **dvjema** susjednim državama. Na crte pored slova upišite imena pripadajućih županija.

A _____

B _____

C _____

D _____

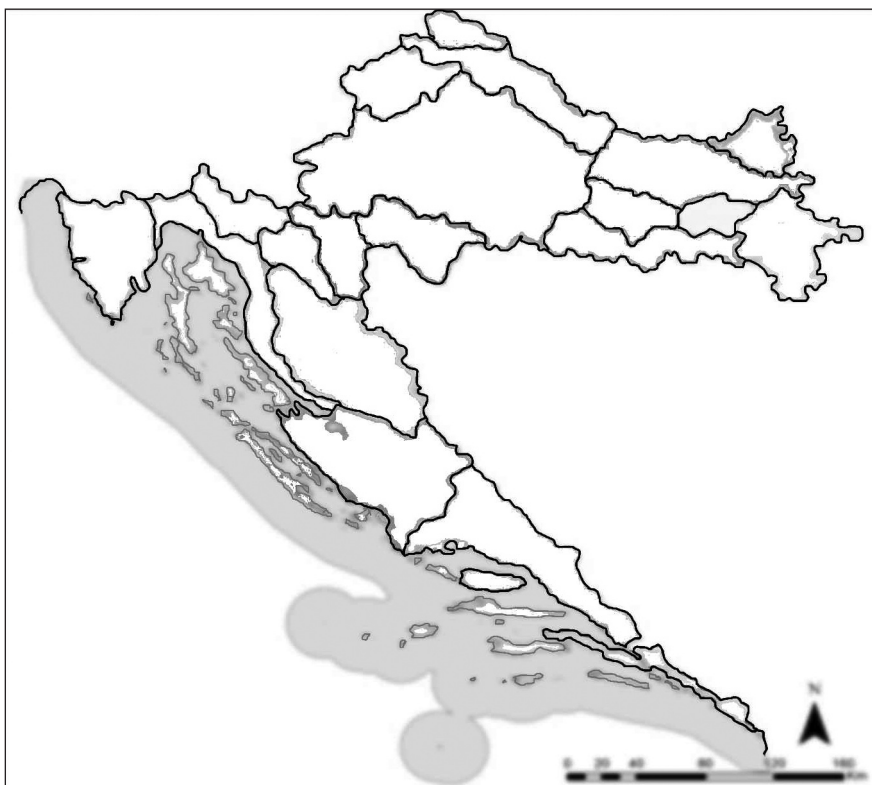
0 ☐
2 ☐
bod

0 ☐
2 ☐
bod



Geografija

57. Zadatak riješite s pomoću priložene geografske karte Hrvatske.



Upišite na kartu tražene brojeve.

57.1. Upišite na kartu broj **1** u prirodno-geografsku regiju Ogulinsko-plašćanska zavalu.

57.2. Upišite na kartu broj **2** u prirodno-geografsku i povijesnu regiju Kordun.

57.3. Upišite na kartu broj **3** u prirodno-geografsku regiju Požeška kotlina.

0

2

bod

0

2

bod

0

2

bod

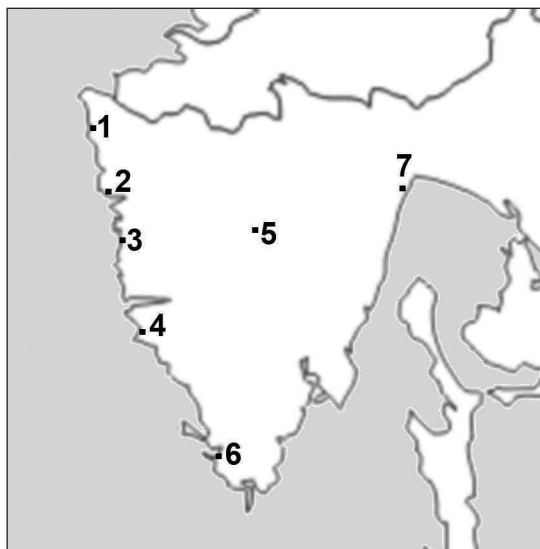
GEO IK-2 D-S015



02

Geografija

58. Sljedeći zadatak riješite s pomoću priložene karte Istre.



Dopunite sljedeće rečenice.

58.1. Turističko središte u kojemu je jedna od atrakcija na popisu UNESCO-ve svjetske kulturne baštine označeno je na karti brojem _____.

Ime toga središta je _____.

58.2. Turističko središte koje se nalazi najbliže najzapadnijoj krajnjoj točki

Republike Hrvatske označeno je na karti brojem _____.

Ime toga središta je _____.

58.3. Turističko središte koje je u početcima razvoja turizma bilo poznato zimovalistište označeno je na karti brojem _____.

Ime toga središta je _____.

0	<input type="checkbox"/>
2	<input type="checkbox"/>
bod	

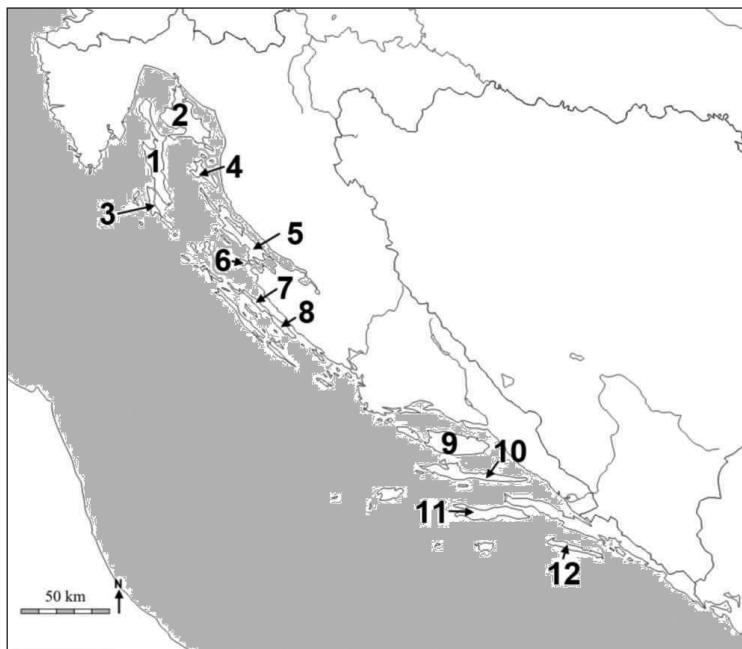
0	<input type="checkbox"/>
2	<input type="checkbox"/>
bod	

0	<input type="checkbox"/>
2	<input type="checkbox"/>
bod	



Geografija

59. Zadatak riješite s pomoću priložene geografske karte Primorske Hrvatske.



Dopunite sljedeće rečenice.

59.1. Most preko Osorskoga kanala povezuje otok _____
koji je na karti označen brojem _____ i otok _____
koji je na karti označen brojem _____.

59.2. Most preko prolaza Ždrelac povezuje otok _____
koji je na karti označen brojem _____ i otok _____
koji je na karti označen brojem _____.

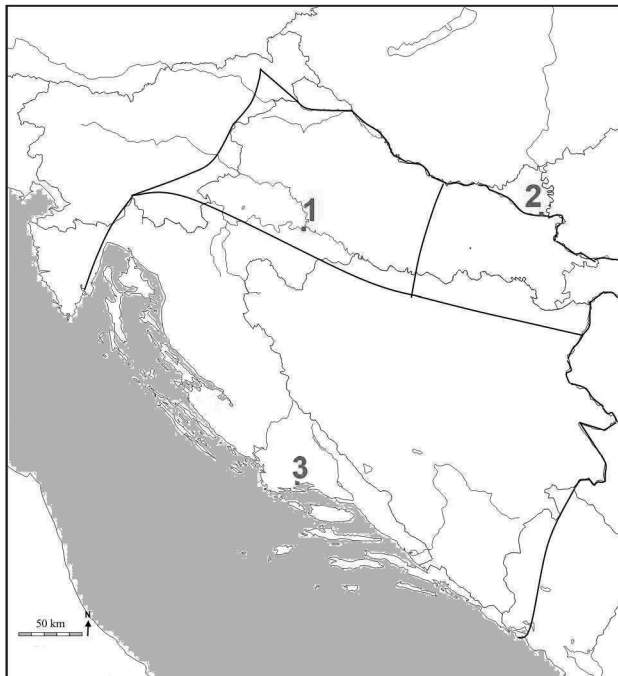
0	<input type="checkbox"/>
2	<input type="checkbox"/>
bod	

0	<input type="checkbox"/>
2	<input type="checkbox"/>
bod	



Geografija

60. Zadatak riješite s pomoću priložene geografske karte Republike Hrvatske.



Dopunite sljedeće rečenice.

60.1. Ime antičkoga naselja označenoga na karti brojem **1**

je _____.

60.2. Ime antičkoga naselja označenoga na karti brojem **2**

je _____.

60.3. Ime antičkoga naselja označenoga na karti brojem **3**

je _____.

0	<input type="checkbox"/>
2	<input type="checkbox"/>
bod	

0	<input type="checkbox"/>
2	<input type="checkbox"/>
bod	

0	<input type="checkbox"/>
2	<input type="checkbox"/>
bod	



Prazna stranica

