

Adesivo per l'identificazione  
dell'alunno/a

INCOLLARE ATTENTAMENTE

# GEOGRAFIA

Fascicolo d'esame 2

GEO IK-2 D-S013

GEO.13.IT.R.K2.24



5179



12

# Geografia

Pagina vuota

GEO IK-2 D-S013



99

## INDICAZIONI GENERALI

Leggi attentamente tutte le indicazioni e seguile.

Non voltare pagina e non iniziare a risolvere i quesiti senza il permesso dell'insegnante di servizio.

Incolla gli adesivi di identificazione su tutti i materiali d'esame che hai ricevuto nella busta sigillata.

L'esame dura **90** minuti senza interruzioni.

I quesiti si trovano in due fascicoli d'esame. Puoi decidere da solo con quale dei due iniziare.

Utilizza al meglio il tempo a tua disposizione, in modo da risolvere tutti i quesiti.

Davanti a ciascun gruppo di quesiti trovi le indicazioni per la loro soluzione.

Leggile attentamente.

Scrivi le risposte esclusivamente nel posto previsto in questo fascicolo d'esame.

Scrivi in modo leggibile. Le risposte non leggibili verranno valutate con zero (0) punti.

In caso di errore, correggi mettendo l'errore tra parentesi e barrandolo, poi apponi una breve firma (sigla).

Usa esclusivamente una penna a sfera di colore blu o nera.

Una volta risolti i quesiti, controlla le risposte.

Buona fortuna!

Questo fascicolo d'esame ha 24 pagine di cui 2 vuote.

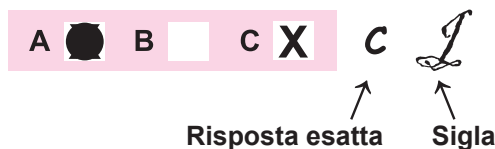
In caso tu abbia sbagliato a scrivere la risposta, puoi rimediare in questo modo:

### a) per i quesiti di tipo chiuso

Giusto




Correzione dell'errore



Sbagliato



### b) per i quesiti di tipo aperto



GEO IK-2 D-S013



99

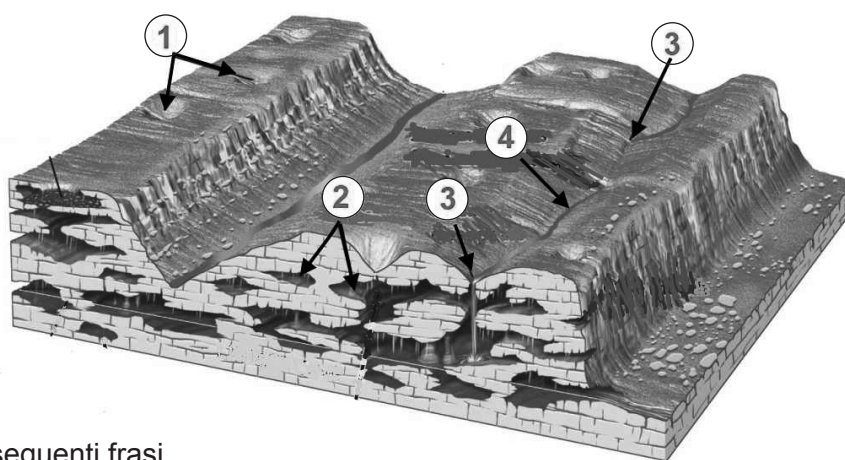
## V. Quesiti a risposta breve e a completamento

Rispondi brevemente ai seguenti quesiti (con una parola o un numero) o completa la frase o la cartina, inserendo il dato mancante.

Scrivi le risposte **solamente** nel posto prestabilito in questo fascicolo d'esame.

Non compilare lo spazio previsto per il punteggio.

**41.** Risolvi il quesito con l'aiuto del disegno del rilievo carsico e dei fenomeni idrogeologici.



Completa le seguenti frasi.

**41.1.** I tipi di rilievo carsico segnati sul disegno con il numero **1** si chiamano

\_\_\_\_\_.

**41.2.** I tipi di rilievo carsico segnati sul disegno con il numero **2** si chiamano

\_\_\_\_\_.

**41.3.** Come si chiama la forma carsica segnata sul disegno

(per due volte) con il numero **3**?

\_\_\_\_\_.

**41.4.** Il fiume disegnato sul disegno con il numero **4** si chiama

\_\_\_\_\_.

0 ☐  
1 ☐  
punto

0 ☐  
1 ☐  
punto

0 ☐  
1 ☐  
punto

0 ☐  
1 ☐  
punto



# Geografia

- 42.** A quanti km quadrati corrisponde in natura un quadrato il cui lato è di 2 centimetri su una carta con scala 1:100 000?

Spazio per il calcolo:

Risposta: \_\_\_\_\_

0 ☐  
2 ☐  
punto

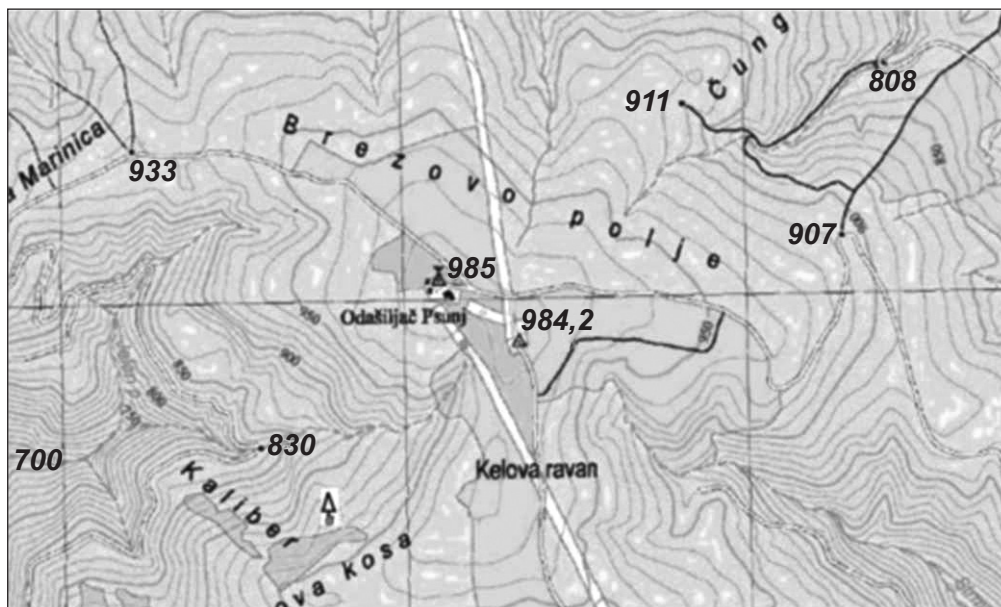
GEO IK-2 D-S013



02

# Geografia

43. Risolvi il quesito con l'aiuto di un estratto della carta topografica.



Completa le seguenti frasi.

43.1. L'altezza relativa tra i due punti trigonometrici con il punto più alto sul livello del mare e la quota più bassa sul livello del mare è di \_\_\_\_\_.

43.2. L'equidistanza sull'estratto della carta topografica è \_\_\_\_\_.

43.3. La scala dell'estratto della carta topografica è \_\_\_\_\_.

0 ☐

2 ☐

punto

0 ☐

2 ☐

punto

0 ☐

2 ☐

punto



# Geografia

44. A quanto ammonta la temperatura dell'aria sulla vetta del Marijan che si trova a 178 m.s.l.m se a Spalato, sul livello del mare, è stata misurata la temperatura di 20 °C? La temperatura stratificata è normale, mentre il gradiente verticale della temperatura ammonta 0,6 °C/100m.

(Arrotonda il valore ad un decimale.)

Spazio per il calcolo:

Risposta:

La temperatura dell'aria in vetta sul Marijan è di \_\_\_\_\_.

0   
2   
punto



# Geografia

**45.** Risolvi il quesito con l'aiuto del planisfero in cui sono segnati i golfi e i canali prescelti.



Completa le seguenti frasi scrivendo nello spazio il numero corrispondente sulla carta.

**45.1.** Il canale di Horn (capo) è segnato sulla carta con il numero \_\_\_\_\_.

**45.2.** Il golfo di Guinea è segnato sulla carta con il numero \_\_\_\_\_.

0	<input type="checkbox"/>
1	<input type="checkbox"/>
punto	

0	<input type="checkbox"/>
1	<input type="checkbox"/>
punto	





# Geografia

- 46.** Calcola il cambiamento del valore dell'incremento naturale della popolazione in un insediamento in cui nel periodo tra due censimenti 2001/2011, aveva un saldo di migrazione di **-86** abitanti e che il censimento del 2011 ha evidenziato avere **109** abitanti in meno rispetto all'anno 2001.

Spazio per il calcolo:

Risposta:

L' incremento naturale della popolazione in questo insediamento

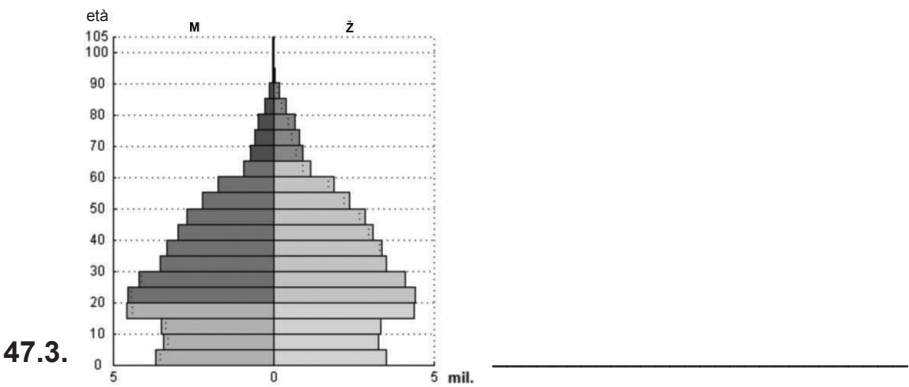
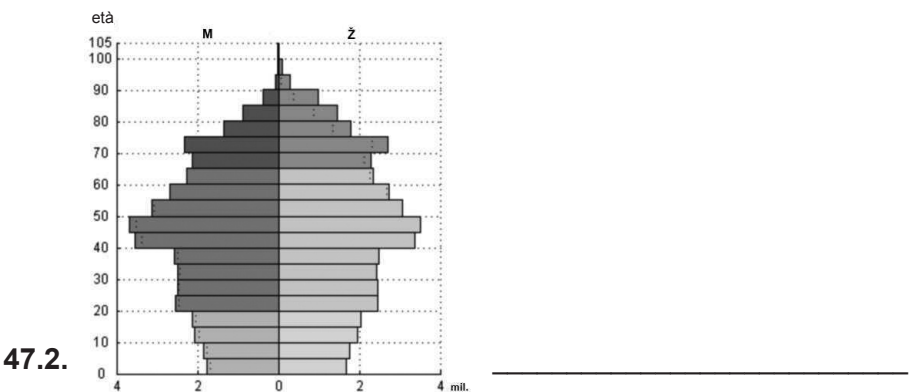
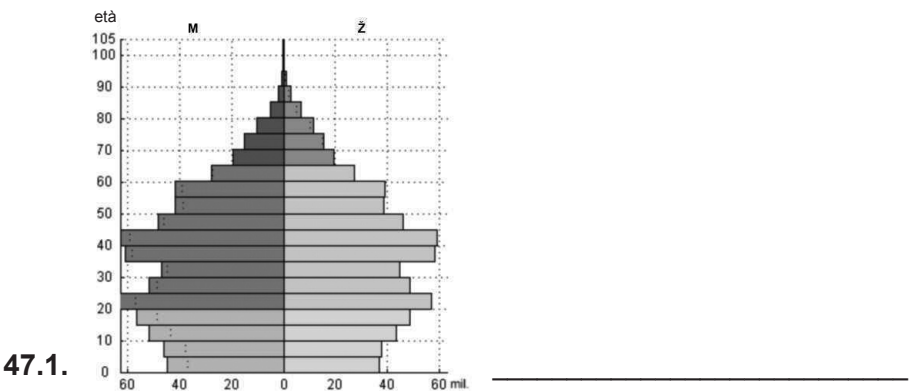
è di \_\_\_\_\_ abitanti.

0 ☐  
2 ☐  
punto



# Geografia

47. Accanto ad ogni grafico delle piramidi età-sesso, inserisci il nome dello stato a cui corrisponde nome dello stato: Germania, Vietnam, Cina.



0	<input type="checkbox"/>
2	<input type="checkbox"/>
punto	
0	<input type="checkbox"/>
2	<input type="checkbox"/>
punto	
0	<input type="checkbox"/>
2	<input type="checkbox"/>
punto	



# Geografia

**48.** Risolvi il quesito con l'aiuto delle carte geografiche a disposizione.



Completa le seguenti frasi.

**48.1.** La regione industriale segnata sulla carta con la lettera **A** si chiama

\_\_\_\_\_.

**48.2.** Il maggior produttore di petrolio nell'Unione europea negli ultimi cinque anni,

è segnato sulla carta con la lettera \_\_\_\_\_.

**48.3.** Il nome dello stato dove iniziò la prima Rivoluzione industriale è

\_\_\_\_\_.

**48.4.** Questo stato è segnato sulla carta con la lettera \_\_\_\_\_.

0 ☐  
1 ☐  
punto

0 ☐  
1 ☐  
punto

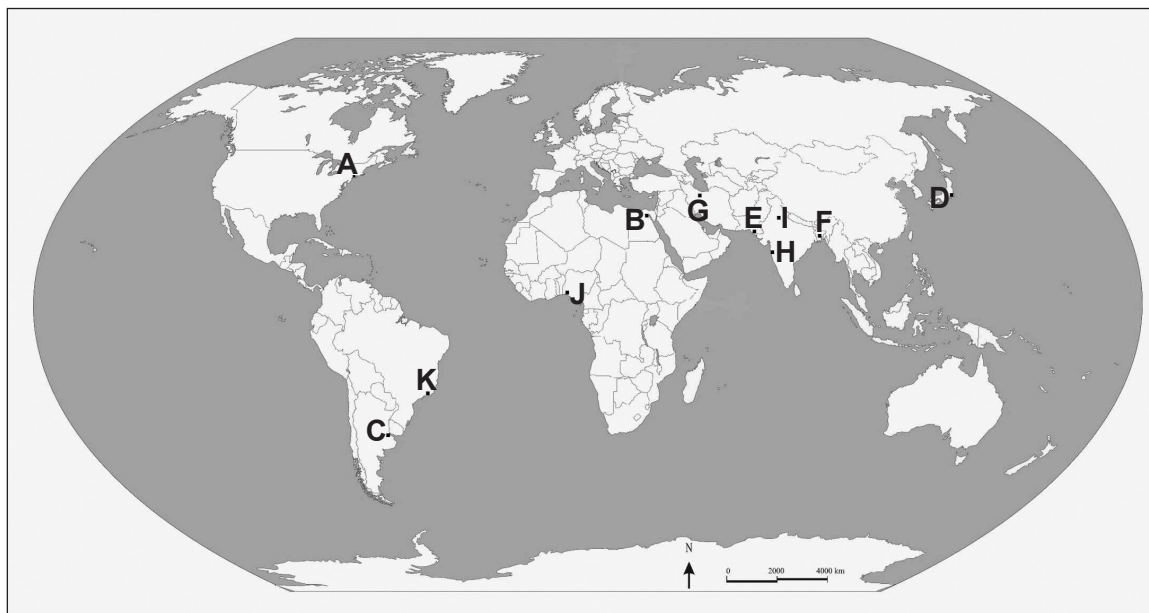
0 ☐  
1 ☐  
punto

0 ☐  
1 ☐  
punto



# Geografia

**49.** Risolvi il quesito con l'aiuto del planisfero dove sono segnate alcune città.



Completa le seguenti frasi.

**49.1.** Il nome della megacittà (metropoli) sulla foce del Rio della

Plata è \_\_\_\_\_, e sulla carta è segnata  
con la lettera \_\_\_\_\_.

**49.2.** Il nome della megacittà indiana oggi più

popolata è \_\_\_\_\_, e sulla carta  
è segnata con la lettera \_\_\_\_\_.

**49.3.** Il nome della megacittà in cui l'attrattiva turistica più importante

è la spiaggia di Copacabana, è \_\_\_\_\_,  
sulla carta è segnata con la lettera \_\_\_\_\_.

0 ☐  
2 ☐  
punto

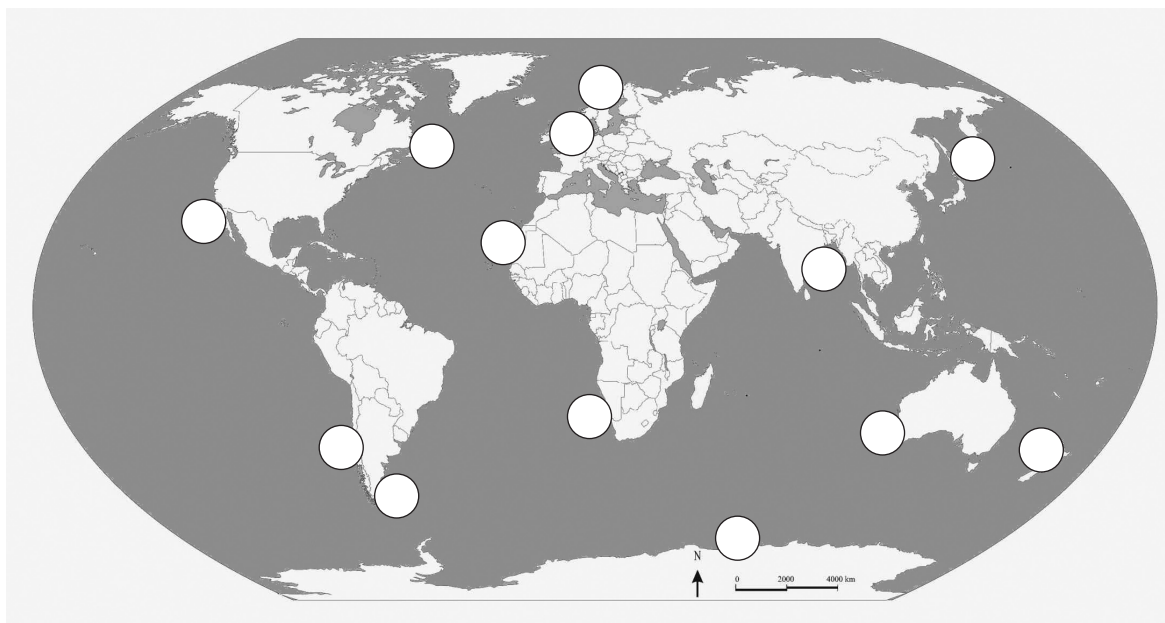
0 ☐  
2 ☐  
punto

0 ☐  
2 ☐  
punto



# Geografia

50. Risolvi il quesito inserendo nei cerchi sul planisfero le lettere indicanti i territori più importanti per la pesca nel corso del XX secolo.



Per ogni concetto inserisci la lettera **nel cerchio** sulla carta.

50.1. Scrivi la lettera **A** nel cerchio delle isole **Lofoten**.

50.2. Scrivi la lettera **B** nel cerchio di **Dogger Bank**.

50.3. Scrivi la lettera **C** nel cerchio che indica la corrente di **Von Humbolt**.

50.4. Scrivi la lettera **D** nel cerchio che indica la corrente **Oya-Shio**.

0 ☐  
1 ☐  
punto

0 ☐  
1 ☐  
punto

0 ☐  
1 ☐  
punto

0 ☐  
1 ☐  
punto

GEO IK-2 D-S013



02

# Geografia

**51.** Risolvi il quesito con l'aiuto della carta della Germania e inserisci i numeri nelle regioni e nelle città.



Sono proposti i seguenti territori federali della Germania : Baden-Württemberg, Bayern, Hessen, Niedersachsen e Nordrhein-Westfalen (Westfalia).

Scegli tra questi tre territori federali che hanno avuto il PIL più alto negli ultimi cinque anni.

**51.1.** Segna sulla carta con il numero **1** la **prima** regione per PIL.

**51.2.** Segna sulla carta con il numero **2** la **seconda** regione per PIL.

**51.3.** Segna sulla carta con il numero **3** la **terza** regione per PIL.

0 ☐

2 ☐

punto

0 ☐

2 ☐

punto

0 ☐

2 ☐

punto

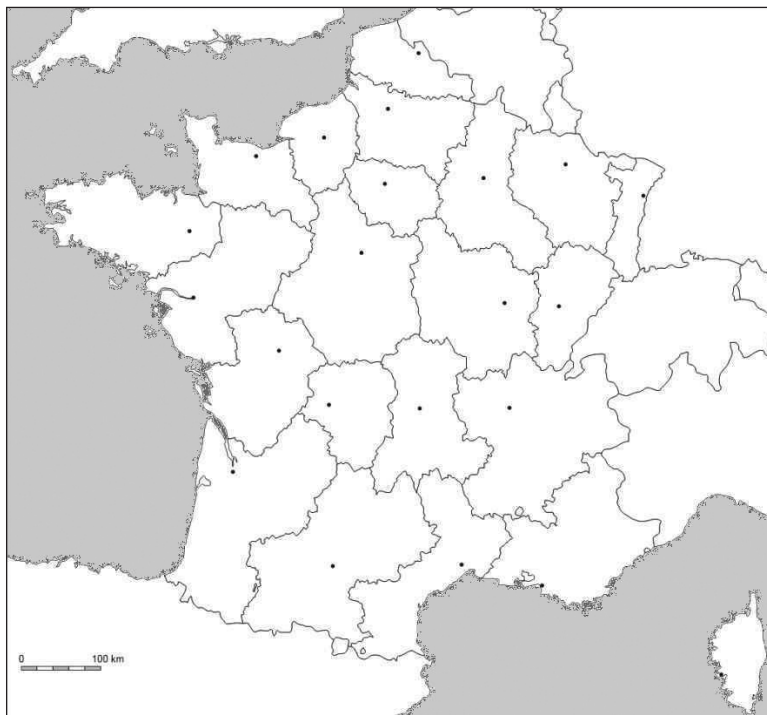
GEO IK-2 D-S013



02

# Geografia

**52.** Risolvi il quesito inserendo i numeri richiesti sulla cartina della Francia.



**52.1.** Inserisci il numero **1** nello spazio in cui si trova la regione e il maggior centro demografico e industriale di Marsiglia.

**52.2.** Inserisci il numero **2** nello spazio in cui si trovala la regione e il maggior centro demografico e industriale di Metz.

**52.3.** Inserisci il numero **3** nello spazio in cui si trova la regione e il maggior centro demografico e industriale di Montpellier.

0

2

punto

0

2

punto

0

2

punto

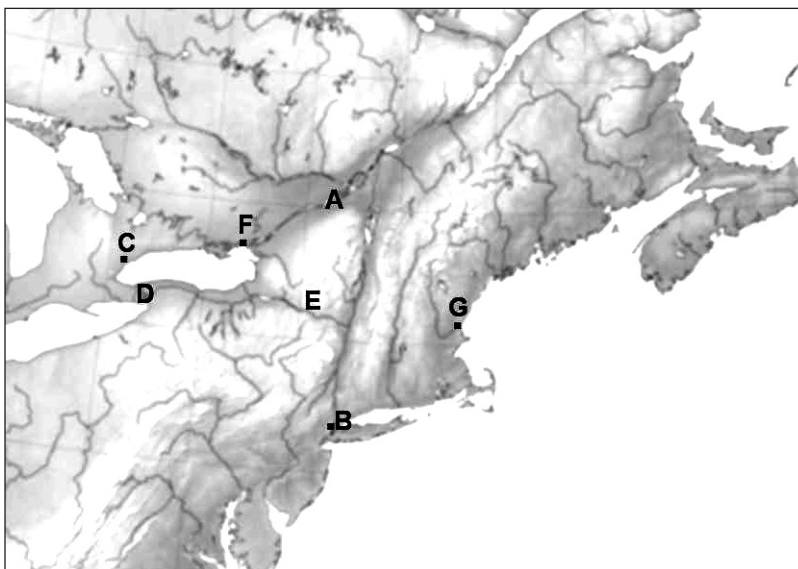
GEO IK-2 D-S013



02

# Geografia

**53.** Risolvi il quesito con l'aiuto della cartina degli USA e del Canada.



Completa le seguenti frasi.

**53.1.** Il nome del fiume che collega i Laghi maggiori con l'Oceano Atlantico

è \_\_\_\_\_, sulla carta è segnato con la lettera \_\_\_\_\_.

**53.2.** Il nome della città nata sulla foce del fiume Hudson

è \_\_\_\_\_, sulla carta è segnato  
con la lettera \_\_\_\_\_.

**53.3.** Il nome della città più grande sul lago Ontario

è \_\_\_\_\_, sulla carta è segnato  
con la lettera \_\_\_\_\_.

**53.4.** Il nome delle cascate dove Nikola Tesla ha costruito un'idrocentrale

è \_\_\_\_\_, sulla carta è segnato  
con la lettera \_\_\_\_\_.

0 ☐  
1 ☐  
punto

0 ☐  
1 ☐  
punto

0 ☐  
1 ☐  
punto

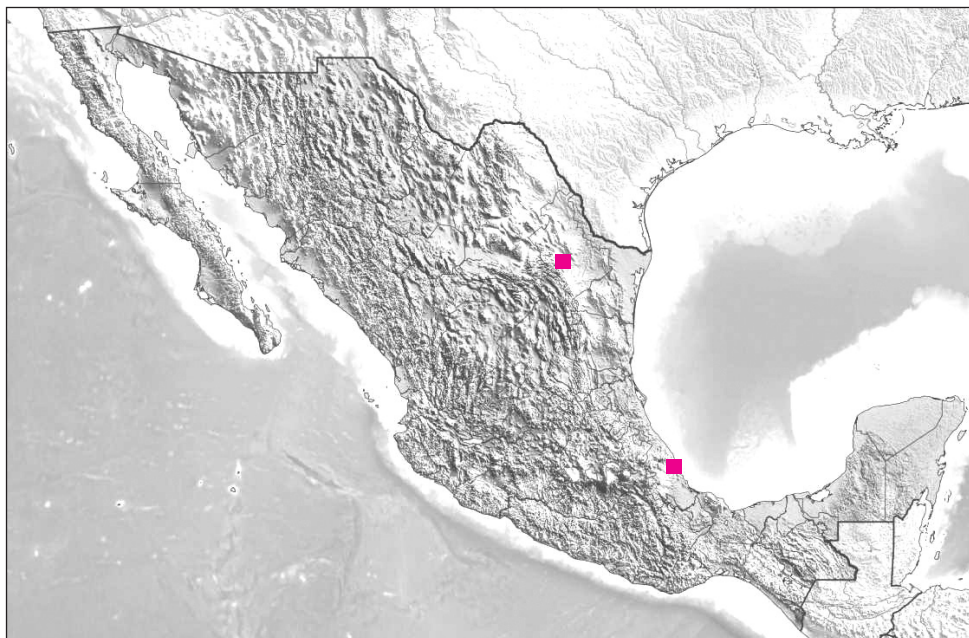
0 ☐  
1 ☐  
punto





# Geografia

**54.** Risolvi il quesito con l'aiuto della cartina del Messico.



Completa le seguenti frasi e inserisci sulla carta i numeri richiesti.

**54.1.** Il nome della catena montuosa che si estende nella direzione occidentale del Messico è \_\_\_\_\_.

Scrivi il numero **1** su questa catena montuosa.

**54.2.** Il nome del porto principale sulla costa orientale del Messico, segnato sulla carta da un quadratino rosso, è \_\_\_\_\_.

**54.3.** Il nome del principale centro metallurgico del Messico, segnato sulla carta da un quadratino rosso, è \_\_\_\_\_.

**54.4.** Il nome della penisola dove troviamo i resti ed i reperti della Civiltà Maya è \_\_\_\_\_. Scrivi il numero **2** su questa penisola.

0 ☐  
1 ☐  
punto

0 ☐  
1 ☐  
punto

0 ☐  
1 ☐  
punto

0 ☐  
1 ☐  
punto



# Geografia

**55.** Risolvi il quesito con l'aiuto della cartina dell'Europa.



Scrivi sulla carta i numeri richiesti.

**55.1.** Inserisci il numero **1** nello stato che è diventato membro dell'Unione europea nel 2004, la cui capitale si trova sulla costa del golfo di Finlandia.

**55.2.** Inserisci il numero **2** nello stato che è diventato membro della Comunità europea (oggi Unione europea) nel 1973, e che ha due lingue ufficiali.

**55.3.** Inserisci il numero **3** nello stato che è diventato membro dell'Unione europea nel 1995 e che ha due lingue ufficiali.

**55.4.** Inserisci il numero **4** nello stato che è diventato membro dell'Unione europea nel 2004 e che ha due lingue ufficiali.

0 ☐  
1 ☐  
punto

0 ☐  
1 ☐  
punto

0 ☐  
1 ☐  
punto

0 ☐  
1 ☐  
punto



# Geografia

**56.** Sulla carta sono segnati alcuni tratti del Mare Adriatico.



Rispondi alle seguenti domande.

**56.1.** Come si chiama il tratto del Mare Adriatico segnato con il numero 1?

\_\_\_\_\_

**56.2.** Come si chiama il tratto del Mare Adriatico segnato con il numero 2?

\_\_\_\_\_

**56.3.** Come si chiama il tratto di Mare Adriatico costituito dalle parti di mare segnate con i numeri 1 e 2? \_\_\_\_\_

0 ☐

2 ☐

punto

0 ☐

2 ☐

punto

0 ☐

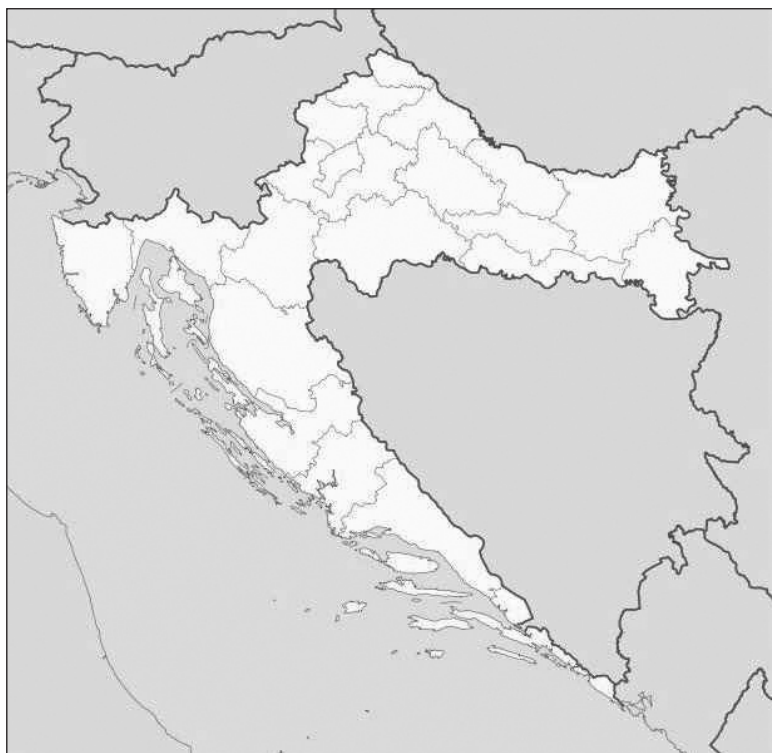
2 ☐

punto



# Geografia

**57.** Risolvi il quesito con l'aiuto della carta muta delle regioni della Croazia



Inserisci sulla carta i numeri richiesti.

**57.1.** Inserisci il numero **1** nella regione del litorale settentrionale croato che, in base ai primi risultati del censimento del 2011, ha registrato un aumento della popolazione.

**57.2.** Inserisci il numero **2** nella regione dell'area pannonica croata che, in base ai primi risultati del censimento del 2011, accanto alla città di Zagabria, ha registrato un aumento della popolazione.

**57.3.** Inserisci il numero **3** nella regione del litorale meridionale croato che, in base ai primi risultati del censimento del 2011, ha registrato un aumento della popolazione.

0 ☐

2 ☐

punto

0 ☐

2 ☐

punto

0 ☐

2 ☐

punto

GEO IK-2 D-S013



02

# Geografia

**58.** Risolvi il quesito con l'aiuto della carta muta della regione istriana.



Completa le seguenti frasi inserendo sulla riga il rispettivo numero presente sulla carta.

**58.1.** Il centro turistico dove una delle attrattive è la falda acquifera della Pazinčica  
è segnato sulla carta con il numero \_\_\_\_\_.

**58.2.** Il centro turistico dove una delle attrattive è il Tempio di Augusto  
è segnato sulla carta con il numero \_\_\_\_\_.

**58.3.** Il centro turistico con il maggior numero di pernottamenti nella regione  
istriana negli ultimi tre anni, è segnato sulla carta con il numero \_\_\_\_\_.

0 ☐

2 ☐

punto

0 ☐

2 ☐

punto

0 ☐

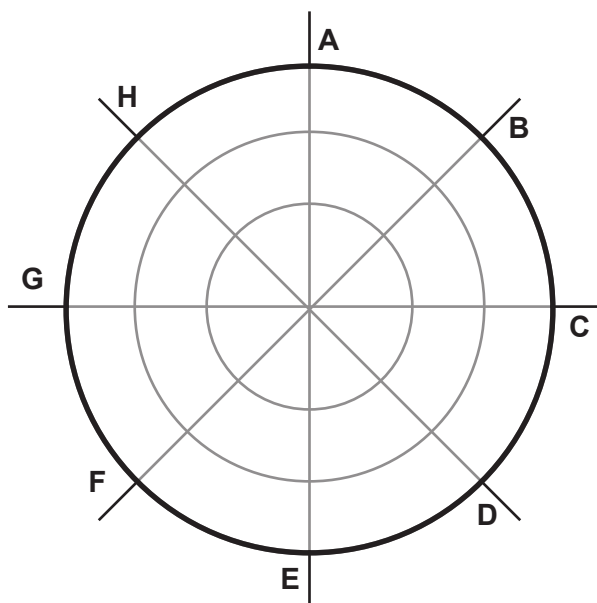
2 ☐

punto



# Geografia

**59.** Risolvi il quesito con l'aiuto della Rosa dei Venti.



Rispondi alle seguenti domande.

**59.1.** Qual è il termine locale per il vento che soffia sull'Adriatico, segnato con la lettera **B**?

\_\_\_\_\_

**59.2.** Con quale lettera è segnato il vento che provoca le onde più alte sull'Adriatico?

\_\_\_\_\_

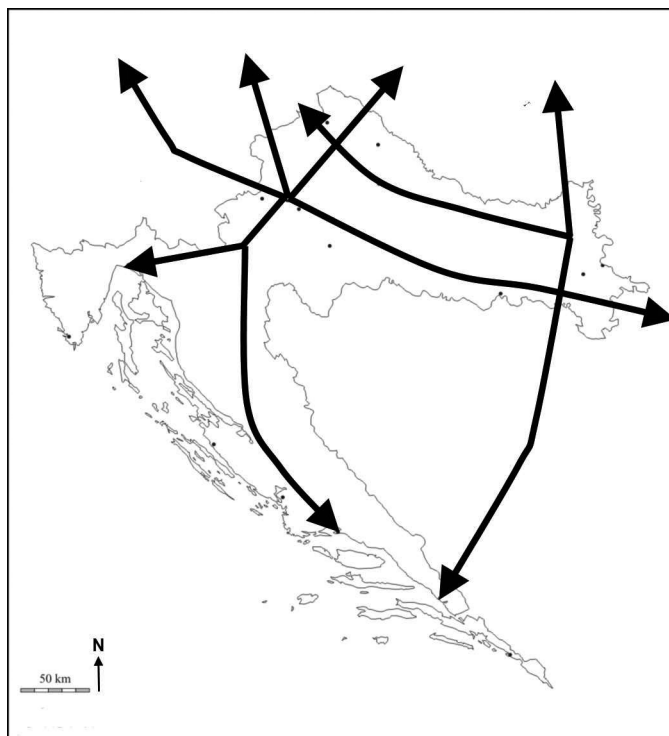
0	<input type="checkbox"/>
1	<input type="checkbox"/>
punto	

0	<input type="checkbox"/>
1	<input type="checkbox"/>
punto	



# Geografia

**60.** Risolvi il quesito con l'aiuto della carta geografica delle direttrici del traffico (corridoi).



Inserisci sulla carta i simboli richiesti e completa le frasi.

**60.1.** Segna sulla carta con un cerchio e con la lettera **A** il nodo della direttrice del traffico **X** e dell'asse **b** della direttrice del traffico **V**.

Il nome della città dove si trova questo nodo è \_\_\_\_\_.

**60.2.** Segna sulla carta con la lettera **B** il porto dove termina l'asse **b** della direttrice del traffico **V**.

Il nome del porto è \_\_\_\_\_.

0 ☐  
1 ☐  
punto

0 ☐  
1 ☐  
punto



# Geografia

Pagina vuota

GEO IK-2 D-S013



99