

# ГЕОГРАФИЈА

Испитна књижица 2

GEO IK-2 D-S013

GEO.13.SR.R.K2.24



12

# Географија

Празна страница

GEO IK-2 D-S013



99

## ОПШТА УПУТСТВА

Пажљиво прочитајте сва упутства и следите их.

Не окрећите страницу и не решавајте задатке док то не одобри дежурни наставник. Налепите идентификационе налепнице на све испитне материјале које сте добили у сигурносној врећици.

Испит траје **90** минута без паузе.

Задаци се налазе у двама испитним књижицама. Редослед решавања бирајте сами. Добро распоредите време како бисте могли решити све задатке.

Испред сваке групе задатака је упутство за њихово решавање. Пажљиво га прочитајте.

Одговоре упишите **само** на предвиђено место у овој испитној књижици.

Пишите читко. Нечитки одговори бодоваће се са нула (0) бодова. Ако погрешите у писању, погрешке ставите у заграде, прецртајте их и ставите скраћени потпис.

Употребљавајте искључиво хемијску оловку којом се пише плавом или црном бојом.

Када решите задатке, проверите одговоре.

Желимо Вам много успеха!

Ова испитна књижица има 24 странице, од тога 2 празне.

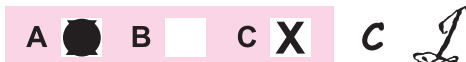
Ако сте погрешили у писању одговора, исправите овако:

### а) задатак затвореног типа

Исправно



Исправак погрешног уноса

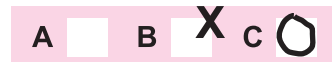


Преписан тачан одговор



Скраћени потпис

Неисправно



### б) задатак отвореног типа

~~(Marko Marulić)~~

Petar Preradović



Прецртан нетачан одговор у заградама

Тачан одговор

Скраћени потпис



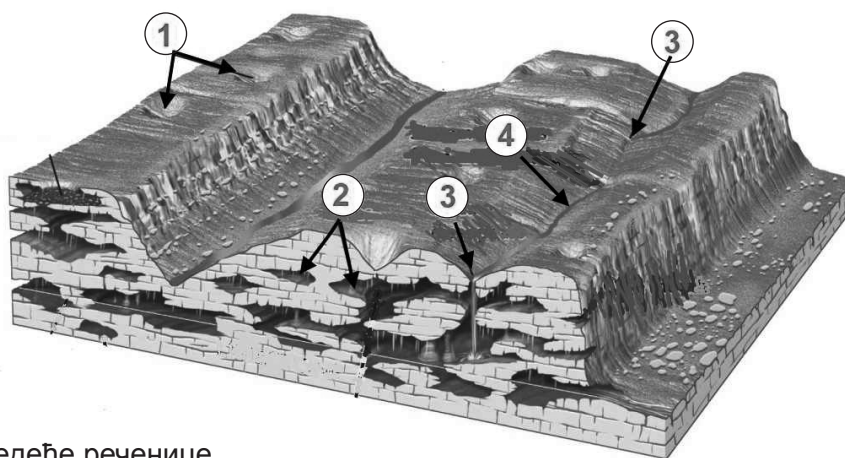
# Географија

## V Задаци кратког одговора и допуњавања

У следећим задацима одговорите кратким одговором (речју или бројем) или допуните реченицу или карту уписивањем садржаја који недостаје.

Одговоре упишите **само** на предвиђено место у овој испитној књижици.  
Не попуњавајте простор за бодовање.

41. Задатак решите уз помоћ приложеног цртежа кршког рељефа и хидролошких појава.



Допуните следеће реченице.

41.1. Облици кршког рељефа означени на цртежу бројем 1 зову се

\_\_\_\_\_.

41.2. Облици кршког рељефа означени на цртежу бројем 2 зову се

\_\_\_\_\_.

41.3. Место у кршу означено на цртежу бројем 3 (на цртежу су означена  
два таква места) зове се

\_\_\_\_\_.

41.4. Река означена на цртежу бројем 4 зове се

\_\_\_\_\_.

0	<input type="checkbox"/>
1	<input type="checkbox"/>
бод	

0	<input type="checkbox"/>
1	<input type="checkbox"/>
бод	

0	<input type="checkbox"/>
1	<input type="checkbox"/>
бод	

0	<input type="checkbox"/>
1	<input type="checkbox"/>
бод	



# Географија

42. Колико квадратних километара у природи приказује квадрат уцртан на карти у мерилу 1:100 000, а чија је страница дужине 2 центиметра?

Простор за рачунање:

Одговор: \_\_\_\_\_

0 ☐  
2 ☐  
бод

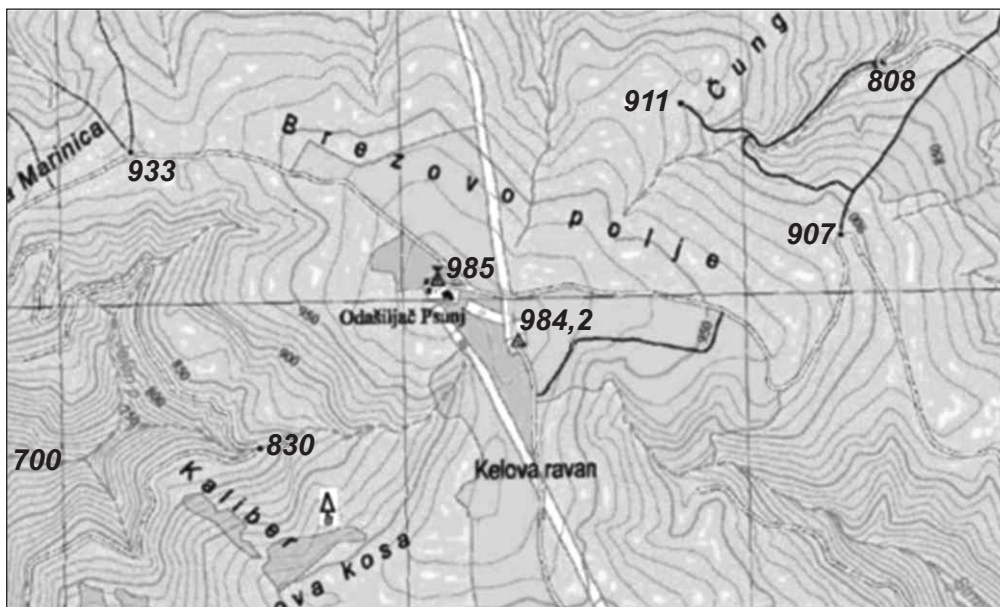
GEO IK-2 D-S013



02

# Географија

43. Задатак решите уз помоћ приложеног увећаног исечка топографске карте.



Допуните следеће реченице.

43.1. Релативна висина између тригонометријске тачке са највишом надморском висином и коте са најнижом надморском висином износи \_\_\_\_\_.

0 ☐  
2 ☐  
бод

43.2. Еквидистанца на приложеном исечку топографске карте је \_\_\_\_\_.

0 ☐  
2 ☐  
бод

43.3. Мерило приложеног исечка топографске карте је \_\_\_\_\_.

0 ☐  
2 ☐  
бод



# Географија

44. Колика је температура ваздуха на врху Марјана који је на 178 m/nv ако је у Сплиту на морском нивоу измерена температура од 20 °C. Температурна стратификација је нормална, а вертикални градијент температуре износи 0,6 °C/100 m?

(Заокружите вредност на прву децималу.)

Простор за рачунање:

Одговор:

Температура ваздуха на врху Марјана износи \_\_\_\_\_.

0

2

бод



# Географија

45. Задатак решите уз помоћ приложене географске карте света на којој су означени одабрани заливи и теснаци.



Допуните следеће реченице уписујући на црту одговарајући број са карте.

45.1. Хормушки теснац (Хормуз) означен је на карти бројем \_\_\_\_\_.

45.2. Гвинејски залив означен је на карти бројем \_\_\_\_\_.

0	<input type="checkbox"/>
1	<input type="checkbox"/>
бод	

0	<input type="checkbox"/>
1	<input type="checkbox"/>
бод	





# Географија

- 46.** Израчунајте природну промену становништва у насељу у којем је у међупописном периоду 2001 – 2011. миграцијски салдо **–86** становника, а пописом 2011. године утврђено је **109** становника мање него 2001. године.

Простор за рачунање:

Одговор:

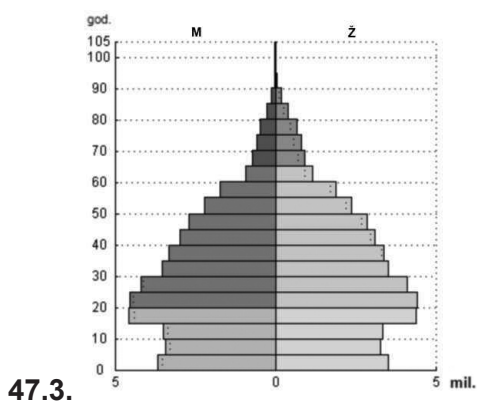
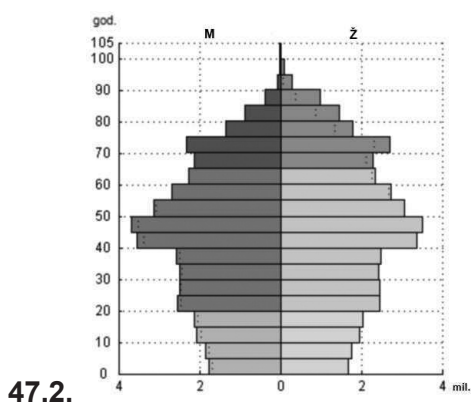
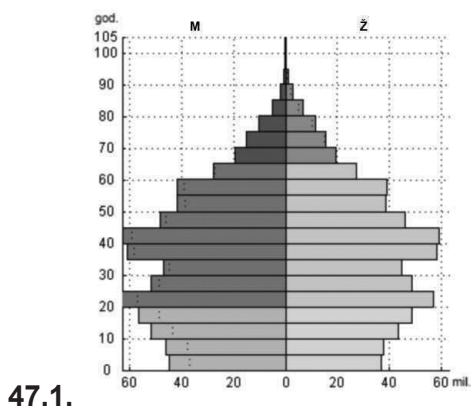
Природна промена становништва у том насељу је \_\_\_\_\_ становника.

0   
2   
бод



# Географија

47. На црту уз сваки графички приказ старосно-сполне структуре становништва упишите припадајуће име државе: Немачка, Вијетнам, Кина.



0 ☐  
2 ☐  
бод

0 ☐  
2 ☐  
бод

0 ☐  
2 ☐  
бод



# Географија

48. Задатак решите уз помоћ приложене географске карте.



Допуните следеће реченице.

48.1. Индустриска регија означена на карти словом **A** назива се

\_\_\_\_\_.

0	<input type="checkbox"/>
1	<input type="checkbox"/>
бод	

48.2. Држава са највећом производњом нафте у Европској унији у последњих пет година означена је на карти словом \_\_\_\_\_.

0	<input type="checkbox"/>
1	<input type="checkbox"/>
бод	

48.3. Име државе у којој је започела прва индустриска револуција је

\_\_\_\_\_.

0	<input type="checkbox"/>
1	<input type="checkbox"/>
бод	

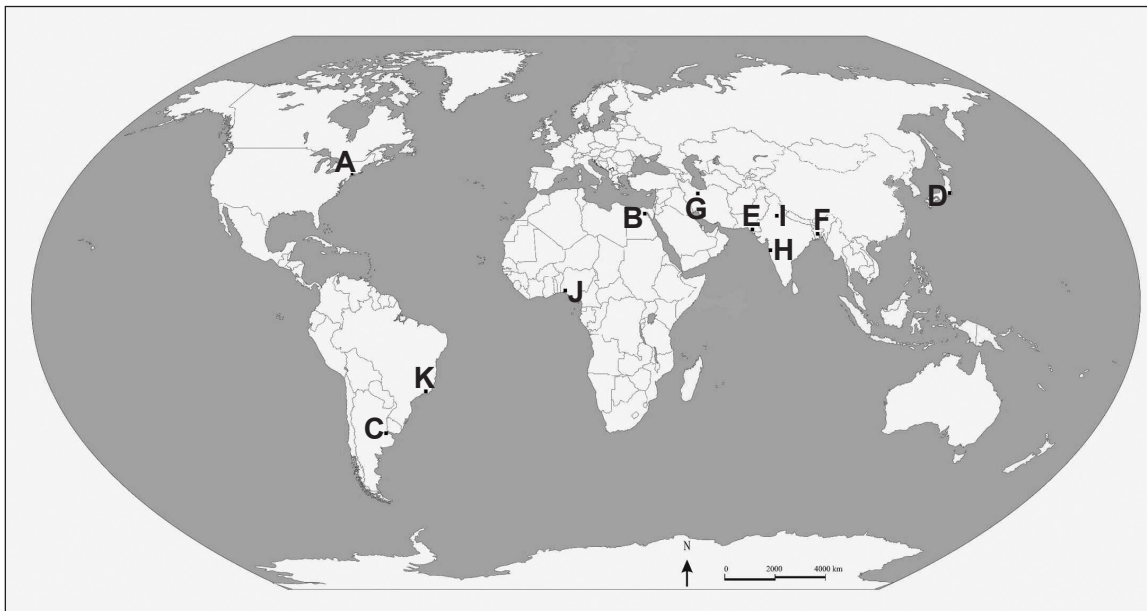
48.4. Та држава означена је на карти словом \_\_\_\_\_.

0	<input type="checkbox"/>
1	<input type="checkbox"/>
бод	



# Географија

49. Задатак решите уз помоћ приложене географске карте света на којој су означени одабрани градови.



Допуните следеће реченице.

- 49.1. Име мега града на ушћу Ла Плате је \_\_\_\_\_,  
а на карти је означен словом \_\_\_\_\_.

- 49.2. Име данас најмногољуднијег индијског мега града  
је \_\_\_\_\_, а на карти је  
означен словом \_\_\_\_\_.

- 49.3. Име мега града у којем је важна туристичка атракција плажа Копакабана  
је \_\_\_\_\_, а на карти  
је означен словом \_\_\_\_\_.

0 ☐  
2 ☐  
бод

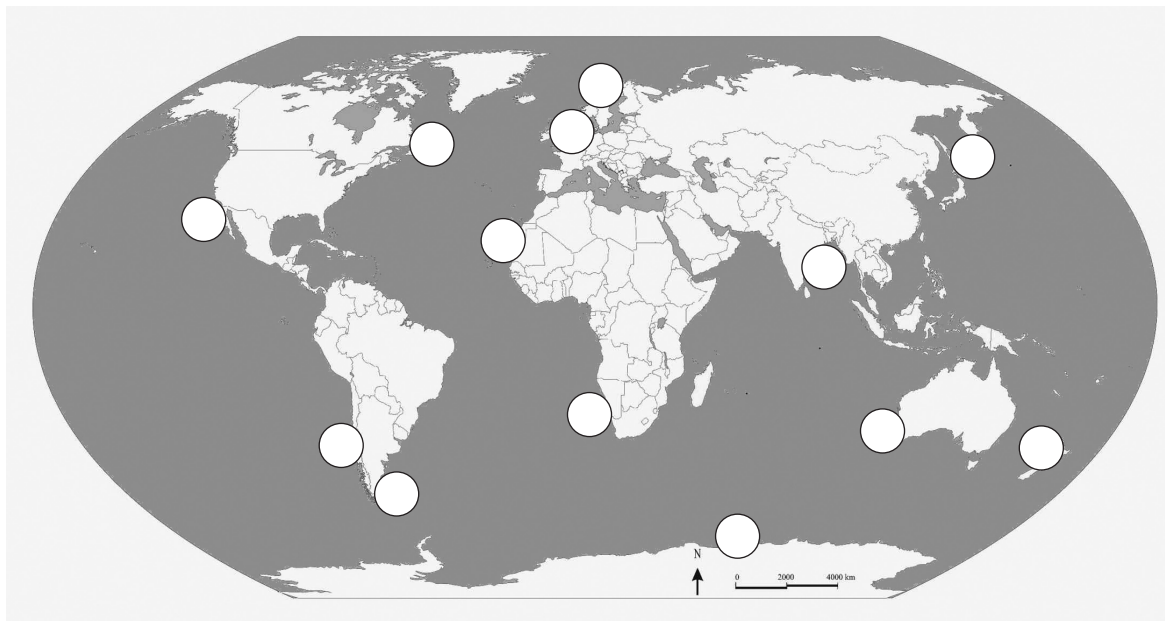
0 ☐  
2 ☐  
бод

0 ☐  
2 ☐  
бод



# Географија

50. Задатак решите уписујући тражена слова на приложеноу карту света на којој су кружићима означена значајнија риболовна подручја у 20. веку



За сваки од наведених појмова упишите задано слово **у кружић** којим је означен на карти.

50.1. Упишите слово **A** у кружић на месту **Лофотских острва**.

50.2. Упишите слово **B** у кружић којим је означен **Доџер Банк**.

50.3. Упишите слово **C** у кружић којим је означена **Хумболтова струја**.

50.4. Упишите слово **D** у кружић којим је означена морска струја **Ојашијо**.

0	<input type="checkbox"/>
1	<input type="checkbox"/>
бод	

0	<input type="checkbox"/>
1	<input type="checkbox"/>
бод	

0	<input type="checkbox"/>
1	<input type="checkbox"/>
бод	

0	<input type="checkbox"/>
1	<input type="checkbox"/>
бод	



# Географија

51. Задатак решите уписујући тражене бројеве на приложеној географској карту немачких савезних земаља и градова.



Задане су немачке савезне земље: Баден-Виртемберг, Баварска, Хесен, Доња Саксонија и Северна Рајна-Вестфалија. Издвојите три земље од наведених које остварују највећи удео БДП-а у Немачкој посљедњих пет година.

51.1. На карту упишите број **1** у **прву** земљу по уделу БДП-а.

51.2. На карту упишите број **2** у **другу** земљу по уделу БДП-а.

51.3. На карту упишите број **3** у **трећу** земљу по уделу БДП-а.

0

2

бод

0

2

бод

0

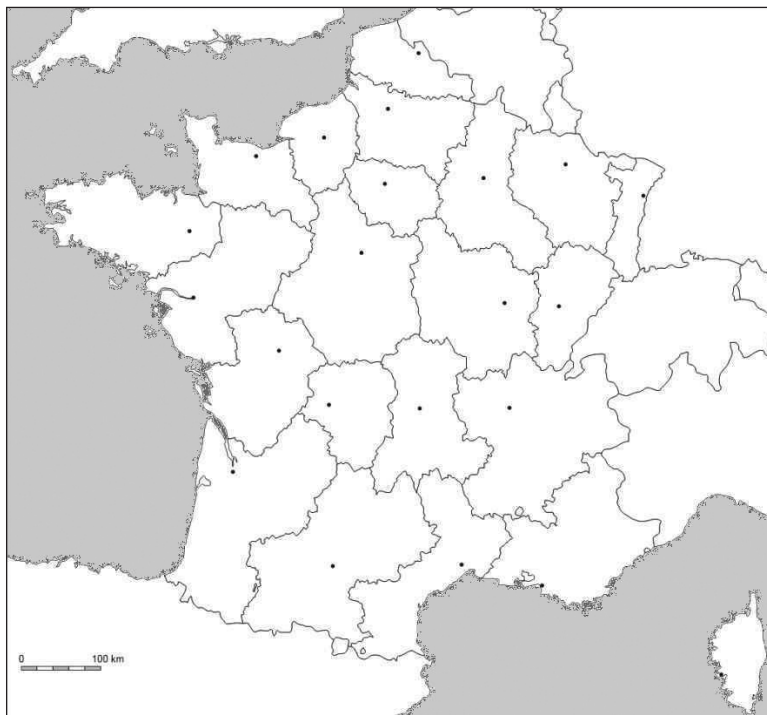
2

бод



# Географија

**52.** Задатак решите уписујући тражене бројеве на приложеној географској карти Француске.



**52.1.** Упишите број **1** у простор регије у којој је водеће демографско и привредно средиште Марсељ.

**52.2.** Упишите број **2** у простор регије у којој је водеће демографско и господарско средиште Мец.

**52.3.** Упишите број **3** у простор регије у којој је водеће демографско и господарско средиште Монтпеље.

0

2

бод

0

2

бод

0

2

бод

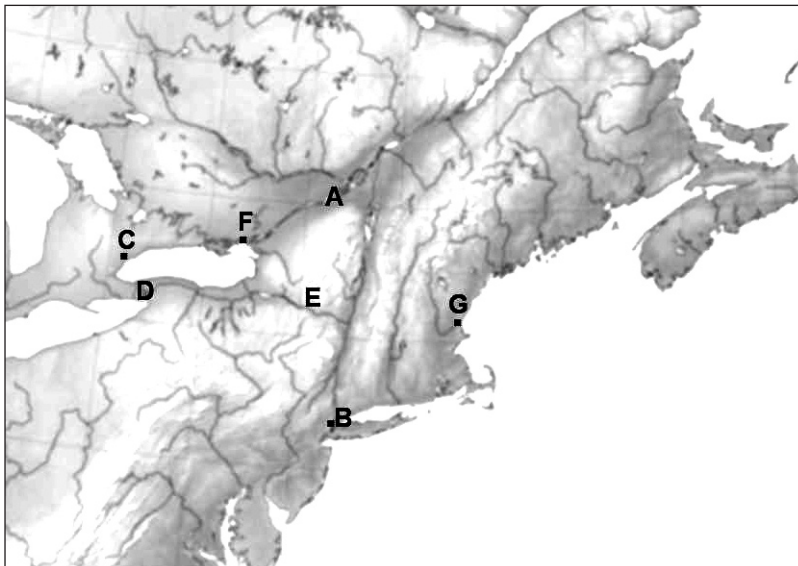
GEO IK-2 D-S013



02

# Географија

53. Задатак решите уз помоћ приложене географске карте дела САД-а и Канаде.



Допуните следеће реченице.

53.1. Име реке која повезује Велика језера са Атлантским океаном

је \_\_\_\_\_, а на карти је означена словом \_\_\_\_\_.

53.2. Име града насталог на ушћу реке Хадсон

је \_\_\_\_\_, а на карти је  
означен словом \_\_\_\_\_.

53.3. Име највећег канадског града који се налази на језеру Онтарио

је \_\_\_\_\_, а на карти је  
означен словом \_\_\_\_\_.

53.4. Име водопада на којем је Никола Тесла изградио хидроцентралу је

\_\_\_\_\_, а на карти је  
означен словом \_\_\_\_\_.

0	<input type="checkbox"/>
1	<input type="checkbox"/>
бод	

0	<input type="checkbox"/>
1	<input type="checkbox"/>
бод	

0	<input type="checkbox"/>
1	<input type="checkbox"/>
бод	

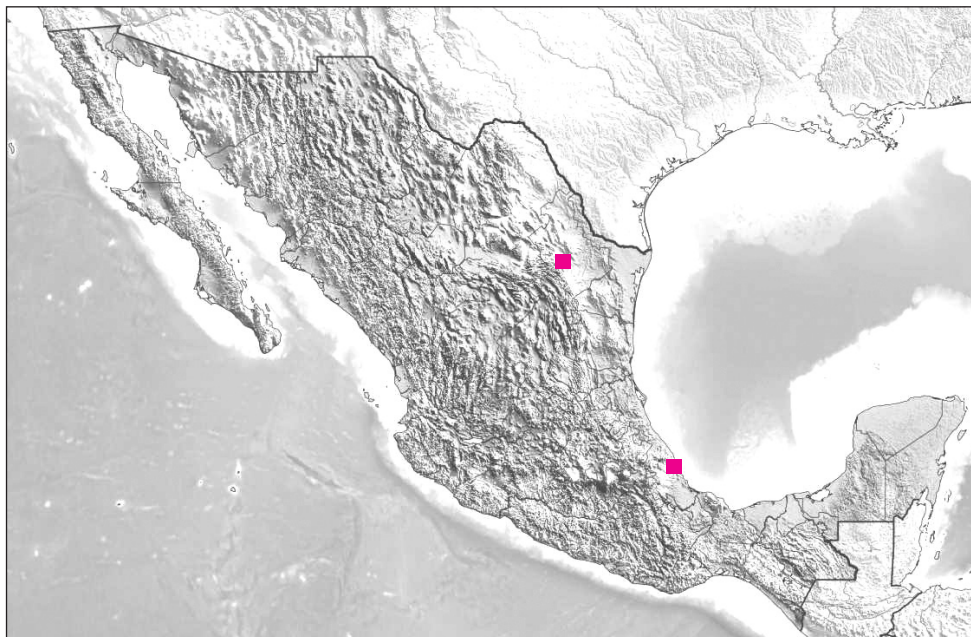
0	<input type="checkbox"/>
1	<input type="checkbox"/>
бод	





# Географија

**54.** Задатак решите уз помоћ приложене географске карте Мексика.



Допуните следеће реченице и упишите на карту тражене бројеве.

**54.1.** Име планинског ланца који се протеже западним делом Мексика  
је \_\_\_\_\_.

Упишите број **1** на тај планински ланац.

**54.2.** Име главне луке на источној обали Мексика, означене на карти  
црвеним квадратићем, је \_\_\_\_\_.

**54.3.** Име града који је главно средиште металургије у Мексику, а на карти је  
означен црвеним квадратићем, је \_\_\_\_\_.

**54.4.** Име полуострва на којем се налазе остаци цивилизације Маја  
је \_\_\_\_\_.

Упишите број **2** на то полуострво

0	<input type="checkbox"/>
1	<input type="checkbox"/>
бод	

0	<input type="checkbox"/>
1	<input type="checkbox"/>
бод	

0	<input type="checkbox"/>
1	<input type="checkbox"/>
бод	

0	<input type="checkbox"/>
1	<input type="checkbox"/>
бод	

GEO IK-2 D-S013



02

# Географија

**55.** Задатак решите уз помоћ приложене географске карте Европе.



Упишите на карту тражене бројеве.

**55.1.** Упишите број **1** у државу примљену у пуноправно чланство Еуропске уније 2004. године чији се главни град налази на обалама Финског залива.

**55.2.** Упишите број **2** у државу примљену у пуноправно чланство Еуропске заједнице (данашње Еуропске уније) 1973. године која има два службена језика.

**55.3.** Упишите број **3** у државу примљену у пуноправно чланство Еуропске уније 1995. године која има два службена језика.

**55.4.** Упишите број **4** у државу примљену у пуноправно чланство Еуропске уније 2004. године која има два службена језика.

0	<input type="checkbox"/>
1	<input type="checkbox"/>
бод	

0	<input type="checkbox"/>
1	<input type="checkbox"/>
бод	

0	<input type="checkbox"/>
1	<input type="checkbox"/>
бод	

0	<input type="checkbox"/>
1	<input type="checkbox"/>
бод	

GEO IK-2 D-S013



02

# Географија

**56.** На карти су означени делови Јадранског мора.



Одговорите на следећа питања.

**56.1.** Како се назива део Јадранског мора означен бројем 1?

\_\_\_\_\_

**56.2.** Како се назива део Јадранског мора означен бројем 2?

\_\_\_\_\_

**56.3.** Како се назива део Јадранског мора који заједно чине делови мора означени бројевима 1 и 2? \_\_\_\_\_

0 ☐

2 ☐

бод

0 ☐

2 ☐

бод

0 ☐

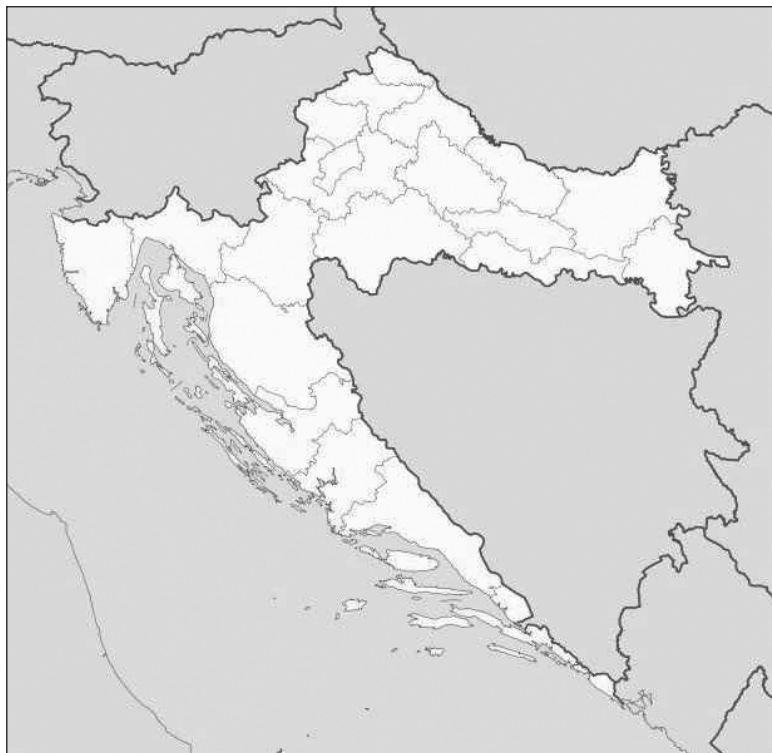
2 ☐

бод



# Географија

**57.** Задатак решите уз помоћ приложене следеће карте хрватских жупанија.



Упишите на карту тражене бројеве.

**57.1.** Упишите број **1** у жупанију северног Хрватског приморја која је, према првим резултатима пописа 2011. године, забележила пораст броја становника.

**57.2.** Упишите број **2** у жупанију Панонске Хрватске која је, према првим резултатима пописа 2011. године, уз Град Загреб, забележила пораст броја становника.

**57.3.** Упишите број **3** у жупанију јужног Хрватског приморја која је, према првим резултатима пописа 2011. године, забележила пораст броја становника.

0

2

бод

0

2

бод

0

2

бод

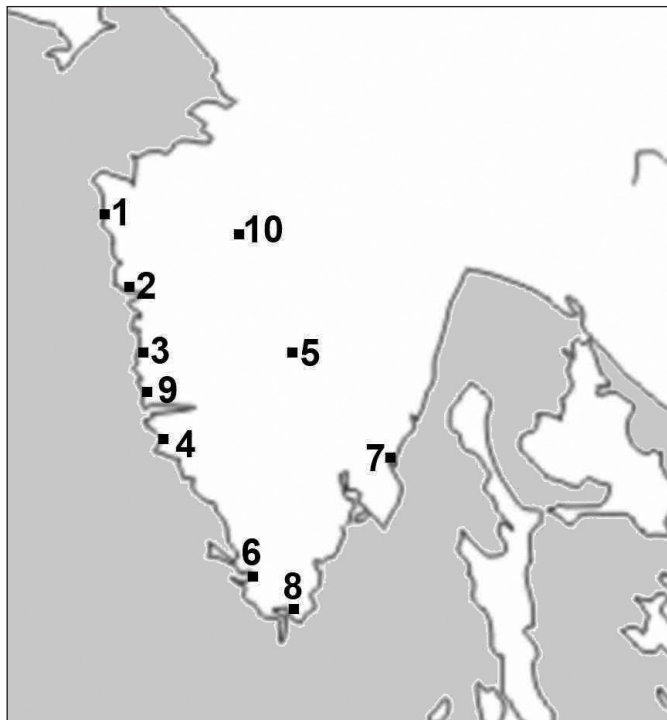
GEO IK-2 D-S013



02

# Географија

58. Задатак решите уз помоћ приложене следеће карте Истарске жупаније.



Допуните следеће реченице уписујући на црту одговарајући број са карте.

58.1. Туристичко средиште у којем је једна од атракција понор Пазинчице означено је на карти бројем \_\_\_\_\_.

58.2. Туристичко средиште у којем је једна од атракција Августов храм означено је на карти бројем \_\_\_\_\_.

58.3. Туристичко средиште са највећим бројем ноћења у Истарској жупанији у последњим трима годинама означено је на карти бројем \_\_\_\_\_.

0 ☐

2 ☐

бод

0 ☐

2 ☐

бод

0 ☐

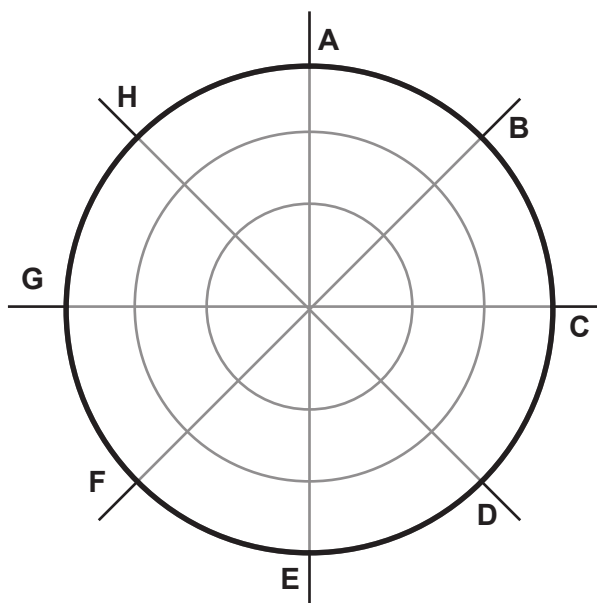
2 ☐

бод



# Географија

59. Задатак решите уз помоћ приложеног цртежа правца ветрова.



Одговорите на следећа питања.

59.1. Који је локални назив за ветар на Јадрану означен словом **В**?

\_\_\_\_\_

59.2. Којим је словом означен ветар који подиже највеће таласе на Јадрану?

\_\_\_\_\_

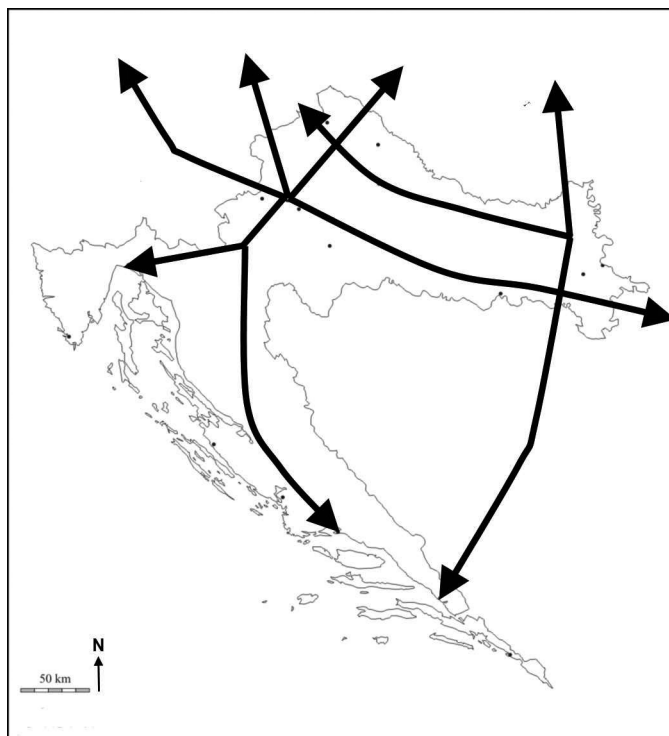
0	<input type="checkbox"/>
1	<input type="checkbox"/>
бод	

0	<input type="checkbox"/>
1	<input type="checkbox"/>
бод	



# Географија

60. Задатак решите уз помоћ приложене географске карте саобраћајних коридора.



Упишите на карту тражене ознаке и допуните реченице.

60.1. Означите на карти кружићем и словом **A** сециште коридора **X** и огранка **b** прометног коридора **V**.

Име града уз који се налази то сециште је \_\_\_\_\_.

60.2. Означите на карти словом **B** луку у којој завршава огранак **b** саобраћајног коридора **V**.

Име те луке је \_\_\_\_\_.

0	<input type="checkbox"/>
1	<input type="checkbox"/>
бод	

0	<input type="checkbox"/>
1	<input type="checkbox"/>
бод	



# Географија

Празна страница

GEO IK-2 D-S013



99