



Adesivo per l'identificazione  
dell'alunno/a

INCOLLARE ATTENTAMENTE

# STORIA

POV D-S015

POV.15.IT.R.K1.40



5335



12

Pagina vuota



## INDICAZIONI GENERALI

Leggi attentamente tutte le indicazioni e seguile.

Non voltare pagina e non iniziare a risolvere i quesiti senza il permesso dell'insegnante di servizio.

Incolla gli adesivi di identificazione su tutti i materiali d'esame che hai ricevuto nella busta sigillata.

L'esame dura **120** minuti senza interruzioni.

Davanti a ciascun gruppo di quesiti trovi le indicazioni per la loro soluzione. Leggile attentamente.

Usa esclusivamente una penna a sfera di colore blu o nero.

Scrivi in modo leggibile. Le risposte non leggibili verranno valutate con zero (0) punti.

In caso di errore, correggi mettendo l'errore tra parentesi e barrandolo, poi apponi una breve firma.

Una volta risolti i quesiti, controlla le risposte.

Buona fortuna!

Questo fascicolo d'esame ha 40 pagine, di cui 2 vuote.

In caso tu abbia sbagliato a scrivere la risposta, puoi rimediare in questo modo:

a) per i quesiti di tipo chiuso

Giusto




Correzione dell'errore



Sbagliato



b) per i quesiti di tipo aperto



# Storia

## I Quesiti a scelta multipla

Nei seguenti quesiti, fra le opzioni proposte, solo una è esatta.  
Indica la risposta esatta con una X sul foglio delle risposte.

1. Quale storico romano ha scritto l'opera dei primi "Dodici re romani"?

- A. Ammiano Marcellino
- B. Gaio Svetonio Tranquillo
- C. Publio Cornelio Tacito
- D. Tito Livio

- A. ☐
- B. ☐
- C. ☐
- D. ☐

2. Che cosa ha caratterizzato il territorio della Mezzaluna fertile nel periodo del Neolitico?

- A. allevamento dei cani
- B. passaggio alla vita sedentaria
- C. uso delle armi in pietra
- D. sviluppo della manifattura e del commercio

- A. ☐
- B. ☐
- C. ☐
- D. ☐

3. Quale dei seguenti statisti **non ebbe** funzione di stratega?

- A. Aristide
- B. Clistene
- C. Pericle
- D. Temistocle

- A. ☐
- B. ☐
- C. ☐
- D. ☐



# Storia

4. Che cosa rappresenta l'immagine sottostante?



- A. la più antica traccia scritta dell'alfabeto fenicio
- B. la fonte utilizzata per decifrare la scrittura lineare
- C. la più antica traccia scritta dell'alfabeto greco del Mediterraneo
- D. la fonte utilizzata per decifrare la scrittura geroglifica

A.	<input type="checkbox"/>
B.	<input type="checkbox"/>
C.	<input type="checkbox"/>
D.	<input type="checkbox"/>

5. Quali territori collegava la via commerciale, chiamata la via della seta, fondata durante la dinastia Han?

- A. est Europa ed Europa occidentale
- B. Asia orientale e Asia continentale
- C. Asia Minore e Africa
- D. Africa settentrionale e Mar Adriatico

A.	<input type="checkbox"/>
B.	<input type="checkbox"/>
C.	<input type="checkbox"/>
D.	<input type="checkbox"/>

6. Come si chiamano i successori di Alessandro Magno?

- A. diadochi
- B. arconti
- C. iloti
- D. strateghi

A.	<input type="checkbox"/>
B.	<input type="checkbox"/>
C.	<input type="checkbox"/>
D.	<input type="checkbox"/>

POV D-S015



01

7. Quale città manca nella carta storico-geografica (indicata dal punto interrogativo)?




- A. Delminium
- B. Epidamnos
- C. Nesactium
- D. Salona

A.	<input type="checkbox"/>
B.	<input type="checkbox"/>
C.	<input type="checkbox"/>
D.	<input type="checkbox"/>



# Storia

8. A quale religione fa riferimento l'immagine risalente all'epoca dell'antica Parenzo?



- A. politeismo greco
- B. cristianesimo
- C. politeismo romano
- D. culti mistici

- A. ☐
- B. ☐
- C. ☐
- D. ☐

9. Che cosa accomuna la politica dei fratelli e tribuni Gracchi?

- A. la riforma religiosa
- B. la politica di conquista
- C. la riforma della società romana
- D. l'organizzazione professionale dell'esercito

- A. ☐
- B. ☐
- C. ☐
- D. ☐


10. Quale fu il motivo per il quale Teodosio divise l'Impero romano in Occidentale ed Orientale?

- A. le rivolte degli schiavi
- B. la rapida diffusione del cristianesimo
- C. la grande migrazione di popoli
- D. le conquiste arabe

- A. ☐
- B. ☐
- C. ☐
- D. ☐



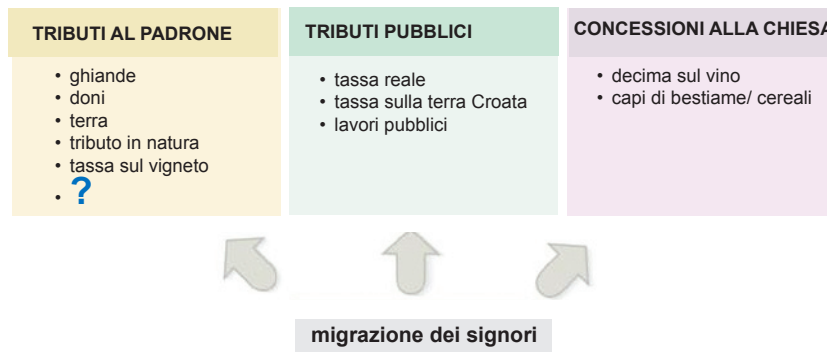
# Storia

<p><b>11.</b> Quale tra le seguenti scritture latine nacque nel monastero benedettino di Montecassino?</p> <p><b>A.</b> la scrittura carolina  <b>B.</b> la scrittura bosančica  <b>C.</b> la scrittura gotica  <b>D.</b> la scrittura beneventana</p>	<p><b>A.</b> <input type="checkbox"/></p> <p><b>B.</b> <input type="checkbox"/></p> <p><b>C.</b> <input type="checkbox"/></p> <p><b>D.</b> <input type="checkbox"/></p>
<p><b>12.</b> In quale dei seguenti territori i Visigoti, o Goti occidentali, hanno formato il proprio regno?</p> <p><b>A.</b> nella Penisola balcanica  <b>B.</b> in Asia Minore  <b>C.</b> nella Penisola iberica  <b>D.</b> in Africa settentrionale</p>	<p><b>A.</b> <input type="checkbox"/></p> <p><b>B.</b> <input type="checkbox"/></p> <p><b>C.</b> <input type="checkbox"/></p> <p><b>D.</b> <input type="checkbox"/></p>
<p><b>13.</b> A quale dei seguenti pontefici è legata la riforma religiosa espressa nel "Dictatus papae" emanato nel 1075?</p> <p><b>A.</b> a Gregorio VII  <b>B.</b> a Innocenzo III  <b>C.</b> a Giovanni VIII  <b>D.</b> a Stefano VI</p>	<p><b>A.</b> <input type="checkbox"/></p> <p><b>B.</b> <input type="checkbox"/></p> <p><b>C.</b> <input type="checkbox"/></p> <p><b>D.</b> <input type="checkbox"/></p>
<p><b>14.</b> Quale dei seguenti personaggi ha preteso il trono croato-ungherese dopo la morte di Mattia Corvino?</p> <p><b>A.</b> Alberto d'Austria e Ladislao V Postum  <b>B.</b> Ferdinando d'Asburgo e Giovanni Zapolyai  <b>C.</b> Massimiliano d'Asburgo e Ladislao Jagellone  <b>D.</b> Nikola Iločki e Giovanni Hunyadi</p>	<p><b>A.</b> <input type="checkbox"/></p> <p><b>B.</b> <input type="checkbox"/></p> <p><b>C.</b> <input type="checkbox"/></p> <p><b>D.</b> <input type="checkbox"/></p>
<p>POV D-S015</p>	 <p>01</p>



# Storia

15. Quale delle seguenti tipologie di tributi feudali nel territorio del Regno della Croazia e della Slavonia manca nello schema sottostante (indicato dal punto interrogativo)?



- A. servitù forzata
- B. tributo
- C. gabella
- D. tributo di pelli

- A. ☐
- B. ☐
- C. ☐
- D. ☐

16. Quale tra i seguenti croati del XII sec. è ricordato come traduttore e commentatore delle opere arabe e greche?

- A. Antonio Dalmatino
- B. Augustin Kažotić
- C. Ermanno Dalmatino
- D. Tommaso Arcidiacono

- A. ☐
- B. ☐
- C. ☐
- D. ☐

17. A quale teoria sull'origine dei croati fa riferimento l'opera "De administrando Imperio" di Costantino VII Porfirogenito?

- A. teoria slava
- B. teoria gotica
- C. teoria dell'autonomia
- D. teoria iranico-caucasica

- A. ☐
- B. ☐
- C. ☐
- D. ☐



# Storia

<p><b>18.</b> A quale territorio si riferiscono le decisioni del sabor di Rižani (il cosiddetto Rižanski placit)?</p> <p>A. alla Dalmazia B. all'Istria C. alla Liburnia D. alla Pannonia</p>	<p>A. <input type="checkbox"/></p> <p>B. <input type="checkbox"/></p> <p>C. <input type="checkbox"/></p> <p>D. <input type="checkbox"/></p>
<p><b>19.</b> Quale tra i seguenti personaggi ha tenuto il "Discorso croato" (<i>Govor za Hrvatsku</i>) al Parlamento nazionale tedesco a Norimberga nel 1522?</p> <p>A. Bernardin Frankapan B. Nikola Jurišić C. Petar Zrinski D. Šimun Erdödy</p>	<p>A. <input type="checkbox"/></p> <p>B. <input type="checkbox"/></p> <p>C. <input type="checkbox"/></p> <p>D. <input type="checkbox"/></p>
<p><b>20.</b> Grazie a quale battaglia la Slavonia venne finalmente liberata dall'occupazione ottomana?</p> <p>A. Battaglia di Krbavsko polje B. Battaglia di Slankamen C. Battaglia di Siget D. Battaglia di Sisak</p>	<p>A. <input type="checkbox"/></p> <p>B. <input type="checkbox"/></p> <p>C. <input type="checkbox"/></p> <p>D. <input type="checkbox"/></p>
<p><b>21.</b> A quale guerra <b>non ha partecipato</b> la Francia?</p> <p>A. alla guerra per la successione al trono polacco B. alla guerra per la successione al trono austriaco C. alla guerra dei Sette anni D. alla grande guerra settentrionale</p>	<p>A. <input type="checkbox"/></p> <p>B. <input type="checkbox"/></p> <p>C. <input type="checkbox"/></p> <p>D. <input type="checkbox"/></p>
<p><b>22.</b> Quale tra le seguenti caratteristiche emerge come punto della politica estera degli Stati Uniti d'America dopo la guerra d'indipendenza?</p> <p>A. la politica della "porta aperta" B. la fondazione delle prime colonie americane C. la "politica del grande bastone" D. la dottrina Monroe</p>	<p>A. <input type="checkbox"/></p> <p>B. <input type="checkbox"/></p> <p>C. <input type="checkbox"/></p> <p>D. <input type="checkbox"/></p>
<div data-bbox="180 2016 362 2051" data-label="Page-Footer">POV D-S015</div> <div data-bbox="1294 1975 1453 2107" data-label="Image"> <div data-bbox="1409 2076 1453 2107" data-label="Page-Footer">01</div> </div>	

# Storia

23. A quale stile artistico fa riferimento la fonte storica?

*Attorno al 1770 iniziò a diffondersi in Croazia un lusso pernicioso, che andava oltre le possibilità; soprattutto a Varaždin, che era la sede del Consiglio del Bano, si potevano vedere brillanti carrozze dei modelli più recenti, stoviglie da tavola in argento, livree lussuose, corrieri, cuochi francesi. Le eccellenze, i magnifici e le signore ordinavano costosi oggetti alla moda da Vienna, davano feste sociali ad alto livello – in breve, Varaždin era una piccola Vienna.*

- A. al Romanico
- B. alla Secessione
- C. al Gotico
- D. al Barocco

- A. ☐
- B. ☐
- C. ☐
- D. ☐

24. Quale dei seguenti politici croati, di origine illirica, diventò membro del Partito dei magiaroni (mađaronska/Ustavno-unionistička stranka)?

- A. Janko Drašković
- B. Josip Juraj Strossmayer
- C. Ljudevit Gaj
- D. Mirko Bogović

- A. ☐
- B. ☐
- C. ☐
- D. ☐

25. A quale periodo della Rivoluzione francese fa riferimento l'immagine?




- A. al Direttorio
- B. alla Terza repubblica
- C. alla Prima repubblica
- D. al Secondo Impero

- A. ☐
- B. ☐
- C. ☐
- D. ☐



# Storia

<p><b>26.</b> In quale periodo sorge in Italia il movimento irredentista?</p> <p>A. alla fine del XVII sec.          B. alla fine del XVIII sec.          C. alla fine del XIX sec.          D. alla fine del XX sec.</p>	<p>A. <input type="checkbox"/></p> <p>B. <input type="checkbox"/></p> <p>C. <input type="checkbox"/></p> <p>D. <input type="checkbox"/></p>	
<p><b>27.</b> In quale anno iniziò la prima dominazione austriaca dell'Istria, della Dalmazia e delle Bocche di Cattaro?</p> <p>A. nel 1797          B. nel 1805          C. nel 1808          D. nel 1814</p>	<p>A. <input type="checkbox"/></p> <p>B. <input type="checkbox"/></p> <p>C. <input type="checkbox"/></p> <p>D. <input type="checkbox"/></p>	
<p><b>28.</b> Quale bano croato presentò il proprio programma politico, riportato nella seguente fonte storica?</p> <div data-bbox="177 1108 1310 1368" style="border: 1px solid black; padding: 10px; margin: 10px 0;"> <p><i>Signori! Per quanto riguarda questi passi che bisognerebbe intraprendere nel nostro paese, l'ha ben dimostrato il nostro signor Presidente. Abbiamo bisogno di riforme nella giustizia, abbiamo bisogno di riforme nell'insegnamento e nelle scuole, abbiamo bisogno di riforme nell'amministrazione, nella legislazione, in ogni campo. Signori, la mia maggior preoccupazione sarà di fare in tutti questi campi ciò che si può fare...</i></p> </div> <p>A. Dragutin Khuen Héderváry          B. Ivan Mažuranić          C. Josip Jelačić          D. Josip Šokčević</p>		<p>A. <input type="checkbox"/></p> <p>B. <input type="checkbox"/></p> <p>C. <input type="checkbox"/></p> <p>D. <input type="checkbox"/></p>
<p>POV D-S015</p> <div style="text-align: right;">               01         </div>		

29. In quale dei seguenti territori è stanziata l’immigrazione croata testimoniata dalla rivista sotto esposta, relativa all’attività risorgimentale?



- A. nel territorio americano
- B. nel territorio della Bačka, del Banato e dello Srijem
- C. nel territorio di Gradišće/Burgenland
- D. in Molise

A. ☐

B. ☐

C. ☐

D. ☐



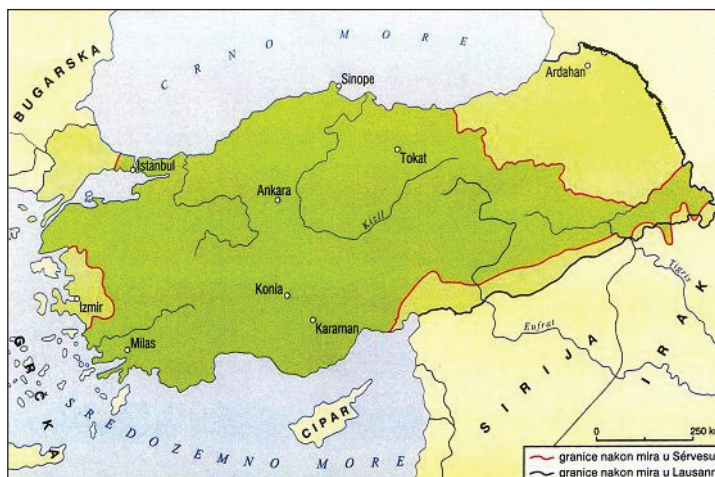
# Storia

30. Quale dei seguenti partiti politici aveva come parola d'ordine "Dom"?

- A. Hrvatska pučka seljačka stranka (Partito popolare dei contadini croato)
- B. Hrvatska stranka prava (Partito croato del diritto)
- C. Socijaldemokratska partija Hrvatske i Slavonije (Partito socialdemocratico della Croazia e Slavonia)
- D. Hrvatsko-srpska koalicija (Coalizione serbo-croata)

- A. ☐
- B. ☐
- C. ☐
- D. ☐

31. Dopo quale guerra nacque la Repubblica turca avente il territorio indicato nella carta storica?



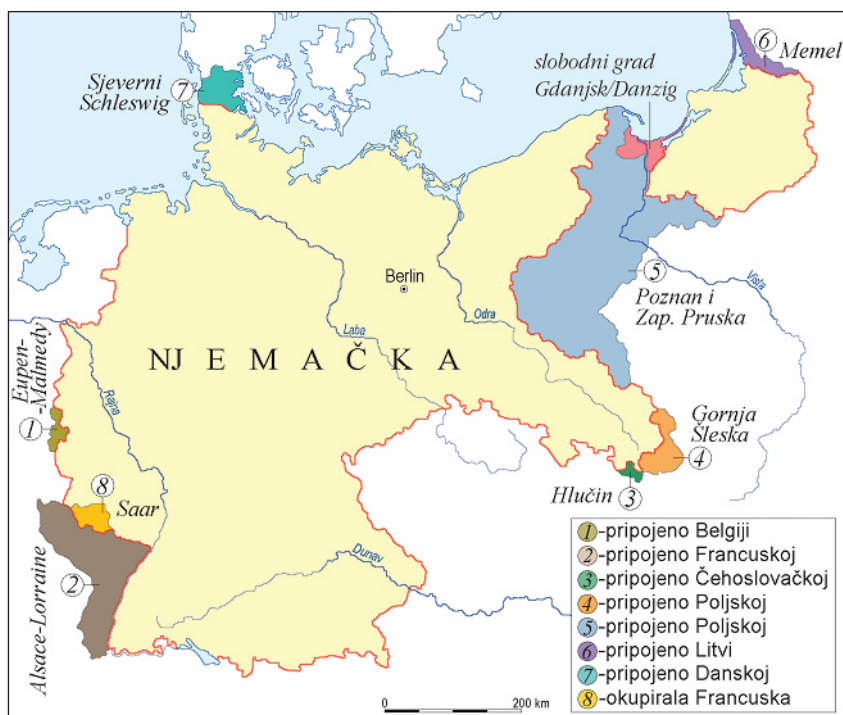
- A. dopo la Prima guerra mondiale
- B. dopo la Seconda guerra mondiale
- C. dopo la Prima guerra balcanica
- D. dopo la Seconda guerra balcanica

- A. ☐
- B. ☐
- C. ☐
- D. ☐



# Storia

32. In quale conferenza è stata presa la decisione di dividere territorialmente la Germania, come visibile nella carta storica?



- A. conferenza di Berlino
- B. conferenza di Monaco di Baviera
- C. conferenza di Versailles
- D. conferenza di Washington

A.	<input type="checkbox"/>
B.	<input type="checkbox"/>
C.	<input type="checkbox"/>
D.	<input type="checkbox"/>



# Storia

33. Quale stato aveva la struttura nazionale nelle istituzioni statali come visibile nella tabella?

VRSTA SLUŽBE	Srbi	Hrvati
Dužnosnici na kraljevu dvoru	10	-
Članovi Predsjedništva Ministarskog savjeta	6	-
Djelatnici Narodne skupštine	25	2
Veleposlanici	20	2
Suci Suda za zaštitu države	9	2
Članovi Uprave Narodne banke	18	2
Generali	161	2

- A. Monarchia austro-ungarica
- B. Regno dei Serbi, Croati e Sloveni
- C. Repubblica federativa nazionale jugoslava
- D. Regno di Jugoslavia

- A. ☐
- B. ☐
- C. ☐
- D. ☐

34. Quale periodo della storia del cinema inizia con il film *The Jazz Singer* ("Il cantante di jazz") del 1927?

- A. del film muto
- B. del film documentario
- C. del cartone animato
- D. del film sonoro

- A. ☐
- B. ☐
- C. ☐
- D. ☐





# Storia

**35.** Quale dei seguenti personaggi si difese nel “montirani proces” (processo farsa), espresso dalla fonte storica?

*A tutte le accuse che sono state qui mosse contro di me, rispondo che la mia coscienza è in pace, (...)  
Mi accusate come un nemico del governo statale e popolare. Per favore, ditemi, qual era per me l'autorità nel 1941? Forse quella del golpista Simović a Belgrado, o quella che voi chiamate traditrice, o quella di Londra o quella di Gerusalemme, oppure la vostra nei boschi, o questa a Zagabria? Vi dirò di più, sia nel 1943 che nel 1944, il governo a Londra o quello nei boschi? Per me voi siete il governo dall'8 maggio 1945. Avrei forse potuto ascoltare voi nei boschi e loro qui a Zagabria? È mai possibile servire due padroni? Ciò non appartiene né alla morale cattolica né al diritto internazionale, né al diritto universale dell'umanità. Non potevamo ignorare qui l'autorità, sebbene fosse degli Ustascia, essa era qui. Voi avete diritto a chiedermi e chiamarmi a responsabilità dall'8 maggio 1945.*

- A. Alojzije Stepinac
- B. Antun Bauer
- C. Franjo Kuharić
- D. Franjo Šeper

- A. ☐
- B. ☐
- C. ☐
- D. ☐

**36.** Con quale accordo nacque la Banovina Hrvatska?

- A. Cvetković-Maček
- B. Pavelić-Mussolini
- C. Tito-Šubašić
- D. Tuđman-Izetbegović

- A. ☐
- B. ☐
- C. ☐
- D. ☐

**37.** Quale tra i seguenti fu obiettivo e compito della politica di Pavao Rauch, ma in pratica si dimostrò un tradimento rispetto al processo di Frieding?

- A. assicurare il predominio dei magiaroni
- B. compromettere e distruggere la coalizione serbo-croata
- C. distruggere la potenziale collaborazione tra il Partito del diritto e la coalizione Croato-Serbo
- D. trasformare il Partito nazionale nell'obbediente macchina elettorale del regime

- A. ☐
- B. ☐
- C. ☐
- D. ☐



# Storia

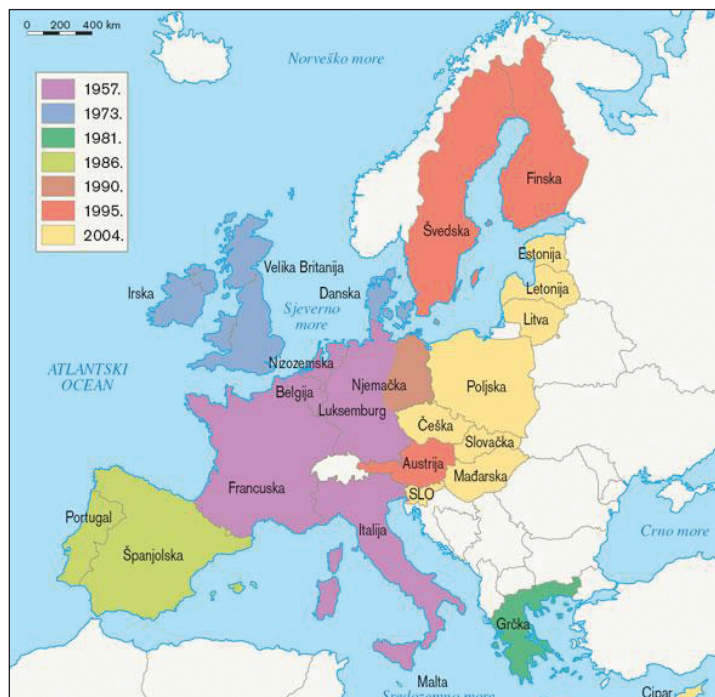
38. Quale delle seguenti organizzazioni delle Nazioni Unite manca nello schema (indicato con il punto interrogativo)?



- A. Fondo monetario internazionale
- B. Tribunale militare internazionale
- C. Lega delle nazioni
- D. Consiglio di sicurezza

- A. ☐
- B. ☐
- C. ☐
- D. ☐

39. Lo sviluppo territoriale di quale associazione internazionale è rappresentata nella carta storica?



- A. NATO
- B. CEFTA
- C. Patto di Varsavia
- D. Unione Europea

- A. ☐
- B. ☐
- C. ☐
- D. ☐



# Storia

**40.** Quale istituzione statale ha formulato la “Dichiarazione di ricostituzione della Repubblica” sovrana ed indipendente di Croazia il 25 giugno 1991?

- A.** il Sabor della Repubblica di Croazia
- B.** il Governo della Repubblica di Croazia
- C.** la Corte Suprema della Repubblica di Croazia
- D.** l'Assemblea federale della SFRJ

- A.** ☐
- B.** ☐
- C.** ☐
- D.** ☐

POV D-S015



01

# Storia

## Il Quesiti a risposta breve

Nei seguenti quesiti rispondi con una risposta breve (con una parola, alcune parole o con una frase semplice).

Scrivi le risposte solo sull'apposito spazio in questo fascicolo d'esame.

Non riempire lo spazio per il punteggio.

- 41.** Come si chiama la disciplina ausiliaria della storia che studia le fonti come quella rappresentata nell'immagine?



\_\_\_\_\_

0

☐

1

☐

punto

- 42.** Il mito di Teseo e del Minoturo fa riferimento all'opposizione della talassocrazia minoica rispetto a quale polis greca?

\_\_\_\_\_

0

☐

1

☐

punto


POV D-S015



02

# Storia

**43.** A quale periodo storico della Croazia appartiene il manufatto rappresentato nell'immagine?



0 ☐

1 ☐

punto

**44.** Di quale dinastia polacca fu fondatore e primo re Miecislao I?

0 ☐

1 ☐

punto

**45.** Come si chiamava il celebre benedettino che viveva alla corte del knez Trpimir?

0 ☐

1 ☐

punto

**46.** Come si chiamava il possedimento feudale bizantino?

0 ☐

1 ☐

punto

POV D-S015



02

# Storia

<p><b>47.</b> Quale sovrano croato-ungherese diede ai principi di Bribir la fortezza di Zrin in cambio di quella di Ostrvica?</p> <p>_____</p>	<p>0 <input type="checkbox"/></p> <p>1 <input type="checkbox"/></p> <p>punto</p>
<p><b>48.</b> Di quale insieme sono composte le cosiddette sette arti liberali ("studia liberalia" o "septem artes liberales")?</p> <p>_____</p>	<p>0 <input type="checkbox"/></p> <p>1 <input type="checkbox"/></p> <p>punto</p>
<p><b>49.</b> Come si chiamava il più celebre miniaturista croato, denominato il "Michelangelo delle miniature"?</p> <p>_____</p>	<p>0 <input type="checkbox"/></p> <p>1 <input type="checkbox"/></p> <p>punto</p>
<p><b>50.</b> Come si chiama la teoria e la pratica economica che vede nell'agricoltura il settore economico principale e negli uomini e nella terra la principale ricchezza?</p> <p>_____</p>	<p>0 <input type="checkbox"/></p> <p>1 <input type="checkbox"/></p> <p>punto</p>
<p><b>51.</b> Qual è il titolo dell'opera dell'illuminista croato della Dalmazia, Andrija Kačić Miošić?</p> <p>_____</p>	<p>0 <input type="checkbox"/></p> <p>1 <input type="checkbox"/></p> <p>punto</p>
<div data-bbox="180 2016 362 2051" data-label="Text">POV D-S015</div> <div data-bbox="1294 1975 1449 2078" data-label="Image"> </div> <div data-bbox="1406 2076 1457 2110" data-label="Text">02</div>	

# Storia

<p><b>52.</b> A quale stato gli Stati Uniti avevano richiesto la politica della “porta aperta”?</p> <p>_____</p>	<p>0 <input type="checkbox"/></p> <p>1 <input type="checkbox"/></p> <p>punto</p>	
<p><b>53.</b> Il governo di quale nazione venne decretato dal Congresso di Vienna del 1815 sui territori dell'Istria, della Dalmazia e delle Bocche di Cattaro?</p> <p>_____</p>	<p>0 <input type="checkbox"/></p> <p>1 <input type="checkbox"/></p> <p>punto</p>	
<p><b>54.</b> Che cosa ha proclamato il bano Josip Jelačić con il documento rappresentato nell'immagine?</p> <div data-bbox="454 1059 978 1426" data-label="Image"> </div> <p>_____</p>		<p>0 <input type="checkbox"/></p> <p>1 <input type="checkbox"/></p> <p>punto</p>
<p><b>55.</b> Con il nome di quale risoluzione i politici della Croazia e della Dalmazia hanno accettato la politica del “nuovo corso”?</p> <p>_____</p>	<p>0 <input type="checkbox"/></p> <p>1 <input type="checkbox"/></p> <p>punto</p>	
<p>POV D-S015</p> <div data-bbox="1295 1977 1455 2078" data-label="Image"> </div> <p>02</p>		

# Storia

<p><b>56.</b> Quale nazione-membro della Lega balcanica ha scatenato l'inizio della Seconda guerra balcanica non essendo soddisfatta delle acquisizioni territoriali della Prima guerra balcanica?</p> <p>_____</p>	<p>0 <input type="checkbox"/></p> <p>1 <input type="checkbox"/></p> <p>punto</p>
<p><b>57.</b> Qual è il nome completo della Jugoslavia dal 1945 al 1963?</p> <p>_____</p>	<p>0 <input type="checkbox"/></p> <p>1 <input type="checkbox"/></p> <p>punto</p>
<p><b>58.</b> Quale Stato nacque dall'intervento politico e diplomatico delle Nazioni Unite nel maggio del 1948?</p> <p>_____</p>	<p>0 <input type="checkbox"/></p> <p>1 <input type="checkbox"/></p> <p>punto</p>
<p><b>59.</b> In quale Stato la caduta del comunismo è stata simboleggiata dall'uccisione del presidente e di sua moglie nel dicembre del 1989?</p> <p>_____</p>	<p>0 <input type="checkbox"/></p> <p>1 <input type="checkbox"/></p> <p>punto</p>
<p><b>60.</b> Con quale organizzazione internazionale, nel 2005, la Croazia ha iniziato le trattative per l'adesione a membro a tutti gli effetti?</p> <p>_____</p>	<p>0 <input type="checkbox"/></p> <p>1 <input type="checkbox"/></p> <p>punto</p>
<div data-bbox="180 2016 362 2051" data-label="Text">POV D-S015</div> <div data-bbox="1294 1973 1453 2107" data-label="Image"> </div> <div data-bbox="1406 2074 1453 2107" data-label="Text">02</div>	



## III Quesiti a scelta multipla (cronologie)

Nei seguenti quesiti, fra le opzioni proposte, **solo** una è esatta.  
Indica la risposta esatta con una X sul foglio delle risposte.

**61.** Quale tra le seguenti sequenze cronologiche riguardanti le conquiste delle province di Roma repubblicana è quella corretta?

- A. Spagna → Sicilia → Macedonia → Gallia
- B. Gallia → Spagna → Sicilia → Macedonia
- C. Macedonia → Gallia → Spagna → Sicilia
- D. Sicilia → Spagna → Macedonia → Gallia

- A. ☐
- B. ☐
- C. ☐
- D. ☐

**62.** Quale tra le seguenti sequenze cronologiche riguardanti le scoperte geografiche è quella corretta?

- A. Colombo scopre il Nuovo Mondo → Vasco da Gama circumnaviga l'Africa e giunge in India → Ferdinando Magellano circumnaviga il globo → Bartolomeo Diaz giunge al Capo di Buona Speranza
- B. Vasco da Gama circumnaviga l'Africa e giunge in India → Ferdinando Magellano circumnaviga il globo → Bartolomeo Diaz giunge al Capo di Buona Speranza → Colombo scopre il Nuovo Mondo
- C. Bartolomeo Diaz giunge al Capo di Buona Speranza → Colombo scopre il Nuovo Mondo → Vasco da Gama circumnaviga l'Africa e giunge in India → Ferdinando Magellano circumnaviga il globo
- D. Ferdinando Magellano circumnaviga il globo → Bartolomeo Diaz giunge al Capo di Buona Speranza → Colombo scopre il Nuovo Mondo → Vasco da Gama circumnaviga l'Africa e giunge in India

- A. ☐
- B. ☐
- C. ☐
- D. ☐



# Storia

**63.** Quale tra le seguenti sequenze cronologiche riguardanti il governo che la Repubblica di Ragusa (Dubrovnik) riconosce, è quella corretta?

- A.** governo veneziano → governo bizantino → governo ottomano  
→ governo croato-ungherese
- B.** governo bizantino → governo croato-ungherese → governo ottomano  
→ governo veneziano
- C.** governo croato-ungherese → governo veneziano → governo ottomano  
→ governo bizantino
- D.** governo bizantino → governo veneziano → governo croato-ungherese  
→ governo ottomano

**A.** ☐  
**B.** ☐  
**C.** ☐  
**D.** ☐

**64.** Quale tra le seguenti sequenze cronologiche riguardanti la storia dei conti di Bribir Šubić è quella corretta?

- A.** Pavao I Šubić → battaglia di Blizna a Poljice → scambio di Ostrovica per Zrin  
→ pace di Zara
- B.** pace di Zara → Pavao I Šubić → battaglia di Blizna a Poljice scambio di  
Ostrovica per Zrin
- C.** scambio di Ostrovica per Zrin → pace di Zara → Pavao I Šubić → battaglia di  
Blizna a Poljice
- D.** battaglia di Blizna a Poljice → scambio di Ostrovica per Zrin → pace di Zara  
→ Pavao I Šubić

**A.** ☐  
**B.** ☐  
**C.** ☐  
**D.** ☐



# Storia

**65.** Quale tra le seguenti sequenze cronologiche riguardanti il Risorgimento nazionale croato è quella corretta?

- A.** fondazione delle Novine horvatzke → fondazione della Matica hrvatska → primo discorso parlamentare pronunciato in lingua croata → la lingua croata diventa ufficiale
- B.** primo discorso parlamentare pronunciato in lingua croata → fondazione delle Novine horvatzke → la lingua croata diventa ufficiale → fondazione della Matica hrvatska
- C.** la lingua croata diventa ufficiale → primo discorso parlamentare pronunciato in lingua croata → fondazione della Matica hrvatska → fondazione delle Novine horvatzke
- D.** fondazione delle Novine horvatzke → la lingua croata diventa ufficiale → fondazione della Matica hrvatska → primo discorso parlamentare pronunciato in lingua croata

A. ☐  
B. ☐  
C. ☐  
D. ☐

**66.** Quale tra le seguenti sequenze cronologiche riguardanti il periodo dell'imperialismo è quella corretta?

- A.** annessione della Bosnia ed Erzegovina → Congresso di Berlino → Triplice Alleanza → Triplice Intesa
- B.** Triplice Alleanza → Triplice Intesa → annessione della Bosnia ed Erzegovina → Congresso di Berlino
- C.** Triplice Intesa → Triplice Alleanza → Congresso di Berlino → annessione della Bosnia ed Erzegovina
- D.** Congresso di Berlino → Triplice Alleanza → Triplice Intesa → annessione della Bosnia ed Erzegovina

A. ☐  
B. ☐  
C. ☐  
D. ☐



# Storia

**67.** Quale tra le seguenti sequenze cronologiche riguardanti gli avvenimenti della Seconda guerra mondiale è quella corretta?

- A.** accordo Tito-Šubašić → formazione del governo d'intesa della Federazione democratica jugoslava → Seconda seduta dell'AVNOJ → fondazione del ZAVNOH
- B.** fondazione del ZAVNOH → Seconda seduta dell'AVNOJ → accordo Tito-Šubašić → formazione del governo d'intesa della Federazione democratica jugoslava
- C.** formazione del governo d'intesa della Federazione democratica jugoslava → fondazione del ZAVNOH → accordo Tito-Šubašić → Seconda seduta dell'AVNOJ
- D.** fondazione del ZAVNOH → Seconda seduta dell'AVNOJ → formazione del governo d'intesa della Federazione democratica jugoslava → accordo Tito-Šubašić

**A.** ☐  
**B.** ☐  
**C.** ☐  
**D.** ☐

**68.** Quale tra le seguenti sequenze cronologiche riguardanti gli avvenimenti della prima metà del XX sec. è quella corretta?

- A.** lo zar Nicola II Romanov abdica → muore l'imperatore Francesco Giuseppe I → Mustafa Kemal Atatürk diventa presidente della Turchia → Guglielmo II Hohenzollern abdica
- B.** Mustafa Kemal Atatürk diventa presidente della Turchia → lo zar Nicola II Romanov abdica → muore l'imperatore Francesco Giuseppe I → Guglielmo II Hohenzollern abdica
- C.** muore l'imperatore Francesco Giuseppe I → lo zar Nicola II Romanov abdica → Guglielmo II Hohenzollern abdica → Mustafa Kemal Atatürk diventa presidente della Turchia
- D.** Guglielmo II Hohenzollern abdica → lo zar Nicola II Romanov abdica → Mustafa Kemal Atatürk diventa presidente della Turchia → muore l'imperatore Francesco Giuseppe I

**A.** ☐  
**B.** ☐  
**C.** ☐  
**D.** ☐

**69.** Quale tra le seguenti sequenze cronologiche riguardanti le battaglie della Seconda guerra mondiale è quella corretta?

- A.** El Alamein → Pearl Harbour → Berlino → Midway
- B.** Berlino → Midway → Pearl Harbour → El Alamein
- C.** Pearl Harbour → Midway → El Alamein → Berlino
- D.** Midway → El Alamein → Berlino → Pearl Harbour

**A.** ☐  
**B.** ☐  
**C.** ☐  
**D.** ☐



# Storia

**70.** Quale tra le seguenti sequenze cronologiche riguardanti la nascita delle nazioni è quella corretta?

- A.** Regno dei Serbi, Croati e Sloveni → Stato degli Sloveni, Croati e Serbi → Regno di Jugoslavia → Repubblica Federativa Nazionale di Jugoslavia
- B.** Stato degli Sloveni, Croati e Serbi → Regno dei Serbi, Croati e Sloveni → Regno di Jugoslavia → Repubblica Federativa Nazionale di Jugoslavia
- C.** Repubblica Federativa Nazionale di Jugoslavia → Stato degli Sloveni, Croati e Serbi → Regno dei Serbi, Croati e Sloveni → Regno di Jugoslavia
- D.** Stato degli Sloveni, Croati e Serbi → Regno di Jugoslavia → Regno dei Serbi, Croati e Sloveni → Repubblica Federativa Nazionale di Jugoslavia

**A.**

☐

**B.**

☐

**C.**

☐

**D.**

☐

## IV Quesiti a scelta multipla (partendo da un contenuto)

Nei seguenti quesiti, analizza le fonti storiche, le mappe storiche e le immagini allegate e rispondi alle domande.

Fra le opzioni proposte, solo **una** è esatta.

Indica la risposta esatta con una X sul foglio delle risposte.

**71.** Leggi attentamente la fonte storica riportata e rispondi alle domande.

*Era già la prima ora del giorno, eppure la luce era ancora incerta e languida. Gli edifici attorno erano squassati e benchè fossimo in un luogo aperto, angusto però, il timore di un crollo era grande ed imminente. Solo allora ci decidemmo ad uscire dall'abitato; (...)*

*Vedemmo inoltre il mare che sembrava si ripiegasse su se stesso, quasi respinto dal tremare della terra. Certamente la spiaggia s'era allargata e molti animali marini giacevano sulle sabbie rimaste in secco. Dal lato opposto una nube nera e terribile, squarciata da guizzi serpeggianti di fuoco si apriva in vasti bagliori d'incendio: erano essi simili a folgori ma più estesi. (...) Dopo non molto quella nube si abbassò verso terra e coprì il mare: avvolse e nascose Capri, tolse di vista il promontorio di Miseno. (...) Mi volgo: una densa caligine ci sovrastava alle spalle e simile ad un torrente che si rovesciasse sul terreno ci incalzava. (...) Udivi i gemiti delle donne, i gridi dei fanciulli, il clamore degli uomini: gli uni cercavano a gran voce i genitori, altri i figli, altri i consorti riconoscendoli dalle voci.*

**71.1.** Qual è l'avvenimento descritto dalla fonte storica?

- A. la conquista della Gallia da parte di Cesare
- B. l'eruzione del Vesuvio
- C. il sacco di Roma (da parte dei Vandali)
- D. la decadenza delle città-palazzo di Creta

- A. ☐
- B. ☐
- C. ☐
- D. ☐

**71.2.** Qual è l'autore della fonte storica?

- A. Gaio Giulio Cesare
- B. Cornelio Tacito
- C. Plinio il Giovane
- D. Tito Livio

- A. ☐
- B. ☐
- C. ☐
- D. ☐



# Storia

**72.** Leggi attentamente la fonte storica riportata e rispondi alle domande.

*La Croazia cristiana ha le seguenti città popolate: Nin, Biograd, Velicin, Skradin, Hljevno, Stup, Knin, Kori, Klobuk.*

*La Croazia cristiana mette fino a 60.000 soldati a cavallo, mette fino a 100.000 soldati a piedi, fino a 60 sagene e fino a 100 condurre. Sulle sagene hanno 40 uomini per nave, sulle condurre 20, e sulle condurre minori 10 uomini. Una tal grande forza e moltitudine di popolo aveva la Croazia fino all'arconte Krasimero (Krešimir).*

**72.1.** Qual è l'autore della fonte storica?

- A. Ivan Lučić Lucius
- B. Constantino VII Porfirogenito
- C. Pop Dukljanin
- D. Tommaso Arcidiacono

- A. ☐
- B. ☐
- C. ☐
- D. ☐

**72.2.** A quale sovrano sono legati gli avvenimenti militari dei Croati nel X secolo, espresso nella fonte storica?

- A. Krešimir I
- B. Mihovil Krešimir
- C. Stjepan Držislav
- D. Tomislav

- A. ☐
- B. ☐
- C. ☐
- D. ☐



# Storia

**73.** Leggi attentamente la fonte storica del cronista franco Eginardo riportata e rispondi alle domande.

*Alla fine della vita ormai costretto dalla malattia e dalla vecchiaia, chiamò a sé il figlio Lodovico, re dell'Aquitania, l'unico rimasto dei figli di Ildegarda. Dopo aver riunito solennemente i magnati di tutto il regno franco, con il consenso di tutti, lo fece suo co-regnante e successore di tutto il regno e del titolo imperiale, gli mise sul capo la corona ed ordinò che lo chiamassero imperatore ed augusto. (...) Mandò quindi il figlio indietro in Aquitania, e da solo, sebbene fosse vecchio e senza forze, secondo le sue abitudini, andò a caccia non lontano dal palazzo di Aquisgrana. Passò così il resto dell'autunno e tornò ad Aquisgrana all'inizio di novembre.*

**73.1.** A quale sovrano franco si riferisce la fonte storica?

- A. a Carlo il Semplice
- B. a Carlo Magno
- C. a Lotario
- D. a Pipino il Breve

- A. ☐
- B. ☐
- C. ☐
- D. ☐

**73.2.** Che cosa rappresenta Einhard rispetto al personaggio descritto nella fonte?

- A. una persona inventata
- B. un contemporaneo
- C. il successore
- D. il predecessore

- A. ☐
- B. ☐
- C. ☐
- D. ☐





# Storia

**74.** Leggi attentamente la fonte storica riportata e rispondi alle domande.

*Dove il signor Menardo vassalo comparve d'inanzi, e dimostrò i documenti legali, in cui segnati erano i confini tra Sovignaco, Vergh et Pingente, registrati l'anno del Signore 1195, tali scritture presentarono davanti a noi tre notari dai detti signori nominati per registrare i detti fatti, l'uno scritto in latino, l'altro in tedesco e il terzo in croato, perché ognuno di noi potesse usare il suo idioma per scrivere un originale, riportando fedelmente di luogo in luogo come da uso locale, nella propria terra. E così noi, notai sottoscritti, leggemo davanti a tutti codesti signori il contenuto di quanto scritto in modo che ivi le parti si convennero, si contentarono ed accordarono che le divisioni e i confini siano posti e stabiliti, ed ambedue le parti compilarono lo scritto in latino e croato, mentre la Signoria tenne per se lo scritto redatto in tedesco (...)*

**74.1.** In quali lingue venne scritta la fonte storica?

- A. in italiano, tedesco e croato
- B. in sloveno, tedesco e croato
- C. in croato, italiano e sloveno
- D. in latino, tedesco e croato

- A. ☐
- B. ☐
- C. ☐
- D. ☐

**74.2.** Al governo di quale potenza si riferisce la frase *la Signoria tenne per se lo scritto redatto in tedesco* riportata nella fonte storica?

- A. a Venezia
- B. agli Asburgo
- C. al patriarcato di Aquileia
- D. ai Franchi

- A. ☐
- B. ☐
- C. ☐
- D. ☐



# Storia

**75.** Leggi attentamente la fonte storica riportata e rispondi alle domande.

*1. Siccome Carlo Stuart I re d'Inghilterra, d'Irlanda e di tutte le terre a lui ascritte, a seguito di numerosi tradimenti, assassinii e altri crimini contro Dio, per decisione del parlamento è stato condannato a morte e giustiziato, nessuno dei suoi discendenti ed eredi ed ancora nessuno di coloro che innalzano pretese a suo nome, può portare la detta corona o anche svolgere la funzione di re o regina, sia nel regno che in qualsiasi altro paese ad esso appartenente.*

*5. E siccome grazie all'eliminazione del regno è stata offerta la possibilità al popolo di essere governato dai propri rappresentanti o consigli, che verrebbero di tanto in tanto eletti dal popolo delegato, questo parlamento conclude che nella seduta dello stesso si stabilisca la data e venga sciolto appena ciò sarà in accordo con la sicurezza del popolo che gli ha conferito il potere e con quello che è direttamente indispensabile fare per il mantenimento e la salvaguardia dello stato ora creato (...)*

**75.1.** Quale forma di governo venne introdotta in Inghilterra in base alla legge espressa nella fonte storica?

- A. assolutismo
- B. monarchia
- C. liberalismo
- D. repubblica

- A. ☐
- B. ☐
- C. ☐
- D. ☐

**75.2.** Quale sovrano prese il potere in Inghilterra dopo Carlo I Stuart?

- A. Elisabetta I
- B. Filippo II
- C. Oliver Cromwell
- D. Guglielmo d'Orange

- A. ☐
- B. ☐
- C. ☐
- D. ☐

POV D-S015



02

# Storia

76. Analizza attentamente la carta storica e rispondi alle domande.



76.1. Quale consiglio diplomatico creò la carta politica d'Europa indicato nella mappa storica?

- A. Congresso di Vienna
- B. Pace di Santo Stefano
- C. Congresso di Berlino
- D. Pace di Svištovo

- A. ☐
- B. ☐
- C. ☐
- D. ☐

76.2. Come si chiamava l'alleanza politico-militare che aveva il compito di mantenere lo status quo evidenziato nella mappa storica?

- A. Consiglio dei tre imperatori
- B. Triplice Consiglio
- C. Lega Santa
- D. Santa Alleanza

- A. ☐
- B. ☐
- C. ☐
- D. ☐



# Storia

77. Leggi attentamente la fonte storica riportata e rispondi alle domande.

*A voi, miei signori, futuri rappresentanti al Sabor croato, sono donate queste parole di amore e speranza. Voi, che verrete inviati dal regno di Croazia e Slavonia di diritto nel nostro Sabor – Voi avrete il potere accanto alle nostre antiche leggi e a quelle ungheresi, sotto il nome di Dalmazia, Croazia e Slavonia, di far sentire le vostre richieste per il bene comune delle generazioni future, o almeno per lavare l'onta dalla vostra amata patria. Voi, dunque, saggi e futuri leggiferai, ai quali non serve parlare troppo, vengo qui, come foste cari fratelli, a ricordare, con questo breve discorso, di quei problemi che possono derivare a tutto il nostro stato da alcune leggi ungheresi...*

77.1. A chi venne rivolto il discorso espresso nella fonte storica?

- A. ai deputati croati al Parlamento ungherese
- B. ai deputati croati al Parlamento austriaco
- C. ai deputati croati al Parlamento istriano
- D. ai deputati croati al Parlamento dalmato

- A. ☐
- B. ☐
- C. ☐
- D. ☐

77.2. Qual è l'autore della fonte storica?

- A. Ivan Mažuranić
- B. Janko Drašković
- C. Josip Jelačić
- D. Ljudevit Gaj

- A. ☐
- B. ☐
- C. ☐
- D. ☐

POV D-S015



02

# Storia

**78.** Leggi attentamente la fonte storica riportata e rispondi alle domande.

*Le formazioni marciavano composte verso la piazza Bano Jelačić, seguite da una moltitudine di patrioti. Era nostra intenzione proclamare la repubblica croata libera. Nel contempo veniva espressa la rabbia del popolo contro i serbi con urla che dicevano: “Abbasso la dinastia serba! Abbasso il re Pietro! Abbasso il militarismo serbo” Con la stessa enfasi si inneggiava alla Croazia libera, a Stjepan Radić e alla repubblica croata. (...) Appena mettemmo piede in piazza Bano Jelačić, su di noi si riversò un fuoco mortale, (...)*

**78.1.** Quale avvenimento è descritto nella fonte storica?

- A. manifestazioni a causa dell'attentato a Stjepan Radić
- B. manifestazioni nel dicembre del 1918
- C. rivolta a causa della marchiatura del bestiame
- D. manifestazioni a causa della proclamazione della “Dittatura del sei gennaio”

- A. ☐
- B. ☐
- C. ☐
- D. ☐

**78.2.** Chi erano i manifestanti (nella fonte storica)?

- A. i domobrani
- B. i membri del Hrvatski sokol
- C. zeleni kader
- D. i membri del Partito croato del diritto

- A. ☐
- B. ☐
- C. ☐
- D. ☐



# Storia

**79.** Leggi attentamente la fonte storica riportata e rispondi alle domande.

*(...) Lei è preoccupato per Cuba. Dice che l'inquieta il fatto che essa si trovi a sole 90 miglia dalla costa americana. Ebbene, (...) avete posizionato dei missili di distruzione, che chiamate di attacco, in Turchia, praticamente nel nostro vicinato (...) Per cui propongo: noi siamo pronti al ritiro da Cuba degli armamenti che ritenete di attacco (...) In cambio, i vostri rappresentanti dichiareranno che gli Stati Uniti d'America sono pronti al ritiro dei loro armamenti di attacco dalla Turchia (...)*

**79.1.** In quale anno esplose la crisi espressa nella fonte storica?

- A. nel 1959
- B. nel 1960
- C. nel 1961
- D. nel 1962

- A. ☐
- B. ☐
- C. ☐
- D. ☐

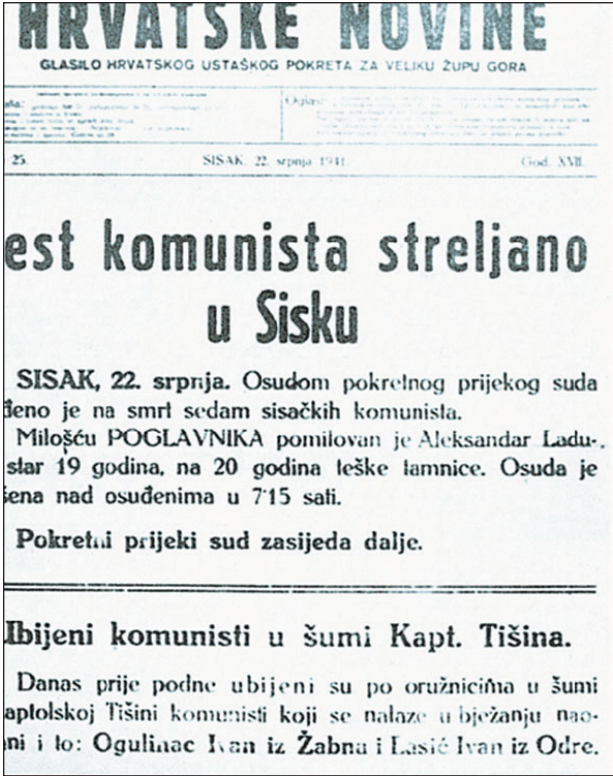
**79.2.** Qual'era il leader sovietico durante tale crisi?

- A. Nikita Hruščov
- B. Leonid Brežnjev
- C. Jurij Andropov
- D. Josif Staljin

- A. ☐
- B. ☐
- C. ☐
- D. ☐



80. Leggi attentamente l'immagine rappresentata e rispondi alle domande.



<p><b>80.1.</b> Quanto tempo è trascorso dalla fondazione del primo movimento antifascista in Croazia al periodo rappresentato nell'immagine?</p> <p>A. 1 mese B. 2 mesi C. 3 mesi D. 4 mesi</p>	<p>A. <input type="checkbox"/> B. <input type="checkbox"/> C. <input type="checkbox"/> D. <input type="checkbox"/></p>
<p><b>80.2.</b> In quale periodo esisteva lo Stato in cui venivano pubblicate le <i>Hrvatske novine</i>?</p> <p>A. dal 1935 al 1939 B. dal 1939 al 1941 C. dal 1941 al 1945 D. dal 1945 al 1948</p>	<p>A. <input type="checkbox"/> B. <input type="checkbox"/> C. <input type="checkbox"/> D. <input type="checkbox"/></p>



Pagina vuota

