



Adesivo per l'identificazione
dell'alunno/a

INCOLLARE ATTENTAMENTE

STORIA

POV D-S014

POV.14.IT.R.K1.40



5332



12

Pagina vuota



INDICAZIONI GENERALI

Leggi attentamente tutte le indicazioni e seguile.

Non voltare pagina e non iniziare a risolvere i quesiti senza il permesso dell'insegnante di servizio.

Incolla gli adesivi di identificazione su tutti i materiali d'esame che hai ricevuto nella busta sigillata.

L'esame dura **120** minuti senza interruzioni.

Davanti a ciascun gruppo di quesiti trovi le indicazioni per la loro soluzione. Leggile attentamente.

Usa esclusivamente una penna a sfera di colore blu o nero.

Scrivi in modo leggibile. Le risposte non leggibili verranno valutate con zero (0) punti.

In caso di errore, correggi mettendo l'errore tra parentesi e barrandolo, poi apponi una breve firma.

Una volta risolti i quesiti, controlla le risposte.

Buona fortuna!

Questo fascicolo d'esame ha 40 pagine, di cui 4 vuote.

In caso tu abbia sbagliato a scrivere la risposta, puoi rimediare in questo modo:

a) per i quesiti di tipo chiuso


Giusto



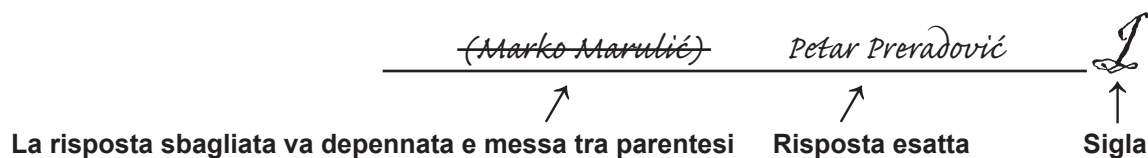
Correzione dell'errore



Sbagliato



b) per i quesiti di tipo aperto



Storia

I Quesiti a scelta multipla

Nei seguenti quesiti, fra le opzioni proposte, solo **una** è esatta.
Indica la risposta esatta con una X sul foglio delle risposte.

1. Quale fu la prima civiltà a produrre e a lavorare il ferro in Europa?

- A. la civiltà etrusca
- B. la civiltà fenicia
- C. la civiltà celtica
- D. la civiltà macedone

- A. ☐
- B. ☐
- C. ☐
- D. ☐

2. Quale elemento ha caratterizzato il governo del faraone Amenofi IV Ehnaton?

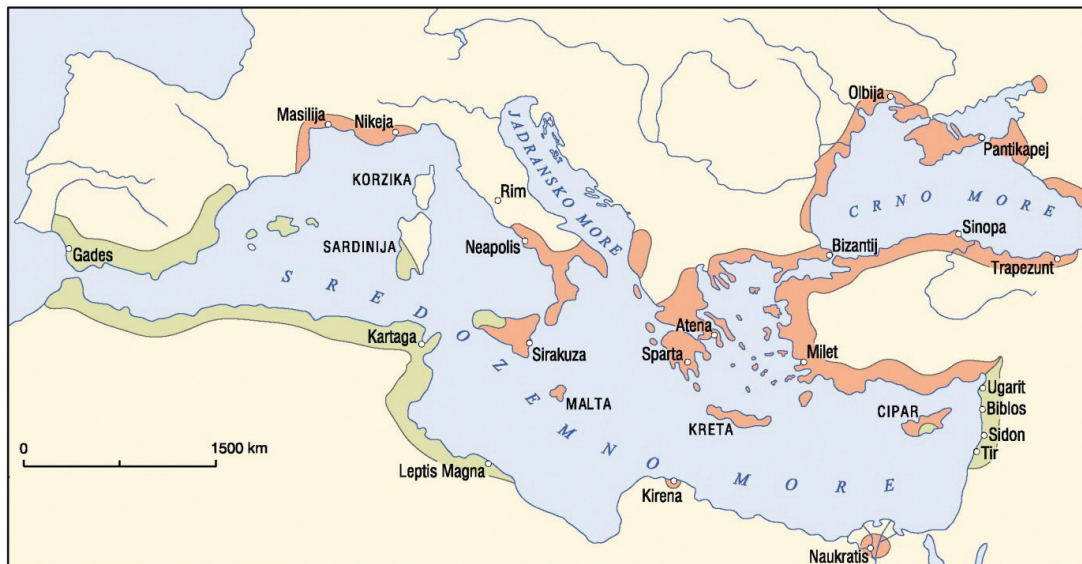
- A. il divieto di venerare il dio Aton
- B. lo spostamento della residenza da Amarnah a Tebe
- C. il divieto di venerare gli dei dinastici egizi
- D. la costruzione del tempio di Abu-Simbel

- A. ☐
- B. ☐
- C. ☐
- D. ☐



Storia

3. Che cosa indicano i territori che nella mappa storica sono indicati con il colore verde e arancione?



- A. le conquiste romane durante le guerre puniche
- B. le colonie fenicie e greche nel Mer Mediterraneo e nel Mar Nero
- C. il bacino del Mar Mediterraneo durante l'epoca delle grande migrazioni
- D. le tracce della civiltà egizia nel bacino del Mar Mediterraneo

A. ☐

B. ☐

C. ☐

D. ☐

4. Durante l'Impero romano i coloni erano:

- A. il proletariato
- B. gli affittuari delle terre dei possidenti romani
- C. gli abitanti delle nuove provincie
- D. i fanti

A. ☐

B. ☐

C. ☐

D. ☐

5. Quali tra le seguenti sono i principali centri di ritrovamento della cultura croata?

- A. Grapčeva špilja e Markova špilja
- B. Danilo e Smilčić
- C. Sopot e Otok
- D. Velika pećina e Romualdova pećina

A. ☐

B. ☐

C. ☐

D. ☐



Storia

6. Durante il periodo di quale imperatore romano hanno subito il loro martirio S. Doimo e S. Anastasia?

- A. Diocleziano
- B. Domiziano
- C. Galerio
- D. Nerone

- A. ☐
- B. ☐
- C. ☐
- D. ☐

7. Dove e quando inizia ad essere utilizzata la scrittura raffigurata nell'immagine sottostante?



- A. in Egitto nel IV millennio a.C.
- B. in India nel III millennio a.C.
- C. in Cina nel III millennio a.C.
- D. in territorio Sumero nel IV millennio a.C.

- A. ☐
- B. ☐
- C. ☐
- D. ☐



Storia

8. Che cosa voleva dimostrare Roma con la creazione di tali sculture dell'imperatore Augusto?



- A. il carattere repubblicano di Roma
- B. la tetrarchia
- C. il culto dell'imperatore
- D. la nascita di Cristo

| | |
|----|--------------------------|
| A. | <input type="checkbox"/> |
| B. | <input type="checkbox"/> |
| C. | <input type="checkbox"/> |
| D. | <input type="checkbox"/> |

9. A quale civiltà appartiene il monumento raffigurato nell'immagine sottostante?



- A. ittita
- B. minoica
- C. micenea
- D. romana

| | |
|----|--------------------------|
| A. | <input type="checkbox"/> |
| B. | <input type="checkbox"/> |
| C. | <input type="checkbox"/> |
| D. | <input type="checkbox"/> |



Storia

10. Quale delle seguenti è conseguenza della guerra del Peloponneso?

- A. il rafforzamento di Atene
- B. la crisi delle poleis
- C. la conquista persiana della Tracia
- D. il rafforzamento di Roma

- A. ☐
- B. ☐
- C. ☐
- D. ☐

11. Il nome di quale popolazione manca nell'immagine sottostante (nel posto indicato dal punto interrogativo)?



- A. Angli
- B. Goti
- C. Normanni
- D. Slavi

- A. ☐
- B. ☐
- C. ☐
- D. ☐

12. Con quale dei seguenti personaggi storici entrò in conflitto papa Leone IX provocando così lo scisma del 1054?

- A. con l'imperatore bizantino Costantino IX
- B. con il metropolita Ilarione
- C. con l'abate romano Umberto
- D. con il patriarca di Costantinopoli Michele Cerulario

- A. ☐
- B. ☐
- C. ☐
- D. ☐

13. Come si chiama la forma istituzionale in cui governa la più alta carica politica e religiosa del mondo arabo?

- A. esarcato
- B. sultanato
- C. califfato
- D. principato

- A. ☐
- B. ☐
- C. ☐
- D. ☐



Storia

14. Che cosa ha decretato il re croato-ungherese Andrea II con l'emanazione della Bolla d'Oro nel 1222?

- A. l'autonomia dei comuni dalmati
- B. i diritti della media e bassa nobiltà
- C. la nascita di libere città reali
- D. la fondazione della diocesi di Zagabria

- A. ☐
- B. ☐
- C. ☐
- D. ☐

15. Come si chiama il territorio sulla mappa, indicato dal punto interrogativo?



- A. Croazia Dalmata
- B. Il Principato della Croazia, della Dalmazia e della Slavonia
- C. Il Regno della Croazia e della Dalmazia
- D. Il Principato di Neretva

- A. ☐
- B. ☐
- C. ☐
- D. ☐

16. Chi ha distrutto l'Impero azteco?

- A. Diego de Almagro
- B. Ferdinando Magellano
- C. Francisco Pizarro
- D. Hernán Cortés

- A. ☐
- B. ☐
- C. ☐
- D. ☐



Storia

17. Da quale secolo l'Istria fu politicamente divisa (visibile nell'immagine sottostante)?



- A. dal XII secolo
- B. dal XIII secolo
- C. dal XIV secolo
- D. dal XV secolo

- A. ☐
- B. ☐
- C. ☐
- D. ☐

18. Quale personaggio storico fu il reggente del re Ladislao di Napoli in Dalmazia e Croazia?

- A. Hrvoje Vukčić Hrvatinić
- B. Nikola Gorjanski
- C. Sandalj Hranić
- D. Stjepan Lacković

- A. ☐
- B. ☐
- C. ☐
- D. ☐



19. A quale battaglia è legato il detto "il primo sfacelo del Regno croato"?

- A. alla battaglia di Kosovo polje
- B. alla battaglia di Krbavsko polje
- C. alla battaglia di Mohačko polje
- D. alla battaglia presso Sisak


- A. ☐
- B. ☐
- C. ☐
- D. ☐



Storia

| | |
|--|--|
| <p>20. Quali delle seguenti affermazioni si riferisce al re croato Stjepan Držislav?</p> <p>A. ha ricevuto le insegne reali dall'imperatore bizantino Basilio II</p> <p>B. massima estensione del territorio del Regno croato</p> <p>C. si tengono le diete ecclesiastiche a Spalato (crkveni sabor)</p> <p>D. inizia il processo di cristianizzazione</p> | <p>A. <input type="checkbox"/></p> <p>B. <input type="checkbox"/></p> <p>C. <input type="checkbox"/></p> <p>D. <input type="checkbox"/></p> |
| <p>21. In occasione di quale avvenimento si tenne l'assemblea politica a Praga raffigurata nell'immagine?</p> <div data-bbox="370 748 767 1043">  </div> <div data-bbox="868 824 1166 857" style="border: 1px solid black; padding: 2px; display: inline-block;"> Congresso slavo a Praga </div> <p>A. proclamazione dell'indipendenza della Cecoslovacchia</p> <p>B. rivoluzione del 1848/1849</p> <p>C. rivoluzione francese</p> <p>D. proclamazione dell'accordo austro-ungarico</p> | <p>A. <input type="checkbox"/></p> <p>B. <input type="checkbox"/></p> <p>C. <input type="checkbox"/></p> <p>D. <input type="checkbox"/></p> |
| <p>22. Quale politica viene tenuta dai sovrani asburgici durante la costruzione delle città militari di Nova Gradiška, Gospić e Bjelovar?</p> <p>A. assolutismo di Metternich</p> <p>B. assolutismo illuminato</p> <p>C. assolutismo di Bach</p> <p>D. assolutismo reale</p> | <p>A. <input type="checkbox"/></p> <p>B. <input type="checkbox"/></p> <p>C. <input type="checkbox"/></p> <p>D. <input type="checkbox"/></p> |
| <p>23. Quale delle seguenti popolazioni non aveva colonie nel territorio degli odierni Stati Uniti d'America?</p> <p>A. Inglesi</p> <p>B. Tedeschi</p> <p>C. Olandesi</p> <p>D. Spagnoli</p> | <p>A. <input type="checkbox"/></p> <p>B. <input type="checkbox"/></p> <p>C. <input type="checkbox"/></p> <p>D. <input type="checkbox"/></p> |
| <p>POV D-S014</p> | <div data-bbox="1299 1980 1453 2078">  </div> <p>01</p> |

Storia

| | |
|--|---|
| <p>24. Quale delle seguenti nazioni ha mantenuto, all'inizio del XX secolo, la sicurezza del Canale di Panama?</p> <p>A. Francia B. USA C. Spagna D. Gran Bretagna</p> | <p>A. <input type="checkbox"/></p> <p>B. <input type="checkbox"/></p> <p>C. <input type="checkbox"/></p> <p>D. <input type="checkbox"/></p> |
| <p>25. A che cosa è collegato l'anno 1797?</p> <p>A. alla caduta della Repubblica di Venezia B. all'inizio dell'età napoleonica C. alla fine della rivoluzione francese D. alla fondazione del Direttorio</p> | <p>A. <input type="checkbox"/></p> <p>B. <input type="checkbox"/></p> <p>C. <input type="checkbox"/></p> <p>D. <input type="checkbox"/></p> |
| <p>26. Quale tra le seguenti personalità fu il primo rettore dell'Università Francesco Giuseppe I a Zagabria?</p> <p>A. Ferdo Šišić B. Ivan Kukuljević Sakcinski C. Izidor Kršnjavi D. Matija Mesić</p> | <p>A. <input type="checkbox"/></p> <p>B. <input type="checkbox"/></p> <p>C. <input type="checkbox"/></p> <p>D. <input type="checkbox"/></p> |
| <p>27. Di quale territorio frate Grga Martić fu il promotore nel Risorgimento croato?</p> <p>A. Bosnia ed Erzegovina B. Dalmazia C. Gradišće/Burgeland D. Srijem, Bačka e Banato</p> | <p>A. <input type="checkbox"/></p> <p>B. <input type="checkbox"/></p> <p>C. <input type="checkbox"/></p> <p>D. <input type="checkbox"/></p> |
| | |
| <p>POV D-S014</p> |  01 |

28. Quale istituzione politica è stata fondata durante la rivoluzione 1848/1849, espressa nell'immagine della fonte storica sottostante?



- A. Il Consiglio del Bano
- B. Il Consiglio Reale Croato
- C. Il Parlamento Croato
- D. La Grande Assemblea Popolare

| | |
|----|--------------------------|
| A. | <input type="checkbox"/> |
| B. | <input type="checkbox"/> |
| C. | <input type="checkbox"/> |
| D. | <input type="checkbox"/> |

29. Quale pace determina la fine della lunga guerra viennese?

- A. la pace di Belgrado
- B. la pace di Požarevac
- C. la pace a Srijemski-Karlovac
- D. la pace a Svištovo

| | |
|----|--------------------------|
| A. | <input type="checkbox"/> |
| B. | <input type="checkbox"/> |
| C. | <input type="checkbox"/> |
| D. | <input type="checkbox"/> |

30. Quale città si sviluppò grazie alla via Josefina?

- A. Senj
- B. Sinj
- C. Sisak
- D. Slunj

| | |
|----|--------------------------|
| A. | <input type="checkbox"/> |
| B. | <input type="checkbox"/> |
| C. | <input type="checkbox"/> |
| D. | <input type="checkbox"/> |



Storia

31. Come si chiama il documento da cui è stata estratta la fonte storica sottostante?

1. Lo Stato dei Serbi, dei Croati e degli Sloveni, (...) sarà una monarchia costituzionale, democratica e parlamentare con a capo la dinastia dei Karađorđević, (...)

5. I nomi di tutti e tre i popoli: dei Serbi, dei Croati e degli Sloveni hanno la totale parità di diritto su tutto il territorio del Regno, (...)

*13. La Costituzione, che verrà data, dopo la stipulazione della pace, dall'Assemblea Costituente, eletta in base al diritto di voto generale ed uguale, diretto e segreto, sarà la base di tutta la vita dello Stato, (...)
La Costituzione dovrà essere accettata, nell'Assemblea Costituente, dalla totalità della maggioranza qualificata numericamente.*

- A. la risoluzione di Zagabria (Zagrebačka rezolucija)
- B. la dichiarazione di maggio (Svibanjska deklaracija)
- C. la dichiarazione di Corfù
- D. la dichiarazione di Niš (Niška deklaracija)

- A. ☐
- B. ☐
- C. ☐
- D. ☐

32. Quale punto importante veniva risolto nella Conferenza di Washington nel 1921/1922?

- A. la smilitarizzazione della Francia
- B. la militarizzazione della marina
- C. la militarizzazione nucleare
- D. la smilitarizzazione degli USA

- A. ☐
- B. ☐
- C. ☐
- D. ☐

33. A quale partito politico apparteneva Božidar Magovac, che nel territorio liberato sotto controllo partigiano fondò la rivista *Slobodni dom*?

- A. Samostalna demokratska stranka (Partito democratico indipendente)
- B. Hrvatska stranka prava (Partito croato del diritto)
- C. Hrvatska seljačka stranka (Partito croato dei contadini)
- D. Komunistička partija Hrvatske (Partito comunista croato)

- A. ☐
- B. ☐
- C. ☐
- D. ☐



Storia

34. Quale guerra ha causato i cambiamenti territoriali visibili nell'immagine sottostante?



- A. Prima guerra mondiale
- B. Seconda guerra mondiale
- C. guerra italo-turca
- D. Seconda guerra balcanica

A. ☐

B. ☐

C. ☐

D. ☐

35. Quale politico sosteneva l'idea dell'unitarismo jugoslavo/jugoslavismo completo nell'ambito del Regno dei Serbi, Croati e Sloveni sino al 1927?

- A. Ante Pavelić
- B. Mladen Lorković
- C. Stjepan Radić
- D. Svetozar Pribićević

A. ☐

B. ☐

C. ☐

D. ☐



Storia

36. Quale formazione militare manca nello schema sottostante?

| Pregled postrojbi na teritoriju NDH (1941. - 1945.) | | | | | |
|---|---------|---------|---------|-----------|---------|
| Postrojbe | 1941. | 1942. | 1943. | 1944. | 1945. |
| NDH | 107.000 | 167.000 | 225.000 | 230.000 | 200.000 |
| Njemačke | 18.000 | 87.000 | 280.000 | 420.000 | 180.000 |
| ? | 180.000 | 250.000 | 200.000 | / | / |
| Četničke | 15.000 | 60.000 | 35.000 | 55.000 | 35.000 |
| Partizanske | 27.800 | 47.000 | 170.000 | 540.000 | 550.000 |
| Ukupno | 347.000 | 564.000 | 630.000 | 1.035.000 | 820.000 |

- A. sovietica
- B. italiana
- C. ustaša
- D. britannica

- A. ☐
- B. ☐
- C. ☐
- D. ☐

37. Quali tra i seguenti diritti avevano i popoli nell'ambito delle Repubbliche socialiste federative di Jugoslavia, in base alla costituzione del 1974?

- A. sistema pluripartitico
- B. mercato libero
- C. autodeterminazione fino alla secessione
- D. politica estera autonoma

- A. ☐
- B. ☐
- C. ☐
- D. ☐

38. Quali dei seguenti punti riguarda il Concilio Vaticano II (1962-1965)?

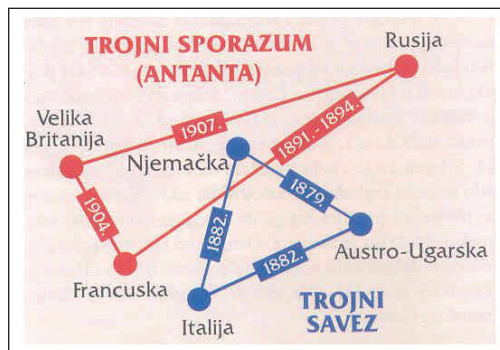
- A. condanna della globalizzazione e della società secolare
- B. ecumenismo, pace e liturgia nella lingua nazionale
- C. accettazione del dogma dell'infalibilità papale
- D. divieto di attività politica dei cattolici

- A. ☐
- B. ☐
- C. ☐
- D. ☐



Storia

39. Come viene chiamata la politica militare ben descritta nello schema sottostante?



TROJNI SPORAZUM: Triplice Intesa
TROJNI SAVEZ: Triplice Alleanza

- A. politica della coesistenza pacifica
- B. "politica del grande bastone"
- C. imperialismo
- D. politica delle alleanze

- A. ☐
- B. ☐
- C. ☐
- D. ☐

40. Con quale documento venne dichiarata la moratoria di tre mesi sulla decisione in merito all'autonomia e all'indipendenza della Croazia e della Slovenia?

- A. risoluzione di Zagabria (Zagrebačka rezolucija)
- B. dichiarazione di Ginevra (Ženevska deklaracija)
- C. dichiarazione di Brioni (Brijunska deklaracija)
- D. dichiarazione di maggio (Svibanjska deklaracija)

- A. ☐
- B. ☐
- C. ☐
- D. ☐



Storia


Il Quesiti a risposta breve

Nei seguenti quesiti rispondi con una risposta breve (con una parola, alcune parole o con una frase semplice).

Scrivi le risposte **solo** sull'apposito spazio in questo fascicolo d'esame.

Non riempire lo spazio per il punteggio.

41. In quale epoca della Preistoria compaiono statuette femminili come quelle nell'immagine sottostante?



0 ☐
1 ☐

punto

42. Quale polis del Peloponneso **non accettava** il sistema economico-schiavista?

0 ☐
1 ☐

punto


43. In quale secolo inizia la conquista romana degli Illiri?

0 ☐
1 ☐

punto




Storia

| | |
|---|--|
| <p>44. Con quale documento Lotario, Carlo il Calvo e Ludovico il Germanico divisero l'Impero carolingio in tre parti?</p> <p>_____</p> | <p>0 <input type="checkbox"/></p> <p>1 <input type="checkbox"/></p> <p>punto</p> |
| <p>45. Quale knez croato si distinse, nel 871, come alleato franco nella lotta per la liberazione della città di Bari dai Saraceni?</p> <p>_____</p> | <p>0 <input type="checkbox"/></p> <p>1 <input type="checkbox"/></p> <p>punto</p> |
| <p>46. Come si chiamava la lega di città mercantili tedesche che aveva sede a Lubecca?</p> <p>_____</p> | <p>0 <input type="checkbox"/></p> <p>1 <input type="checkbox"/></p> <p>punto</p> |
| <p>47. Quale sovrano croato portava il titolo di "ban Hrvatske i Dalmacije i gospodar Bosne"?</p> <p>_____</p> | <p>0 <input type="checkbox"/></p> <p>1 <input type="checkbox"/></p> <p>punto</p> |
| <p>48. Quale fu la pace che rappresentò il principale motivo di distensione che Zrinski e Frankopan hanno offerto all'assolutismo e centralismo viennese?</p> <p>_____</p> | <p>0 <input type="checkbox"/></p> <p>1 <input type="checkbox"/></p> <p>punto</p> |
| <div>POV D-S014</div> <div>  <div>02</div> </div> | |


Storia

| | |
|--|--|
| <p>49. Come si chiama la più grande unità territoriale-giuridica dell'Impero ottomano?</p> <p>_____</p> | <p>0 <input type="checkbox"/></p> <p>1 <input type="checkbox"/></p> <p>punto</p> |
| <p>50. Come si chiama l'opera di Charles de Montesquie nella quale è espresso e caldeggiato il concetto di separazione dei poteri?</p> <p>_____</p> | <p>0 <input type="checkbox"/></p> <p>1 <input type="checkbox"/></p> <p>punto</p> |
| <p>51. Come si chiamava la speciale formazione di reclutamento militare in Slavonia che ha combattuto per Maria Teresa nella guerra per la successione al trono asburgico?</p> <p>_____</p> | <p>0 <input type="checkbox"/></p> <p>1 <input type="checkbox"/></p> <p>punto</p> |
| <p>52. Come si chiamavano i membri delle società segrete sorte nel Regno delle Due Sicilie durante le guerre napoleoniche?</p> <p>_____</p> | <p>0 <input type="checkbox"/></p> <p>1 <input type="checkbox"/></p> <p>punto</p> |
| <p>53. Come si chiama l'insieme di leggi scritte e abitudini che regolano il rapporto giuridico del Regno di Dalmazia, Croazia e Slavonia nell'ambito della Monarchia ungherese?</p> <p>_____</p> | <p>0 <input type="checkbox"/></p> <p>1 <input type="checkbox"/></p> <p>punto</p> |
| <div data-bbox="180 2013 362 2051" data-label="Text">POV D-S014</div> <div data-bbox="1292 1973 1449 2076" data-label="Image"> </div> <div data-bbox="1404 2074 1457 2110" data-label="Text">02</div> | |

Storia

| | |
|--|--|
| <p>54. In quale anno si è tenuta l'assemblea del Sabor croato che ha emanato l'articolo 42. "O odnošenju kraljevine Dalmacije, Hrvatske i Slavonije prema kruni i kraljevini Ugarskoj"?</p> <p>_____</p> | <p>0 <input type="checkbox"/></p> <p>1 <input type="checkbox"/></p> <p>punto</p> |
| <p>55. Come si chiama il documento che esprime le idee politiche citate nella fonte storica sottostante?</p> <div data-bbox="201 763 1294 994" style="border: 1px solid black; padding: 10px; margin: 10px 0;"> <p><i>I deputati, uniti nel Club jugoslavo, pretendono in base al principio di nazionalità e del diritto di stato croato, l'unificazione di tutte le regioni della monarchia abitate dagli Sloveni, dai Croati e dai Serbi in un unico corpo statale indipendente libero da qualsiasi dominio esterno e costituito su una base democratica ma sotto lo scettro della dinastia Asburgo-Lorena.</i></p> </div> <p>_____</p> | <p>0 <input type="checkbox"/></p> <p>1 <input type="checkbox"/></p> <p>punto</p> |
| <p>56. Quale nazione europea ha avuto una forma di regime autoritario dal 1939 al 1975?</p> <p>_____</p> | <p>0 <input type="checkbox"/></p> <p>1 <input type="checkbox"/></p> <p>punto</p> |
| <p>57. Quali due funzionari politici comunisti hanno avuto uno scontro durante la crisi provocata dalla risoluzione dell'Informbiro?</p> <p>_____</p> | <p>0 <input type="checkbox"/></p> <p>1 <input type="checkbox"/></p> <p>punto</p> |
| <div style="display: flex; justify-content: space-between; align-items: center;"> POV D-S014 <div style="text-align: right;">  <p>02</p> </div> </div> | |

Storia

| | |
|---|--|
| <p>58. Quale battaglia della Seconda guerra mondiale hanno provocato B. L. Montgomery e E. Rommel combattendo su fronti opposti?</p> <p>_____</p> | <p>0 <input type="checkbox"/></p> <p>1 <input type="checkbox"/></p> <p>punto</p> |
| <p>59. Come si chiama il luogo della maggiore perdita dei Bosniaci avvenuta durante la guerra in Bosnia ed Erzegovina dal 1992 al 1995?</p> <p>_____</p> | <p>0 <input type="checkbox"/></p> <p>1 <input type="checkbox"/></p> <p>punto</p> |
| <p>60. Di quale organizzazione internazionale è entrata a far parte la Croazia, a pieno titolo, nel 2009?</p> <p>_____</p> | <p>0 <input type="checkbox"/></p> <p>1 <input type="checkbox"/></p> <p>punto</p> |
| | |
| <p>POV D-S014</p> <div data-bbox="1295 1975 1455 2116"><p>02</p></div> | |

III Quesiti a scelta multipla (cronologie)

Nei seguenti quesiti, fra le opzioni proposte, solo **una** è esatta.
Indica la risposta esatta con una X sul foglio delle risposte.

61. Quale tra le seguenti sequenze cronologiche riguardanti la storia della Grecia antica è quella corretta?

- A. apice della civiltà micenea → apice della civiltà minoico-cretese
→ migrazione dei Dori → grande colonizzazione dei Greci
- B. apice della civiltà minoico-cretese → apice della civiltà micenea
→ grande colonizzazione dei Greci → migrazione dei Dori
- C. apice della civiltà minoico-cretese → apice della civiltà micenea
→ migrazione dei Dori → grande colonizzazione dei Greci
- D. apice della civiltà minoico-cretese → migrazione dei Dori
→ apice della civiltà micenea → grande colonizzazione dei Greci

- A. ☐
- B. ☐
- C. ☐
- D. ☐

62. Quale tra le seguenti sequenze cronologiche riguardanti la caduta di territori sotto l'Impero ottomano è quella corretta?

- A. caduta di Costantinopoli → caduta di Clissa → caduta della fortezza di Cimpa
→ caduta di Belgrado
- B. caduta della fortezza di Cimpa → caduta di Costantinopoli → caduta di Clissa
→ caduta di Belgrado
- C. caduta di Clissa → caduta di Costantinopoli → caduta della fortezza di Cimpa
→ caduta di Belgrado
- D. caduta di Belgrado → caduta di Clissa → caduta di Costantinopoli → caduta
della fortezza di Cimpa

- A. ☐
- B. ☐
- C. ☐
- D. ☐



Storia

63. Quale tra le seguenti sequenze cronologiche riguardanti la storia della Croazia della fine dell'età medievale e l'inizio dell'età moderna è quella corretta?

- A.** elezione di Krsto Frankopan quale tutore e difensore del Regno
→ Ferdinando d'Asburgo eletto re (Sabor a Cetin) → Giovanni Zapolyai eletto re (Sabor a Dubrava) → uccisione del bano Stjepan Lacković
- B.** Ferdinando d'Asburgo eletto re (Sabor a Cetin) → uccisione del bano Stjepan Lacković → elezione di Krsto Frankopan quale tutore e difensore del Regno → Giovanni Zapolyai eletto re (Sabor a Dubrava)
- C.** uccisione del bano Stjepan Lacković → elezione di Krsto Frankopan quale tutore e difensore del Regno → Ferdinando d'Asburgo eletto re (Sabor a Cetin) → Giovanni Zapolyai eletto re (Sabor a Dubrava)
- D.** Giovanni Zapolyai eletto re (Sabor a Dubrava) → Ferdinando d'Asburgo eletto re (Sabor a Cetin) → elezione di Krsto Frankopan quale tutore e difensore del Regno → uccisione del bano Stjepan Lacković

A. ☐
B. ☐
C. ☐
D. ☐

64. Quale tra le seguenti sequenze cronologiche riguardanti la storia della Croazia durante l'età degli Arpad è quella corretta?

- A.** Bolla d'Oro di Bela IV → fondazione della diocesi di Zagabria
→ incoronazione a Biograd di Colomanno → Bolla d'Oro di Andrea II
- B.** incoronazione a Biograd di Colomanno → Bolla d'Oro di Bela IV
→ fondazione della diocesi di Zagabria → Bolla d'Oro di Andrea II
- C.** fondazione della diocesi di Zagabria → incoronazione a Biograd di Colomanno
→ Bolla d'Oro di Andrea II → Bolla d'Oro di Bela IV
- D.** Bolla d'Oro di Andrea II → Bolla d'Oro di Bela IV → fondazione della diocesi di Zagabria → incoronazione a Biograd di Colomanno

A. ☐
B. ☐
C. ☐
D. ☐



Storia

65. Quale tra le seguenti sequenze cronologiche riguardanti il periodo del risorgimento croato 1848/1849 è quella corretta?

- A.** fondazione dei primi partiti politici → viene tenuto il primo discorso parlamentare in lingua croata → il croato diventa lingua ufficiale → si apre il primo Sabor croato
- B.** viene tenuto il primo discorso parlamentare in lingua croata → fondazione dei primi partiti politici → si apre il primo Sabor croato → il croato diventa lingua ufficiale
- C.** fondazione dei primi partiti politici → il croato diventa lingua ufficiale → viene tenuto il primo discorso parlamentare in lingua croata → si apre il primo Sabor croato
- D.** si apre il primo Sabor croato → fondazione dei primi partiti politici → il croato diventa lingua ufficiale → viene tenuto il primo discorso parlamentare in lingua croata

A. ☐
B. ☐
C. ☐
D. ☐

66. Quale tra le seguenti sequenze cronologiche riguardanti il Risorgimento italiano è quella corretta?

- A.** battaglia di Magenta → proclamazione del Regno d'Italia → annessione di Venezia → annessione di Roma
- B.** proclamazione del Regno d'Italia → battaglia di Magenta → annessione di Roma → annessione di Venezia
- C.** annessione di Roma → annessione di Venezia → battaglia di Magenta → proclamazione del Regno d'Italia
- D.** battaglia di Magenta → annessione di Venezia → annessione di Roma → proclamazione del Regno d'Italia

A. ☐
B. ☐
C. ☐
D. ☐



Storia

67. Quale tra le seguenti sequenze cronologiche riguardanti i cambiamenti dei partiti politici della Croazia durante il XX secolo è quella corretta?

- A. Hrvatska republikanska seljačka stranka (Partito repubblicano dei contadini croato) → Hrvatska seljačka stranka (Partito dei contadini croato) → Seljačko-demokratska koalicija (coalizione contadino-democratica) → Hrvatska pučka seljačka stranka (Partito polare dei contadini croato)
- B. Hrvatska seljačka stranka (Partito dei contadini croato) → Hrvatska pučka seljačka stranka (Partito polare dei contadini croato) → Seljačko-demokratska koalicija (coalizione contadino-democratica) → Hrvatska republikanska seljačka stranka (Partito repubblicano dei contadini croato)
- C. Hrvatska pučka seljačka stranka (Partito polare dei contadini croato) → Hrvatska republikanska seljačka stranka (Partito repubblicano dei contadini croato) → Hrvatska seljačka stranka (Partito dei contadini croato) → Seljačko-demokratska koalicija (coalizione contadino-democratica)
- D. Hrvatska republikanska seljačka stranka (Partito repubblicano dei contadini croato) → Seljačko-demokratska koalicija (coalizione contadino-democratica) → Hrvatska pučka seljačka stranka (Partito polare dei contadini croato) → Hrvatska seljačka stranka (Partito dei contadini croato)

- A. ☐
- B. ☐
- C. ☐
- D. ☐

68. Quale tra le seguenti sequenze cronologiche riguardanti la storia della Russia durante la prima guerra mondiale è quella corretta?

- A. rivoluzione di febbraio → pace di Brest-Litovsk → *Tesi di Aprile* → rivoluzione d'ottobre
- B. rivoluzione d'ottobre → pace di Brest-Litovsk → rivoluzione di febbraio → *Tesi di Aprile*
- C. rivoluzione di febbraio → *Tesi di Aprile* → rivoluzione d'ottobre → pace di Brest-Litovsk
- D. rivoluzione d'ottobre → rivoluzione di febbraio → pace di Brest-Litovsk → *Tesi di Aprile*

- A. ☐
- B. ☐
- C. ☐
- D. ☐



Storia

69. Quale tra le seguenti sequenze cronologiche riguardanti la storia diplomatica della Seconda guerra mondiale è quella corretta?

- A.** Patto Atlantico → Conferenza di Teheran → Conferenza di Yalta → Conferenza di Postdam
- B.** Conferenza di Teheran → Patto Atlantico → Conferenza di Yalta → Conferenza di Postdam
- C.** Conferenza di Yalta → Conferenza di Postdam → Patto Atlantico → Conferenza di Teheran
- D.** Conferenza di Postdam → Conferenza di Teheran → Conferenza di Yalta → Patto Atlantico

A. ☐
B. ☐
C. ☐
D. ☐

70. Quale tra le seguenti sequenze cronologiche riguardanti la storia della Croazia all'inizio della Seconda guerra mondiale è quella corretta?

- A.** fondazione del reparto partigiano di Sisak → il Regno di Jugoslavia si allea al Patto Tripartito → proclamazione dell'NDH → attacco al Regno di Jugoslavia
- B.** attacco al Regno di Jugoslavia → il Regno di Jugoslavia si allea al Patto Tripartito → proclamazione dell'NDH → fondazione del reparto partigiano di Sisak
- C.** il Regno di Jugoslavia si allea al Patto Tripartito → attacco al Regno di Jugoslavia → proclamazione dell'NDH → fondazione del reparto partigiano di Sisak
- D.** fondazione del reparto partigiano di Sisak → il Regno di Jugoslavia si allea al Patto Tripartito → attacco al Regno di Jugoslavia → proclamazione dell'NDH

A. ☐
B. ☐
C. ☐
D. ☐



Storia

IV Quesiti a scelta multipla (partendo da un contenuto)

Nei seguenti quesiti, analizza le fonti storiche, le mappe storiche e le immagini allegate e rispondi alle domande.

Fra le opzioni proposte, solo **una** è esatta.

Indica la risposta esatta con una X sul foglio delle risposte.

71. Osserva attentamente il tempio raffigurato nell'immagine e rispondi alle domande.



71.1. Durante l'età di quale imperatore romano è stato costruito il tempio raffigurato nell'immagine sottostante?

- A. Augusto
- B. Diocleziano
- C. Costantino
- D. Traiano

- A. ☐
- B. ☐
- C. ☐
- D. ☐

71.2. A chi è stato dedicato tale tempio?

- A. alle Vestali
- B. al dio Mitra
- C. a tutti gli dei romani
- D. a Romolo e Remo

- A. ☐
- B. ☐
- C. ☐
- D. ☐

POV D-S014



02

Storia

72. Leggi attentamente la fonte storica riportata e rispondi alle domande.

In questa tomba giace (...) la moglie di re Mihajlo e la madre del re Stefano. Ha governato il regno. L'ottavo giorno prima delle idi di ottobre è stata qui sepolta in pace, nell'anno 976 dall'Incarnazione del Signore, il quarto indizio, il quinto ciclo lunare, la diciassettesima epatta, il quinto ciclo solare che corrisponde al sesto. Ed ella che fu in vita regina, divenne madre degli orfani e protettrice delle vedove. O uomo che guardi, di: "O Signore, abbi pietà della sua anima!"

72.1. Come si chiama la donna citata nella fonte storica?

- A. Buzila
- B. Elena
- C. Maruša
- D. Maria

- A. ☐
- B. ☐
- C. ☐
- D. ☐

72.2. In quale città è stato ritrovato il documento citato nella fonte storica?

- A. a Solin
- B. a Spalato
- C. a Trogir
- D. a Zara

- A. ☐
- B. ☐
- C. ☐
- D. ☐

POV D-S014



02

Storia

73. Leggi attentamente la fonte storica riportata e rispondi alle domande.

Noi Andrija, per grazia di Dio e della Santa Sede, vescovo di Knin e abate di Toplica, i conti Ivan Torkvat da Krbava, Nikola Zrinski, i fratelli Krsto e Vuk, e Juraj Frankopan di Segna, di Krk e di Modruš, (...) e tutti gli altri nobili e magnati, così anche tutto il popolo delle regioni, delle città e dei distretti nobili del Regno di Croazia professiamo, riconosciamo ed in eterno rendiamo questo foglio a conoscenza di tutti! Dopo che l'Illustrissimo e l'Onnipotente Principe e Signore Ferdinando, per Grazia Divina Re di Boemia e di Croazia, Infante di Spagna, Elettore del Sacro Romano Impero, Arciduca d'Austria, (...) ci ha mandato in questi giorni i consiglieri della Sua Santa Reale Maestà, (...) questi, a nome della Reale Maestà, di cui hanno a sufficienza i pieni poteri, ci hanno pregato di riconoscere la Sua Maestà come il nostro legittimo e naturale Re e Signore, e l'Illustrissima Sovrana e Signora Anna, Regina d'Ungheria, di Boemia e di Croazia, come nostra Clementissima Sovrana e Signora, e di dare su di ciò il giuramento di fedeltà e riverenza.

73.1. Come si chiama la seguente fonte storica?

- A. Carta di Cetin
- B. Bolla d'Oro
- C. Diploma di Feliciano
- D. Pacta conventa

- A. ☐
- B. ☐
- C. ☐
- D. ☐

73.2. Quale dinastia reale sale al potere in Croazia in base alle decisioni espresse nella fonte storica?

- A. Arpadović (Arpad)
- B. Angioini
- C. Asburgo
- D. Jagelloni

- A. ☐
- B. ☐
- C. ☐
- D. ☐

POV D-S014



02

Storia

74. Leggi attentamente la fonte storica riportata e rispondi alle domande.

Qui è scritto ciò che William, re degli Inglesi, in consiglio con i suoi magnati ha stabilito dopo la conquista dell'Inghilterra:

1. *Primo, sopra ogni cosa egli vuole che si veneri un solo Dio in tutto il suo regno, che l'unica fede in Cristo sia inviolabile, e che regni la pace e la sicurezza fra gli Inglesi ed i Normanni.*
2. *Noi pure decretiamo che ogni uomo libero confermi con il giuramento ed il contratto che sarà leale al re William come in Inghilterra così fuori da essa, che in totale fedeltà difenderà assieme a lui le sue terre ed il suo onore, e lo difenderà dai suoi nemici.*
3. *E voglio, sopra ogni cosa, che tutti gli uomini che ho portato con me, o che sono venuti dopo di me, siano protetti dalla mia pace e vivano in pace.*

74.1. Grazie a quale delle seguenti battaglie il personaggio indicato nella fonte storica diventa re d'Inghilterra?

- A. Battaglia di Azincourt
- B. Battaglia di Crecy
- C. Battaglia di Hastings
- D. Battaglia di Londra

- A. ☐
- B. ☐
- C. ☐
- D. ☐

74.2. A quale delle seguenti chiese fa riferimento la frase *jedna vjera u Krista* (una fede in Cristo) espressa nella fonte storica?

- A. alla Chiesa anglicana
- B. alla Chiesa cattolica
- C. alla Chiesa protestante
- D. alla Chiesa calvinista

- A. ☐
- B. ☐
- C. ☐
- D. ☐



Storia

75. Leggi attentamente la fonte storica riportata e rispondi alle domande.

(...) una pericolosa tribù (...) si è avvicinata ai confini dell'Ungheria. Da più anni ormai correva la fama ed il terrore di questo popolo che aveva fatto il giro di tutto il mondo. (...) Quando le voci sull'arrivo (...) del popolo che seminava la morte, erano arrivate alle orecchie degli Ungheresi, a loro sembrò come un gioco o un sogno vano, dato che spesso avevano ascoltato tali voci e che si erano affidati al numeroso esercito del loro regno. Perciò si erano rilassati, per via del lungo periodo di pace, ed avevano perso l'abitudine alle armi brutali, per cui, intorpiditi dalla pigrizia e dall'inerzia, erano attratti dai soli piaceri corporali.

75.1. A quale popolo/tribù fa riferimento la fonte storica?

- A. ai Russi
- B. agli Unni
- C. ai Saraceni
- D. ai Tartari

- A. ☐
- B. ☐
- C. ☐
- D. ☐

75.2. Quale dei seguenti sovrani si trovava sul trono croato-ungherese nel periodo di emanazione della fonte storica citata?

- A. Andrea II
- B. Bela II
- C. Bela IV
- D. Emerik

- A. ☐
- B. ☐
- C. ☐
- D. ☐



Storia

76. Osserva attentamente l'immagine storica riportata e rispondi alle domande.



76.1. Quale avvenimento della Rivoluzione francese è rappresentato nell'immagine?

- A. marcia su Versailles
- B. attacco all'Assemblea nazionale
- C. Presa della Bastiglia
- D. Presa del Louvre

- A. ☐
- B. ☐
- C. ☐
- D. ☐

76.2. La data dell'avvenimento rappresentato nell'immagine è:

- A. 14 luglio 1789
- B. 27 agosto 1789
- C. 20 settembre 1792
- D. 30 giugno 1793

- A. ☐
- B. ☐
- C. ☐
- D. ☐



Storia

77. Osserva attentamente l'immagine storica riportata e rispondi alle domande.



77.1. Quale dei seguenti personaggi storici fu bano croato durante la costruzione e l'inaugurazione dell'edificio rappresentato nell'immagine?

- A. Dragutin Khuen Héderváry
- B. Ivan Mažuranić
- C. Josip Šokčević
- D. Ladislav Pejačević

- A. ☐
- B. ☐
- C. ☐
- D. ☐

77.2. Quale dei seguenti avvenimenti è legato all'inaugurazione dell'edificio rappresentato nell'immagine?

- A. attentato a Slavko Cuvaj
- B. fuoco alla bandiera croata
- C. attentato a Francesco Ferdinando
- D. fuoco alla bandiera ungherese

- A. ☐
- B. ☐
- C. ☐
- D. ☐



Storia

78. Leggi attentamente il brano della fonte storica riportata e rispondi alle domande.

La prima resistenza venne fatta il 5 settembre del 1920 dai contadini croati di Veliki Grđevac. Da lì la sommossa si allargò ai distretti di Bjelovar, di Garešnica, di Grubišno Polje, dove ci fu un grande spargimento di sangue, mentre ad Ivanjsko vennero uccisi 2 contadini. La sommossa arrivò anche a sud del distretto di Čazma, dove nel comune di Križ si arrivò allo scontro con la gendarmeria e l'esercito.

78.1. Per quale motivo i contadini, citati nella fonte storica, hanno opposto resistenza alle autorità?

- A.** a causa del cambio della valuta
- B.** a causa del reclutamento (leva)
- C.** a causa della marcatura del bestiame
- D.** a causa dell'*Obznana* (proclamazione)

- A.** ☐
- B.** ☐
- C.** ☐
- D.** ☐

78.2. L'esercito di quale nazione viene citato nella fonte?

- A.** Stato degli Sloveni, Croati e Serbi (Država Slovenaca, Hrvata i Srba)
- B.** Regno della Serbia (Kraljevina Srbija)
- C.** Regno del Montenegro (Kraljevina Crna Gora)
- D.** Regno dei Serbi, Croati e Sloveni (Kraljevstvo Srba, Hrvata i Slovenaca)

- A.** ☐
- B.** ☐
- C.** ☐
- D.** ☐



Storia

79. Leggi attentamente il brano della fonte storica riportata e rispondi alle domande.

Una volta che ebbi preso la decisione, dopo non mi ruppi più la testa a tale proposito. Il lancio della bomba fece cessare la guerra e salvò la vita a milioni di persone. Se la bomba esplotterà... avrò un martello per quei ragazzi... La forza è l'unica cosa che i Russi capiscono.

79.1. A quale avvenimento fa riferimento la fonte storica?

- A. gli alleati entrano a Berlino
- B. lancio delle bombe atomiche su Hiroshima e Nagasaki
- C. gli alleati bombardano Dresda
- D. sbarco in Normandia

- A. ☐
- B. ☐
- C. ☐
- D. ☐

79.2. Quale dei seguenti presidenti americani ha pronunciato le parole espresse nella fonte storica?

- A. Dwight Eisenhower
- B. Franklin D. Roosevelt
- C. Harry Truman
- D. John F. Kennedy

- A. ☐
- B. ☐
- C. ☐
- D. ☐

POV D-S014



02

80. Leggi attentamente il brano della fonte storica riportata e rispondi alle domande.

IL PARLAMENTO CROATO

Stabilisce che l'entrata della Repubblica di Croazia come membro a pieni poteri (...) è un obiettivo strategico nazionale cui il Parlamento Croato nel successivo lavoro darà un pieno e costante appoggio.

Conferma il proprio orientamento che l'inserimento della Repubblica di Croazia (...) debba essere basato su di un approccio individuale e sui risultati ottenuti.

Mette in evidenza che la Repubblica di Croazia fa parte, per sua eredità, cultura e posizione geopolitica della sfera dell'Europa centrale e mediterranea, e vuole contribuire attivamente e sotto ogni aspetto agli sforzi della comunità internazionale (...) nel conseguimento e nella costituzione di una stabilizzazione politica e di una pace duratura nell'Europa sud-orientale. (...)

Esorta il Governo della Repubblica di Croazia a far domanda di ammissione, fino alla fine del febbraio 2003, della Repubblica di Croazia, con pieni poteri, all'Unione Europea (...), e di informare il Parlamento Croato del processo di negoziazione.

80.1. A quale programma politico croato si riferisce la fonte storica citata?

- A. alla collaborazione con il Fondo monetario internazionale
- B. all'entrata nella NATO
- C. all'entrata nell'Unione Europea
- D. all'entrata nelle Nazioni Unite

- A. ☐
- B. ☐
- C. ☐
- D. ☐

80.2. Quale tra i seguenti era capo del governo croato durante la formulazione di tale documento?

- A. Franjo Gregurić
- B. Ivica Račan
- C. Jadranka Kosor
- D. Zlatko Mateša

- A. ☐
- B. ☐
- C. ☐
- D. ☐



Pagina vuota



Pagina vuota



Pagina vuota

