

Adesivo per l'identificazione  
dell'alunno/a

INCOLLARE ATTENTAMENTE

# GEOGRAFIA

Fascicolo d'esame 2

GEO IK-2 D-S017

GEO.17.IT.R.K2.24



10389



12

# Geografia

Pagina vuota

GEO IK-2 D-S017



99

## INDICAZIONI GENERALI

Leggi attentamente tutte le indicazioni e seguile.

Non voltare pagina e non iniziare a risolvere i quesiti senza il permesso dell'insegnante di servizio.

Incolla gli adesivi di identificazione su tutti i materiali d'esame che hai ricevuto nella busta sigillata.

L'esame dura **90** minuti senza interruzioni.

I quesiti si trovano in due fascicoli d'esame. Puoi decidere da solo con quale dei due iniziare.

Utilizza al meglio il tempo a tua disposizione, in modo da risolvere tutti i quesiti.

Davanti a ciascun gruppo di quesiti trovi le indicazioni per la loro soluzione.

Leggile attentamente.

Scrivi le risposte esclusivamente nel posto previsto in questo fascicolo d'esame.

Scrivi in modo leggibile. Le risposte non leggibili verranno valutate con zero (0) punti.

In caso di errore, correggi mettendo l'errore tra parentesi e barrandolo, poi apponi una breve firma (sigla).

Usa esclusivamente una penna a sfera di colore blu o nera.

Una volta risolti i quesiti, controlla le risposte.

Buona fortuna!

Questo fascicolo d'esame ha 24 pagine di cui 2 vuote.

In caso tu abbia sbagliato a scrivere la risposta, puoi rimediare in questo modo:

### a) per i quesiti di tipo chiuso

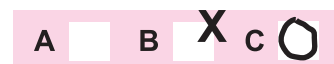
Giusto



Correzione dell'errore



Sbagliato



### b) per i quesiti di tipo aperto



La risposta sbagliata va depennata e messa tra parentesi

Risposta esatta

Sigla

GEO IK-2 D-S017



99

# Geografia

## V Quesiti a risposta breve e a completamento

Rispondi brevemente ai seguenti quesiti (con una parola o un numero) o completa la frase o la cartina, inserendo il dato mancante.

Scrivi le risposte **solamente** nel posto prestabilito in questo fascicolo d'esame.

Non compilare lo spazio previsto per il punteggio.

- 41.** Con quanti cm viene rappresentata nella Carta Fondamentale della Croazia la distanza di 2.500 m in natura?

Spazio per il calcolo:

La distanza sulla carta è di \_\_\_\_\_ cm.

0   
2   
punto

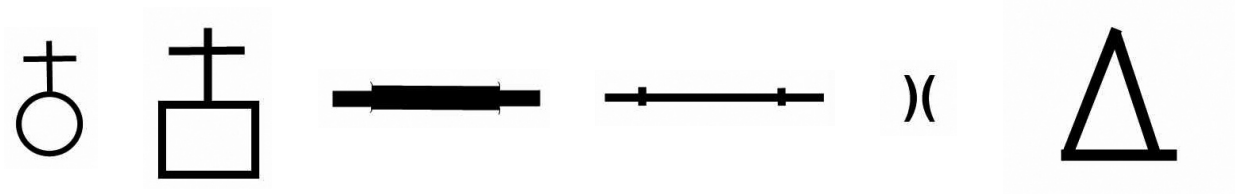
GEO IK-2 D-S017



02

# Geografia

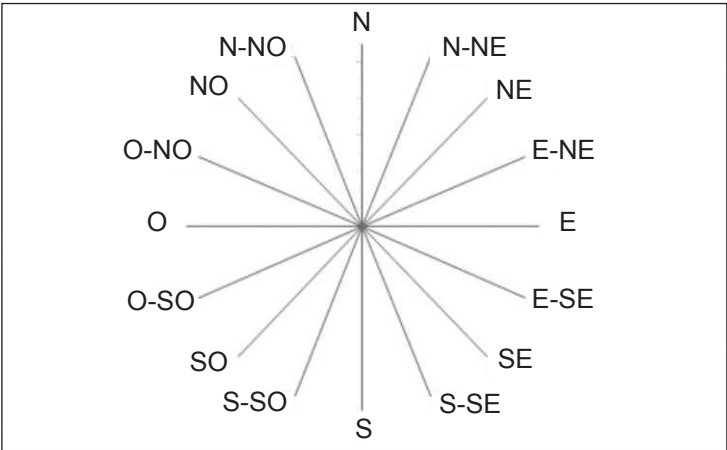
42. Tra i simboli cartografici rappresentati scegline tre che corrispondano e disegni sull'apposito spazio nel disegno secondo l'azimut assegnato.



42.1. Il convento 67,5°

42.2. Il monumento 202,5°

42.3. Il ponte ferroviario 112,5°



0	<input type="checkbox"/>
2	<input type="checkbox"/>
punto	
0	<input type="checkbox"/>
2	<input type="checkbox"/>
punto	
0	<input type="checkbox"/>
2	<input type="checkbox"/>
punto	



# Geografia

**43.** In base ai dati della tabella allegata, calcola i dati che vengono richiesti e completa le frasi.

Sarajevo	I.	II.	III.	IV.	V.	VI.	VII.	VIII.	IX.	X.	XI.	XII.
Temperatura (°C)	−0,9	1,5	5,1	9,4	14,1	17,0	18,9	18,5	15,1	10,4	5,3	0,3
Precipitazioni (mm)	71	67	70	74	82	91	80	71	70	77	94	85

**43.1.** Il periodo dell'anno (climatico) con le minori precipitazioni complessive si chiama

\_\_\_\_\_.

La quantità complessiva di precipitazioni in tale periodo dell'anno ammonta a

\_\_\_\_\_.

**43.2.** La temperatura media mensile estiva (climatica) è di \_\_\_\_\_,

mentre l'amplitudine della temperatura fra le temperature d'aria medie estive ed invernali è di \_\_\_\_\_ (arrotonda il risultato ad una cifra decimale).

Spazio per il calcolo:

0   
1   
2

punto

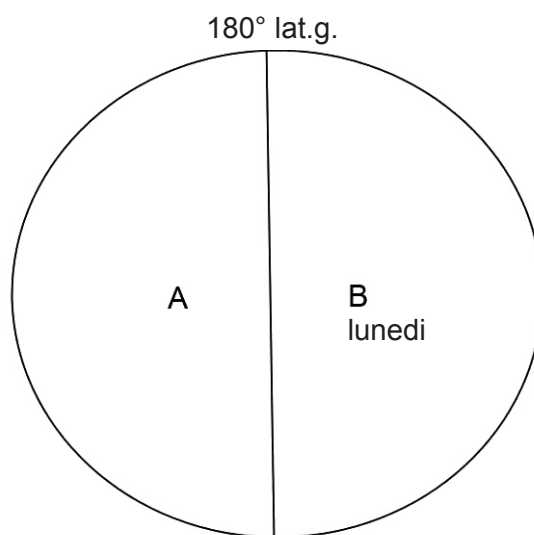
0   
1   
2

punto



# Geografia

- 44.** Risolvi i seguenti esercizi con l'aiuto della bozza della Terra allegata con su scritto il meridiano 180°.



- 44.1.** L'emisfero orientale, nella bozza allegata, è contrassegnato dalla lettera

\_\_\_\_\_.

- 44.2.** Che giorno della settimana è nell'emisfero contrassegnato con la lettera A?

\_\_\_\_\_

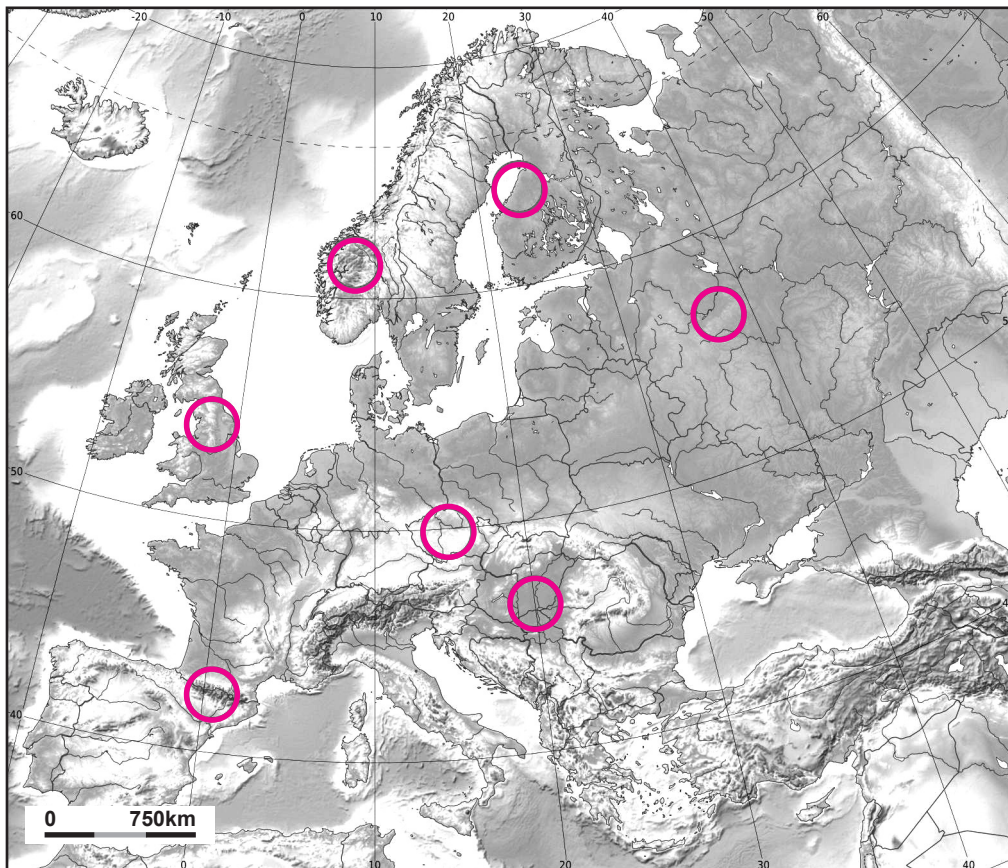
0 ☐  
1 ☐  
punto

0 ☐  
1 ☐  
punto



# Geografia

45. Risolvi i seguenti esercizi con l'aiuto della carta geografica d'Europa allegata.



Per ogni zona in rilievo scrivi la lettera assegnata **nel cerchio** con cui tale zona è contrassegnata.

45.1. Scrivi la lettera **A** nel cerchio con cui è contrassegnata la pianura creatasi in prevalenza nel Neogene e nel Quaternario.

45.2. Scrivi la lettera **B** nel cerchio con cui è contrassegnata l'altura in rilievo creatasi con l'orogenesi alpina.

45.3. Scrivi la lettera **C** nel cerchio con cui è contrassegnata l'altura in rilievo in cui è iniziata la prima rivoluzione industriale.

0 ☐  
2 ☐  
punto

0 ☐  
2 ☐  
punto

0 ☐  
2 ☐  
punto





# Geografia

46. Calcola l'indice di mascolinità della Svizzera per il 2011 tenendo presente che sono stati censiti 7.955.000 abitanti di cui 4.032.000 donne.

Spazio per il calcolo:

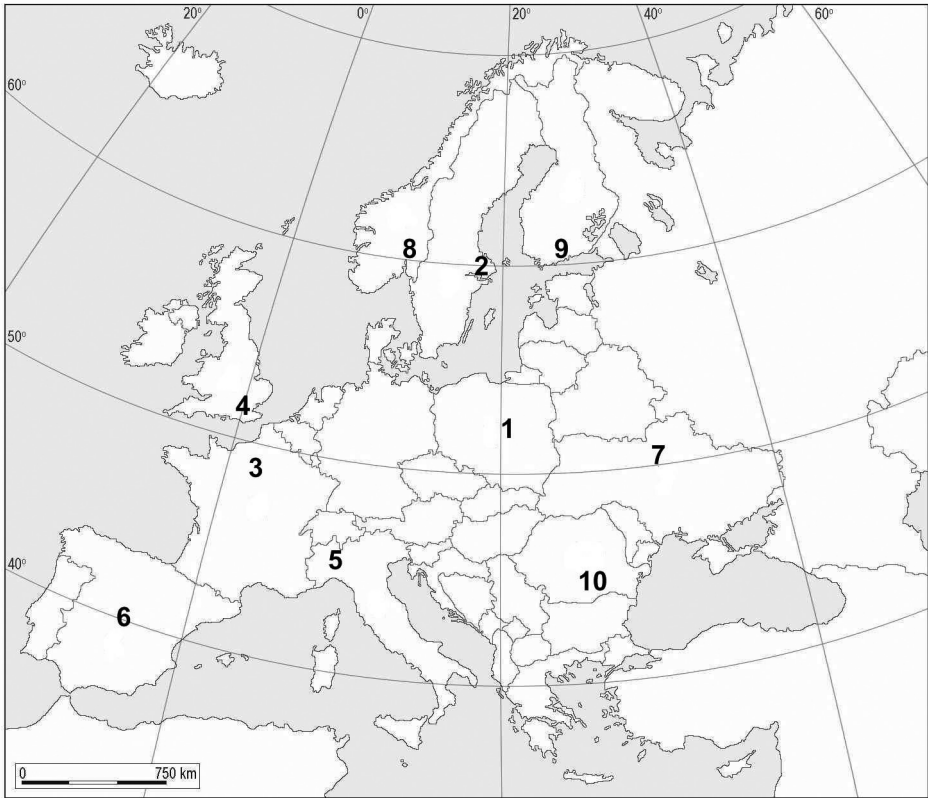
L'indice di mascolinità risulta \_\_\_\_\_.

0 ☐  
2 ☐  
punto



# Geografia

47. Risolvi i seguenti quesiti con l'aiuto della carta d'Europa allegata su cui sono contrassegnati con i numeri da 1 a 10 gli stati prescelti.



Scrivi nella tabella il nome della città in cui si trova l'ente di attrazione turistica ed il numero con cui è contrassegnata nella carta allegata.

	Nome dell'ente culturale	Nome della città in cui si trova	Numero con cui è contrassegnato sulla carta
47.1.	Louvre		
47.2.	Prado		
47.3.	Scala		

0

2

punto

0

2

punto

0

2

punto



# Geografia

48. Risolvi i seguenti quesiti con l'aiuto della carta geografica mondiale allegata.



48.1. Scrivi la lettera **A** sullo stato in cui si trova la regione industriale di Karaganda.

48.2. Scrivi la lettera **B** sullo stato che è il più grande produttore di gas naturale negli ultimi cinque anni.

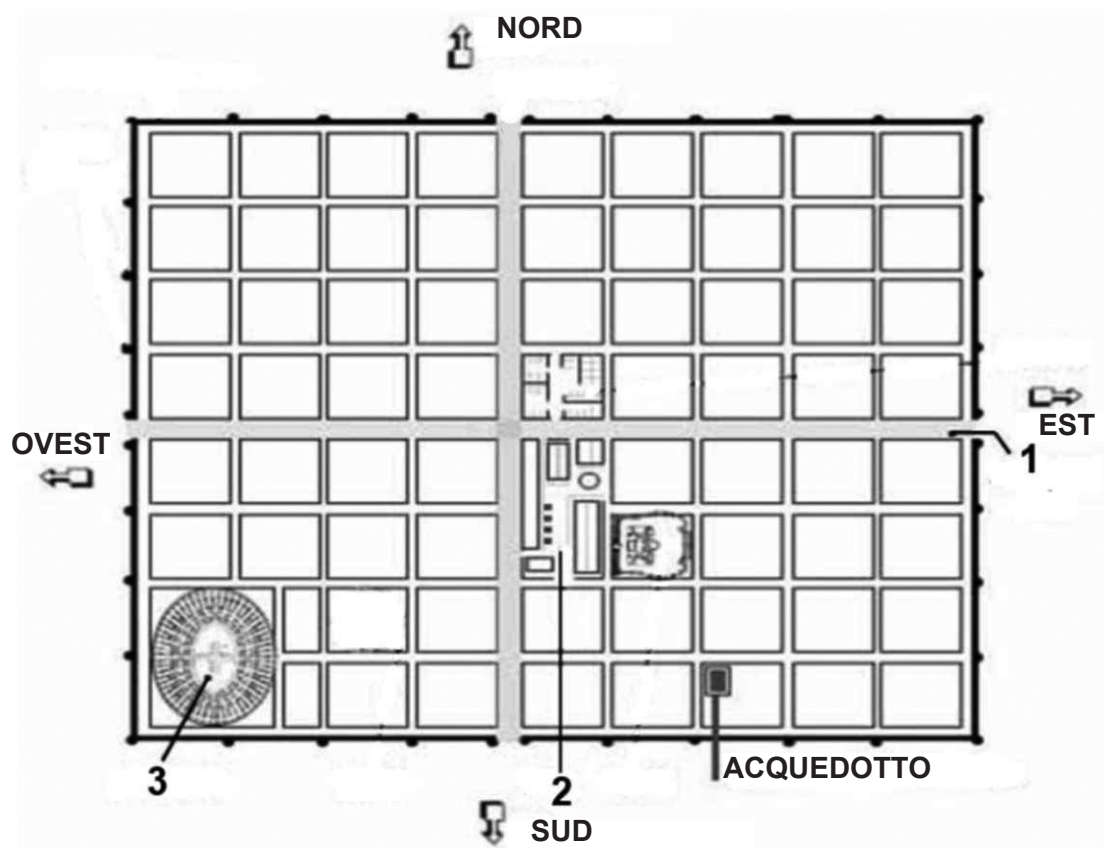
0 ☐  
2 ☐  
punto

0 ☐  
2 ☐  
punto



# Geografia

49. Risolvi i seguenti quesiti con l'aiuto della pianta di una città dell'Antichità.



49.1. A quale civiltà dell'Antichità appartiene la città la cui pianta è qui rappresentata?

\_\_\_\_\_

0 ☐  
1 ☐  
punto

49.2. La strada che si estende in direzione est – ovest si chiama

\_\_\_\_\_.

0 ☐  
1 ☐  
punto

Contrassegnala in tutta la sua lunghezza con una linea ondulata sulla pianta allegata.

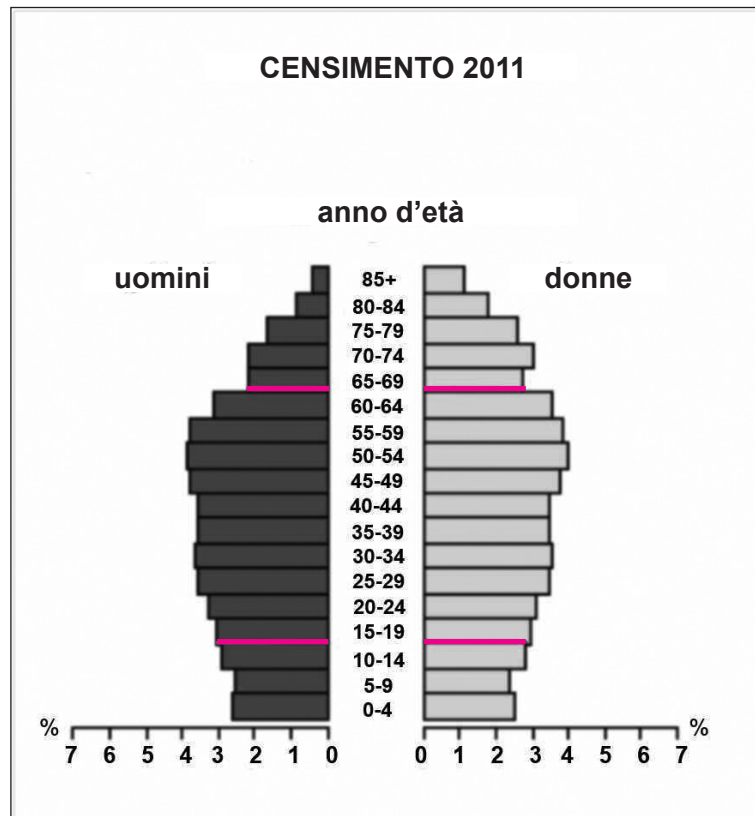
49.3. La piazza principale della città si chiama \_\_\_\_\_ ed è  
contrassegnata con il numero \_\_\_\_\_.

0 ☐  
1 ☐  
2 ☐  
punto



# Geografia

50. Risolvi i seguenti quesiti con l'aiuto del diagramma allegato in cui è rappresentata la struttura della popolazione croata nel 2011 per età e sesso.



- 50.1. Come si chiama il fenomeno che si ravvisa confrontando la parte della popolazione giovane maschile e quella della popolazione giovane femminile?
- \_\_\_\_\_
- 50.2. Come si chiama il fenomeno che ha causato una maggior quota di popolazione femminile in gruppi di età avanzata?
- \_\_\_\_\_
- 50.3. Quali sono i cambiamenti che ci si aspetta nella **struttura economica** della popolazione, nel prossimo periodo quinquennale, a causa della grande porzione della popolazione compresa nelle fasce d'età fra i 50-54 anni, i 55-59 ed i 60-64 anni?
- \_\_\_\_\_

0 ☐  
2 ☐  
punto

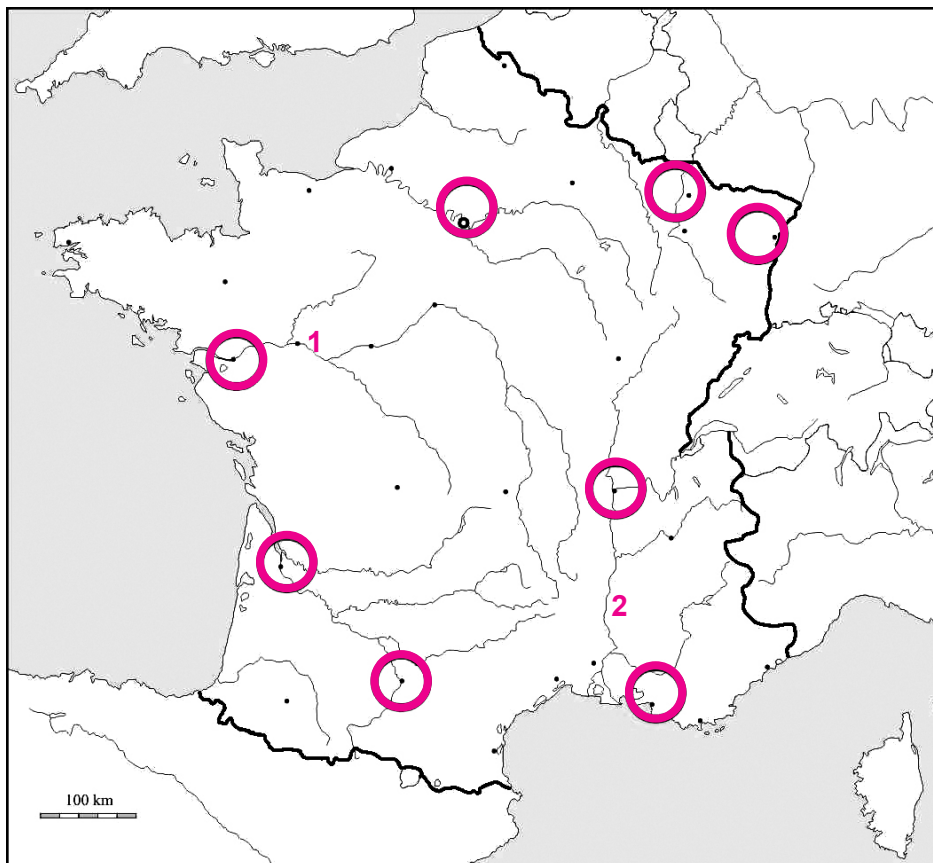
0 ☐  
2 ☐  
punto

0 ☐  
2 ☐  
punto



# Geografia

51. Risolvi i seguenti quesiti con l'aiuto della carta geografica allegata della Francia.



51.1. Scrivi i nomi dei fiumi contrassegnati sulla carta allegata con i numeri 1 e 2 sulle righe sottostanti accanto ai numeri.

1 \_\_\_\_\_

2 \_\_\_\_\_

51.2. Scrivi la lettera **A** nel cerchio con cui è contrassegnata la posizione della città che è il centro della regione dell'Alsazia. Tale città si chiama

\_\_\_\_\_.

51.3. Scrivi la lettera **B** sulla penisola in Francia in cui vive la popolazione di origine celtica. Tale penisola si chiama

\_\_\_\_\_.

0 ☐  
1 ☐  
2 ☐

punto

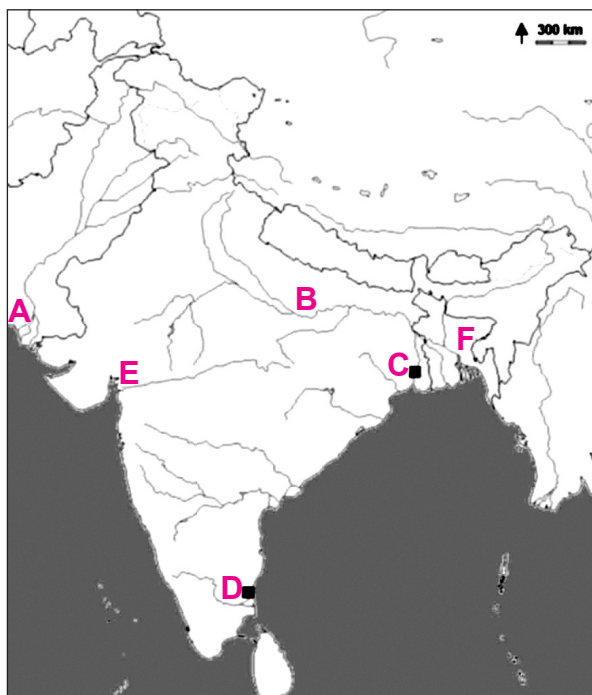
0 ☐  
1 ☐  
punto

0 ☐  
1 ☐  
punto



# Geografia

**52.** Risolvi i seguenti quesiti con l'aiuto della carta geografica allegata di una parte dell'Asia Meridionale su cui sono stati segnati con le lettere dalla **A** alla **F** i singoli territori e città.



**52.1.** Il nome della città che è anche il più grande centro dell'induismo e del buddismo, e che si trova sul fiume contrassegnato dalla lettera **B** è

\_\_\_\_\_.

**52.2.** La foce del fiume Indo è contrassegnata sulla carta con la lettera

\_\_\_\_\_.

**52.3.** Il nome della megalopoli contrassegnata sulla carta con la lettera **C** è

\_\_\_\_\_.

**52.4.** Il nome della megalopoli contrassegnata sulla carta con la lettera **D** è

\_\_\_\_\_.

0 ☐  
1 ☐  
punto

0 ☐  
1 ☐  
punto

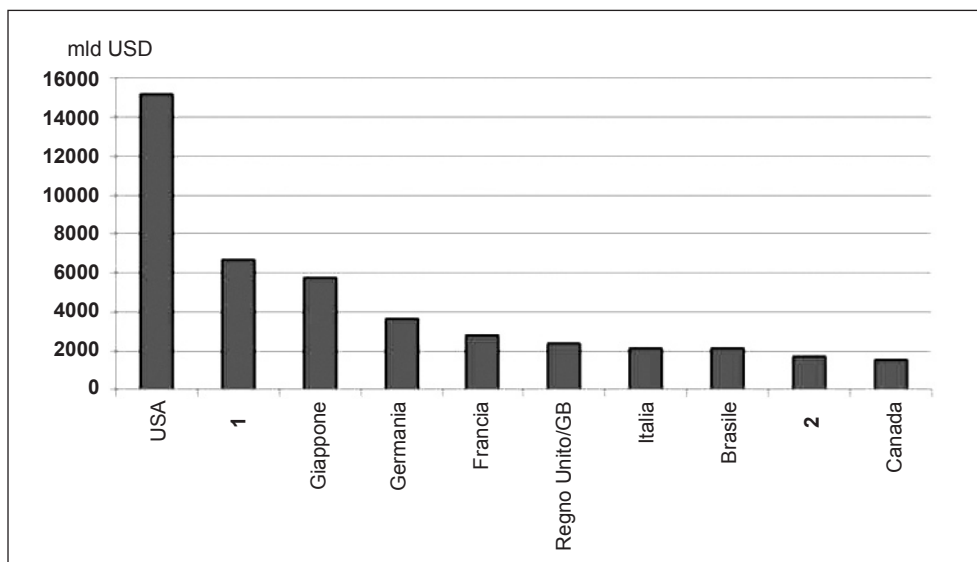
0 ☐  
1 ☐  
punto

0 ☐  
1 ☐  
punto



# Geografia

**53.** Risolvi i seguenti quesiti con l'aiuto del diagramma su cui sono rappresentati gli stati con il maggior PIL del 2011 nel mondo. Due sono gli stati contrassegnati con i numeri **1** e **2**.



Scrivi i nomi di tali stati accanto ai numeri sulle linee sottostanti.

1 \_\_\_\_\_

2 \_\_\_\_\_

0 ☐  
1 ☐  
punto

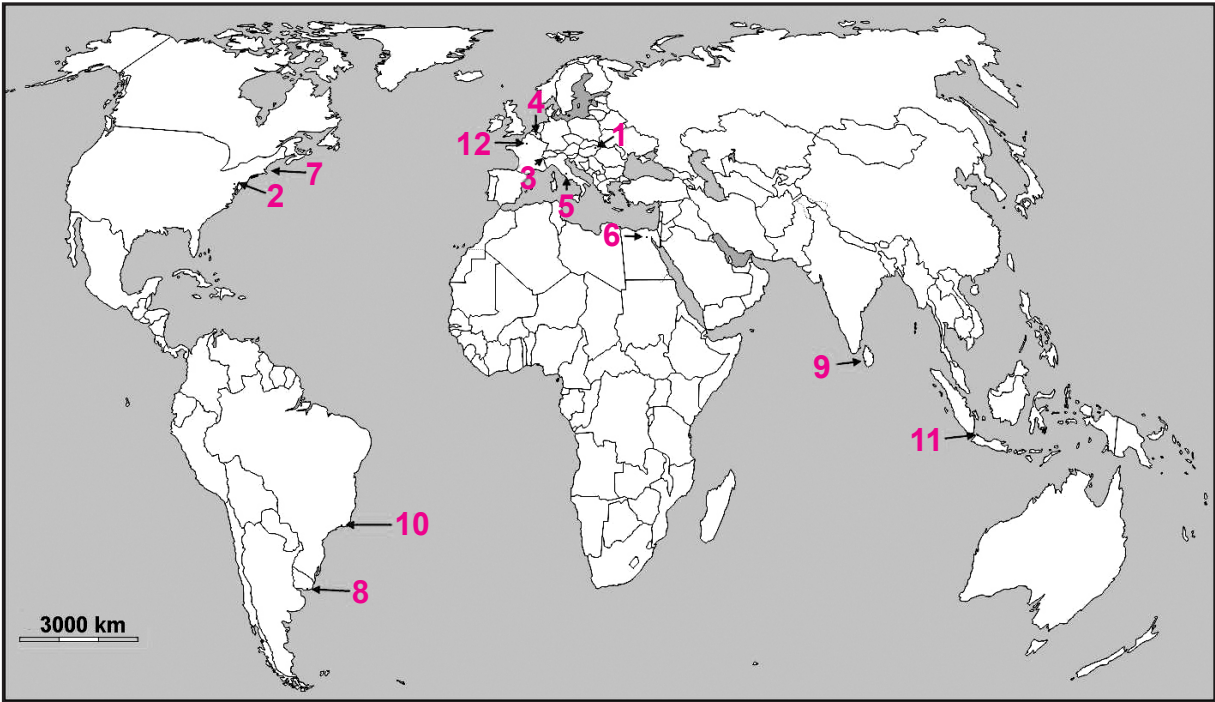
0 ☐  
1 ☐  
punto





# Geografia

54. Risolvi i seguenti quesiti con l'aiuto della carta geografica mondiale in cui sono contrassegnati con i numeri da 1 a 12 le sedi delle organizzazioni internazionali e delle integrazioni regionali.



Scrivi nella tabella il nome della città in cui si trova la sede dell'organizzazione o dell'integrazione indicata ed il numero con cui tale città è contrassegnata sulla carta.

	Nome dell'organizzazione/ integrazione	Nome della città/sede	Numero con cui è contrassegnata sulla carta
54.1.	UNIDO		
54.2.	FAO		
54.3.	La Banca Mondiale		

0	<input type="checkbox"/>
2	<input type="checkbox"/>
punto	
0	<input type="checkbox"/>
2	<input type="checkbox"/>
punto	
0	<input type="checkbox"/>
2	<input type="checkbox"/>
punto	



# Geografia

55. Risolvi i quesiti con l'aiuto della carta geografica d'Europa.



55.1. Scrivi nella carta la lettera **A** sul membro dell'Unione Europea che ha il minor numero di abitanti e la maggioranza della popolazione slava.

Il nome di tale stato è \_\_\_\_\_.

55.2. Scrivi nella carta la lettera **B** sullo stato con la maggioranza di abitanti slavi e che è stato l'ultimo ad essere accolto nell'Unione Europea.

Il nome di tale stato è \_\_\_\_\_.

55.3. Scrivi nella carta la lettera **C** sullo stato che per primo è stato accolto nell'Unione Europea (e le integrazioni che ne sono precedute) e che è affacciato sul Mar Baltico. Il nome di tale stato è \_\_\_\_\_.

0 ☐  
2 ☐  
punto

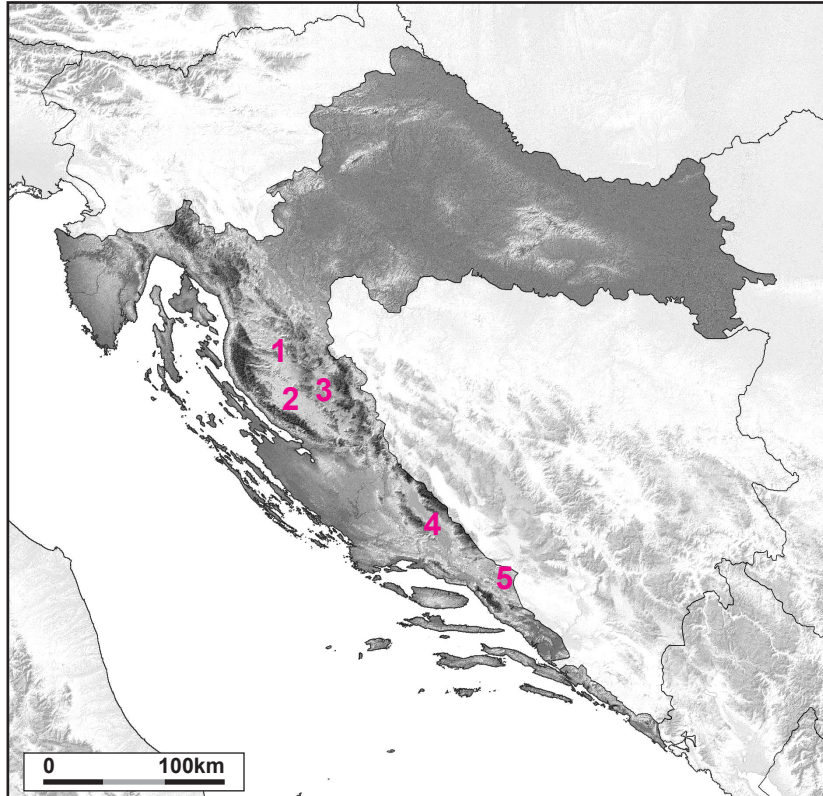
0 ☐  
2 ☐  
punto

0 ☐  
2 ☐  
punto



# Geografia

**56.** Risolvi i seguenti quesiti con l'aiuto della carta geografica della Croazia su cui sono contrassegnati i campi carsici preselezionati con i numeri da **1** a **5**.



**56.1.** Il campo carsico su cui si trova Gospić è contrassegnato sulla carta con il numero \_\_\_\_\_. Il fiume più lungo che scorre lungo tale campo si chiama \_\_\_\_\_.

**56.2.** Il campo carsico su cui si trova Sinj è contrassegnato sulla carta con il numero \_\_\_\_\_. Il fiume più lungo che scorre lungo tale campo si chiama \_\_\_\_\_.

**56.3.** Il campo carsico su cui si trova Otočac è contrassegnato sulla carta con il numero \_\_\_\_\_. Il fiume più lungo che scorre lungo tale campo si chiama \_\_\_\_\_.

0 ☐  
1 ☐  
2 ☐


punto

0 ☐  
1 ☐  
2 ☐

punto

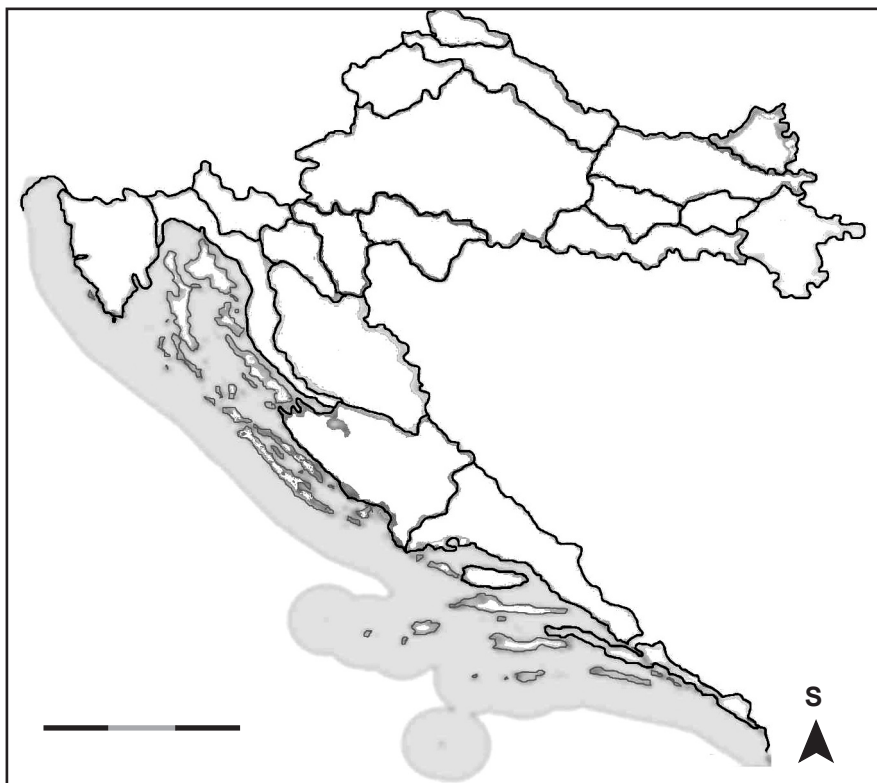
0 ☐  
1 ☐  
2 ☐

punto



# Geografia

**57.** Risolvi i seguenti quesiti con l'aiuto della carta geografica delle regioni tradizionali della Croazia in allegato.



**57.1.** Scrivi il numero **1** nella regione tradizionale in cui secondo l'attuale numero di abitanti il più grande centro è Čakovec.

Il nome di tale regione è \_\_\_\_\_.

**57.2.** Scrivi il numero **2** nella regione tradizionale in cui l'attuale centro amministrativo è Krapina.

Il nome di tale regione è \_\_\_\_\_.

**57.3.** Scrivi il numero **3** nella regione tradizionale in cui secondo l'attuale numero di abitanti il più grande centro è Petrinja.

Il nome di tale regione è \_\_\_\_\_.

0 ☐

2 ☐

punto

0 ☐

2 ☐

punto

0 ☐

2 ☐

punto



# Geografia

- 58.** A quanto ammonta il ricambio annuale medio del numero di abitanti espresso in cifra assoluta fra gli ultimi due censimenti nella zupania Virovitičko-podravska se nel 2001 c'erano 93.389 abitanti, mentre nel 2011 ce n'erano 84.836?

Spazio per il calcolo:

Il ricambio annuale medio del numero di abitanti ammonta a

\_\_\_\_\_.

0 ☐  
2 ☐  
punto

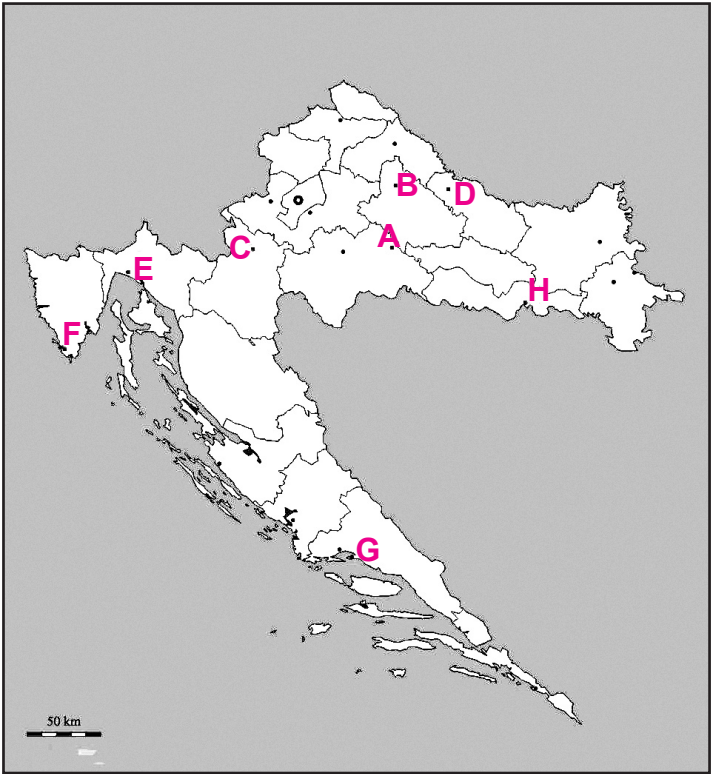
GEO IK-2 D-S017



02

# Geografia

59. Risolvi i seguenti quesiti con l'aiuto della carta geografica della Croazia su cui sono contrassegnati con le lettere dalla **A** alla **F** i centri economici prescelti.



Scrivi nella tabella il nome della città che corrisponde alla descrizione allegata e la lettera con cui tale città è contrassegnata sulla carta.

	Descrizione	Nome della città	Lettera con cui è contrassegnata sulla carta
59.1.	La città della Croazia continentale in cui si trova l'industria petrolchimica		
59.2.	La città sulla costa marittima che possiede una raffineria di petrolio		
59.3.	La città che possiede un'industria per la fabbricazione dei vagoni e delle locomotive		
59.4	La città i cui dintorni più prossimi sono conosciuti per la coltivazione del tabacco		

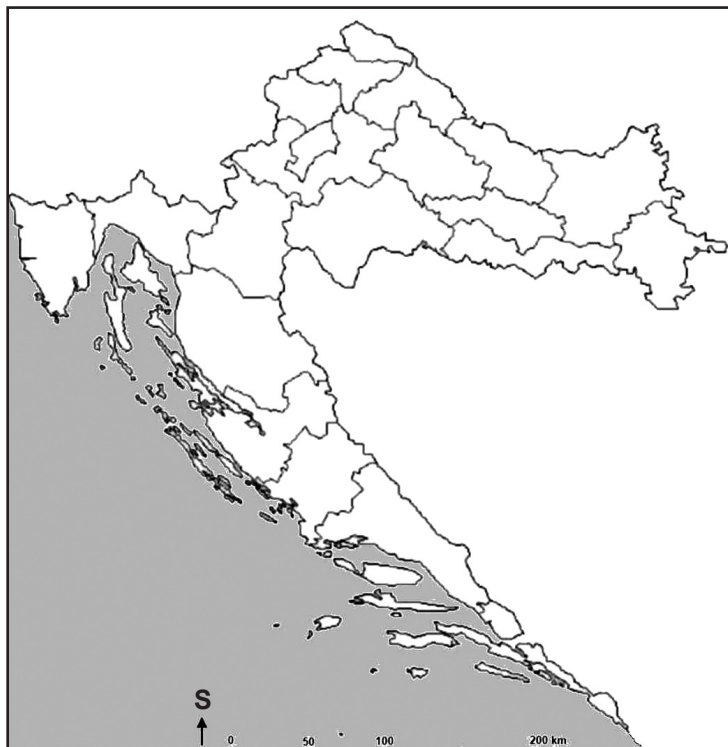
0	<input type="checkbox"/>
1	<input type="checkbox"/>
punto	
0	<input type="checkbox"/>
1	<input type="checkbox"/>
punto	
0	<input type="checkbox"/>
1	<input type="checkbox"/>
punto	





# Geografia

**60.** Risolvi i seguenti quesiti con l'aiuto della carta geografica della Croazia in allegato.



**60.1.** Scrivi il segno **X** sulla zupania in cui si trova il più famoso santuario mariano della Croazia Pannonica.

**60.2.** Il nome del centro abitato in cui si trova il più famoso santuario mariano della Croazia Pannonica è \_\_\_\_\_.

0 ☐  
1 ☐  
punto

0 ☐  
1 ☐  
punto



# Geografia

Pagina vuota

GEO IK-2 D-S017



99