



NACIONALNI CENTAR ZA VANJSKO
VREDNOVANJE OBRAZOVANJA

Identifikacijska
naljepnica

PAŽLJIVO NALIJEPI

GEOGRAFIJA

Ispitna knjižica 2

GEO IK-2 D-S024

GEO.24.HR.R.K2.24



12234



12





Geografija

Prazna stranica

GEO IK-2 D-S024



99





OPĆE UPUTE

Pozorno pročitajte sve upute i slijedite ih.

Ne okrećite stranicu i ne rješavajte zadatke dok to ne odobri dežurni nastavnik.

Nalijepite identifikacijske naljepnice na sve ispitne materijale koje ste dobili u sigurnosnoj vrećici.

Ispit traje **90** minuta bez stanke.

Zadatci se nalaze u dvjema ispitnim knjižicama. Redoslijed rješavanja birajte sami.

Dobro rasporedite vrijeme kako biste mogli riješiti sve zadatke.

Ispred svake skupine zadataka je uputa za njihovo rješavanje. Pozorno je pročitajte.

Odgovore upišite **samo** na predviđeno mjesto u ovoj ispitnoj knjižici.

Pišite čitko. Nečitki odgovori bodovat će se s nula (0) bodova. Ako pogriješite u pisanju, pogreške stavite u zagrade, precrtajte ih i stavite skraćeni potpis.

Upotrebljavajte isključivo kemijsku olovku kojom se piše plavom ili crnom bojom.

Kada riješite zadatke, provjerite odgovore.

Želimo Vam mnogo uspjeha!

Ova ispitna knjižica ima 24 stranice, od toga 2 prazne.

Ako ste pogriješili u pisanju odgovora, ispravite ovako:

zadatak otvorenoga tipa

(Marko Marulić)	Petar Preradović	<i>P</i>
↑	↑	↑
Precrtan netočan odgovor u zagradama	Točan odgovor	Skraćeni potpis

GEO IK-2 D-S024



99





Geografija

V. Zadaci kratkog odgovora i dopunjavanja

U sljedećim zadacima odgovorite kratkim odgovorom (riječju ili brojem) ili dopunite rečenicu, kartu ili tablicu upisivanjem sadržaja koji nedostaje.

Odgovore upišite **samo** na predviđeno mjesto u ovoj ispitnoj knjižici.

Ne popunjavajte prostor za bodovanje.

- 41.** Koliko iznosi duljina stranice kvadrata kojim je na listu topografske karte mjerila 1 : 25 000 predočena površina od 4 km²?

Prostor za računanje:

Odgovor: _____

0 ☐
2 ☐
bod

GEO IK-2 D-S024

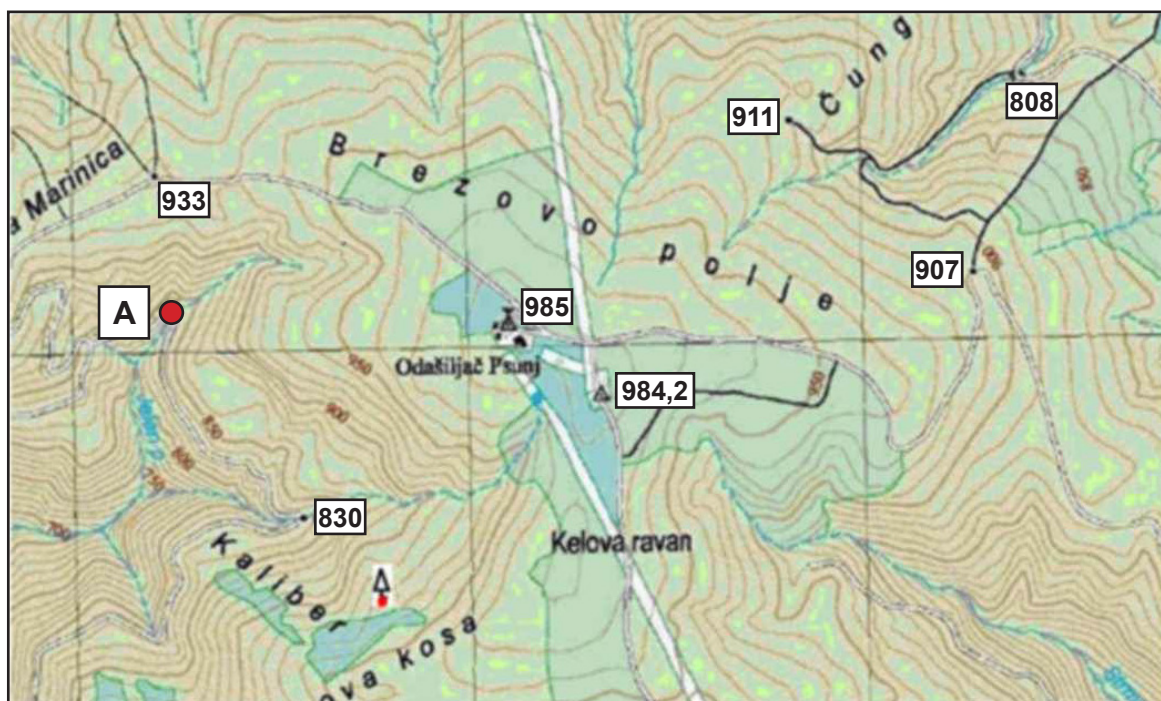


02



Geografija

42. Zadatak riješite s pomoću priloženoga isječka topografske karte.



Odgovorite kratkim odgovorom i dopunite sljedeću rečenicu.

42.1. Koliko iznosi relativna visina odašiljača Psunj u odnosu na najnižu kotu označenu na priloženome isječku? _____ m

42.2. Azimut točke A u odnosu na odašiljač Psunj jest _____.

0
2
bod

0
2
bod

GEO IK-2 D-S024

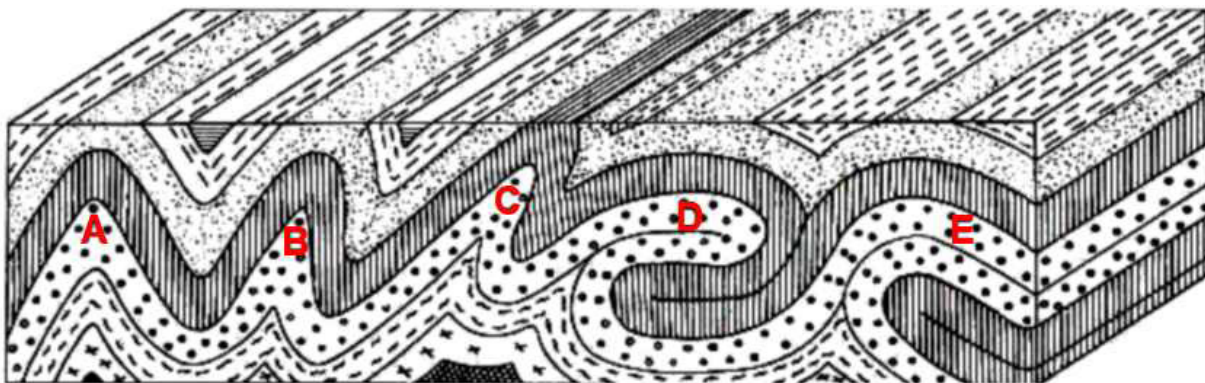


02



Geografija

43. Zadatak riješite s pomoću priloženoga crteža.



43.1. Prebačena bora na priloženome crtežu označena je slovom _____.

43.2. Polegla bora na priloženome crtežu označena je slovom _____.

0 ☐
2 ☐
bod

0 ☐
2 ☐
bod

GEO IK-2 D-S024



02





Geografija

44. Zadatak riješite s pomoću priloženih slika. Prema vrsti stijena i izgledu reljefa odredite o kojoj se pustinji radi. Na svaku crtu uz sliku upišite vrstu pustinje prikazane na slici.

44.1.



44.2.



44.3.



0 ☐
2 ☐
bod

0 ☐
2 ☐
bod

0 ☐
2 ☐
bod

GEO IK-2 D-S024



02





Geografija

45. Zadatak riješite s pomoću priložene karte Sredozemlja.



Dopunite sljedeće rečenice.

45.1. Ime rijeke označene slovom **A** na priloženoj karti jest _____,
a ime slijeva kojemu pripada jest _____.

45.2. Tip riječnoga ušća označen slovom **B** na priloženoj karti naziva se
_____, a ime rijeke koja ga je oblikovala jest
_____.

45.3. Zaokružite na karti ušće rijeke uz koje se nalazi najprometnija morska luka
Francuske. Ime te rijeke jest _____.

0 ☐

2 ☐

bod

0 ☐

2 ☐

bod

0 ☐

2 ☐

bod

GEO IK-2 D-S024



02





Geografija

- 46.** Izračunajte prirodnu promjenu stanovništva za naselje od 2001. do 2011. godine ako je u navedenome međupopisnom razdoblju pozitivni migracijski saldo 98 stanovnika, a popis 2011. godine bilježi 176 stanovnika više nego 2001. godine.

Prostor za računanje:

Prirodna promjena stanovništva iznosi _____.

0
2
bod

GEO IK-2 D-S024



02



Geografija

47. Zadatak riješite s pomoću priložene geografske karte Afrike.



Dopunite sljedeće rečenice.

47.1. Naziv službenoga jezika u državama označenima na priloženoj geografskoj karti kosim crtama jest _____ jezik.

47.2. U državama označenima na priloženoj geografskoj karti crvenom bojom službeni jezici su engleski i _____.

0	<input type="text"/>
2	<input type="text"/>
bod	

0	<input type="text"/>
2	<input type="text"/>
bod	

GEO IK-2 D-S024



02



Geografija

48. Zadatak riješite s pomoću priložene geografske karte Sredozemlja.



Dopunite rečenicu i upišite u priloženu geografsku kartu traženo slovo.

48.1. Ime otočne skupine označene na priloženoj geografskoj karti slovom **A** jest

_____.

48.2. Upišite na priloženu geografsku kartu slovo **B** u državu koja posljednjih pet godina bilježi najveći broj međunarodnih turističkih dolazaka u svijetu.

0	<input type="checkbox"/>
2	<input type="checkbox"/>
bod	

0	<input type="checkbox"/>
2	<input type="checkbox"/>
bod	

GEO IK-2 D-S024



02



Geografija

49. Zadatak riješite s pomoću priložene geografske karte svijeta.



Dopunite sljedeće rečenice.

49.1. Izvorne (prirodne) šume koje prevladavaju u prostorima označenima slovima I i G na priloženoj geografskoj karti nazivaju se _____.

0
2
bod

49.2. Izvorne (prirodne) šume koje prevladavaju u prostoru označenome slovom C na priloženoj geografskoj karti nazivaju se _____.

0
2
bod

49.3. Mediteranske šume prevladavaju u prostoru označenome na priloženoj geografskoj karti slovom ____.

0
2
bod

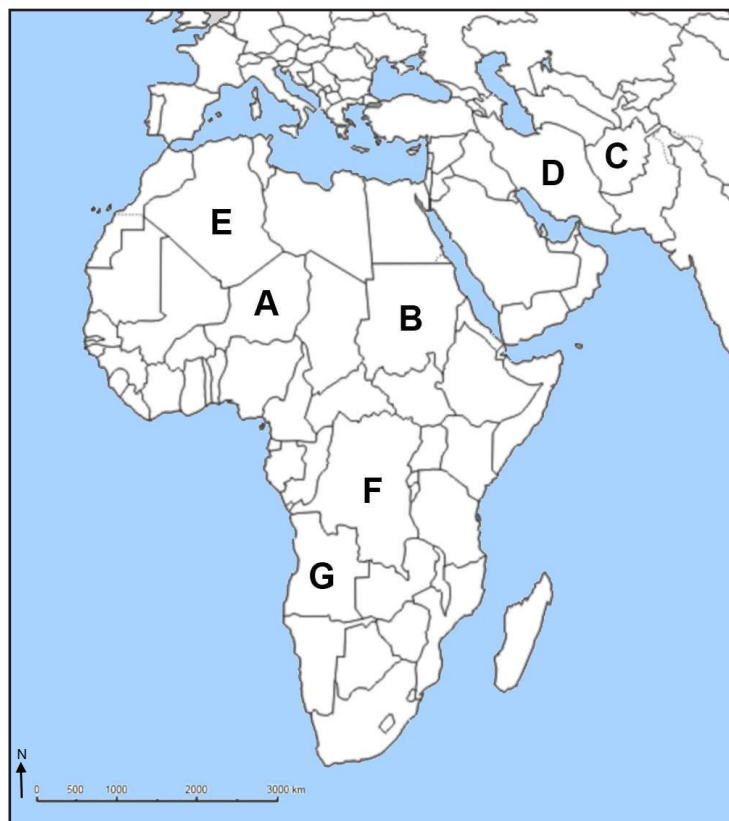
GEO IK-2 D-S024



02

Geografija

50. Zadatak riješite s pomoću priložene geografske karte Afrike i Jugozapadne Azije.



Dopunite sljedeće rečenice.

50.1. Država s najvećom stopom ukupnoga fertiliteta u svijetu u posljednjih pet godina označena je na priloženoj geografskoj karti slovom ____.

50.2. Država s najvećom stopom smrtnosti dojenčadi u svijetu u posljednjih pet godina označena je na priloženoj geografskoj karti slovom ____.

50.3. Država u kojoj prevladavaju rimokatolici u ukupnome stanovništvu označena je na priloženoj geografskoj karti slovom ____.

0
2
bod

0
2
bod

0
2
bod

GEO IK-2 D-S024



02



Geografija

51. Zadatak riješite s pomoću priložene geografske karte Kine.



Dopunite sljedeću rečenicu.

Ime prirodnogeografske regije Kine označene slovom **E** na priloženoj geografskoj karti jest _____.

0
2
bod

GEO IK-2 D-S024



02





Geografija

52. Zadatak riješite s pomoću priložene geografske karte Južne Amerike.



Dopunite rečenice i upišite u priloženu geografsku kartu traženo slovo.

52.1. Upišite na priloženu geografsku kartu slovo **A** u državu koja je uz Brazil najmnogoljudnija država Južne Amerike.

Ime te države jest _____.

52.2. Službeni jezik države označene na priloženoj geografskoj karti slovom **B** pripada velikoj jezičnoj porodici koja se naziva _____ jezici.

0	<input type="checkbox"/>
2	<input type="checkbox"/>
bod	

0	<input type="checkbox"/>
2	<input type="checkbox"/>
bod	

GEO IK-2 D-S024



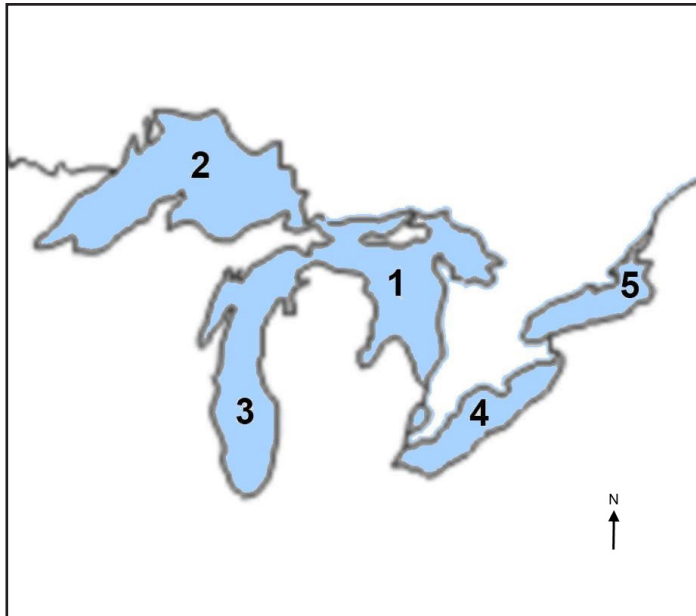
02





Geografija

53. Na crtežu su brojevima označena sjevernoamerička Velika jezera.



Dopunite sljedeće rečenice.

53.1. Jezero na čijoj se obali nalazi najveća jezerska luka SAD-a označeno je na crtežu brojem _____.

Ime toga jezera jest _____.

53.2. Jezero iz kojega istječe rijeka Niagara označeno je na crtežu brojem _____.

Ime toga jezera jest _____.

0	<input type="text"/>
2	<input type="text"/>
bod	

0	<input type="text"/>
2	<input type="text"/>
bod	

GEO IK-2 D-S024



02





Geografija

54. Zadatak riješite s pomoću priložene geografske karte Njemačke.



Upišite na priloženu geografsku kartu tražene brojeve i dopunite sljedeće rečenice.

54.1. Upišite broj **1** u prostor savezne zemlje u kojoj je vodeće demografsko i gospodarsko središte München.

Ime te savezne zemlje jest _____.

54.2. Upišite broj **2** u prostor savezne zemlje u kojoj je vodeće demografsko i gospodarsko središte Stuttgart.

Ime te savezne zemlje jest _____.

54.3. Upišite broj **3** u prostor savezne zemlje u kojoj je vodeće demografsko i gospodarsko središte Hannover.

Ime te savezne zemlje jest _____.

0

2

bod

0

2

bod

0

2

bod

GEO IK-2 D-S024



02





Geografija

55. Zadatak riješite s pomoću priložene geografske karte Jugozapadne Azije.



Dopunite sljedeće rečenice.

55.1. Država u kojoj se nalaze gradovi Meka i Medina označena je na priloženoj geografskoj karti brojem _____.

Ime te države jest _____.

55.2. Država kojoj je glavni grad Kabul označena je na priloženoj geografskoj karti brojem _____.

Ime te države jest _____.

55.3. Država u kojoj se nalazi Jeruzalem označena je na priloženoj geografskoj karti brojem _____.

Ime te države jest _____.

0 ☐

2 ☐

bod

0 ☐

2 ☐

bod

0 ☐

2 ☐

bod

GEO IK-2 D-S024



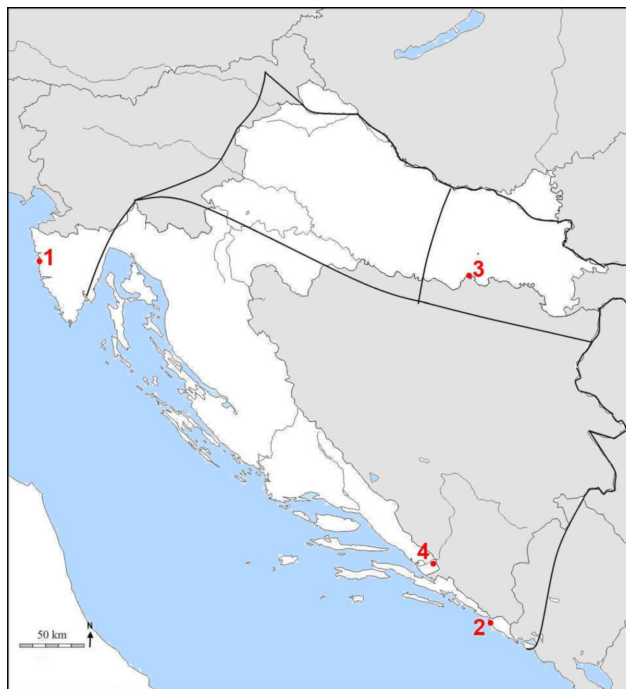
02





Geografija

56. Zadatak riješite s pomoću priložene geografske karte s približnim granicama rimskih provincija.



Odgovorite kratkim odgovorom i dopunite sljedeću rečenicu.

Kojim je brojem na priloženoj geografskoj karti označena lokacija Parentiuma? _____

Ime današnjega naselja na toj lokaciji jest _____.

0

2

bod

GEO IK-2 D-S024



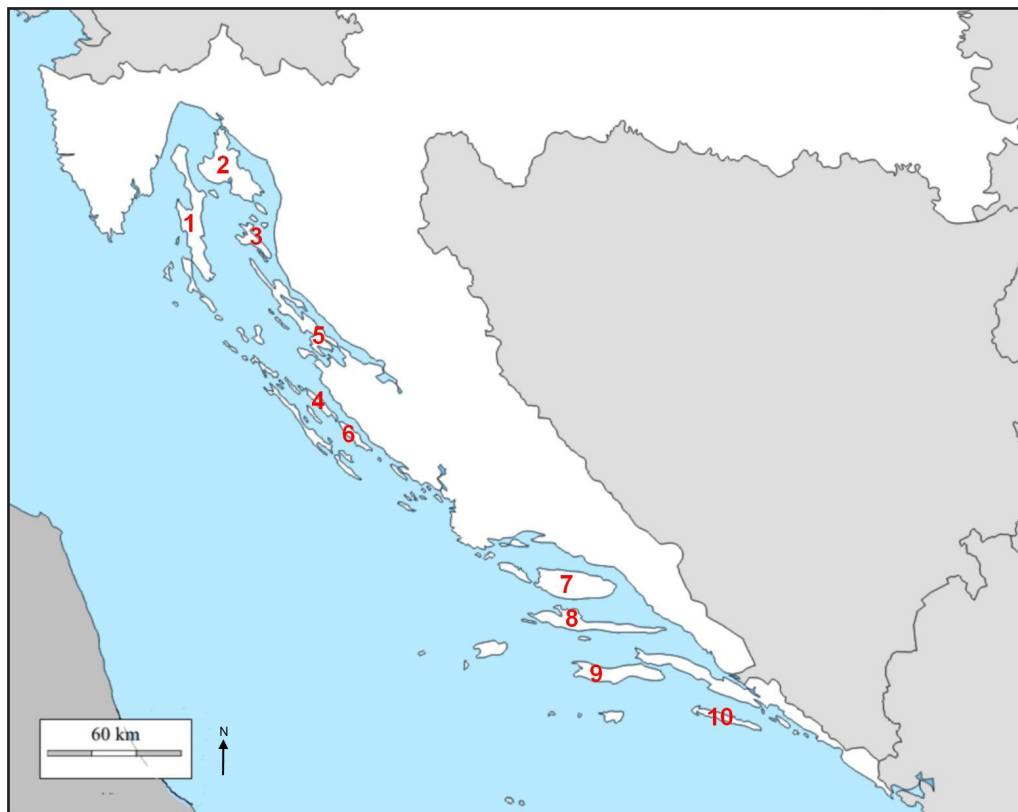
02





Geografija

57. Zadatak riješite s pomoću priložene geografske karte Primorske Hrvatske.



Koji su od označenih otoka na priloženoj geografskoj karti mostom povezani s kopnom?
Upišite u tablicu imena tih otoka i brojeve kojima su označeni na priloženoj geografskoj karti.

	Ime otoka	Broj kojim je označen na karti
57.1.		
57.2.		

0
2
bod

0
2
bod

GEO IK-2 D-S024



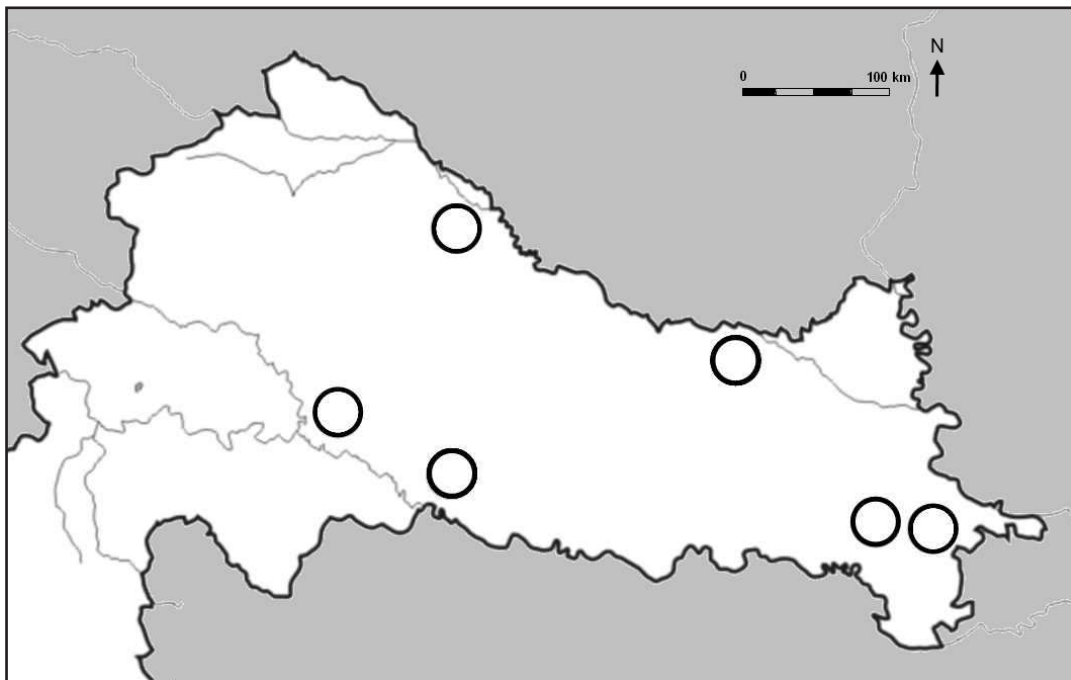
02





Geografija

58. Zadatak riješite s pomoću priložene geografske karte Panonsko-peripanonske Hrvatske.



Upišite traženi broj i slovo u kružice na priloženu geografsku kartu i dopunite sljedeće rečenice.

58.1. Upišite broj **1** u kružić kojim je označeno najveće plinsko polje u

Koprivničko-križevačkoj županiji.

Ime toga plinskog polja jest _____.

58.2. Upišite slovo **A** u kružić kojim je označeno naftno polje u

Vukovarsko-srijemskoj županiji.

Ime toga naftnog polja jest _____.

0	<input type="checkbox"/>
2	<input type="checkbox"/>
bod	

0	<input type="checkbox"/>
2	<input type="checkbox"/>
bod	

GEO IK-2 D-S024

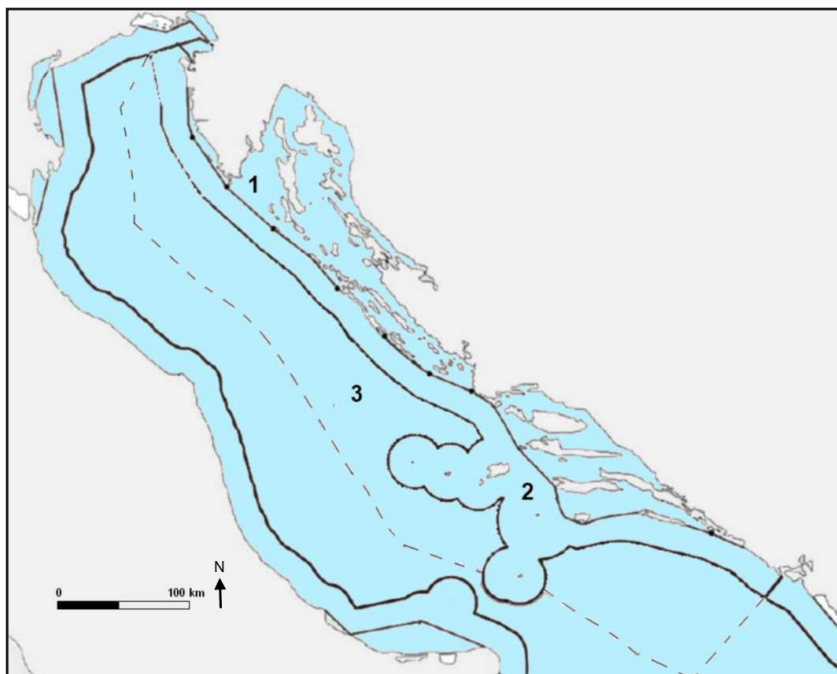


02



Geografija

59. Zadatak riješite s pomoću priložene geografske karte Jadranskoga mora.



Dopunite sljedeće rečenice.

59.1. Dio obalnoga mora Republike Hrvatske čija je širina 12 nautičkih milja naziva se _____, a na priloženoj geografskoj karti označeno je brojem _____.

59.2. U svojem dijelu epikontinentalnoga pojasa Republika Hrvatska proglasila je _____ (upišite puni naziv), a taj je pojas na priloženoj geografskoj karti označen brojem _____.

59.3. Ime površinom najvećega otoka koji **ne pripada** unutarnjim morskim vodama jest _____. Zaokružite taj otok na priloženoj geografskoj karti.

0

2

bod

0

2

bod

0

2

bod

GEO IK-2 D-S024

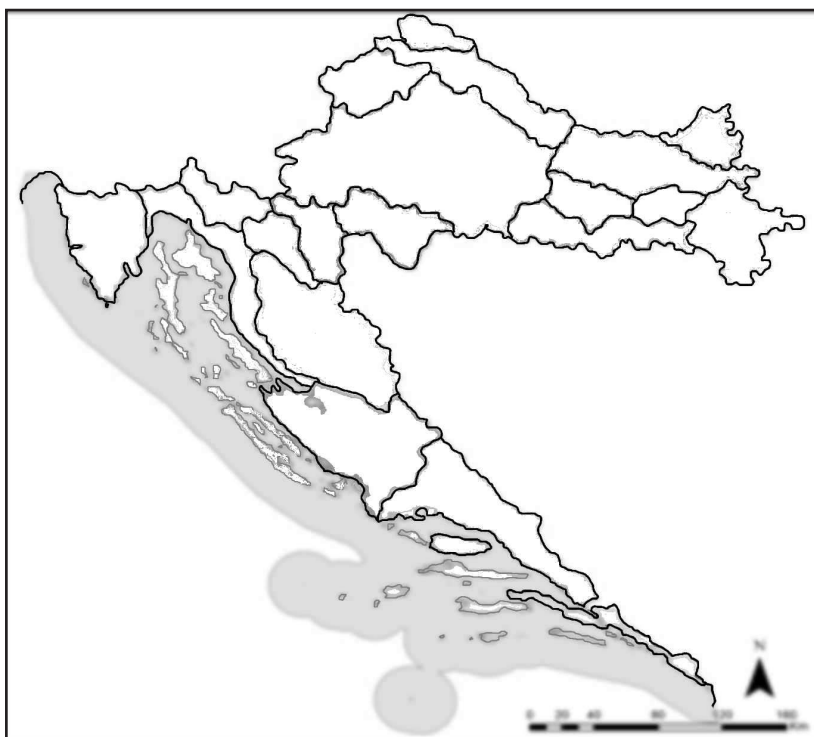


02



Geografija

60. Zadatak riješite s pomoću priložene geografske karte Republike Hrvatske.



Upišite na priloženu geografsku kartu tražene brojeve i dopunite sljedeće rečenice.

60.1. Upišite broj **1** u prostor prirodnogeografske regije koja je Republici Hrvatskoj priključena 1848. godine. Ime te regije jest _____.

60.2. Upišite broj **2** u prostor prirodnogeografske regije koja je Republici Hrvatskoj priključena **neposredno** nakon Prvoga svjetskog rata.
Ime te regije jest _____.

60.3. Upišite broj **3** u prostor prirodnogeografske regije koja je većim dijelom Republici Hrvatskoj priključena tijekom i nakon Drugoga svjetskog rata.
Ime te regije jest _____.

0

2

bod

0

2

bod

0

2

bod

GEO IK-2 D-S024



02





Geografija

Prazna stranica

GEO IK-2 D-S024



99

