



Nacionalni centar  
za vanjsko vrednovanje  
obrazovanja

Identifikacijska  
naljepnica

PAŽLJIVO NALIJEPI

# GEO

## GEOGRAFIJA

Ispitna knjižica 2

GEO IK-2 D-S026

GEO.26.HR.R.K2.24





# Geografija

Prazna stranica

GEO IK-2 D-S026



99





## OPĆE UPUTE

Pozorno pročitajte sve upute i slijedite ih.

Ne okrećite stranicu i ne rješavajte zadatke dok to ne odobri dežurni nastavnik.

Nalijepite identifikacijske naljepnice na sve ispitne materijale koje ste dobili u sigurnosnoj vrećici.

Ispit traje **90** minuta bez stanke.

Zadatci se nalaze u dvjema ispitnim knjižicama. Redoslijed rješavanja birajte sami.

Dobro rasporedite vrijeme kako biste mogli riješiti sve zadatke.

Ispred svake skupine zadataka je uputa za njihovo rješavanje. Pozorno je pročitajte.

Odgovore upišite **samo** na predviđeno mjesto u ovoj ispitnoj knjižici.

Pišite čitko. Nečitki odgovori bodovat će se s nula (0) bodova. Ako pogriješite u pisanju, pogreške stavite u zagrade, precrtajte ih i stavite skraćeni potpis.

Upotrebljavajte isključivo kemijsku olovku kojom se piše plavom ili crnom bojom.

Kada riješite zadatke, provjerite odgovore.

Želimo Vam mnogo uspjeha!

Ova ispitna knjižica ima 24 stranice, od toga 2 prazne.

Ako ste pogriješili u pisanju odgovora, ispravite ovako:

**zadatak otvorenoga tipa**

<del>(Marko Marulić)</del>	Petar Preradović	<i>P</i>
↑	↑	↑
Precrtan netočan odgovor u zagradama	Točan odgovor	Skraćeni potpis

GEO IK-2 D-S026



99





# Geografija

## V. Zadatci kratkoga odgovora i dopunjavanja

U sljedećim zadatcima odgovorite kratkim odgovorom (riječju, slovom ili brojem) ili dopunite rečenicu, kartu ili tablicu upisivanjem sadržaja koji nedostaje.

Odgovore upišite **samo** na predviđeno mjesto u ovoj ispitnoj knjižici.

Ne popunjavajte prostor za bodovanje.

**41.** Kako se naziva erozijski eolski proces kojim je nastao reljefni oblik na fotografiji?

\_\_\_\_\_



0	<input type="checkbox"/>
2	<input type="checkbox"/>
bod	

GEO IK-2 D-S026



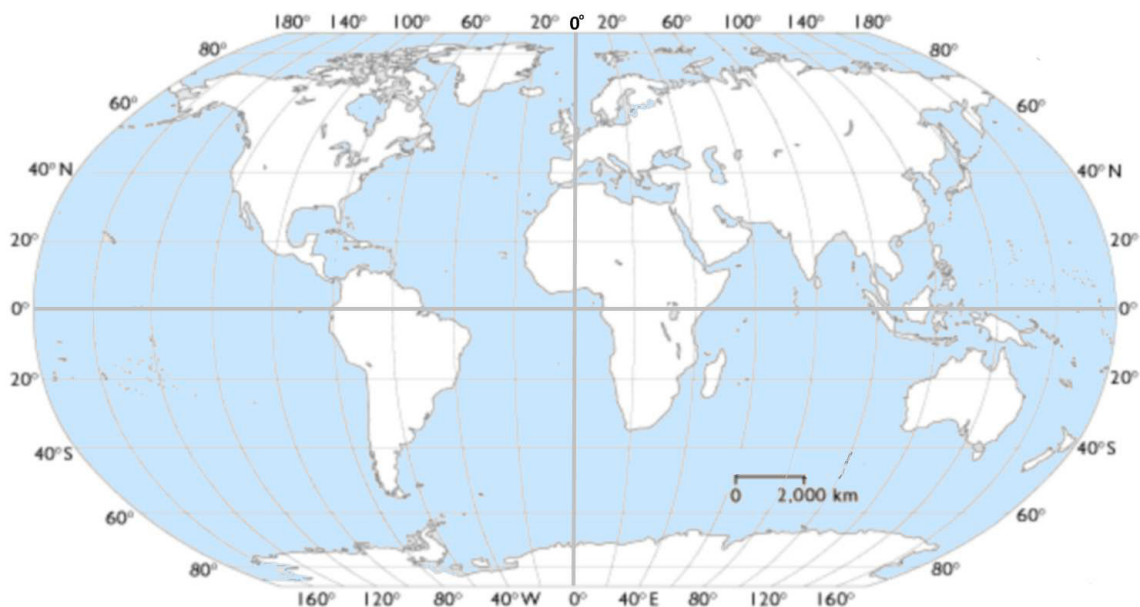
02





# Geografija

42. Riješite zadatak uz pomoć priložene geografske karte svijeta.



42.1. Brod plovi po ekvatoru. Prema GMT-u očitano na brodske kronometru je 12 sati, a lokalno vrijeme u točki u kojoj se trenutno nalazi brod je 10 sati. Na kojoj se geografskoj dužini nalazi brod?

Prostor za računanje:

Brod se nalazi na \_\_\_\_° \_\_\_\_ geografske dužine.

42.2. Znakom X označite lokaciju broda koji se nalazi na 0° g. š. i 20° z. g. d.

0   
2   
bod

0   
2   
bod

GEO IK-2 D-S026

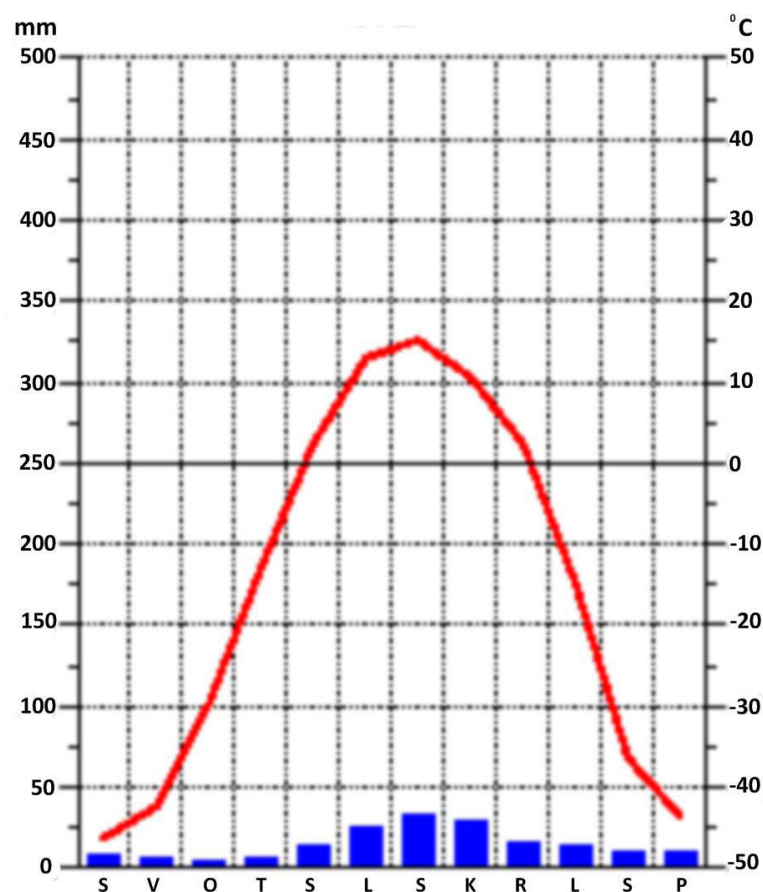


02



# Geografija

43. Riješite zadatak uz pomoć priloženoga klimatskog dijagrama.



43.1. Koji je tip godišnjega hoda temperature zraka s obzirom na udaljenost od ekvatora prikazan na priloženome klimatskom dijagramu?

\_\_\_\_\_

43.2. U kojemu godišnjemu dobu meteorološka postaja, za koju je izrađen priloženi klimatski dijagram, ima najveću količinu padalina?

\_\_\_\_\_

0 ☐  
2 ☐  
bod

0 ☐  
2 ☐  
bod

GEO IK-2 D-S026



02



# Geografija

**44.** Izračunajte i odgovorite na pitanja.

**44.1.** Koji je središnji meridijan prema kojemu se određuje pojasno vrijeme u Republici Hrvatskoj?

Središnji meridijan je \_\_\_\_\_° \_\_\_\_\_ g. d.

**44.2.** Koji je središnji meridijan prema kojemu se određuje pojasno vrijeme u Južnoj Koreji ako je razlika 8 sati u odnosu na Republiku Hrvatsku?

Prostor za računanje:

Središnji meridijan je \_\_\_\_\_° \_\_\_\_\_ g. d.

**44.3.** Koliko je sati u Seoulu ako je u Zagrebu prema pojasnome vremenu i zimskome računanju vremena podne?

Prostor za računanje:

U Seoulu je \_\_\_\_\_ sati.

0 ☐  
2 ☐  
bod

0 ☐  
2 ☐  
bod

0 ☐  
2 ☐  
bod

GEO IK-2 D-S026



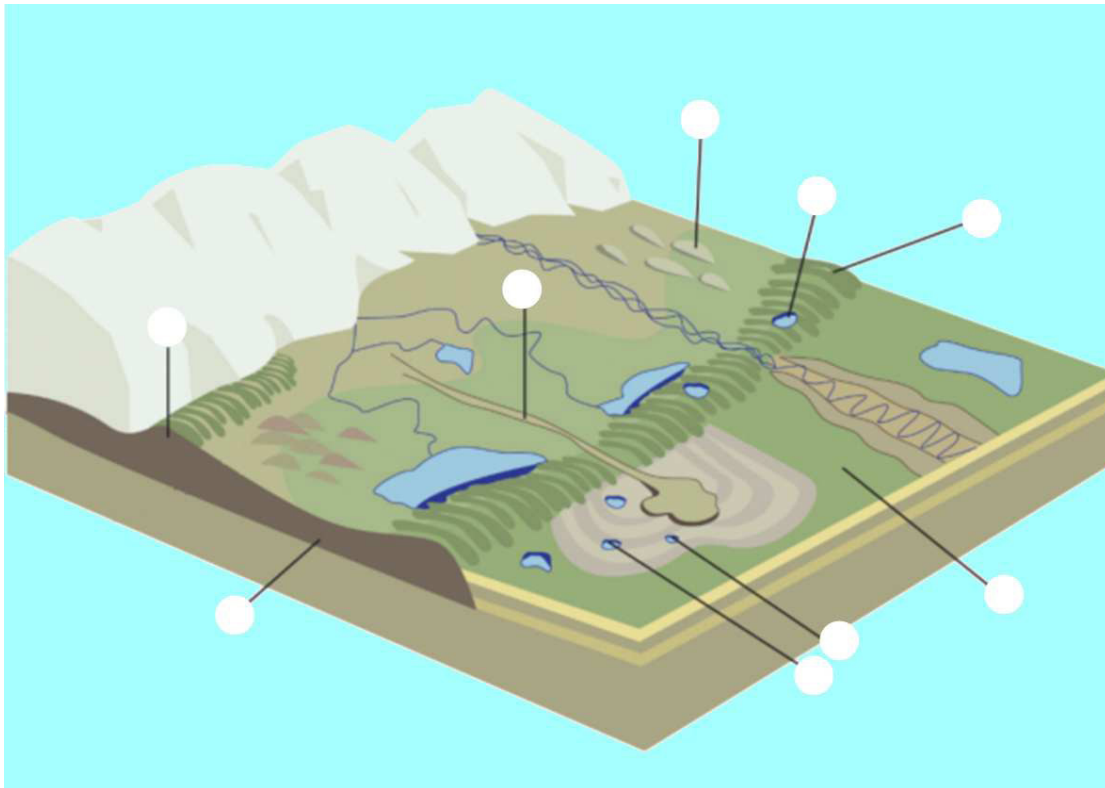
02





# Geografija

45. Riješite zadatak upisivanjem slova u odgovarajuće kružice na priloženome crtežu.



45.1. Upišite slovo **A** u kružić kojim je označen drumlin.

45.2. Upišite slovo **B** u kružić kojim je označen esker.

45.3. Upišite slovo **C** u kružić kojim je označena završna morena.

0	<input type="checkbox"/>
2	<input type="checkbox"/>
bod	

0	<input type="checkbox"/>
2	<input type="checkbox"/>
bod	

0	<input type="checkbox"/>
2	<input type="checkbox"/>
bod	

GEO IK-2 D-S026



02

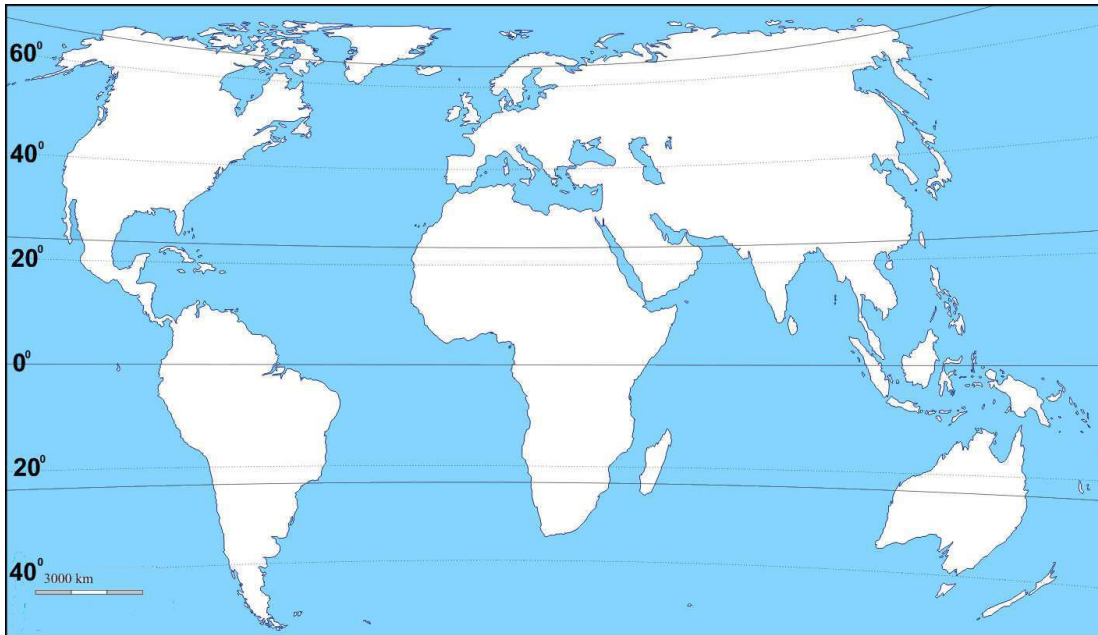






# Geografija

- 46.** Riješite zadatak na priloženoj geografskoj karti svijeta. Kosim crtama označite toplinski pojas u kojemu živi najveći relativni udio stanovništva svijeta.



0 ☐  
2 ☐  
bod

GEO IK-2 D-S026

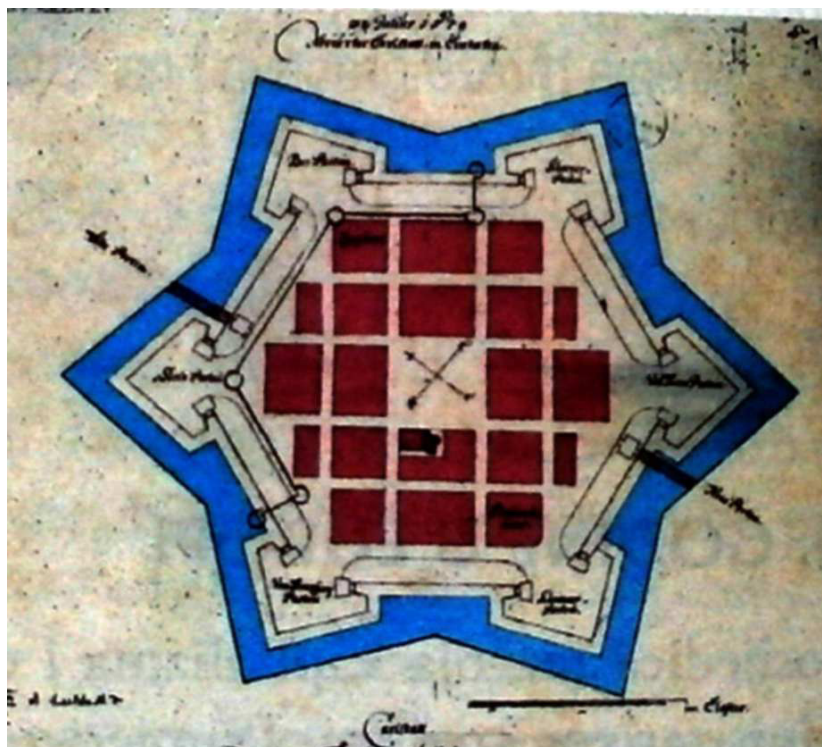


02



# Geografija

47. Riješite zadatak uz pomoć priložene slike.



47.1. U kojemu je umjetničkome razdoblju nastao grad čiji je tlocrt prikazan na slici?

\_\_\_\_\_

47.2. Kako se naziva pravilna mreža ulica prikazana na tlocrtu toga grada?

\_\_\_\_\_

0 ☐  
2 ☐  
bod

0 ☐  
2 ☐  
bod

GEO IK-2 D-S026

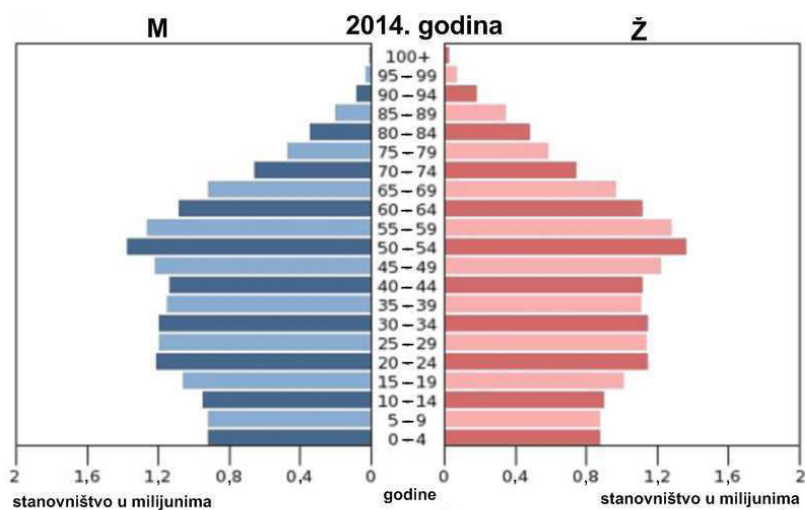


02

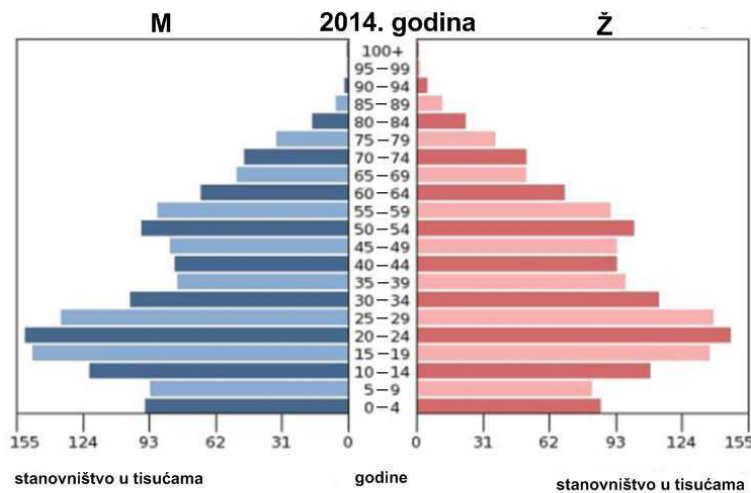


# Geografija

48. Riješite zadatak uz pomoć priloženih dijagrama. Na crte ispod svakoga dijagrama upišite ime države kojoj pripada određeni tip dobno-spolne strukture stanovništva. Odaberite između sljedećih država: Albanija, Hrvatska, Kanada, Njemačka i Peru.



48.1. \_\_\_\_\_



48.2. \_\_\_\_\_

0  
2  
bod

0  
2  
bod

GEO IK-2 D-S026

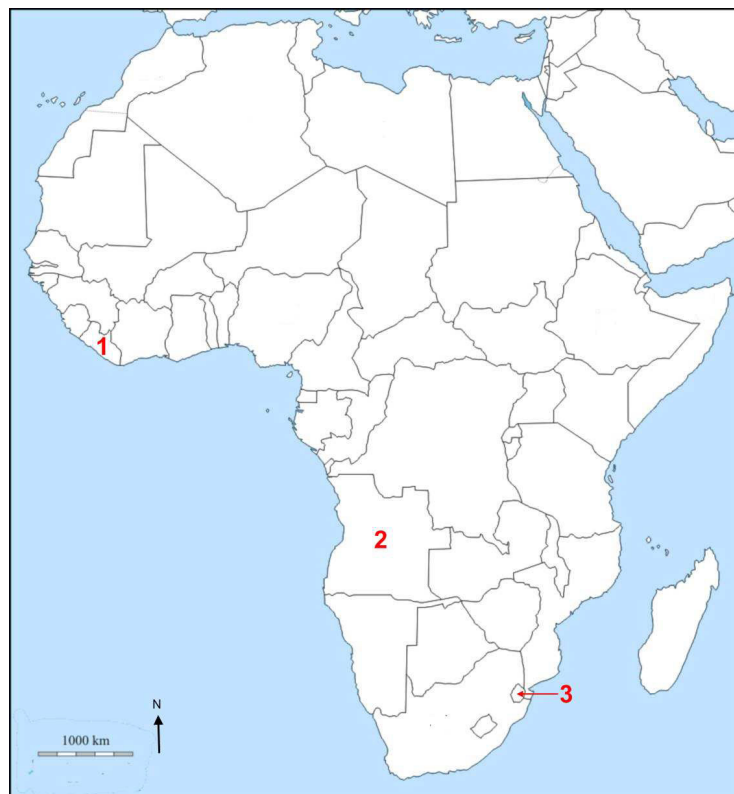


02



# Geografija

**49.** Riješite zadatak uz pomoć priložene geografske karte Afrike na kojoj su brojevima označene odabrane države s najkraćim očekivanim trajanjem života.



**49.1.** Kojim je brojem na priloženoj geografskoj karti označena država u kojoj je na očekivano trajanje života utjecala epidemija ebole? \_\_\_\_

Navedite ime te države. \_\_\_\_\_

**49.2.** Kojim je brojem na priloženoj geografskoj karti označena država u kojoj je na očekivano trajanje života utjecala epidemija HIV-a? \_\_\_\_

Navedite ime te države. \_\_\_\_\_

**49.3.** Kojim je brojem na priloženoj geografskoj karti označena država u kojoj su na očekivano trajanje života utjecali višedesetljetna borba za oslobođenje od kolonijalne vlasti i dugotrajni građanski rat? \_\_\_\_

Navedite ime te države. \_\_\_\_\_

0 ☐

2 ☐

bod

0 ☐

2 ☐

bod

0 ☐

2 ☐

bod

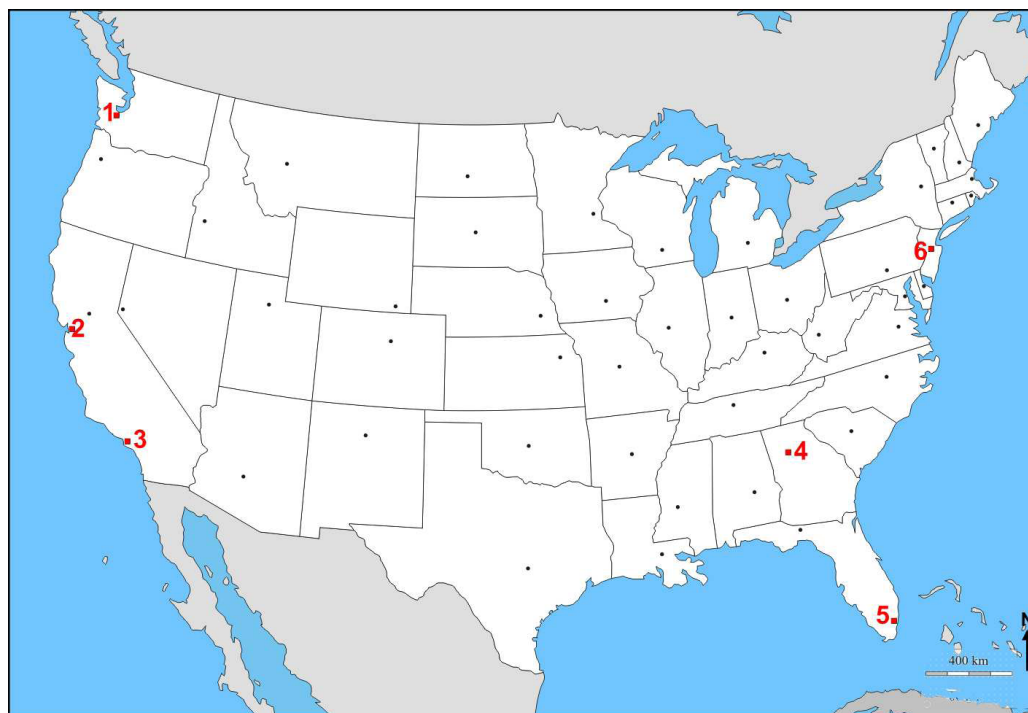
GEO IK-2 D-S026



02

# Geografija

50. Riješite zadatak uz pomoć priložene geografske karte SAD-a.



50.1. Kojim je brojem na priloženoj geografskoj karti označena zračna luka smještena najbliže Nacionalnomu parku *Olimpic*? \_\_\_\_

Navedite ime grada u kojemu se nalazi ta zračna luka. \_\_\_\_\_

50.2. Kojim je brojem na priloženoj geografskoj karti označena zračna luka smještena najbliže Nacionalnomu parku *Yosemite*? \_\_\_\_

Navedite ime grada u kojemu se nalazi ta zračna luka. \_\_\_\_\_

50.3. Kojim je brojem na priloženoj geografskoj karti označena zračna luka smještena najbliže Nacionalnomu parku *Death Valley*? \_\_\_\_

Navedite ime grada u kojemu se nalazi ta zračna luka. \_\_\_\_\_

0 ☐  
2 ☐  
bod

0 ☐  
2 ☐  
bod

0 ☐  
2 ☐  
bod

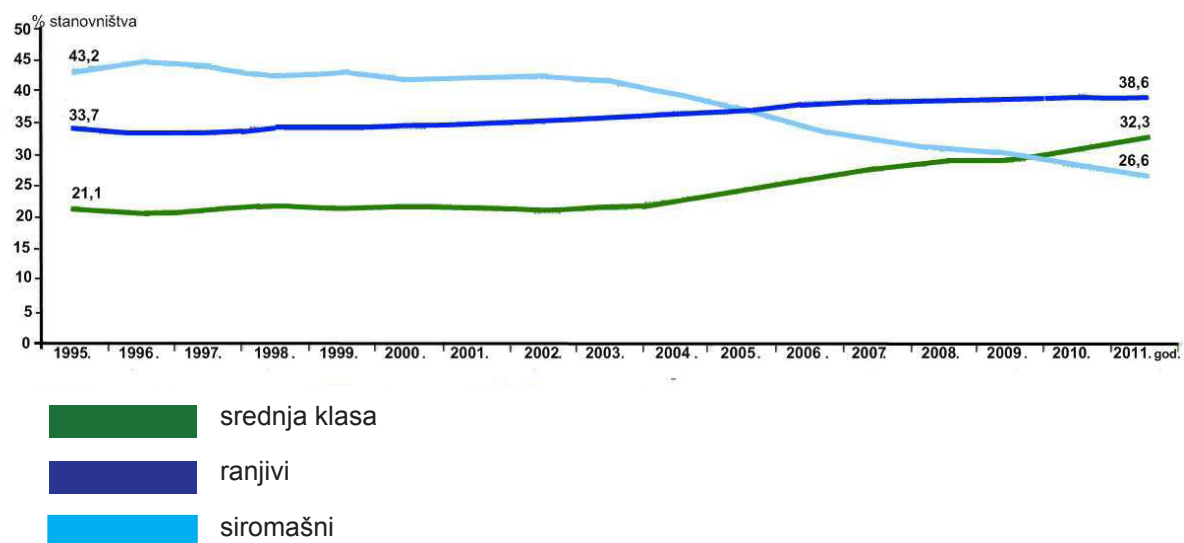
GEO IK-2 D-S026



02

# Geografija

51. Riješite zadatak uz pomoć priloženoga dijagrama.



Koja je socioekonomska skupina stanovništva u Južnoj Americi od 1995. do 2011. godine doživjela najveći porast udjela u ukupnome stanovništvu?

\_\_\_\_\_

0  
2  
bod

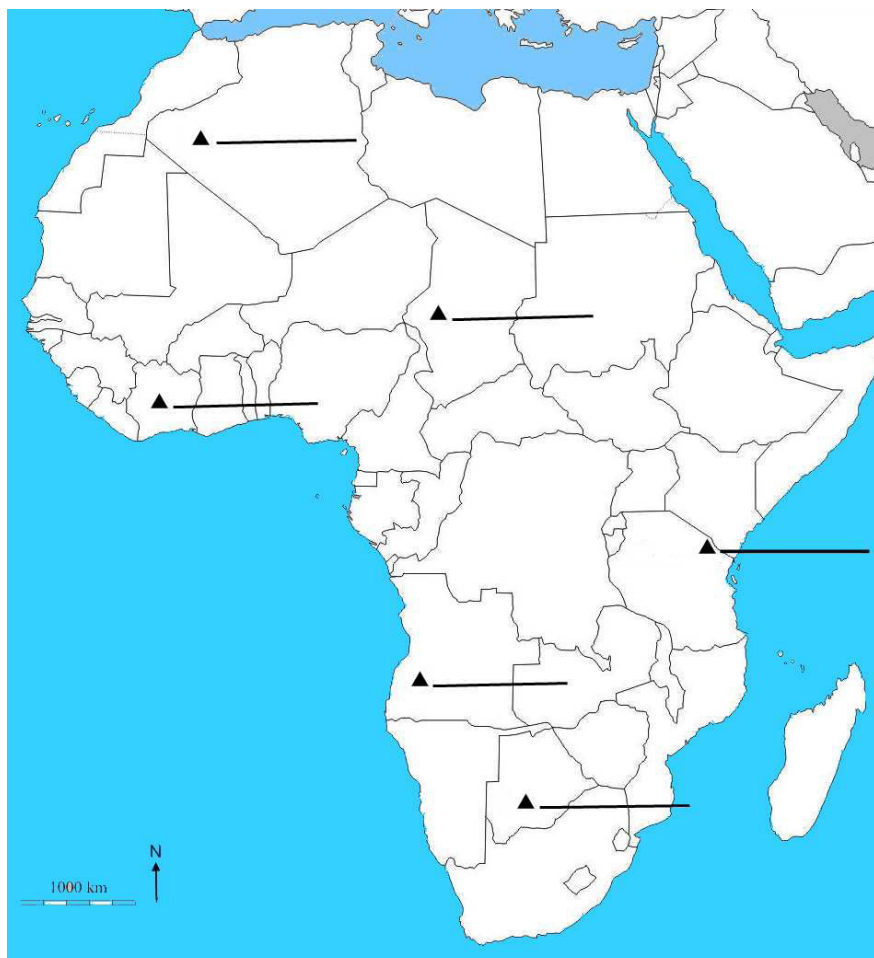
GEO IK-2 D-S026



02

# Geografija

52. Riješite zadatak uz pomoć priložene geografske karte Afrike.



52.1. Na odgovarajuću crtu na priloženoj geografskoj karti pored oznake ▲ upišite ime najvišega vrha Afrike.

52.2. Navedite ime planine na kojoj je najviši vrh Afrike.

\_\_\_\_\_

0	<input type="checkbox"/>
2	<input type="checkbox"/>
bod	

0	<input type="checkbox"/>
2	<input type="checkbox"/>
bod	

GEO IK-2 D-S026

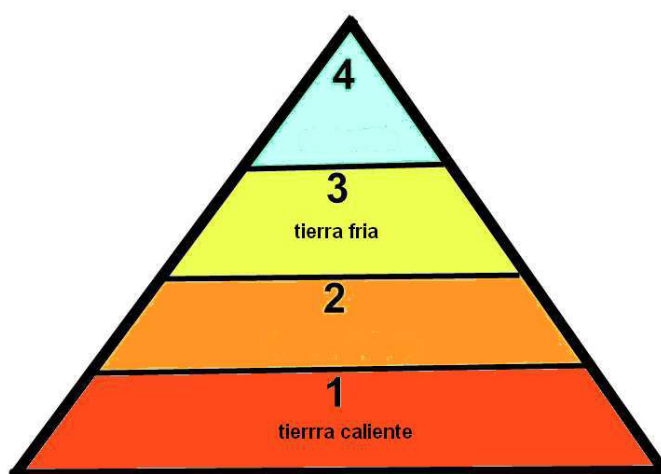


02



# Geografija

**53.** Riješite zadatak uz pomoć priloženoga crteža na kojemu su prikazane klimatsko-vegetacijske zone u Meksiku.



**53.1.** Kako se naziva klimatsko-vegetacijska zona označena brojem 2?

\_\_\_\_\_

**53.2.** Kako se naziva klimatsko-vegetacijska zona označena brojem 4?

\_\_\_\_\_

0 ☐  
2 ☐  
bod

0 ☐  
2 ☐  
bod

GEO IK-2 D-S026



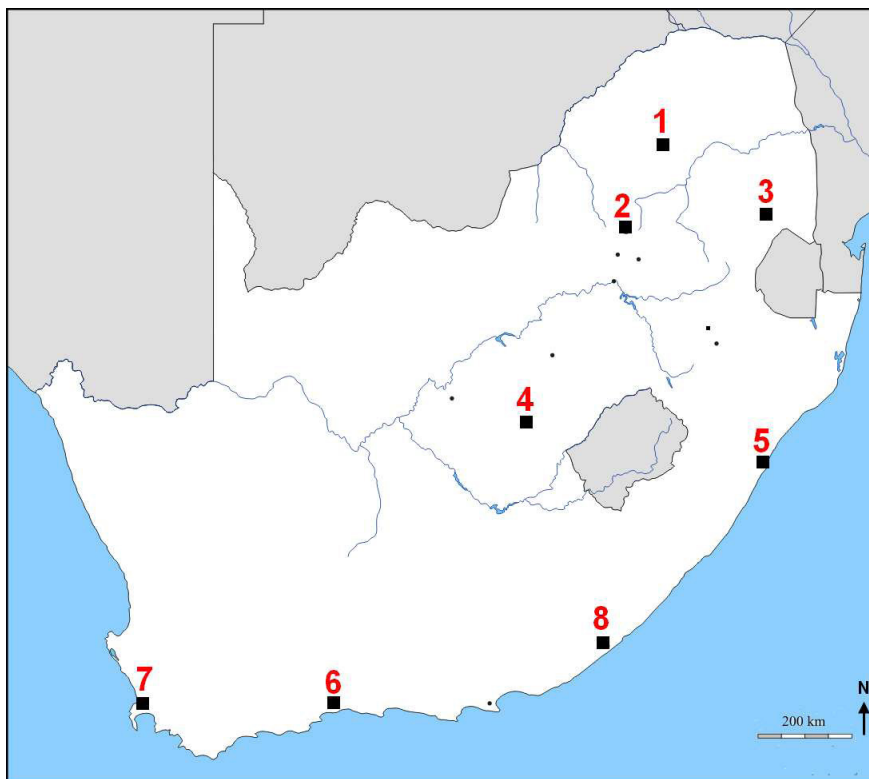
02





# Geografija

54. Riješite zadatak uz pomoć priložene geografske karte Republike Južne Afrike.



Upišite u tablicu imena gradova u kojima se nalazi sjedište pojedine institucije Republike Južne Afrike i brojeve kojima su ti gradovi označeni na priloženoj geografskoj karti.

	Institucija	Ime grada	Broj kojim je grad označen na karti	0 <input type="text"/> <input type="text"/> 2 <input type="text"/> <input type="text"/> bod
54.1.	Sjedište parlamenta			0 <input type="text"/> <input type="text"/> 2 <input type="text"/> <input type="text"/> bod
54.2.	Sjedište vlade			
54.3.	Sjedište Vrhovnoga suda			0 <input type="text"/> <input type="text"/> 2 <input type="text"/> <input type="text"/> bod

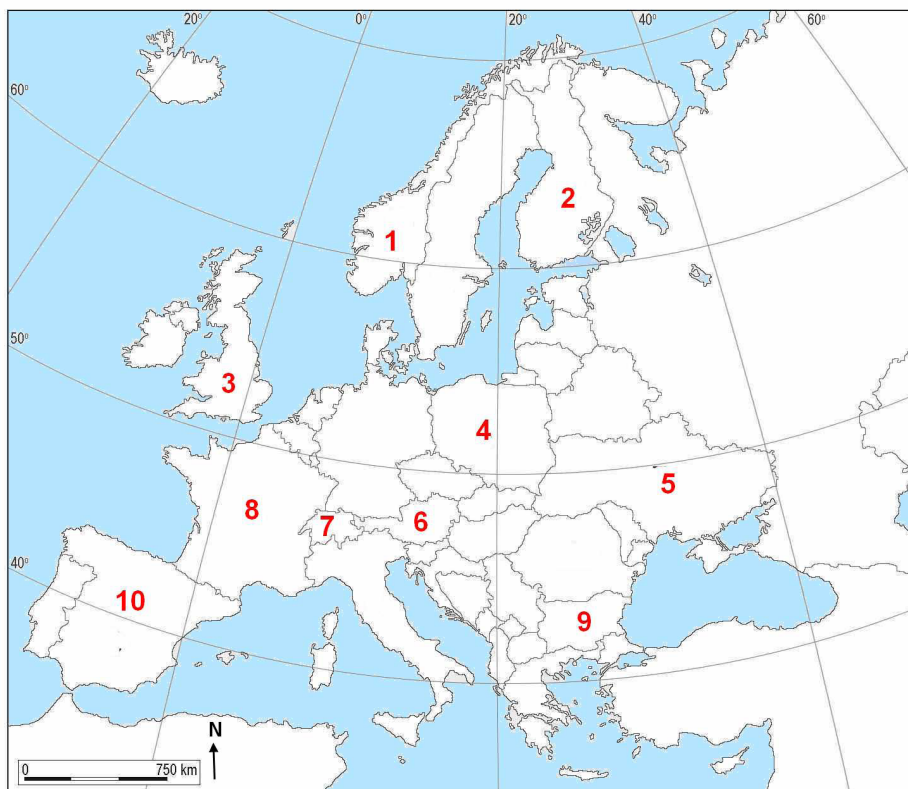
GEO IK-2 D-S026



02

# Geografija

55. Riješite zadatak uz pomoć priložene geografske karte Europe na kojoj su brojevima od 1 do 10 označene države.



Upišite u tablicu puni naziv integracija i brojeve s priložene geografske karte kojima su označene države u kojima se nalazi sjedište odgovarajuće integracije.

	Integracija	Puni naziv integracije na hrvatskome jeziku	Broj na karti
55.1.	OECD		
55.2.	OPEC		
55.3.	WTO		

0   
2   
bod

0   
2   
bod

0   
2   
bod

GEO IK-2 D-S026



02



# Geografija

- 56.** Meteorološka postaja Grič je na 135 m n. v., a Sljeme na 1035 m n. v. Na meteorološkoj postaji Grič izmjerena je u 14 sati temperatura zraka 25 °C. Koliko iznosi temperatura zraka na meteorološkoj postaji Sljeme istoga dana u 14 sati u normalnim uvjetima atmosfere?

Prostor za računanje:

Temperatura zraka na meteorološkoj postaji Sljeme iznosi \_\_\_\_\_.

0   
2   
bod

GEO IK-2 D-S026



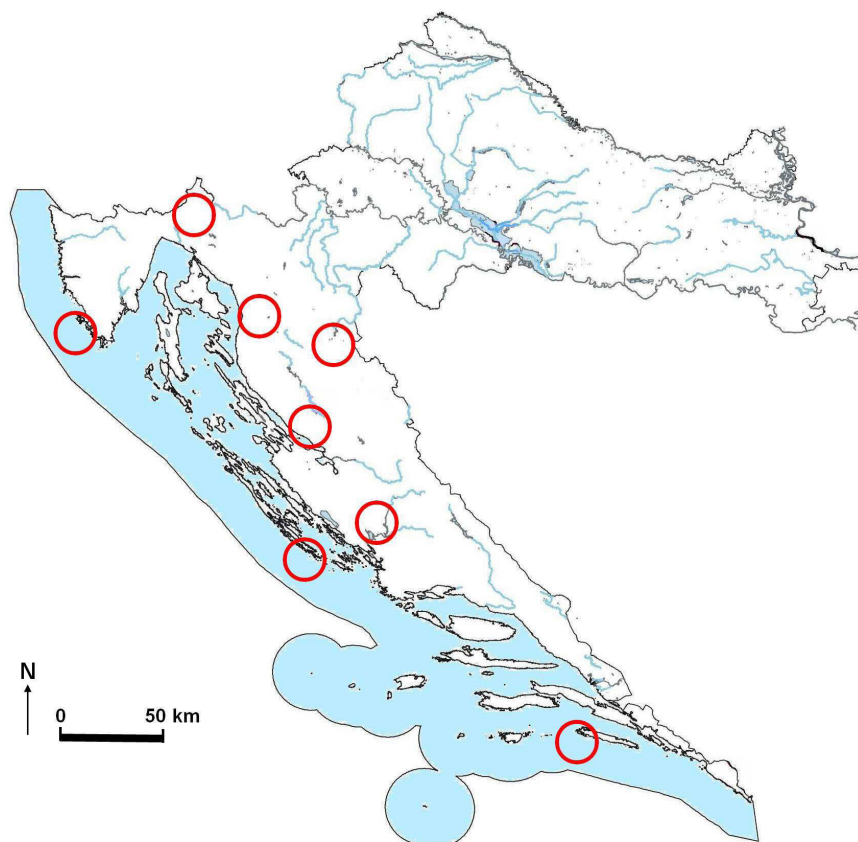
02





# Geografija

**57.** Riješite zadatak uz pomoć priložene geografske karte Republike Hrvatske.



**57.1.** Upišite broj **1** u nacionalni park u kojemu se velikim dijelom nalazi Premužićeva staza.

Navedite ime toga nacionalnog parka. \_\_\_\_\_

**57.2.** Upišite broj **2** u nacionalni park u kojemu je u 19. st. Robert Koch pridonio iskorjenjivanju malarije.

Navedite ime toga nacionalnog parka. \_\_\_\_\_

0	<input type="text"/>
2	<input type="text"/>
bod	

0	<input type="text"/>
2	<input type="text"/>
bod	

GEO IK-2 D-S026



02



# Geografija

58. Riješite zadatak uz pomoć priložene geografske karte Republike Hrvatske.



58.1. Kojim je slovom na priloženoj geografskoj karti označen prometni pravac čiji je sastavni dio autocesta A6? \_\_\_\_\_

58.2. Kojim je slovom na priloženoj geografskoj karti označen prometni pravac koji u suvremenome razdoblju ima najrazvijeniji željeznički promet? \_\_\_\_\_

0   
2   
bod

0   
2   
bod

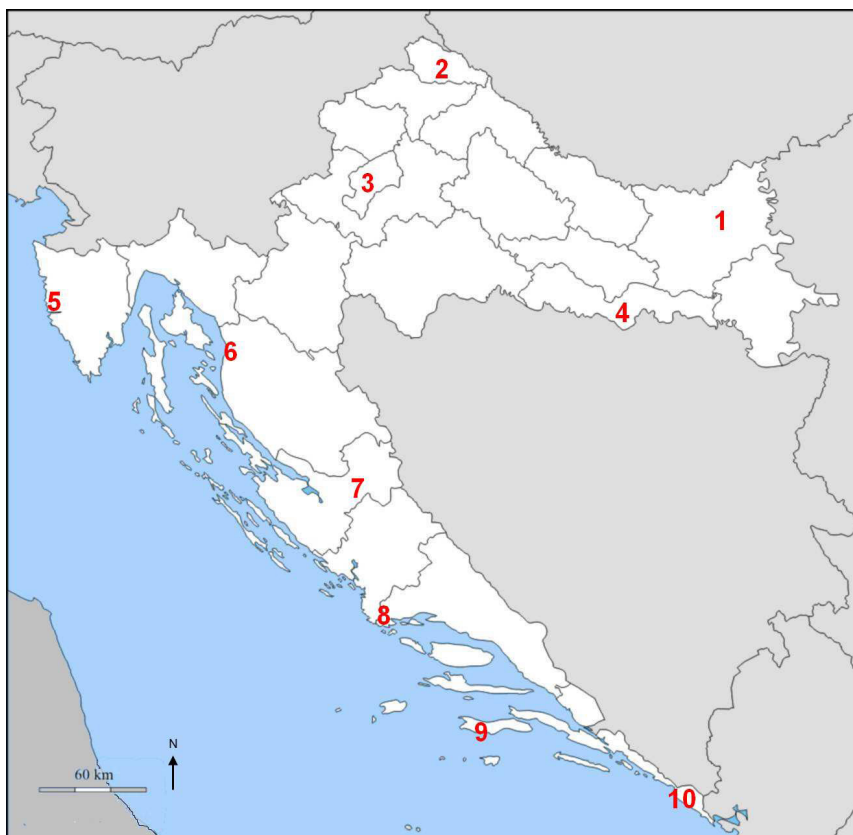
GEO IK-2 D-S026



02

# Geografija

59. Riješite zadatak uz pomoć priložene geografske karte Republike Hrvatske.



Upišite u tablicu imena gradova za koje su karakteristične pojedine kulturno-povijesne znamenitosti i brojeve kojima su označeni ti gradovi na priloženoj geografskoj karti.

	Znamenitost	Ime grada	Broj kojim je grad označen na karti
59.1.	utvrda Nehaj		
59.2.	Eufrazijeva bazilika		
59.3.	moreška		

0   
2   
bod

0   
2   
bod

0   
2   
bod

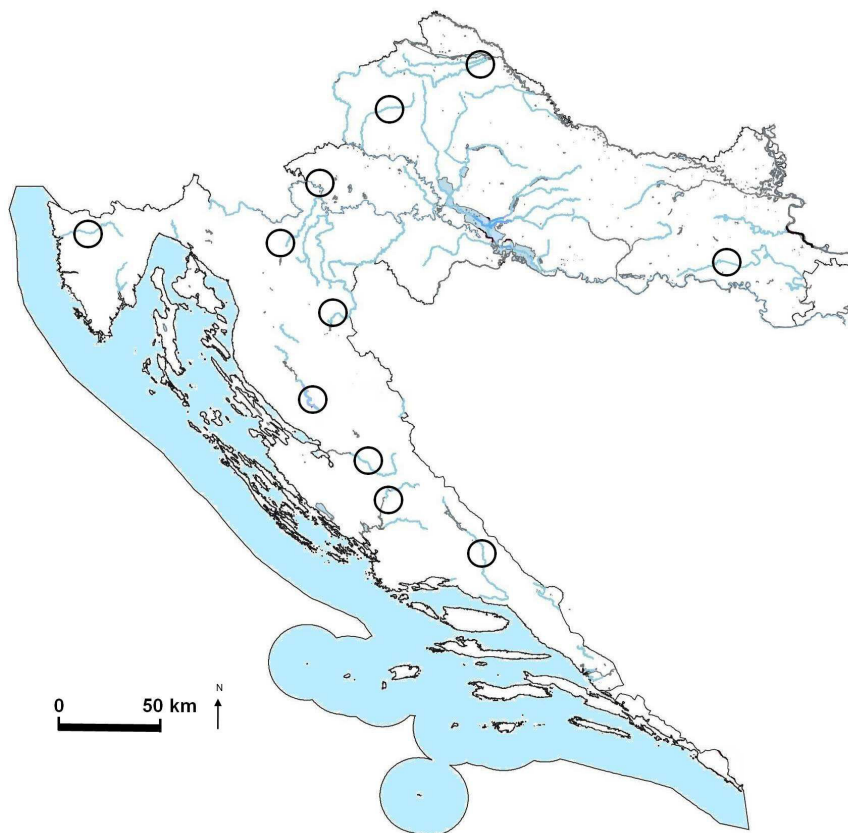
GEO IK-2 D-S026



02

# Geografija

60. Riješite zadatak uz pomoć priložene geografske karte Republike Hrvatske.



60.1. Upišite broj **1** u kružić koji označava rijeku na kojoj se nalazi RHE Velebit.

Navedite ime te rijeke. \_\_\_\_\_

60.2. Upišite broj **2** u kružić koji označava rijeku na kojoj se nalazi HE Miljacka.

Navedite ime te rijeke. \_\_\_\_\_

60.3. Upišite broj **3** u kružić koji označava rijeku na kojoj se nalazi HE Kraljevac.

Navedite ime te rijeke. \_\_\_\_\_

0 ☐

2 ☐

bod

0 ☐

2 ☐

bod

0 ☐

2 ☐

bod

GEO IK-2 D-S026



02



# Geografija

Prazna stranica

GEO IK-2 D-S026



99

