



Nacionalni centar  
za vanjsko vrednovanje  
obrazovanja

Идентификациона  
налепница

ПАЖЉИВО НАЛЕПИТИ

# GEO

## ГЕОГРАФИЈА

Испитна књижица 2

GEO IK-2 D-S026

GEO.26.SR.R.K2.24



21229



12





# Географија

Празна страница

GEO IK-2 D-S026



99





## ОПШТА УПУТСТВА

Пажљиво прочитајте сва упутства и пратите их.

Не окрећите страницу и не решавајте задатке док то не одобри дежурни наставник.

Налепите идентификационе налепнице на све испитне материјале које сте добили у сигурносној врећици.

Испит траје **90** минута без паузе.

Задаци се налазе у двама испитним књижицама. Редослед решавања бирајте сами.

Добро распоредите време како бисте могли решити све задатке.

Испред сваке групе задатака је упутство за њихово решавање.

Пажљиво га прочитајте.

Одговоре упишите **само** на предвиђено место у овој испитној књижици.

Пишите читко. Нечитки одговори бодоваће се са нула (0) бодова. Ако погрешите у писању, грешке ставите у заграде, прецртајте их и ставите скраћени потпис.

Употребљавајте искључиво хемијску оловку којом се пише плавом или црном бојом.

Када решите задатке, проверите одговоре.

Желимо Вам много успеха!

Ова испитна књижица има 24 странице, од тога 2 празне.

Ако сте погрешили у писању одговора, исправите овако:

**задатак отвореног типа**

<del>(Марко Марушић)</del>	Петар Прерадовић	<i>P</i>
↑	↑	↑
Прецртан нетачан одговор у заградама	Тачан одговор	Скраћени потпис

GEO IK-2 D-S026



99





# Географија

## V. Задаци кратког одговора и допуњавања

У следећим задацима одговорите кратким одговором (речју, словом или бројем) или допуните реченицу, карту или таблицу уписивањем садржаја који недостаје.  
Одговоре упишите **само** на предвиђено место у овој испитној књижици.  
Не попуњавајте простор за бодовање.

41. Како се назива ерозијски еолски процес којим је настао рељефни облик на фотографији?

\_\_\_\_\_



0 ☐  
2 ☐  
бод

GEO IK-2 D-S026



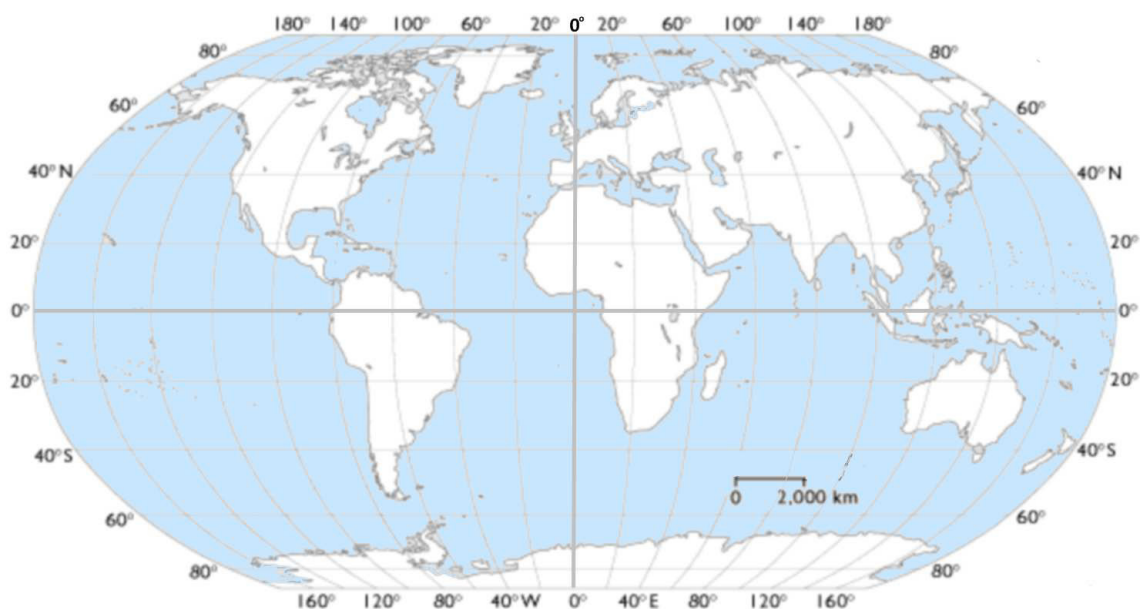
02





# Географија

42. Решите задатак уз помоћ приложене географске карте света.



42.1. Брод плови по екватору. Према ГМТ-у читаном на бродском хронометру је 12 сати, а локално време у тачки у којој се тренутачно налази брод је 10 сати. На којој се географској дужини налази брод?

Простор за рачунање:

Брод се налази на \_\_\_\_\_° \_\_\_\_\_ географске дужине.

42.2. Знаком X означите локацију брода који се налази на 0° г. ш. и 20° з. г. д.

0   
2   
бод

0   
2   
бод

GEO IK-2 D-S026



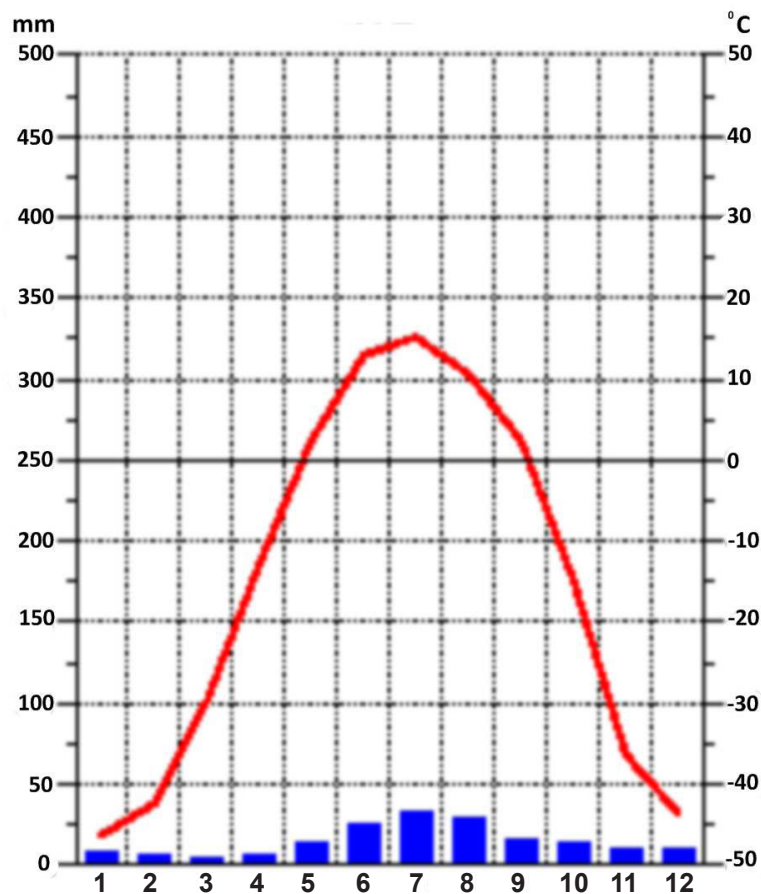
02





# Географија

43. Решите задатак уз помоћ приложеног климатског дијаграма.



43.1. Који је тип годишњег хода температуре ваздуха обзиром на удаљеност од екватора приказан на приложеном климатском дијаграму?

\_\_\_\_\_

43.2. У којем годишњем добу метеоролошка станица, за коју је израђен приложени климатски дијаграм, има највећу количину падавина?

\_\_\_\_\_

0

☐

2

☐

бод

0

☐

2

☐

бод

GEO IK-2 D-S026



02





# Географија

**44.** Израчунајте и одговорите на питања.

**44.1.** Који је средишњи меридијан према којем се одређује појасно време у Републици Хрватској?

Средишњи меридијан је \_\_\_\_\_ ° \_\_\_\_\_ г. д.

**44.2.** Који је средишњи меридијан према којем се одређује појасно време у Јужној Кореји ако је разлика 8 сати у односу на Републику Хрватску?

Простор за рачунање:

Средишњи меридијан је \_\_\_\_\_ ° \_\_\_\_\_ г. д.

**44.3.** Колико је сати у Сеулу ако је у Загребу према појасном времену и зимском рачунању времена подне?

Простор за рачунање:

У Сеулу је \_\_\_\_\_ сати.

0   
2   
бод

0   
2   
бод

0   
2   
бод

GEO IK-2 D-S026



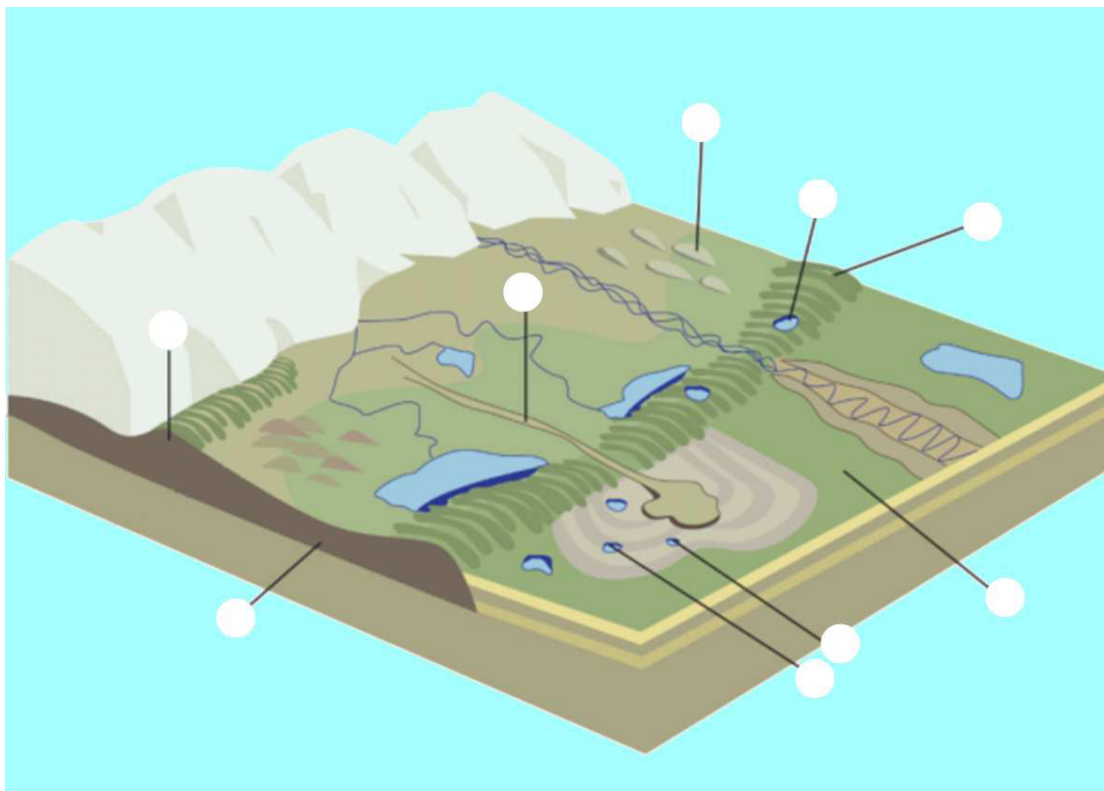
02





# Географија

45. Решите задатак уписивањем слова у одговарајуће кружиће на приложеном цртежу.



45.1. Упишите слово **А** у кружић којим је означен друмлин.

45.2. Упишите слово **Б** у кружић којим је означен ескер.

45.3. Упишите слово **Ц** у кружић којим је означена завршна морена.

0	<input type="checkbox"/>
2	<input type="checkbox"/>
бод	

0	<input type="checkbox"/>
2	<input type="checkbox"/>
бод	

0	<input type="checkbox"/>
2	<input type="checkbox"/>
бод	

GEO IK-2 D-S026



02

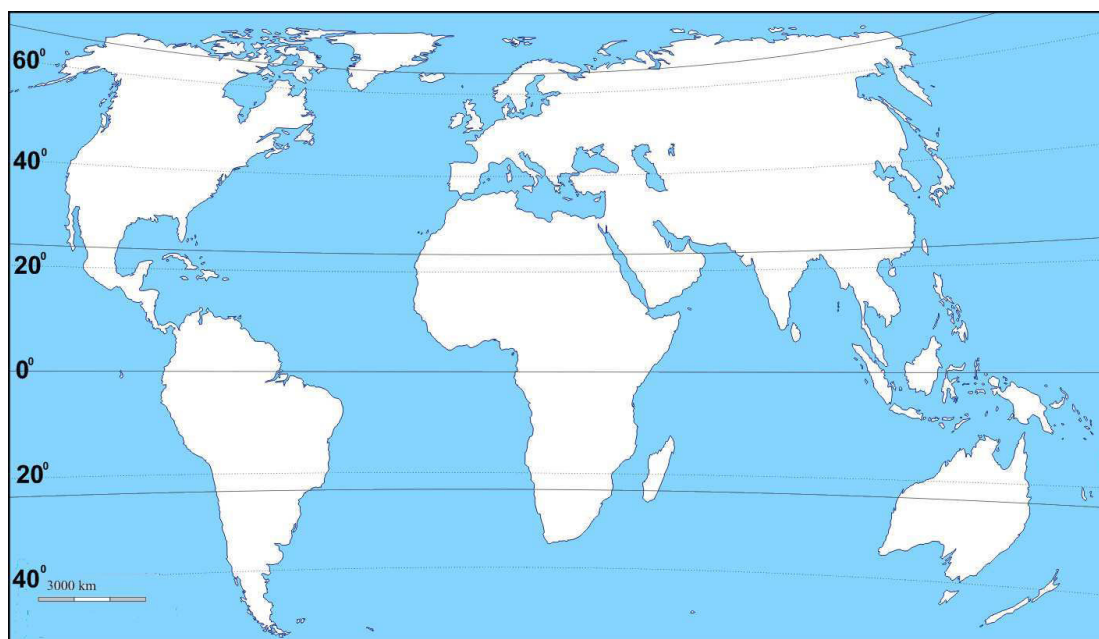






# Географија

46. Решите задатак на приложеној географској карти света. Косим цртама означите топлотни појас у којем живи највећи релативни удео становништва света.



0 ☐  
2 ☐  
бод

GEO IK-2 D-S026



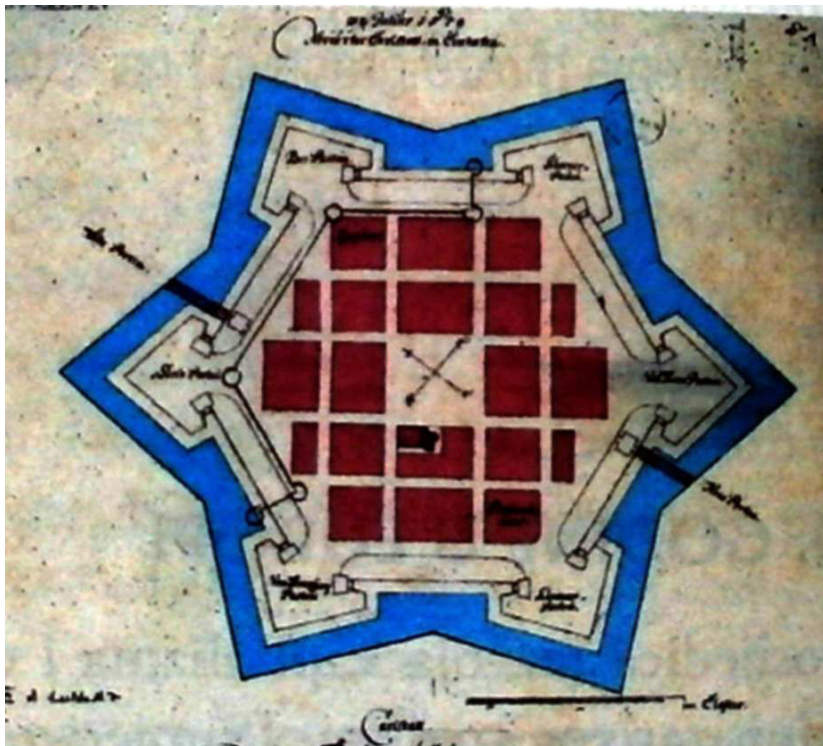
02





# Географија

47. Решите задатак уз помоћ приложене слике.



47.1. У којем је уметничком периоду настао град чији је тлоцрт приказан на слици?

\_\_\_\_\_

47.2. Како се назива правилна мрежа улица приказана на тлоцрту тог града?

\_\_\_\_\_

0 ☐  
2 ☐  
бод

0 ☐  
2 ☐  
бод

GEO IK-2 D-S026



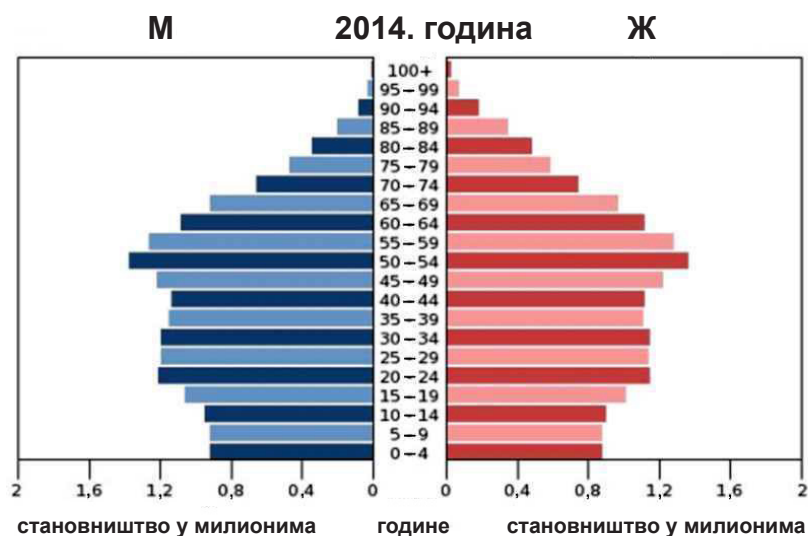
02



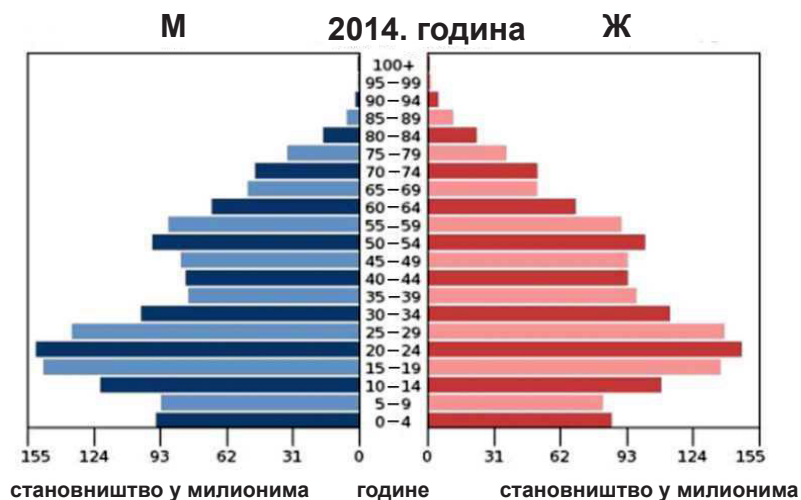


# Географија

48. Решите задатак уз помоћ приложених дијаграма. На црте испод сваког дијаграма упишите име државе којој припада одређени тип старосно-полне структуре становништва. Одаберите између следећих држава: Албанија, Хрватска, Канада, Немачка и Перу.



48.1. \_\_\_\_\_



48.2. \_\_\_\_\_

0  
2  
бод

0  
2  
бод

GEO IK-2 D-S026

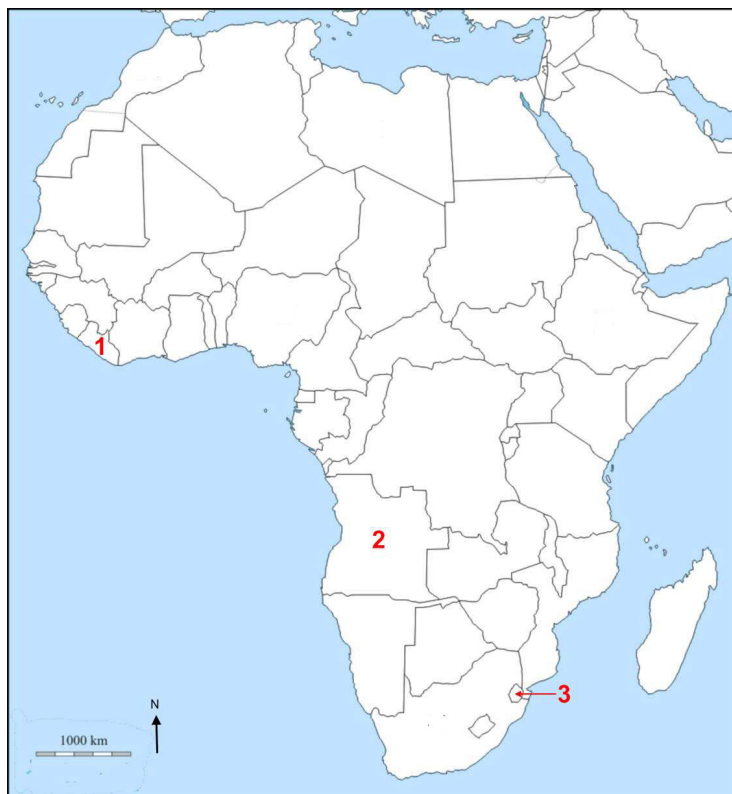


02



# Географија

- 49.** Решите задатак уз помоћ приложене географске карте Африке на којој су бројевима означене одабране државе са најкраћим очекиваним трајањем живота.



- 49.1.** Којим је бројем на приложеној географској карти означена држава у којој је на очекивано трајање живота утицала епидемија еболе? \_\_\_\_

Наведите име те државе. \_\_\_\_\_

- 49.2.** Којим је бројем на приложеној географској карти означена држава у којој је на очекивано трајање живота утицала епидемија HIV-а? \_\_\_\_

Наведите име те државе. \_\_\_\_\_

- 49.3.** Којим је бројем на приложеној географској карти означена држава у којој су на очекивано трајање живота утицали вишедеценијска борба за ослобођење од колонијалне власти и дуготрајни грађански рат? \_\_\_\_

Наведите име те државе. \_\_\_\_\_

0 ☐

2 ☐

бод

0 ☐

2 ☐

бод

0 ☐

2 ☐

бод

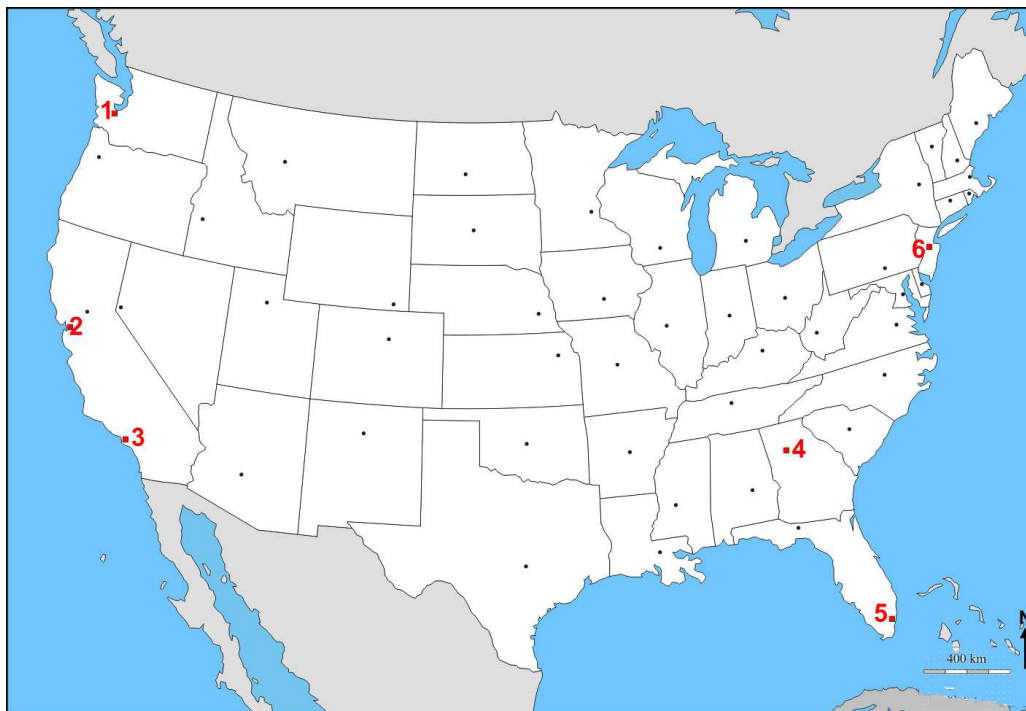
GEO IK-2 D-S026



02

# Географија

50. Решите задатак уз помоћ приложене географске карте САД-а.



50.1. Којим је бројем на приложеној географској карти означен аеродром

смештен најближе Националном парку *Олимпик*? \_\_\_\_

Наведите име града у којем се налази тај аеродром. \_\_\_\_\_

50.2. Којим је бројем на приложеној географској карти означен аеродром

смештен најближе Националном парку *Јосемите*? \_\_\_\_

Наведите име града у којему се налази тај аеродром. \_\_\_\_\_

50.3. Којим је бројем на приложеној географској карти означен аеродром

смештен најближе Националном парку *Дет Валеј*? \_\_\_\_

Наведите име града у којем се налази тај аеродром. \_\_\_\_\_

0   
2   
бод

0   
2   
бод

0   
2   
бод

GEO IK-2 D-S026

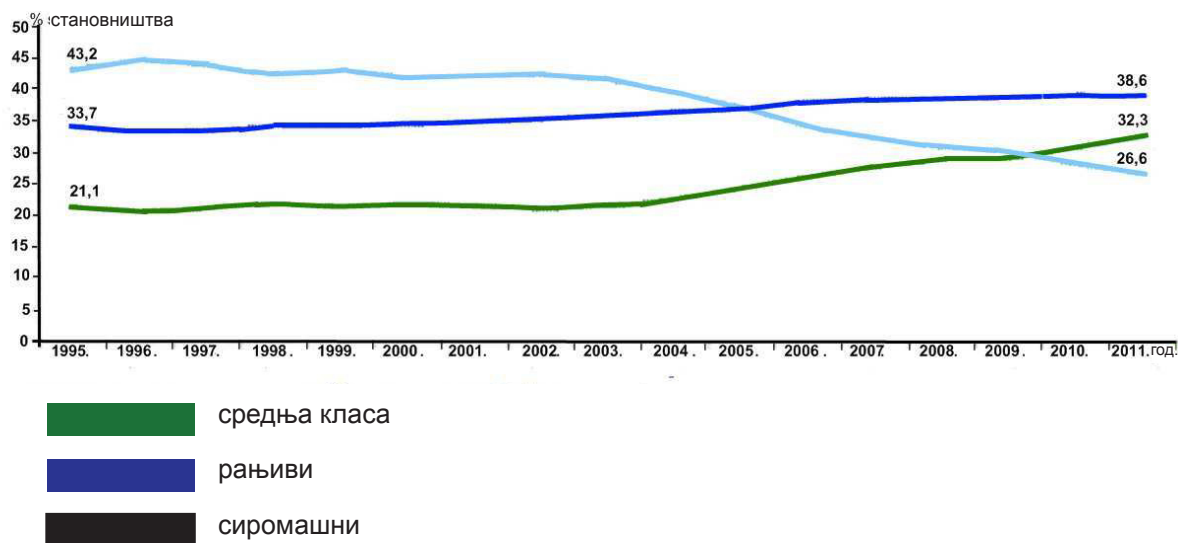


02



# Географија

51. Решите задатак уз помоћ приложеног дијаграма.



Која је социоекономска група становништва у Јужној Америци од 1995. до 2011. године доживела највећи пораст удела у укупном становништву?

\_\_\_\_\_

0 ☐  
2 ☐  
бод

GEO IK-2 D-S026



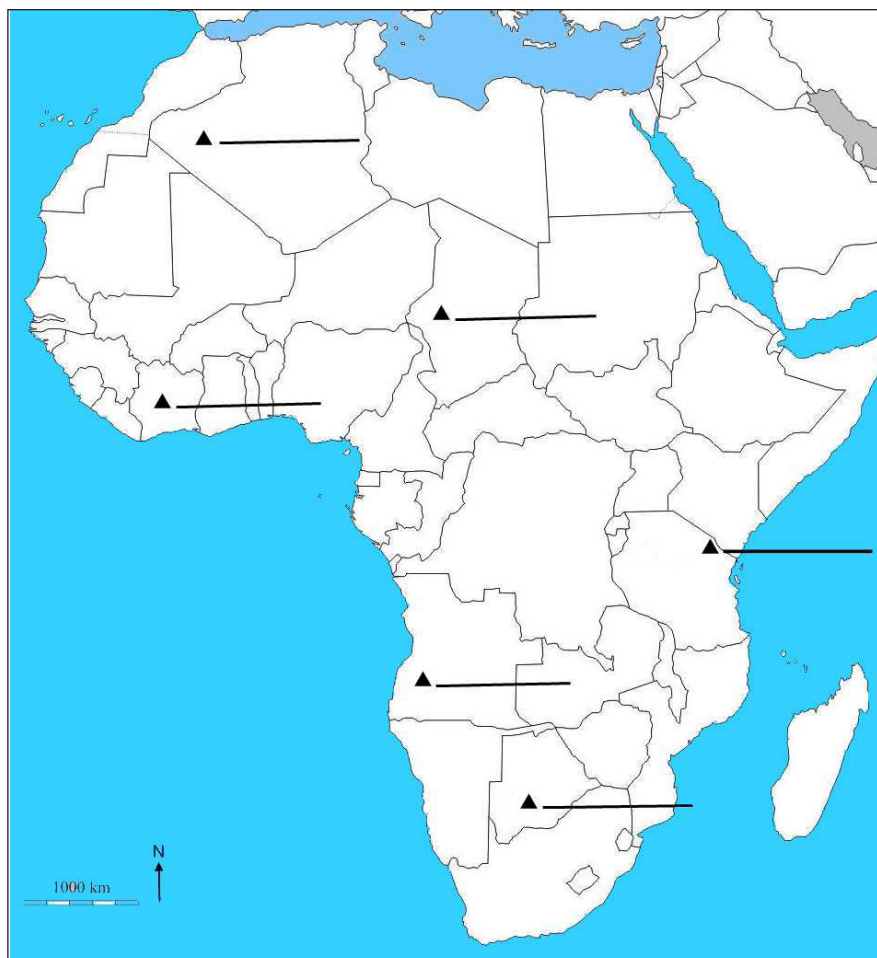
02





# Географија

52. Решите задатак уз помоћ приложене географске карте Африке.



52.1. На одговарајућу црту на приложеној географској карти поред ознаке ▲ упишите име највишег врха Африке.

52.2. Наведите име планине на којој је највиши врх Африке.

\_\_\_\_\_

0

2

бод

0

2

бод

GEO IK-2 D-S026



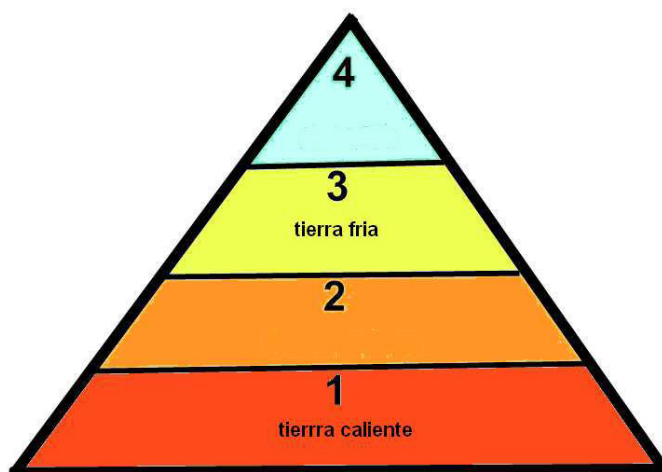
02





# Географија

**53.** Решите задатак уз помоћ приложеног цртежа на којем су приказане климатско-вегетацијске зоне у Мексику.



**53.1.** Како се назива климатско-вегетацијска зона означена бројем 2?

\_\_\_\_\_

**53.2.** Како се назива климатско-вегетацијска зона означена бројем 4?

\_\_\_\_\_

0	<input type="checkbox"/>
2	<input type="checkbox"/>
бод	

0	<input type="checkbox"/>
2	<input type="checkbox"/>
бод	

GEO IK-2 D-S026



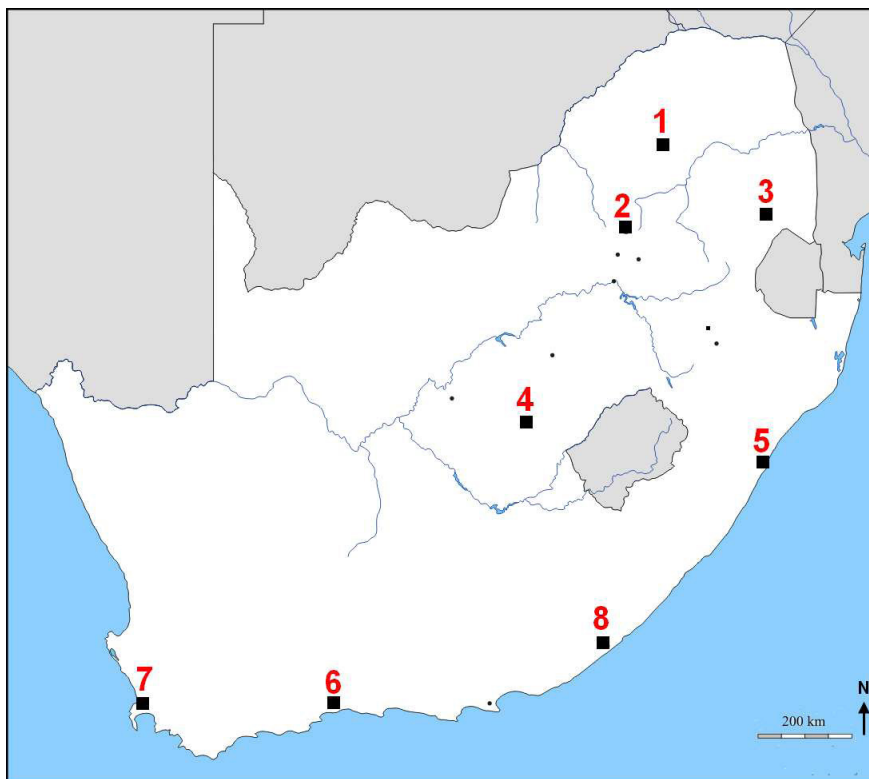
02





# Географија

54. Решите задатак уз помоћ приложене географске карте Републике Јужне Африке.



Упишите у таблицу имена градова у којима се налази седиште поједине институције Републике Јужне Африке и бројеве којима су ти градови означени на приложеној географској карти.

	Институција	Име града	Број којим је град означен на карти
54.1.	Седиште парламента		
54.2.	Седиште владе		
54.3.	Седиште Врховног суда		

0

2

бод

0

2

бод

0

2

бод

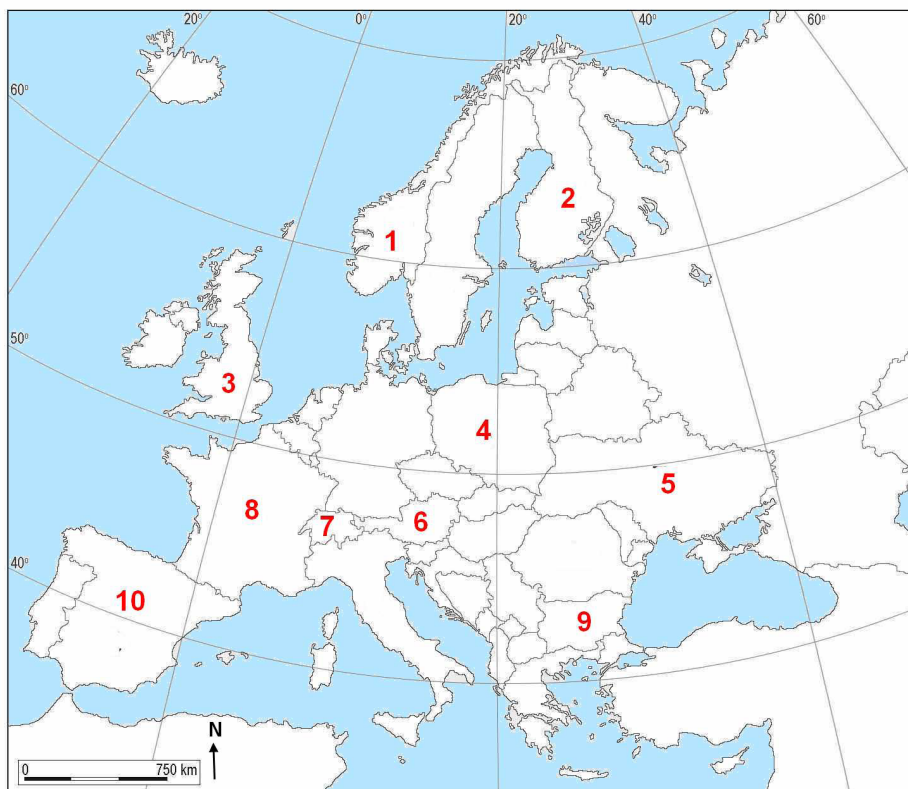
GEO IK-2 D-S026



02

# Географија

55. Решите задатак уз помоћ приложене географске карте Европе на којој су бројевима од 1 до 10 означене државе.



Упишите у таблицу пуни назив интеграција и бројеве са приложене географске карте којима су означене државе у којима се налази седиште одговарајуће интеграције.

	Интеграција	Пуни назив интеграције на хрватском језику	Број на карти	0 <input type="text"/> 2 <input type="text"/> бод
55.1.	OECD			
55.2.	OPEC			0 <input type="text"/> 2 <input type="text"/> бод
55.3.	WTO			0 <input type="text"/> 2 <input type="text"/> бод

GEO IK-2 D-S026



02



# Географија

- 56.** Метеоролошка станица Грич је на 135 м н. в., а Сљеме на 1035 м н. в. На метеоролошкој станици Грич измерена је у 14 сати температура ваздуха 25 °С. Колико износи температура ваздуха на метеоролошкој станици Сљеме истог дана у 14 сати у нормалним условима атмосфере?

Простор за рачунање:

Температура ваздуха на метеоролошкој станици Сљеме износи \_\_\_\_\_.

0   
2   
бод

GEO IK-2 D-S026



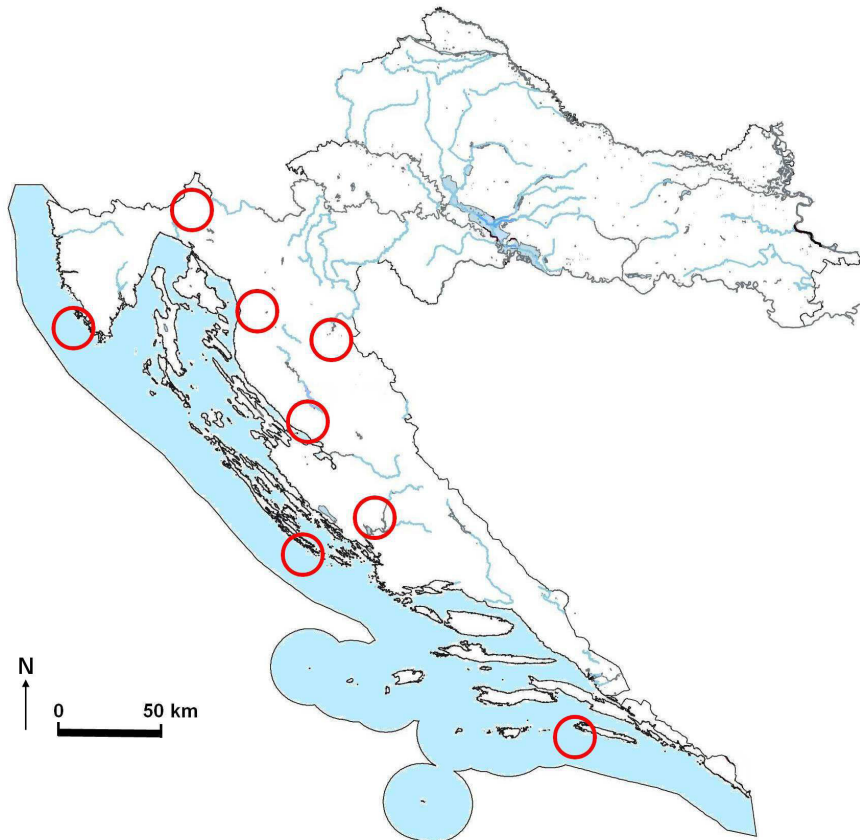
02





# Географија

**57.** Решите задатак уз помоћ приложене географске карте Републике Хрватске.



**57.1.** Упишите број **1** у национални парк у којем се великим делом налази Премужићева стаза.

Наведите име тог националног парка. \_\_\_\_\_

**57.2.** Упишите број **2** у национални парк у којем је у 19. веку Роберт Кох придонео искорењивању маларије.

Наведите име тог националног парка. \_\_\_\_\_

0	<input type="checkbox"/>
2	<input type="checkbox"/>
бод	

0	<input type="checkbox"/>
2	<input type="checkbox"/>
бод	

GEO IK-2 D-S026



02



# Географија

58. Решите задатак уз помоћ приложене географске карте Републике Хрватске.



58.1. Којим је словом на приложеној географској карти означен саобраћајни

правац чији је саставни део аутопут А6? \_\_\_\_\_

58.2. Којим је словом на приложеној географској карти означен саобраћајни

правац који у савременоме периоду има најразвијенији железнички  
саобраћај? \_\_\_\_\_

0   
2   
бод

0   
2   
бод

GEO IK-2 D-S026

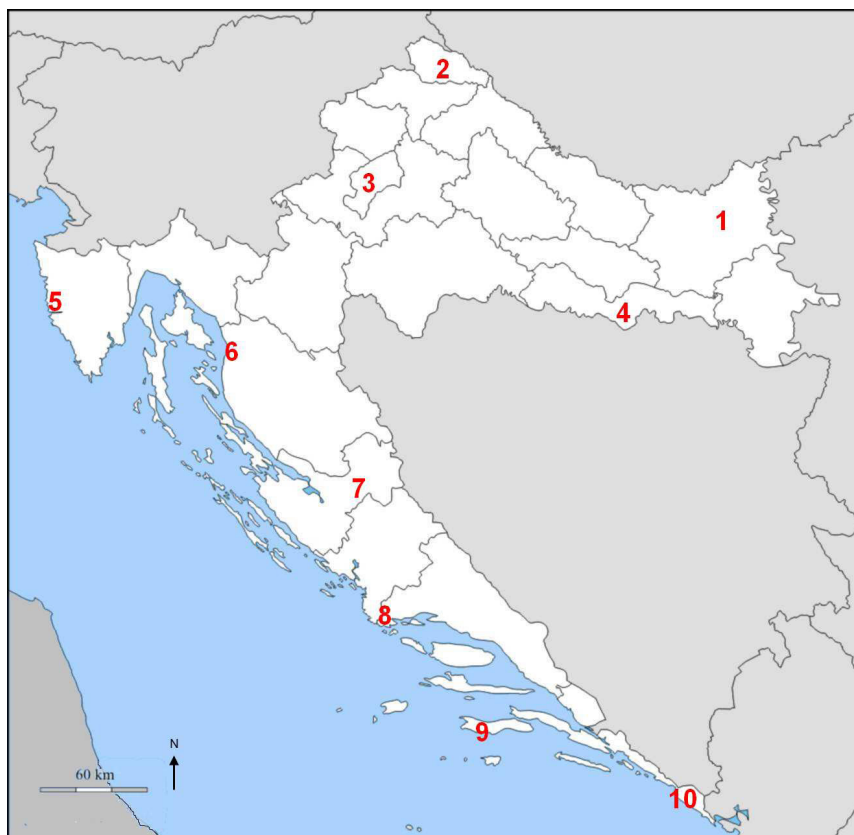


02



# Географија

59. Решите задатак уз помоћ приложене географске карте Републике Хрватске.



Упишите у таблицу имена градова за које су карактеристичне поједине културно-историјске знаменитости.

	Знаменитост	Име града	Број којим је град означен на карти
59.1.	утврда Нехај		
59.2.	Еуфразијева базилика		
59.3.	морешка		

0   
2   
бод

0   
2   
бод

0   
2   
бод

GEO IK-2 D-S026

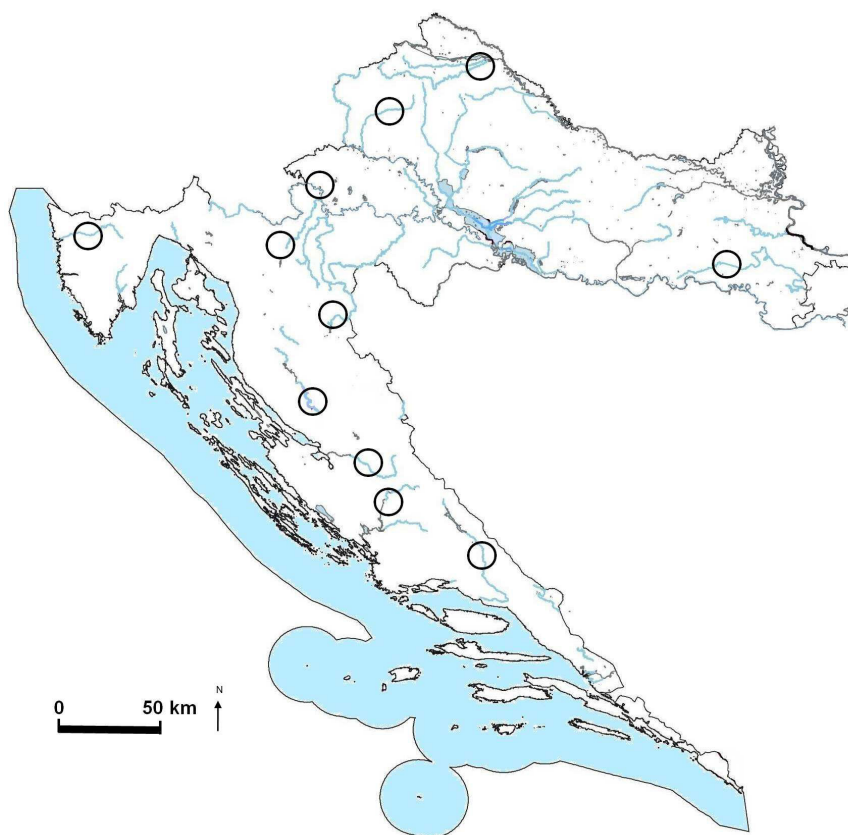


02



# Географија

60. Решите задатак уз помоћ приложене географске карте Републике Хрватске.



60.1. Упишите број **1** у кружић који означава реку на којој се налази

РХЦ Велебит. Наведите име те реке. \_\_\_\_\_

60.2. Упишите број **2** у кружић који означава реку на којој се налази

ХЦ Миљацка. Наведите име те реке. \_\_\_\_\_

60.3. Упишите број **3** у кружић који означава реку на којој се налази

ХЦ Краљевац. Наведите име те реке. \_\_\_\_\_

0 ☐

2 ☐

бод

0 ☐

2 ☐

бод

0 ☐

2 ☐

бод

GEO IK-2 D-S026



02



# Географија

Празна страница

GEO IK-2 D-S026



99

