



Nacionalni centar
za vanjsko vrednovanje
obrazovanja

Identifikacijska
naljepnica

PAŽLJIVO NALIJEPI

POV

POVIJEST

POV D-S027

POV.27.HR.R.K1.40



18535



12



Povijest

Prazna stranica

POV D-S027



99





OPĆE UPUTE

Pozorno pročitajte sve upute i slijedite ih.

Ne okrećite stranicu i ne rješavajte zadatke dok to ne odobri dežurni nastavnik.

Nalijepite identifikacijske naljepnice na sve ispitne materijale koje ste dobili u sigurnosnoj vrećici.

Ispit traje **120** minuta bez stanke.

Ispred svake skupine zadataka je uputa za rješavanje. Pozorno je pročitajte.

Upotrebljavajte isključivo kemijsku olovku kojom se piše plavom ili crnom bojom.

Pišite čitko. Nečitki odgovori bodovat će se s nula (0) bodova.

Ako pogriješite u pisanju, pogreške stavite u zagrade, precrtajte ih i stavite skraćeni potpis.

Kada riješite zadatke, provjerite odgovore.


Želimo Vam mnogo uspjeha!

Ova ispitna knjižica ima 40 stranica, od toga 2 prazne.

Ako ste pogriješili u pisanju odgovora, ispravite ovako:

a) zadatak zatvorenoga tipa

Ispravno



Ispravan pogrešnog unosa



Prepisan točan odgovor

Neispravno



Skraćeni potpis

b) zadatak otvorenoga tipa

~~(Marko Marulić)~~

Precrtan netočan odgovor u zagradama

Petar Preradović

Točan odgovor

I

Skraćeni potpis

POV D-S027



99





Povijest

I. Zadatci višestrukoga izbora

U sljedećim zadatcima od više ponuđenih odgovora samo je **jedan** točan.
Točne odgovore morate označiti znakom X na listu za odgovore.

1. Pozorno pogledajte slikovni prilog.



U kojemu je nalazištu pronađen prikazani predmet?

- A. u Dalju
- B. u Hvaru
- C. u Krapini
- D. u Vučedolu

- A. ☐
- B. ☐
- C. ☐
- D. ☐

2. Kako se naziva grobnica iznad koje je podignut zemljani ili kameni humak?

- A. tumul
- B. gradina
- C. mastaba
- D. labirint

- A. ☐
- B. ☐
- C. ☐
- D. ☐

POV D-S027




01





Povijest

<p>3. Koji je povjesničar nazvan <i>ocem povijesti</i> u Hrvata?</p> <p>A. Franjo Rački B. Ivan Lučić C. pop Dukljanin D. Toma Arhiđakon</p>	<p>A. <input type="checkbox"/></p> <p>B. <input type="checkbox"/></p> <p>C. <input type="checkbox"/></p> <p>D. <input type="checkbox"/></p>
<p>4. Kojoj kasti pripadaju sluge u Indiji?</p> <p>A. šudrama B. vajšijama C. brahmanima D. kšatrijama</p>	<p>A. <input type="checkbox"/></p> <p>B. <input type="checkbox"/></p> <p>C. <input type="checkbox"/></p> <p>D. <input type="checkbox"/></p>
<p>5. Koji od navedenih spomenika ne pripada grčkoj kulturnoj baštini u Hrvatskoj?</p> <p>A. Lumbardska psefizma B. zidine staroga grada Fara C. Augustov hram u Puli D. prikaz boga Kairosa iz Trogira</p>	<p>A. <input type="checkbox"/></p> <p>B. <input type="checkbox"/></p> <p>C. <input type="checkbox"/></p> <p>D. <input type="checkbox"/></p>
<p>6. Nakon koje je bitke zaključen ugovor o vječnome miru i savezu između Egipćana i Hetita?</p> <p>A. kod Gaugamele B. kod Kadeša C. kod Karkemiša D. kod Peluzija</p>	<p>A. <input type="checkbox"/></p> <p>B. <input type="checkbox"/></p> <p>C. <input type="checkbox"/></p> <p>D. <input type="checkbox"/></p>
<p>7. U kojemu su se gradu održavale Pitijske igre?</p> <p>A. u Ateni B. u Delfima C. u Korintu D. u Olimpiji</p>	<p>A. <input type="checkbox"/></p> <p>B. <input type="checkbox"/></p> <p>C. <input type="checkbox"/></p> <p>D. <input type="checkbox"/></p>
<p>POV D-S027</p> <div> 01</div>	



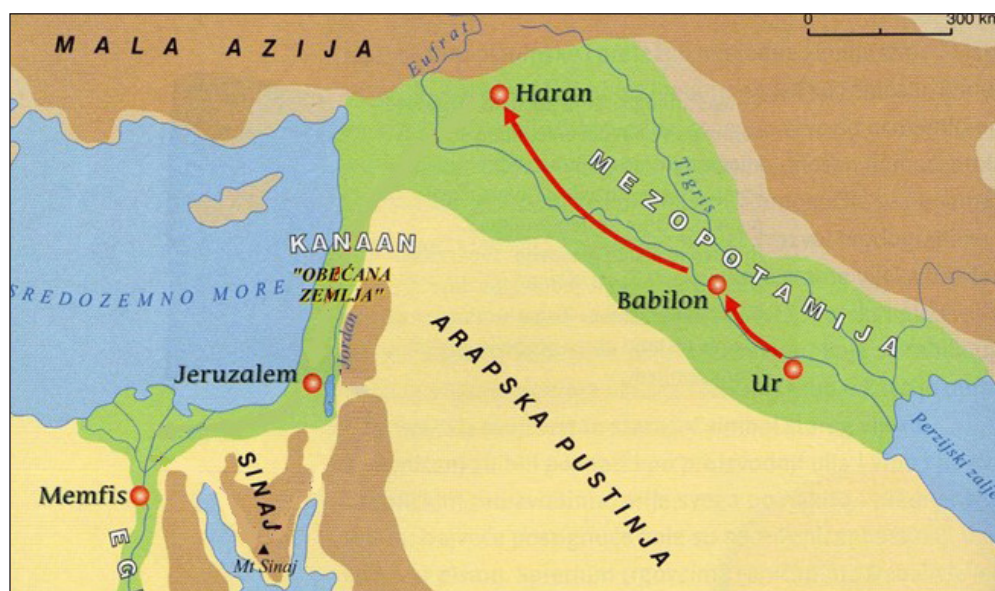
Povijest

8. Koji je grad dao podići Oktavijan na mjestu srušene Segestice?

- A. Andautoniju
- B. Cibalae
- C. Mursu
- D. Sisciju

- A. ☐
- B. ☐
- C. ☐
- D. ☐

9. Pozorno pogledajte povijesni zemljovid.



Tko je predvodio Izraelce putem prikazanim na povijesnome zemljovidu?

- A. Abraham
- B. Mojsije
- C. Salomon
- D. Saul

- A. ☐
- B. ☐
- C. ☐
- D. ☐

10. Tko je prema predaji bio osnivač naselja od kojega je nastao Rim?

- A. Eneja
- B. Heraklo
- C. Odisej
- D. Tezej

- A. ☐
- B. ☐
- C. ☐
- D. ☐


POV D-S027



01



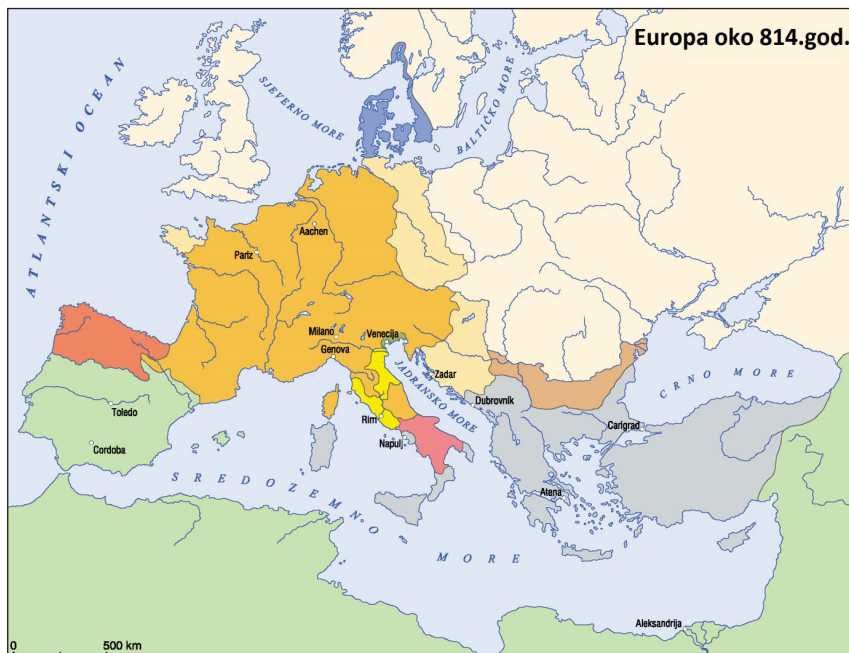
Povijest

<p>11. Koji je vladar bio utemeljitelj Franačke na prijelazu iz 5. u 6. stoljeće?</p> <p>A. Karlo Veliki B. Klodvig C. Ludovik I. Pobožni D. Merovej</p>	<p>A. <input type="checkbox"/> B. <input type="checkbox"/> C. <input type="checkbox"/> D. <input type="checkbox"/></p>
<p>12. Koja je dinastija prva uspjela ujediniti srednjovjekovno Kinesko Carstvo?</p> <p>A. Juan B. Ming C. Sung D. Tang</p>	<p>A. <input type="checkbox"/> B. <input type="checkbox"/> C. <input type="checkbox"/> D. <input type="checkbox"/></p>
<p>13. Kojemu su redu pripadali franački misionari koji su pokrštavali hrvatski narod nakon doseljenja?</p> <p>A. benediktincima B. franjevcima C. dominikancima D. isusovcima</p>	<p>A. <input type="checkbox"/> B. <input type="checkbox"/> C. <input type="checkbox"/> D. <input type="checkbox"/></p>
<p>14. Koju je titulu u razdoblju vladavine Arpadovića i Anžuvina dobivala osoba, obično član kraljevske kuće, koja je u ime kralja vladala u Hrvatskoj?</p> <p>A. župan B. herceg C. biskup D. mlađi kralj</p>	<p>A. <input type="checkbox"/> B. <input type="checkbox"/> C. <input type="checkbox"/> D. <input type="checkbox"/></p>
<p>15. Čiju je vrhovnu vlast priznao Dubrovnik nakon Mira u Zadru 1358. godine?</p> <p>A. mletačkoga dužda B. ugarsko-hrvatskoga kralja C. turskoga sultana D. srpskoga cara</p>	<p>A. <input type="checkbox"/> B. <input type="checkbox"/> C. <input type="checkbox"/> D. <input type="checkbox"/></p>
<p>POV D-S027</p> <div> 01</div>	



Povijest

16. Pozorno promotrite povijesni zemljovid.



Kako se nazivala država koja je na povijesnome zemljovidu označena žutom bojom?

- A. Bizantsko Carstvo
- B. Franačko Carstvo
- C. Papinska Država
- D. Vizigotsko Kraljevstvo

- A. ☐
- B. ☐
- C. ☐
- D. ☐

17. Kako se naziva svjetonazor koji se pojavljuje u bogatim apeninskim gradovima početkom 14. stoljeća, a u središte interesa stavlja čovjeka?

- A. racionalizam
- B. helenizam
- C. humanizam
- D. renesansa

- A. ☐
- B. ☐
- C. ☐
- D. ☐

18. Kojom je inkvizicijom upravljao Tomaso Torquemada?

- A. papinskom
- B. rimskom
- C. španjolskom
- D. biskupskom

- A. ☐
- B. ☐
- C. ☐
- D. ☐


POV D-S027



01



Povijest

<p>19. Koji je hrvatski crkveni veledostojnik osuđen zbog krivovjerja?</p> <p>A. Matija Vlačić Ilirik B. Markantun de Dominis C. Pavao Dalmatinac D. Toma Niger</p>	<p>A. <input type="checkbox"/></p> <p>B. <input type="checkbox"/></p> <p>C. <input type="checkbox"/></p> <p>D. <input type="checkbox"/></p>
<p>20. Kako se nazivaju srednjovjekovni nadgrobni spomenici na kojima su prikazani prizori iz svakodnevnoga života i vjerovanja?</p> <p>A. stele B. stećci C. cipusi D. epitafi</p>	<p>A. <input type="checkbox"/></p> <p>B. <input type="checkbox"/></p> <p>C. <input type="checkbox"/></p> <p>D. <input type="checkbox"/></p>
<p>21. Koji od navedenih samostana ne pripada franjevačkoj provinciji Bosne Srebrne?</p> <p>A. Fojnica B. Košljun C. Kraljeva Sutjeska D. Kreševo</p>	<p>A. <input type="checkbox"/></p> <p>B. <input type="checkbox"/></p> <p>C. <input type="checkbox"/></p> <p>D. <input type="checkbox"/></p>
<p>22. Uz koji se od navedenih diplomatskih susreta vezuje pojam restauracije?</p> <p>A. uz Bečki kongres B. uz Mir u Schönbrunn C. uz Berlinski kongres D. uz Mir u San Stefanu</p>	<p>A. <input type="checkbox"/></p> <p>B. <input type="checkbox"/></p> <p>C. <input type="checkbox"/></p> <p>D. <input type="checkbox"/></p>
<p>POV D-S027</p>	
<p> 01</p>	



Povijest

23. Pozorno pogledajte povijesni zemljovid.



Koja je velikaška obitelj imala posjede obilježene crvenim krugovima na povijesnome zemljovidu?

- A. Babonići
- B. Blagajski
- C. Celjski
- D. Zrinski

- A. ☐
- B. ☐
- C. ☐
- D. ☐

24. Koja od navedenih država **nije** nikada imala kolonijalne posjede?

- A. Belgija
- B. Habsburška Monarhija
- C. Italija
- D. Njemačka

- A. ☐
- B. ☐
- C. ☐
- D. ☐

POV D-S027



01



Povijest

25. Pozorno pogledajte slikovni prilog.



Kojemu razdoblju francuske povijesti pripada prikazana građevina?

- A. restauracije
- B. prosvjetiteljstva
- C. imperijalizma
- D. prve industrijske revolucije

- A. ☐
- B. ☐
- C. ☐
- D. ☐

POV D-S027



01





Povijest

26. Pozorno pogledajte slikovni prilog.



Koje razdoblje nedostaje na mjestu upitnika?

- A. dopreporodno doba
- B. razdoblje standardizacije hrvatskoga književnoga jezika
- C. razdoblje francuske uprave Ilirskim pokrajinama
- D. razdoblje hrvatskoga narodnoga preporoda

- A. ☐
- B. ☐
- C. ☐
- D. ☐

27. Kojim su dokumentom poništene slobode stečene tijekom revolucije 1848./1849. u Habsburškoj Monarhiji?

- A. riječkom krpicom
- B. Veljačkim patentom
- C. Hrvatsko-ugarskom nagodbom
- D. oktroiranim ustavom

- A. ☐
- B. ☐
- C. ☐
- D. ☐

POV D-S027



01





Povijest

28. Pozorno pročitajte povijesni izvor.

Ni pod Beč, ni pod Peštu, nego za slobodnu, samostalnu Hrvatsku.

Program koje je hrvatske političke stranke iz druge polovine 19. stoljeća izražen u povijesnome izvoru?

- A. Ilirske narodne partaje
- B. Čiste stranke prava
- C. Neodvisne narodne stranke
- D. Stranke prava

- A. ☐
- B. ☐
- C. ☐
- D. ☐

29. Pozorno pročitajte povijesni izvor.

Komunizam rekao bi čovik, da je kao plašilo i bauk za dicu. Dok je strašilo u kutu te ga ne vide, dotle je i straha, a kako se luč prinese već ni straha neima. Kad sam god o komunizmu gđi govorio, nije moglo, da bude bez šale. Teorija mu je ditinska niti se vidi kuda će, ni šta će. [...] Kad bi se htilo pristati uz teoriju komunizma, to bi trebalo društvo čovičansko razredjeno u rodbine i puno svakih strasti urediti, tako kako su uredjeni manastiri ili samostani, gđi je sve obćinsko, a ništa vlastito, te gđi nije mista za strasti niti za rodbinu. Ta to je smišno.

O kojemu se programskome dokumentu iz sredine 19. stoljeća govori u povijesnome izvoru?

- A. o Kapitalu
- B. o Manifestu komunističke partije
- C. o Deklaraciji o pravima čovjeka i građanina
- D. o Deklaraciji nezavisnosti

- A. ☐
- B. ☐
- C. ☐
- D. ☐

30. Kako se nazivalo društvo koje se na prostoru Istre tijekom prijelaza iz 19. u 20. stoljeće borilo za uzdizanje školstva na hrvatskome jeziku?

- A. Družba svetoga Ćirila i Metoda
- B. Družba „Braća Hrvatskoga Zmaja”
- C. Društvo svetoga Jeronima
- D. Društvo svetoga Vlaha

- A. ☐
- B. ☐
- C. ☐
- D. ☐

POV D-S027



01





Povijest

31. Pozorno pročitajte povijesni izvor.

...Tiho u kućici pjevali, pripovijedali o vojnom životu, a sve to sa bezobraznošću, a neprijatelj pred nama na 50-100 (metara) – Nekako bijahu mirni, nečuje se puškanje, tek njihovi dovici: „Brate idemo po vode, nemoj pucati” I jedan je išao s njihove, a jedan s naše strane po vodu na Drinu sa čuturom! Nijesu pucali, a nudiše si cigarete, lijepo razgovarajući...

O kojemu se bojištu iz Prvoga svjetskog rata govori u povijesnome izvoru?

- A. o balkanskome
- B. o istočnome
- C. o solunskome
- D. o zapadnome

- A. ☐
- B. ☐
- C. ☐
- D. ☐

32. Pozorno pročitajte povijesni izvor.

...Nakon osam sudbonosnih mjeseci odlazim iz Pariza s neugodnim osjećajem. Razmišljam o konferenciji – mnoge stvari treba pohvaliti, a mnoge pokuditi. Lako je reći što je trebalo učiniti, ali teže je naći pravi put... Gotovo pristajem uz one koji kažu da je ugovor loš i da nipošto nije smio biti sklopljen, da će njegovom provedbom Europa zapasti u beskrajne poteškoće...

Gdje se održala mirovna konferencija na koju se odnosi povijesni izvor?

- A. u Beču
- B. u Berlinu
- C. u Louvreu
- D. u Versaillesu

- A. ☐
- B. ☐
- C. ☐
- D. ☐

POV D-S027




01



Povijest

33. Pozorno pogledajte slikovni prilog.



Do kojega je datuma sastav Hitlerova zbora *Usklađeni dečki* ostao nepromijenjen?

- A. do 1. rujna 1939.
- B. do 10. travnja 1941.
- C. do 22. lipnja 1941.
- D. do 2. rujna 1945.

- A. ☐
- B. ☐
- C. ☐
- D. ☐

POV D-S027



01

Povijest

34. Pozorno pročitatajte povijesni izvor.

Hrvatski zastupnici drže, da su današnje javne prilike u Ugarskoj nastale usljed borbe, koja ide za time, da kraljevina Ugarska dodje postepeno do podpune državne samostalnosti. Hrvatski zastupnici uvjereni su, da su oba naroda, hrvatski i ugarski, ne samo s obzira na svoje historijske odnošaje, već još više sa obzira na činjenicu neposrednoga susjedstva i na realne potrebe svoga života i međusobne samoobrane upućeni jedan na drugoga, te da se stoga ima izbjegavati svaki povod međusobnom trvenju. Polazeći od tih pretpostavaka, hrvatski zastupnici smatraju, da je njihova dužnost boriti se usporedo sa ugarskim narodom za ispunjenje svih državnih prava i slobodština, u uvjerenju, da će rečena prava i slobodštine biti od koristi hrvatskom i ugarskom narodu, a time da će se udariti temelji trajnomu sporazumljenju obaju naroda.

Komu hrvatski zastupnici nude suradnju opisanu u povijesnome izvoru?

- A. Česima
- B. Ugrima
- C. Srbima
- D. Talijanima

- A. ☐
- B. ☐
- C. ☐
- D. ☐

35. Pozorno pogledajte slikovni prilog.

Granice kojega su grada iz razdoblja između dvaju svjetskih ratova prikazane na slikovnome prilogu?



- A. Dubrovnika
- B. Rijeke
- C. Splita
- D. Zadra

- A. ☐
- B. ☐
- C. ☐
- D. ☐

POV D-S027



01



Povijest

36. Pozorno pogledajte slikovni prilog.



Kojoj su stranci pripadali *mučenici* iz naslova novinskoga članka?

- A. Hrvatskoj republikanskoj seljačkoj stranci
- B. Hrvatskoj pučkoj seljačkoj stranci
- C. Hrvatskoj federalističkoj seljačkoj stranci
- D. Hrvatskoj seljačkoj stranci

- A. ☐
- B. ☐
- C. ☐
- D. ☐

POV D-S027

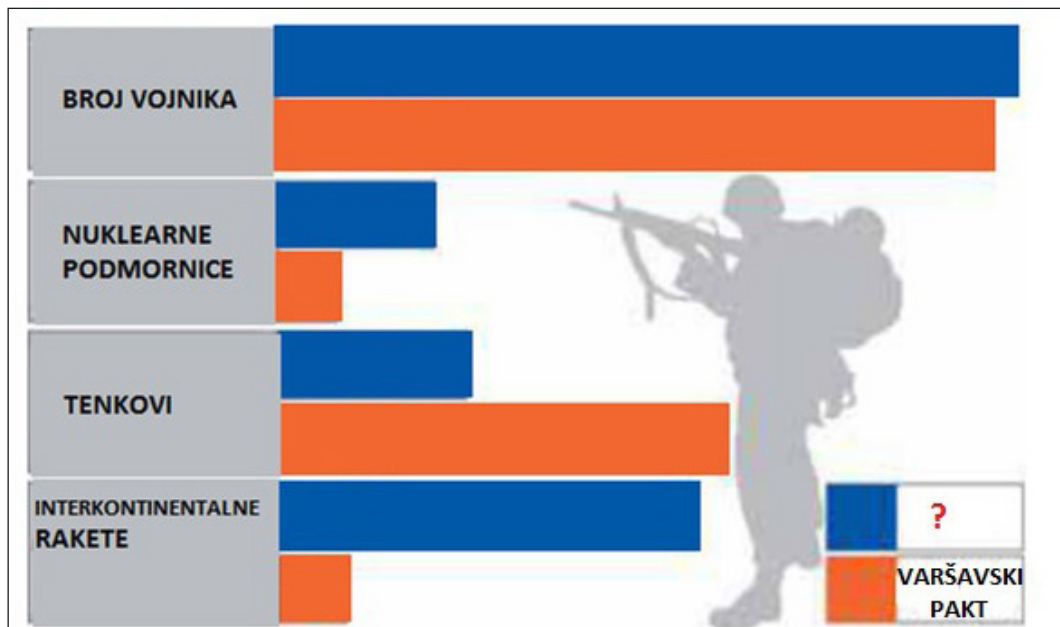


01



Povijest

37. Pozorno pogledajte slikovni prilog.



S kojim se savezom uspoređuju prikazani resursi Varšavskoga pakta?

- A. s Antantom
- B. s Antifašističkom koalicijom
- C. s Antikominternim paktom
- D. s NATO savezom

- A. ☐
- B. ☐
- C. ☐
- D. ☐

38. Pozorno pročitajte povijesni izvor.

Kako vidite lajbek je raskopčan. Vidovdanski ustav, koji je preko 7 godina tištio hrvatski narod, srušen je. Srušen je ne samo u svijesti naroda nego i faktično rješenjem Nj. Vel. kralja. Posve sam siguran u slogu i zrelost, a prema tome i jakost hrvatskog naroda te s obzirom na veliku mudrost Nj. Vel. kralja, da će nam uspjeti da ostvarimo ideal hrvatskog naroda: da Hrvat bude gospodar u svome domu, u svojoj slobodnoj Hrvatskoj.

Tko je riječima iz povijesnoga izvora opisao stanje nakon uvođenja diktature u Kraljevini Srba, Hrvata i Slovenaca?

- A. Aleksandar Karađorđević
- B. Svetozar Pribićević
- C. Stjepan Radić
- D. Vladko Maček

- A. ☐
- B. ☐
- C. ☐
- D. ☐

POV D-S027



01



Povijest

39. Koja od navedenih država **nije** nastala kao posljedica hladnoga rata?


- A. Izrael
- B. Sjeverni Vijetnam
- C. Sjeverna Koreja
- D. Demokratska Republika Njemačka

- A. ☐
- B. ☐
- C. ☐
- D. ☐

40. Pozorno pogledajte slikovni prilog.

O kojemu se pitanju odlučivalo na prikazanome referendumu?

- A. o mirnoj reintegraciji hrvatskoga Podunavlja
- B. o organiziranju prvih višestranačkih izbora
- C. o položaju Hrvatske u Jugoslaviji
- D. o otkazivanju mandata UNPROFOR-u



- A. ☐
- B. ☐
- C. ☐
- D. ☐

POV D-S027



01





Povijest

II. Zadatci kratkoga odgovora

U sljedećim zadatcima odgovorite kratkim odgovorom (riječju, s nekoliko riječi ili jednostavnom rečenicom).

Odgovore upišite **samo** na predviđeno mjesto u ispitnoj knjižici.
Ne popunjavajte prostor za bodovanje.

41. Pozorno pogledajte slikovni prilog.



Koja pomoćna povijesna znanost proučava prikazanu vrstu povijesnoga izvora?

0

☐

1

☐

bod

42. Koje je ilirsko-keltsko pleme naseljavalo područje današnje istočne Slavonije?

0

☐

1

☐

bod

POV D-S027



02





Povijest

43. Pozorno pročitajte povijesni izvor.

(....) Uzevši vlast u ruke, (...) je oslobodio narod robovanja i za to vrijeme i za budućnost zabranivši davanje zajmova uz garanciju dužnikovog tijela. Izdao je zakone i ukinuo dugove, i privatne i državne. To se zove „sishatija” (skidanje tereta), zato što se ljudima činilo da su sa sebe skinuli teret.

Koji je grčki političar proveo reforme opisane u povijesnome izvoru?

0

☐

1

☐

bod

44. Kako se u Franačkoj nazivao najvažniji dvorski službenik koji je ujedno bio predstojnik kraljevske palače?

0

☐

1

☐

bod

45. Na kojemu je epigrafskome spomeniku najranije na hrvatskome jeziku i glagoljici zabilježeno hrvatsko ime (*kralj hrvatski*)?

0

☐

1

☐

bod

46. Koji je hrvatski grad u Hrvatsko-Ugarskome Kraljevstvu 1209. godine prvi dobio privilegij slobodnoga kraljevskog grada?

0

☐

1

☐

bod

POV D-S027




02





Povijest

<p>47. Kojim je pismom napisan <i>Misal Hrvoja Vukčića Hrvatinića</i>?</p> <p>_____</p>	<p>0 <input type="checkbox"/></p> <p>1 <input type="checkbox"/></p> <p>bod</p>
<p>48. Kako se nazivalo glavno upravno i zakonodavno tijelo dubrovačke komune?</p> <p>_____</p>	<p>0 <input type="checkbox"/></p> <p>1 <input type="checkbox"/></p> <p>bod</p>
<p>49. Koji je crkveni katolički red osnovao baskijski plemić Ignacije Loyola?</p> <p>_____</p>	<p>0 <input type="checkbox"/></p> <p>1 <input type="checkbox"/></p> <p>bod</p>
<p>50. Za čije je vladavine prvi put u svojoj povijesti Hrvatska bila podređena Ugarskomu namjesničkom vijeću?</p> <p>_____</p>	<p>0 <input type="checkbox"/></p> <p>1 <input type="checkbox"/></p> <p>bod</p>
<p>51. Kojoj je državi pripala Istra Mirom u Campoformiju?</p> <p>_____</p>	<p>0 <input type="checkbox"/></p> <p>1 <input type="checkbox"/></p> <p>bod</p>
<p>POV D-S027</p>	<p> 02</p>





Povijest

52. Pozorno pročitajte povijesni izvor.

Pri trgovini i rukotvorinama treba u načelu spriječiti da novac izlazi iz zemlje; treba raditi da novac u zemlju ulazi. Odlazak novca sprečava se time da se u zemlji proizvodi sve što se prije dobavljalo izvana. To izlazi iz popisa trošarina koji bilježe svu robu koja ulazi i u državi nalazi prođu. Po tim popisima može se lako prosuditi koje se tvornice mogu još u većem broju graditi, a koje se nove mogu uvesti. Smanjenje količine novca koja odlazi u inozemstvo može se postići i time da se sve prijeko potrebne stvari nabavljaju na izvornom mjestu i da se trgovina uzme u svoje ruke.

Kako se naziva gospodarska teorija koja je opisana u povijesnome izvoru?

0

☐

1

☐

bod

53. Pozorno pročitajte povijesni izvor.

Mi gledamo svaki dan kako nam domovina sve dublje i dublje propada, kano imanje one djece, što su pod svakojakimi tutori; svaki tutor sebi utakne nešto u džep, svaki nešto sebi prisvoji, napokon djeci ne će ništa ostati. Mi smo malo Latini, malo Nijemci, malo Talijani, malo Mađari i malo Slaveni, a ukupno iskreno govoreći nismo baš ništa! Mrtvi jezik latinski i živi mađarski, njemački i talijanski, to su naši tutori; živi nam se grozi, mrtvi nas drži za grlo, duši nas i nemoćne nas vodi i predaje živima u ruke!

Tko je u Hrvatskome saboru izrekao govor iz povijesnoga izvora?

0

☐

1

☐

bod

POV D-S027




02



Povijest

54. Pozorno pogledajte slikovni prilog.



OTVORENA VRATA

Koja je država bila nositelj prikazane politike?

0

1

bod

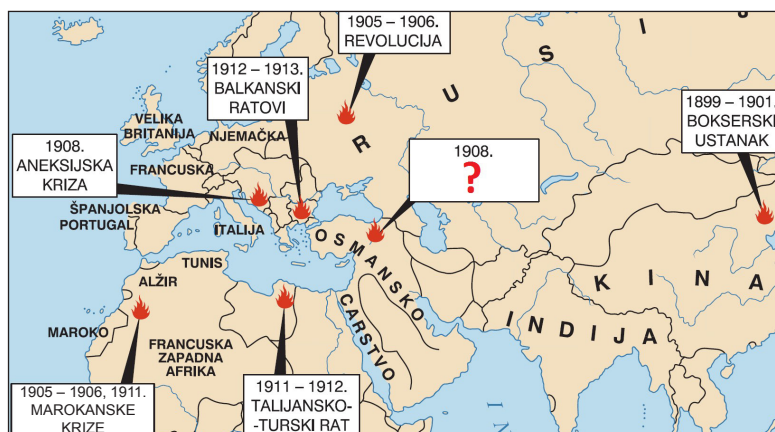
55. Kako se nazivaju zahtjevi koje su potpisali vodeći ljudi Seljačko-demokratske koalicije 1932. godine?

0

1

bod

56. Pozorno pogledajte povijesni zemljovid.



Kako se naziva kriza označena upitnikom na povijesnome zemljovidu?

0

1

bod

POV D-S027



01



Povijest

57. Koja je republika u socijalističkoj Jugoslaviji imala najveću ekonomsku emigraciju?

0


☐

1

☐

bod

58. Pozorno pogledajte slikovni prilog.



Kako se zove autor prikazanoga animiranoga lika?

0

☐

1

☐

bod

59. Pozorno pročitajte povijesni izvor.

*Gdanjsk osamdesete
kada je jesen rekla
ne
Gdanjsk osamdesete
držali smo palčeve
rudari
studenti
brodogradilište
svi mi (...)*

U kojoj se europskoj državi odvijao događaj opisan u povijesnome izvoru?

0

☐

1

☐

bod

POV D-S027



01





Povijest

60. Kako su se zvale vojne snage koje su uz hrvatsku vojsku sudjelovale u vojnoj operaciji Ljeto 1995.?

0

☐

1

☐

bod

POV D-S027



01





Povijest

III. Zadatci višestrukoga izbora (kronologije)

U sljedećim zadatcima od više ponuđenih odgovora samo je **jedan** točan.
Točne odgovore morate označiti znakom X na listu za odgovore.

61. Koji niz određuje točan kronološki slijed navedenih bitaka iz grčko-perzijskih ratova?

- A. Maraton → Termopili → Salamina → Plateja
- B. Maraton → Plateja → Salamina → Termopili
- C. Maraton → Salamina → Plateja → Termopili
- D. Maraton → Termopili → Plateja → Salamina

- A. ☐
- B. ☐
- C. ☐
- D. ☐

62. Koji niz određuje točan kronološki slijed navedenih događaja iz vojne povijesti Hrvatske u kasnome srednjem vijeku?

- A. Bitka na Mohačkome polju → Osmanlije zauzimaju Bosnu
→ Osmanlije zaposjedaju Hercegovinu → Bitka na Krbavskome polju
- B. Osmanlije zauzimaju Bosnu → Osmanlije zaposjedaju Hercegovinu
→ Bitka na Krbavskome polju → Bitka na Mohačkome polju
- C. Osmanlije zaposjedaju Hercegovinu → Osmanlije zauzimaju Bosnu
→ Bitka na Krbavskome polju → Bitka na Mohačkome polju
- D. Bitka na Mohačkome polju → Bitka na Krbavskome polju
→ Osmanlije zauzimaju Bosnu → Osmanlije zaposjedaju Hercegovinu

- A. ☐
- B. ☐
- C. ☐
- D. ☐

63. Koji niz određuje točan kronološki slijed razvoja navedenih država?

- A. Kijevska Kneževina → Moskovska Kneževina → Rusko Carstvo → Zlatna Horda
- B. Kijevska Kneževina → Rusko Carstvo → Moskovska Kneževina → Zlatna Horda
- C. Kijevska Kneževina → Zlatna Horda → Rusko Carstvo → Moskovska Kneževina
- D. Kijevska Kneževina → Zlatna Horda → Moskovska Kneževina → Rusko Carstvo

- A. ☐
- B. ☐
- C. ☐
- D. ☐

POV D-S027



01





Povijest

64. Koji niz određuje točan kronološki slijed navedenih događaja iz vremena otpora Zrinskih i Frankopana bečkom centralizmu?

- A. palež Sulejmanova mosta → Vašvarski mir → smrt Nikole Zrinskoga → uhićenje urotnika u Beču
- B. palež Sulejmanova mosta → smrt Nikole Zrinskoga → Vašvarski mir → uhićenje urotnika u Beču
- C. palež Sulejmanova mosta → uhićenje urotnika u Beču → Vašvarski mir → smrt Nikole Zrinskoga
- D. uhićenje urotnika u Beču → palež Sulejmanova mosta → Vašvarski mir → smrt Nikole Zrinskoga

- A. ☐
- B. ☐
- C. ☐
- D. ☐

65. Koji niz određuje točan kronološki slijed vladavine navedenih hrvatskih banova?

- A. Josip Šokčević → Ivan Mažuranić → Josip Jelačić → Levin Rauch
- B. Josip Jelačić → Josip Šokčević → Levin Rauch → Ivan Mažuranić
- C. Josip Šokčević → Levin Rauch → Josip Jelačić → Ivan Mažuranić
- D. Levin Rauch → Josip Jelačić → Ivan Mažuranić → Josip Šokčević

- A. ☐
- B. ☐
- C. ☐
- D. ☐

66. Koji niz određuje točan kronološki slijed pojave navedenih pokreta i ideologija tijekom 19. stoljeća?

- A. ludizam → marksizam → kršćanska demokracija → utopijski socijalizam
- B. ludizam → utopijski socijalizam → kršćanska demokracija → marksizam
- C. ludizam → marksizam → utopijski socijalizam → kršćanska demokracija
- D. ludizam → utopijski socijalizam → marksizam → kršćanska demokracija

- A. ☐
- B. ☐
- C. ☐
- D. ☐

67. Koji niz određuje točan kronološki slijed navedenih događaja u Drugome svjetskom ratu?

- A. napad na Poljsku → podjela Francuske → osvajanje Norveške → Bitka za Britaniju
- B. napad na Poljsku → Bitka za Britaniju → osvajanje Norveške → podjela Francuske
- C. napad na Poljsku → osvajanje Norveške → Bitka za Britaniju → podjela Francuske
- D. napad na Poljsku → osvajanje Norveške → podjela Francuske → Bitka za Britaniju

- A. ☐
- B. ☐
- C. ☐
- D. ☐

POV D-S027




01





Povijest

<p>68. Koji niz određuje točan kronološki slijed smrti navedenih hrvatskih političara u 20. stoljeću?</p> <p>A. Đuro Basariček → Vladko Maček → Josip Broz Tito → Stjepan Radić B. Stjepan Radić → Vladko Maček → Josip Broz Tito → Đuro Basariček C. Stjepan Radić → Đuro Basariček → Vladko Maček → Josip Broz Tito D. Đuro Basariček → Stjepan Radić → Vladko Maček → Josip Broz Tito</p>	<p>A. <input type="checkbox"/> B. <input type="checkbox"/> C. <input type="checkbox"/> D. <input type="checkbox"/></p>
<p>69. Koji niz određuje točan slijed razvitka informacijske tehnologije?</p> <p>A. radio → televizija → ENIAC → internet B. radio → ENIAC → televizija → internet C. televizija → ENIAC → radio → internet D. televizija → radio → ENIAC → internet</p>	<p>A. <input type="checkbox"/> B. <input type="checkbox"/> C. <input type="checkbox"/> D. <input type="checkbox"/></p>
<p>70. Koji niz određuje točan slijed promjena naziva države u kojoj se nalazila Hrvatska u 20. stoljeću?</p> <p>A. Kraljevina Jugoslavija → Demokratska Federativna Jugoslavija → Federativna Narodna Republika Jugoslavija → Socijalistička Federativna Republika Jugoslavija B. Demokratska Federativna Jugoslavija → Federativna Narodna Republika Jugoslavija → Socijalistička Federativna Republika Jugoslavija → Kraljevina Jugoslavija C. Kraljevina Jugoslavija → Federativna Narodna Republika Jugoslavija → Demokratska Federativna Jugoslavija → Socijalistička Federativna Republika Jugoslavija D. Socijalistička Federativna Republika Jugoslavija → Federativna Narodna Republika Jugoslavija → Kraljevina Jugoslavija → Demokratska Federativna Jugoslavija</p>	<p>A. <input type="checkbox"/> B. <input type="checkbox"/> C. <input type="checkbox"/> D. <input type="checkbox"/></p>
<p>POV D-S027</p>	
<p> 01</p>	





Povijest

IV. Zadatci višestrukoga izbora (uz polazni sadržaj)

U sljedećim zadacima proučite povijesne izvore, povijesne zemljovide i slikovne priloge te odgovorite na postavljena pitanja.

Od više ponuđenih odgovora samo je **jedan** točan.

Točne odgovore morate označiti znakom X na listu za odgovore.

71. Pozorno pročitajte povijesni izvor i odgovorite na postavljena pitanja.

Katon je bio poslan Kartažanima i Numiđaninu Masinisi, jer su oni međusobno ratovali, da istraži uzroke njihove razmirice. Masinisa je, naime, bio prijatelj rimskom narodu od početka, dok su Kartažani ušli u ugovorne odnose s Rimljanima poslije poraza što su ga pretrpjeli od Scipiona jako umanjene moći zbog gubitka svog imperija i teške ratne odštete u novcu. Ali našavši grad ne, kako su Rimljani mislili, u nevoljnu i jadnu stanju, nego gdje vrvi brojnom jedrom, za oružje doraslom momčadi, pretrpan silnim bogatstvom, a pun svakovrsna oružja i ratne opreme, (...)

71.1. O kojemu se porazu što su ga pretrpjeli od Scipiona govori u povijesnome izvoru?

- A. o porazu kod Zame
- B. o porazu kod Kane
- C. o porazu kod Trazimenskoga jezera
- D. o porazu kod rta Akcij

- A. ☐
- B. ☐
- C. ☐
- D. ☐

71.2. Koji je rat uslijedio nakon događaja opisanih u povijesnome izvoru?

- A. Prvi punski rat
- B. Drugi punski rat
- C. Treći punski rat
- D. Drugi makedonski rat

- A. ☐
- B. ☐
- C. ☐
- D. ☐

POV D-S027



01





Povijest

72. Pozorno pročitajte povijesni izvor i odgovorite na postavljena pitanja.

Ivan biskup, sluga slugu Božjih, ljubljenom sinu (...), kralju Hrvata, i Mihajlu, izvrsnom knezu Humljana, te prepoštovanom i presvetom bratu našem Ivanu, nadbiskupu crkve salonitske i svim podložnim biskupima, nadalje svim županima i svim svećenicima i čitavu narodu koji boravi u Slavoniji i Dalmaciji, predragim našim sinovima.

(...)

Stoga vas i opet opominjemo, predragi sinovi, da ostanete u vezi s nama i da, vjerujući nam u svemu, prihvatite i jezik i odredbe prečasnih biskupa, tj. Ivana svete crkve ankonitanske i Leona svete palestinske crkve, (koji su) naši službenici, od nas vama poslani i osobitom revnošću zadojeni. To vam (još) brižnije preporučujem da slušate njihove opomene. I što god vam bude od njih naloženo iz božanskih ili kanonskih razloga, nastojte vrlo brzo i pokorno izvršiti ako nećete da se odvojite od našeg skupa. (...)

72.1. Kojemu se hrvatskomu vladaru papa obraća u povijesnome izvoru?

- A. Stjepanu Držislavu
- B. Tomislavu
- C. Trpimiru
- D. Zvonimiru

- A. ☐
- B. ☐
- C. ☐
- D. ☐

72.2. Gdje se nalazilo središte crkve kojoj je na čelu *sluga slugu Božjih*?

- A. u Aleksandriji
- B. u Jeruzalemu
- C. u Moskvi
- D. u Rimu

- A. ☐
- B. ☐
- C. ☐
- D. ☐

POV D-S027



01





Povijest

73. Pozorno pročitajte povijesni izvor i odgovorite na postavljena pitanja.

(...) Dakle, taj dio zemlje postao je borilište nebrojenih naroda. Obje su se vojske vrlo hlabro sukobile: (...). Ali, prije nego iznesemo tijek same bitke, čini mi se nužnim ispričati što se točno dogodilo pri manevrima zaraćenih strana, jer ta je bitka bila toliko slavna, koliko zamršena i zbrkana. Naime, alanski kralj Sangiban, zgrožen strahom zbog onoga što će se desiti, obećao je predati se Atili i prepustiti mu u ruke galski grad Aurelijan, gdje je tada boravio. Kad su Teodorik i Aecije saznali za to, prije Atilina dolaska velikim su nasipima opasali taj grad i pazili na sumnjivog Sangibana te ga zajedno s njegovim ljudima smjestili usred svojih pomoćnih četa.

73.1. O kojoj se bitci govori u povijesnome izvoru?

- A. na Drinopolju
- B. na Galipolju
- C. na Katalunskome polju
- D. na Martovu polju

- A. ☐
- B. ☐
- C. ☐
- D. ☐

73.2. Tko su bile dvije glavne zaraćene strane u bitci opisanoj u povijesnome izvoru?

- A. Alani i Slaveni
- B. Zapadno Rimsko Carstvo i Huni
- C. Gali i Istočno Rimsko Carstvo
- D. Vizigoti i Langobardi

- A. ☐
- B. ☐
- C. ☐
- D. ☐

POV D-S027



01





Povijest

74. Pozorno pročitajte povijesni izvor iz 17. stoljeća i odgovorite na postavljena pitanja.

ČITAOCU DALMATINCU, LJUBITELJU ISTINE!

Dobro znam da stvaram nesavršeno djelo, no ljubav prema domovini i želja da razotkrijem istinu nagnaše me pisati s nakanom da prikupljajući što je rasuto uklanjam zabune, rasvjetljujem nejasnoće i pokazujem zablude. No dok ih budem razotkrivao i pobijao pronaći ćeš mnogo što protiv ili mimo opće prihvaćenih mišljenja pisaca, pa te molim da me ne osudiš prije no što to usporediš sa samim autorima, da bi ispravnije sudio uvidjevši istinu. Istinu sam ponajviše pokušao dokučiti pretpostavkama: nešto pouzdanije ili bolje nije naime moj neplodni duh mogao iznijeti zbog oskudice autora. (...) Što sam naveo kao sigurno, napisao sam prema starim ispravama koje sam pronašao golemim trudom i s pomoću prijatelja. U njih se naime pouzdajem više nego u bilo kakve povjesničare. (...) Ne pišem naime za obožavaoce duhovita govora, već za ljubitelje istine i za one koji žele saznati o nejasnoj prošlosti Dalmacije. Zamjeriš li što sam objavio mnogo toga što se moglo prešutjeti, i što sam domovinske slabosti učinio jasnijim raščlanjujući ih, znaj da sam to htio napisati u težnji da iznesem istinu (čak i ako je neugodna), jer mi je nakana obznaniiti голу istinu, nepokrivenu nikakvom prijetvornom koprenom, neokaljanu nikakvom mrljom zatajivanja i nezatamnjenom sjenom nejasnoće.

74.1. Tko je autor povijesnoga izvora?

- A. Bartol Kašić
- B. Ivan Kukuljević Sakcinski
- C. Ivan Lučić Lucius
- D. Toma Arhiđakon

- A. ☐
- B. ☐
- C. ☐
- D. ☐

74.2. Početci koje su znanosti opisani u povijesnome izvoru?

- A. medicine
- B. povijesti
- C. astrologije
- D. astronomije

- A. ☐
- B. ☐
- C. ☐
- D. ☐

POV D-S027



01





Povijest

75. Pozorno pogledajte slikovni prilog i odgovorite na postavljena pitanja.



75.1. Čiji se grob prema predaji nalazi u temeljima prikazane građevine?

- A. Isusa Krista
- B. Ivana Krstitelja
- C. svetoga Pavla
- D. svetoga Petra

- A. ☐
- B. ☐
- C. ☐
- D. ☐

75.2. Koji je od navedenih umjetnika i znanstvenika sudjelovao u rekonstrukciji kupole prikazane građevine?

- A. Filippo Brunelleschi
- B. Galileo Galilei
- C. Michelangelo Buonarroti
- D. Rembrandt

- A. ☐
- B. ☐
- C. ☐
- D. ☐

POV D-S027



01





Povijest

76. Pozorno pročitajte povijesni izvor i odgovorite na postavljena pitanja.

4. VIII 1737. g. je princ Hildburghausen s 15.000 kršćanskih vojnika krenuo u Bosnu te opsjeo tvrđavu pučki zvanu Banja Luka. Nju je tukao topovima i drugim ratnim spravama punih 15 dana uz veoma oštre juriše, ali ju ipak nije mogao zauzeti, a još manje izbaciti Turke iz nje. I premda su se naši vojnici toliko dana u toj tvrđavi nastanili, ipak je lukavi Turčin u nekoliko navrata stjerao našu vojsku oko tvrđave u opsadu, pošto je nahrupio uz veliku dreku i nasrtaje. Konačno je Turčin odnio pobjedu, mada ih je veći dio pao, jer se naša vojska morala povući preko Save u Slavoniju na veliku svoju sramotu.

76.1. Čiji su *kršćanski vojnici* o kojima se govori u povijesnome izvoru?

- A. bosanski
- B. ruski
- C. habsburški
- D. mletački

- A. ☐
- B. ☐
- C. ☐
- D. ☐

76.2. Kojim je mirom završio rat opisan u povijesnome izvoru?

- A. u Beogradu
- B. u Požarevcu
- C. u Srijemskim Karlovcima
- D. u Svištovu

- A. ☐
- B. ☐
- C. ☐
- D. ☐

POV D-S027



01



Povijest

77. Pozorno pogledajte povijesni zemljovid i odgovorite na postavljena pitanja.



77.1. Kojim je brojem na povijesnome zemljovidu obilježena talijanska država koja je bila pokretač i nositelj ujedinjenja?

- A. brojem 1
- B. brojem 2
- C. brojem 3
- D. brojem 4

- A. ☐
- B. ☐
- C. ☐
- D. ☐

77.2. Kojim je brojem na povijesnome zemljovidu obilježena talijanska država koja je postala dio Kraljevine Italije 1866. godine?

- A. brojem 2
- B. brojem 3
- C. brojem 4
- D. brojem 5

- A. ☐
- B. ☐
- C. ☐
- D. ☐

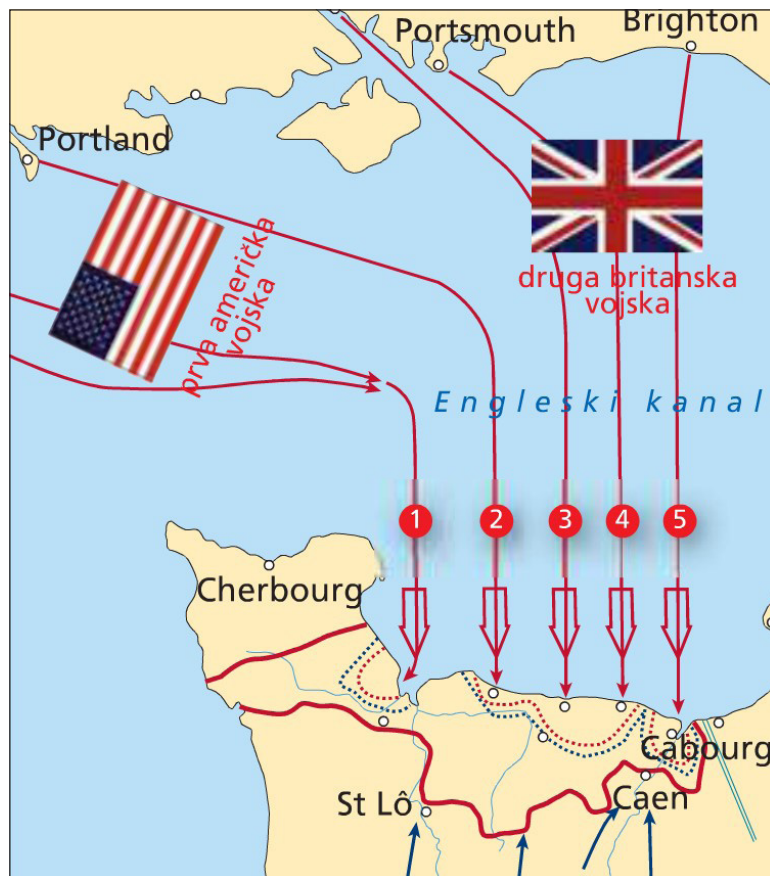
POV D-S027



01

Povijest

78. Pozorno pogledajte povijesni zemljovid i odgovorite na postavljena pitanja.



78.1. Kako se naziva prikazana vojna operacija?

- A. Morski Lav
- B. Baklja
- C. Barbarossa
- D. Overlord

- A. ☐
- B. ☐
- C. ☐
- D. ☐

78.2. Tko je bio zapovjednik prikazane vojne operacije?

- A. Charles de Gaulle
- B. Dwight Eisenhower
- C. Erwin Rommel
- D. Winston Churchill

- A. ☐
- B. ☐
- C. ☐
- D. ☐

POV D-S027



01

Povijest

79. Pozorno pogledajte povijesni zemljovid i odgovorite na postavljena pitanja.



79.1. Tko je kontrolirao teritorij obilježen zelenom bojom na povijesnome zemljovidu?

- A. četnici
- B. fašisti
- C. ustaše
- D. partizani

- A. ☐
- B. ☐
- C. ☐
- D. ☐

79.2. Kako se nazivao prostor obilježen kosim crtama na povijesnome zemljovidu?

- A. Bihaćka republika
- B. Drvarska republika
- C. Labinska republika
- D. Užička republika

- A. ☐
- B. ☐
- C. ☐
- D. ☐

POV D-S027



01



Povijest

80. Pozorno pogledajte slikovni prilog i odgovorite na postavljena pitanja.



80.1. Koje događaje najavljuje naslovnica slikovnog priloga?

- A. početak višestranačja
- B. početak sukoba s Informbiroom
- C. kraj hrvatskoga proljeća
- D. kraj višestranačja

- A. ☐
- B. ☐
- C. ☐
- D. ☐

80.2. Kada su se dogodili prikazani događaji?

- A. početkom šezdesetih
- B. početkom sedamdesetih
- C. početkom osamdesetih
- D. početkom devedesetih

- A. ☐
- B. ☐
- C. ☐
- D. ☐

POV D-S027



01





Povijest

Prazna stranica

POV D-S027



99

