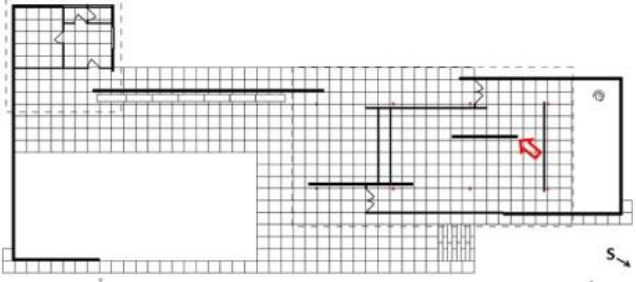
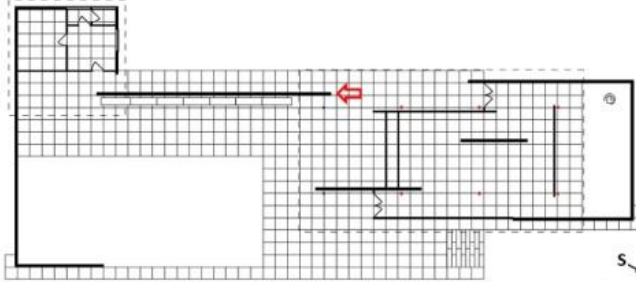
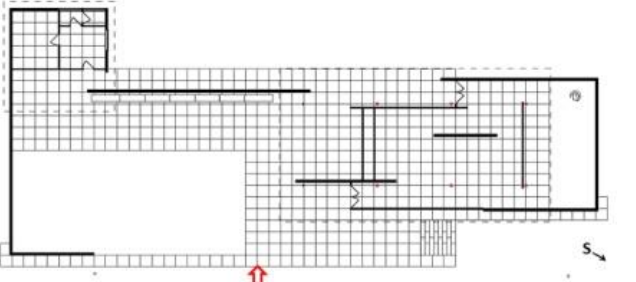
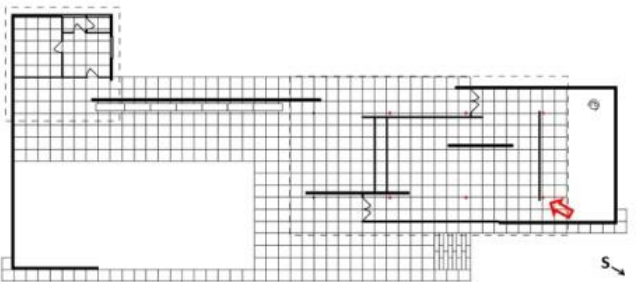
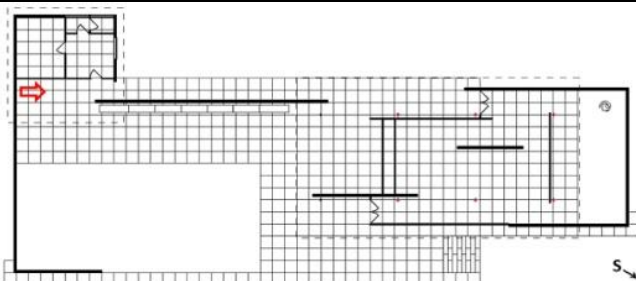


RJEŠENJA ISPITA IZ **LIKOVNE UMJETNOSTI** NA JESENSKOM
ROKU DRŽAVNE MATURE **SERIJE LIU IK-2 D-S028**
rujan 2016.

PITANJE	TOČAN ODGOVOR
1.	
2.	
3.	
4.	
5.	

II. Zadatci produženoga odgovora

PITANJE	TOČAN ODGOVOR
6.	<p>Model točnoga odgovora: Tlocrt je a) slobodan/slobodno je postavljanje zidova, b) tlocrt je asimetričan, c) po sredini dužih stranica je otvoren; d) tlocrt je geometriziran - ravni zidovi sastaju se ili usmjeruju pod pravim kutom e) tlocrt je organiziran oko duže osi.</p> <p>2 boda Opisati tri elementa: tlocrt je a) slobodan/slobodno je postavljanje zidova, b) tlocrt je asimetričan, c) po sredini dužih stranica je otvoren; d) ravni zidovi sastaju se ili usmjeruju pod pravim kutom; e) tlocrt je organiziran oko duže osi.</p> <p>1 bod opisati dva elementa: tlocrt je a) slobodan/slobodno je postavljanje zidova, b) tlocrt je asimetričan, c) po sredini dužih stranica je otvoren; d) ravni zidovi sastaju se ili usmjeruju pod pravim kutom; e) tlocrt je organiziran oko duže osi.</p> <p>0 bodova Samo jedan točan element odgovora ili nijedan.</p>
7.	<p>Model točnoga odgovora: a) masa je svedena na minimum b) prostor/prostornost dominira, c) prostor je kontinuiran i prohodan/ svi su dijelovi građevine međusobno povezani.</p> <p>2 boda opisati tri elementa odnosa mase i prostora: a) masa je svedena na minimum/minimalna je masa, b) prostor/prostornost dominira, c) prostor je kontinuiran i prohodan/ svi su dijelovi građevine međusobno povezani.</p> <p>1 bod opisati dva elementa odnosa mase i prostora: a) masa je svedena na minimum/minimalna je masa, b) prostor/prostornost dominira, c) prostor je kontinuiran i prohodan/ svi su dijelovi građevine međusobno povezani.</p> <p>0 bodova Samo jedan točan element odgovora ili nijedan.</p>
8.	<p>Model točnoga odgovora: Građevina je horizontalnim postavom volumena prilagođena okolišu/ambijentu, pravilni geometrijski oblik cjeline suprotstavlja se okolišu, povezivanje prirode i unutrašnjega prostora omogućeno je vanjskom staklenom opnom; relativnu izoliranost unutrašnjeg prostora stvaraju samostalni uvučeni puni zidovi,</p> <p>2 boda objasniti tri elementa odnosa: a) građevina je horizontalnim postavom volumena prilagođena okolišu/ambijentu, b) pravilni geometrijski oblik cjeline suprotstavlja se okolišu, c) povezivanje prirode i unutrašnjega prostora omogućeno je vanjskom staklenom opnom; d) relativnu izoliranost unutrašnjeg prostora ostvaruju samostalni, uvučeni, puni zidovi.</p> <p>1 bod objasniti barem dva elementa: a) građevina je horizontalnim postavom volumena prilagođena okolišu/ambijentu, b) pravilni geometrijski oblik cjeline suprotstavlja se okolišu, c) povezivanje prirode i unutrašnjega prostora omogućeno je vanjskom staklenom opnom; d) relativnu izoliranost unutrašnjeg prostora ostvaruju samostalni, uvučeni, puni zidovi.</p> <p>0 bodova Samo jedan točan element odgovora ili nijedan.</p>
9.	<p>Model točnoga odgovora: a) konstrukcija građevine je skeletna, b) sastavljena je montažom gotovih strukturalnih jedinica; c) vertikalni čelični nosači su križnoga profila, d) teret je armirano betonski ravni krov; e) zid gubi konstrukcijsku ulogu i postaje pregradna stijena.</p>

PITANJE	TOČAN ODGOVOR
	<p><u>2 boda</u> navesti tip konstrukcije i opisati najmanje dva elementa konstrukcije građevine: a) konstrukcija građevine je skeletna, b) sastavljena je montažom gotovih strukturalnih jedinica; c) vertikalni čelični nosači križnoga profila, d) teret je armirano betonski ravni krov; e) zid gubi konstrukcijsku ulogu i postaje pregradna stijena.</p> <p><u>1 bod</u> navesti tip konstrukcije i opisati najmanje jedan element konstrukcije građevine: a) konstrukcija građevine je skeletna, b) sastavljena je montažom gotovih strukturalnih jedinica; c) vertikalni čelični nosači križnoga profila, d) teret je armirano betonski ravni krov; e) zid gubi konstrukcijsku ulogu i postaje pregradna stijena</p> <p><u>0 bodova</u> Samo jedan točan element odgovora ili nijedan.</p>
10.	<p><i>Model točnoga odgovora:</i> Na staklenoj stijeni/pregradi/zidu stvaraju se brojni odrazi; čelik i kamen (mramor i vapnenac) uglašani su do sjaja i svoju dekorativnost duguju karakteristikama samoga materijala; mramorne ploče stvaraju dojam apstraktnih slika na zidovima; vodene površine (bazeni) unose u građevinu pokret i odraze.</p> <p><u>2 boda</u> opisati tri elementa: a) Na staklenoj stijeni/pregradi/zidu stvaraju se brojni odrazi; b) čelik i kamen (mramor i vapnenac) uglašani su do sjaja i svoju dekorativnost duguju karakteristikama samoga materijala; c) mramorne ploče stvaraju dojam apstraktnih slika na zidovima; d) vodene površine (bazeni) unose u građevinu pokret i odraze.</p> <p><u>1 bod</u> opisati dva elementa: a) Na staklenoj stijeni/pregradi/zidu stvaraju se brojni odrazi; b) čelik i kamen (mramor i vapnenac) uglašani su do sjaja i svoju dekorativnost duguju karakteristikama samoga materijala; c) mramorne ploče stvaraju dojam apstraktnih slika na zidovima; d) vodene površine (bazeni) unose u građevinu pokret i odraze.</p> <p><u>0 bodova</u> Samo jedan točan element odgovora ili nijedan.</p>

II. Zadatci kratkoga odgovora

PITANJE	TOČAN ODGOVOR
11.	minimalizam/strukturalizam
12.	izložbeni prostor
13.	Njemački paviljon
14.	u Barceloni
15.	Mies van der Rohe