



Nacionalni centar  
za vanjsko vrednovanje  
obrazovanja

Adesivo per l'identificazione

INCOLLARE ATTENTAMENTE

# POV

## STORIA

POV D-S029

POV.29.IT.R.K1.40



26715



12

Pagina vuota



## INDICAZIONI GENERALI

Leggi attentamente tutte le indicazioni e seguile.

Non voltare pagina e non iniziare a risolvere i quesiti senza il permesso dell'insegnante di servizio.

Incolla gli adesivi di identificazione su tutti i materiali d'esame che hai ricevuto nella busta sigillata.

L'esame dura **120** minuti senza interruzioni.

Davanti a ciascun gruppo di quesiti trovi le indicazioni per la loro soluzione.

Leggile attentamente.

Usa esclusivamente una penna a sfera di colore blu o nero.

Scrivi in modo leggibile. Le risposte non leggibili verranno valutate con zero (0) punti.

In caso di errore, correggi mettendo l'errore tra parentesi e barrandolo, poi apponi una breve firma. **È proibito firmarsi per intero con nome e cognome.**

Una volta risolti i quesiti, controlla le risposte.

Buona fortuna!

Questo fascicolo d'esame ha 40 pagine di cui 3 vuote.

In caso tu abbia sbagliato a scrivere la risposta, puoi rimediare in questo modo:

### a) per i quesiti di tipo chiuso


Giusto




Correzione dell'errore



Sbagliato



### b) per i quesiti di tipo aperto



# Storia

## I Quesiti a scelta multipla

Nei seguenti quesiti, fra le opzioni proposte, solo **una** è esatta.  
Indica la risposta esatta con una X sul foglio delle risposte.

1. Quali dei seguenti storici operarono nel XIX secolo?

- A. Ivan Lučić, Adam Baltazar Krčelić e Toma Arcidiacono
- B. Ivan Kukuljević Sakcinski, Franjo Rački e Tadija Smičiklas
- C. Mirjana Gross, Grga Novak e Mate Suić
- D. Vjekoslav Klaić, Ferdo Šišić e Nada Klaić

- A. ☐
- B. ☐
- C. ☐
- D. ☐

2. Come si chiama la specie di antenato umano che apparve approssimativamente 1,6 milioni di anni fa?

- A. *Homo neanderthalensis*
- B. *Homo erectus*
- C. *Homo habilis*
- D. *Homo sapiens*

- A. ☐
- B. ☐
- C. ☐
- D. ☐

3. Quale avvenimento rappresenta la cesura tra preistoria e storia?

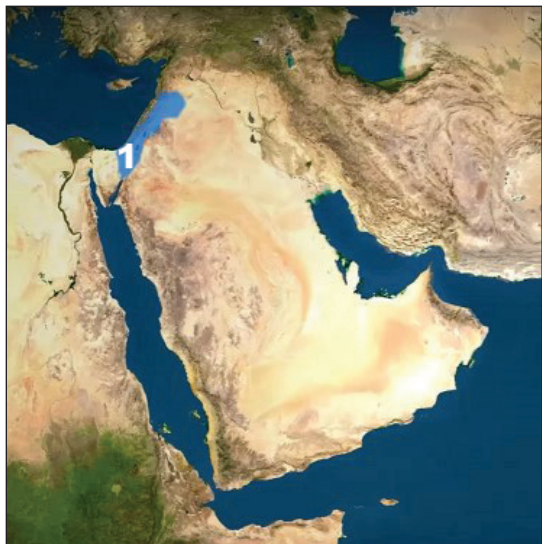
- A. l'utilizzo del ferro
- B. l'invenzione della scrittura
- C. l'invenzione della ruota
- D. la scoperta del fuoco

- A. ☐
- B. ☐
- C. ☐
- D. ☐



# Storia

4. Osserva attentamente la seguente carta geografica.



Quale religione era presente, circa nell'anno 1000 a.C., sul territorio contrassegnato dal numero 1 nella carta geografica?

- A. cristianesimo
- B. islam
- C. protestantismo
- D. giudaismo

- A. ☐
- B. ☐
- C. ☐
- D. ☐

5. Quali dei seguenti stati si sono sviluppati nell'antichità nel territorio della Mezzaluna fertile?

- A. Akkad, Egitto, Regno ebraico
- B. Atene, Impero cinese, Impero ittita
- C. Sparta, Numidia, India
- D. Impero persiano, Media e Sumer

- A. ☐
- B. ☐
- C. ☐
- D. ☐


6. Quali erano le due alleanze militari che vennero stabilite dopo le Guerre persiane?

- A. lega delio-attica e del Peloponneso
- B. lega del Peloponneso e di Sparta
- C. lega di Atene e di Delo
- D. lega greco-persiana e di Corinto

- A. ☐
- B. ☐
- C. ☐
- D. ☐



# Storia

<p><b>7.</b> Quale tribù ellenica si stanziò a settentrione del Peloponneso, nel corso delle migrazioni delle prime tribù elleniche?</p> <p><b>A.</b> Achei  <b>B.</b> Dori  <b>C.</b> Ioni  <b>D.</b> Pelasgi</p>	<p><b>A.</b> <input type="checkbox"/>  <b>B.</b> <input type="checkbox"/>  <b>C.</b> <input type="checkbox"/>  <b>D.</b> <input type="checkbox"/></p>			
<p><b>8.</b> Quale delle seguenti cariche statali veniva eletta dal Senato nell'antica Roma?</p> <p><b>A.</b> console  <b>B.</b> tribuno della plebe  <b>C.</b> edile  <b>D.</b> scriba</p>	<p><b>A.</b> <input type="checkbox"/>  <b>B.</b> <input type="checkbox"/>  <b>C.</b> <input type="checkbox"/>  <b>D.</b> <input type="checkbox"/></p>			
<p><b>9.</b> Leggi attentamente i testi.</p> <table border="1" data-bbox="217 1066 1409 1267"> <tr> <td data-bbox="217 1066 766 1267"> <p>È una forma di governo instaurata da Diocleziano. Il sovrano ha potere illimitato e viene venerato come una divinità. Il Senato si occupa dell'organizzazione dei giochi pubblici ma ogni decisione viene confermata dall'imperatore.</p> </td> <td data-bbox="766 1066 860 1267" style="text-align: center;"> <p>↔</p> </td> <td data-bbox="860 1066 1409 1267"> <p>È una forma di governo della Roma imperiale vigente a partire da Augusto fino a Diocleziano. Ufficialmente l'imperatore non ha potere illimitato bensì è un "<i>primus inter pares</i>" nel Senato.</p> </td> </tr> </table> <p>Quali due forme di governo vengono comparate nei testi qui sopra?</p> <p><b>A.</b> democrazia e tirannia  <b>B.</b> anarchia e tetrarchia  <b>C.</b> dominato e principato  <b>D.</b> timocrazia e talassocrazia</p>		<p>È una forma di governo instaurata da Diocleziano. Il sovrano ha potere illimitato e viene venerato come una divinità. Il Senato si occupa dell'organizzazione dei giochi pubblici ma ogni decisione viene confermata dall'imperatore.</p>	<p>↔</p>	<p>È una forma di governo della Roma imperiale vigente a partire da Augusto fino a Diocleziano. Ufficialmente l'imperatore non ha potere illimitato bensì è un "<i>primus inter pares</i>" nel Senato.</p>
<p>È una forma di governo instaurata da Diocleziano. Il sovrano ha potere illimitato e viene venerato come una divinità. Il Senato si occupa dell'organizzazione dei giochi pubblici ma ogni decisione viene confermata dall'imperatore.</p>	<p>↔</p>	<p>È una forma di governo della Roma imperiale vigente a partire da Augusto fino a Diocleziano. Ufficialmente l'imperatore non ha potere illimitato bensì è un "<i>primus inter pares</i>" nel Senato.</p>		
<p><b>10.</b> Qual è la colonia romana più antica nel periodo della Histria antica?</p> <p><b>A.</b> Aquileia  <b>B.</b> Nesactium  <b>C.</b> Parentium  <b>D.</b> Pola</p>	<p><b>A.</b> <input type="checkbox"/>  <b>B.</b> <input type="checkbox"/>  <b>C.</b> <input type="checkbox"/>  <b>D.</b> <input type="checkbox"/></p>			
<p>POV D-S029</p> <div style="text-align: right;">   01 </div>				

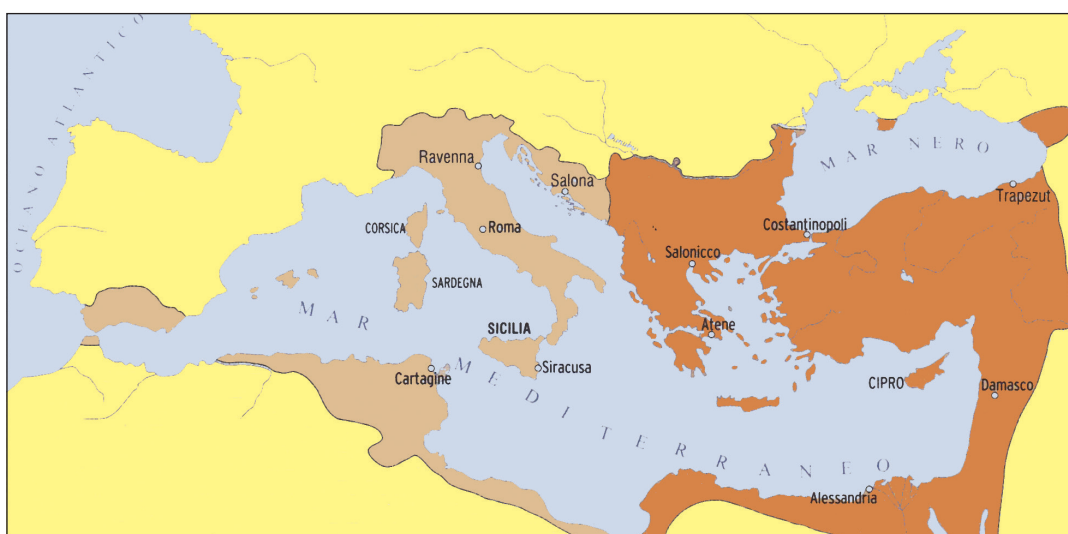
# Storia

**11.** Quale popolo, a fianco dei Vandali, è riuscito a conquistare e saccheggiare la città di Roma nel periodo delle Grandi migrazioni dei popoli?

- A. Unni
- B. Normanni
- C. Sassoni
- D. Visigoti

- A. ☐
- B. ☐
- C. ☐
- D. ☐

**12.** Osserva attentamente la carta storica.



Quale imperatore bizantino ha ampliato il territorio di Bisanzio nel VI secolo d.C. col territorio contrassegnato dal colore marrone chiaro nella carta storica qui sopra.

- A. Basilio I
- B. Eraclio I
- C. Giustiniano I
- D. Zenone

- A. ☐
- B. ☐
- C. ☐
- D. ☐

**13.** Su quale monumento storico sono stati incisi con alfabeto greco antico i nomi *Horoáthos* e *Horoúathos*?

- A. tavoletta di Vallonia
- B. sarcofago della regina Jelena
- C. tavolette di Tanais
- D. evangelario di Cividale del Friuli

- A. ☐
- B. ☐
- C. ☐
- D. ☐




# Storia

14. Quale dei seguenti artefatti è nato durante il Regno croato?



A.



B.



C.



D.

- A. ☐
- B. ☐
- C. ☐
- D. ☐

POV D-S029



01



# Storia

15. Osserva attentamente l'immagine.



Come si chiama l'edificio decorato da protomi lapidee rappresentate nell'immagine?

- A. palazzo del principe a Ragusa
- B. basilica eufrasiana a Parenzo
- C. cattedrale di Sveti Jakov a Sebenico
- D. cattedrale di Sveti Ivan a Traù

- A. ☐
- B. ☐
- C. ☐
- D. ☐

16. Quale sovrano inglese, nella seconda metà del XIII secolo, ha integrato la *Magna Charta Libertatum* con i cosiddetti statuti di Oxford?

- A. Enrico III
- B. Giovanni Senzaterra
- C. Oliver Cromwell
- D. Riccardo I

- A. ☐
- B. ☐
- C. ☐
- D. ☐

17. Quale papa ha permesso agli inquisitori di utilizzare la tortura durante gli interrogatori a metà del XIII secolo d.C.?

- A. Benedetto XII
- B. Gregorio VII
- C. Innocenzo IV
- D. Giovanni VIII

- A. ☐
- B. ☐
- C. ☐
- D. ☐



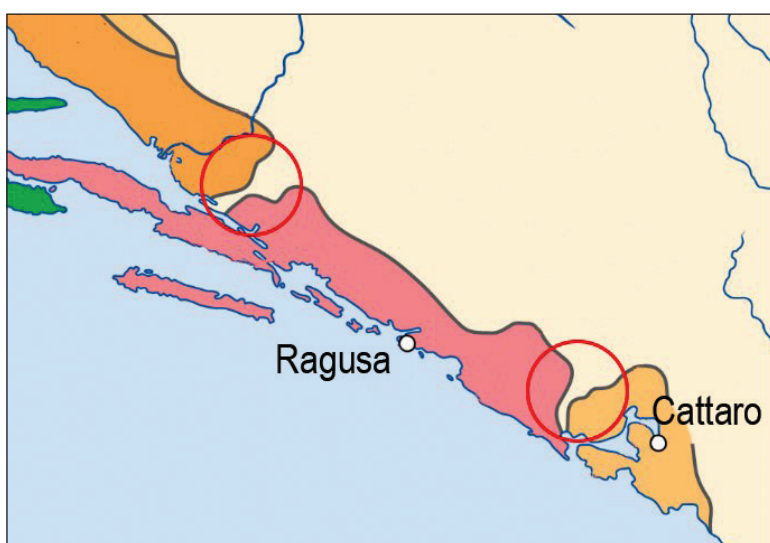
# Storia

18. Quale fu la conseguenza della guerra per i beni della Spagna?

- A. Filippo di Borbone diventa re di Spagna
- B. Luigi XV diventa re di Spagna
- C. la Spagna prende il controllo delle colonie britanniche in America settentrionale
- D. la Spagna diventa una potenza marittima d'Europa

- A. ☐
- B. ☐
- C. ☐
- D. ☐

19. Osserva attentamente la carta storica.



A chi appartennero le terre contrassegnate da cerchi rossi in seguito alla Pace di Požarevac nel 1718?

- A. Impero francese
- B. Monarchia asburgica
- C. Repubblica di Venezia
- D. Impero ottomano

- A. ☐
- B. ☐
- C. ☐
- D. ☐

20. Qual era la conseguenza della battaglia di Mohács nel 1526?

- A. l'arrivo degli Asburgo sul trono della Croazia
- B. l'istituzione della banovina di Jajce
- C. l'istituzione della *Vojna krajina*/ *Confine militare*
- D. la conclusione delle conquiste ottomane in Europa

- A. ☐
- B. ☐
- C. ☐
- D. ☐



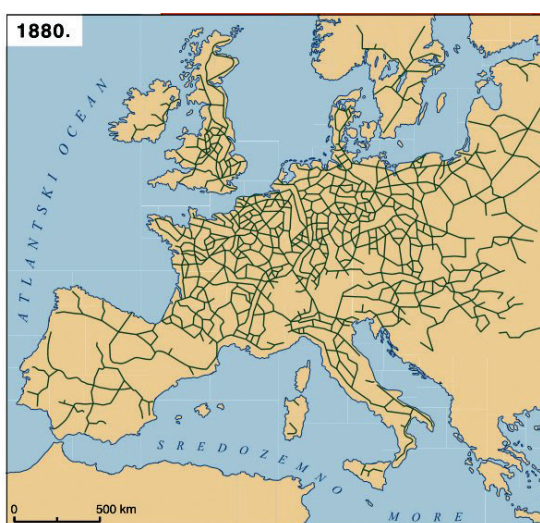
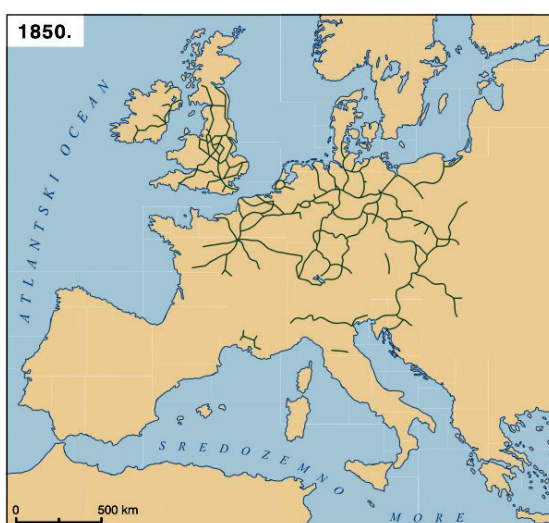
# Storia

**21.** Come si chiama l'ordinamento statale nel quale il sovrano gode di poteri assoluti?

- A. monarchia parlamentare
- B. democrazia parlamentare
- C. dispotismo illuminato
- D. repubblica costituzionale

- A. ☐
- B. ☐
- C. ☐
- D. ☐

**22.** Osserva attentamente le carte geografiche.



Cosa si paragona sulle carte geografiche qui sopra?

- A. lo sviluppo della rete postale
- B. lo sviluppo della rete stradale
- C. lo sviluppo della rete telegrafica
- D. lo sviluppo della rete ferroviaria

- A. ☐
- B. ☐
- C. ☐
- D. ☐


**23.** Nell'epoca di quale governo francese inizia l'ascesa di Napoleone Bonaparte?

- A. Comitato di salute pubblica
- B. Convenzione nazionale
- C. Direttorio
- D. Consolato

- A. ☐
- B. ☐
- C. ☐
- D. ☐

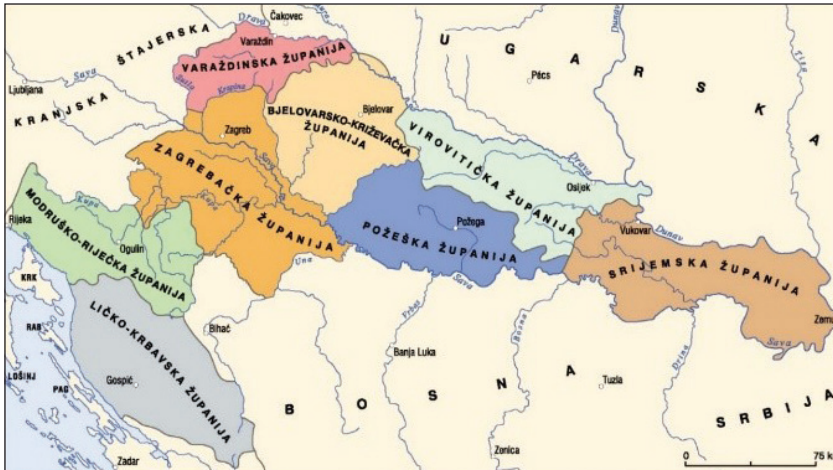


# Storia

<p><b>24.</b> Cosa appoggiavano i sostenitori delle forze conservatrici al Congresso di Vienna?</p> <p>A. libertà di parola, stampa e assemblea          B. istituzione della costituzione e della democrazia parlamentare          C. tolleranza religiosa          D. immutabilità della stratificazione sociale</p>	<p>A. <input type="checkbox"/></p> <p>B. <input type="checkbox"/></p> <p>C. <input type="checkbox"/></p> <p>D. <input type="checkbox"/></p>
<p><b>25.</b> Quale classe sociale rappresenta il quarto stato durante la rivoluzione industriale?</p> <p>A. i sacerdoti          B. i nobili          C. i lavoratori          D. i contadini</p>	<p>A. <input type="checkbox"/></p> <p>B. <input type="checkbox"/></p> <p>C. <input type="checkbox"/></p> <p>D. <input type="checkbox"/></p>
<p><b>26.</b> Di quale istituzione facevano parte le facoltà di filosofia, di teologia e quella di giurisprudenza nel 1776?</p> <p>A. <i>Jugoslavenska akademija znanosti i umjetnosti</i>          B. <i>Kraljevska akademija</i>          C. <i>Matica ilirska</i>          D. <i>Università di Zagabria</i></p>	<p>A. <input type="checkbox"/></p> <p>B. <input type="checkbox"/></p> <p>C. <input type="checkbox"/></p> <p>D. <input type="checkbox"/></p>
<p><b>27.</b> Cosa sosteneva il conte Janko Drašković nell'opera <i>Disertacija</i>?</p> <p>A. l'implementazione della parlata stocava/ štokavo quale accento ufficiale in Croazia          B. l'implementazione della parlata caicava/ kajkavo quale accento ufficiale in Croazia          C. l'unificazione dei paesi croati con gli Slavi cecchi e con gli Slavi polacchi          D. l'unificazione della <i>Vojna krajina/ Confine militare</i> con l'Ungheria</p>	<p>A. <input type="checkbox"/></p> <p>B. <input type="checkbox"/></p> <p>C. <input type="checkbox"/></p> <p>D. <input type="checkbox"/></p>
<p><b>28.</b> Quale delle seguenti parti della Croazia odierna <b>non era</b> sotto il dominio del bano Josip Jelačić?</p> <p>A. Dalmazia          B. Istria          C. Fiume          D. <i>Vojna krajina/ Confine militare</i></p>	<p>A. <input type="checkbox"/></p> <p>B. <input type="checkbox"/></p> <p>C. <input type="checkbox"/></p> <p>D. <input type="checkbox"/></p>
<div>POV D-S029</div> <div>  <div>01</div> </div>	

# Storia

29. Osserva attentamente la carta storica.



Quando è stata instaurata la suddivisione amministrativo-territoriale della Croazia del Bano raffigurata sulla carta storica?

- A. dopo l'abolizione della Costituzione imposta (*octroyée*) nel 1851
- B. dopo l'abolizione dell'assolutismo di Bach nel 1859
- C. dopo la posta della Vojna krajina (demilitarizzata) sotto il dominio del bano e della dieta (*sabor*) croata nel 1881
- D. dopo la cessazione delle relazioni giuridico-statali con la monarchia Austro-Ungarica nel 1918

A.	<input type="checkbox"/>
B.	<input type="checkbox"/>
C.	<input type="checkbox"/>
D.	<input type="checkbox"/>

30. Quale partito politico, nella seconda metà del XIX secolo dimostrava interesse che i Croati firmassero un accordo con l'Austria prima che lo facessero gli Ungheresi?

- A. *Stranka prava/ partito dei diritti*
- B. *Samostalna narodna stranka/ partito popolare autonomo*
- C. *Unionistička stranka/ partito dell'unione*
- D. partito socialdemocratico della Croazia e della Slavonia

A.	<input type="checkbox"/>
B.	<input type="checkbox"/>
C.	<input type="checkbox"/>
D.	<input type="checkbox"/>


31. Quale presidente decise di includere gli Stati Uniti d'America nella Prima guerra mondiale?

- A. Franklin Delano Roosevelt
- B. Harry S. Truman
- C. John Fitzgerald Kennedy
- D. Thomas Woodrow Wilson

A.	<input type="checkbox"/>
B.	<input type="checkbox"/>
C.	<input type="checkbox"/>
D.	<input type="checkbox"/>



# Storia

<p><b>32.</b> A cosa si riferisce il Trattato del Laterano/ <i>Patti Lateranensi</i> nel 1929?</p> <p>A. all'infallibilità del papa          B. al rapporto tra il papa e i sovrani europei          C. al rapporto tra papa e Italia          D. all'atteggiamento del papa nei confronti del movimento degli operai</p>	<p>A. <input type="checkbox"/></p> <p>B. <input type="checkbox"/></p> <p>C. <input type="checkbox"/></p> <p>D. <input type="checkbox"/></p>
<p><b>33.</b> Qual è la conseguenza dello sbarco in Sicilia nell'agosto del 1943?</p> <p>A. l'inclusione degli Stati Uniti d'America nella Seconda guerra mondiale          B. la sostituzione di Benito Mussolini          C. la capitolazione delle truppe tedesco-italiane in Africa settentrionale          D. la fondazione del movimento della Francia Libera/ <i>France Libre</i></p>	<p>A. <input type="checkbox"/></p> <p>B. <input type="checkbox"/></p> <p>C. <input type="checkbox"/></p> <p>D. <input type="checkbox"/></p>
<p><b>34.</b> Leggi attentamente la seguente fonte storica.</p> <div data-bbox="220 1052 1305 1263" style="border: 1px solid black; padding: 10px; margin: 10px 0;"> <p><i>"(...) Partendo da tali presupposti, i rappresentanti croati reputano che è loro dovere combattere a fianco del popolo ungherese per tutte le libertà nonché diritti statali, nella convinzione che, i suddetti diritti siano di utilità al popolo croato e ungherese; con ciò verranno poste le fondamenta per un durevole compromesso tra i due popoli."</i></p> </div> <p>Le idee politiche descritte nella fonte storica appartengono ai</p> <p>A. rappresentanti della <i>Hrvatska pučka seljačka stranka</i>          B. rappresentanti della <i>politika novoga kursa</i>          C. rappresentanti della <i>Hrvatske stranke prava</i>          D. rappresentanti dell'unione</p>	
<p>POV D-S029</p>	 <p>01</p>



# Storia

35. Leggi attentamente la fonte storica.

*"(...) Il nostro primo passo deve essere tale che possiam dire che non vogliamo una gestione di tipo militare. I radicali ci domandano, dove si randellava in Croazia. A Topusko nell'anno 1921 la gendarmeria bastonava la gente, spogliava le persone e costringeva loro a baciare il ritratto di Pašić, con le baionette puntate addosso. Con gente che fa così noi nemmeno in chiesa ci andiamo (...)"*

L'atteggiamento di chi è descritto nella fonte storica qui sopra?

- A. Hrvatska republikanska seljačka stranka/ Partito contadino repubblicano croato
- B. Komunistička partija Jugoslavije/ Partito comunista della Jugoslavia
- C. Narodna radikalna stranka/ Partito radicale popolare
- D. gli Orjuna

- A. ☐
- B. ☐
- C. ☐
- D. ☐

36. Osserva attentamente l'immagine.



(*Novosti*, anno XXXV, la copia costa 1 Din, direttore Ive Mihovilović, a cura di Hrvoje Macanović, lunedì 7 aprile, 1941, num 97, "GERMANIA IN GUERRA CON LA YUGOSLAVIA E GRECIA".)

Qual era la posizione della Croazia nel periodo della pubblicazione dell'oggetto dell'immagine qui sopra?

- A. faceva parte della coalizione antifascista
- B. si è proclamata neutrale nella Seconda guerra mondiale
- C. aveva autonomia parziale all'interno della Banovina croata
- D. è stata occupata dalle forze angloamericane

- A. ☐
- B. ☐
- C. ☐
- D. ☐



# Storia

37. Osserva attentamente l'immagine.



Qual è l'immediata conseguenza dell'avvenimento oggetto dell'immagine qui sopra?

- A. divisione di Berlino in due settori di occupazione
- B. unificazione della Germania
- C. la caduta dell'URSS
- D. creazione della Comunità degli stati indipendenti

- A. ☐
- B. ☐
- C. ☐
- D. ☐

38. Quali due politici hanno provato ad attuare un colpo di stato (militare) nel 1944 all'interno della *Nezavisna Država Hrvatska*/ Stato indipendente croato?

- A. Ante Vokić e Mladen Lorković
- B. Mile Budak e Eugen Dido Kvaternik
- C. Osman Kulenović e Andrija Artuković
- D. Vladimir Nazor e Andrija Hebrang

- A. ☐
- B. ☐
- C. ☐
- D. ☐





# Storia

39. Osserva attentamente l'immagine.



Perché il monumento oggetto dell'immagine qui sopra è stato rimosso dalla piazza centrale di Zagabria nel 1947?

- A. causa le guerre di confine tra Jugoslavia e Ungheria
- B. causa il rifiuto di Jelačić di includere la Vojvodina al Regno di Croazia, Slavonia e Dalmazia.
- C. causa l'interpretazione in chiave comunista del ruolo di Jelačić nella rivoluzione 1848–1849
- D. causa il significato del monumento, simbolo dell'unificazione degli Slavi meridionali

- A. ☐
- B. ☐
- C. ☐
- D. ☐



40. Osserva attentamente l'immagine risalente al periodo della Guerra d'indipendenza croata/ Domovinski rat.



("Dico, faranno *pulizia* nelle nostre strade...")

"E tu dici, no – no, oggi è la Festa del lavoro.")

A quale azione militare del periodo della Guerra d'indipendenza croata/ Domovinski rat si riferisce l'immagine qui sopra?

- A. Medački džep
- B. Bljesak
- C. Ljeto 95
- D. Oluja

- A. ☐
- B. ☐
- C. ☐
- D. ☐



# Storia

## Il Quesiti a risposta breve

Nei seguenti quesiti rispondi con una risposta breve (con una parola, alcune parole o con una frase semplice).

Scrivi le risposte **solo** sull'apposito spazio in questo fascicolo d'esame.

Non riempire lo spazio per il punteggio.

- 41.** Come si chiama la musa, figlia della dea della rimembranza Mnemosyne e del dio Zeus nella mitologia greca?

---

0 ☐  
1 ☐

punto

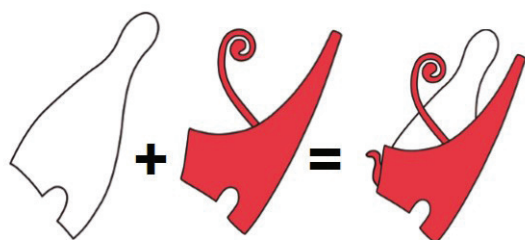
- 42.** Quale popolo era portatore della cultura archeologica di La Tène, all'inizio del III secolo a.C. nel territorio della Slavonia e dello Srijem?

---

0 ☐  
1 ☐

punto

- 43.** Osserva attentamente l'immagine.



Sull'immagine qui sopra è rappresentata simbolicamente l'unificazione di quale regno?

---

0 ☐  
1 ☐


punto

POV D-S029



02

# Storia

<p><b>44.</b> Come si chiamava l'introduzione dell'ordine secolare (<i>ordo secularis</i>) tra gli ordini ecclesiastici, nel Medioevo recente?</p> <p>_____</p>	<p>0 <input type="checkbox"/></p> <p>1 <input type="checkbox"/></p> <p>punto</p>
<p><b>45.</b> Leggi attentamente la seguente fonte storica.</p> <div data-bbox="220 719 1265 931" style="border: 1px solid black; padding: 10px; margin: 10px 0;"><p><i>"(...) Simeone, sovrano della Bulgaria, inviò l'esercito contro i croati, e quando attaccò battaglia subì una dura sconfitta e perse tutti i suoi soldati. (...) La Croazia battezzata poteva contare su 60.000 cavalieri, fino a 10.000 fanti, fino a 80 sagene (grandi navi), e fino a 100 condurre (navi più piccole). (...)"</i></p></div> <p>Quale sovrano regnava in Croazia nell'epoca appena descritta nella fonte storica?</p> <p>_____</p>	
<p><b>46.</b> Quale ordine ecclesiastico ha avuto il permesso di operato, unico nella Bosnia ottomana?</p> <p>_____</p>	<p>0 <input type="checkbox"/></p> <p>1 <input type="checkbox"/></p> <p>punto</p>
<p>POV D-S029</p> <div data-bbox="1299 1980 1458 2116"><p>02</p></div>	

# Storia

**47.** Osserva attentamente la carta storica.



(Sacro romano impero della nazione germanica, Polonia, Ungheria, Croazia, Bosnia, Raška.)

Quale popolo pentrò l'Europa seguendo le direzioni rappresentate sulla carta storica qui sopra?

---

0

☐

1

☐

punto

**48.** Come si chiamava la parte del feudo dove lavoravano i servi della gleba?

---

0

☐

1

☐

punto

**49.** Nella seconda metà del XVI e agli inizi del XVII secolo, quale scienziato croato si era distinto studiando la luce e la geometria?

---

0

☐

1

☐

punto

POV D-S029



02

# Storia

<p><b>50.</b> Come si chiama il movimento dei lavoratori che, agli inizi del XIX secolo, combatteva contro l'introduzione delle macchine all'interno del processo di produzione?</p> <p>_____</p>	<p>0 <input type="checkbox"/></p> <p>1 <input type="checkbox"/></p> <p>punto</p>
<p><b>51.</b> Nella prima parte dell'età moderna, come venivano chiamati i paesi croati situati tra Una e Vrbas, sotto la sovranità ottomana?</p> <p>_____</p>	<p>0 <input type="checkbox"/></p> <p>1 <input type="checkbox"/></p> <p>punto</p>
<p><b>52.</b> Come si chiamava la corrente radicale politica durante la Rivoluzione francese che instaurò il diritto di voto universale per gli uomini?</p> <p>_____</p>	<p>0 <input type="checkbox"/></p> <p>1 <input type="checkbox"/></p> <p>punto</p>
<p><b>53.</b> In quale città è stato pubblicato il primo quotidiano croato bilingue denominato <i>Il regio Dalmata/ Kraglski Dalmatin</i>?</p> <p>_____</p>	<p>0 <input type="checkbox"/></p> <p>1 <input type="checkbox"/></p> <p>punto</p>
<p><b>54.</b> Come si chiama la malattia che colpisce le piante e che, alla fine del XIX secolo d.C., causò anche l'espatrio della popolazione dalle città litoranee?</p> <p>_____</p>	<p>0 <input type="checkbox"/></p> <p>1 <input type="checkbox"/></p> <p>punto</p>
<div data-bbox="180 2013 362 2051" data-label="Text">POV D-S029</div> <div data-bbox="1292 1973 1449 2076" data-label="Image"> </div> <div data-bbox="1404 2074 1457 2110" data-label="Text">02</div>	

# Storia

**55.** Quale città, situata sulla costa orientale dell'Adriatico, era il principale porto militare della monarchia Austro-Ungarica durante la Prima guerra mondiale?

\_\_\_\_\_

0 ☐  
1 ☐

punto


**56.** Come si chiama l'automobile che venne presentata come macchina del popolo in Germania nel 1936?

\_\_\_\_\_

0 ☐  
1 ☐

punto

**57.** Osserva attentamente l'immagine.



Come veniva chiamato lo stato il cui stemma è rappresentato sull'immagine qui sopra?

\_\_\_\_\_

0 ☐  
1 ☐


punto

POV D-S029



02

# Storia

<p><b>58.</b> Come si chiamava l'organizzazione comunista radicale che governò in Cambogia dal 1975 al 1979?</p> <p>_____</p>	<p>0 <input type="checkbox"/></p> <p>1 <input type="checkbox"/></p> <p>punto</p>
<p><b>59.</b> Come viene chiamato il movimento di persecuzione degli intellettuali di sinistra nonché sospetti simpatizzanti del regime comunista, movimento iniziato nel XX secolo negli Stati Uniti d'America?</p> <p>_____</p>	<p>0 <input type="checkbox"/></p> <p>1 <input type="checkbox"/></p> <p>punto</p>
<p><b>60.</b> Come si chiamava l'organizzazione di difesa militare croata in Bosnia ed Erzegovina durante il crollo della SFRJ/ Repubblica Socialista Federale di Jugoslavia?</p> <p>_____</p>	<p>0 <input type="checkbox"/></p> <p>1 <input type="checkbox"/></p> <p>punto</p>
POV D-S029	 02



## III Quesiti a scelta multipla (cronologie)

Nei seguenti quesiti, fra le opzioni proposte, solo **una** è esatta.  
Indica la risposta esatta con una X sul foglio delle risposte.

**61.** Qual è la sequenza cronologica corretta degli avvenimenti della storia dell'Impero romano d'Occidente?

- A.** Klodvig/ Clodoveo fonda il Regno dei Franchi → Teodorik/ Teodorico fonda il regno degli Ostrogoti → sconfitta di Attila nei campi Catalaunici → caduta dell'Impero romano d'Occidente
- B.** caduta dell'Impero romano d'Occidente → sconfitta di Attila nei campi Catalaunici → Klodvig/ Clodoveo fonda lo il Regno dei Franchi → Teodorik/ Teodorico fonda il regno degli Ostrogoti
- C.** sconfitta di Attila nei campi Catalaunici → caduta dell'Impero romano d'Occidente → Klodvig/ Clodoveo fonda il Regno dei Franchi → Teodorik/ Teodorico fonda il regno degli Ostrogoti
- D.** sconfitta di Attila nei campi Catalaunici → Klodvig/ Clodoveo fonda il Regno dei Franchi → caduta dell'Impero romano d'Occidente → Teodorik/ Teodorico fonda il regno degli Ostrogoti

- A.** ☐
- B.** ☐
- C.** ☐
- D.** ☐

**62.** Qual è la sequenza cronologica corretta dei sovrani croati nell'alto Medioevo?

- A.** Petar Krešimir → Stjepan II → Dmitar Zvonimir → Koloman
- B.** Petar Krešimir → Dmitar Zvonimir → Stjepan II → Koloman
- C.** Stjepan II → Dmitar Zvonimir → Petar Krešimir → Koloman
- D.** Petar Krešimir → Dmitar Zvonimir → Koloman → Stjepan II

- A.** ☐
- B.** ☐
- C.** ☐
- D.** ☐



# Storia

**63.** Qual è la sequenza cronologica corretta della comparsa degli stati dell'alto Medioevo?

- A.** Stato pontificio → Regno dei Franchi  
→ Sacro romano impero di nazione germanica → Regno d'Ungheria
- B.** Sacro romano impero di nazione germanica → Stato pontificio  
→ Regno dei Franchi → Regno d'Ungheria
- C.** Stato pontificio → Sacro romano impero di nazione germanica  
→ Stato dei franchi → Regno d'Ungheria
- D.** Regno dei Franchi → Stato pontificio  
→ Sacro romano impero di nazione germanica → Regno d'Ungheria

A. ☐  
B. ☐  
C. ☐  
D. ☐

**64.** Qual è la sequenza cronologica corretta dei sistemi di difesa dagli Ottomani?

- A.** viene fondata la Banovina di Jajce → viene fondata la Banovina di Srebrenica  
→ viene fondato il capitanato di Segna → costruzione di Karlovac
- B.** costruzione di Karlovac → viene fondata la Banovina di Jajce  
→ viene fondata la Banovina di Srebrenica  
→ viene fondato il capitanato di Segna
- C.** viene fondato il capitanato di Segna → costruzione di Karlovac  
→ viene fondata la Banovina di Jajce  
→ viene fondata la Banovina di Srebrenica
- D.** viene fondata la Banovina di Jajce → costruzione di Karlovac  
→ viene fondata la Banovina di Srebrenica  
→ viene fondato il capitanato di Segna

A. ☐  
B. ☐  
C. ☐  
D. ☐



# Storia

**65.** Qual è la sequenza cronologica corretta dei processi di integrazione nazionale?

- A.** il croato diventa lingua ufficiale → il bano Jelačić annette Međimurje  
→ Zagabria diventa un'unica città  
→ unione della Vojna Krajina/ Confine militare
- B.** il bano Jelačić annette Međimurje → il croato diventa lingua ufficiale  
→ unione della Vojna Krajina/ Confine militare → Zagabria diventa un'unica città
- C.** unione della Vojna Krajina/ Confine militare  
→ il bano Jelačić annette Međimurje → il croato diventa lingua ufficiale  
→ Zagabria diventa un'unica città
- D.** il croato diventa lingua ufficiale  
→ unione della Vojna Krajina/ Confine militare  
→ il bano Jelačić annette Međimurje → Zagabria diventa un'unica città

- A.** ☐
- B.** ☐
- C.** ☐
- D.** ☐

**66.** Qual è la sequenza cronologica corretta dell'insorgere degli ordini (raggruppamenti) in Europa?

- A.** giacobini → austroslavi → decabristi → carbonari
- B.** austroslavi → carbonari → decabristi → giacobini
- C.** carbonari → giacobini → decabristi → austroslavi
- D.** giacobini → carbonari → decabristi → austroslavi

- A.** ☐
- B.** ☐
- C.** ☐
- D.** ☐

**67.** Qual è la sequenza cronologica corretta degli avvenimenti della Seconda guerra mondiale?

- A.** evacuazione di Dunquerque → battaglia di El Alamein  
→ battaglia di Stalingrado → sbarco in Normandia
- B.** battaglia di Stalingrado → evacuazione di Dunquerque  
→ sbarco in Normandia → battaglia di El Alamein
- C.** evacuazione di Dunquerque → sbarco in Normandia  
→ battaglia di El Alamein → battaglia di Stalingrado
- D.** battaglia di El Alamein → evacuazione di Dunquerque  
→ battaglia di Stalingrado → sbarco in Normandia

- A.** ☐
- B.** ☐
- C.** ☐
- D.** ☐



# Storia

**68.** Qual è la sequenza cronologica corretta delle conseguenze del conflitto all'interno del *KPJ* (Partito comunista Yugoslavo) e *SKJ* (Lega dei Comunisti di Jugoslava) dopo la Seconda guerra mondiale?

- A. rimozione Milovan Đilas → rimozione di Andrija Hebrang  
→ rimozione di Aleksandar Ranković → rimozione di Savka Dabčević-Kučar
- B. rimozione di Savka Dabčević-Kučar → rimozione di Milovan Đilas  
→ rimozione di Aleksandar Ranković → rimozione di Andrija Hebrang
- C. rimozione di Andrija Hebrang → rimozione di Aleksandar Ranković  
→ rimozione di Milovan Đilas → rimozione di Savka Dabčević-Kučar
- D. rimozione di Andrija Hebrang → rimozione di Milovan Đilas  
→ rimozione di Aleksandar Ranković → rimozione di Savka Dabčević-Kučar

- A. ☐
- B. ☐
- C. ☐
- D. ☐

**69.** Qual è la sequenza cronologica corretta degli avvenimenti che colpiscono il mondo contemporaneo?

- A. catastrofe a Černobyl' → la distruzione dei grattacieli WTC a New York  
→ operazione *Desert storm* → un'avaria alla centrale nucleare a Fukushima
- B. catastrofe a Černobyl' → operazione *Desert storm*  
→ distruzione dei grattacieli WTC a New York  
→ un'avaria alla centrale nucleare a Fukushima
- C. un'avaria alla centrale nucleare a Fukushima  
→ distruzione dei grattacieli WTC a New York → operazione *Desert storm*  
→ catastrofe a Černobyl'
- D. la distruzione dei grattacieli WTC a New York  
→ catastrofe a Černobyl' → operazione *Desert storm*  
→ un'avaria alla centrale nucleare a Fukushima

- A. ☐
- B. ☐
- C. ☐
- D. ☐

**70.** Qual è la sequenza cronologica corretta delle vittime civili durante l'aggressione della Grande Serbia?

- A. Borovo Selo → villaggio Čelije → Vukovar → Srebrenica
- B. villaggio Čelije → Borovo Selo → Vukovar → Srebrenica
- C. villaggio Čelije → Vukovar → Borovo Selo → Srebrenica
- D. Vukovar → villaggio Čelije → Srebrenica → Borovo Selo

- A. ☐
- B. ☐
- C. ☐
- D. ☐



# Storia

## IV Quesiti a scelta multipla (a partire da un contenuto)

Nei seguenti quesiti, analizza le fonti storiche, le mappe storiche e le immagini allegate e rispondi alle domande.

Fra le opzioni proposte, solo **una** è esatta.

Indica la risposta esatta con una X sul foglio delle risposte.

**71.** Osserva attentamente l'immagine e rispondi alle seguenti domande.



**71.1.** A quale flotta appartiene la nave raffigurata nell'immagine qui sopra?

- A. egizia
- B. fenicia
- C. greca
- D. romana

- A. ☐
- B. ☐
- C. ☐
- D. ☐

**71.2.** Come si chiama la parte della nave segnata sull'immagine?

- A. doppio ordine di rematori
- B. prua in rialzo
- C. ponte mobile
- D. poppa in ribasso

- A. ☐
- B. ☐
- C. ☐
- D. ☐

POV D-S029



01

# Storia

**72.** Osserva attentamente l'immagine e rispondi alle domande.



**72.1.** Come si chiama la chiesa rappresentata nell'immagine?

- A.** chiesa di San Donato a Zara
- B.** chiesa di Santa Lucia a Jurandvor
- C.** chiesa di Santa Croce a Nona
- D.** chiesa di San Michele a Ston

<b>A.</b>	<input type="checkbox"/>
<b>B.</b>	<input type="checkbox"/>
<b>C.</b>	<input type="checkbox"/>
<b>D.</b>	<input type="checkbox"/>

**72.2.** A quale stile architettonico appartiene la chiesa raffigurata nell'immagine?

- A.** preromanico
- B.** romanico
- C.** gotico
- D.** barocco

<b>A.</b>	<input type="checkbox"/>
<b>B.</b>	<input type="checkbox"/>
<b>C.</b>	<input type="checkbox"/>
<b>D.</b>	<input type="checkbox"/>

POV D-S029



01



# Storia

73. Osserva attentamente l'immagine e rispondi alle domande.



73.1. A quale obbligo si sottopongono i contadini che lavorano l'allodio, raffigurati nell'immagine?

- A. pecuniario/ in denaro
- B. colonato
- C. di lavoro/ *corvée*
- D. militare

- A. ☐
- B. ☐
- C. ☐
- D. ☐

73.2. Come si chiama l'ordinamento sociale le cui caratteristiche sono raffigurate nell'immagine?

- A. feudalesimo
- B. mercantilismo
- C. fisiocrazia
- D. cameralismo

- A. ☐
- B. ☐
- C. ☐
- D. ☐



# Storia

**74.** Osserva attentamente la carta storica e rispondi alle domande.



(Capitanato di Segna/ Senj 1459; Banovina di Jajce, 1463; Banovina di Srebrenica 1464.)

**74.1.** Quale potenza militare penetrava nel territorio croato nelle direzioni contrassegnate dalle frecce verdi sulla carta storica qui sopra?

- A. Impero bizantino
- B. Impero bulgaro
- C. Impero mongolo
- D. Impero ottomano

- A. ☐
- B. ☐
- C. ☐
- D. ☐

**74.2.** Chi ha organizzato il sistema di difesa sui luoghi contrassegnati dal colore rosso sulla carta storica qui sopra?

- A. Ludovik II Jagelović
- B. Matijaš Korvin
- C. Toma Bakač Erdödy
- D. Tvrtko I Kotromanić

- A. ☐
- B. ☐
- C. ☐
- D. ☐





# Storia

**75.** Leggi attentamente la fonte storica e rispondi alle domande.

*“(...) decidiamo Noi di nostra propria volontà e in base alla saggezza e giurisdizione apostolica: tutte le isole e la terraferma scoperte e che devono ancora venir scoperte...a settentrione e meridione della linea che va dal polo Nord al polo Sud...e che dalle isole che chiamansi Azzurre e Capo Verde dista cento leghe a nord e sud...(...) doniamo e cediamo (...) in nome della fundamentalità di Cristo che rappresentiamo sulla terra...e con tutte queste terre di appartenenza cediamo a Voi, ai Vostri successori ed eredi, a Voi re della Castiglia e Asturie in eterno.”*

**75.1.** Chi ha diviso il territorio come descritto nella fonte storica qui sopra?

- A. l'imperatore tedesco
- B. il patriarca di Costantinopoli
- C. il papa romano
- D. il doge di Venezia

- A. ☐
- B. ☐
- C. ☐
- D. ☐

**75.2.** Tra quali terre viene spartito il territorio descritto nella fonte storica?

- A. tra Francia e Impero ottomano
- B. tra Genova e Venezia
- C. tra i Paesi Bassi e Inghilterra
- D. tra Spagna e Portogallo

- A. ☐
- B. ☐
- C. ☐
- D. ☐



# Storia

**76.** Leggi attentamente la fonte storica e rispondi alle domande.

*“(...) Noi, Bano di Croazia, Slavonia e Dalmazia (...) nel desiderio di calmarvi e rassicurarvi, consegnamo a tutti Voi, appartenenti al popolo di Croazia e Slavonia, che finora siete stati servi della gleba e sudditi del signore, questa Nostra lettera aperta, in base a cui Voi insieme ai vostri discendenti sarete per sempre liberi dalle corvè del signore e da ogni tributo urbariale e della decima ecclesiastica, (...)”*

**76.1.** Cosa conferma la fonte storica?

- A.** la liberazione dalle corvè, tributo e decima ecclesiastica
- B.** la liberazione dal pagamento delle tasse
- C.** la libertà di credo
- D.** il libero mercato in tutto lo stato

- A.** ☐
- B.** ☐
- C.** ☐
- D.** ☐

**76.2.** Quale bano si rivolge al popolo croato-slavo nella presente fonte storica?

- A.** Dragutin Khuen Héderváry
- B.** Ivan Mažuranić
- C.** Josip Jelačić
- D.** Josip Šokčević

- A.** ☐
- B.** ☐
- C.** ☐
- D.** ☐



# Storia

**77.** Leggi attentamente la fonte storica e rispondi alle domande.

Articolo I

*La Bulgaria è costituita in qualità di ducato autonomo e tributario sotto l'alta sovranità di Sua Maestà il Sultano; essa avrà un governo cristiano e una milizia nazionale.*

Articolo XIII

*È formata a sud dei Balcani, una provincia che prenderà il nome di Rumelia orientale e che resterà posta sotto l'autorità politica e militare diretta di Sua Maestà il Sultano, in condizioni di autonomia amministrativa. Essa avrà un governatore generale cristiano.*

Articolo XXV

*Le provincie di Bosnia e di Erzegovina saranno occupate e amministrate dall'Austria-Ungheria. Il governo d'Austria-Ungheria non desiderando l'incaricarico dell'amministrazione del Sangiaccato di Novi Pazar, che si estende tra Serbia e Montenegro in direzione sud-orientale fino a Mitrovica, qui l'amministrazione ottomana continuerà a funzionarvi (...)*

**77.1.** A quale patto si riferiscono i decreti nella fonte storica?

- A. patto di Vienna
- B. patto di Berlino
- C. patto di Parigi
- D. patto di Roma

- A. ☐
- B. ☐
- C. ☐
- D. ☐

**77.2.** Cosa si voleva risolvere nell'Impero ottomano con gli articoli citati nella fonte storica?

- A. la questione secolare
- B. la questione d'Oriente
- C. l'abolizione del sistema ottomano (*timarli sipahi*)
- D. lo status dei luoghi sacri

- A. ☐
- B. ☐
- C. ☐
- D. ☐



# Storia

78. Osserva attentamente l'immagine e rispondi alle domande.



78.1. Come si chiama la corrente artistica alla quale appartiene l'immagine qui sopra?

- A. secessione
- B. espressionismo
- C. surrealismo
- D. arte *naïf*

- A. ☐
- B. ☐
- C. ☐
- D. ☐

78.2. Quale avvenimento della storia croata del XX secolo è rappresentato nell'immagine?

- A. requisizione
- B. collettivizzazione
- C. reclutamento forzato
- D. raccolta forzata dei tributi

- A. ☐
- B. ☐
- C. ☐
- D. ☐

POV D-S029



01

# Storia

**79.** Leggi attentamente la fonte storica e rispondi alle domande.

*“I bei tempi finirono nel maggio del 1940; prima la guerra, la capitolazione, l’invasione tedesca, poi cominciarono le sventure per noi ebrei. Le leggi antisemitiche si susseguivano l’una all’altra. Gli ebrei debbono portare la stella giudaica. Gli ebrei debbono consegnare le biciclette. Gli ebrei non possono salire in tram, gli ebrei non possono più andare in auto. Gli ebrei non possono fare acquisti che fra le tre e le cinque, e soltanto dove sta scritto ‘bottega ebraica’. Gli ebrei dopo le otto di sera non possono stare per strada né trattenersi nel loro giardino o quello di conoscenti. (...) Questa mattina alle otto gli inglesi dicevano: violenti bombardamenti di Calais, Boulogne, Le Havre e Chebourg, oltre che del Pas de Calais (come di solito). Trasmissione inglese in inglese all’una (tradotta): undicimila aereoplani sono pronti e volano senza sosta avanti e indietro per lanciare paracadutisti e bombardare le retrovie. (...) Quattromila pontoni da sbarco e piccole imbarcazioni portano incessantemente truppe e materiale sulla costa fra Chebourg e Le Havre. (...) L’alloggio segreto è in subbuglio! Si avvicina dunque davvero la liberazione lungamente attesa, la liberazione di cui si è tanto parlato, ma che è troppo bella, troppo leggendaria per diventar mai realtà? Quest’anno, il 1944 ci darà la vittoria? (...)”*

**79.1.** Come si chiama la forma di intolleranza descritta nella presente fonte storica?

- A. antisemitismo
- B. antiterrorismo
- C. sionismo
- D. militarismo

- A. ☐
- B. ☐
- C. ☐
- D. ☐

**79.2.** Come si chiama l'operazione militare descritta nella fonte storica?

- A. Torch
- B. Barbarossa
- C. Leone marino
- D. Overlord

- A. ☐
- B. ☐
- C. ☐
- D. ☐

POV D-S029



01

# Storia

**80.** Leggi attentamente la fonte storica e rispondi alle domande.

*“(...) Durante il primo volo, in seguito a una lunga pausa di proibizione di volo in aeroporto per tutti i croati, una pausa imposta dalle proibizioni amministrative (...) doveva supervisionare la ritirata del JNA da (...) È atterrato, seguendo la linea di volo Zagabria-Lubiana sino a Capodistria e indietro ancora via Lubiana ed entrato nello spazio aereo dell’Austria approssimativamente attorno a Bleiburg. Subito dopo l’entrata nello spazio aereo ha abbassato il carrello d’atterraggio e si è recato verso l’aeroporto vicino a Klagenfurt dove è atterrato con successo, l’aereo era disarmato (...) Era il 25 ottobre dell’anno 1991 quando in tutto il mondo vennero trasmesse le sue parole accompagnate dall’immagine: il pilota croato e il suo aereo MiG-21, all’aeroporto di Klagenfurt, le sue parole furono: ‘io sono Croato, non voglio e non sparerò ai Croati!’ (...)”*

**80.1.** A quale membro dell'esercito croato si riferisce la fonte storica?

- A. Andrija Matijaš Pauk
- B. Blago Zadro
- C. Damir Tomljanović-Gavran
- D. Rudolf Perešin

- A. ☐
- B. ☐
- C. ☐
- D. ☐

**80.2.** A cosa si riferisce l'acronimo JNA, menzionato nella fonte storica?

- A. *Jugoslavensku narodnooslobodilačka armija*
- B. *Jugoslavenska narodna armija*
- C. *Jedinstvena narodna armija*
- D. *Južnoslavenska narodna armija*

- A. ☐
- B. ☐
- C. ☐
- D. ☐



Pagina vuota



Pagina vuota

