



Nacionalni centar
za vanjsko vrednovanje
obrazovanja

Adesivo per l'identificazione

INCOLLARE ATTENTAMENTE

POV

STORIA

POV D-S034

POV.34.IT.R.K1.40



33459



12

Pagina vuota



INDICAZIONI GENERALI

Leggi attentamente tutte le indicazioni e seguile.

Non voltare pagina e non iniziare a risolvere i quesiti senza il permesso dell'insegnante di servizio.

Incolla gli adesivi di identificazione su tutti i materiali d'esame che hai ricevuto nella busta sigillata.

L'esame dura **120** minuti senza interruzioni.

Davanti a ciascun gruppo di quesiti trovi le indicazioni per la loro soluzione.

Leggile attentamente.

Usa esclusivamente una penna a sfera di colore blu o nero.

Scrivi in modo leggibile. Le risposte non leggibili verranno valutate con zero (0) punti.

In caso di errore, correggi mettendo l'errore tra parentesi e barrandolo, poi apponi una breve firma. **È proibito firmarsi per intero con nome e cognome.**

Una volta risolti i quesiti, controlla le risposte.

Buona fortuna!

Questo fascicolo d'esame ha 40 pagine di cui 2 vuote.

In caso tu abbia sbagliato a scrivere la risposta, puoi rimediare in questo modo:

a) per i quesiti di tipo chiuso

Giusto



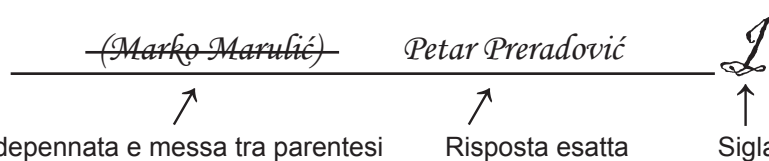
Correzione dell'errore



Sbagliato



b) per i quesiti di tipo aperto



La risposta sbagliata va depennata e messa tra parentesi

Risposta esatta

Sigla



Storia

I Quesiti a scelta multipla

Nei seguenti quesiti, fra le opzioni proposte, solo **una** è esatta.
Indica la risposta esatta con una X sul foglio delle risposte.

1. Cosa studia la scienza storica ausiliaria denominata ecdotica?

- A. le modalità di calcolo del tempo in passato
- B. le migrazioni della popolazione
- C. le misure e tipologie di misurazione nel corso della storia
- D. le modalità di edizione critica delle fonti storiche

- A. ☐
- B. ☐
- C. ☐
- D. ☐

2. Come si chiamano le abitazioni neolitiche costruite su pali infissi nell'acqua?

- A. case a fossa
- B. màstabe
- C. palafitte
- D. castellieri

- A. ☐
- B. ☐
- C. ☐
- D. ☐

3. Di quale specie ominide di antenato umano sono stati trovati i resti solo in Africa?

- A. *Homo habilis*
- B. *Homo erectus*
- C. uomo di Neanderthal
- D. uomo di Cro-Magnon

- A. ☐
- B. ☐
- C. ☐
- D. ☐



Storia

4. Osserva attentamente la carta storica.



Di quale popolo sono rappresentate le direzioni di diffusione sulla carta storica qui sopra?

- A. Arabi
- B. Fenici
- C. Ittiti
- D. Persiani

- A. ☐
- B. ☐
- C. ☐
- D. ☐

5. Quale dei seguenti stati dell'Antico oriente **non aveva** un ordinamento di tipo centralizzato?

- A. Akkad
- B. Babilonia
- C. Egitto
- D. Sumer

- A. ☐
- B. ☐
- C. ☐
- D. ☐

6. Tra le seguenti opzioni, cos'era caratteristico per la civiltà minoica?

- A. talassocrazia
- B. democrazia
- C. teocrazia
- D. timocrazia

- A. ☐
- B. ☐
- C. ☐
- D. ☐

POV D-S034



01

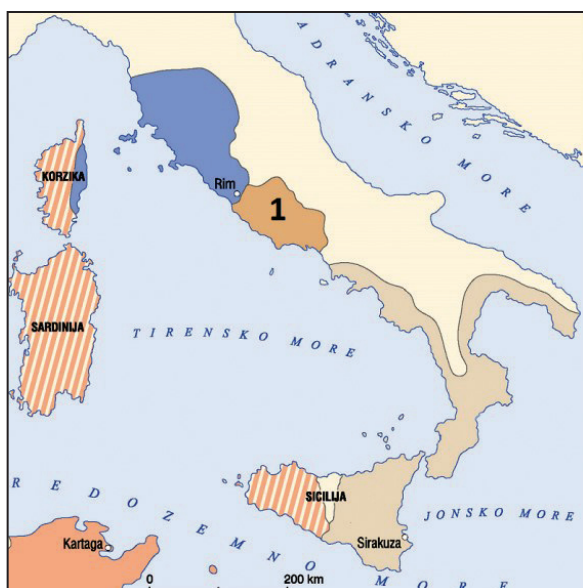
Storia

7. Chi supervisionava il potere dei re nell'antica Sparta?

- A. gli arconti
- B. gli efori
- C. gli iloti
- D. i perieci

- A. ☐
- B. ☐
- C. ☐
- D. ☐

8. Osserva attentamente la carta storica.



MAR ADRIATICO,
MAR TIRRENO,
MAR IONIO,
MAR MEDITERRANEO,
Corsica,
Sardegna,
Cartagine,
Sicilia,
Siracusa,
Roma

Quale popolo abitava l'area contrassegnata dal numero 1 sulla carta storica, verso la metà del VI secolo a.C.?

- A. gli Etruschi
- B. i Greci
- C. i Latini
- D. i Sabini

- A. ☐
- B. ☐
- C. ☐
- D. ☐



Storia

9. Leggi attentamente la fonte storica.

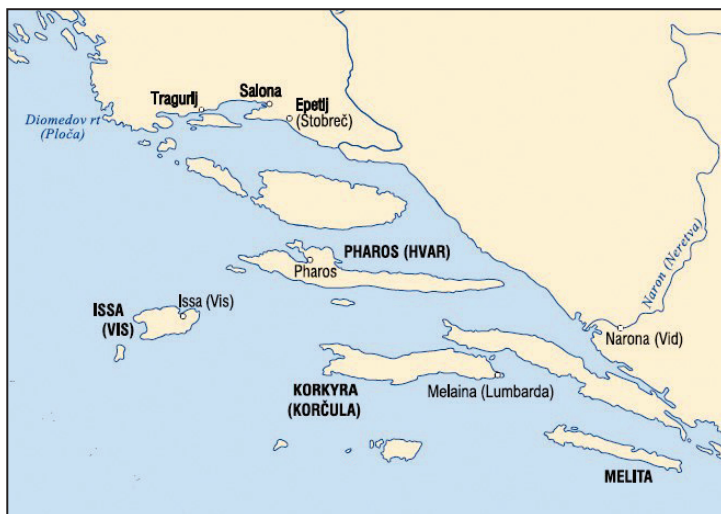
Fu nel XIX anno del dominio dell'imperatore Diocleziano, nel mensis martius, così chiamato dai romani, proprio quando stava avvicinandosi il giorno della passione del Salvatore. E allora dapertutto iniziò a comparire l'immagine dell'imperatore, l'ordine era quello di radere al suolo le chiese e bruciare tutti i libri sacri. Annullare i titoli onorifici, e quelli che avessero delle cariche ecclesiastiche-ridurli in schiavitù se avessero insistito nella (...) fede. (...)

Chi sono i perseguitati stando alla fonte storica qui sopra?

- A. gli àuguri
- B. gli aurispici
- C. i cristiani
- D. i mitraisti

- A. ☐
- B. ☐
- C. ☐
- D. ☐

10. Osserva attentamente la carta storica.



Promontorio di Diomede (Punta Planca/ Ploča),
Tragurion,
Salona,
Epetium (Stobreč),
PHAROS (Lesina/ Hvar),
NARONA (Vid)
Naron/ Neretva
ISSA (Vis)
KORKYRA (Curzola/ Korčula)
MELAINA (Lombarda/ Lumbarda)
MELITA

Quale popolo ha fondato gli insediamenti rappresentati sulla carta storica?

- A. i Lapodi
- B. i Greci
- C. i Croati
- D. i Liburni

- A. ☐
- B. ☐
- C. ☐
- D. ☐



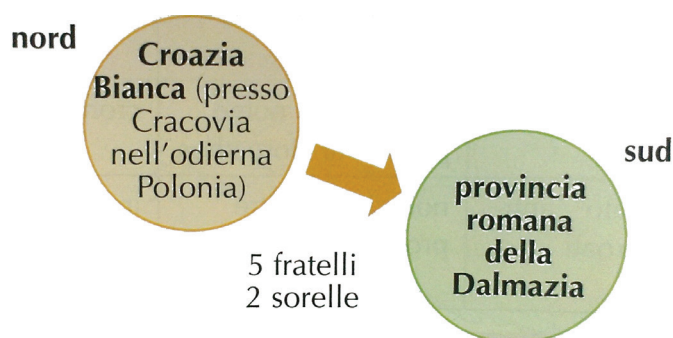
Storia

11. Come si chiamava la popolazione della penisola pirenaica che ebbe il suo centro principale a Còrdova nell'alto medioevo?

- A. Baschi
- B. Mori
- C. Ostrogoti
- D. Visigoti

- A. ☐
- B. ☐
- C. ☐
- D. ☐

12. Osserva l'immagine.



Quale fonte storica testimonia l'arrivo dei Croati secondo lo schema rappresentato nell'immagine qui sopra?

- A. le cronache dello storico spatino Tommaso Arcidiacono
- B. il *De administrando imperio*
- C. le Tavole di Tanais
- D. la Biografia di Carlo il Grande

- A. ☐
- B. ☐
- C. ☐
- D. ☐

13. Come si chiama la lotta per la supremazia tra potere temporale e spirituale (tra i re e i papi) nel corso dell'XI e del XII secolo?

- A. secolarizzazione
- B. investiture
- C. nicolaitismo/ nicolaismo
- D. iconolatria

- A. ☐
- B. ☐
- C. ☐
- D. ☐



Storia

14. Leggi attentamente la fonte storica.

(...) Per tenerli popolati, ogni quattro anni, i rappresentanti del sultano visitavano tutti i villaggi cristiani sotto il dominio ottomano. Ad essi venivano presentati tutti i fanciulli dai sei ai nove anni e un quinto di questi, in ordine, tra quelli che erano piu' intelligenti e forti, venivano portati via. (...)

Come si chiama la pratica descritta nella fonte storica qui sopra?

- A. devscirme (pedomàzoma)
- B. čitlučenje
- C. kharaj/ harač (koreghia)
- D. jihād

- A. ☐
- B. ☐
- C. ☐
- D. ☐

15. Quale delle seguenti affermazioni è relativa all'opera del 1483, Missale romanum glagolitice/ Misal po zakonu rimskoga dvora?

- A. il primo messale croato manoscritto in alfabeto latino
- B. il primo messale croato stampato e scritto in alfabeto latino
- C. il primo messale croato manoscritto in alfabeto glagolitico
- D. il primo messale croato stampato e scritto in alfabeto glagolitico

- A. ☐
- B. ☐
- C. ☐
- D. ☐

16. Nel 1390, quale sovrano della Bosnia si autoproclamò re della Croazia e Dalmazia?

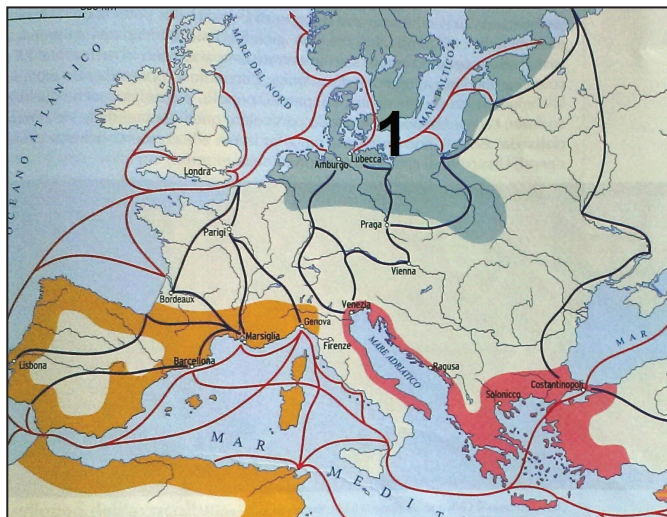
- A. Kulin
- B. Stjepan II Kotromanić
- C. Tvrtko I Kotromanić
- D. Stjepan Tomašević

- A. ☐
- B. ☐
- C. ☐
- D. ☐



Storia

17. Osserva attentamente la carta storica.



Nel medioevo, qual'era la città-guida di tutta l'area commerciale contrassegnata dal numero 1 sulla carta storica?

- A. Berlino
- B. Lubecca
- C. Stoccolma
- D. Varsavia

- A. ☐
- B. ☐
- C. ☐
- D. ☐

18. Chi ha fondato, nel XII secolo, il movimento dei poveri di Lione, nella Francia meridionale?

- A. papa Alessandro III
- B. papa Gregorio IX
- C. Giovanna d'Arco
- D. Pietro Valdo/ Valdes

- A. ☐
- B. ☐
- C. ☐
- D. ☐


19. Qual era l'occasione di ritrovo della nobiltà croata nella Dieta a Cetingrad nel 1527?

- A. la caduta della banovina di Jajce sotto il potere degli Ottomani
- B. l'occupazione ottomana di Obrovac e Udbine
- C. la caduta di Klis e la morte di Petar Kružić
- D. la morte del re Lodovico II Jagellone


- A. ☐
- B. ☐
- C. ☐
- D. ☐



Storia

<p>20. Agli inizi del XVII secolo, in quale città è stato costruito il primo teatro pubblico della Croazia?</p> <p>A. a Lesina/ Hvar B. a Spalato C. a Zara D. a Zagabria</p>	<p>A. <input type="checkbox"/></p> <p>B. <input type="checkbox"/></p> <p>C. <input type="checkbox"/></p> <p>D. <input type="checkbox"/></p>
<p>21. Nel 1689, quale sovrano inglese confermò i diritti del parlamento approvando la Carta dei diritti (Bill of Rights)?</p> <p>A. Enrico VIII B. Giacomo II C. Carlo I D. Guglielmo III</p>	<p>A. <input type="checkbox"/></p> <p>B. <input type="checkbox"/></p> <p>C. <input type="checkbox"/></p> <p>D. <input type="checkbox"/></p>
<p>22. Cosa accadde alla città di Fiume/ Rijeka in seguito alla decisione del 1779 di Maria Teresa?</p> <p>A. la Città venne messa sotto la gestione del bano croato e della Dieta croata B. la Città venne messa sotto la gestione del Consiglio di guerra sito a Graz C. la Città divenne <i>corpus separatum</i> croato in un sistema di terre sotto il controllo della corona ungarica D. la Città venne divisa tra la Repubblica di Venezia e la Monarchia asburgica</p>	<p>A. <input type="checkbox"/></p> <p>B. <input type="checkbox"/></p> <p>C. <input type="checkbox"/></p> <p>D. <input type="checkbox"/></p>
<p>23. Nel primo periodo dell'età moderna, dove si trovava il monastero nel quale era situato il centro della provincia francescana di <i>Bosna Srebrena</i>?</p> <p>A. a Jajce B. a Fojnica C. nella Valle dei re/ <i>Kraljeva Sutjeska</i> D. a Kreševo</p>	<p>A. <input type="checkbox"/></p> <p>B. <input type="checkbox"/></p> <p>C. <input type="checkbox"/></p> <p>D. <input type="checkbox"/></p>
<p>24. Quali idee si diffondevano per l'Europa, durante il dominio di Napoleone?</p> <p>A. idee di società secolare B. idee di stati teocentrici C. idee di democrazie sociali D. idee di cattolicesimo politico</p>	<p>A. <input type="checkbox"/></p> <p>B. <input type="checkbox"/></p> <p>C. <input type="checkbox"/></p> <p>D. <input type="checkbox"/></p>
<p>POV D-S034</p>	 <p>01</p>

Storia

<p>25. Qual era la conseguenza del Congresso panslavo tenutosi a Praga nel 1848?</p> <p>A. l'accentuazione del programma dell'irredentismo B. l'accentuazione del programma dell'austroslavismo C. il licenziamento del cancelliere Metternich D. la terza spartizione della Polonia</p>	<p>A. <input type="checkbox"/></p> <p>B. <input type="checkbox"/></p> <p>C. <input type="checkbox"/></p> <p>D. <input type="checkbox"/></p>
<p>26. Dal 1809 al 1813, quali tre regni si trovavano a contatto nello sbocco dell'Una nella Sava?</p> <p>A. l'Impero russo, ottomano e francese B. l'Impero ottomano, austriaco e francese C. l'Impero tedesco, russo e francese D. l'Impero ottomano, tedesco e austriaco</p>	<p>A. <input type="checkbox"/></p> <p>B. <input type="checkbox"/></p> <p>C. <input type="checkbox"/></p> <p>D. <input type="checkbox"/></p>
POV D-S034	 01

Storia

27. Osserva attentamente la carta storica.



AUSTRIA,
UNGHERIA/ Lago Balaton,
SERBIA,
IMPERO OTTOMANO,
MONTENEGRO,
MARE ADRIATICO
Carinzia/ Koruška,
Carniola/ Kranjska,
Gorizia,
Istria,
Croazia,
Vojna Krajina,
Slavonia,
Bosnia,
Impero ottomano,
Erzegovina,
Dalmazia

Stando alle idee del conte Janko Drašković, come si doveva chiamare lo stato, contrassegnato dal colore viola sulla carta storica qui sopra?

- A. Banovina di Croazia/ *Banovina Hrvatska*
- B. Province illiriche
- C. Regno trino
- D. Grande Illiria

A.	<input type="checkbox"/>
B.	<input type="checkbox"/>
C.	<input type="checkbox"/>
D.	<input type="checkbox"/>

28. Nel periodo dell'assolutismo di Bach, quale gruppo sociale era portatore della germanizzazione nelle terre croate?

- A. i funzionari
- B. i nobili
- C. i contadini
- D. i sacerdoti

A.	<input type="checkbox"/>
B.	<input type="checkbox"/>
C.	<input type="checkbox"/>
D.	<input type="checkbox"/>



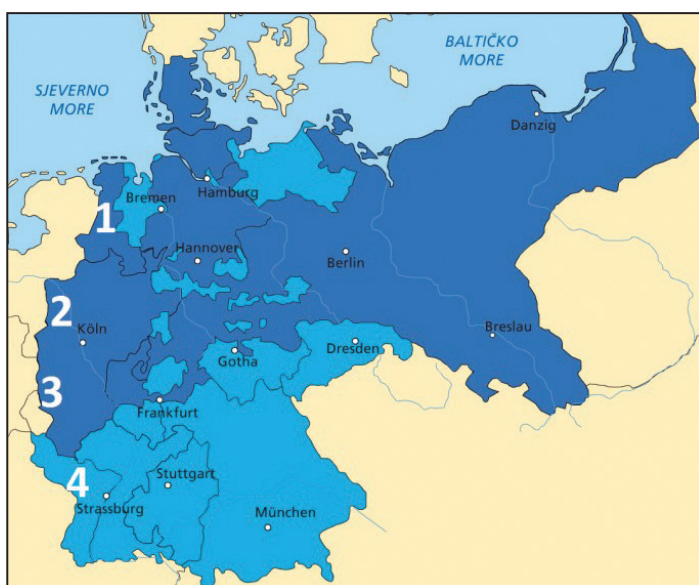
Storia

29. Nel 1851, in quale città venne organizzata la prima mostra internazionale dell'economia?

- A. a Berlino
- B. a Londra
- C. a Parigi
- D. a Roma

- A. ☐
- B. ☐
- C. ☐
- D. ☐

30. Osserva attentamente la carta storica.



MARE DEL NORD,
MAR BALTICO
Brema/ Bremen,
Amburgo/ Hamburg,
Hannover,
Colonia/ Köln,
Francoforte/ Frankfurt,
Gotha,
Stoccarda/ Stuttgart,
Strassburgo/ Strassburg,
Monaco/ München,
Berlino,
Dresda/ Dresden,
Breslavia/ Breslau,
Danzica/ Danzig

Con quale numero sono contrassegnate, sulla carta storica, le province dell'Alsazia e della Lorena, province che la Germania annesse dalla Francia nel 1871?

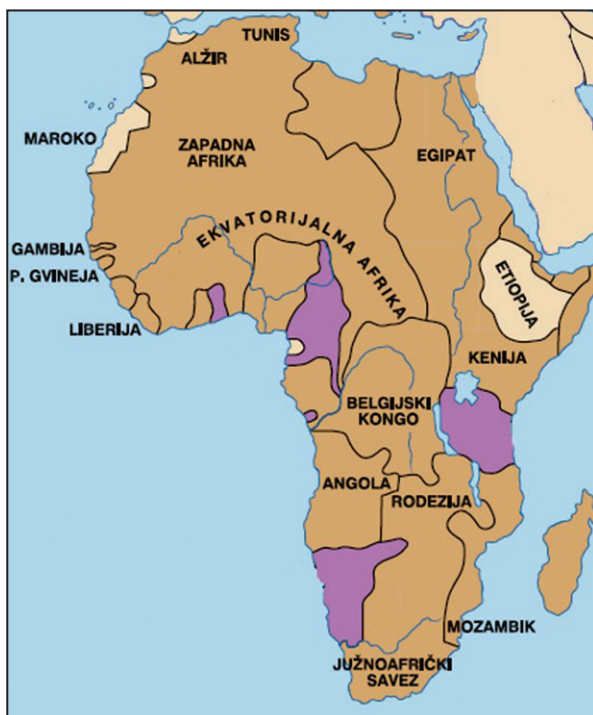
- A. numero 1
- B. numero 2
- C. numero 3
- D. numero 4

- A. ☐
- B. ☐
- C. ☐
- D. ☐



Storia

31. Osserva attentamente la carta storica dell'Africa alla fine del XIX secolo.



Tunisi,
Algeri,
Marocco,
Africa settentrionale,
Africa equatoriale,
Gambia,
Guinea,
Liberia,
Congo belga,
Angola,
Egitto,
Etiopia,
Kenya,
Rodesia,
Mozambico,
Repubblica Sudafricana

Quale stato possedeva le colonie contrassegnate sulla carta storica dal colore viola?

- A. la Francia
- B. l'Italia
- C. la Germania
- D. il Portogallo

A.	<input type="checkbox"/>
B.	<input type="checkbox"/>
C.	<input type="checkbox"/>
D.	<input type="checkbox"/>


32. Nel febbraio del 1918, in quale città si manifestò la più grande rivolta dell'Imperiale regia Marina austro-ungarica (k.u.k. Kriegsmarine)?

- A. alle Bocche di Cattaro
- B. a Porto Re/ Kraljevica
- C. a Pola
- D. a Spalato

A.	<input type="checkbox"/>
B.	<input type="checkbox"/>
C.	<input type="checkbox"/>
D.	<input type="checkbox"/>



Storia

<p>33. Quale partito ebbe la maggioranza dei voti, alle prime elezioni pluripartitiche del Regno dei Serbi, Croati e Sloveni/ <i>SHS</i>?</p> <p>A. il Partito popolare contadino croato/ <i>Hrvatska pučka seljačka stranka</i> B. il Partito democratico della Jugoslavia/ <i>Jugoslavenska demokratska stranka</i> C. il Partito comunista della Jugoslavia/ <i>Komunistička partija Jugoslavije</i> D. il Partito sociale radicale/ <i>Narodna radikalna stranka</i></p>	<p>A. <input type="checkbox"/></p> <p>B. <input type="checkbox"/></p> <p>C. <input type="checkbox"/></p> <p>D. <input type="checkbox"/></p>
<p>34. Quale fu l'importanza del volo aereo di Louis Bleriot, nel 1909?</p> <p>A. attraversò per primo l'Oceano Atlantico B. attraversò per primo il Canale della Manica C. fu il primo che fece il giro della Terra in aereo D. fu il primo a lanciarsi con il paracadute da un aereo</p>	<p>A. <input type="checkbox"/></p> <p>B. <input type="checkbox"/></p> <p>C. <input type="checkbox"/></p> <p>D. <input type="checkbox"/></p>
<p>35. Qual'era l'operato di base del <i>Državni slikopisni zavod</i> denominato "<i>Hrvatski slikopis</i>", nello Stato Indipendente Croato/ <i>NDH</i>?</p> <p>A. di registrare dei film B. di creare fotografie C. di fare gli spettacoli D. di pubblicare carte geografiche militari</p>	<p>A. <input type="checkbox"/></p> <p>B. <input type="checkbox"/></p> <p>C. <input type="checkbox"/></p> <p>D. <input type="checkbox"/></p>
<p>36. A quale, delle seguenti conferenze degli alleati, non ha partecipato il presidente degli USA, Franklin Delano Roosevelt?</p> <p>A. a Casablanca B. a Jalta C. a Potsdam D. a Teheran</p>	<p>A. <input type="checkbox"/></p> <p>B. <input type="checkbox"/></p> <p>C. <input type="checkbox"/></p> <p>D. <input type="checkbox"/></p>
<p>POV D-S034</p>	 <p>01</p>

Storia

37. Leggi attentamente la fonte storica.

(...) Tutto ciò che dicevo in riferimento ai diritti del popolo croato alla libertà e all'indipendenza, è in accordo con i principi base degli alleati, principi che sono stati rilevati a Jalta e nella Carta atlantica. (...) Ma è possibile che un vescovo cattolico e metropolita, su tutto ciò non abbia diritto a proferir parola? (...) E ancora, dichiaro davanti a tutti: che ben 260- 270 sacerdoti sono stati uccisi dal movimento di liberazione nazionale (...)

Chi è l'autore della fonte storica di qui sopra?

- A. Alojzije Stepinac
- B. Antun Bauer
- C. Franjo Kuharić
- D. Franjo Šeper



- A. ☐
- B. ☐
- C. ☐
- D. ☐

38. Come si chiama la politica, che allevia le tensioni tra due blocchi politico-militari, politica che segnò la fine del periodo della guerra fredda?

- A. defetismo
- B. distensione
- C. glasnost
- D. perestrojka

- A. ☐
- B. ☐
- C. ☐
- D. ☐



<p>39. Osserva attentamente l'immagine seguente.</p>  <p>Quale avvenimento della Guerra d'indipendenza croata/ Domovinski rat, rappresenta il monumento nella fotografia?</p> <p>A. vittime croate provenienti dallo sblocco dei Laghi di Plitvice/ <i>deblokada Plitvičkih jezera</i> B. caduta dei <i>redarstvenici croati</i> a Borovo Selo C. caduta dei soldati croati agli inizi dell'assedio di Vukovar D. vittime croate dell'occupazione della Škabrnja</p>	<p>A. <input type="checkbox"/></p> <p>B. <input type="checkbox"/></p> <p>C. <input type="checkbox"/></p> <p>D. <input type="checkbox"/></p>
<p>40. A quale posto si è classificata la nazionale croata di calcio, al Campionato mondiale di calcio, tenutosi in Francia nel 1998?</p> <p>A. al primo B. al secondo C. al terzo D. al quarto</p>	<p>A. <input type="checkbox"/></p> <p>B. <input type="checkbox"/></p> <p>C. <input type="checkbox"/></p> <p>D. <input type="checkbox"/></p>
<p>POV D-S034</p>	 <p>01</p>

Storia

Il Quesiti a risposta breve

Nei seguenti quesiti rispondi con una risposta breve (con una parola, alcune parole o con una frase semplice).

Scrivi le risposte **solo** sull'apposito spazio in questo fascicolo d'esame.

Non riempire lo spazio per il punteggio.

41. In quale periodo della preistoria, terminò l'Era glaciale, alla quale seguì lo scioglimento delle masse di ghiaccio?

0 ☐

1 ☐

punto

42. Qual è l'oggetto di studio della scienza storica ausiliaria, denominata vessilologia?

0 ☐

1 ☐

punto

43. Quale pòlis greca praticava la *krypteia*?

0 ☐

1 ☐

punto

44. Come si chiamava l'imperatore bizantino, che nel VI secolo emanò il Codice civile?

0 ☐

1 ☐

punto

POV D-S034



02

Storia

45. Osserva attentamente l'immagine seguente.



Come si chiama questo monumento?

0

☐

1

☐

punto

46. Quale scrittura (alfabeto), venne adottata per stilare il più antico documento giuridico in lingua croata?

0

☐

1

☐

punto

47. Nel 1088, in quale città venne fondata la prima Università europea?

0

☐

1

☐

punto

48. In quale stato asiatico si sviluppò lo *shogunato* come parte integrante dell'ordinamento feudale?

0

☐

1

☐

punto

POV D-S034



02

Storia

<p>49. Quale fortezza divenne sede degli uscocchi, dopo la caduta di Clissa/Klis, nel 1537?</p> <p>_____</p>	<p>0 <input type="checkbox"/></p> <p>1 <input type="checkbox"/></p> <p>punto</p>	
<p>50. Come si chiama la politica economica, che nasce in Francia nel XVIII secolo e in base alla quale l'attività agraria viene considerata quale unica attività economicamente produttiva?</p> <p>_____</p>	<p>0 <input type="checkbox"/></p> <p>1 <input type="checkbox"/></p> <p>punto</p>	
<p>51. Tramite quale pace (successiva al conflitto con gli Ottomani), la monarchia asburgica ottenne, tra l'altro, anche i territori della Slavonia, dello Srijem occidentale, della Lika, parte del Kordun e della Krbava?</p> <p>_____</p>	<p>0 <input type="checkbox"/></p> <p>1 <input type="checkbox"/></p> <p>punto</p>	
<p>52. Osserva attentamente l'immagine seguente.</p> <div data-bbox="220 1388 825 1727"> </div> <p>Quale battaglia, delle guerre napoleoniche, è rappresentata simbolicamente nell'immagine qui sopra?</p> <p>_____</p>		<p>0 <input type="checkbox"/></p> <p>1 <input type="checkbox"/></p> <p>punto</p>
<p>POV D-S034</p> <div data-bbox="1295 1977 1455 2114"> <p>02</p> </div>		

Storia

53. Leggi attentamente la fonte storica.

Noi popoli slavi del regno trino, nel desiderio di rimanere, così come è stato fino ad ora, sottoposti alla corona ungherese, a cui i nostri antenati per la loro libera scelta unirono la corona dei regni di Dalmazia, Croazia e Slavonia, (...) Dato che ci troviamo in una situazione straordinaria, e dato che per restaurare la legittimità è necessario avere una guida suprema legittima: per tale motivo abbiamo eletto all'unanimità il barone Josip Jelačić di Bužim, uomo che gode della fiducia di tutto il popolo, al quale bano si debba affidare il comando dell'esercito della frontiera, e il diritto di indire le elezioni per la dieta.

Come si chiama il documento dal quale è stato tratto il frammento della fonte storica qui sopra?

0 ☐

1 ☐

punto

54. Come si chiamava, fino al 1926, l'organizzazione di emigrati croati, fondata nel 1894 a Pittsburg?

0 ☐

1 ☐

punto

55. Come si chiamava l'organo politico i cui membri, verso la fine della Prima guerra mondiale, si impegnavano fortemente per la creazione dello stato degli slavi meridionali, all'interno della Monarchia asburgica?

0 ☐

1 ☐

punto

56. Con quale film, il comico Charlie Chapin, criticò il nazismo e derise Adolf Hitler?

0 ☐

1 ☐

punto

POV D-S034



02

Storia

57. Leggi attentamente la fonte storica.

Richiedevano che cedessi loro anche la “guida” del Partito contadino e del popolo croato. Risposi loro che i Tedeschi, durante l’occupazione, possono affidare il potere a chi vogliono; tuttavia il Partito contadino croato e il popolo croato non sono in mio possesso. Aspettai così per un’ora dopodiché mi invitarono nella camera d’albergo vicina, dove mi aspettava un membro della Gestapo... (...) Egli mi fece notare che non stavo conducendo una politica reale se rifiutavo la collaborazione con i Tedeschi, e che essi, naturalmente, collaborano molto volentieri con coloro i quali dimostrano di essere fedelissimi al nazismo, e che quindi non ci sarebbe alcun problema se fossi io ad essere a capo del neoproclamato Stato Indipendente Croato/ Nezavisna Država Hrvatska (...)

Come si chiama il politico descritto nella fonte storica qui sopra?

0

☐

1

☐

punto

58. Come si chiama il politico, che nel suo discorso del 1946, dichiarò che da Stettino sul Baltico a Trieste sull’Adriatico, era scesa sul continente europeo una cortina di ferro?

0

☐

1

☐

punto

59. Come si chiama l’organizzazione terroristica, responsabile della distruzione delle torri del centro commerciale *World Trade Center*, nel settembre del 2001?

0

☐

1

☐

punto

POV D-S034



02

60. Osserva attentamente l'immagine seguente.



STASERA INIZIANO I GIOCHI

L'apertura di quale manifestazione sportiva testimonia l'immagine qui sopra?

0	<input type="checkbox"/>
1	<input type="checkbox"/>
punto	



III Quesiti a scelta multipla (cronologie)

Nei seguenti quesiti, fra le opzioni proposte, solo **una** è esatta.
Indica la risposta esatta con una X sul foglio delle risposte.

61. Qual è l'ordine cronologico corretto degli avvenimenti della storia relativi alle antiche civiltà?

- A.** Naram-sin diventa sovrano di Akkad → periodo della cosiddetta terza dinastia di Ur → gli Ittiti conquistano la Babilonia → crollo dello stato Ittita
- B.** periodo della cosiddetta terza dinastia di Ur → Naram-sin diventa sovrano di Akkad → gli Ittiti conquistano la Babilonia → crollo dello stato Ittita
- C.** crollo dello stato Ittita → periodo della cosiddetta terza dinastia di Ur → gli Ittiti conquistano la Babilonia → Naram-sin diventa sovrano di Akkad
- D.** periodo della cosiddetta terza dinastia di Ur → crollo dello stato Ittita → gli Ittiti conquistano la Babilonia → Naram-sin diventa sovrano di Akkad

- A.** ☐
- B.** ☐
- C.** ☐
- D.** ☐

62. Qual è l'ordine cronologico corretto della nascita dei primi documenti giuridici e diplomatici croati?

- A.** Giuramento di Zvonimir → Carta di Feliciano → Codice di Vinodol → Statuto di Castua
- B.** Giuramento di Zvonimir → Codice di Vinodol → Carta di Feliciano → Statuto di Castua
- C.** Carta di Feliciano → Giuramento di Zvonimir → Codice di Vinodol → Statuto di Castua
- D.** Carta di Feliciano → Codice di Vinodol → Giuramento di Zvonimir → Statuto di Castua

- A.** ☐
- B.** ☐
- C.** ☐
- D.** ☐



Storia

63. Qual è l'ordine cronologico corretto degli avvenimenti relativi all'epoca delle grandi scoperte geografiche?

- A. il cartografo Waldseemüller attribuisce il nome al nuovo continente America → Bartolomeo Diaz naviga fino al sud dell'Africa → ritorno in Spagna della spedizione di Magellano → arrivo della spedizione portoghese sulle coste del Giappone
- B. Bartolomeo Diaz naviga fino al sud dell'Africa → il cartografo Waldseemüller attribuisce il nome al nuovo continente America → arrivo della spedizione portoghese sulle coste del Giappone → ritorno in Spagna della spedizione di Magellano
- C. Bartolomeo Diaz naviga fino al sud dell'Africa → ritorno in Spagna della spedizione di Magellano → il cartografo Waldseemüller attribuisce il nome al nuovo continente America → arrivo della spedizione portoghese sulle coste del Giappone
- D. Bartolomeo Diaz naviga fino al sud dell'Africa → il cartografo Waldseemüller attribuisce il nome al nuovo continente America → ritorno in Spagna della spedizione di Magellano → arrivo della spedizione portoghese sulle coste del Giappone

A. ☐
B. ☐
C. ☐
D. ☐

64. Qual è la sequenza cronologica corretta degli avvenimenti del periodo di lotta contro gli Ottomani?

- A. Battaglia di Clissa → Battaglia di Krbava → Battaglia di Szigeth → Battaglia di Sisak
- B. Battaglia di Krbava → Battaglia di Clissa → Battaglia di Szigeth → Battaglia di Sisak
- C. Battaglia di Sisak → Battaglia di Clissa → Battaglia di Szigeth → Battaglia di Krbava
- D. Battaglia di Clissa → Battaglia di Krbava → Battaglia di Sisak → Battaglia di Szigeth

A. ☐
B. ☐
C. ☐
D. ☐

65. Qual è la sequenza cronologica corretta degli avvenimenti del periodo del Risveglio nazionale croato?

- A. inizia la pubblicazione di *Zora Dalmatinska* → inizia la pubblicazione delle *Novine Horvatzke* → nascita dei primi partiti politici → fondazione della *Matica ilirska*
- B. nascita dei primi partiti politici → inizia la pubblicazione delle *Novine Horvatzke* → fondazione della *Matica ilirska* → inizia la pubblicazione di *Zora Dalmatinska*
- C. inizia la pubblicazione delle *Novine Horvatzke* → nascita dei primi partiti politici → fondazione della *Matica ilirska* → inizia la pubblicazione di *Zora Dalmatinska*
- D. inizia la pubblicazione delle *Novine Horvatzke* → inizia la pubblicazione di *Zora Dalmatinska* → fondazione della *Matica ilirska* → nascita dei primi partiti politici

A. ☐
B. ☐
C. ☐
D. ☐



Storia

66. Qual è la sequenza cronologica corretta degli avvenimenti delle scoperte del XIX e XX secolo?

- A.** scoperta dei primi giacimenti di petrolio in USA → viene prodotta la prima lampadina elettrica → viene prodotto il primo motore diesel a petrolio → viene effettuata il collegamento tra l'America e l'Europa tramite la linea telegrafica senza fili
- B.** viene effettuata il collegamento tra l'America e l'Europa tramite la linea telegrafica senza fili → scoperta dei primi giacimenti di petrolio in USA → viene prodotta la prima lampadina elettrica → viene prodotto il primo motore diesel a petrolio
- C.** viene prodotta la prima lampadina elettrica → scoperta dei primi giacimenti di petrolio in USA → viene prodotto il primo motore diesel a petrolio → viene effettuata il collegamento tra l'America e l'Europa tramite la linea telegrafica senza fili
- D.** scoperta dei primi giacimenti di petrolio in USA → viene prodotto il primo motore diesel a petrolio → viene prodotta la prima lampadina elettrica → viene effettuata il collegamento tra l'America e l'Europa tramite la linea telegrafica senza fili

- A.** ☐
- B.** ☐
- C.** ☐
- D.** ☐

67. Qual è la sequenza cronologica corretta degli avvenimenti relativi alla storia russa, nel corso della Prima guerra mondiale?

- A.** Rivoluzione di ottobre → Trattato di Brest-Litovsk → Lenin rende pubbliche leTesi di aprile → Rivoluzione di febbraio
- B.** Rivoluzione di febbraio → Lenin rende pubbliche leTesi di aprile → Rivoluzione di ottobre → Trattato di Brest-Litovsk
- C.** Trattato di Brest-Litovsk → Lenin rende pubbliche leTesi di aprile → Rivoluzione di febbraio → Rivoluzione di ottobre
- D.** Lenin rende pubbliche leTesi di aprile → Rivoluzione di febbraio → Rivoluzione di ottobre → Trattato di Brest-Litovsk

- A.** ☐
- B.** ☐
- C.** ☐
- D.** ☐



Storia

68. Qual è la sequenza cronologica corretta della nascita dei documenti relativi alla Prima guerra mondiale?

- A.** Dichiarazione di Zagabria → Dichiarazione di Corfù
→ Dichiarazione di Ginevra → Direttiva del Consiglio nazionale
- B.** Dichiarazione di Corfù → Dichiarazione di Zagabria
→ Dichiarazione di Ginevra → Direttiva del Consiglio nazionale
- C.** Dichiarazione di Ginevra → Dichiarazione di Zagabria
→ Dichiarazione di Corfù → Direttiva del Consiglio nazionale
- D.** Dichiarazione di Corfù → Dichiarazione di Zagabria
→ Direttiva del Consiglio nazionale → Dichiarazione di Ginevra

- A.** ☐
- B.** ☐
- C.** ☐
- D.** ☐

69. Qual è la sequenza cronologica degli avvenimenti relativi al periodo del consolidamento del nazismo?

- A.** annessione dell'Austria → Adolf Hitler si autoproclama *Führer*
→ approvazione delle Leggi di Norimberga → Notte dei cristalli
- B.** Adolf Hitler si autoproclama *Führer* → Notte dei cristalli → annessione
dell'Austria → approvazione delle Leggi di Norimberga
- C.** Adolf Hitler si autoproclama *Führer* → approvazione delle Leggi di Norimberga
→ annessione dell'Austria → Notte dei cristalli
- D.** approvazione delle Leggi di Norimberga → Notte dei cristalli
→ annessione dell'Austria → Adolf Hitler si autoproclama *Führer*

- A.** ☐
- B.** ☐
- C.** ☐
- D.** ☐



Storia

70. Qual è la sequenza cronologica corretta del periodo della storia croata, immediatamente dopo la Seconda guerra mondiale?

- A.** elezioni per l'Assemblea costituente della Jugoslavia
→ fondazione dell'UDBA/ *Uprava državne bezbjednosti*
→ resa pubblica della risoluzione Cominform → introduzione dell'autogestione
- B.** elezioni per l'Assemblea costituente della Jugoslavia
→ introduzione dell'autogestione → fondazione dell'UDBA/ *Uprava državne bezbjednosti* → resa pubblica della risoluzione Cominform
- C.** fondazione dell'UDBA/ *Uprava državne bezbjednosti* → elezioni per l'Assemblea costituente della Jugoslavia → resa pubblica della risoluzione Cominform → introduzione dell'autogestione
- D.** introduzione dell'autogestione → fondazione dell'UDBA/ *Uprava državne bezbjednosti* → resa pubblica della risoluzione Cominform → elezioni per l'Assemblea costituente della Jugoslavia

A. ☐
B. ☐
C. ☐
D. ☐



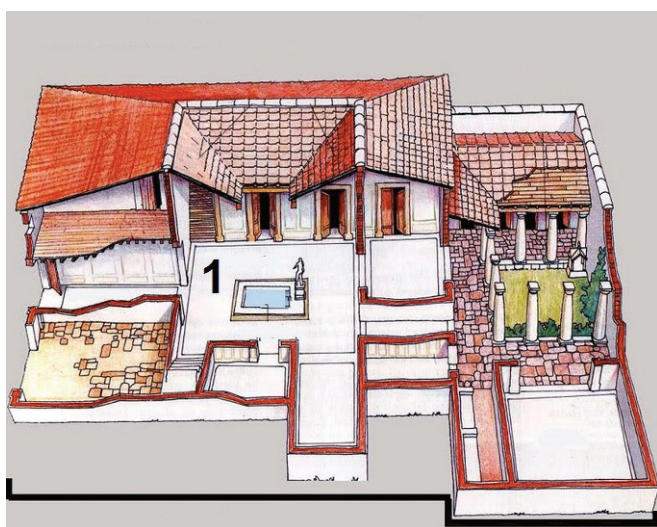
Storia

IV Quesiti a scelta multipla (a partire da un contenuto)

Nei seguenti quesiti, analizza le fonti storiche, le mappe storiche e le immagini allegate e rispondi alle domande. Fra le opzioni proposte, solo **una** è esatta.

Indica la risposta esatta con una X sul foglio delle risposte.

71. Osserva attentamente la seguente immagine e rispondi alle domande.



71.1. Come si chiama la tipologia dell'edificio romano raffigurato nell'immagine qui sopra?

- A. *insula*
- B. *domus*
- C. anfiteatro
- D. terme

- A. ☐
- B. ☐
- C. ☐
- D. ☐

71.2. Come si chiama lo spazio contrassegnato dal numero 1 nell'immagine di cui sopra?

- A. atrio
- B. foro
- C. peristilio
- D. vestibolo

- A. ☐
- B. ☐
- C. ☐
- D. ☐

POV D-S034



01

Storia

72. Leggi attentamente la fonte storica e rispondi alle domande.

I Croati in quel tempo abitavano la Bagibarea, dove adesso vivono i Croati Bianchi. Tuttavia, una generazione si separò da loro: (...), insieme al loro popolo scesero in (...) e trovarono gli Avari che l'abitavano. Combatterono contro di essi per qualche anno, i Croati vinsero, uccisero parte degli Avari e sottomisero gli altri. Da quel momento in questa regione dominano i Croati; (...).

Una parte dei croati giunti in Dalmazia si disperse per occupare l'Illiria e la Pannonia; anche questi avevano un principe sovrano, che intratteneva, di solito, benché attraverso inviati, un contatto amichevole con il principe di Croazia.

72.1. Come si chiama la regione nella quale si è verificato il conflitto tra Croati e Avari?

- A. Dalmazia
- B. Slavonia
- C. Croazia pannonica
- D. Ducato della Croazia Pannonia/ *Donjopanonska Kneževina*

- A. ☐
- B. ☐
- C. ☐
- D. ☐

72.2. Durante l'alto medioevo, come si chiamava la *sclavinia* croata dalla quale si separò una parte dei Croati che dominerà l'Illiria e la Pannonia?

- A. Croazia Bianca
- B. Ducato di Croazia/ Kneževina Hrvatska
- C. Paganìa
- D. Ducato di Dalmazia/ Kneževina Dalmacija

- A. ☐
- B. ☐
- C. ☐
- D. ☐



Storia

73. Leggi attentamente la seguente fonte storica e rispondi alle domande.

Per ora, le ferite inflitteci dai Goti (occidentali) sono ancora fresche, ma presto, presto essi saranno nostri compagni, a tavola e in battaglia, parteciperanno anche nei servizi pubblici.

73.1. Quale processo relativo alla storia dell'Impero romano viene descritto nella fonte storica qui sopra?

- A. diffusione del cristianesimo
- B. guerre romane di conquista
- C. diffusione dell'ellenizzazione
- D. barbarizzazione della società romana

- A. ☐
- B. ☐
- C. ☐
- D. ☐

73.2. A quale avvenimento della storia romana si riferisce la frase relativa alle ferite fresche inflitte dai Goti?

- A. alla marcia su Roma di Annibale nel 216 a.C.
- B. alla marcia su Roma di Alarico nel 410
- C. alla marcia su Roma di Odoacre nel 476
- D. alla marcia su Roma di Teodorico nel 488

- A. ☐
- B. ☐
- C. ☐
- D. ☐



Storia

74. Osserva attentamente la carta storica e rispondi alle domande.



MONARCHIA ASBURGICA,
REPUBBLICA DI VENEZIA,
REPUBBLICA DI RAGUSA

74.1. Come si chiamava l'unità territoriale nell'Impero ottomano contrassegnata dal numero 1 sulla carta storica qui sopra?

- A. pascialik/ *eyalet di* Bosnia
- B. nahya di Bosnia
- C. sangiaccato di Bosnia
- D. thema bizantina

- A. ☐
- B. ☐
- C. ☐
- D. ☐

74.2. Nel 1600, a quale unità territoriale appartenne l'area contrassegnata dalle linee diagonali sulla carta storica di cui sopra?

- A. sangiaccato di Clissa/ Klis
- B. pascialik/ *eyalet di* Kanije
- C. pascialik/ *eyalet di* Belgrado
- D. pascialik/ *eyalet di* Budim

- A. ☐
- B. ☐
- C. ☐
- D. ☐



Storia

75. Leggi attentamente la fonte storica e rispondi alle domande.

Gli indiani del Perù datano le proprie leggi all'età durante la quale lo stato (...) era dominato da Manko Kapak e (...) Roka. Sino all'arrivo del primo di questi due si viveva nella barbarie più assoluta; ma da allora iniziarono a vestirsi in maniera non soltanto decente ma piuttosto distinta e con un certo gusto, educavano i propri figli, lavoravano insieme laboriosamente i propri campi, avevano leggi e giudici, parlavano una lingua sensata, costruivano edifici privati e pubblici, e si sottoponevano alle leggi che venivano decretate dai loro sovrani...Tali leggi che, pure ai migliori avvocati farebbero onore, le annotavano con un sistema di cordicelle annodate... (...)

75.1. Quale popolo è descritto nella fonte storica qui sopra?

- A. Aztechi
- B. Inca
- C. Maya
- D. Toltechi

- A. ☐
- B. ☐
- C. ☐
- D. ☐

75.2. Come si chiama il sistema di annotazione con le cordicelle annodate che viene menzionata nella fonte storica di cui sopra?

- A. ayani
- B. rune
- C. totem
- D. quipu

- A. ☐
- B. ☐
- C. ☐
- D. ☐



Storia

76. Leggi attentamente la fonte storica e rispondi alle domande.

(...) Siccome è già successa l'anno scorso una specie di rivolta contadina nel nostro regno della bassa Slavonia, per placare i timori e stabilirne l'origine e la causa, per grazia è stata inviata la nostra commissione (e) in ultimo è stato appurato che il grosso dell'accaduto era causato. (...) che alcuni signorotti feudali decisamente sregolati richiedevano dai propri sudditi lavori e beni della terra (...) Dopo aver ponderato su queste cose (...) abbiamo deciso di emanare un atto sulle imposte permanenti nella sopracitata Slavonia bassa, nostra terra, e dunque nelle contee/županije di Virovitica, della Požega e dello Srijem.

76.1. Durante il dominio di quale sovrano sono state approvate le decisioni descritte nella fonte storica qui sopra?

- A. di Giuseppe II
- B. di Carlo III
- C. di Leopoldo II
- D. di Maria Teresa

- A. ☐
- B. ☐
- C. ☐
- D. ☐

76.2. Come si chiamano gli atti sulle imposte, citati nella fonte storica di cui sopra?

- A. *Annales*
- B. firmani
- C. *iura municipalia*
- D. urbani

- A. ☐
- B. ☐
- C. ☐
- D. ☐



Storia

77. Osserva attentamente la carta storica e rispondi alle domande.



GRANDUCATO DI VARSAVIA
Mosca
RUSSIA

77.1. Quando ebbe inizio la marcia di Napoleone I Bonaparte, raffigurata nella carta storica qui sopra?

- A. nel 1804
- B. nel 1806
- C. nel 1810
- D. nel 1812

- A. ☐
- B. ☐
- C. ☐
- D. ☐

77.2. Qual era la conseguenza immediata della marcia militare raffigurata sulla carta storica di cui sopra?

- A. il collasso del Gran esercito di Napoleone
- B. la sanzione della Pace a Schönbrunn
- C. l'abdicazione dello zar russo
- D. viene stabilito il blocco continentale

- A. ☐
- B. ☐
- C. ☐
- D. ☐



Storia

78. Osserva attentamente l'immagine seguente e rispondi alle domande.



LA BATTAGLIA dell'Europa
unita A ORIENTE.

Mostra al Convegno di Zagabria

78.1. A quale operazione militare si riferisce il manifesto qui sopra?

- A. all'operazione *Barbarossa*
- B. all'operazione *Leone marino*
- C. all'operazione *Torcia*
- D. all'operazione *Movimento del cavallo*

- A. ☐
- B. ☐
- C. ☐
- D. ☐

78.2. Come si chiama, l'alleanza politico-militare la cui "battaglia dell'Europa unita" è rappresentata sull'immagine di cui sopra?

- A. Coalizione antifascista
- B. Patto Anti-Comintern
- C. Imperi centrali
- D. Patto tripartito

- A. ☐
- B. ☐
- C. ☐
- D. ☐

POV D-S034



01

Storia

79. Osserva attentamente la carta storica e rispondi alle domande.



79.1. Come si chiama il fronte di battaglia, le cui linee del fronte sono contrassegnate dal colore rosso sulla carta storica qui sopra?

- A. fronte dei Balcani
- B. fronte orientale
- C. fronte di Salonicco/ Fronte macedone
- D. fronte occidentale

- A. ☐
- B. ☐
- C. ☐
- D. ☐

79.2. Quale battaglia si verificò nel 1914, nell'area contrassegnata dal numero 1 sulla carta storica qui sopra?

- A. Battaglia di Verdun
- B. Battaglia della Marna
- C. Battaglia di Gallipoli
- D. Battaglia di Tannenberg

- A. ☐
- B. ☐
- C. ☐
- D. ☐

POV D-S034



01

Storia

80. Leggi attentamente la fonte storica e rispondi alle domande.

(...) Le questioni che attualmente non possono venir risolte, come la posizione dell'Armata popolare jugoslava/ JNA, i rapporti diplomatici con gli alleati e la suddivisione dei diritti e dei doveri comuni, verranno regolati da un contratto speciale- contratto tra la Repubblica di Croazia e le altre unità federali e la SFRJ attualmente in processo di separazione. In corso di separazione, la Repubblica di Croazia riconosce solo le alleanze le cui istituzioni, nonché processi decisionali, poggiano su basi di parità e accordo. (...)
La Repubblica di Croazia ritira i propri rappresentanti dall'Assemblea costituente della SFRJ, la cui sessione elettorale è scaduta e la sua esistenza risulta irrilevante nel processo di separazione. (...)

Zagabria, 25 giugno 1991

80.1. Cosa venne confermato giuridicamente, con l'approvazione della decisione contenuta nella fonte storica qui sopra?

- A.** l'instaurazione dello stato croato indipendente e sovrano
- B.** il referendum sulla posizione della Croazia nella Repubblica Socialista Federale della Jugoslavia/ SFRJ
- C.** l'instaurazione del parlamento croato (Dieta/ sabor)
- D.** l'ingresso delle forze *UNPROFOR* nel territorio croato

- A.** ☐
- B.** ☐
- C.** ☐
- D.** ☐

80.2. Come si chiama la festa nazionale in memoria della decisione contenuta nella fonte storica di cui sopra?

- A.** Giornata del parlamento croato (Dieta/ sabor)/ *Dan Hrvatskoga sabora*
- B.** Giornata dell'indipendenza/ *Dan neovisnosti*
- C.** Giornata della festa nazionale/ *Dan državnosti*
- D.** Giornata della vittoria/ *Dan pobjede i domovinske zahvalnosti*

- A.** ☐
- B.** ☐
- C.** ☐
- D.** ☐



Pagina vuota

