



Nacionalni centar
za vanjsko vrednovanje
obrazovanja

Azononosító matrica

FIGYELMESEN RÁRAGASZTANI

POV

TÖRTÉNELEM

POV D-S039

POV.39.MA.R.K1.36



37126



12

Történelem

Üres oldal

POV D-S039



99

ÁLTALÁNOS UTASÍTÁSOK

Figyelmesen olvassa el az összes utasítást és kövesse azokat.

Ne lapozzon, és ne oldja meg a feladatokat, amíg az ügyeletes tanár azt jóvá nem hagyja!

Ragassza fel az azonosító címkéket az összes vizsgaanyagra, amelyet a biztonsági zacskóban kapott.

A vizsga **120** percig tart szünet nélkül.

Minden feladatcsoport előtt szerepel az adott feladatok megoldási útmutatója.

Figyelmesen olvassa el azt!

Használjon kizárólag kék vagy fekete színű golyóstollat.

Írjon olvashatóan! Az olvashatatlan válaszok nulla (0) ponttal lesznek pontozva.

Ha az írásnál hibát követ el, a hibát tegye zárójelbe, húzza át, és lássa el rövid aláírásával. **Tilos aláírnia magát teljes névvel és vezetéknévvel.**

Amikor megoldotta a feladatokat, ismét ellenőrizze a válaszokat!

Sok sikert kívánunk!

Ennek a vizsgafüzetnek 36 oldala van, ebből 2 üres.

Ha hibát követett el a válasz írásakor, így javítsa:

a) zárt típusú feladat

Helyes



Hibás bevitel javítása

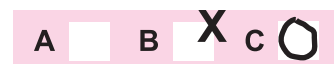


Átmásolt pontos válasz

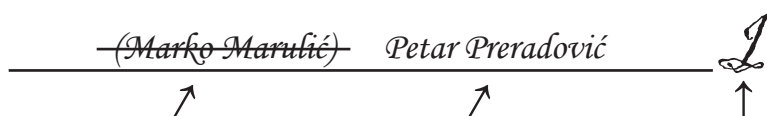


Rövidített aláírás

Helytelen



b) nyílt típusú feladat



Áthúzott pontatlan válasz zárójelben

Pontos válasz

Rövidített aláírás



Történelem

I. Többszörös feleletválasztó feladatok

A következő feladatokban a több megadott válasz közül **csak** egy a pontos.
A pontos válaszokat az X jellel kell megjelölnie a válaszok listáján.

1. Mi a Husnyákovo-hegyen talált neandervölgyiek maradványainak felbecsült kora?

- A. körülbelül 100 000 év Krisztus előtt
- B. körülbelül 250 000 év Krisztus előtt
- C. körülbelül 1,5 millió év Krisztus előtt
- D. körülbelül 2 millió év Krisztus előtt

- A. ☐
- B. ☐
- C. ☐
- D. ☐

2. Mi kötődik a felsoroltak közül a "termékeny félhold" területéhez?

- A. a tűz felfedezése
- B. a neolitikus forradalom
- C. az Australopithecus megjelenése
- D. az első szerszámok készítése

- A. ☐
- B. ☐
- C. ☐
- D. ☐

3. Melyik ókori népet nevezték a görögök "kenyérevőknek" mert fizetést kaptak, valamint adót fizettek kenyér és sör formájában?

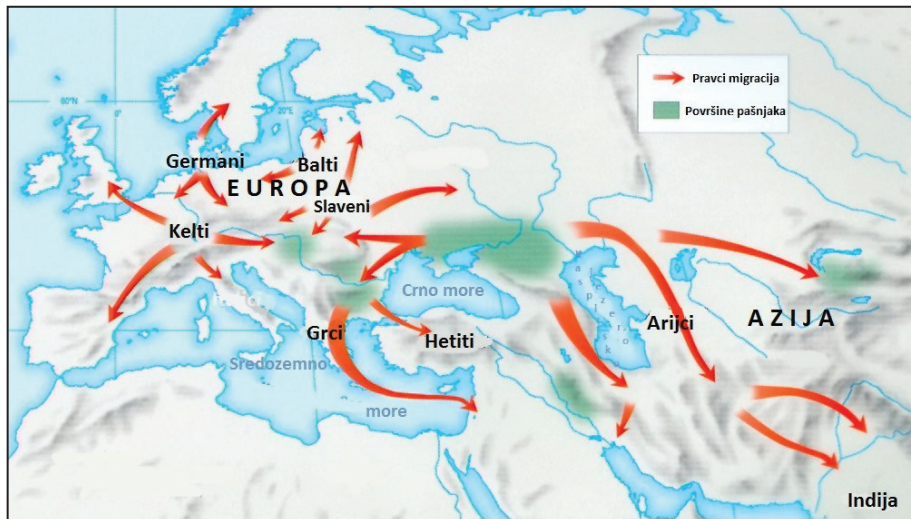
- A. az egyiptomiakat
- B. a föníciaiakat
- C. a perzsákat
- D. a zsidókat

- A. ☐
- B. ☐
- C. ☐
- D. ☐



Történelem

4. Figyelmesen nézze meg a történelmi térképet.



Melyik népcsoportnak a vándorlása van ábrázolva piros nyilacskákkal a történelmi térképen?

- A. a dórok
- B. az indoeurópaiak
- C. a normanok
- D. a sémik

- A. ☐
- B. ☐
- C. ☐
- D. ☐

5. Mik a pagodák?

- A. piramisok
- B. szentélyek
- C. kertek
- D. törvénykönyvek

- A. ☐
- B. ☐
- C. ☐
- D. ☐

6. Melyik illír népnek volt saját központja Nezaktium városában?


- A. a delmatoknak
- B. a histriknek
- C. a japodoknak
- D. a liburnoknak

- A. ☐
- B. ☐
- C. ☐
- D. ☐



Történelem

7. Figyelmesen nézze meg a képi forrást.



Hogyan nevezték a római hadászati eszközt, amely a képi forráson szerepel?

- A. kos
- B. katapult
- C. keknősbéka
- D. kalliszta

- A. ☐
- B. ☐
- C. ☐
- D. ☐

8. Mi a felsoroltak közül a colonusok megjelenésének az oka?

- A. a közigazgatás nagy költségei
- B. Diocletianus áráról szóló edictuma
- C. a nagy népvándorlás
- D. a rabszolgák számának a csökkenése

- A. ☐
- B. ☐
- C. ☐
- D. ☐

9. Melyik író írt Traianus császárnak Britannia és Pontus helytartójaként a keresztények üldözéséről?

- A. az Ifjabb Plinius
- B. az Idősebb Plinius
- C. Svetonius
- D. Tacitus

- A. ☐
- B. ☐
- C. ☐
- D. ☐


10. Melyik horvát uralkodót említi meg a bencés szerzetes Gottschalk?

- A. Trpimirt
- B. Branimirt
- C. Višeslavot
- D. Zdeslavot

- A. ☐
- B. ☐
- C. ☐
- D. ☐



Történelem

<p>11. Hogyan nevezték a hűbértokok részét, amelyen a jobbágy elvégezte a munkabérét?</p> <p>A. feudum B. allódium C. jobbágytelek D. prónia</p>	<p>A. <input type="checkbox"/></p> <p>B. <input type="checkbox"/></p> <p>C. <input type="checkbox"/></p> <p>D. <input type="checkbox"/></p>
<p>12. Mi a Tanaisi táblák jelentősége a történettudomány számára?</p> <p>A. a horvátok megkeresztelkedésére vonatkozó kutatások forrásai B. a szklavíniák kutatására vonatkozó források C. az egyházigazgatási kutatásokra vonatkozó források D. a horvátok eredetére vonatkozó kutatások forrásai</p>	<p>A. <input type="checkbox"/></p> <p>B. <input type="checkbox"/></p> <p>C. <input type="checkbox"/></p> <p>D. <input type="checkbox"/></p>
<p>13. Mi a felsoroltak közül nem hatott a pénzgazdaság fejlődésére a 11. századtól kezdődően?</p> <p>A. a magyarok betöréseinek vége B. a fonószék feltalálása C. a mezőgazdasági termékek többlete D. gyarmatosítási folyamat</p>	<p>A. <input type="checkbox"/></p> <p>B. <input type="checkbox"/></p> <p>C. <input type="checkbox"/></p> <p>D. <input type="checkbox"/></p>
<p>14. Melyik uralkodó viselte az 1390. évben a Ráska, Bosznia, Horvátország, Dalmácia és Tengermellék királyának a címét?</p> <p>A. Kulin B. Prijezda C. II. Stjepan D. I. Tvrtko</p>	<p>A. <input type="checkbox"/></p> <p>B. <input type="checkbox"/></p> <p>C. <input type="checkbox"/></p> <p>D. <input type="checkbox"/></p>
<p>POV D-S039</p>	 01

Történelem

15. Figyelmesen nézze meg a képi forrást.



Ki az ábrázolt freskó alkotója?

- A. Ivan Ranger
- B. Vincent Kastavból
- C. Juraj Dalmatinac
- D. Andrija Buvina

- A. ☐
- B. ☐
- C. ☐
- D. ☐

16. Mi a megadottak közül a nagy földrajzi felfedezések oka?

- A. a mongolok betörései
- B. a munkabér rekkommutációja
- C. a munkabér kommutációja
- D. az Oszmán Birodalom megerősödése

- A. ☐
- B. ☐
- C. ☐
- D. ☐

17. Kik voltak a harambasák?

- A. a hajdukok vezérei
- B. befolyásos nagybirtokosok
- C. bírók a városokban
- D. fejedelmek (Kenézek) a kommúnákban

- A. ☐
- B. ☐
- C. ☐
- D. ☐


POV D-S039



01

Történelem

18. Figyelmesen nézze meg a képi forrást.



Melyik technikai eszköz modellje van ábrázolva a képi forráson?

- A. repülő vetélő
- B. Diesel-motor
- C. gőzgép
- D. fonószék

- A. ☐
- B. ☐
- C. ☐
- D. ☐

19. Melyik szerzetesrendhez tartozott a barokk-kori festő Ivan Ranger?

- A. a jezsuitákhoz
- B. a ciszterciekhez
- C. a pálosokhoz
- D. a ferencesekhez

- A. ☐
- B. ☐
- C. ☐
- D. ☐

POV D-S039



01

Történelem

20. Melyik mezőgazdasági kultúrát hoztak be magukkal a határőrvidéki katonák a horvát területekre a Hétéves háború után?

- A. a szőlőt
- B. az eperfát
- C. a burgonyát
- D. a paradicsomot

- A. ☐
- B. ☐
- C. ☐
- D. ☐

21. Mi a neve a műnek, amelyben a francia felvilágosodás képviselői összefoglalták Európa tudományos és műszaki tudását a 18. század közepén?

- A. Társadalmi szerződés
- B. A törvény szelleme
- C. Enciklopédia
- D. Leviathan

- A. ☐
- B. ☐
- C. ☐
- D. ☐

22. Figyelmesen nézze meg a képi forrást II. József uralkodásának idejéből.




Mi a neve a képi forráson ábrázolt politikának, amelyet az uralkodó propagált?

- A. kameralizmus
- B. merkantilizmus
- C. fiziokratizmus
- D. liberalizmus

- A. ☐
- B. ☐
- C. ☐
- D. ☐



Történelem

<p>23. Melyik bán idejében ült össze az első olyan Szábor Horvátországban, amelyben munkájában a polgárok választott képviselői is részt vettek?</p> <p>A. Ivan Mažuranić B. Josip Jelačić C. Josip Šokčević D. Levin Rauch</p>	<p>A. <input type="checkbox"/></p> <p>B. <input type="checkbox"/></p> <p>C. <input type="checkbox"/></p> <p>D. <input type="checkbox"/></p>
<p>24. Melyik tisztséget a felsoroltak közül viselt Ivan Mažuranić a Schmerling-abszolutizmus idejében?</p> <p>A. horvát bán B. horvát udvari kancellár C. Bosznia és Hercegovina helytartója D. a Hetek Székének a bírása</p>	<p>A. <input type="checkbox"/></p> <p>B. <input type="checkbox"/></p> <p>C. <input type="checkbox"/></p> <p>D. <input type="checkbox"/></p>
<p>25. Milyen név alatt lett először megalapítva a Tudományos és Művészeti Akadémia Zágrábban?</p> <p>A. jugoszláv név alatt B. szláv név alatt C. horvát név alatt D. zágrábi név alatt</p>	<p>A. <input type="checkbox"/></p> <p>B. <input type="checkbox"/></p> <p>C. <input type="checkbox"/></p> <p>D. <input type="checkbox"/></p>
<div>POV D-S039</div> <div>  <div>01</div> </div>	

Történelem

26. Figyelmesen nézze meg a képi forrást.



Melyik korszak volt a képi forráson ábrázolt közlekedési eszköz *aranykora*?

- A. a 19. század első fele
- B. a 19. század második fele
- C. az 1900. évtől az 1918. évig
- D. a két Világháború közötti időszak

- A. ☐
- B. ☐
- C. ☐
- D. ☐

27. Melyik politikusok voltak a horvát-szerb koalíció élén az 1908. évig?

- A. Ante Trumbić és Frano Supilo
- B. Antun és Stjepan Radić
- C. Pavao Rauch és Svetozar Pribićević
- D. Slavko Cuvaj és Nikola Tomašić

- A. ☐
- B. ☐
- C. ☐
- D. ☐


28. Mi volt az Usztasa mozgalom keletkezésének az oka?

- A. a Sándor király elleni merénylet
- B. a Horvát Bánság keletkezése
- C. Milan Stojadinović politikája
- D. a királyi diktatúra bevezetése

- A. ☐
- B. ☐
- C. ☐
- D. ☐



Történelem

<p>29. Mit propagált a japán militarizmus a busidóval?</p> <p>A. a pacifikálást B. a katonai erényeket C. az urbanizációt D. az ökumenizmust</p>	<p>A. <input type="checkbox"/></p> <p>B. <input type="checkbox"/></p> <p>C. <input type="checkbox"/></p> <p>D. <input type="checkbox"/></p>
<p>30. Melyik politikai testület alapította a Föderatív Horvát Államot?</p> <p>A. Fő Usztasa Ház (Glavni ustaški stan) B. Alkotmányozó gyűlés C. Jugoszláv Antifasiszta Népfelszabadító Bizottság (AVNOJ) D. Horvát Nemzeti Antifasiszta Felszabadító Mozgalom (ZAVNOH)</p>	<p>A. <input type="checkbox"/></p> <p>B. <input type="checkbox"/></p> <p>C. <input type="checkbox"/></p> <p>D. <input type="checkbox"/></p>
<p>31. Melyik évben engedélyezték a nemkommunista pártok alapítását Horvátországban?</p> <p>A. az 1974. évben B. az 1980. évben C. az 1989. évben D. az 1991. évben</p>	<p>A. <input type="checkbox"/></p> <p>B. <input type="checkbox"/></p> <p>C. <input type="checkbox"/></p> <p>D. <input type="checkbox"/></p>
<p>32. Mi a felsoroltak közül Mihail Gorbacsov politikájának a jellemzője?</p> <p>A. a détente politikája B. a glasznoszt és peresztrojka politikája C. a korlátozott szuverenitás politikája D. az el nem kötelezettek politikája</p>	<p>A. <input type="checkbox"/></p> <p>B. <input type="checkbox"/></p> <p>C. <input type="checkbox"/></p> <p>D. <input type="checkbox"/></p>
<p>POV D-S039</p>	 <p>01</p>

Történelem

33. Figyelmesen nézze meg a történelmi térképet.



Mit ábrázol a történelmi térkép?

- A. a Római szerződésekkel keletkezett határmódosítások
- B. a Rapallói szerződésekkel keletkezett határmódosítások
- C. Trieszt Szabad Területének a térségét
- D. a Labini Köztársaság területét

- A. ☐
- B. ☐
- C. ☐
- D. ☐

34. Melyik városban írták alá a szerződést, amellyel létrejött az Európai Unió?

- A. Párizsban
- B. Rómában
- C. Maastrichtban
- D. Schengenben

- A. ☐
- B. ☐
- C. ☐
- D. ☐



Történelem

35. Figyelmesen olvassa el a történelmi forrást.

Ugy tűnik, hogy az USA terrorista agresszival áll szemben.

Ifjabb George W. Bush

Melyik eseményhez kötődik a történelmi forrás?

- A. az USA és a szövetségeseinek támadásához Kuwait ellen az 1990. évben
- B. a Világkereskedelmi Központ székhelye elleni támadáshoz a 2001. évben
- C. a Szaddam Husszein feletti halálos ítélet végrehajtásához a 2006. évben
- D. Oszama Bin Laden megöléséhez a 2011. évben

A.

☐

B.

☐

C.

☐

D.

☐

Történelem

II. Rövidválaszú feladatok

A következő feladatokban rövid válasszal válaszoljon
(egy szóval, néhány szóval vagy egyszerű mondattal).

A válaszokat írja be **csakis** a vizsgafüzetben lévő erre előírányozott helyre.

Ne töltsse ki a pontozásra előrelátott helyet.

36. Ki a szerzője az első tudományosan és kritikusan megírt horvát történelemnek a 19. századból?

0 ☐

1 ☐

pont

37. Hogyan hívják a mezopotámiai törvénykönyvet, amely alapján keletkezett Hammurapi törvénykönyve?

0 ☐

1 ☐

pont


POV D-S039



02

Történelem

38. Figyelmesen nézze meg a képi forrást.



Hogyan nevezik az építményt, amely a képi forráson a 3-as számmal van jelölve?

0 ☐
1 ☐

pont

39. Hogyan hívták a vallási mozgalmat a Bizánci Császárságban, amely szorgalmazta az ikonok tiszteletét?

0 ☐
1 ☐

pont

40. Mi a neve a horvátok etnogeneziséről szóló elméletnek, amely alapján a horvátok a mai területekre való érkezésükkor alávették maguknak a korábban ideletpült szlávokat?

0 ☐
1 ☐

pont

POV D-S039




02

Történelem

<p>41. Melyik nemesi családtól vette el Corvin Mátyás király Zengget (Senj) és megszervezte a Zenggi Kapitányságot (Senjska kapetanija)?</p> <p>_____</p>	<p>0 <input type="checkbox"/></p> <p>1 <input type="checkbox"/></p> <p>pont</p>	
<p>42. Melyik szerzetesrend vette át a pápai vagy római inkvizíciót az Érett-Középkorban?</p> <p>_____</p>	<p>0 <input type="checkbox"/></p> <p>1 <input type="checkbox"/></p> <p>pont</p>	
<p>43. Hogyan nevezték azt a népességet, amely átszökött az Oszmán Birodalom területéről a velencei fennhatóságú dalmáciai területekre?</p> <p>_____</p>	<p>0 <input type="checkbox"/></p> <p>1 <input type="checkbox"/></p> <p>pont</p>	
<p>44. Figyelmesen nézze meg a képi forrást.</p> <div data-bbox="215 1400 742 1691"> </div> <p>Nagy-Britannia melyik mai országgal való konfliktusát ábrázolja a képi forrás?</p> <p>_____</p>		<p>0 <input type="checkbox"/></p> <p>1 <input type="checkbox"/></p> <p>pont</p>
<p>POV D-S039</p> <div data-bbox="1300 1982 1460 2116"> <p>02</p> </div>		

Történelem

<p>45. Hogyan nevezik a Horvát Szábor döntését az 1712. évből, amellyel nőre is át lehet ruházni az uralkodói jogokat?</p> <p>_____</p>	<p>0 <input type="checkbox"/></p> <p>1 <input type="checkbox"/></p> <p>pont</p>	
<p>46. Hogyan nevezik a főiskolát Zarában (Zadar), amely működése a <i>Nyilvános Oktatás Általános Alapjával</i> lett szabályozva az 1807. évben?</p> <p>_____</p>	<p>0 <input type="checkbox"/></p> <p>1 <input type="checkbox"/></p> <p>pont</p>	
<p>47. Figyelmesen olvassa el a történelmi forrást.</p> <p><i>A fonószék elpusztítása.</i> <i>Díj: 200 font.</i> <i>Csütörtökön, múlt éjjel körülbelül tíz órakor, több férfi, akik isztolyokkal, kalapácsokkal és ütőkkel voltak felfegyverkezve, bementek George Bell házába, aki szövő Lentonban, Nottingham közelében, kendőkkel takarták be az arcukat (...), valamint összetörtek és tönkretettek 5 keretet a zoknik kötésére.</i></p> <p>Hogyan nevezik a munkásmozgalom fejlődésének szakaszát, amely a történelmi forrásban van leírva?</p> <p>_____</p>		<p>0 <input type="checkbox"/></p> <p>1 <input type="checkbox"/></p> <p>pont</p>
<p>POV D-S039</p> <div style="text-align: right;">  02 </div>		

Történelem

48. Figyelmesen nézd meg a képi forrást.



A szöveg fordítása: *Csatlakozz Németországhoz és meg fogod kapni az Egyesült Államok egyik részét.*

Melyik országot szeretné Németország maga mellé állítani az USA ellen az Első Világháborúban a képi forrás alapján?

0 ☐
1 ☐

pont

49. Figyelmesen olvassa el a történelmi forrást.

Ahogy látja, a mellény ki van gombolva. A Szent Vid-napi Alkotmány, amely több mint hét évig bosszantotta a horvát népet, meg van döntve. Le van bontva nem csak a horvát nép tudatában, hanem ténylegesen a fennséges nagy király megoldásával (...).

Hogyan hívják a királyt, akiről beszélnek a történelmi forrásban?

0 ☐
1 ☐

pont



Történelem

50. Figyelmesen olvassa el a történelmi forrást.

Ma mi vagyunk, holnap pedig maguk lesznek a soron.

Hailé Szelasszié császár a Nemzetek Szövetségében

Melyik európai ország agressziójáról beszélt Hailé Szelasszié császár a történelmi forrásban?

0	
1	

pont

51. Figyelmesen nézze meg a képi forrást.



0	
1	

pont

52. Hogyan hívják az egyházfőt, akitől Josip Broz Tito kérte, hogy Horvátország Katolikus Egyházát válassza el az Apostoli Szent Széktől?

0	
1	

pont

POV D-S039



02

III. Többszörös feleletválasztó feladatok (kronológia)

A következő feladatokban csakis az **egyik** a pontos.

A pontos válaszokat az X jellel kell megjelölnie a válaszok listáján.

53. Melyik kronológiai sorrendben vannak pontosan felsorolva az ókori görögök történetéről szóló események?

- A.** az első palotavárosok keletkezése Krétán → a Hőskor kezdete
→ az úgynevezett Tengermelléki népek betörése → az Archaikus Kor kezdete
- B.** a Hőskor kezdete → az úgynevezett Tengermelléki népek betörése
→ az első palotavárosok keletkezése Krétán → az Archaikus Kor kezdete
- C.** az első palotavárosok keletkezése Krétán → a Hőskor kezdete
→ az Archaikus Kor kezdete → az úgynevezett Tengermelléki népek betörése
- D.** az úgynevezett Tengermelléki népek betörése → a Hőskor kezdete
→ az Archaikus Kor kezdete → az első palotavárosok keletkezése Krétán

- A.** ☐
- B.** ☐
- C.** ☐
- D.** ☐

54. Melyik kronológiai sorrendben vannak pontosan felsorolva a horvát-magyar uralkodók a 14., 15. és 16. századból?

- A.** Luxemburgi Zsigmond → Corvin Mátyás → II. Jagelló Lajos → I. Anjou Lajos
- B.** Luxemburgi Zsigmond → I. Anjou Lajos → Corvin Mátyás → II. Jagelló Lajos
- C.** Corvin Mátyás → I. Anjou Lajos → Luxemburgi Zsigmond → II. Jagelló Lajos
- D.** I. Anjou Lajos → Luxemburgi Zsigmond → Corvin Mátyás → II. Jagelló Lajos

- A.** ☐
- B.** ☐
- C.** ☐
- D.** ☐



Történelem

55. Melyik kronológiai sorrendben vannak pontosan felsorolva az események Bizánc történetéből?

- A.** Valens császár halála Hadrianopolisnál → a szlávok, az avarok és a perzsák megtámadták Konstantinápolyt → Justinianusz reconquistája
→ I. Alexiosz Komnénosz császár kiváltságokat adott Velencének
- B.** Justinianusz reconquistája → I. Alexiosz Komnénosz császár kiváltságokat adott Velencének → a szlávok, az avarok és a perzsák megtámadták Konstantinápolyt → Valens császár halála Hadrianopolisnál
- C.** Valens császár halála Hadrianopolisnál → Justinianusz reconquistája
→ a szlávok, az avarok és a perzsák megtámadták Konstantinápolyt
→ I. Alexiosz Komnénosz császár kiváltságokat adott Velencének
- D.** I. Alexiosz Komnénosz császár kiváltságokat adott Velencének
→ Valens császár halála Hadrianopolisnál → a szlávok, az avarok és a perzsák megtámadták Konstantinápolyt → Justinianusz reconquistája

A. ☐
B. ☐
C. ☐
D. ☐

56. Melyik kronológiai sorrendben vannak pontosan felsorolva az események Oroszország történetéből?

- A.** Alaszka eladása → a Transzszibériai Vasút építésének a kezdete
→ Port Arthur elvesztése → Szahalin megszerzése
- B.** Alaszka eladása → Port Arthur elvesztése → Szahalin megszerzése
→ a Transzszibériai Vasút építésének a kezdete
- C.** Port Arthur elvesztése → Szahalin megszerzése
→ a Transzszibériai Vasút építésének a kezdete → Alaszka eladása
- D.** Alaszka eladása → Szahalin megszerzése
→ a Transzszibériai Vasút építésének a kezdete → Port Arthur elvesztése

A. ☐
B. ☐
C. ☐
D. ☐



Történelem

57. Melyik kronológiai sorrendben vannak pontosan felsorolva az események az európai történelemből a 17. és 18. századból?

- A.** a Nagy Bécsi Háború → Nándorfehérvári béke → Pozsareváci béke
→ Karlócai béke
- B.** a Nagy Bécsi Háború → Pozsareváci béke → Karlócai béke
→ Nándorfehérvári béke
- C.** a Nagy Bécsi Háború → Karlócai béke → Pozsareváci béke
→ Nándorfehérvári béke
- D.** a Nagy Bécsi Háború → Karlócai béke → Nándorfehérvári béke
→ Pozsareváci béke

A. ☐
B. ☐
C. ☐
D. ☐

58. Melyik kronológiai sorrendben vannak pontosan felsorolva az események a horvát történelemből a 20. évszázad elejéről?

- A.** Fiumei Rezolúció → a hazaárulási per → a rendbiztosság (komisszariátus) bevezetése Horvátországban → a Horvát-Szerb Koalíció keletkezése
- B.** Fiumei Rezolúció → a Horvát-Szerb Koalíció keletkezése → a hazaárulási per → a rendbiztosság (komisszariátus) bevezetése
- C.** a Horvát-Szerb Koalíció keletkezése → a rendbiztosság (komisszariátus) bevezetése → a hazaárulási per → Fiumei Rezolúció
- D.** A hazaárulási per → Fiumei Rezolúció → a Horvát-Szerb Koalíció keletkezése → a rendbiztosság (komisszariátus) bevezetése

A. ☐
B. ☐
C. ☐
D. ☐



Történelem

59. Melyik kronológiai sorrendben vannak pontosan felsorolva az események a Második Világháború időszakából?

- A.** a zsidóság elleni "végső megoldásról" szóló döntés meghozatala
→ Coventry bombázása → Drezda (Dresden) bombázása
→ atombombák ledobása Hirosima és Nagaszaki városokra
- B.** Coventry bombázása → Drezda (Dresden) bombázása
→ atombombák ledobása Hirosima és Nagaszaki városokra
→ a zsidóság elleni "végső megoldásról" szóló döntés meghozatala
- C.** Coventry bombázása → a zsidóság elleni "végső megoldásról" szóló döntés meghozatala → Drezda (Dresden) bombázása
→ atombombák ledobása Hirosima és Nagaszaki városokra
- D.** Drezda (Dresden) bombázása → a zsidóság elleni "végső megoldásról" szóló döntés meghozatala → atombombák ledobása Hirosima és Nagaszaki városokra → Coventry bombázása

- A.** ☐
- B.** ☐
- C.** ☐
- D.** ☐

60. Melyik kronológiai sorrendben vannak pontosan felsorolva az események a Honvédő háborúból?

- A.** az úgynevezett Farönkforradalom megkezdése Kninben
→ horvát rendőrök halála Borovo Seloban → Vukovár ostromának a kezdete
→ Josip Jović halála
- B.** Josip Jović halála → Vukovár ostromának a kezdete → horvát rendőrök halála Borovo Seloban → az úgynevezett Farönkforradalom megkezdése Kninben
- C.** Vukovár ostromának a kezdete → Josip Jović halála → horvát rendőrök halála Borovo Seloban → az úgynevezett Farönkforradalom megkezdése Kninben
- D.** az úgynevezett Farönkforradalom megkezdése Kninben
→ Josip Jović halála → horvát rendőrök halála Borovo Seloban
→ Vukovár ostromának a kezdete

- A.** ☐
- B.** ☐
- C.** ☐
- D.** ☐



Történelem


IV. Többszörös feleletválasztó feladatok (a kiinduló tartalomhoz)

A következő feladatokban tanulmányozza át a történelmi forrásokat, a történelmi térképeket és a képi forrásokat, valamint válaszoljon a megadott kérdésekre.

A több felkínált válasz közül csakis az **egyik** a pontos.

A pontos válaszokat az X jellel kell megjelölnie a válaszok listáján.

61. Figyelmesen nézze meg a képi forrást és válaszoljon a feltett kérdésekre.



61.1. Melyik történelmi korszakra vonatkozna a képi forráson bemutatott emberi tevékenység kezdete?

- A. a mezolitikumra
- B. a paleolitikumra
- C. a neolitikumra
- D. az eneolitikumra

- A. ☐
- B. ☐
- C. ☐
- D. ☐

61.2. Melyiken a megadott helyszínek közül találták meg a képen bemutatott emberi tevékenység maradványait?

- A. a Husnyákovo-hegyen
- B. a Neandervölgyben
- C. a Veternicai barlangban
- D. a Lescaux-i barlangban

- A. ☐
- B. ☐
- C. ☐
- D. ☐



Történelem

62. Figyelmesen nézze meg Horvátország történelmi térképét a 10. évszázad elejáról és válaszoljon a feltett kérdésekre.



62.1. Melyik horvát uralkodó hadjáratai vannak bemutatva két nyilacsával a történelmi térképen?

- A. Branimiré
- B. Domagojé
- C. Tomislavé
- D. Trpimiré

- A. ☐
- B. ☐
- C. ☐
- D. ☐

62.2. Hogyan nevezik az 1-es számmal jelölt területet a történelmi térképen?

- A. Bagibáreia
- B. Karantánia
- C. Pagánia
- D. Travunja

- A. ☐
- B. ☐
- C. ☐
- D. ☐



Történelem

63. Figyelmesen olvassa el a történelmi forrást a 14. századból és válaszoljon a feltett kérdésekre.

*(..) Aki tehát azt mondja, hogy Péter kezében nincsen a világi kard, az nem figyel jól az Úr szavaira... Két kard van az egyház tulajdonában, a lelki és a világi. (...) Viszont az egyik kardnak a másikkal szemben alárendeltnek kell lennie; a világi hatalomnak alá kell rendelnie magát a lelki hatalommal szemben. (...) De hogy a lelki hatalom méltósággal és nemességgel álljon minden világi hatalom felett, nyíltan kell elsimernünk, hogy a lelki a világi felett áll. (...) Így megvalósul Jeremiás próféta próféciája az egyházzal és az egyházi hatalomról: "Lásd, ma én állítottalak a népek és országok fölé"...
(...) Ezért kijelentjük, hogy minden emberi lényt a lelki üdvösségének elvesztésével kell megfenyegetni és alá kell őket rendelni a római pápának, és mi nekik ezt állítjuk és elrendeljük, hogy (...)*

63.1. Melyik konfliktusról szól a történelmi forrás?

- A. az investitúra körüli konfliktusról
- B. a pápa és pátriárha közötti konfliktusról
- C. az iskolák felügyelete körüli konfliktusról
- D. a szent helyek feletti felügyelet körüli konfliktusról

- A. ☐
- B. ☐
- C. ☐
- D. ☐

63.2. Mi lesz a leírt konfliktus következménye?

- A. az első Keresztes hadjárat
- B. Aacheni béke
- C. Augsburgi béke
- D. Avignoni fogság

- A. ☐
- B. ☐
- C. ☐
- D. ☐



Történelem

64. Figyelmesen olvassa el a történelmi forrást és válaszoljon a feltett kérdésekre.

*(...) A becsületes, fennséges, szultáni jel parancsa (...), a következő:
 Én, Mehmed-hán szultán, tudtára (adom) az egész világnak (népnek és előkelősségeknek), hogy ennek a császári fermánnak a birtokosai, a boszniai szerzetesek, az én nagy kegyelmemben részesültek, ezért megparancsolom: Senki sem zavarja vagy zaklassa a megemlítettet és a templomaikat. (Nyugodtan) lakjanak az én birodalmamban. Azok pedig, akik elmenekültek, legyenek biztonságban és szabadok. Térjenek vissza és a császárságom országaiban félelem nélkül éljenek a kolostoraikban. Sem az én magasztos Fennségem, sem a vezíreim, sem a hivatalnokaim, sem az alávetettjeim, sem bárki a Birodalmam lakói közül ne sértegetse és ne veszélyeztesse őket: sem őket, sem za életüket, sem a birtokaikat, sem a templomaikat. (...)*

64.1. Melyik szerzetesek kaptak jogot az egyházi tevékenységre a történelmi forrásban szereplő utasítás szerint?

- A. a bencések
- B. a domonkosok
- C. a ferencesek
- D. a jezsuiták

- A. ☐
- B. ☐
- C. ☐
- D. ☐

64.2. Melyik országra vonatkozott a *fennséges, szultáni jel parancsa*?

- A. Boszniára
- B. Dalmáciára
- C. Szlavóniára
- D. Lókára

- A. ☐
- B. ☐
- C. ☐
- D. ☐



Történelem

65. Figyelmesen olvassa el a történelmi forrást és válaszoljon a feltett kérdésekre.

A nép nem a fejedelem miatt jött létre, hanem a fejedelem a nép miatt, mert a nép nélkül ő nem lenne semmilyen fejedelem. Ő azért van itt, hogy az alávetettjei felett igaz és igazságos módon igazgason (...)

A vallásra hivatkozva, a spanyol király zsarnokságot próbált bevezetni, valamint figyelmen kívül hagyva az ország panaszait, megsértette annak kiváltságait, (...) Ezért mi kijelentjük, hogy a spanyol király elveszített minden jogot a hatalomra Hollandiában; (...)

65.1. Melyik spanyol királyról van szó a történelmi forrásban?

- A. V. Károlyról
- B. II. Ferdinándról
- C. II. Rudolfról
- D. II. Fülöpről

- A. ☐
- B. ☐
- C. ☐
- D. ☐

65.2. Melyik *vallásra hivatkozva* próbált a spanyol király zsarnokságot bevezetni?

- A. az evangélikus vallásra hivatkozva
- B. a katolicizmusra hivatkozva
- C. az anglikánizmusra hivatkozva
- D. a kálvinizmusra hivatkozva

- A. ☐
- B. ☐
- C. ☐
- D. ☐



Történelem

- 66.** Figyelmesen olvassa el a történelmi forrást az 1755. évből és válaszoljon a feltett kérdésekre.

Ma, február 24-én, Szent Máttyás apostol éjszakáján, kilenc óra körül kitört a parasztok haraga Ravnaban kezdődően, ahol kifosztottak és felgyújtották Ignacije Kašner úr kastélyát. (...)

Botok, fejszék, kalapácsok és kötelek képezték a fegyvereiket, amelyek inkább a pusztításra voltak alkalmasak mint harcra, valamint csak kevesen rendelkeztek puskákkal és kardokkal. (...)

Amikor befejeződött a parasztok kihallgatása, kihírdették a magas bizottság három utasítását a királynő és a legszentebb trón nevében. Az elsőben figyelmeztetve volt az összes paraszt, ha akár csak kicsit is kizsákmányolva érezték magukat a világi hatalmasságoktól, álljanak ki a bizottság elé és mondják el a panaszait. (...)

- 66.1.** Mi volt a felsoroltak közül a történelmi forrásban leírt események következménye?

- A. a rendbiztosság (komisszáriátus) bevezetése Horvátország területén
- B. a Vlach-statútumok keletkezése
- C. a Horvát Királyi Tanács megalapítása
- D. az Ideiglenes Urbárium kiadása Horvátország számára

- A. ☐
- B. ☐
- C. ☐
- D. ☐

- 66.2.** A horvát történelem melyik korszakát írja le a történelmi forrás?

- A. a Terézianizmust
- B. a Jozefinizmust
- C. a Katonai Határőrvidék megszüntetését
- D. a Bach-abszolutizmust

- A. ☐
- B. ☐
- C. ☐
- D. ☐



Történelem

67. Figyelmesen olvassa el a történelmi forrást és válaszoljon a feltett kérdésekre.

(...)

2. cikkely: Minden kereskedelem és közlekedés a brit szigetekkel tilos. Emiatt minden Anglia, vagy angol ember számára, vagy angol nyelven írt postai úton elküldött leveleket vagy csomagokat meg kell állítani.

3. cikkely: Minden angol alattvalót, a társadalmi rangtól és foglalkozástól függetlenül, akik a *Mi országainkban*, vagy a *mi szövetségeseink* által megszállt területeken tartózkodnak, hadifoglyokká kell nyivánítani.

(...)

67.1. Hogyan nevezik a dokumentumot amelyből átvették a felsorolt határozatokat?

- A. a kölcsönről és bérletről szóló törvény
- B. a Függetlenségi Nyilatkozat
- C. a Nagy Szabadságlevél
- D. a Kontinentális Blokádról szóló rendelet

A.

☐

B.

☐

C.

☐

D.

☐

67.2. Melyik birodalomra vonatkozik a *Mi országaink* kifejezés a történelmi forrásban?

- A. a Francia Császárságra
- B. a Spanyol Királyságra
- C. az Orosz Cárságra
- D. a Habsburg Monarchiára

A.

☐

B.

☐

C.

☐

D.

☐

POV D-S039



01

Történelem

68. Figyelmesen olvassa el a történelmi forrást és válaszoljon a feltett kérdésekre.

1-es forrás: (...) *A bűnöző hadsereg, amely egyszerű módon letaposta a mi országunkat, nagy árat fizetett a saját arroganciájának. Sváb holttestek százezrei fekszenek országunk szerte. Ez a mi leszámolásunk a gyújtogatások, rablások, gyilkosságok és mászárlások miatt. Tito hadserege és Tito népe élvezik a győzelem gyümölcsét. Ez a mi dicsőségünk útja, de nem fogunk itt megállni. (...)*

Vjesnik, 1945. májusa

2-es forrás: (...) *A sor, amelyet a Dráva-hídon átvezették a jugoszláv oldalra végtelennek tűnt. Férfiak, nők, gyerekek, szülők karjaiban lévő csecsemők, mind kiéheztetve haladtak Tito emberei által üldözve...*

Colin Gunner, az Ír Királyi Gyalogság őrmestere

68.1. Melyik hadbalépett oldal adta ki a szöveget az **1-es** számú történelmi forrásból?

- A. a partizán mozgalom
- B. az usztasa mozgalom
- C. a csetnik mozgalom
- D. az Emigráns Jugoszláv Kormány

- A. ☐
- B. ☐
- C. ☐
- D. ☐

68.2. Miért indult el a **2-es** történelmi forrásban leírt emberek sora a nyugat felé?

- A. hogy folytassák a háborút Tito kommunistái ellen
- B. hogy hadifoglyokként védjék meg őket a szövetségesek
- C. hogy csatlakozzanak a német hadsereghez és folytassák a háborút
- D. hogy szabad területet hozzanak létre

- A. ☐
- B. ☐
- C. ☐
- D. ☐



Történelem

69. Figyelmesen nézze meg a képi forrást és válaszoljon a feltett kérdésekre.



A kutyákon lévő nevek fordítása: *Denyikin, Kolcsak, Judenics.*

69.1. Kiket jelképeznek a képi forráson szereplő kutyák?

- A. a mensevikek vezéreit
- B. a bolsevikok vezéreit
- C. az úgynevezett Fehérek Gárdájának tábornokait
- D. a Vörös Hadsereg tábornokait

- A. ☐
- B. ☐
- C. ☐
- D. ☐

69.2. Melyik eseményre vonatkozik a képi forrás?

- A. a polgárháborúra Oroszországban
- B. az Oroszország belépésére az Első Világháborúba
- C. az orosz-japán háborúra
- D. a szovjet-finn háborúra

- A. ☐
- B. ☐
- C. ☐
- D. ☐

POV D-S039



01

Történelem

70. Figyelmesen nézze meg a történelmi térképet és válaszoljon a feltett kérdésekre.



70.1. Melyik esemény után kezdődött el a történelmi térképen bemutatott politikai program gyakorlati megvalósulása?

- A. az alkotmány meghozatala után az 1974. évben
- B. Aleksandar Ranković leváltása után
- C. a horvát vezetők leváltása után Karađorđevóban
- D. Josip Broz Tito halála után

- A. ☐
- B. ☐
- C. ☐
- D. ☐

70.2. Melyik városoknak kellett volna végső területi pontoknak lenniük a történelmi térképen bemutatott nagyszerb program szerint?

- A. Verőce – Sziszek – Zára
- B. Verőce – Károlyváros – Karlobág
- C. Verőce – Ogulin – Knin
- D. Verőce – Károlyváros – Zára

- A. ☐
- B. ☐
- C. ☐
- D. ☐



Történelem

Üres oldal

POV D-S039



99