



Nacionalni centar
za vanjsko vrednovanje
obrazovanja

Identifikacijska
naljepnica

PAŽLJIVO NALIJEPI

GEO

GEOGRAFIJA

Ispitna knjižica 1

GEO IK-1 D-S041

GEO.41.HR.R.K1.36



40325



12

Geografija

Prazna stranica

GEO IK-1 D-S041



99

OPĆE UPUTE

Pozorno pročitajte sve upute i slijedite ih.

Ne okrećite stranicu i ne rješavajte zadatke dok to ne odobri dežurni nastavnik.

Nalijepite identifikacijske naljepnice na sve ispitne materijale koje ste dobili u sigurnosnoj vrećici.

Ispit traje **120** minuta bez stanke.

Zadatci su u dvjema ispitnim knjižicama. Redoslijed rješavanja birajte sami.

Dobro rasporedite vrijeme kako biste mogli riješiti sve zadatke.

Ispred svake skupine zadataka uputa je za njihovo rješavanje. Pozorno je pročitajte.

Točne odgovore morate označiti znakom X na listu za odgovore.

Upotrebljavajte isključivo kemijsku olovku kojom se piše plavom ili crnom bojom.

Pišite čitko. Nečitki odgovori bodovat će se s nula (0) bodova. Ako pogriješite u pisanju, pogreške stavite u zagrade, precrtajte ih i stavite skraćeni potpis.

Zabranjeno je potpisati se punim imenom i prezimenom.

Kada riješite zadatke, provjerite odgovore.

Želimo Vam mnogo uspjeha!

Ova ispitna knjižica ima 36 stranica, od toga 4 prazne.

Način popunjavanja lista za odgovore

Ispravno

A	X	B		C	
---	---	---	--	---	--

Ispravan pogrešnog unosa

A	●	B		C	X
---	---	---	--	---	---

C

L

Prepisan točan odgovor

Skraćeni potpis

Neispravno

A		B	X	C	○
---	--	---	---	---	---



Geografija

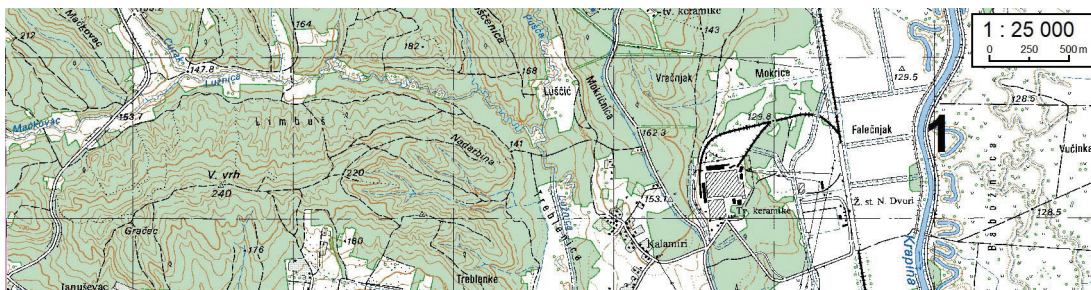
I. Zadatci višestrukoga izbora

U sljedećim zadacima od više ponuđenih odgovora samo je **jedan** točan.

Točne odgovore morate označiti znakom X na listu za odgovore.

Svaki točan odgovor donosi jedan bod.

1. Pozorno promotrite priloženi isječak topografske karte.



U koju granu geografije ubrajamo disciplinu koja se bavi proučavanjem elementa prirodne osnove označenoga brojem 1?

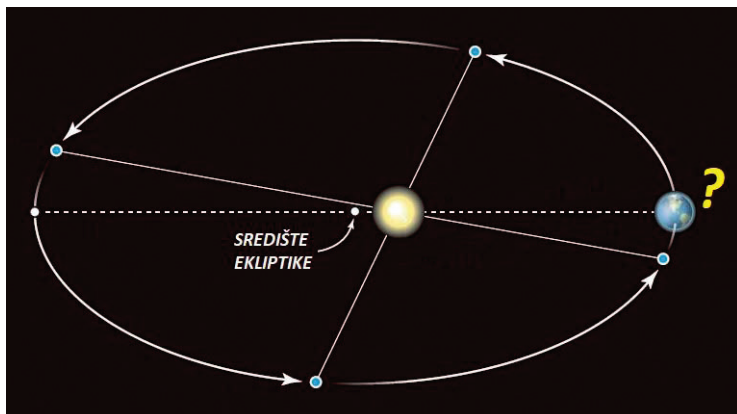
- A. u fizičku geografiju
- B. u primijenjenu geografiju
- C. u regionalnu geografiju
- D. u socijalnu geografiju

A.	<input type="checkbox"/>
B.	<input type="checkbox"/>
C.	<input type="checkbox"/>
D.	<input type="checkbox"/>



Geografija

2. Pozorno promotrite grafički prilog.



Koji je naziv prikazanoga položaja Zemlje?

- A. afel
- B. jesenski ekvinocij
- C. perihel
- D. zimski solsticij

- A. ☐
- B. ☐
- C. ☐
- D. ☐

3. Na kojoj se strani svijeta Sunce prividno nalazi na ekvatoru 21. ožujka u 18.00 sati?

- A. na sjeveru
- B. na istoku
- C. na jugu
- D. na zapadu

- A. ☐
- B. ☐
- C. ☐
- D. ☐



Geografija

4. Pozorno promotrite grafičke priloge.



Kojim je brojem označen kartografski znak koji na topografskim kartama prikazuje prometnicu najvišega ranga?

- A. brojem 1
- B. brojem 2
- C. brojem 3
- D. brojem 4

- A. ☐
- B. ☐
- C. ☐
- D. ☐

5. Koji je naziv geološkoga razdoblja u kojemu je nastalo prakopno Gondvana?

- A. arhaik
- B. kenozoik
- C. mezozoik
- D. paleozoik

- A. ☐
- B. ☐
- C. ☐
- D. ☐

6. Koja je pojava presudna za oblikovanje cirka?

- A. kiša
- B. led
- C. snijeg
- D. vjetar

- A. ☐
- B. ☐
- C. ☐
- D. ☐



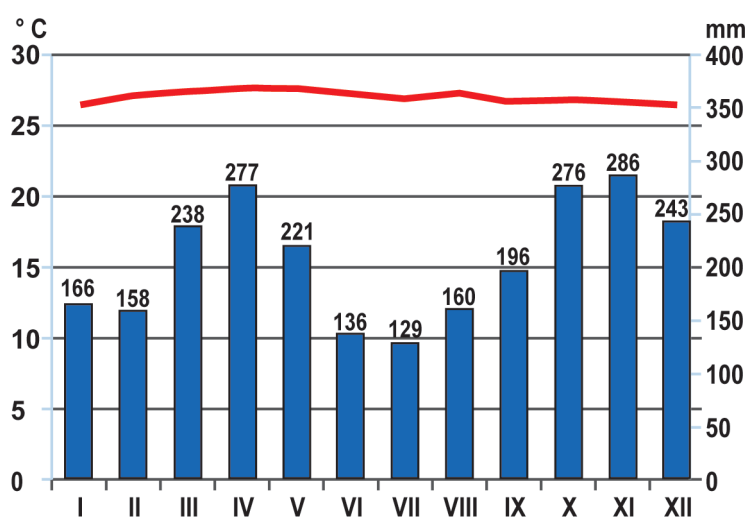
Geografija

7. Koji od navedenih reljefnih oblika nastaje akumulacijom?

- A. barhana
- B. gur
- C. jardang
- D. pustinjsko saće

- A. ☐
- B. ☐
- C. ☐
- D. ☐

8. Pozorno promotrite priloženi klimatski dijagram.



Koji klimatski faktor dominantno utječe na obilježja klime u meteorološkoj postaji za koju je izrađen priloženi klimatski dijagram?

- A. geografska širina
- B. morske struje
- C. nadmorska visina
- D. udaljenost od mora

- A. ☐
- B. ☐
- C. ☐
- D. ☐

9. Koja kultura najbolje uspijeva na lateritnome tlu?

- A. čaj
- B. krumpir
- C. kukuruz
- D. zob

- A. ☐
- B. ☐
- C. ☐
- D. ☐



Geografija

10. Pozorno promotrite fotografiju na kojoj je prikazano ušće Mure u Dravu.



Kojim je brojem označena rijeka Mura?

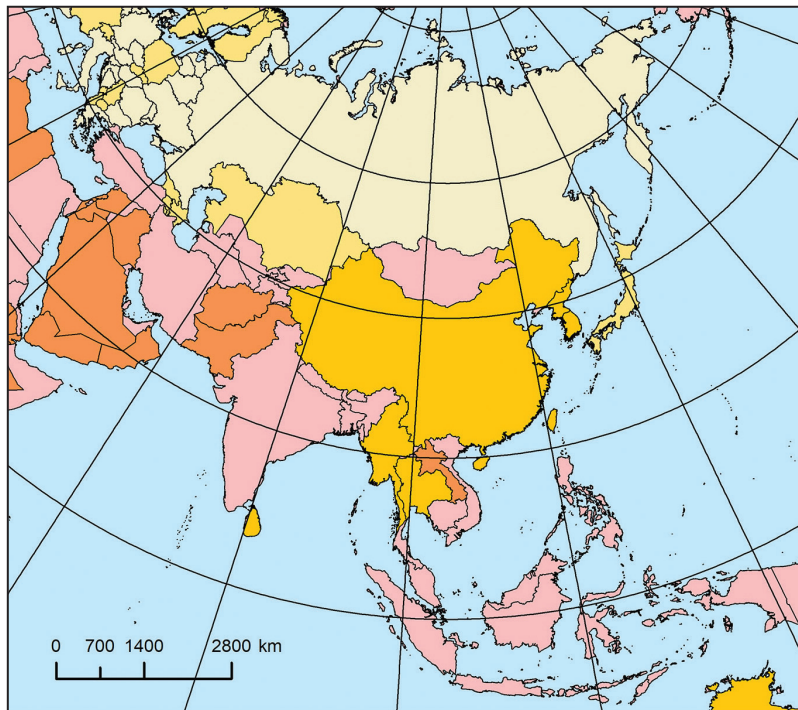
- A. brojem 1
- B. brojem 2
- C. brojem 3
- D. brojem 4

- | | |
|----|--------------------------|
| A. | <input type="checkbox"/> |
| B. | <input type="checkbox"/> |
| C. | <input type="checkbox"/> |
| D. | <input type="checkbox"/> |

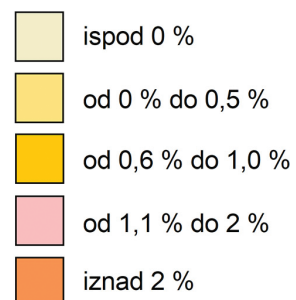


Geografija

11. Pozorno promotrite priloženu geografsku kartu.



GODIŠNJA PROMJENA BROJA STANOVNIKA 1997. – 2015.



Koja država Jugoistočne Azije ima najveći relativni porast broja stanovnika?

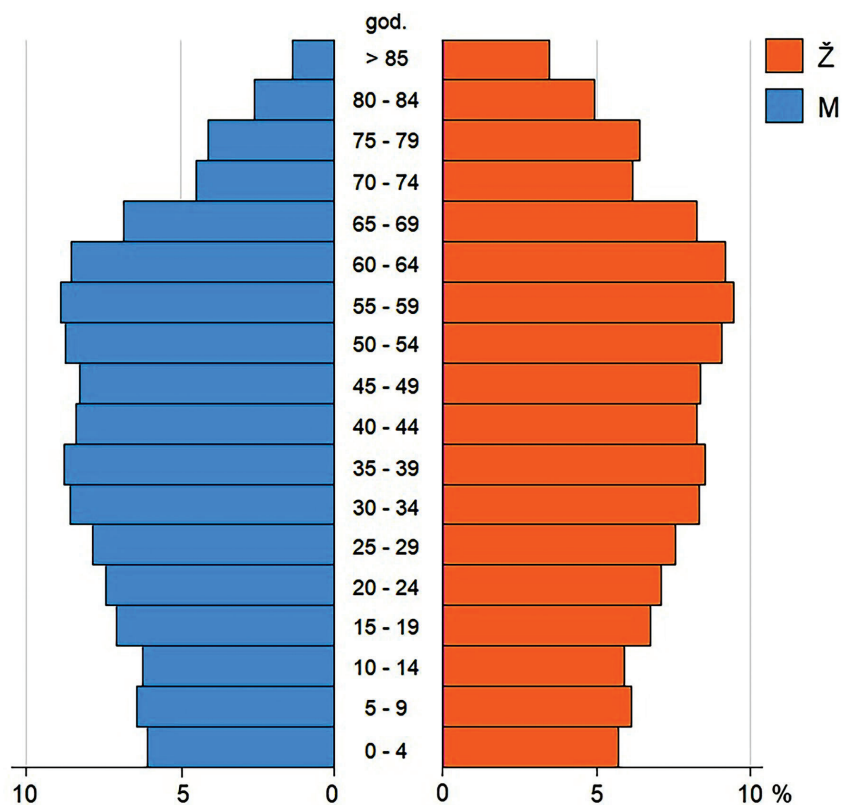
- A. Kambodža
- B. Laos
- C. Tajland
- D. Vijetnam

A.	<input type="checkbox"/>
B.	<input type="checkbox"/>
C.	<input type="checkbox"/>
D.	<input type="checkbox"/>



Geografija

12. Pozorno promotrite priloženi dijagram.



Koliko iznosi koeficijent starosti ako starom velikom dobnoj skupini smatramo stanovništvo staro 65 i više godina, a mladom velikom dobnoj skupini stanovništvo od 0 do 14 godina?

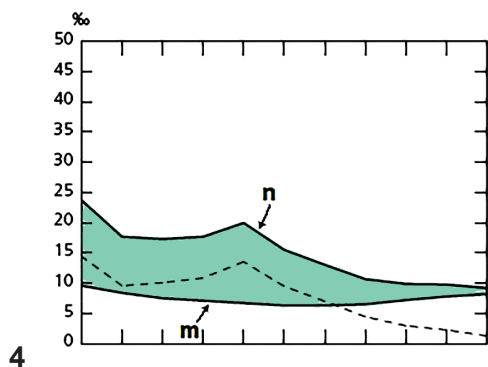
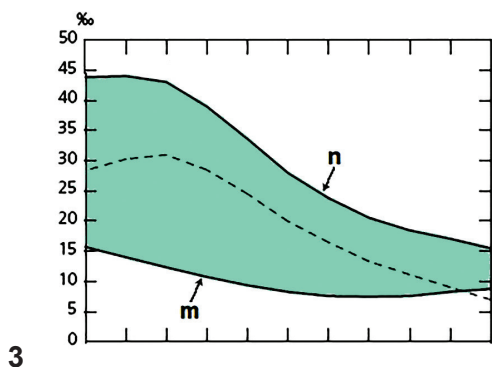
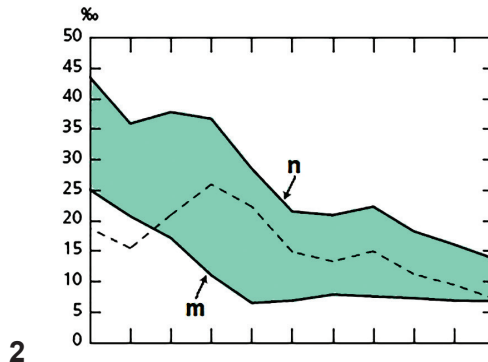
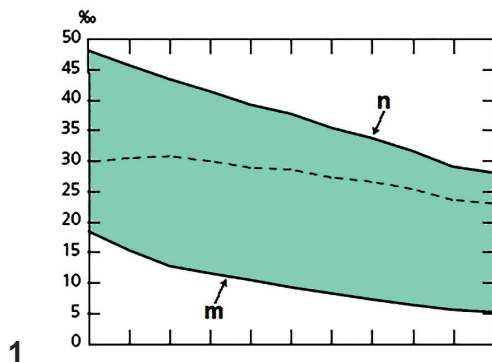
- A. 4,5 %
- B. 9,5 %
- C. 14,5 %
- D. 19,5 %

A.	<input type="checkbox"/>
B.	<input type="checkbox"/>
C.	<input type="checkbox"/>
D.	<input type="checkbox"/>



Geografija

13. Pozorno promotrite priložene dijagrame.



Kojim je brojem označen dijagram koji prikazuje državu s najvišim stupnjem gospodarskoga razvoja i životnoga standarda u posljednjemu desetljeću?



- A. broj 1
- B. broj 2
- C. broj 3
- D. broj 4

- A. ☐
- B. ☐
- C. ☐
- D. ☐



Geografija

14. Pozorno promotrite priložene zračne snimke.



Kojim je brojem označena fotografija s prikazanim naseljem akropolskoga tipa?

- A. brojem 1
- B. brojem 2
- C. brojem 3
- D. brojem 4

- A. ☐
- B. ☐
- C. ☐
- D. ☐



Geografija

15. Pozorno promotrite priloženu fotografiju.



Koji je ograničavajući čimbenik poljoprivredne proizvodnje otklonjen agrotehničkom intervencijom čovjeka vidljivom na fotografiji?

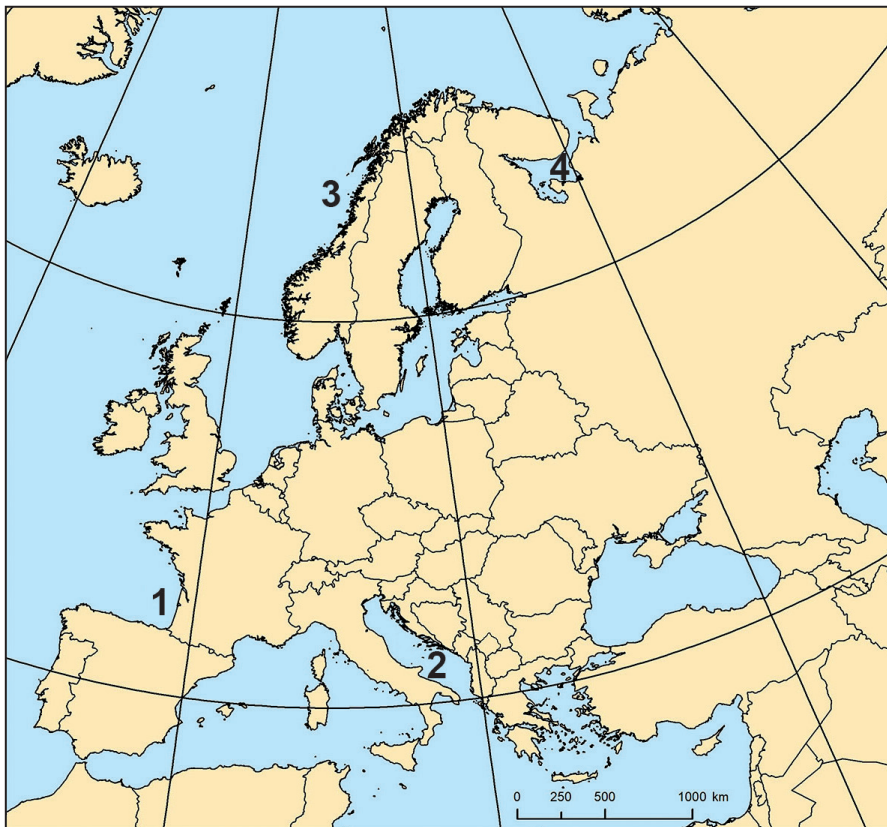
- A. izloženost poplavama
- B. nagib terena
- C. nedostatak padalina
- D. nedovoljna plodnost tla

- A. ☐
- B. ☐
- C. ☐
- D. ☐



Geografija

16. Pozorno promotrite priloženu geografsku kartu.



Kojim je brojem označeno najbogatije ribolovno područje?

- A. brojem 1
- B. brojem 2
- C. brojem 3
- D. brojem 4

A.	<input type="checkbox"/>
B.	<input type="checkbox"/>
C.	<input type="checkbox"/>
D.	<input type="checkbox"/>

17. Koja od navedenih država posljednjih pet godina ima najveće procijenjene svjetske rezerve nafte?


- A. Kanada
- B. Ruska Federacija
- C. Saudijska Arabija
- D. Venezuela

A.	<input type="checkbox"/>
B.	<input type="checkbox"/>
C.	<input type="checkbox"/>
D.	<input type="checkbox"/>



Geografija

18. Pozorno promotrite priloženu fotografiju.



Koji se izvor energije upotrebljava u elektrani prikazanoj na fotografiji?


- A. energija biomase
- B. energija Sunca
- C. energija vjetra
- D. geotermalna energija

- A. ☐
- B. ☐
- C. ☐
- D. ☐



Geografija

19. Pozorno promotrite priloženu fotografiju.



Koje je ime prikazane turističke atrakcije?

- A. Santa María a Real do Sar
- B. Basilica of Our Lady of the Rosary
- C. Sagrada Família
- D. Basílica de Santa Maria del Pi

- A. ☐
- B. ☐
- C. ☐
- D. ☐

20. Koja od navedenih vrsta prometa ima najveću ukupnu emisiju stakleničkih plinova u prometu u Europskoj uniji posljednjih deset godina?

- A. cestovni promet
- B. pomorski promet
- C. zračni promet
- D. željeznički promet

- A. ☐
- B. ☐
- C. ☐
- D. ☐



Geografija

21. Pozorno pročitajte priloženi tekst.

„Jezična je raznolikost ozbiljno ugrožena nestajanjem malih jezika i procjenjuje se ako se nastavi ovim tempom, da će do kraja 21. stoljeća 90 % živih jezika izumrijeti” (Načinović i Tamaro, 2015).

U koji aspekt globalizacije ubrajamo pojavu opisanu u tekstu?

- A. u demografski
- B. u ekonomski
- C. u kulturološki
- D. u politički

- A. ☐
- B. ☐
- C. ☐
- D. ☐

22. Članice koje od navedenih integracija su 2018. godine potpisale sporazum kojim nastavljaju suradnju pod pokratom USMCA?

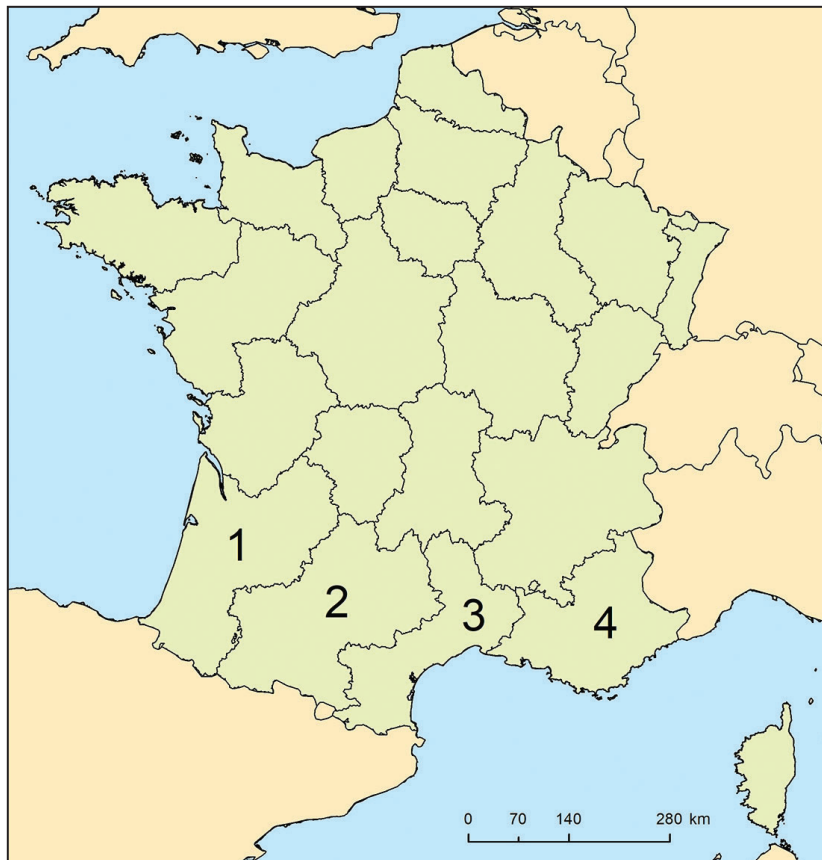
- A. EFTA-e
- B. LAFTA-e
- C. NAFTA-e
- D. OPEC-a

- A. ☐
- B. ☐
- C. ☐
- D. ☐



Geografija

23. Pozorno promotrite priloženu geografsku kartu.



Kojim je brojem označena pokrajina u kojoj je regionalni jezik katalonski?

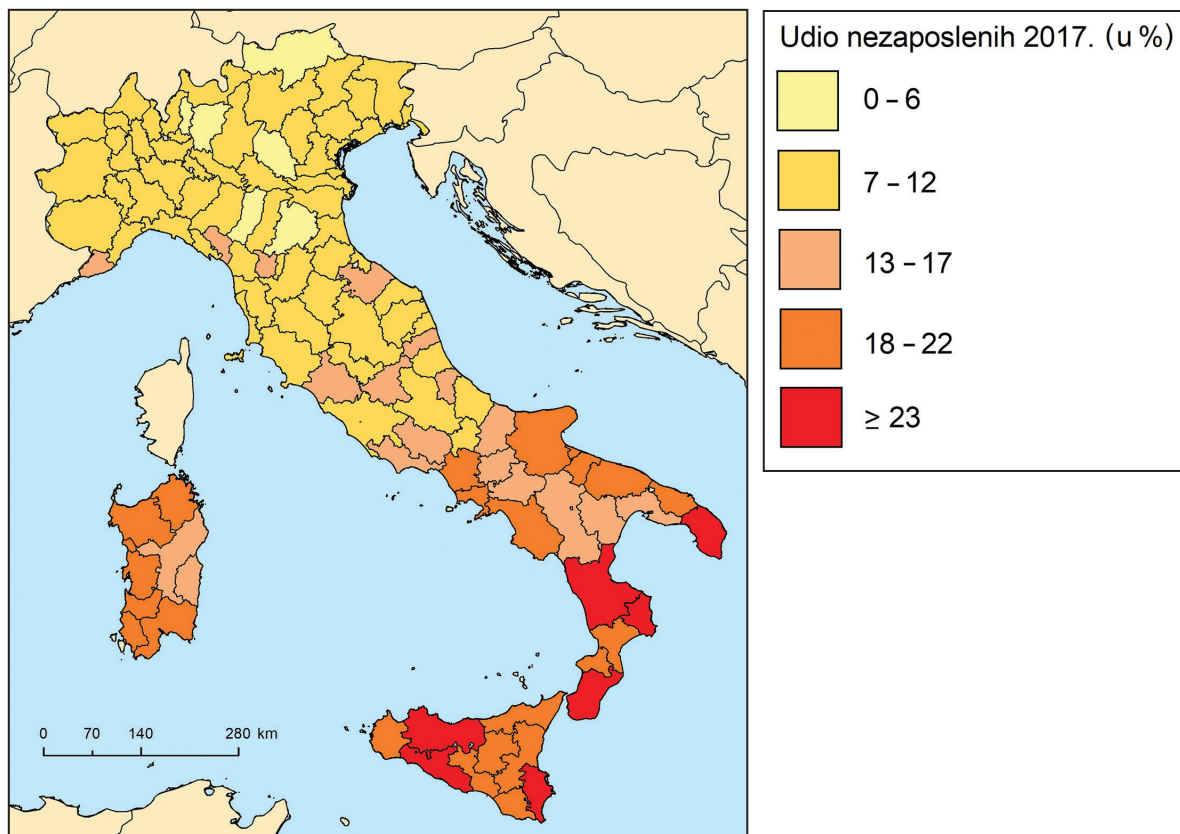
- A. brojem 1
- B. brojem 2
- C. brojem 3
- D. brojem 4

- A. ☐
- B. ☐
- C. ☐
- D. ☐



Geografija

24. Pozorno promotrite priloženu geografsku kartu.



Koja od navedenih talijanskih pokrajina ima najvišu stopu nezaposlenoga stanovništva?

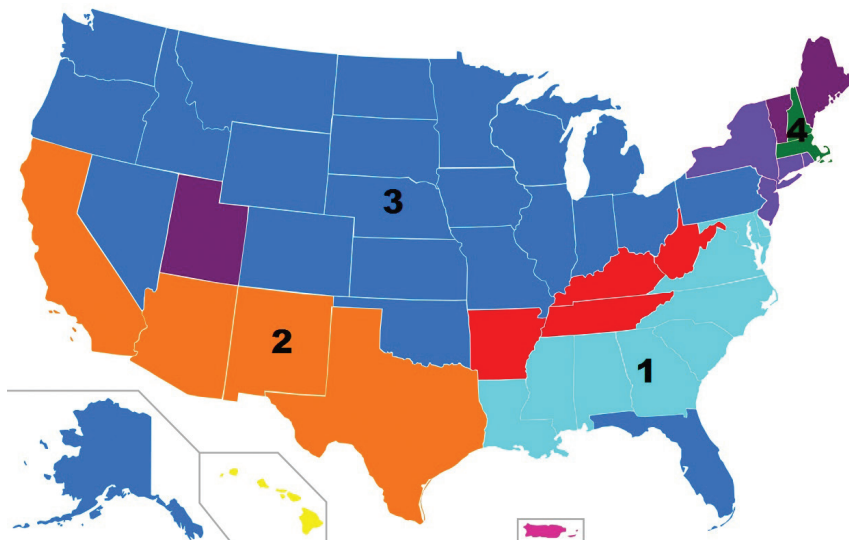
- A. Kalabrija
- B. Lacij
- C. Lombardija
- D. Pijemont

- A. ☐
- B. ☐
- C. ☐
- D. ☐



Geografija

25. Pozorno promotrite priloženu geografsku kartu.



Kojim je brojem označeno područje u kojemu prevladava stanovništvo čiji su predci doselili iz Zapadne Afrike?

- A. brojem 1
- B. brojem 2
- C. brojem 3
- D. brojem 4

- A. ☐
- B. ☐
- C. ☐
- D. ☐



Geografija

26. Pozorno promotrite priloženu tablicu.

Tab. 1. Vrijednosti BDP-a odabranih država u milijardama američkih dolara

Države	2014. godina	2015. godina	2016. godina	2017. godina	2018. godina
Brazil	2407,4	1763,3	1836,0	1800,6	1915,3
Indija	2015,0	2078,0	2212,3	2405,7	2733,5
Kina	10451,8	10973,8	11374,2	12042,9	13184,1
Ruska Federacija	1992,0	1325,8	1425,7	1355,6	1501,7

Koja je država imala najnepovoljnije kretanje vrijednosti BDP-a posljednjih pet godina?

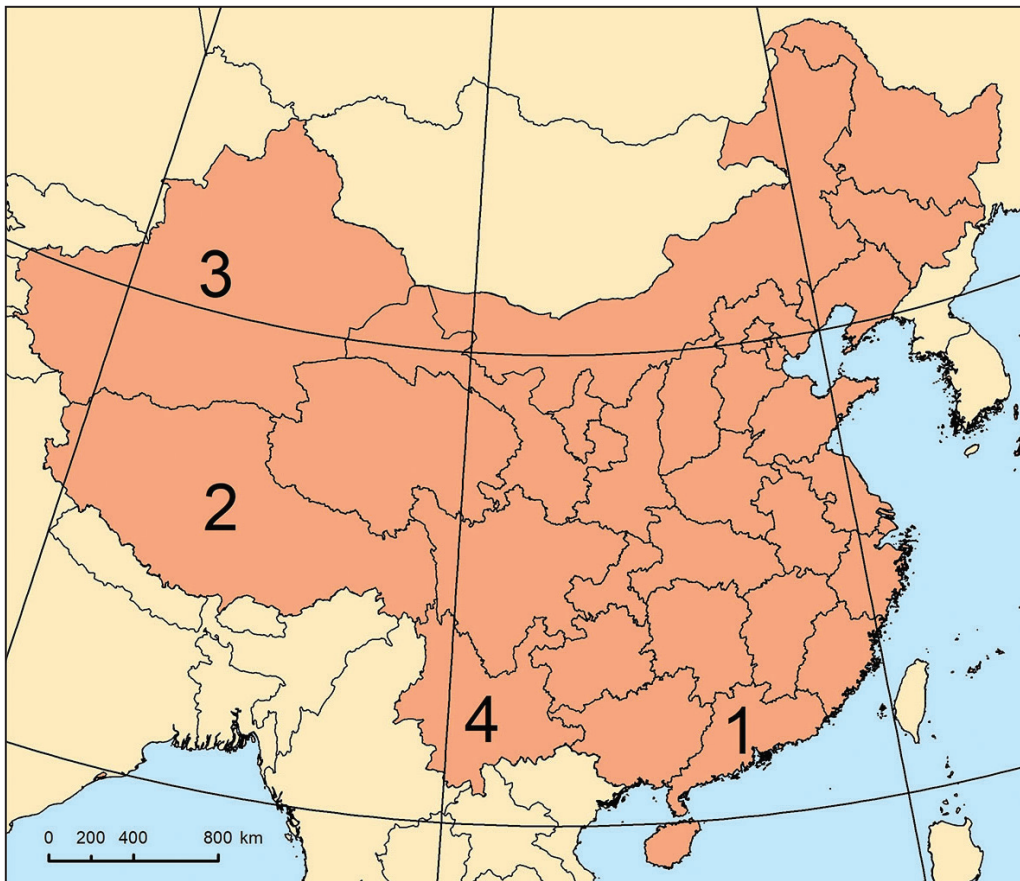
- A. Brazil
- B. Indija
- C. Kina
- D. Ruska Federacija

- A. ☐
- B. ☐
- C. ☐
- D. ☐



Geografija

27. Pozorno promotrite priloženu geografsku kartu.



Kojim je brojem označena kineska pokrajina u kojoj ima najviše Ujgura?

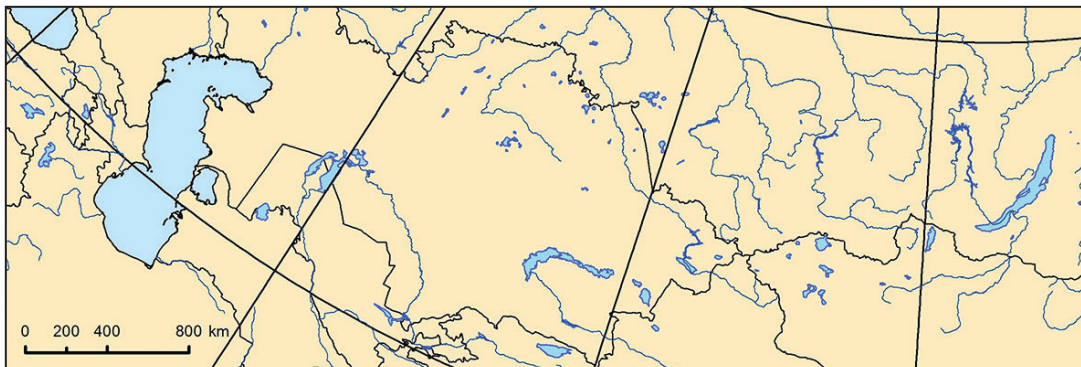
- A. brojem 1
- B. brojem 2
- C. brojem 3
- D. brojem 4

- A. ☐
- B. ☐
- C. ☐
- D. ☐



Geografija

28. Pozorno promotrite priloženu geografsku kartu.



Koja od navedenih država ima izlaz na Kaspijsko jezero?

- A. Kazahstan
- B. Kirgistan
- C. Tadžikistan
- D. Uzbekistan

A.	<input type="checkbox"/>
B.	<input type="checkbox"/>
C.	<input type="checkbox"/>
D.	<input type="checkbox"/>

29. Koja od navedenih afričkih država prima najviše kineskih investicija?

- A. Egipat
- B. Angola
- C. Alžir
- D. Nigerija

A.	<input type="checkbox"/>
B.	<input type="checkbox"/>
C.	<input type="checkbox"/>
D.	<input type="checkbox"/>

30. U kojoj od navedenih država na najvećemu dijelu površine prevladava klimatski razred A?

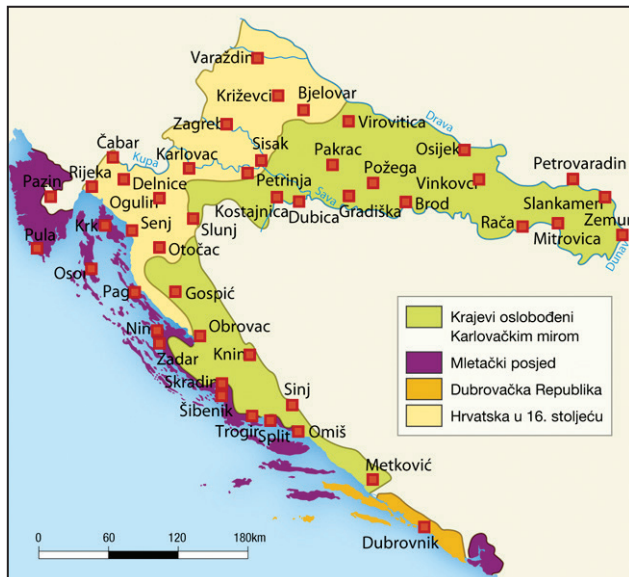
- A. u Egiptu
- B. u DR Kongu
- C. u Somaliji
- D. u Republici Južnoj Africi

A.	<input type="checkbox"/>
B.	<input type="checkbox"/>
C.	<input type="checkbox"/>
D.	<input type="checkbox"/>



Geografija

31. Pozorno promotrite priloženu geografsku kartu.



Koje razdoblje oblikovanja teritorija Hrvatske prikazuje priložena karta?

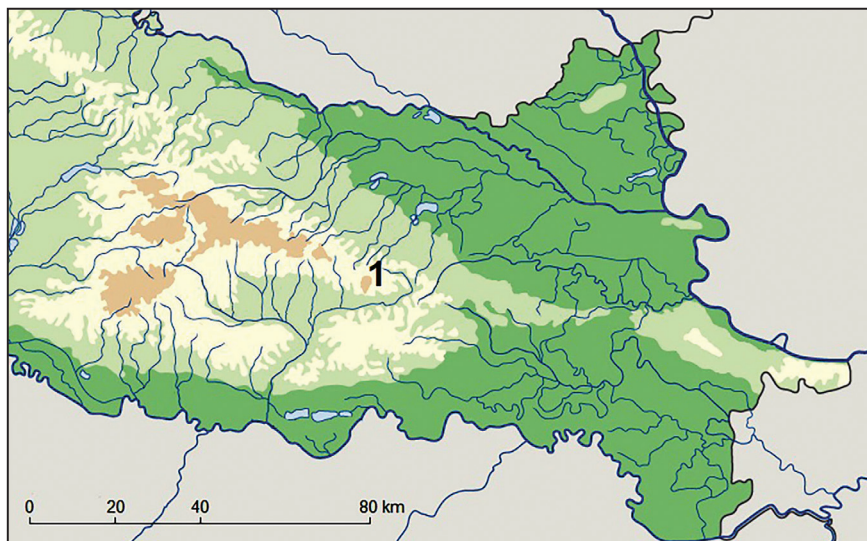
- A. razdoblje prve integracije dinarskoga i panonsko-peripanonskoga prostora
- B. razdoblje prvoga širenja mletačke vlasti na hrvatskoj obali
- C. razdoblje nakon oslobođenja Slavonije od osmanske vlasti
- D. razdoblje nakon reintegracije hrvatskoga Podunavlja

A.	<input type="checkbox"/>
B.	<input type="checkbox"/>
C.	<input type="checkbox"/>
D.	<input type="checkbox"/>



Geografija

32. Pozorno promotrite priloženu geografsku kartu.



U kojemu su geološkom razdoblju nastale stijene u jezgri uzvisine označene brojem 1?

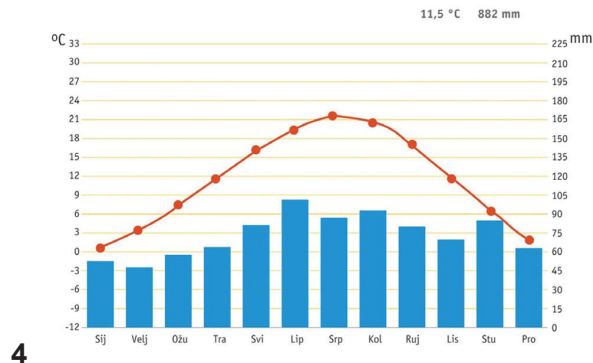
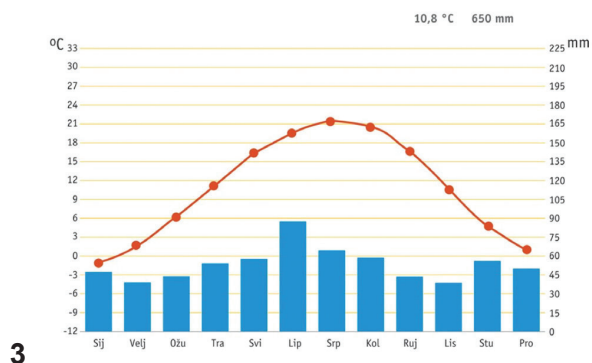
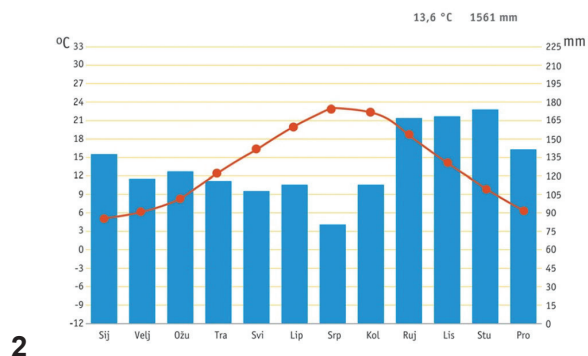
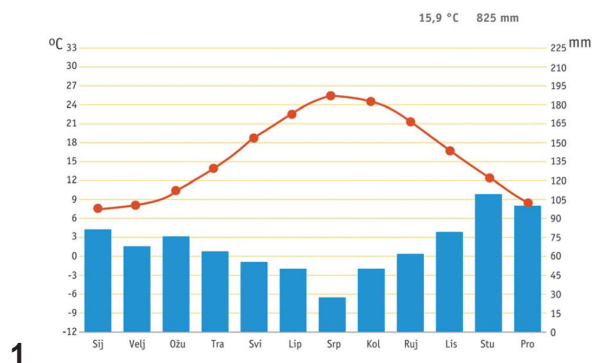
- A. u prekambriju
- B. u paleozoiku
- C. u mezozoiku
- D. u kenozoiku

- A. ☐
- B. ☐
- C. ☐
- D. ☐



Geografija

33. Pozorno promotrite priložene klimatske dijagrame.



Kojim je brojem označen klimatski dijagram Cfa klime u Hrvatskoj?

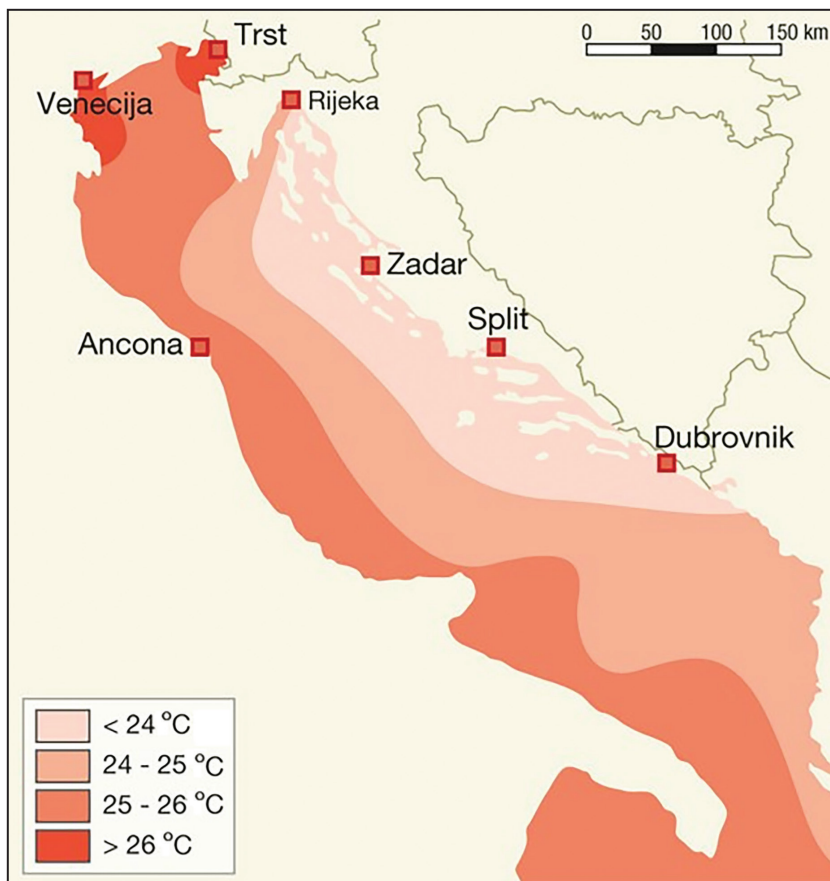
- A. broj 1
- B. broj 2
- C. broj 3
- D. broj 4

A.	<input type="checkbox"/>
B.	<input type="checkbox"/>
C.	<input type="checkbox"/>
D.	<input type="checkbox"/>



Geografija

34. Pozorno promotrite priloženu geografsku kartu.



Koji je faktor dominantno utjecao na najviše temperature mora na priloženoj karti?

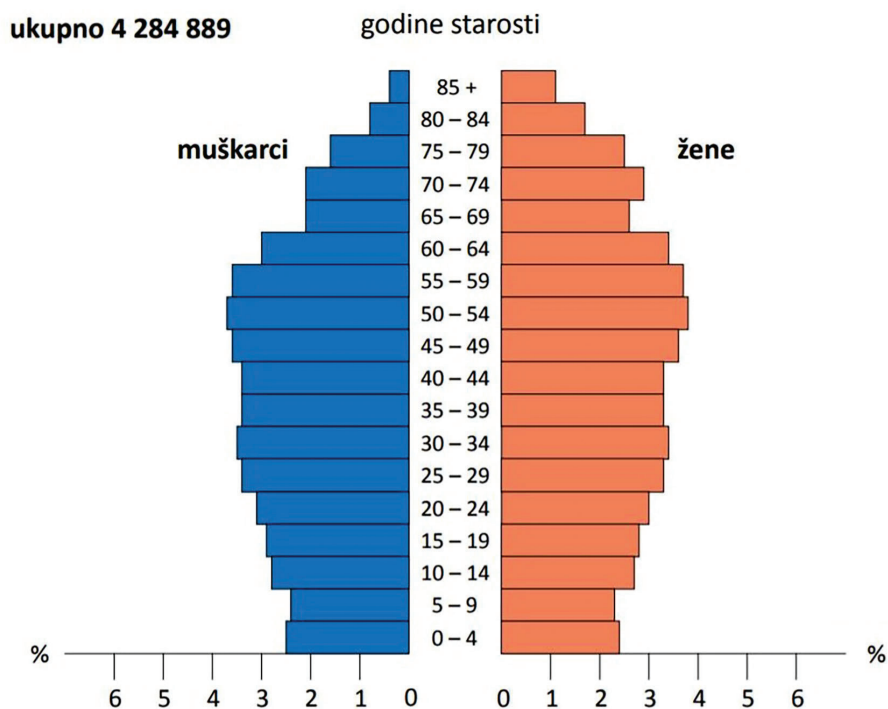
- A. broj sunčanih sati dnevno
- B. dotjecanje hladne vode s kopna
- C. dubina mora
- D. udaljenost od ekvatora

- A. ☐
- B. ☐
- C. ☐
- D. ☐



Geografija

35. Pozorno promotrite priloženi dijagram.



Koje je godine Hrvatska imala dobno-spolnu strukturu stanovništva prikazanu na dijagramu?

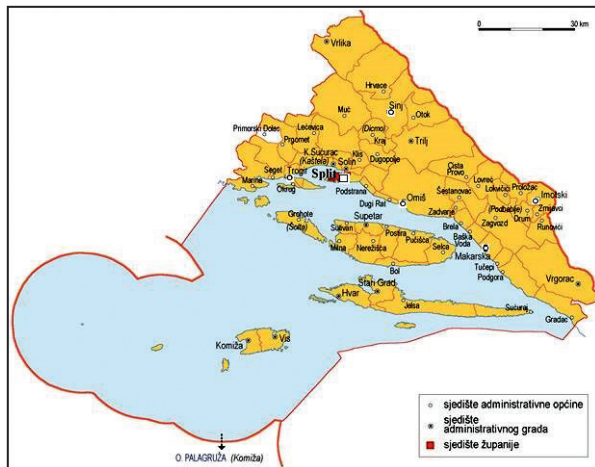
- A. 1900.
- B. 1953.
- C. 2001.
- D. 2011.

A.	<input type="checkbox"/>
B.	<input type="checkbox"/>
C.	<input type="checkbox"/>
D.	<input type="checkbox"/>



Geografija

36. Pozorno promotrite priloženu geografsku kartu.



Koje naselje u zaobalnome dijelu Splitsko-dalmatinske županije ima centralne funkcije najviše razine?

- A. Dugopolje
- B. Imotski
- C. Sinj
- D. Vrgorac

A.	<input type="checkbox"/>
B.	<input type="checkbox"/>
C.	<input type="checkbox"/>
D.	<input type="checkbox"/>



Geografija

37. Pozorno promotrite priložene snimke.



Ortofoto snimke prikazuju prigradske dijelove Zagreba 1968. i 2011. godine. Koji je naziv procesa koji je uzrokovao promjenu ruralnoga krajolika vidljivu na snimkama?

- A. deruralizacija
- B. industrijalizacija
- C. suburbanizacija
- D. tercijarizacija

- A. ☐
- B. ☐
- C. ☐
- D. ☐



Geografija

38. Pozorno promotrite priloženu geografsku kartu.



U kojemu klimatsko-vegetacijskom području hrast lužnjak ima najveće gospodarsko značenje?

- A. u eumediteranskoj zoni
- B. u submediteranskoj zoni
- C. u području gorskih i pretplaninskih bjelogoričnih i crnogoričnih šuma
- D. u nižemu šumskom pojasu eusibirsko-sjevernoameričke regije

A.	<input type="checkbox"/>
B.	<input type="checkbox"/>
C.	<input type="checkbox"/>
D.	<input type="checkbox"/>



Geografija

39. Pozorno promotrite priloženu fotografiju.



Koji je faktor najviše utjecao na lokaciju prikazane industrijsko-poslovne zone?

- A. broj radno aktivnoga stanovništva u najbližemu naselju
- B. dostupnost sirovina
- C. dostupnost tehnološke vode
- D. prometna dostupnost

A.	<input type="checkbox"/>
B.	<input type="checkbox"/>
C.	<input type="checkbox"/>
D.	<input type="checkbox"/>



Geografija

40. Pozorno promotrite priloženu geografsku kartu.



Kojim je brojem označen grad smješten u blizini najvećih naftnih polja?

- A. brojem 1
- B. brojem 2
- C. brojem 3
- D. brojem 4

A.	<input type="checkbox"/>
B.	<input type="checkbox"/>
C.	<input type="checkbox"/>
D.	<input type="checkbox"/>



Prazna stranica



Geografija

Prazna stranica

GEO IK-1 D-S041



99

Prazna stranica

