



Nacionalni centar
za vanjsko vrednovanje
obrazovanja

Adesivo per l'identificazione

INCOLLARE ATTENTAMENTE

POV

STORIA

POV D-S044

POV.44.IT.R.K1.40



43622



12

Pagina vuota



INDICAZIONI GENERALI

Leggi attentamente tutte le indicazioni e seguile.

Non voltare pagina e non iniziare a risolvere i quesiti senza il permesso dell'insegnante di servizio.

Incolla gli adesivi di identificazione su tutti i materiali d'esame che hai ricevuto nella busta sigillata.

L'esame dura **120** minuti senza interruzioni.

Davanti a ciascun gruppo di quesiti trovi le indicazioni per la loro soluzione.

Leggile attentamente.

Usa esclusivamente una penna a sfera di colore blu o nero.

Scrivi in modo leggibile. Le risposte non leggibili verranno valutate con zero (0) punti.

In caso di errore, correggi mettendo l'errore tra parentesi e barrandolo, poi apponi una breve firma. **È proibito firmarsi per intero con nome e cognome.**

Una volta risolti i quesiti, controlla le risposte.

Buona fortuna!

Questo fascicolo d'esame ha 40 pagine di cui 5 vuote.

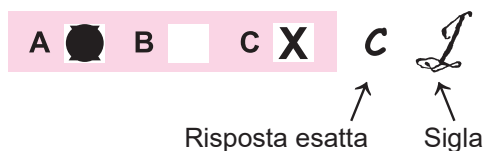
In caso tu abbia sbagliato a scrivere la risposta, puoi rimediare in questo modo:

a) per i quesiti di tipo chiuso


Giusto



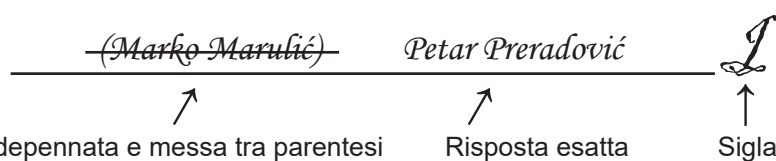
Correzione dell'errore



Sbagliato



b) per i quesiti di tipo aperto



Storia

I Quesiti a scelta multipla

Nei seguenti quesiti, fra le opzioni proposte, solo **una** è esatta.
Indica la risposta esatta con una X sul foglio delle risposte.

1. Come si chiama il processo attraverso il quale lo storico determina il momento in cui si è verificato e quanto è durato un evento, un'occorrenza o un oggetto?

A. analisi
B. attribuzione
C. datazione
D. sintetizzazione

A. ☐
B. ☐
C. ☐
D. ☐

2. Come si chiama la convinzione che ci siano spiriti buoni e cattivi in natura che agiscono al di fuori o al di sopra di ogni cosa fisica e influenzano e governano la vita umana?

A. animismo
B. culto dei morti
C. sincretismo
D. totemismo

A. ☐
B. ☐
C. ☐
D. ☐

3. Come si chiama il codice che istituisce il sistema delle caste?

A. Codice di Hammurabi
B. Leggi di Manu
C. Codice di Mosè
D. Codice di Ur Naum

A. ☐
B. ☐
C. ☐
D. ☐

POV D-S044



01

Storia

4. Osserva attentamente la cartina storica.



Mare Adriatico
grotta di Mujo
grotte di Cerovac
Rasanze
San Daniele
grotta di San Romuald

A quale periodo appartengono le località raffigurate sulla cartina storica?

- A. Paleolitico
- B. Mesolitico
- C. Neolitico
- D. Eneolitico

A.	<input type="checkbox"/>
B.	<input type="checkbox"/>
C.	<input type="checkbox"/>
D.	<input type="checkbox"/>



Storia

5. Leggi attentamente la fonte storica.

Il sovrano di Nekho (...) inviò uomini (...) su navi e ordinò loro di tornare indietro attraverso i pilastri di Eracle fino al Mare del Nord e in tal modo tornare in Egitto. Siccome, quindi, (...) furono partiti dal Mar Rosso, navigarono attraverso il mare meridionale; ogni volta che arrivava il tardo autunno, attraccavano e seminavano la terra (...) e rimanevano fino al raccolto; quando raccolsero il grano, salpavano e così passarono due anni, e il terzo anno fecero il giro dei pilastri di Eracle e iniziarono a tornare in Egitto.

Quale nazione è descritta nella fonte storica?

- A. Fenici
- B. Greci
- C. Liburni
- D. Romani

- A. ☐
- B. ☐
- C. ☐
- D. ☐

6. Come si chiamava il tipo della corte popolare in antica Grecia rivolta contro i cittadini che mettevano a repentaglio la democrazia a polis?

- A. politeismo
- B. ostracismo
- C. deismo
- D. sofisma

- A. ☐
- B. ☐
- C. ☐
- D. ☐

7. Leggi attentamente la fonte storica.

Avevano autorità legittima, il nome dell'autorità reale. Mariti selezionati, il cui corpo fu indebolito da anni e le loro menti forti nella saggezza, si occuparono degli affari di stato; furono chiamati padri (...) a causa della loro età o della somiglianza delle cure.


Come si chiama l'organo legislativo a Roma chiamata *i padri* nella fonte storica?

- A. tribuni della plebe
- B. senato
- C. censori
- D. consoli

- A. ☐
- B. ☐
- C. ☐
- D. ☐




Storia

<p>8. Chi erano <i>i martiri</i> nel cristianesimo?</p> <p>A. costruttori B. demagoghi C. sofferenti D. pastori</p>	<p>A. <input type="checkbox"/></p> <p>B. <input type="checkbox"/></p> <p>C. <input type="checkbox"/></p> <p>D. <input type="checkbox"/></p>
<p>9. A quali città operavano le zecche romane?</p> <p>A. a Murcia e Andautonia B. a Salona e Naron C. a Siscia e Sirmio D. a Scardona e Cibale</p>	<p>A. <input type="checkbox"/></p> <p>B. <input type="checkbox"/></p> <p>C. <input type="checkbox"/></p> <p>D. <input type="checkbox"/></p>
<p>10. Da quale città l'imperatore Eraclio portò i sacerdoti in Dalmazia e Illirico secondo l'opera <i>De administrando imperio</i>?</p> <p>A. d'Aquileia B. da Costantinopoli C. da Roma D. da Salonicco</p>	<p>A. <input type="checkbox"/></p> <p>B. <input type="checkbox"/></p> <p>C. <input type="checkbox"/></p> <p>D. <input type="checkbox"/></p>
<p>11. Quale lettera del XII secolo fu diffusa l'ultima tra i croati?</p> <p>A. arabica B. cirillico C. glagolitico D. latino</p>	<p>A. <input type="checkbox"/></p> <p>B. <input type="checkbox"/></p> <p>C. <input type="checkbox"/></p> <p>D. <input type="checkbox"/></p>
<p>POV D-S044</p>	 01

Storia

12. Osserva attentamente le immagini allegate.



Cosa hanno in comune gli edifici rappresentati nelle immagini?

- A. spazio di origine
- B. appartenenza alla stessa religione
- C. stile gotico di costruzione
- D. era d'alto Medioevo di costruzione

- A. ☐
- B. ☐
- C. ☐
- D. ☐


13. Qual era la base territoriale per la creazione del Regno di Spagna nel XV secolo?

- A. l'unificazione di Aragona e Castiglia
- B. il decadimento del califfato di Cordova
- C. la fondazione del Portogallo
- D. la conquista di Granada

- A. ☐
- B. ☐
- C. ☐
- D. ☐



Storia

<p>14. Con quale nobile famiglia croata il re bosniaco Stjepan Tvrtko I aveva una relazione familiare?</p> <p>A. con i Babonić B. con i Frankapani C. con i Kurjaković D. con i Šubić</p>	<p>A. <input type="checkbox"/></p> <p>B. <input type="checkbox"/></p> <p>C. <input type="checkbox"/></p> <p>D. <input type="checkbox"/></p>	
<p>15. Leggi attentamente la fonte storica del 1492.</p> <p><i>(...) Veleggiarono verso le nostre navi e ci portarono pappagalli, bioccoli di cotone, lunghi dardi e molte altre cose che cambiarono per quello che gli offrivamo, come perle di vetro e campane. Diedero e presero tutto dal loro cuore volentieri - ma mi sembrava che gli scarseggiasse tutto. Vanno nudi in giro come la loro madre ha dato alla luce loro, uomini e donne ... Tutti quelli che vidi furono giovani; cioè, non vidi nessuno che aveva più di trent'anni ... (...)</i></p> <p>I residenti di quale area sono descritti nella fonte storica?</p> <p>A. Brasile B. India C. Messico D. San Salvador</p>		<p>A. <input type="checkbox"/></p> <p>B. <input type="checkbox"/></p> <p>C. <input type="checkbox"/></p> <p>D. <input type="checkbox"/></p>
<p>16. Come si chiama l'autore di <i>Elogio della follia</i>?</p> <p>A. Dante Alighieri B. Erasmo da Rotterdam C. Francesco Petrarca D. Jean-Jacques Rousseau</p>	<p>A. <input type="checkbox"/></p> <p>B. <input type="checkbox"/></p> <p>C. <input type="checkbox"/></p> <p>D. <input type="checkbox"/></p>	
<p>17. Come si chiama l'autore della prima grammatica della lingua croata del 1604?</p> <p>A. Antun Dalmatin (Antonio Dalmata) B. Bartol Kašić (Bartolomeo Cassio) C. Ivan Belostenec D. Juraj Habdelić</p>	<p>A. <input type="checkbox"/></p> <p>B. <input type="checkbox"/></p> <p>C. <input type="checkbox"/></p> <p>D. <input type="checkbox"/></p>	
<p>POV D-S044</p> <div style="text-align: right;">  01 </div>		

Storia

18. Quale delle seguenti invenzioni **non** era nota durante la prima rivoluzione industriale?

- A. parafulmine
- B. motore a vapore
- C. macchina da stampa
- D. trasformatore

- A. ☐
- B. ☐
- C. ☐
- D. ☐

19. Osserva attentamente l'immagine allegata.



Il periodo del dominio di quale sovrano è rappresentato nell'immagine?

- A. Carlo III (VI)
- B. Maria Teresa
- C. Giuseppe II
- D. Leopoldo II

- A. ☐
- B. ☐
- C. ☐
- D. ☐

20. Nel primo periodo dell'età moderna, quale area era nella sfera di interesse e sotto la protezione della Monarchia asburgica e dell'Impero ottomano?

- A. La Repubblica di Ragusa
- B. L'Istria
- C. La Slavonia
- D. La Croazia turca

- A. ☐
- B. ☐
- C. ☐
- D. ☐



Storia

21. Osserva attentamente l'immagine allegata.



Quale delle seguenti funzioni è comune alle persone elencate nell'immagine allegata?

- A. status accademico
- B. chiamata al sacerdozio
- C. attività educativa
- D. lotta contro la magiarizzazione

A.	<input type="checkbox"/>
B.	<input type="checkbox"/>
C.	<input type="checkbox"/>
D.	<input type="checkbox"/>

22. Con quale atto la Francia fu divisa in 83 dipartimenti?

- A. con la costituzione del 1791
- B. con la costituzione del 1795
- C. con il concordato del 1801
- D. con la costituzione del 1804

A.	<input type="checkbox"/>
B.	<input type="checkbox"/>
C.	<input type="checkbox"/>
D.	<input type="checkbox"/>

23. A quale stato Napoleone Bonaparte impose suo fratello Giuseppe nel 1808 come re?

- A. Egitto
- B. Spagna
- C. Repubblica Veneta
- D. Ducato di Varsavia

A.	<input type="checkbox"/>
B.	<input type="checkbox"/>
C.	<input type="checkbox"/>
D.	<input type="checkbox"/>



Storia

24. Osserva attentamente la cartina storica.



Fiume
Segna
Buccari
Gellegne
Delnizze
Verbosco

Durante cui dominio fu costruita la strada in rosso sulla mappa?

- A. di Giuseppe II
- B. di Maria Teresa
- C. di Napoleone I
- D. di Napoleone III

- A. ☐
- B. ☐
- C. ☐
- D. ☐

25. Chi in Croazia nel XIX secolo approvò la legge sull'uguaglianza civile e religiosa degli ebrei?

- A. bano Ivan Mažuranić
- B. bano Josip Jelačić
- C. Dieta ungherese
- D. Dieta croata

- A. ☐
- B. ☐
- C. ☐
- D. ☐

26. Nella seconda metà del XIX secolo, quale paese divenne proprietaria del canale di Suez?

- A. Francia
- B. Russia
- C. Stati Uniti d'America
- D. Gran Bretagna

- A. ☐
- B. ☐
- C. ☐
- D. ☐



Storia

27. Quale politico, durante la Prima guerra mondiale, organizzò la sistemazione di bambini affamati dalla Dalmazia e dall'Erzegovina nella Croazia settentrionale e nella Slavonia?

- A. Antun Radić
- B. Đuro Basariček
- C. Niko Nardeli
- D. Stjepan Sarkotić

- A. ☐
- B. ☐
- C. ☐
- D. ☐

28. Leggi attentamente la fonte storica.

(...) Un regime assolutista del re serbo fu introdotto su tutto il territorio dello stato croato, che priva il popolo croato dei diritti primari del popolo, che altrimenti sarebbero garantiti a ogni nazione. Pertanto, l'uso del nome del popolo croato, che è riconosciuto nei trattati internazionali come un fattore internazionale, e che non rinunciò né al suo nome né alla sua esistenza nella comunità dei popoli, è proibito.

(...)

3. Basandosi sulle accuse inventate e false dichiarazioni fatte dalla polizia, il presidente del rappresentante nazionale Dr. Vladimir Maček fu incarcerato. Fu portato davanti a un tribunale straordinario, le cui deliberazioni non vengono pubblicate (...)

Quando fu creata la fonte storica?

- A. poco dopo il 1 dicembre del 1918
- B. dopo l'annuncio del re il 6 gennaio del 1929
- C. dopo l'istituzione dello Stato indipendente di Croazia
- D. poco dopo lo spargimento di sangue nell'Assemblea nazionale

- A. ☐
- B. ☐
- C. ☐
- D. ☐

POV D-S044



01

29. Osserva attentamente l'immagine allegata.



Traduzione (iscrizione sull'albero): Società delle Nazioni

Cosa simboleggia l'uccello rappresentato nell'immagine?

- A. i compiti della Società delle Nazioni
- B. fondazione dell'organizzazione delle Nazioni Unite
- C. Politica americana di isolazionismo
- D. Stati perdenti della Prima guerra mondiale

- A. ☐
- B. ☐
- C. ☐
- D. ☐

30. In quale città nel 1946 si tenne una conferenza internazionale sulla pace in cui furono determinati i nuovi confini degli stati?

- A. a Berlino
- B. a Norimberga
- C. a Parigi
- D. a Roma

- A. ☐
- B. ☐
- C. ☐
- D. ☐



Storia

31. Leggi attentamente la fonte storica.

(...) Nella Bosnia orientale, dove resistiamo con successo a circostanze difficili e a un nemico più forte, ho ricevuto una notizia inaspettata che ero stato eletto membro e nominato presidente del Consiglio per la Croazia in una riunione di patrioti a Gospici.

In questo modo, i patrioti attirarono l'attenzione non solo dei croati da Čakovec a Međimurje e da Čićarija in Istria alla baia di Kotor, a Lussino sull'Adriatico a Zemun sul Danubio, ma anche persone del nostro sangue e della nostra lingua oltre montagne lontane e ampi oceani, e sento il bisogno di rispondere all'onorevole chiamata non solo al Consiglio, ma a tutti coloro che troverebbero espressione del proprio desiderio in questa decisione. (...)

A che cosa reagì Vladimir Nazor nel giugno del 1943, secondo la fonte storica?

- A.** decisioni della seconda sessione di AVNOJ (*Consiglio Antifascista di Liberazione Popolare della Jugoslavia*)
- B.** decisione sulla sua nomina a Presidente di ZAVNOH (*Consiglio antifascista territoriale di liberazione popolare della Croazia*)
- C.** decisioni della Conferenza di Teheran
- D.** notizia della capitolazione dell'Italia

A.	<input type="checkbox"/>
B.	<input type="checkbox"/>
C.	<input type="checkbox"/>
D.	<input type="checkbox"/>

32. Quale alleanza politica fu il rivale principale dell'Organizzazione del Trattato del Nord Atlantico (NATO) durante la guerra fredda?

- A.** Movimento dei paesi non allineati
- B.** Patto tripartito
- C.** Patto di Varsavia
- D.** Vietcong

A.	<input type="checkbox"/>
B.	<input type="checkbox"/>
C.	<input type="checkbox"/>
D.	<input type="checkbox"/>

33. Come si chiama l'organizzazione politica della diaspora croata che organizzò l'afflusso di persone armate nella SFRJ (*Repubblica socialista federativa di Jugoslavia*)?

- A.** Consiglio nazionale croato
- B.** Unione fraterna croata
- C.** Movimento di liberazione croata
- D.** Fratellanza rivoluzionaria croata

A.	<input type="checkbox"/>
B.	<input type="checkbox"/>
C.	<input type="checkbox"/>
D.	<input type="checkbox"/>



34. Osserva attentamente l'immagine allegata.



SETACCIO DEL
POPOLO

FRONTE DEL
POPOLO

PER LA
DEMOCRAZIA

Testo sotto il fumetto:

Se avessimo potuto setacciare minuziosamente prima della guerra, lo Schwabo non avrebbe causato ne distruzioni ne deturpazioni in quel modo nel nostro paese.

In quale anno si sono svolte le elezioni a cui si riferisce l'immagine?

- A. nel 1945.
- B. nel 1963.
- C. nel 1971.
- D. nel 1980.

- A. ☐
- B. ☐
- C. ☐
- D. ☐

35. Che cosa hanno ottenuto politicamente i palestinesi nel 1994?

- A. unificazione religiosa
- B. indipendenza politica
- C. autogoverno politico
- D. divisione di Gerusalemme

- A. ☐
- B. ☐
- C. ☐
- D. ☐



Storia

II Quesiti a risposta breve

Nei seguenti quesiti rispondi con una risposta breve
(con una parola, alcune parole o con una frase semplice).
Scrivi le risposte **solo** sull'apposito spazio in questo fascicolo d'esame.
Non riempire lo spazio per il punteggio.

36. Come si chiamava il più importante storico romano che operò nel passaggio dal I al II secolo?

0 ☐
1 ☐

punto

37. Come si chiama il popolo di cavalieri – guerrieri che nella prima metà del XVII secolo avanti Cristo fondarono la propria dinastia con il suo centro nella città di Avaris e conquistarono il dominio su tutto l'Egitto?

0 ☐
1 ☐

punto

38. Come si chiamava l'ultimo legittimo imperatore romano ucciso nel palazzo di Diocleziano nel 480?

0 ☐
1 ☐

punto

39. In quale città della Pannonia meridionale era la sede dei Gepidi?

0 ☐
1 ☐


punto

POV D-S044




02

Storia

<p>40. Come si chiama la rivolta dei contadini francesi contro i signori feudali scoppiata nel 1358 nelle province di Île-de-France, Picardie, Champagne e Orléans?</p> <p>_____</p>	<p>0 <input type="checkbox"/></p> <p>1 <input type="checkbox"/></p> <p>punto</p>
<p>41. Leggi attentamente la fonte storica.</p> <p><i>Io, Martinac, un sacerdote dai molti peccati, dalla famiglia Lapčani, da quando Dio mi ha dato, finì umilmente questi libri, seduto nella mia casa (...) al tempo del Santo Padre in Dio, Papa Alessandro VI, e al tempo di Massimiano, re di Roma, (...) e iniziò ad attaccare Modruš. (...) Allora i signori croati e i bani croati sollevarono un esercito contro di lui e la battaglia iniziò (...). E lì combatterono in una grande battaglia. Allora l'onore cristiano fu sconfitto, allora il bano croato fu catturato ancora vivo. Allora il principe Ivan Frakapan fu ucciso. Solo il principe Bernardin Frankapan riuscì a scappare con poche persone. E poi molte partorienti e vedove e molti altri iniziarono a gemere. E la preoccupazione (cura) fu grande come non lo fu stata dal tempo degli impuri Tartari e Goti e Attila. Nell'anno del Signore 1493.</i></p> <p>Quale battaglia è descritta nella fonte storica?</p> <p>_____</p>	<p>0 <input type="checkbox"/></p> <p>1 <input type="checkbox"/></p> <p>punto</p>
<p>42. Come si chiama il nuovo ramo del movimento di riforma fondato nel 1541 a Ginevra?</p> <p>_____</p>	<p>0 <input type="checkbox"/></p> <p>1 <input type="checkbox"/></p> <p>punto</p>
<p>POV D-S044</p> <div><p>02</p></div>	

Storia

43. Osserva attentamente l'immagine allegata.



Lo stemma di quale paese è rappresentato nell'immagine?

0

☐

1

☐

punto

44. Quale città fu il porto più importante della Croazia e dell'Ungheria nel XVIII secolo?

0

☐

1

☐

punto

45. Qual è il significato del termine *ancien régime*?

0

☐

1

☐

punto

POV D-S044



02

Storia

46. Come è intitolato il bollettino principale dell'Unione fraterna croata negli Stati Uniti, che viene pubblicato anche oggi?

0 ☐
1 ☐

punto

47. Osserva attentamente l'immagine allegata.



Traduzione in fondo al cartone animato: *un uomo in grado di far volare la terra.*

Politica imperialista di quale stato è raffigurata?

0 ☐
1 ☐

punto

48. Quali due province all'interno della Repubblica popolare federativa di Jugoslavia avevano una posizione autonoma?

0 ☐
1 ☐

punto

POV D-S044



02

Storia

49. Osserva attentamente l'immagine allegata.



L'uso di quale nuova arma ha causato un problema di salute ai soldati della Prima guerra mondiale raffigurata nell'immagine allegata?

0 ☐
1 ☐

punto

50. In quale stato fu accusato il criminale nazista Adolf Eichmann dopo la Seconda guerra mondiale?

0 ☐
1 ☐

punto

POV D-S044



02

Storia

51. Leggi attentamente la fonte storica.

Fino agli anni settanta, al nostro inno croato era assegnato, lo chiamerei status da camera, cioè in linea di principio non veniva suonato e cantato in spazi aperti, (...) ed era solo una sorta di accompagnamento, cioè era permesso suonarlo o cantarlo su eventi, celebrazioni importanti, (...) solo dopo l'inno nazionale jugoslavo obbligatorio "Ehi, Slavi", (...) Abbiamo deciso come [capi dell'Unione dei comunisti della Croazia] di interrompere pubblicamente l'indesiderabile tradizione, e in occasione della visita di Tito a Zagabria, accogliendolo ufficialmente e con onori (...) Tito aveva già iniziato a camminare, quando i suoni dell'inno croato si diffusero (...) Ci aspettavamo che Tito si opponesse a noi, ma non ci ha chiesto nulla, né obiettato (...) Abbiamo scoperto che questo è stato seguito da un'indagine nell'esercito (perché l'inno era suonato da un'orchestra militare) ...

Come si chiama l'autrice della fonte storica?

0

1

punto

52. Osserva attentamente l'immagine allegata.



Traduzione: *Noi recuperiamo i tentacoli persi!*

Con quale evento nel 2001 è iniziata l'attuazione della politica problematizzata dalla caricatura politica presentata?

0

1

punto



III Quesiti a scelta multipla (cronologie)

Nei seguenti quesiti, fra le opzioni proposte, solo **una** è esatta.
Indica la risposta esatta con una X sul foglio delle risposte.

53. Qual è la sequenza cronologica corretta delle fasi di sviluppo nella vita delle persone preistoriche?

- A. inizio dell'uso di fibbia → comparsa di *Homo habilis*
→ comparsa di *Homo erectus* → comparsa della pittura rupestre
- B. comparsa di *Homo habilis* → comparsa di *Homo erectus*
→ comparsa della pittura rupestre → inizio dell'uso di fibbia
- C. comparsa di *Homo erectus* → comparsa della pittura rupestre
→ inizio dell'uso di fibbia → comparsa di *Homo habilis*
- D. comparsa della pittura rupestre → comparsa di *Homo habilis*
→ comparsa di *Homo erectus* → inizio dell'uso di fibbia

- A. ☐
- B. ☐
- C. ☐
- D. ☐

54. Qual è la sequenza cronologica corretta degli avvenimenti e processi relativi all'alto Medioevo?

- A. istituzione della dinastia dei Carolingi → fondazione dello Stato della Chiesa
→ caduta del Khaganato degli Avari → trattato di Aquisgrana
- B. fondazione dello Stato della Chiesa → istituzione della dinastia dei Carolingi
→ caduta del Khaganato degli Avari → trattato di Aquisgrana
- C. trattato di Aquisgrana → fondazione dello Stato della Chiesa
→ caduta del Khaganato degli Avari → istituzione della dinastia dei Carolingi
- D. istituzione della dinastia dei Carolingi → trattato di Aquisgrana
→ fondazione dello Stato della Chiesa → caduta del Khaganato degli Avari

- A. ☐
- B. ☐
- C. ☐
- D. ☐



Storia

55. Qual è la sequenza cronologica corretta degli avvenimenti relativi alla storia di relazioni croato-asburgiche nella prima età moderna?

- A.** Pace di Zsitvatorok → Ferdinando I d'Asburgo eletto re croato
→ Ferdinando II concede gli Statuti valacchi
→ Petar Zrinski e Fran Krsto Frankopan furono giustiziati
- B.** Petar Zrinski e Fran Krsto Frankopan furono giustiziati → Pace di Zsitvatorok
→ Ferdinando II concede gli Statuti valacchi
→ Ferdinando I d'Asburgo eletto re croato
- C.** Ferdinando I d'Asburgo eletto re croato → Pace di Zsitvatorok
→ Ferdinando II concede gli Statuti valacchi
→ Petar Zrinski e Fran Krsto Frankopan furono giustiziati
- D.** Ferdinando I d'Asburgo eletto re croato
→ Petar Zrinski e Fran Krsto Frankopan furono giustiziati
→ Ferdinando II concede gli Statuti valacchi → Pace di Zsitvatorok

- A.** ☐
- B.** ☐
- C.** ☐
- D.** ☐

56. Qual è la sequenza cronologica corretta degli avvenimenti relativi alla storia dell'Impero Ottomano nella prima metà del XIX secolo?

- A.** emanazione del cosiddetto khatt-i sherif di Gülkhane → accordo anglo-francese sugli stretti del Bosforo e dei Dardanelli → fine della guerra di Crimea
→ scrittura del *Nacertanije (Disegno o Progetto Imperiale)*
- B.** emanazione del cosiddetto khatt-i sherif di Gülkhane → scrittura del *Nacertanije (Disegno o Progetto Imperiale)* → accordo anglo-francese sugli stretti del Bosforo e dei Dardanelli → fine della guerra di Crimea
- C.** scrittura del *Nacertanije (Disegno o Progetto Imperiale)* → accordo anglo-francese sugli stretti del Bosforo e dei Dardanelli → emanazione del cosiddetto khatt-i sherif di Gülkhane → fine della guerra di Crimea
- D.** emanazione del cosiddetto khatt-i sherif di Gülkhane → accordo anglo-francese sugli stretti del Bosforo e dei Dardanelli → scrittura del *Nacertanije (Disegno o Progetto Imperiale)* → fine della guerra di Crimea

- A.** ☐
- B.** ☐
- C.** ☐
- D.** ☐



Storia

57. Qual è la sequenza cronologica corretta degli avvenimenti relativi alla storia croata del XIX secolo?

- A.** Diploma di ottobre → Compromesso croato-ungherese
→ Prima mostra dalmato-croato-slava dell'economia
→ fondazione della Tavola dei sette (*Corte di cassazione*) a Zagabria
- B.** Diploma di ottobre → fondazione della Tavola dei sette (*Corte di cassazione*) a Zagabria → Prima mostra dalmato-croato-slava dell'economia
→ Compromesso croato-ungherese
- C.** Diploma di ottobre → Compromesso croato-ungherese
→ fondazione della Tavola dei sette (*Corte di cassazione*) a Zagabria
→ Prima mostra dalmato-croato-slava dell'economia
- D.** fondazione della Tavola dei sette (*Corte di cassazione*) a Zagabria
→ Diploma di ottobre → Prima mostra dalmato-croato-slava dell'economia
→ Compromesso croato-ungherese

- A.** ☐
- B.** ☐
- C.** ☐
- D.** ☐

58. Qual è la sequenza cronologica corretta degli avvenimenti relativi alla storia di Croazia all'inizio del XX secolo?

- A.** *Novi list* (Il Nuovo giornale) lanciato a Sušak
→ introduzione della cosiddetta Pragmatica delle ferrovie
→ fondazione del Partito popolare contadino croato → Risoluzione di Zara
- B.** *Novi list* (Il Nuovo giornale) lanciato a Sušak → fondazione del Partito popolare contadino croato
→ Risoluzione di Zara → introduzione della cosiddetta Pragmatica delle ferrovie
- C.** introduzione della cosiddetta Pragmatica delle ferrovie → Risoluzione di Zara
→ *Novi list* (Il Nuovo giornale) lanciato a Sušak
→ fondazione del Partito popolare contadino croato
- D.** introduzione della cosiddetta Pragmatica delle ferrovie
→ fondazione del Partito popolare contadino croato
→ Risoluzione di Zara → *Novi list* (Il Nuovo giornale) lanciato a Sušak

- A.** ☐
- B.** ☐
- C.** ☐
- D.** ☐



Storia

59. Qual è la sequenza cronologica corretta degli avvenimenti relativi alla storia della Seconda guerra mondiale?

- A.** Carta atlantica firmata → conferenza tenuta a Casablanca
→ conferenza tenuta a Teheran → conferenza tenuta a Yalta
- B.** conferenza tenuta a Yalta → conferenza tenuta a Casablanca
→ conferenza tenuta a Teheran → Carta atlantica firmata
- C.** Carta atlantica firmata → conferenza tenuta a Teheran
→ conferenza tenuta a Casablanca → conferenza tenuta a Yalta
- D.** conferenza tenuta a Teheran → conferenza tenuta a Casablanca
→ Carta atlantica firmata → conferenza tenuta a Yalta

- A.** ☐
- B.** ☐
- C.** ☐
- D.** ☐

60. Qual è la sequenza cronologica corretta, degli avvenimenti relativi al periodo della Guerra per l'indipendenza croata (*Domovinski rat*)?

- A.** inizio della cosiddetta *balvan revolucija* a Knin → morte dei poliziotti croati a Borovo Selo → inizio dell'assedio di Vukovar → morte di Josip Jović
- B.** morte di Josip Jović → inizio dell'assedio di Vukovar → morte dei poliziotti croati a Borovo Selo → inizio della cosiddetta *balvan revolucija* a Knin
- C.** inizio dell'assedio di Vukovar → morte di Josip Jović → morte dei poliziotti croati a Borovo Selo → inizio della cosiddetta *balvan revolucija* a Knin
- D.** inizio della cosiddetta *balvan revolucija* a Knin → morte di Josip Jović
→ morte dei poliziotti croati a Borovo Selo → inizio dell'assedio di Vukovar

- A.** ☐
- B.** ☐
- C.** ☐
- D.** ☐



IV Quesiti a scelta multipla (a partire da un contenuto)

Nei seguenti quesiti, analizza le fonti storiche, le mappe storiche e le immagini allegate e rispondi alle domande.
Fra le opzioni proposte, solo **una** è esatta.
Indica la risposta esatta con una X sul foglio delle risposte.

61. Leggi attentamente la fonte storica e rispondi alle domande poste.

Quando Anum, il re esaltato degli Anunnaki e Illil, signore di questo e quel mondo che determina il destino della Terra, diede a Marduk, il figlio primogenito di Ea, il dio della giustizia, il potere sul popolo e lo esaltò tra gli Igigi, chiamarono Babilonia con il suo stesso nome, così lo resero forte su tutti e quattro i lati del mondo, e per lui stabilirono un regno eterno di solide basi come quelle su cui poggiano il cielo e la terra; poi Anum e Illil, per fare del bene alla gente, chiamarono me per nome, (...) davanti agli dei di un umile sovrano, per stabilire la giustizia sulla terra, per sterminare il cattivo e il malvagio, che il debole non sia oppresso dal forte, che mi alzo come uno Shamash sopra la testa nera, per illuminare la terra con la luce.

61.1. A quale area storico-geografica fa riferimento la descrizione qui sopra nella fonte storica?

- A. Egitto
- B. India
- C. Giudea
- D. Sumera

- A. ☐
- B. ☐
- C. ☐
- D. ☐

61.2. Secondo la fonte storica, chi fu inviato a „stabilire giustizia sulla terra”?

- A. Assur
- B. Hammurabi
- C. Yahweh
- D. Marduk

- A. ☐
- B. ☐
- C. ☐
- D. ☐



Storia

62. Leggi attentamente la fonte storica e rispondi alle domande poste.

Nell'anno mille sessantasei dall'incarnazione di nostro Signore Gesù Cristo, durante il regno di Dukica a Costantinopoli, io Krešimir, re di Croazia e Dalmazia, figlio del re Stjepan, con il permesso dell'arcivescovo spalatino Lovro e tutti i vescovi del nostro regno e il consenso del nostro duca Stjepan e di altri principi della Croazia dò la libertà reale al monastero di Santa Maria, costruito da mia sorella Cika, in modo che se un temerario voleva opporsi a qualcosa nel suddetto monastero o prendere qualcosa con la forza, dovrebbe restituire quattro volte di più alla chiesa e tutti i suoi averi dovrebbero essere sottoposti alla legge reale. Ciò, che fu confermato dall'arcivescovo e da tutti i vescovi secondo le leggi ecclesiastiche, fu approvato anche da tutta l'assemblea. (...)

Nel giorno della nascita del Signore a Sebenico, questi documenti furono consegnati alla suora citata Ciki (Čiki) di fronte a tutti.

62.1. A quale città si trova il monastero dotato dalla "Libertà reale"?

- A. a Rab
- B. a Spalato
- C. a Sebenico
- D. a Zara

- A. ☐
- B. ☐
- C. ☐
- D. ☐

62.2. Quale festività è associata all'origine della fonte storica?

- A. Natale
- B. Pasqua
- C. Solennità del Corpus Domini (*Corpo del Signore*)
- D. Festa dell'Assunta

- A. ☐
- B. ☐
- C. ☐
- D. ☐

POV D-S044



01

Storia

63. Leggi attentamente la fonte storica del 1241 e rispondi alle domande poste.

1. Nel caso in cui ladri o altre persone malvagie vadano contro i nostri o i loro cittadini, (...) e attacchino i nostri o i loro cittadini; allora noi, insieme a loro, e loro, insieme a noi, divideremo sulla stessa base i costi associati alla distruzione e allo sterminio di questi banditi. 2. Inoltre, se una delle persone che vivono fuori città uccida arbitrariamente uno dei cittadini di Amburgo o Lubecca, se lo ferisca, lo picchiasse con un bastone o in altro modo (...), allora noi sosterremo con loro e loro con noi i costi necessari per la punizione e la riparazione del danno arrecato ... 3. Inoltre, se qualcuno dei loro cittadini vicino alla città di Lubecca o i nostri cittadini vicino alla città di Amburgo subiscano violenza, cercheremo e puniremo il loro colpevole o i loro colpevoli, e loro cercheranno e puniranno il nostro o i nostri sulla base di un conto congiunto per cercare e penalizzare al riguardo ...

63.1. Qual era l'intenzione fondamentale di detto accordo commerciale?

- A. protezione commerciale
- B. protezione dei pellegrini
- C. espansione politica
- D. promozione del mercantilismo

- A. ☐
- B. ☐
- C. ☐
- D. ☐

63.2. A quale area commerciale appartengono le città elencate nella fonte storica?

- A. Viennese
- B. Genovese
- C. Hansa
- D. Veneta

- A. ☐
- B. ☐
- C. ☐
- D. ☐

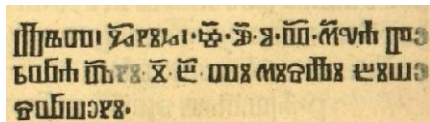
POV D-S044



01

Storia

64. Osserva attentamente l'immagine allegata e rispondi alle domande poste.



Copia del testo dall'immagine in latino: Lětъ G(ospod)ni hъ č·u·o·v· m(ise)ca pervra d(b)ni·i·b· ti misli biše svršeni.

(Nell'anno del Signore, il 22 febbraio 1483, questo Messale fu completato.)

64.1. A quale opera si riferiscono i dati forniti nella fonte storica?

- A. *L'evangelario spatatense*
- B. *L'evangelario di Traù*
- C. *Il Messale romano*
- D. *Il Messale di Hrvoje Vukčić Hrvatinić*

- A. ☐
- B. ☐
- C. ☐
- D. ☐

64.2. Quale data manca nella fonte storica?

- A. l'anno in cui il libro fu stampato
- B. il mese in cui il libro fu stampato
- C. il giorno in cui il libro fu stampato
- D. il luogo in cui il libro fu stampato

- A. ☐
- B. ☐
- C. ☐
- D. ☐

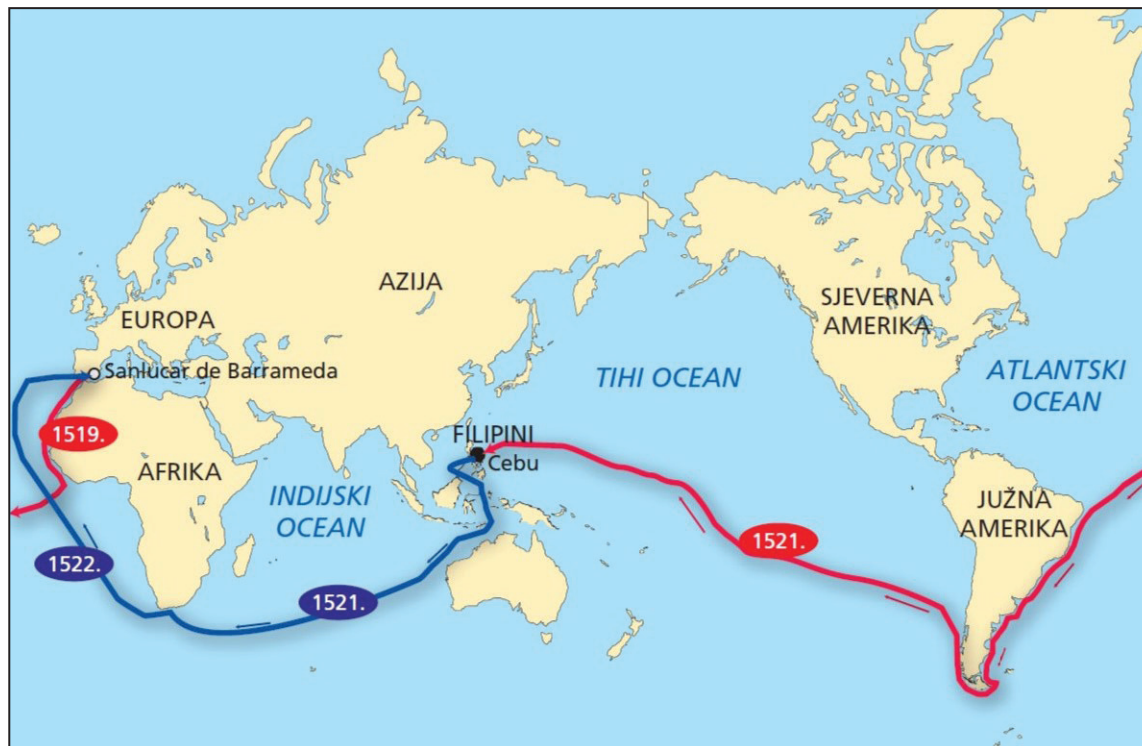
POV D-S044



01

Storia

65. Osserva attentamente la cartina storica e rispondi alle domande poste.



AFRICA; ASIA; OCEANO INDIANO; FILIPPINE; OCEANO PACIFICO; AMERICA DEL NORD;
AMERICA DEL SUD; OCEANO ATLANTICO

65.1. La spedizione di quale navigatore è rappresentata con la linea rossa sulla cartina storica?

- A. di Amerigo Vespucci
- B. di Bartolomeo Diaz
- C. di Ferdinando Magellano
- D. di Cristoforo Colombo

- A. ☐
- B. ☐
- C. ☐
- D. ☐

65.2. Cosa dimostrò la spedizione la cui direzione di viaggio è indicata sulla cartina storica?

- A. che la Terra è una piastra piatta
- B. che la Terra è rotonda
- C. che esiste un nuovo continente a ovest
- D. che i Vichinghi si stabilirono per la prima volta in America del Nord

- A. ☐
- B. ☐
- C. ☐
- D. ☐

POV D-S044



01

Storia

66. Osserva attentamente la cartina storica della fine del XVIII secolo e rispondi alle domande poste.



Mare Adriatico
Sebenico
Zara
Gospici
Fiume
Lubiana
Zagabria
Bagnaluca
MONARCHIA ASBURGICA
IMPERO OTTOMANO
Croazia turca

66.1. Come si chiama lo spazio sulla cartina contrassegnato in rosso scuro?

- A. Distretto di Varaždin
- B. Distretto di Zagabria
- C. Litorale ungherese
- D. Confine militare

- A. ☐
- B. ☐
- C. ☐
- D. ☐

66.2. Cosa fu annullato dalla struttura presentata della monarchia asburgica?

- A. struttura della contea
- B. struttura del banato
- C. conquiste francesi
- D. conquiste ottomane

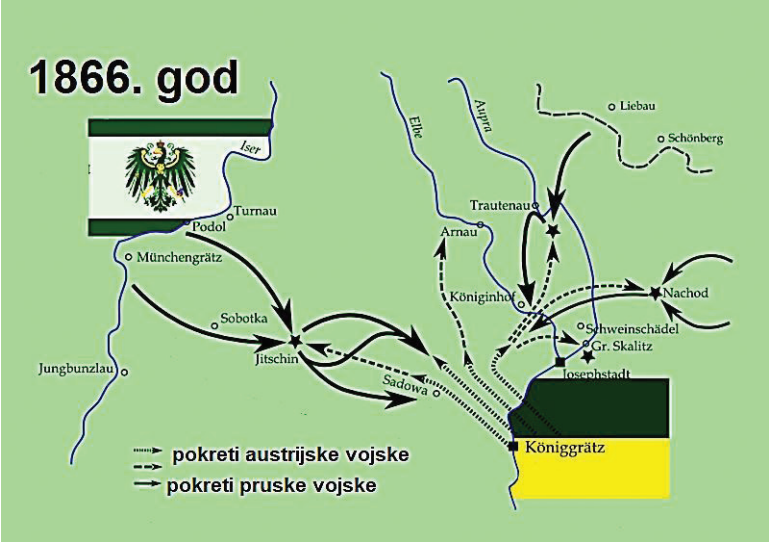

- A. ☐
- B. ☐
- C. ☐
- D. ☐

POV D-S044



01

Storia

<p>67. Osserva attentamente la cartina storica e rispondi alle domande poste.</p> <div><div><div>1866. god</div></div><div><p>l'anno 1866</p><p>movimenti dell'esercito austriaco</p><p>movimenti dell'esercito prussiano</p></div></div>		
<p>67.1. Qual era il motivo del conflitto rappresentato sulla cartina storica?</p> <div><div>A. il conflitto sul ruolo guida nel processo di unificazione degli stati tedeschi</div><div>B. l'intenzione prussiana di rovesciare la dinastia degli Asburgo dal trono in Austria</div><div>C. il conflitto sulla divisione delle colonie in Africa e Medio Oriente</div><div>D. l'intenzione austriaca di ripristinare il Sacro Romano Impero della Nazione Germanica</div></div>	<div><div>A.</div><div>B.</div><div>C.</div><div>D.</div></div>	
	<div><div>A.</div><div>B.</div><div>C.</div><div>D.</div></div>	
<p>67.2. Quale delle seguenti fu la conseguenza immediata della battaglia rappresentata?</p> <div><div>A. Fondazione del Comitato internazionale della Croce Rossa.</div><div>B. Napoleone III si unì alla guerra dalla parte dell'Austria.</div><div>C. Prussia cedette lo Stato Pontificio all'Italia.</div><div>D. Austria cedette Venezia all'Italia.</div></div>		
<p>POV D-S044</p>	<div><div></div><div>01</div></div>	

Storia

68. Leggi attentamente la fonte storica e rispondi alle domande poste.

(...) È costituito dai territori che (...) Cvetković e io abbiamo stabilito già a Vukova Gorica. Ottiene uno speciale parlamento croato (dieta), che con la sanzione del re è esclusivamente competente a approvare tutte le leggi autonome, e il suo governo autonomo, guidato da un bano nominato dal re, è non con la co-firma del presidente del governo comune ma con la sua stessa firma e che è responsabile solo nei confronti della Dieta croata. Come posti di lavoro autonomi (...), sono stati creati i lavori di amministrazione, magistratura, istruzione, politica sociale, economia nazionale, silvicoltura e miniere, edilizia e assistenza sanità. Gli affari esteri, compresi il commercio estero, gli affari militari, l'ufficio postale e la ferrovia, e alcune strade importanti, in particolare la strada Belgrado-Zagabria-Sušak, erano riservate al Parlamento centrale e al governo centrale come affari congiunti. È stato esplicitamente menzionato che l'autonomia della Croazia poteva essere estesa trasferendo »altri affari« da affari comuni a affari autonomi, ma non poteva essere ristretta senza il consenso del parlamento croato. (...)

68.1. La cui autonomia politica è discussa nella fonte storica?

- A. Croazia del Bano
- B. Stato degli Sloveni, dei Croati e dei Serbi
- C. Regno dei Serbi, dei Croati e degli Sloveni
- D. Stato Indipendente di Croazia

- A. ☐
- B. ☐
- C. ☐
- D. ☐

68.2. Quale politico è l'autore della fonte storica?

- A. Ivan Šubašić
- B. Pavle Karađorđević
- C. Svetozar Pribićević
- D. Vladko Maček

- A. ☐
- B. ☐
- C. ☐
- D. ☐



Storia

69. Osserva attentamente la cartina storica e rispondi alle domande poste.



69.1. Come si chiama il conflitto politico rappresentato sulla cartina storica?

- A. apartheid
- B. distensione
- C. crisi di Cuba
- D. crisi di Suez

- A. ☐
- B. ☐
- C. ☐
- D. ☐

69.2. Cosa rappresentano le linee contrassegnate con i numeri 1 e 2 sulla cartina storica?

- A. gamma di missili sovietici
- B. posizione dei missili nucleari americani
- C. pretese territoriali di Cuba
- D. pretese territoriali dell'Unione Sovietica

- A. ☐
- B. ☐
- C. ☐
- D. ☐

POV D-S044



01

Storia

70. Osserva attentamente le immagini allegate e rispondi alle domande poste.

KOALICIJA NARODNOG SPORAZUMA



A HRVATSKA DEMOKRATSKA STRANKA



B



C



D

A: COALIZIONE DELL'ACCORDO POPOLARE
VOTIAMO PER HDS
PARTITO DEMOCRATICO CROATO

B: RICORDATEVI DEL 22. 1. 1990 – IL GIORNO QUANDO LA CROAZIA DEMOCRATICA È STATA ORGOGLIOSA
PARTITO DEI CAMBIAMENTI DEMOCRATICI

il NON di Račan al modo di pensare unilaterale

Noi siamo sul serio

I REFORMISTI CHE CONOSCIAMO

C: DECIDIAMO DA SOLI SUL DESTINO DELLA NOSTRA CROAZIA
HDZ (COMUNITÀ DEMOCRATICA CROATA)

D: HSS (PARTITO CONTADINO CROATO)

70.1. In quali elezioni sono stati utilizzati i materiali preelettorali presentati?

- A. per la Dieta della Repubblica Federale Croata
- B. per la Dieta della Repubblica Socialista Croata
- C. per la Dieta della Repubblica di Croazia
- D. per la Camera della contea della Dieta croata

- A. ☐
- B. ☐
- C. ☐
- D. ☐

70.2. Quale lettera indica il materiale preelettorale del partito che ha vinto le elezioni del 1990?

- A. lettera A
- B. lettera B
- C. lettera C
- D. lettera D

- A. ☐
- B. ☐
- C. ☐
- D. ☐



Pagina vuota



Pagina vuota



Pagina vuota



Pagina vuota

