



Nacionalni centar
za vanjsko vrednovanje
obrazovanja

Adesivo per l'identificazione

INCOLLARE ATTENTAMENTE

PSI

PSICOLOGIA

PSI D-S042

PSI.42.IT.R.K1.28



43628



12

Pagina vuota



INDICAZIONI GENERALI

Leggi attentamente tutte le indicazioni e seguile.

Non voltare pagina e non iniziare a risolvere i quesiti senza il permesso dell'insegnante di servizio.

Incolla gli adesivi di identificazione su tutti i materiali d'esame che hai ricevuto nella busta sigillata.

L'esame dura **80** minuti.

Davanti a ciascun gruppo di quesiti trovi le indicazioni per la loro soluzione.

Leggile attentamente.

Per scrivere usa esclusivamente una penna a sfera di colore blu o nera.

Scrivi in modo leggibile. Le risposte non leggibili verranno valutate con zero (0) punti.

In caso di errore, correggi mettendo l'errore tra parentesi e barrandolo, poi apponi una breve firma.

È proibito firmarsi per intero con nome e cognome.

Una volta risolti i quesiti, controlla le risposte.

Buona fortuna!

Questo fascicolo d'esame ha 28 pagine, di cui 5 vuote.

In caso tu abbia sbagliato a scrivere la risposta, puoi rimediare in questo modo:

a) per i quesiti di tipo chiuso

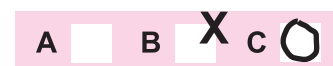
Giusto



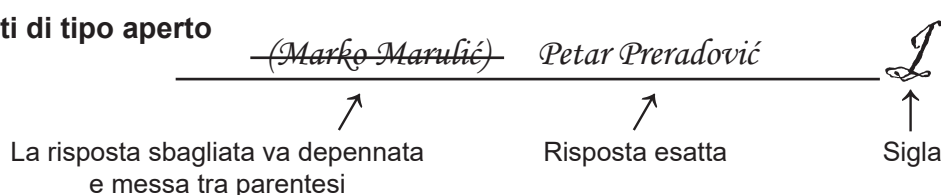
Correzione dell'errore



Sbagliato



b) per i quesiti di tipo aperto



Psicologia

I QUESITI A SCELTA MULTIPLA

Nei seguenti quesiti fra le opzioni proposte, solo **una** è esatta.
Indica le risposte esatte con una X sul foglio delle risposte.

1. In che modo i rappresentanti del comportamentismo in psicologia spiegano la reazione agli eventi stressanti?

A. Viene appresa attraverso il rinforzo dall'ambiente.
B. Dipende dalla nostra valutazione su come affrontare la situazione.
C. Ha la base nel sistema nervoso.
D. Spesso comporta meccanismi di difesa inconsci.

A. ☐
B. ☐
C. ☐
D. ☐

2. Quale dei seguenti coefficienti di correlazione indica la più forte correlazione tra le variabili?

A. +0.14
B. -0.49
C. +0.36
D. -0.63

A. ☐
B. ☐
C. ☐
D. ☐

3. Quale lobo del cervello è leso in una persona non vedente anche se gli occhi e il nervo ottico sono preservati?

A. frontale
B. temporale
C. parietale
D. occipitale

A. ☐
B. ☐
C. ☐
D. ☐


4. Quale parte del cervello verrà attivata e dirigerà l'attenzione di una persona su un forte rumore che sente mentre legge un libro?

A. ipotalamo
B. sistema limbico
C. cervelletto
D. talamo

A. ☐
B. ☐
C. ☐
D. ☐



Psicologia

<p>5. Quale ghiandola dirige il lavoro di altre ghiandole a secrezione interna?</p> <p>A. pancreas B. ipofisi C. ghiandola surrenale D. tiroide</p>	<p>A. <input type="checkbox"/></p> <p>B. <input type="checkbox"/></p> <p>C. <input type="checkbox"/></p> <p>D. <input type="checkbox"/></p>
<p>6. Quale tra gli esempi elencati descrive una sensibilità differenziale ben sviluppata?</p> <p>A. percezione dell'odore del profumo anche dopo aver lasciato la stanza in cui era disperso B. cessazione di percezione dell'odore del profumo dopo un lungo soggiorno in una stanza C. percezione dell'odore di una piccolissima quantità di profumo sparso in una stanza D. percezione della differenza tra gli odori di due profumi molto simili</p>	<p>A. <input type="checkbox"/></p> <p>B. <input type="checkbox"/></p> <p>C. <input type="checkbox"/></p> <p>D. <input type="checkbox"/></p>
<p>7. Qual è il principio di raggruppamento per cui un gruppo di uccelli che si muovono nella stessa direzione viene percepito come uno stormo?</p> <p>A. a causa del principio di buona direzione B. a causa del principio di simmetria C. a causa del principio di destino comune D. a causa del principio di chiusura</p>	<p>A. <input type="checkbox"/></p> <p>B. <input type="checkbox"/></p> <p>C. <input type="checkbox"/></p> <p>D. <input type="checkbox"/></p>
<p>8. Quale affermazione descrive accuratamente la differenza tra umore ed emozione?</p> <p>A. Gli umori durano meno delle emozioni. B. Gli umori sono più intensi delle emozioni. C. Gli umori sono di un'intensità più debole rispetto alle emozioni. D. Sappiamo sempre la causa degli umori e la causa delle emozioni no.</p>	<p>A. <input type="checkbox"/></p> <p>B. <input type="checkbox"/></p> <p>C. <input type="checkbox"/></p> <p>D. <input type="checkbox"/></p>
<div> <div>PSI D-S042</div> <div>  <div>01</div> </div> </div>	

Psicologia

9. Quale tipo di ostacolo al raggiungimento dell'obiettivo rappresenta il divieto di mangiare panini durante la lezione?

- A. personale
- B. sociale
- C. naturale
- D. fisico

- A. ☐
- B. ☐
- C. ☐
- D. ☐

10. Mentre studia, l'alunno diminuisce il rumore usando dei tappi per orecchie. Quale metodo di condizionamento operante spiega l'abitudine dell'alunno di mettere i tappi per le orecchie?

- A. punizione
- B. rinforzo negativo
- C. condizionamento sequenziale
- D. rinforzo positivo

- A. ☐
- B. ☐
- C. ☐
- D. ☐

11. Che tipo di apprendimento sociale si ha quando una bambina di sei anni vede suo nonno riempire un cruciverba e scrive le lettere senza capire esattamente come e perché il nonno lo fa?

- A. modellamento
- B. imitazione
- C. apprendimento per osservazione
- D. apprendimento simbolico


- A. ☐
- B. ☐
- C. ☐
- D. ☐



Psicologia

<p>12. Quale causa d'oblio si verificherà se, dopo aver studiato i contenuti dalla Storia, un alunno dimentica una parte dei contenuti dalla Geografia studiati in precedenza?</p> <p>A. oblio motivato B. transfert positivo C. interferenza retroattiva D. interferenza proattiva</p>	<p>A. <input type="checkbox"/></p> <p>B. <input type="checkbox"/></p> <p>C. <input type="checkbox"/></p> <p>D. <input type="checkbox"/></p>
<p>13. Quale dei seguenti valori di quoziente d'intelligenza è considerato il valore medio?</p> <p>A. 83 B. 92 C. 117 D. 123</p>	<p>A. <input type="checkbox"/></p> <p>B. <input type="checkbox"/></p> <p>C. <input type="checkbox"/></p> <p>D. <input type="checkbox"/></p>
<p>14. In che modo l'approccio dei tratti della personalità spiega la reazione spesso frenetica di una persona?</p> <p>A. Ego è debole e non riesce a ritenere gli impulsi dell'Id. B. Tale comportamento è stato rinforzato in passato. C. La persona ha una dimensione pronunciata di nevroticismo. D. La persona non riesce ad auto-realizzarsi.</p>	<p>A. <input type="checkbox"/></p> <p>B. <input type="checkbox"/></p> <p>C. <input type="checkbox"/></p> <p>D. <input type="checkbox"/></p>
<p>15. Quale approccio teorico alla personalità fa il maggior uso di tecniche proiettive nella valutazione della personalità?</p> <p>A. approccio comportamentista B. approccio umanistico C. approccio dei tratti di personalità D. approccio psicoanalitico</p>	<p>A. <input type="checkbox"/></p> <p>B. <input type="checkbox"/></p> <p>C. <input type="checkbox"/></p> <p>D. <input type="checkbox"/></p>
<p>16. Qual è lo svantaggio principale del metodo di ricerca trasversale?</p> <p>A. possibilità di perdere gli intervistati B. lunga durata della ricerca C. studio di una fascia d'età D. l'impatto della coorte sui risultati</p>	<p>A. <input type="checkbox"/></p> <p>B. <input type="checkbox"/></p> <p>C. <input type="checkbox"/></p> <p>D. <input type="checkbox"/></p>
<div data-bbox="180 2016 347 2054" data-label="Page-Footer"> <p>PSI D-S042</p> </div> <div data-bbox="1295 1975 1465 2110" data-label="Image"> </div>	

Psicologia

<p>17. Quando si sviluppa l'affezione?</p> <p>A. nel periodo dell'allattamento B. nella prima infanzia C. nella seconda infanzia D. nella tarda infanzia</p>	<p>A. <input type="checkbox"/> B. <input type="checkbox"/> C. <input type="checkbox"/> D. <input type="checkbox"/></p>
<p>18. Secondo Piaget, a che età la maggioranza di bambini inizia a capire che la quantità di torta rimane la stessa se tagliata in quattro fette?</p> <p>A. nel primo anno B. nel terzo anno C. nel quinto anno D. nel settimo anno</p>	<p>A. <input type="checkbox"/> B. <input type="checkbox"/> C. <input type="checkbox"/> D. <input type="checkbox"/></p>
<p>19. Un passeggero sull'aeroporto nota che un giovane aiuta una vecchia sconosciuta a portare la sua valigia e conclude che lo fa per una ricompensa. In psicologia sociale, come si chiama l'inferenza sulle possibili cause del comportamento del giovane?</p> <p>A. processo di attribuzione B. effetto di priorità C. errore logico D. effetto alone</p>	<p>A. <input type="checkbox"/> B. <input type="checkbox"/> C. <input type="checkbox"/> D. <input type="checkbox"/></p>
<p>20. Qual è la caratteristica del gruppo descritta nella frase <i>Gli alunni si sostengono a vicenda e si aiutano reciprocamente?</i></p> <p>A. coesione del gruppo B. norme del gruppo C. ruoli del gruppo D. leadership del gruppo</p>	<p>A. <input type="checkbox"/> B. <input type="checkbox"/> C. <input type="checkbox"/> D. <input type="checkbox"/></p>
<div> <div>PSI D-S042</div> <div>  <div>01</div> </div> </div>	

II BATTERIA DI QUESITI

La batteria di quesiti comprende più quesiti legati a un testo.
Sono dati tre testi in cui vengono descritte situazioni di diverso genere in riferimento alla sfera del comportamento o della percezione studiati dalla psicologia.

Leggi attentamente il primo testo.

Marta è una scienziata che studia le basi organiche dei processi psichici. Quest'area ha cominciato a interessarla molto dopo che suo nonno ha avuto un colpo apoplettico qualche anno fa, in seguito al quale ha difficoltà di movimento. Anche se si è ripreso rapidamente, l'interesse di Marta per l'area ha continuato. Attualmente, Marta e il suo team svolgono la ricerca su come l'apprendimento di nuove informazioni influisca sui sogni. Si aspettano che l'apprendimento durante il giorno prolunghi la fase del sonno in cui si sogna. Lo verificheranno conducendo un esperimento su studenti volontari.



Psicologia

Quesiti a risposta breve

I quesiti che seguono richiedono una risposta breve (una o più parole, o una frase semplice).
Inserisci le risposte **soltanto** nello spazio previsto nel fascicolo d'esame.
Non utilizzare lo spazio previsto per la valutazione.

<p>21. Di quale ramo della psicologia si occupa Marta?</p> <p>_____</p>	<p>0 <input type="checkbox"/></p> <p>1 <input type="checkbox"/></p> <p>2 <input type="checkbox"/></p> <p>punto</p>
<p>22. In quali aree funzionali della corteccia cerebrale il nonno di Marta ha subito un colpo apoplettico?</p> <p>_____</p>	<p>0 <input type="checkbox"/></p> <p>1 <input type="checkbox"/></p> <p>2 <input type="checkbox"/></p> <p>punto</p>
<p>23. A quale gruppo di fattori, che influenzano i processi psichici e il comportamento, appartiene un colpo apoplettico?</p> <p>_____</p>	<p>0 <input type="checkbox"/></p> <p>1 <input type="checkbox"/></p> <p>2 <input type="checkbox"/></p> <p>punto</p>
<p>24. Quale tipo di motivazione stimola Marta alla ricerca delle basi cerebrali dei processi psichici?</p> <p>_____</p>	<p>0 <input type="checkbox"/></p> <p>1 <input type="checkbox"/></p> <p>2 <input type="checkbox"/></p> <p>punto</p>

PSI D-S042



02

Psicologia

25. Come si chiama la fase del sonno di cui si occupa la ricerca di Marta e del suo team?

0 ☐

1 ☐

2 ☐

punto

PSI D-S042



02

Psicologia

Quesito a risposta lunga

Rispondi al seguente quesito con alcune frasi, in modo chiaro e conciso, concentrandoti su quello che è importante per la sua soluzione.

Scrivi le risposte **soltanto** nel posto previsto in questo fascicolo d'esame.

Non utilizzare lo spazio previsto per la valutazione.

26. Indica i primi tre passi della ricerca in psicologia e ad ogni passo associa una frase del testo che lo descrive.

0 ☐
1 ☐
2 ☐
3 ☐

punto

PSI D-S042



02

Psicologia

Leggi attentamente il secondo testo.

Una bambina di 10 anni ha fatto lo stesso test di intelligenza due volte nell'arco di qualche mese e il suo quoziente d'intelligenza in entrambi i casi è risultato essere 120. Si rallegra dalle nuove conoscenze che sta imparando a scuola ed è ancora più allegra quando esce con sua madre in cerca delle piante medicinali. Sua madre da queste erbe produce vari composti cosmetici e medicinali che sono unici.

La bambina ha imparato i nomi e le proprietà di molte piante. Una volta stava raccogliendo fiori di lavanda con sua madre e un'ape l'ha punta, il che l'ha impaurita. Da allora, provava paura ogni volta che vede o percepisce l'odore della lavanda.



Psicologia

Quesiti a risposta breve

I quesiti che seguono richiedono una risposta breve (una o più parole, o una frase semplice).
Inserisci le risposte **soltanto** nello spazio previsto nel fascicolo d'esame.
Non utilizzare lo spazio previsto per la valutazione.

27. Qual è l'età mentale della bambina?

0 ☐
1 ☐
2 ☐

punto

28. Qual è la caratteristica metrica del test di intelligenza che la bambina ha risolto descritta nel testo?

0 ☐
1 ☐
2 ☐

punto

29. Quale forma di pensiero consente alla madre di creare preparati a base di erbe?

0 ☐
1 ☐
2 ☐

punto

30. Quale tipo dell'intelligenza della madre continua a svilupparsi per tutta la vita?

0 ☐
1 ☐
2 ☐

punto

PSI D-S042



02

Psicologia

31. In quale tipo di memoria a lungo termine della bambina sono immagazzinati i nomi delle piante?

0 ☐

1 ☐

2 ☐

punto

PSI D-S042



02

Psicologia

Quesito a risposta lunga

Rispondi al seguente quesito con alcune frasi, in modo chiaro e conciso, concentrandoti su quello che è importante per la sua soluzione.

Scrivi le risposte **soltanto** nel posto previsto in questo fascicolo d'esame.

Non utilizzare lo spazio previsto per la valutazione.

- 32.** Spiega o rappresenta schematicamente, indicando tutti gli elementi necessari, come, mediante il processo di condizionamento classico nella bambina si è sviluppata la paura della lavanda.

[illegible]

0	<input type="text"/>
1	<input type="text"/>
2	<input type="text"/>
3	<input type="text"/>
punto	

PSI D-S042



02

Psicologia

Leggi attentamente il terzo testo.

Uno psicologo è il padre di gemelle dell'età prescolare. Da neonate, una gemella era generalmente di buon umore e aveva un ritmo regolare di sonno e alimentazione, l'altra invece era più irrequieta e le mancava un ritmo regolare di sonno e alimentazione. Il padre è molto dolce e premuroso con le gemelle, ma le dimostra chiaramente che ci sono regole da rispettare. Al padre piace passare il tempo libero giocando a scacchi con gli amici. Ha notato che giocava a scacchi meglio se qualcuno osserva la sua partita. I suoi amici a volte lo convincono a prendere una bevanda alcolica con loro, anche se ha un atteggiamento negativo nei confronti dell'alcol. Al lavoro incontra persone che hanno bisogno di psicoterapia. Ha notato che un cliente aveva molte paure represses e conflitti irrisolti dall'infanzia. Un altro cliente spendeva un sacco di soldi in scommesse e voleva cambiare quel comportamento e trascorrere il suo tempo libero con le attività più appropriate. Il terzo soffriva di un senso di disperazione e mancanza di motivazione per qualsiasi tipo di attività nonostante volesse essere felice e realizzare le sue potenzialità.



Psicologia

Quesiti a risposta breve

I quesiti che seguono richiedono una risposta breve (una o più parole, o una frase semplice).
Inserisci le risposte **soltanto** nello spazio previsto nel fascicolo d'esame.
Non utilizzare lo spazio previsto per la valutazione.

<p>33. Quali sono i due tipi di temperamento nei neonati descritti nella seconda frase del testo?</p> <p>_____</p>	<p>0 <input type="checkbox"/></p> <p>1 <input type="checkbox"/></p> <p>2 <input type="checkbox"/></p> <p>punto</p>
<p>34. Qual è lo stile genitoriale adottato dal padre delle gemelle?</p> <p>_____</p>	<p>0 <input type="checkbox"/></p> <p>1 <input type="checkbox"/></p> <p>2 <input type="checkbox"/></p> <p>punto</p>
<p>35. Nella psicologia sociale, come viene definito il fenomeno in base al quale il padre gioca meglio a scacchi in presenza di altre persone?</p> <p>_____</p>	<p>0 <input type="checkbox"/></p> <p>1 <input type="checkbox"/></p> <p>2 <input type="checkbox"/></p> <p>punto</p>
<p>36. Nella psicologia sociale, qual è il nome dello stato di disagio che prova il padre quando beve una bevanda alcolica nonostante il suo atteggiamento negativo nei confronti dell'alcol?</p> <p>_____</p>	<p>0 <input type="checkbox"/></p> <p>1 <input type="checkbox"/></p> <p>2 <input type="checkbox"/></p> <p>punto</p>

PSI D-S042



02

Psicologia

37. Quale specifico disturbo psichico è presente in un paziente che soffre di un senso di disperazione e mancanza di motivazione per qualsiasi tipo di attività?

0 ☐

1 ☐

2 ☐

punto

PSI D-S042



02

Psicologia

Quesito a risposta lunga

Rispondi al seguente quesito con alcune frasi, in modo chiaro e conciso, concentrandoti su quello che è importante per la sua soluzione.

Scrivi le risposte **soltanto** nel posto previsto in questo fascicolo d'esame.

Non utilizzare lo spazio previsto per la valutazione.

38. Indica tre tipi di psicoterapia e ad ognuno associa una frase dal testo che descrive le difficoltà per cui ogni tipo di psicoterapia particolare è più appropriata.

0 ☐
1 ☐
2 ☐
3 ☐

punto

PSI D-S042



02

Psicologia

III QUESITI A RISPOSTA BREVE

I quesiti che seguono richiedono una risposta breve (una o più parole, o una frase semplice).
Inserisci le risposte **soltanto** nello spazio previsto nel fascicolo d'esame.
Non utilizzare lo spazio previsto per la valutazione.

<p>39. Quale parte specifica del sistema nervoso periferico si attiverà mentre l'atleta corre la gara e lo fornirà di energia necessaria?</p> <p>_____</p>	<p>0 <input type="checkbox"/></p> <p>1 <input type="checkbox"/></p> <p>2 <input type="checkbox"/></p> <p>punto</p>
<p>40. Quali sono le due funzioni della percezione?</p> <p>_____</p>	<p>0 <input type="checkbox"/></p> <p>1 <input type="checkbox"/></p> <p>2 <input type="checkbox"/></p> <p>punto</p>
<p>41. Qual è il meccanismo di difesa usato da una persona che, dopo non essere stata ammessa al coro, dice: <i>Meglio così, hanno comunque un repertorio di canzoni abbastanza scadente?</i></p> <p>_____</p>	<p>0 <input type="checkbox"/></p> <p>1 <input type="checkbox"/></p> <p>2 <input type="checkbox"/></p> <p>punto</p>
<p>42. Quale componente dell'atteggiamento nei confronti della musica classica viene rappresentata dal frequentare i concerti di tale musica?</p> <p>_____</p>	<p>0 <input type="checkbox"/></p> <p>1 <input type="checkbox"/></p> <p>2 <input type="checkbox"/></p> <p>punto</p>

PSI D-S042



02

Psicologia

IV QUESITI A RISPOSTA LUNGA

Rispondi al seguente quesiti con alcune frasi, in modo chiaro e conciso, concentrandoti su quello che è importante per la sua soluzione.

Scrivi le risposte **soltanto** nel posto previsto in questo fascicolo d'esame.

Non utilizzare lo spazio previsto per la valutazione.

43. Spiega l'adattamento sensoriale, indicane un esempio spiegando il motivo della sua validità.

[illegible]

0	<input type="checkbox"/>
1	<input type="checkbox"/>
2	<input type="checkbox"/>
3	<input type="checkbox"/>
punto	

PSI D-S042



02

Psicologia

44. Nomina tre tipi di conflitto di motivazione e indica un esempio corrispondente ad ognuno di essi.

[illegible]

0	
1	
2	
3	

punto

PSI D-S042



02

Psicologia

45. Spiega che cos'è il conformismo e indica un esempio in cui il conformismo è un fenomeno positivo e un esempio in cui il conformismo è un fenomeno negativo.

[illegible]

0	
1	
2	
3	

punto

PSI D-S042



02

Pagina vuota



Pagina vuota



Pagina vuota



Pagina vuota

