



Nacionalni centar
za vanjsko vrednovanje
obrazovanja

Identifikacijska
naljepnica

PAŽLJIVO NALIJEPI TI

PIG

POLITIKA I GOSPODARSTVO

PIG D-S044

PIG.44.HR.R.K1.20



45643



12

Politika i gospodarstvo

Prazna stranica



OPĆE UPUTE

Pozorno pročitajte sve upute i slijedite ih.

Ne okrećite stranicu i ne rješavajte zadatke dok to ne odobri dežurni nastavnik.

Nalijepite identifikacijske naljepnice na sve ispitne materijale koje ste dobili u sigurnosnoj vrećici.

Ispit traje **90** minuta.

Ispred svake skupine zadataka uputa je za rješavanje. Pozorno je pročitajte.

Upotrebljavajte isključivo kemijsku olovku kojom se piše plavom ili crnom bojom.

Pišite čitko. Nečitki odgovori bodovat će se s nula (0) bodova.

Ako pogriješite u pisanju, pogreške stavite u zagrade, precrtajte ih i stavite skraćeni potpis. **Zabranjeno je potpisati se punim imenom i prezimenom.**

Kada riješite zadatke, provjerite odgovore.

Želimo Vam mnogo uspjeha!

Ova ispitna knjižica ima 20 stranica, od toga 2 prazne.

Ako ste pogriješili u pisanju odgovora, ispravite ovako:

a) zadatak zatvorenoga tipa

Točno



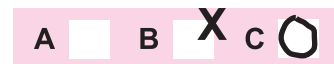
Ispravak pogrešnog unosa



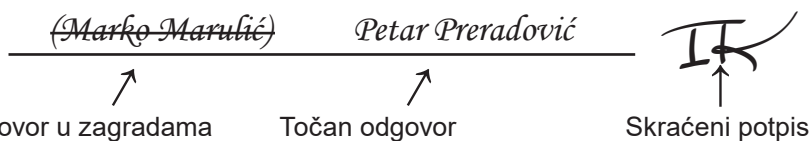
Prepisan točan odgovor

Skraćeni potpis

Pogrešno



b) zadatak otvorenoga tipa



PIG D-S044



99

Politika i gospodarstvo

I. Zadatci višestrukoga izbora

U sljedećim zadatcima od više ponuđenih odgovora samo je **jedan** točan.
Točne odgovore morate označiti znakom X na listu za odgovore.

1. Koji je od navedenih filozofa zastupao ideju da je jedina ispravna politika ona koja slijedi Božje zapovijedi?

A. Aristotel
B. Marko Tulije Ciceron
C. Toma Akvinski

A. ☐
B. ☐
C. ☐

2. Kojoj vrsti organizacija pripada *Greenpeace*, organizacija kojoj je cilj očuvanje prirode na planetu Zemlji, a financira se donacijama?

A. vladinim organizacijama
B. nacionalnim nevladinim organizacijama
C. međudržavnim nevladinim organizacijama

A. ☐
B. ☐
C. ☐

3. Za vrijeme predizborne kampanje vladajući lokalni dužnosnici otvaraju novu kinodvoranu u gradu. Kako se naziva taj čin lokalne vlasti?

A. političko djelovanje
B. politička socijalizacija
C. kulturna manifestacija

A. ☐
B. ☐
C. ☐

4. Kojoj ideološkoj orijentaciji pripada politička stranka koja se zalaže za temeljne i žurne promjene političkoga sustava revolucionarnim putem radi postizanja socijalne jednakosti stanovništva?

A. lijevoj
B. desnoj
C. centru


A. ☐
B. ☐
C. ☐

PIG D-S044



01

Politika i gospodarstvo

<p>5. Građani su potpisivanjem peticije nakon koje bi se proveo referendum pokrenuli postupak promjene ustava. Kako se naziva tip demokracije u okviru kojega građani mogu tako politički djelovati?</p> <p>A. posredna demokracija B. neposredna demokracija C. liberalna demokracija</p>	<p>A. <input type="checkbox"/></p> <p>B. <input type="checkbox"/></p> <p>C. <input type="checkbox"/></p>
<p>6. Koji je od navedenih političkih subjekata nositelj suvereniteta u polupredsjedničkoj republici?</p> <p>A. cijeli narod B. jedna osoba C. jedan društveni sloj</p>	<p>A. <input type="checkbox"/></p> <p>B. <input type="checkbox"/></p> <p>C. <input type="checkbox"/></p>
<p>7. Koju od navedenih ovlasti ima parlament?</p> <p>A. Imenuje vojne zapovjednike. B. Objavljuje rat i zaključuje mir. C. Odlučuje o ratu i miru.</p>	<p>A. <input type="checkbox"/></p> <p>B. <input type="checkbox"/></p> <p>C. <input type="checkbox"/></p>
<p>8. Kojim su građanima u liberalno-demokratskome političkom poretку ustavom zajamčeni sloboda i zaštita njihovih prava?</p> <p>A. svakomu pojedincu B. samo nacionalnim manjinama C. samo pripadnicima nacionalne većine</p>	<p>A. <input type="checkbox"/></p> <p>B. <input type="checkbox"/></p> <p>C. <input type="checkbox"/></p>
<p>PIG D-S044</p> <div><p>01</p></div>	

Politika i gospodarstvo

9. Na slobodnim višestranačkim parlamentarnim izborima tajnim glasovanjem sudjelovali su u jednome selu samo državljani stariji od 80 godina jer su se svi ostali radno aktivni stanovnici iselili. Kako se naziva vrsta izbora iz opisanoga primjera?

- A. nekompetitivni izbori
- B. kompetitivni izbori
- C. semikompetitivni izbori

A. ☐

B. ☐

C. ☐

10. Za vrijeme aktualnoga sata u Hrvatskome saboru zastupnici traže dodatna pojašnjenja o mogućem sukobu interesa ministra financija. Prema Ustavu Republike Hrvatske, koliko je najmanje zastupnika potrebno za podnošenje interpelacije o sukobu interesa ministra u Vladi Republike Hrvatske?

- A. 1/10 zastupnika
- B. 1/5 zastupnika
- C. 1/3 zastupnika

A. ☐

B. ☐

C. ☐



Politika i gospodarstvo

11. Novinari objavljuju napise o koruptivnim djelima saborskoga zastupnika, što je već prijavljeno Uredu za suzbijanje korupcije i organiziranoga kriminaliteta. Koje državno tijelo odlučuje o ukidanju imuniteta saborskomu zastupniku prije kaznenoga progona?

- A.** Državno odvjetništvo
- B.** Hrvatski sabor
- C.** Ustavni sud Republike Hrvatske

A. ☐

B. ☐

C. ☐

12. Rukovoditelj javnoga poduzeća koristi se svojim položajem i omogućuje rođakinji pranje voznoga parka njezine prijevoznicke tvrtke na račun javnoga poduzeća, a ona mu za to uplaćuje dogovoreni iznos na privatni račun. Koje je državno tijelo dužno postupati protiv počinitelja iz opisanoga primjera?

- A.** Porezna uprava
- B.** Državno odvjetništvo
- C.** Državno sudbeno vijeće


A. ☐

B. ☐


C. ☐




Politika i gospodarstvo

<p>13. Ustavni sud Republike Hrvatske utvrdio je da Hrvatski sabor nije donio propis o financiranju izborne promidžbe političkih stranaka, što onemogućuje izvršenje odredaba Ustava Republike Hrvatske. Koga prema Ustavu Republike Hrvatske Ustavni sud treba obavijestiti o ovome propustu Hrvatskoga sabora?</p> <p>A. Vladu Republike Hrvatske B. Predsjednika Republike Hrvatske C. Ured za suzbijanje korupcije i organiziranoga kriminaliteta</p>	<p>A. <input type="checkbox"/> B. <input type="checkbox"/> C. <input type="checkbox"/></p>
<p>14. Kojom većinom prema Ustavu Republike Hrvatske Hrvatski sabor odlučuje hoće li pristupiti promjeni Ustava Republike Hrvatske?</p> <p>A. običnom većinom glasova zastupnika B. većinom glasova svih zastupnika C. dvotrećinskom većinom glasova svih zastupnika</p>	<p>A. <input type="checkbox"/> B. <input type="checkbox"/> C. <input type="checkbox"/></p>
<p>15. Koji građani u Republici Hrvatskoj prema Ustavu Republike Hrvatske imaju aktivno i pasivno biračko pravo na izborima za Europski parlament?</p> <p>A. svi građani Europske unije B. svi državljani Republike Hrvatske C. svi stanovnici Republike Hrvatske</p>	<p>A. <input type="checkbox"/> B. <input type="checkbox"/> C. <input type="checkbox"/></p>
<p>16. Koje državno tijelo ima ovlasti prema Ustavu Republike Hrvatske donositi uredbe o radu Državnoga inspektorata?</p> <p>A. Hrvatski sabor B. Vlada Republike Hrvatske C. Predsjednik Republike Hrvatske</p>	<p>A. <input type="checkbox"/> B. <input type="checkbox"/> C. <input type="checkbox"/></p>
PIG D-S044	 01


Politika i gospodarstvo

<p>17. Što osigurava sljedeća odredba Ustava Republike Hrvatske: <i>Svatko je nedužan i nitko ga ne može smatrati krivim za kazneno djelo dok mu se pravomoćno sudskom presudom ne utvrdi krivnja?</i></p> <p>A. pretpostavku nevinosti B. jednakost pred zakonom C. zabranu retroaktivne primjene zakona</p>	<p>A. <input type="checkbox"/></p> <p>B. <input type="checkbox"/></p> <p>C. <input type="checkbox"/></p>
<p>18. Koji je od navedenih dokumenata bio prisiljen potpisati engleski kralj Ivan Bez Zemlje nakon ustanka plemstva ograničivši time svoju moć, a dajući povlastice podanicima?</p> <p>A. <i>Habeas Corpus Act</i> B. <i>Magna Carta Libertatum</i> C. <i>Petition of Rights</i></p>	<p>A. <input type="checkbox"/></p> <p>B. <input type="checkbox"/></p> <p>C. <input type="checkbox"/></p>
<p>19. Na koje se temeljno ekonomsko pitanje daje odgovor kada se raspodjela društvenoga proizvoda obavlja primjenom tržišnih mehanizama i mjera ekonomske politike države?</p> <p>A. <i>Što proizvoditi?</i> B. <i>Kako proizvoditi?</i> C. <i>Za koga proizvoditi?</i></p>	<p>A. <input type="checkbox"/></p> <p>B. <input type="checkbox"/></p> <p>C. <input type="checkbox"/></p>
<p>20. Koji od navedenih ekonomskih problema proučava mikroekonomija?</p> <p>A. kako povećati stopu rasta nacionalnoga proizvoda B. kako potrošači raspoređuju ograničene dohotke na tržištu dobara i usluga C. kako smanjiti porast godišnje stope inflacije mjerene potrošačkim cijenama</p>	<p>A. <input type="checkbox"/></p> <p>B. <input type="checkbox"/></p> <p>C. <input type="checkbox"/></p>
<p>PIG D-S044</p>	 <p>01</p>

Politika i gospodarstvo

<p>21. Tvrtka je sredstvima iz EU fondova proširila tehničke proizvodne kapacitete za 25 %, što je rezultiralo povećanjem broja gotovih proizvoda od 38 % na godišnjoj razini. Kojim se pokazateljem uspješnosti može izraziti postignuti rezultat poslovanja u opisanome primjeru?</p> <p>A. likvidnost B. rentabilnost C. proizvodnost</p>	<p>A. <input type="checkbox"/> B. <input type="checkbox"/> C. <input type="checkbox"/></p>
<p>22. Kako se naziva vrsta tržišta na kojemu se razmjena dobara i usluga odvija između pet država prema određenim zakonitostima i pravilima?</p> <p>A. nacionalno B. međunarodno C. svjetsko</p>	<p>A. <input type="checkbox"/> B. <input type="checkbox"/> C. <input type="checkbox"/></p>
<p>23. Proizvođač sladoleda odlučio je povećati svoju proizvodnju tijekom ljetnih mjeseci te najveći dio proizvoda preusmjeriti u hrvatska ljetovališta. Koja je tržišna funkcija opisana u primjeru?</p> <p>A. selektivna B. alokacijska C. distribucijska</p>	<p>A. <input type="checkbox"/> B. <input type="checkbox"/> C. <input type="checkbox"/></p>
<p>24. Kako se naziva tip gospodarskoga sustava u kojemu su resursi isključivo u privatnome vlasništvu, država ima ulogu zaštite vlasništva pojedinaca, a potražnja za proizvodom diktira njegovu ponudu?</p> <p>A. komandni B. mješoviti C. tržišni</p>	<p>A. <input type="checkbox"/> B. <input type="checkbox"/> C. <input type="checkbox"/></p>
<p>PIG D-S044</p> <div> 01</div>	

Politika i gospodarstvo

<p>25. Koji je ekonomski teoretičar isticao da država svojim mjerama mora poticati potrošnju te na taj način utjecati na investicije i gospodarski rast?</p> <p>A. John Maynard Keynes B. Joseph Schumpeter C. Thorstein Veblen</p>	<p>A. <input type="checkbox"/></p> <p>B. <input type="checkbox"/></p> <p>C. <input type="checkbox"/></p>
<p>26. Poslovna organizacija A iznajmila je 300 igraćih konzola poslovnoj organizaciji B. Kako se naziva priljev novca koji je poslovna organizacija A ostvarila iznajmljivanjem igraćih konzola?</p> <p>A. prihod B. dobitak C. dohodak</p>	<p>A. <input type="checkbox"/></p> <p>B. <input type="checkbox"/></p> <p>C. <input type="checkbox"/></p>
<p>27. Vlasnik konditorskoga poduzeća zaposlio je osobu čiji je zadatak voditi poduzeće, upravljati resursima poduzeća te povećati tržišni udio za 1 %. Koju ulogu ima osoba koja obavlja opisane radne zadatke?</p> <p>A. radnika B. menadžera C. poduzetnika</p>	<p>A. <input type="checkbox"/></p> <p>B. <input type="checkbox"/></p> <p>C. <input type="checkbox"/></p>
<p>28. Poduzetnik je osmislio i razvio ideju za novi posao, ali svjestan je da je izbor pravoga trenutka za novi posao ključan za uspjeh. Kako se naziva osobina koju posjeduje poduzetnik iz opisanoga primjera?</p> <p>A. samouvjerenost B. postavljanje ciljeva C. razumno prihvaćanje rizika</p>	<p>A. <input type="checkbox"/></p> <p>B. <input type="checkbox"/></p> <p>C. <input type="checkbox"/></p>
<p>29. Kozmetičarski obrt angažira poznatu osobu da putem društvenih mreža predstavi kupcima željeni tretman iscrtavanja usana mikropigmentacijom. Koje razdoblje poslovanja obilježava takva poslovna filozofija?</p> <p>A. prodajno B. proizvodno C. marketinško</p>	<p>A. <input type="checkbox"/></p> <p>B. <input type="checkbox"/></p> <p>C. <input type="checkbox"/></p>
<p>PIG D-S044</p>	 01

Politika i gospodarstvo

30. Država je ostvarila bruto nacionalni dohodak po stanovniku od 52 000 američkih dolara, što je generiralo rast osobne i zajedničke potrošnje. Kako se naziva dosegnuta razina životnoga standarda?

- A. blagostanje
- B. razvijenost
- C. bogatstvo

A.

☐

B.

☐

C.

☐

PIG D-S044



01

Politika i gospodarstvo

II. Zadatci kratkoga odgovora

U sljedećim zadacima odgovorite kratkim odgovorom (riječu ili jednostavnom rečenicom).
Odgovore upišite **samo** na predviđeno mjesto u ispitnoj knjižici.
Ne popunjavajte prostor za bodovanje.

- 31.** Ujedinjeni narodi organizirali su pregovore dviju zaraćenih država radi smirivanja sukoba. Što je u navedenom primjeru cilj političkoga djelovanja UN-a?

0 ☐
1 ☐

bod

- 32.** Koji tip političke kulture karakterizira osviještenost građana o političkim procesima, kritički stav prema vlasti te spremnost na sudjelovanje u politici?

0 ☐
1 ☐

bod

- 33.** Što je Republika Hrvatska potvrdila donošenjem Ustava Republike Hrvatske 22. prosinca 1990. godine?

0 ☐
1 ☐

bod

- 34.** U kojemu se izbornom sustavu primjenjuje D'Hondtova metoda izračuna zastupničkih mandata?

0 ☐
1 ☐

bod

PIG D-S044




02

Politika i gospodarstvo

<p>35. Koji je temeljni i najviši pravni akt države kojim se uspostavlja politički poredak i određuje odnos između triju dijela vlasti?</p> <p>_____</p>	<p>0 <input type="checkbox"/></p> <p>1 <input type="checkbox"/></p> <p>bod</p>
<p>36. U kojemu je političkom sustavu vlada odgovorna i predsjedniku republike i parlamentu?</p> <p>_____</p>	<p>0 <input type="checkbox"/></p> <p>1 <input type="checkbox"/></p> <p>bod</p>
<p>37. U kojemu političkom poretku policija ima ovlasti u svako doba dana ulaziti u privatne domove građana i kontrolirati korištenje zabranjenih medijskih sadržaja koji promiču zaštitu ljudskih prava?</p> <p>_____</p>	<p>0 <input type="checkbox"/></p> <p>1 <input type="checkbox"/></p> <p>bod</p>
<p>38. U kojemu su povijesnom tipu političkoga poretka naizmjenice vladali građani ždrijećom izabrani u javne službe, a Narodna je skupština donosila odluke o svim pitanjima od općega interesa?</p> <p>_____</p>	<p>0 <input type="checkbox"/></p> <p>1 <input type="checkbox"/></p> <p>bod</p>
<p>39. Kako se naziva skupina parlamentarnih zastupnika čija je funkcija nadzor rada vlade i oblikovanje političkih interesa onih građana koje vladajući ne zastupaju?</p> <p>_____</p>	<p>0 <input type="checkbox"/></p> <p>1 <input type="checkbox"/></p> <p>bod</p>

PIG D-S044



02


Politika i gospodarstvo

<p>40. Roditelji djece s invaliditetom nisu dobili zaštitu Vijeća za elektroničke medije zbog ponižavajućega i uznemirujućega izvještavanja u medijima. Kojoj se instituciji za zaštitu prava i dostojanstva djece prema Ustavu Republike Hrvatske mogu obratiti roditelji iz opisanoga primjera?</p> <p>_____</p>	<p>0 <input type="checkbox"/></p> <p>1 <input type="checkbox"/></p> <p>bod</p>
<p>41. Kako se naziva najviše državno tijelo Republike Hrvatske koje jamči poštovanje i primjenu Ustava Republike Hrvatske, a prema istome ne pripada ni zakonodavnoj, ni izvršnoj, ni sudbenoj grani državne vlasti?</p> <p>_____</p>	<p>0 <input type="checkbox"/></p> <p>1 <input type="checkbox"/></p> <p>bod</p>
<p>42. Koje jedinice samouprave prema Ustavu Republike Hrvatske obavljaju poslove koji se odnose na prijevoz srednjoškolaca s otoka u školu na kopnu?</p> <p>_____</p>	<p>0 <input type="checkbox"/></p> <p>1 <input type="checkbox"/></p> <p>bod</p>
<p>43. Kojom se većinom prema Ustavu Republike Hrvatske bira predsjednik Republike Hrvatske?</p> <p>_____</p>	<p>0 <input type="checkbox"/></p> <p>1 <input type="checkbox"/></p> <p>bod</p>
<p>44. Na prijedlog Vlade Republike Hrvatske Zakon o akvakulturi ulazi u proceduru izmjena i dopuna. Kojom većinom prema Ustavu Republike Hrvatske Hrvatski sabor izglasava spomenuti zakon?</p> <p>_____</p>	<p>0 <input type="checkbox"/></p> <p>1 <input type="checkbox"/></p> <p>bod</p>
<div data-bbox="181 2018 352 2054" data-label="Text"> <p>PIG D-S044</p> </div> <div data-bbox="1294 1975 1453 2107" data-label="Image"> </div> <div data-bbox="1406 2076 1453 2107" data-label="Text"> <p>02</p> </div>	


Politika i gospodarstvo

<p>45. Do kojih granica Republika Hrvatska prema Ustavu Republike Hrvatske ostvaruje suverena prava u morskim područjima i u podmorju Jadranskoga mora izvan državnoga područja?</p> <p>_____</p>	<p>0 <input type="checkbox"/></p> <p>1 <input type="checkbox"/></p> <p>bod</p>
<p>46. Tko uz Predsjednika Republike Hrvatske prema Ustavu Republike Hrvatske supotpisuje rješenje o imenovanju predsjednika Vlade Republike Hrvatske?</p> <p>_____</p>	<p>0 <input type="checkbox"/></p> <p>1 <input type="checkbox"/></p> <p>bod</p>
<p>47. Kojemu sudu prema Ustavu Republike Hrvatske građanin može podnijeti priziv protiv odluke općinskoga suda?</p> <p>_____</p>	<p>0 <input type="checkbox"/></p> <p>1 <input type="checkbox"/></p> <p>bod</p>
<p>48. Koje se pravo Ustavom Republike Hrvatske jamči građanima ako nemaju sredstava za plaćanje odvjetnika u sudskome procesu?</p> <p>_____</p>	<p>0 <input type="checkbox"/></p> <p>1 <input type="checkbox"/></p> <p>bod</p>
<p>49. Koje područje ekonomske znanosti proučava gospodarski rast i stabilnost države?</p> <p>_____</p>	<p>0 <input type="checkbox"/></p> <p>1 <input type="checkbox"/></p> <p>bod</p>
<div data-bbox="181 2018 352 2054" data-label="Text"> <p>PIG D-S044</p> </div> <div data-bbox="1294 1975 1453 2107" data-label="Image"> </div> <div data-bbox="1406 2076 1453 2107" data-label="Text"> <p>02</p> </div>	

Politika i gospodarstvo

<p>50. Poduzetnik koji ima dobru ideju, ali nema dovoljno kapitala želi pokrenuti posao i osnovati trgovačko društvo za samo 10 kuna temeljnoga kapitala. Kako se naziva trgovačko društvo kapitala koje može osnovati poduzetnik iz opisanoga primjera?</p> <p>_____</p>	<p>0 <input type="checkbox"/></p> <p>1 <input type="checkbox"/></p> <p>bod</p>
<p>51. Proizvođač je na tržište plasirao manji broj proizvoda po nižoj cijeni kako bi privukao kupce. Zanimanje je kupaca raslo pa je ponuđač odlučio proizvesti više proizvoda i povisiti im cijenu. Koji zakon tržišta regulira situaciju iz opisanoga primjera?</p> <p>_____</p>	<p>0 <input type="checkbox"/></p> <p>1 <input type="checkbox"/></p> <p>bod</p>
<p>52. Veliki proizvođači jabuka smanjili su ponudu jabuka na svjetskome tržištu, dok je potražnja ostala nepromijenjena. Što će se dogoditi s cijenom jabuka?</p> <p>_____</p>	<p>0 <input type="checkbox"/></p> <p>1 <input type="checkbox"/></p> <p>bod</p>
<p>53. Država je donijela odluku da se male pošiljke iz inozemstva oporezuju porezom na dodanu vrijednost. Kako se naziva takva vrsta oporezivanja?</p> <p>_____</p>	<p>0 <input type="checkbox"/></p> <p>1 <input type="checkbox"/></p> <p>bod</p>
<p>54. U državi se povećala proizvodnja zbog čega se povećala i zaposlenost. Istodobno je došlo do rasta ukupnoga dohotka. Kako se naziva ostvareni makroekonomski cilj iz opisanoga primjera?</p> <p>_____</p>	<p>0 <input type="checkbox"/></p> <p>1 <input type="checkbox"/></p> <p>bod</p>
<div data-bbox="181 2018 352 2054"> <p>PIG D-S044</p> </div> <div data-bbox="1294 1975 1453 2107">  <p>02</p> </div>	

Politika i gospodarstvo

<p>55. Građanin je oročio štednju u banci te je na račun položio iznos od 50 000 kuna. Uz godišnju fiksnu kamatnu stopu od 0,8 % po isteku ugovora uvećat će mu se vrijednost oročene štednje za 400 kuna. Kako se naziva funkcija novca iz opisanoga primjera?</p> <p>_____</p>	<p>0 <input type="checkbox"/></p> <p>1 <input type="checkbox"/></p> <p>bod</p>
<p>56. Kako se naziva situacija na financijskome tržištu u kojoj raste vrijednost eura u odnosu na američki dolar te je potrebno izdvojiti manje eura za jedan američki dolar?</p> <p>_____</p>	<p>0 <input type="checkbox"/></p> <p>1 <input type="checkbox"/></p> <p>bod</p>
<p>57. Na burzi vrijednosnih papira samostalni je trgovac u svoje ime i za svoj račun ostvario zaradu od 5000 kuna tako što je kupio dionice u vrijednosti 10 000 kuna i prodao ih za 15 000 kuna. Kako se naziva burzovni posrednik iz opisanoga primjera?</p> <p>_____</p>	<p>0 <input type="checkbox"/></p> <p>1 <input type="checkbox"/></p> <p>bod</p>
<p>58. Zbog nižih kamatnih stopa na stambene kredite i veće potražnje za nekretninama rasla je cijena nekretnina. Posljedica je rasta cijena smanjenje potražnje za nekretninama i pad gospodarske aktivnosti u ovoj grani gospodarstva. Kako se naziva gospodarski ciklus koji je nastupio nakon rasta cijena nekretnina iz opisanoga primjera?</p> <p>_____</p>	<p>0 <input type="checkbox"/></p> <p>1 <input type="checkbox"/></p> <p>bod</p>
<p>59. Proizvođač povrća odlučio je prodavati svoje proizvode putem interneta tijekom epidemiološke krize te je ostvario veću zaradu od svojih konkurenata. Kako se naziva element marketinškoga spleta iz opisanoga primjera?</p> <p>_____</p>	<p>0 <input type="checkbox"/></p> <p>1 <input type="checkbox"/></p> <p>bod</p>
<div data-bbox="181 2016 352 2054"> <p>PIG D-S044</p> </div> <div data-bbox="1295 1975 1465 2110">  <p>02</p> </div>	

Politika i gospodarstvo

60. U Republici Hrvatskoj u jednoj je godini ukupno proizvedeno dobara u vrijednosti 54 milijarde američkih dolara. Kako se naziva opisani pokazatelj razvijenosti Republike Hrvatske?

0

☐

1

☐

bod

PIG D-S044



02

Politika i gospodarstvo

Prazna stranica

