



Nacionalni centar
za vanjsko vrednovanje
obrazovanja

Adesivo per l'identificazione

INCOLLARE ATTENTAMENTE

POV

STORIA

POV D-S048

POV.48.IT.R.K1.36



48651



12

Pagina vuota



INDICAZIONI GENERALI

Leggi attentamente tutte le indicazioni e seguile.

Non voltare pagina e non iniziare a risolvere i quesiti senza il permesso dell'insegnante di servizio.

Incolla gli adesivi di identificazione su tutti i materiali d'esame che hai ricevuto nella busta sigillata.

L'esame dura **120** minuti senza interruzioni.

Davanti a ciascun gruppo di quesiti trovi le indicazioni per la loro soluzione.

Leggile attentamente.

Usa esclusivamente una penna a sfera di colore blu o nero.

Scrivi in modo leggibile. Le risposte non leggibili verranno valutate con zero (0) punti.

In caso di errore, correggi mettendo l'errore tra parentesi e barrandolo, poi apponi una breve firma. **È proibito firmarsi per intero con nome e cognome.**

Una volta risolti i quesiti, controlla le risposte.

Buona fortuna!

Questo fascicolo d'esame ha 36 pagine di cui 3 vuote.

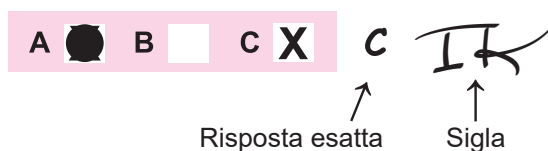
Se hai sbagliato a scrivere la risposta correggi in questo modo:

a) quesito di tipo chiuso

Giusto



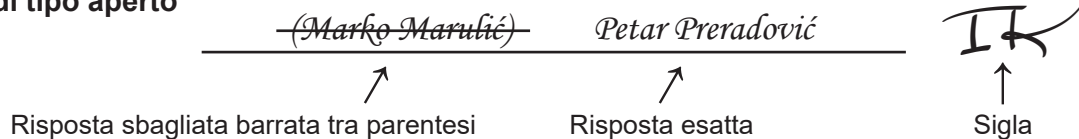
Correzione dell'errore



Sbagliato



b) quesito di tipo aperto



POV D-S048



99

Storia

I Quesiti a scelta multipla

Nei seguenti quesiti, fra le opzioni proposte, solo **una** è esatta.
Indica la risposta esatta con una X sul foglio delle risposte.

1. A quale antenato dell'uomo viene attribuita per prima la lavorazione degli utensili di pietra?

A. all'australopiteco
B. all'uomo di Cro-Magnon
C. all'*Homo habilis*
D. all'uomo di Neanderthal

A. ☐
B. ☐
C. ☐
D. ☐

2. Osserva attentamente la rappresentazione visuale.



A quale cultura preistorica appartiene l'oggetto raffigurato?

A. alla cultura di Lasinje
B. alla cultura di Sopot
C. alla cultura di Danilo
D. alla cultura di Vučedol


A. ☐
B. ☐
C. ☐
D. ☐

POV D-S048



01

Storia

<p>3. Quale sovrano assiro distrugge la Samaria e prende gli Ebrei in cattività?</p> <p>A. Asurbanipal II. B. Nabopolassar III. C. Sargon II. D. Tiglatpilesar</p>	<p>A. <input type="checkbox"/></p> <p>B. <input type="checkbox"/></p> <p>C. <input type="checkbox"/></p> <p>D. <input type="checkbox"/></p>
<p>4. In quale città era situata la porta della dea Ishtar?</p> <p>A. a Babilonia B. a Gerusalemme C. a Tiro D. a Susa</p>	<p>A. <input type="checkbox"/></p> <p>B. <input type="checkbox"/></p> <p>C. <input type="checkbox"/></p> <p>D. <input type="checkbox"/></p>
<p>5. Chi sconfigge e assimila gli Ittiti?</p> <p>A. gli Egiziani B. gli Elamiti C. i Babilonesi D. i cosiddetti <i>Popoli del mare</i></p>	<p>A. <input type="checkbox"/></p> <p>B. <input type="checkbox"/></p> <p>C. <input type="checkbox"/></p> <p>D. <input type="checkbox"/></p>
<p>6. In quale battaglia si scontrano Temistocle e Serse?</p> <p>A. presso Egospotami B. presso Maratona C. presso Salamina D. presso Cipro</p>	<p>A. <input type="checkbox"/></p> <p>B. <input type="checkbox"/></p> <p>C. <input type="checkbox"/></p> <p>D. <input type="checkbox"/></p>
<div>POV D-S048</div> <div>  <div>01</div> </div>	

Storia

7. Leggi attentamente la fonte storica.

(...) viaggiando perlopiù attraverso la pianura, venne con Druenzio sotto le Alpi, indisturbato dai Galli che vivono da quelle parti. (...) Il nono giorno giunse l'esercito in cima alle Alpi, viaggiando per i tanti sentieri sconosciuti (...) ordinò ai soldati di far sosta su una delle radure da dove si poteva ammirare fin lontano; da lì mostrò a loro l'Italia e i campi alle sponde del Po, che si trovava ai piedi delle Alpi, aggiungendo che stavano attraversando non soltanto le mura dell'Italia ma della stessa capitale romana (...) dopo due battaglie avrà in mano sia la città forte sia il cuore dell'Italia. E così la schiera andò avanti; (...)

Quale condottiero viene descritto nella fonte storica?

- A. Cesare
- B. Annibale
- C. Pirro
- D. Vercingetorice

- A. ☐
- B. ☐
- C. ☐
- D. ☐

8. Quale sovrano divide l'Impero romano in Impero romano d'Oriente e d'Occidente?

- A. Diocleziano
- B. Costantino
- C. Romolo Augustolo
- D. Teodosio

- A. ☐
- B. ☐
- C. ☐
- D. ☐

9. L'avanzata di quale popolo in Europa viene fermata da Carlo Martello presso Poitiers?

- A. degli Arabi
- B. degli Ungheresi
- C. degli Slavi
- D. dei Visigoti

- A. ☐
- B. ☐
- C. ☐
- D. ☐


POV D-S048



01

Storia

10. Osserva attentamente la rappresentazione visuale.



Come si chiama il tipo di edificio dell'architettura romana raffigurato?

- A. acquedotto
- B. *insula*
- C. curia
- D. *villa rustica*

- A. ☐
- B. ☐
- C. ☐
- D. ☐

11. Leggi attentamente la fonte storica.

Forte era il potere e numerosa la gente della Croazia (...) e il suo figlio Miroslav, dopo aver regnato per 4 anni, dal bano Pribunja fu rimosso, ed il paese venne travolto da discordia e dissidio (...)

Quale re viene portato al potere dal bano Pribunja (Pribina) dopo gli avvenimenti descritti nella fonte storica?

- A. Mihajlo Krešimir II
- B. Petar Krešimir IV
- C. Stjepan Držislav
- D. Tomislav

- A. ☐
- B. ☐
- C. ☐
- D. ☐



Storia

12. Osserva attentamente la rappresentazione visuale.



In quale località è stata trovata la fonte storica?

- A. Gornji Muć
- B. Klis
- C. Rižinice
- D. Šopot

- A. ☐
- B. ☐
- C. ☐
- D. ☐

13. Quali ceti sociali componevano la Camera bassa del parlamento inglese del XIV secolo?

- A. la nobiltà e l'alto clero
- B. i rappresentanti delle città e delle contee
- C. i rappresentanti dei servi della gleba e dei liberi contadini
- D. i rappresentanti della nobiltà scozzese e gallese

- A. ☐
- B. ☐
- C. ☐
- D. ☐

14. In quale città Colomanno viene incoronato per il re croato?

- A. a Biograd
- B. a Knin
- C. a Nona (Nin)
- D. a Sebenico

- A. ☐
- B. ☐
- C. ☐
- D. ☐

POV D-S048




01

Storia

<p>15. Quale sovrano garantì la protezione della bassa nobiltà della Slavonia e Ungheria con la Bolla d'Oro del 1222?</p> <p>A. Andrea II B. Bela IV C. Colomanno D. Ladislao II</p>	<p>A. <input type="checkbox"/></p> <p>B. <input type="checkbox"/></p> <p>C. <input type="checkbox"/></p> <p>D. <input type="checkbox"/></p>
<p>16. In quale dei seguenti paesi Francesco Saverio ha fondato la Chiesa cattolica?</p> <p>A. in Australia B. in Brasile C. in Giappone D. in Messico</p>	<p>A. <input type="checkbox"/></p> <p>B. <input type="checkbox"/></p> <p>C. <input type="checkbox"/></p> <p>D. <input type="checkbox"/></p>
<p>17. Chi viene premiato dal re francese e spagnolo per aver attaccato Osijek e incendiato il ponte di Solimano?</p> <p>A. Nikola Jurišić B. Nikola VII Zrinski C. Petar Berislavić D. Petar Kružić</p>	<p>A. <input type="checkbox"/></p> <p>B. <input type="checkbox"/></p> <p>C. <input type="checkbox"/></p> <p>D. <input type="checkbox"/></p>
<p>18. Quale territorio della Repubblica veneziana del XVII secolo viene compreso con il termine <i>acquisto nuovissimo</i>?</p> <p>A. Istria B. Litorale croato C. l'entroterra dalmata oltre il Cetina fino ad Imotski e le Bocce di Cattaro D. l'entroterra dalmata fino alla linea Knin, Segna, Vrlika, Drniš</p>	<p>A. <input type="checkbox"/></p> <p>B. <input type="checkbox"/></p> <p>C. <input type="checkbox"/></p> <p>D. <input type="checkbox"/></p>
<p>19. Qual era la funzione formale del Consiglio regio croato?</p> <p>A. parlamento B. governo C. corte suprema D. ispettorato statale</p>	<p>A. <input type="checkbox"/></p> <p>B. <input type="checkbox"/></p> <p>C. <input type="checkbox"/></p> <p>D. <input type="checkbox"/></p>
<div data-bbox="180 2016 367 2051" data-label="Text">POV D-S048</div> <div data-bbox="1294 1975 1453 2107" data-label="Image"> </div> <div data-bbox="1406 2076 1453 2107" data-label="Text">01</div>	

Storia

20. Osserva attentamente la rappresentazione visuale.



Quale inventore costruì il mezzo di trasporto raffigurato?

- A. James Watt
- B. George Stephenson
- C. Robert Fulton
- D. Rudolf Diesel

- A. ☐
- B. ☐
- C. ☐
- D. ☐

21. Quale organo statale dichiarò la Francia una repubblica nel 1792?

- A. il Convento
- B. gli Stati generali
- C. il Comitato di salute pubblica
- D. il Direttorio

- A. ☐
- B. ☐
- C. ☐
- D. ☐

POV D-S048



01

Storia

22. Leggi attentamente la fonte storica.

L'amore verso la libertà è la qualità principale di tale natura, la stessa che li segna come un insieme. È quindi naturale che le vostre colonie diventino sospettose, insubordinate e non adattabili quando mai si avvertano di qualsiasi tentativo di prendere con la forza ciò che considerano l'unica cosa che ha un vero valore (...) I popoli di quelle colonie sono i discendenti degli Inglesi. E l'Inghilterra è, mio Signore, il paese che, lo spero, rispetta ancora le proprie libertà. (...)

Discorso di E. Burke nella Camera bassa nel Parlamento a Londra, 1775

Dove si trovano le colonie menzionate nella fonte storica?

- A. in Australia
- B. nell'America del Nord
- C. nell'America del Sud
- D. in India

- A. ☐
- B. ☐
- C. ☐
- D. ☐

23. Leggi attentamente la fonte storica.

L'imperatore mi chiamava spesso per parlarmi delle province austriache che aveva l'intenzione di acquisire. Siccome le ho percorse e ho dimorato nelle stesse, le conoscevo abbastanza bene. (...) Separandole dall'Impero e dal Regno d'Italia, aveva l'intenzione di trasformarle in un avamposto che proteggerebbe i suoi domini (...) Voleva in questo modo creare dei veri e propri confini militari (...), e mi disse ridendo: E voi ne sarete il conte.

maresciallo Marmont

Chi è l'imperatore menzionato nella fonte storica?

- A. Napoleone I
- B. Napoleone III
- C. Giuseppe II
- D. Francesco Giuseppe

- A. ☐
- B. ☐
- C. ☐
- D. ☐

24. Chi è l'autore della budnica *Još Horvatska ni propala*?

- A. Ivan pl. Zajc
- B. Ljudevit Gaj
- C. Stanko Vraz
- D. Vatroslav Lisinski


- A. ☐
- B. ☐
- C. ☐
- D. ☐

POV D-S048



01

Storia

<p>25. Chi è l'autore del primo trattato economico in lingua croata, <i>Temelji žitne trgovine</i>?</p> <p>A. Antun Vraniczany B. Benedikt Kotruljević C. Josip Šipuš D. Juraj Drašković</p>	<p>A. <input type="checkbox"/></p> <p>B. <input type="checkbox"/></p> <p>C. <input type="checkbox"/></p> <p>D. <input type="checkbox"/></p>
<p>26. Quali stati hanno formato un'alleanza nel 1907 dopo la demarcazione delle zone d'interesse dell'Afganistan?</p> <p>A. Germania e Italia B. Francia e Russia C. Gran Bretagna e Russia D. Germania e Gran Bretagna</p>	<p>A. <input type="checkbox"/></p> <p>B. <input type="checkbox"/></p> <p>C. <input type="checkbox"/></p> <p>D. <input type="checkbox"/></p>
<p>27. La politica del nuovo corso prevedeva la collaborazione di quali partiti?</p> <p>A. partiti croati con partiti dell'opposizione ungherese nel Parlamento ungherese B. partiti croati con partiti serbi per la questione dell'unificazione C. partiti croati con partiti italiani per la questione della lingua ufficiale in Dalmazia D. partiti croati con partiti sloveni per la questione del trialismo</p>	<p>A. <input type="checkbox"/></p> <p>B. <input type="checkbox"/></p> <p>C. <input type="checkbox"/></p> <p>D. <input type="checkbox"/></p>
<p>28. Quali capi politici hanno creato la Coalizione contadino-democratica (SDK)?</p> <p>A. Nikola Pašić e Mehmed Spaho B. Svetozar Pribićević e Stjepan Radić C. Pavao Radić e Ljubo Davidović D. Dragiša Cvetković e Vladko Maček</p>	<p>A. <input type="checkbox"/></p> <p>B. <input type="checkbox"/></p> <p>C. <input type="checkbox"/></p> <p>D. <input type="checkbox"/></p>
<p>29. Quale delle seguenti è una caratteristica del nuovo programma economico (NEP) della Russia Sovietica?</p> <p>A. proprietà privata nelle piccole imprese e commerci B. collettivizzazione e appoggio sull'industria pesante C. economia basata sul mercato D. aumento della produzione bellica</p>	<p>A. <input type="checkbox"/></p> <p>B. <input type="checkbox"/></p> <p>C. <input type="checkbox"/></p> <p>D. <input type="checkbox"/></p>
<p>POV D-S048</p>	 <p>01</p>

Storia

30. Chi dava sostegno ai četnici nella Dalmazia settentrionale, Lika e Bosnia occidentale fino all'autunno del 1943?

- A. i partigiani
- B. l'esercito italiano
- C. l'esercito sovietico
- D. lo Stato Indipendente Croato

- A. ☐
- B. ☐
- C. ☐
- D. ☐

31. Osserva attentamente la rappresentazione visuale.

SOLDATI	7.700.000
SOTTOMARINI NUCLEARI	12
CARRI ARMATI	38.000
RAZZI INTERCONTINENTALI	75

I dati delle forze armate di quale alleanza sono rappresentati nella rappresentazione visuale?

- A. della Coalizione antifascista
- B. del Patto tripartito
- C. del Patto di Varsavia
- D. della Comunità degli stati indipendenti

- A. ☐
- B. ☐
- C. ☐
- D. ☐

32. Come si chiama il modello economico della RPFJ (SFRJ) che dagli anni 1960 si componeva d'introduzione della gestione capitalista d'affari senza proprietà privata?

- A. autogestione operaia
- B. socialismo dal volto umano
- C. socialismo di mercato
- D. politica dei patti chiari

- A. ☐
- B. ☐
- C. ☐
- D. ☐



Storia

33. Osserva attentamente la cartina storica.



Quale governo ha fondato il campo di lavoro raffigurato nella rappresentazione visuale?

- A. degli ustascia
- B. dei comunisti
- C. dei fascisti
- D. dei nazisti

- A. ☐
- B. ☐
- C. ☐
- D. ☐

34. Quale delle seguenti malattie si diffuse nel mondo all'inizio degli anni ottanta del XX secolo?

- A. l'AIDS
- B. l'ebola
- C. l'influenza suina
- D. l'influenza spagnola

- A. ☐
- B. ☐
- C. ☐
- D. ☐



35. Leggi attentamente la fonte storica.

Il contributo che l'Europa organizzata e viva può dare alla civiltà è indispensabile per il mantenimento dei rapporti pacifici. (...) L'Europa non si creerà all'improvviso né a seconda di un unico piano. Verrà costruita tramite traguardi concreti che creeranno la solidarietà de facto. L'unificazione delle nazioni dell'Europa richiede la rimozione dell'antica rivalità tra la Francia e la Germania. Ogni misura che verrà presa dovrà, in prima fila, comprendere questi due paesi. Avendo in visione questo scopo, il governo francese propone di prendere delle misure riguardo a una questione limitata, ma cruciale; propone di mettere la produzione franco-tedesca di carbone e acciaio, come un unico insieme, sotto la giurisdizione dell'Alta commissione, nell'ambito di un'organizzazione aperta per la collaborazione con gli altri paesi europei. (...)

La nascita di quale organizzazione viene descritta nella fonte storica?

- A. la Comunità economica europea
- B. la Comunità europea per il carbone e l'acciaio
- C. l'Organizzazione per la sicurezza e collaborazione europea
- D. il Patto di Varsavia

- A. ☐
- B. ☐
- C. ☐
- D. ☐



Storia

Il Quesiti a risposta breve

Nei seguenti quesiti rispondi con una risposta breve
(con una parola, alcune parole o con una frase semplice).
Scrivi le risposte **solo** sull'apposito spazio in questo fascicolo d'esame.
Non riempire lo spazio per il punteggio.

- 36.** Quale avvenimento viene preso come punto di partenza per il computo del tempo nella comunicazione del mondo d'affari odierno?

0 ☐

1 ☐

punto

- 37.** Osserva attentamente la rappresentazione visuale.



Come si chiama il monumento raffigurato?

0 ☐

1 ☐

punto

POV D-S048



02

Storia

38. Leggi attentamente la fonte storica.

Si sostiene che l'ultimo dei suoi atti politici era la distruzione; perché se il giovane Scipione ha terminato quest'opera, i Romani hanno intrapreso questa guerra per consiglio e proposta di Catone per la ragione seguente. Catone venne spedito anche al numidico Massinissa, perché vigevano guerra uno con l'altro, per indagare sulle ragioni della loro discordia. Massinissa, infatti, era amico del popolo romano dall'inizio, quando entrarono nelle trattative con i Romani dopo la sconfitta che gli era stata inflitta da Scipione dal potere abbastanza ridotto a causa della perdita del proprio imperio e di una grave indennità di guerra in denaro. Ma trovando la città non, come pensavano i Romani, in uno stato infelice e squallido, ma piena di numerose imbarcazioni, gli uomini addetti alle armi, e ripiena di ingenti ricchezze, armi di ogni tipo e attrezzatura da guerra, e lui non affatto autocosciente nel riguardo, ritenne che per i romani non era il momento di sistemare e ordinare le cose di Numidia e di Massinissa, (...)

Quale città stato antica viene descritta nella fonte storica?

0 ☐

1 ☐

punto

39. Come si chiama il movimento religioso all'interno dell'Impero bizantino che promuoveva la venerazione delle icone?

0 ☐

1 ☐

punto

40. Come si chiamano le lapidi di pietra sulle quali sono iscritti in alfabeto greco i nomi *Horoáthos* e *Horoúathos*?

0 ☐

1 ☐


punto

POV D-S048



02

Storia

<p>41. Quale sovrano medievale bosniaco si incorona per primo con la doppia corona e assume il titolo di <i>kralj Srbljem, Bosni, Primorju, Humskoj zemlji, Donjim Krajem, Zapadnim Stranam, Usori i Podrinju</i>?</p> <p>_____</p>	<p>0 <input type="checkbox"/></p> <p>1 <input type="checkbox"/></p> <p>punto</p>	
<p>42. Come si chiamava nel Medioevo il possedimento libero, ovvero il possedimento terriero ereditario, libero da tributi feudali?</p> <p>_____</p>	<p>0 <input type="checkbox"/></p> <p>1 <input type="checkbox"/></p> <p>punto</p>	
<p>43. Come si chiama il tipo di unione nella quale la Croazia entra con gli Asburgo, basato sull'elezione di Ferdinando I d'Asburgo come re?</p> <p>_____</p>	<p>0 <input type="checkbox"/></p> <p>1 <input type="checkbox"/></p> <p>punto</p>	
<p>44. Leggi attentamente la fonte storica.</p> <p><i>Ho introdotto ovunque tributi ai ricchi e agli aristocratici. Ho pure dato l'ordine ai miei delegati di seguire il mio esempio, in modo da raccogliere abbastanza cibo e aiutare i poveri sanculotti. Sono orgoglioso di questa misura rivoluzionaria. Non sembra giusto che gli egoisti, speculatori di mente piccola, aristocratici avari, che hanno annunciato la guerra paghino i costi di questa guerra? Sembra giusto che durante il dominio dell'uguaglianza i nobili, i commercianti, i sacerdoti, i proprietari dei castelli e degli attestati ce ne sono in abbondanza, mentre i patrioti non possiedono neppure le cose essenziali per vivere, perché i più ricchi le afferrano per loro stessi? No, cittadini miei, la dichiarazione dei diritti non sono parole senza peso.</i></p> <p>Quale gruppo politico radicale del periodo della rivoluzione francese prendeva misure e metodi descritti nella fonte storica?</p> <p>_____</p>		<p>0 <input type="checkbox"/></p> <p>1 <input type="checkbox"/></p> <p>punto</p>
<p>POV D-S048</p> <div style="text-align: right;">  02 </div>		

Storia

<p>45. Quale impero a base della Pace di Srijemski Karlovci del 1699 riceve due corridoi: uno verso la baia della penisola Klek a sud dell'estuario della Neretva (vicino all'odierno Neum) e l'altro presso Sutor all'entrata nelle Bocche di Cattaro?</p> <p>_____</p>	<p>0 <input type="checkbox"/></p> <p>1 <input type="checkbox"/></p> <p>punto</p>
<p>46. In quale città della costa occidentale degli Stati Uniti durante la seconda metà del XIX secolo comincia ad essere pubblicato il primo giornale croato, <i>Slavska sloga</i>?</p> <p>_____</p>	<p>0 <input type="checkbox"/></p> <p>1 <input type="checkbox"/></p> <p>punto</p>
<p>47. L'imperialismo di quale stato nel passaggio dal XIX al XX secolo viene chiamato "l'imperialismo dei poveri"?</p> <p>_____</p>	<p>0 <input type="checkbox"/></p> <p>1 <input type="checkbox"/></p> <p>punto</p>
<p>48. Come si chiamavano le unità territoriali che componevano, secondo la Costituzione di San Vito, il Regno dei Serbi, Croati e Sloveni?</p> <p>_____</p>	<p>0 <input type="checkbox"/></p> <p>1 <input type="checkbox"/></p> <p>punto</p>
<p>49. Come si chiama la politica economica che dal 1933 al 1938 viene promossa dal presidente statunitense Franklin D. Roosevelt per sormontare le conseguenze della grande crisi finanziaria?</p> <p>_____</p>	<p>0 <input type="checkbox"/></p> <p>1 <input type="checkbox"/></p> <p>punto</p>
<div data-bbox="180 2013 367 2051" data-label="Text">POV D-S048</div> <div data-bbox="1292 1973 1449 2076" data-label="Image"> </div> <div data-bbox="1404 2074 1457 2110" data-label="Text">02</div>	

Storia

50. Osserva attentamente la rappresentazione visuale.



La storia di quale stato è legata alla rappresentazione visuale?

0

☐

1

☐

punto

51. Come si chiama il vicepresidente della Repubblica Socialista Federale di Jugoslavia che viene espulso nel 1966?

0

☐

1

☐

punto

POV D-S048



02

Storia

52. Osserva attentamente la rappresentazione visuale.



Cinque mila kune / Banca di stato croata / Zagabria, 15 luglio 1942

Come si chiama lo stato nel quale si usava la banconota raffigurata?

0

☐

1

☐

punto

POV D-S048



02

Storia

III Quesiti a scelta multipla (cronologie)

Nei seguenti quesiti, fra le opzioni proposte, solo **una** è esatta.

Indica la risposta esatta con una X sul foglio delle risposte.

<p>53. In quale sequenza sono ordinati in modo cronologicamente corretto i periodi della storia dell'antica Grecia?</p> <p>A. età arcaica → età omerica → età classica → età ellenistica B. età omerica → età ellenistica → età classica → età arcaica C. età classica → età ellenistica → età omerica → età arcaica D. età omerica → età arcaica → età classica → età ellenistica</p>	<p>A. <input type="checkbox"/> B. <input type="checkbox"/> C. <input type="checkbox"/> D. <input type="checkbox"/></p>
<p>54. In quale sequenza sono ordinate in modo cronologicamente corretto le comparse degli stati medievali?</p> <p>A. Stato arabo → Stato della Chiesa → Stato ungherese → Stato franco B. Stato franco → Stato arabo → Stato della Chiesa → Stato ungherese C. Stato della Chiesa → Stato franco → Stato arabo → Stato ungherese D. Stato franco → Stato arabo → Stato ungherese → Stato della Chiesa</p>	<p>A. <input type="checkbox"/> B. <input type="checkbox"/> C. <input type="checkbox"/> D. <input type="checkbox"/></p>
<p>55. In quale sequenza sono ordinati in modo cronologicamente corretto gli inizi dell'attività degli ordini religiosi nelle terre croate?</p> <p>A. cistercensi → benedettini → paolini → gesuiti B. paolini → benedettini → cistercensi → gesuiti C. benedettini → cistercensi → paolini → gesuiti D. gesuiti → benedettini → cistercensi → paolini</p>	<p>A. <input type="checkbox"/> B. <input type="checkbox"/> C. <input type="checkbox"/> D. <input type="checkbox"/></p>
<p>56. In quale sequenza sono ordinate in modo cronologicamente corretto le invenzioni della seconda rivoluzione industriale?</p> <p>A. automobile → raggi-x → aeroplano → telefono B. telefono → automobile → raggi-x → aeroplano C. raggi-x → telefono → automobile → aeroplano D. telefono → raggi-x → automobile → aeroplano</p>	<p>A. <input type="checkbox"/> B. <input type="checkbox"/> C. <input type="checkbox"/> D. <input type="checkbox"/></p>



Storia

57. In quale sequenza sono ordinati in modo cronologicamente corretto gli avvenimenti del periodo del risveglio nazionale croato della seconda metà del XIX secolo?

- A.** *Naša sloga* inizia ad essere pubblicata → fondata la Matica dalmatinska
→ pubblicate le *Jačke* di Frane Kurelac → fondato il partito dei Bunjevci
- B.** pubblicate le *Jačke* di Frane Kurelac → fondata la Matica dalmatinska
→ *Naša sloga* inizia ad essere pubblicata → fondato il partito dei Bunjevci
- C.** fondato il partito dei Bunjevci → fondata la Matica dalmatinska
→ *Naša sloga* inizia ad essere pubblicata
→ pubblicate le *Jačke* di Frane Kurelac
- D.** fondata la Matica dalmatinska → *Naša sloga* inizia ad essere pubblicata
→ pubblicate le *Jačke* di Frane Kurelac → fondato il partito dei Bunjevci

- A.** ☐
- B.** ☐
- C.** ☐
- D.** ☐

58. In quale sequenza sono ordinati in modo cronologicamente corretto i bani croati?

- A.** Dragutin Khuen-Héderváry → Pavao Rauch → Slavko Cuvaj → Antun Mihalović
- B.** Pavao Rauch → Dragutin Khuen-Héderváry → Slavko Cuvaj → Antun Mihalović
- C.** Slavko Cuvaj → Antun Mihalović → Pavao Rauch → Dragutin Khuen-Héderváry
- D.** Antun Mihalović → Pavao Rauch → Dragutin Khuen-Héderváry → Slavko Cuvaj

- A.** ☐
- B.** ☐
- C.** ☐
- D.** ☐

59. In quale sequenza sono ordinati in modo cronologicamente corretto gli avvenimenti della Seconda guerra mondiale?

- A.** lo sbarco in Normandia → distruzione alleata di Dresda
→ sganciata la bomba atomica su Hiroshima
→ sganciata la bomba atomica su Nagasaki
- B.** distruzione alleata di Dresda → sganciata la bomba atomica su Hiroshima
→ sganciata la bomba atomica su Nagasaki → lo sbarco in Normandia
- C.** sganciata la bomba atomica su Hiroshima
→ sganciata la bomba atomica su Nagasaki
→ lo sbarco in Normandia → distruzione alleata di Dresda
- D.** lo sbarco in Normandia → sganciata la bomba atomica su Hiroshima
→ distruzione alleata di Dresda → sganciata la bomba atomica su Nagasaki

- A.** ☐
- B.** ☐
- C.** ☐
- D.** ☐



Storia

60. In quale sequenza sono ordinati in modo cronologicamente corretto gli avvenimenti del processo dell'adesione della Croazia nelle integrazioni euro-atlantiche?

- A.** membro dell'ONU → membro del Partnership per la pace
→ membro della NATO → membro dell'Unione europea
- B.** membro del Partnership per la pace → membro dell'ONU
→ membro della NATO → membro dell'Unione europea
- C.** membro della NATO → membro dell'Unione europea
→ membro del Partnership per la pace → membro dell'ONU
- D.** membro dell'Unione europea → membro del Partnership per la pace
→ membro dell'ONU → membro della NATO

A.

☐

B.

☐

C.

☐

D.

☐

Storia

IV Quesiti a scelta multipla (a partire da un contenuto)

Nei seguenti quesiti, analizza le fonti storiche, le mappe storiche e le immagini allegate e rispondi alle domande.
Fra le opzioni proposte, solo **una** è esatta.
Indica la risposta esatta con una X sul foglio delle risposte.

61. Leggi attentamente la fonte storica e rispondi alle domande poste.

(...) Compaiono sul suolo europeo 250.000 anni fa (...). Con il loro comportamento e anatomia sono molto vicini all'uomo moderno, per tale motivo certi scienziati li collocano nel gruppo (...). La loro costituzione era ben adattata alle condizioni climatiche fredde. La loro altezza media era di 167 cm, e il peso di 80 kg. Vivevano come cacciatori e raccoglitori in condizioni simili a quelle polari. Fabbriavano utensili di qualità e specializzati. Sono conosciuti per il fatto che cominciarono per primi a seppellire i loro morti, e perciò li viene attribuita la pratica di un culto. Altrettanto viene attribuita l'abilità di parlare. (...) Si perde ogni loro traccia trenta mila anni fa, (...).

61.1. La comparsa di quale antenato umano viene narrata nella fonte storica?

- A. *Australopithecus africanus*
- B. *Homo habilis*
- C. *Homo sapiens*
- D. *Homo neanderthalensis*

- A. ☐
- B. ☐
- C. ☐
- D. ☐

61.2. Quale specie di antenato dell'uomo ha ereditato la specie descritta nella fonte storica?

- A. *Australopithecus afarensis*
- B. *Cro-Magnon*
- C. *Homo habilis*
- D. *Homo erectus*

- A. ☐
- B. ☐
- C. ☐
- D. ☐

POV D-S048



01

Storia

62. Leggi attentamente la fonte storica e rispondi alle domande poste.

(...) Per un tempo erano i croati in Dalmazia subordinati ai franchi; i franchi erano così crudeli nei loro confronti che uccidevano i neonati croati (...). Siccome i croati non potevano sopportare tale trattamento dai franchi, si sono ribellati contro di loro e hanno ucciso gli arconti che erano posti da parte loro. Per questo si innalzò un grande esercito su di loro dalla Francia, e dopo aver trascorso sette anni in guerra, tardi e con grande sforzo vinsero i croati e uccisero tutti i franchi e il loro arconte, chiamato Kotzilis. Da allora rimasero liberi e autonomi e chiesero da Roma il santo battesimo, che mandò a loro i vescovi, e vennero battezzati durante il governo di Porin, il loro arconte.

62.1. Chi è l'autore della fonte storica raffigurata?

- A. Ivan Lucić
- B. Costantino VII Porfirogeneto
- C. Paolo Diacono
- D. Tommaso Arcidiacono

- A. ☐
- B. ☐
- C. ☐
- D. ☐

62.2. Quale processo è descritto nella fonte storica?

- A. resistenza contro i franchi e la cristianizzazione
- B. l'arrivo dei croati nel territorio della Dalmazia
- C. la diffusione dei rapporti feudali con le conquiste franche
- D. la creazione del regno croato dell'Alto medioevo

- A. ☐
- B. ☐
- C. ☐
- D. ☐

POV D-S048



01

Storia

63. Leggi attentamente la fonte storica e rispondi alle domande poste.

(...) Se qualche vescovo, sacerdote o diacono prende una moglie o quella già presa la tiene, che perda il suo grado ecclesiastico, finché si pente, che venga mandato via dal coro di coloro che cantano in chiesa, e che non riceva nessun reddito che la Chiesa riceve (...) Se da ora qualsiasi membro del clero fa crescere la barba o i capelli lunghi, che gli venga proibito l'accesso in chiesa, e che ogni tale venga sottoposto alla punizione canonica in base al suo grado. (...) In ogni modo vietiamo, sotto la minaccia della scomunica, che gli slavi siano promossi negli ordini santi, se non hanno imparato il latino (...). Sentendo nel proprio cuore la tristezza per via del pericolo per le vostre anime causato dal cattivo costume di entrare in matrimonio tra parenti, che esiste tra di voi (...) rimanete sposati voi che siete in parentela sino al quarto grado, e se non possono o non vogliono vivere puri, che stipulano un matrimonio legale. Coloro che sono in parentela di quinto grado, se vogliono e possono vivere puri, che restino sposati, ma in lacerazione. (...)

63.1. Quale avvenimento ha causato l'emanazione delle decisioni descritte nella fonte storica?

- A. il conflitto del papato con gli imperatori tedeschi riguardo le investiture
- B. l'introduzione dell'inquisizione papale e romana
- C. il Grande scisma d'oriente
- D. la pace religiosa di Augsburg

- A. ☐
- B. ☐
- C. ☐
- D. ☐

63.2. Come si chiama il dovere caratteristico per il cristianesimo occidentale descritto nella fonte storica?

- A. la simonia
- B. l'indulgenza
- C. l'inquisizione
- D. il celibato

- A. ☐
- B. ☐
- C. ☐
- D. ☐



Storia

64. Leggi attentamente la fonte storica e rispondi alle domande poste.

Amore mio caro, non rattristirti per la causa di questa mia lettera, non turbarti (rattristirti). (...) domani per l'ora decima la mia testa verrà tagliata e mi spegnerò assieme a tuo fratello. Oggi ci siamo ringraziati cordialmente uno all'altro. Per questo scrivo pure a te in questa lettera un eterno saluto, pregandoti, se ti turbavo mai, e se in qualche modo sono caduto in disgrazia tua – che io so bene – perdonami. Sia il Signore lodato, io sono ben pronto alla morte, e non ho paura neanche. Io spero in Dio onnipotente, che mi ha umiliato in questo mondo, che abbi pietà di me. E io lo pregherò e ringrazierò – che ci ritroviamo insieme di fronte al suo trono santo nella gloria eterna. (...)

A Wiener Neustadt, il 29 aprile 1671

64.1. Chi si rivolge a chi nella fonte storica?

- A. Nikola Zrinski al fratello Petar
- B. Petar Zrinski alla moglie Katarina
- C. Katarina Zrinski al marito Petar
- D. Fran Krsto Frankopan alla fidanzata Julija

- A. ☐
- B. ☐
- C. ☐
- D. ☐

64.2. Qual è il motivo della stesura di questa fonte storica?

- A. resistenze alla politica fiscale di Mattia Corvino
- B. opposizione alla creazione del confine militare croato-slavone
- C. resistenze all'assolutismo e al centralismo viennese
- D. disaccordi riguardo le tattiche nella Battaglia di Siget

- A. ☐
- B. ☐
- C. ☐
- D. ☐

POV D-S048



01

Storia

65. Osserva attentamente la rappresentazione visuale e rispondi alle domande poste.



65.1. A quale popolo dell'America precolombiana viene attribuito il sistema agricolo raffigurato nella rappresentazione visuale?

- A. agli Aztechi
- B. agli Inca
- C. agli Maya
- D. agli Olmechi

- A. ☐
- B. ☐
- C. ☐
- D. ☐

65.2. Quale coltura agricola era piantata in prevalenza nelle aree raffigurate?

- A. riso
- B. lino
- C. mais
- D. vite

- A. ☐
- B. ☐
- C. ☐
- D. ☐

POV D-S048



01

Storia

66. Leggi attentamente la fonte storica e rispondi alle domande poste.

Signore! Per avere il sostegno del consiglio buono e saggio dei bravi uomini dal popolo nel dirigere la nostra patria, stabilire la pace e l'ordine e il trattamento delle questioni di vita, che sono legati ai regni della Dalmazia, Croazia e Slavonia e per i loro bisogni, di questo ho convocato il nostro parlamento in nascita – ho inteso radunare attorno a se uomini capaci, esperti e saggi del nostro regno trino. Siccome Lei è conosciuto nella nostra patria come un uomo eccellente, capace e saggio, che assieme ai suoi fratelli (...) si adorna di popolarità e fiducia, scelgo Lei per questo e pure richiedo da Lei, che al più presto, e al più tardi fino al 8 maggio dell'a.c., di venire a Zagabria e di annunciarsi al mio cospetto. I più distinti saluti!

A Zagabria, il 27 aprile

Bano Jelačić.

66.1. Come si chiama l'organo statale che verrà formato con la realizzazione del contenuto dalla fonte storica?

- A. la Cattedra del bano
- B. il Consiglio del bano
- C. la Cancelleria del bano
- D. la Conferenza del bano

- A. ☐
- B. ☐
- C. ☐
- D. ☐

66.2. In quale anno nasce la fonte storica?

- A. nel 1847
- B. nel 1848
- C. nel 1849
- D. nel 1851

- A. ☐
- B. ☐
- C. ☐
- D. ☐

POV D-S048



01

Storia

67. Osserva attentamente la cartina storica e rispondi alle domande poste.



Oceano
Atlantico

Mare del Nord

Mar Mediterraneo

Gran
Bretagna

Irlanda

Portogallo

Spagna

Impero francese

Italia

Stato della Chiesa

Provincie
illiriche

Impero austriaco

Prussia

Russia

Lispia 1813

- 67.1.** Con quale numero sulla cartina storica è segnata la battaglia dopo la quale è stato formato il blocco continentale?

- A.** con il numero 1
B. con il numero 2
C. con il numero 3
D. con il numero 4

A.
B.
C.
D.

- 67.2.** Con quale battaglia sulla cartina storica è stata segnata la *battaglia delle nazioni*?

- A.** con il numero 1
B. con il numero 2
C. con il numero 3
D. con il numero 4

A.
B.
C.
D.

POV D-S048



01

68. Osserva attentamente la rappresentazione visuale e rispondi alle domande poste.

Numero dei combattenti del LLP (NOB) in Croazia 1941-1944

Anno	Numero di combattenti
Fine del 1941	circa 7000
Metà del 1942	circa 12 500
Fine del 1942	circa 25 000
Fine del 1943	100 000
Metà del 1944	circa 110 000
Fine del 1944	circa 150 000

68.1. In quale periodo, a seconda della rappresentazione visuale raffigurata, si nota l'aumento maggiore dei combattenti della LLP (NOB) in Croazia?

- A. dalla fine del 1941 alla metà del 1942
- B. dalla metà del 1942 alla fine del 1942
- C. dalla fine del 1942 alla fine del 1943
- D. dalla metà del 1944 alla fine del 1944

- A. ☐
- B. ☐
- C. ☐
- D. ☐

68.2. Quale tra le seguenti cose influì più di tutto sull'aumento del numero di combattenti della LLP (NOB) raffigurato nella rappresentazione visuale?

- A. l'insuccesso dell'operazione *Barbarossa*
- B. l'entrata degli Stati Uniti in guerra
- C. la capitolazione della Francia
- D. la capitolazione dell'Italia

- A. ☐
- B. ☐
- C. ☐
- D. ☐



Storia

69. Osserva attentamente l'illustrazione e rispondi alle domande poste.



Traduzione: *Sfortuna / La miseria non viene mai da sola. / Mai fine alle sventure.*

69.1. Chi si difende con l'ombrello grande da nemici sempre più numerosi?

- A. l'imperatore Napoleone III
- B. il re Vittorio Emanuele I
- C. l'imperatore Francesco Giuseppe I
- D. l'imperatore Guglielmo II

- A. ☐
- B. ☐
- C. ☐
- D. ☐

69.2. Chi è rappresentato con la *pioggia di nemici* nella fonte storica?

- A. i paesi della Società delle Nazioni
- B. i paesi membri dell'Intesa con i loro alleati
- C. i membri della Piccola Antanta
- D. le Potenze centrali

- A. ☐
- B. ☐
- C. ☐
- D. ☐

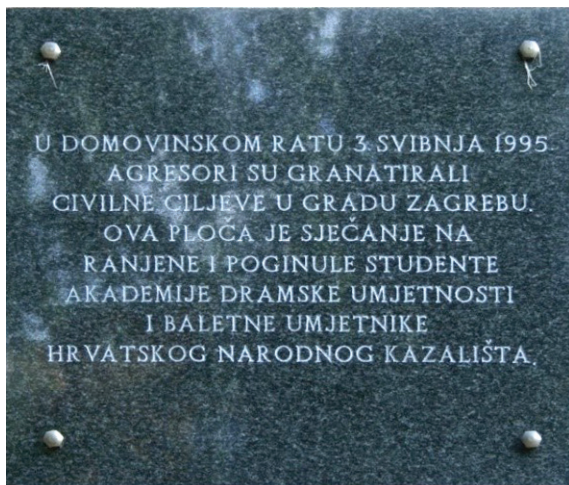
POV D-S048



01

Storia

70. Osserva attentamente la rappresentazione visuale e rispondi alle domande poste.



Traduzione: Nella Guerra patriottica, il giorno 3 maggio 1995, gli aggressori hanno bombardato gli obiettivi civili nella città di Zagabria. Questa lapide ricorda gli studenti feriti e mancati dell'Accademia delle arti teatrali e gli artisti di ballo del Teatro popolare croato.

70.1. In seguito a quale operazione militare accade il bombardamento di Zagabria?

- A. *Bljesak* (Lampo)
- B. *Maslenica*
- C. *Medački džep* (Sacca di Medak)
- D. *Oluja* (Tempesta)

- A. ☐
- B. ☐
- C. ☐
- D. ☐

70.2. Chi ha dato gli ordini di bombardare Zagabria?

- A. Milan Martić
- B. Vojislav Šešelj
- C. Veljko Kadijević
- D. Radovan Karadžić

- A. ☐
- B. ☐
- C. ☐
- D. ☐

POV D-S048



01

Pagina vuota



Pagina vuota

