



Nacionalni centar
za vanjsko vrednovanje
obrazovanja

Adesivo per l'identificazione

INCOLLARE ATTENTAMENTE

SOC

SOCIOLOGIA

SOC D-S040

SOC.40.IT.R.K1.28



48669



12

Sociologia

Pagina vuota



INDICAZIONI GENERALI

Leggi attentamente tutte le indicazioni e seguile.

Non voltare pagina e non iniziare a risolvere i quesiti senza il permesso dell'insegnante di servizio.

Incolla gli adesivi di identificazione su tutti i materiali d'esame che hai ricevuto nella busta sigillata.

L'esame dura **90** minuti.

Davanti a ciascun gruppo di quesiti trovi le indicazioni per la loro soluzione.

Leggile attentamente.

Usa esclusivamente una penna a sfera di colore blu o nero.

Scrivi in modo leggibile. Le risposte non leggibili verranno valutate con zero (0) punti.

In caso di errore, correggi mettendo l'errore tra parentesi e barrandolo, poi apponi una breve firma. **È proibito firmarsi per intero con nome e cognome.**

Una volta risolti i quesiti, controlla le risposte.

Buona fortuna!

Questo fascicolo d'esame ha 28 pagine di cui 4 vuote.

Se hai sbagliato a scrivere la risposta correggi in questo modo:

a) quesito di tipo chiuso

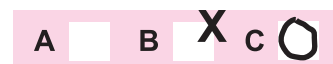
Giusto




Correzione dell'errore



Sbagliato



b) quesito di tipo aperto



SOC D-S040



99

Sociologia

I. Quesiti a scelta multipla

Nei seguenti quesiti, fra le opzioni proposte, solo **una** è esatta.
Indica la risposta esatta con una X sul foglio delle risposte.


<p>1. Quale delle seguenti rivoluzioni ha direttamente contribuito alla nascita della sociologia?</p> <p>A. La Rivoluzione di velluto B. La Rivoluzione di febbraio C. La Rivoluzione francese D. La Rivoluzione d'ottobre</p>	<p>A. <input type="checkbox"/> B. <input type="checkbox"/> C. <input type="checkbox"/> D. <input type="checkbox"/></p>
<p>2. Quale dei seguenti esempi di ricerca fa riferimento all'analisi microsociologica dell'economia?</p> <p>A. lo studio delle fabbriche di automobili in quanto organizzazioni sociali B. l'osservazione delle attività giornaliere degli impiegati nel settore dei servizi C. l'analisi della struttura dell'età degli economisti nelle società differenti D. la ricerca sullo sviluppo storico dell'economia</p>	<p>A. <input type="checkbox"/> B. <input type="checkbox"/> C. <input type="checkbox"/> D. <input type="checkbox"/></p>
<p>3. Quale delle teorie indicate utilizza l'esperimento per la ricerca dei modi e dei procedimenti utilizzati dalle persone nelle situazioni di ogni giorno e nelle interazioni?</p> <p>A. la teoria della posizione B. la teoria della pressione strutturale C. l'etnometodologia D. la teoria delle élite</p>	<p>A. <input type="checkbox"/> B. <input type="checkbox"/> C. <input type="checkbox"/> D. <input type="checkbox"/></p>
<p>4. Quale dei seguenti gruppi sociali è necessariamente organizzato in modo burocratico?</p> <p>A. la comune B. il movimento sociale C. il gruppo sociale primario D. la fabbrica</p>	<p>A. <input type="checkbox"/> B. <input type="checkbox"/> C. <input type="checkbox"/> D. <input type="checkbox"/></p>

SOC D-S040




01

Sociologia

<p>5. Quale degli elementi indicati della struttura sociale rappresenta le credenze istituzionalizzate, il cui ruolo è il mantenimento di questa struttura?</p> <p>A. i gruppi B. gli status C. i ruoli D. i valori</p>	<p>A. <input type="checkbox"/></p> <p>B. <input type="checkbox"/></p> <p>C. <input type="checkbox"/></p> <p>D. <input type="checkbox"/></p>
<p>6. Quale delle organizzazioni sociali indicate si annovera nelle organizzazioni normative secondo A. Etzioni?</p> <p>A. la banca B. il partito politico C. la fabbrica D. l'ospedale psichiatrico</p>	<p>A. <input type="checkbox"/></p> <p>B. <input type="checkbox"/></p> <p>C. <input type="checkbox"/></p> <p>D. <input type="checkbox"/></p>
<p>7. In quale tipo di sistema di stratificazione è permessa la mobilità verticale delle donne?</p> <p>A. nel sistema schiavista B. nel sistema di casta C. nel sistema di ceto D. nel sistema di classe</p>	<p>A. <input type="checkbox"/></p> <p>B. <input type="checkbox"/></p> <p>C. <input type="checkbox"/></p> <p>D. <input type="checkbox"/></p>
<p>8. A quale dei processi di cambiamento culturale indicati fa riferimento l'esempio dell'accettazione dell'uso di bere il caffè e il tè dai turchi e da altri popoli?</p> <p>A. all'innovazione B. alla diffusione C. all'acculturazione D. all'ibridazione</p>	<p>A. <input type="checkbox"/></p> <p>B. <input type="checkbox"/></p> <p>C. <input type="checkbox"/></p> <p>D. <input type="checkbox"/></p>
<p>9. Quale componente della cultura regola gli impulsi e i desideri degli individui nella società, secondo E. Durkheim?</p> <p>A. la lingua B. le norme C. i simboli D. i rituali</p>	<p>A. <input type="checkbox"/></p> <p>B. <input type="checkbox"/></p> <p>C. <input type="checkbox"/></p> <p>D. <input type="checkbox"/></p>
<div style="display: flex; justify-content: space-between; align-items: center;"> SOC D-S040 <div style="text-align: right;">  01 </div> </div>	

Sociologia

<p>10. Quale dei seguenti esempi d'identità secondaria, nella società contemporanea, può essere allo stesso tempo anche un'identità primaria dell'individuo?</p> <p>A. un attore B. un atleta di triathlon C. un informatico D. un catalano</p>	<p>A. <input type="checkbox"/></p> <p>B. <input type="checkbox"/></p> <p>C. <input type="checkbox"/></p> <p>D. <input type="checkbox"/></p>
<p>11. Come si chiama il tipo di famiglia in cui la coppia appena sposata vive all'interno della famiglia della sposa?</p> <p>A. matrifocale B. matrilineare C. matrilocale D. matriarcale</p>	<p>A. <input type="checkbox"/></p> <p>B. <input type="checkbox"/></p> <p>C. <input type="checkbox"/></p> <p>D. <input type="checkbox"/></p>
<p>12. Quale delle seguenti caratteristiche dell'organizzazione del potere è indispensabile per un ordinamento politico democratico?</p> <p>A. la presenza della censura e dell'autocensura B. il portare tutte le decisioni da parte di tutti i cittadini C. l'inesistenza del principio della divisione del potere D. il riconoscimento e il rispetto dei diritti delle minoranze</p>	<p>A. <input type="checkbox"/></p> <p>B. <input type="checkbox"/></p> <p>C. <input type="checkbox"/></p> <p>D. <input type="checkbox"/></p>
<p>13. Come M. Castells chiama la forma dominante di sviluppo della società contemporanea collegata in rete?</p> <p>A. capitalismo B. statalismo C. informazionalismo D. postfordismo</p>	<p>A. <input type="checkbox"/></p> <p>B. <input type="checkbox"/></p> <p>C. <input type="checkbox"/></p> <p>D. <input type="checkbox"/></p>
<p>14. Quale ideologia si sviluppa in quanto critica del sistema capitalistico di produzione?</p> <p>A. il socialismo B. il conservativismo C. il nazionalismo D. il liberalismo</p>	<p>A. <input type="checkbox"/></p> <p>B. <input type="checkbox"/></p> <p>C. <input type="checkbox"/></p> <p>D. <input type="checkbox"/></p>
<div style="display: flex; justify-content: space-between; align-items: center;"> SOC D-S040 <div style="text-align: right;">  01 </div> </div>	

Sociologia

15. Quale delle seguenti conseguenze, nell'ambito del lavoro, nasce sotto l'influenza delle tecnologie informatiche nella società contemporanea?

- A.** Aumenta il lavoro da casa, "in remoto".
- B.** Diminuisce la flessibilità del mercato del lavoro.
- C.** Aumenta il numero degli assunti a tempo indeterminato.
- D.** Diminuisce il "lavoro autoprogrammato".

- A.** ☐
- B.** ☐
- C.** ☐
- D.** ☐

SOC D-S040



01

Sociologia

II. Quesiti a risposta breve

Nei seguenti quesiti rispondi con una risposta breve (con alcune parole o con una frase semplice).
Scrivi le risposte **solo** sull'apposito spazio in questo fascicolo d'esame.
Non riempire lo spazio per il punteggio.

- 16.** A quale tipo di posizione appartiene, ad esempio, la posizione sociale di un bambino in età prescolare?

0 ☐
1 ☐
punto

- 17.** Come si chiamano i movimenti sociali che auspicano cambiamenti limitati in tutta la società, come ad esempio i movimenti per i diritti umani?

0 ☐
1 ☐
punto

- 18.** Indica l'unico tipo possibile di mobilità sociale nel sistema di casta.

0 ☐
1 ☐
punto

- 19.** Quale tipo di socializzazione si attua nelle istituzioni totali secondo E. Goffman?

0 ☐
1 ☐
punto

SOC D-S040



02

Sociologia

20. Quale forma di organizzazione della produzione nella società contemporanea è rivolta all'innovazione, alla varietà e alla qualità del prodotto?

0 ☐
1 ☐
punto

21. Indica due concetti che Durkheim utilizza per definire la religione.

0 ☐
1 ☐
punto

SOC D-S040



02

Sociologia

III. Quesiti a risposta lunga

Nei seguenti quesiti rispondi con alcune frasi, in modo chiaro e conciso, concentrando l'attenzione su quello che è importante per il quesito. Scrivi le risposte **solo** sull'apposito spazio in questo fascicolo d'esame. Non riempire lo spazio per il punteggio.

- 22.** Spiega l'interpretazione della società secondo la prospettiva interazionista e secondo la prospettiva del conflitto.

0 ☐
1 ☐
2 ☐
punto

- 23.** Spiega la teoria della chiusura sociale secondo F. Parkin e indica il classico della sociologia sulla cui teoria si basa la teoria di F. Parkin.

0 ☐
1 ☐
2 ☐
punto

SOC D-S040



02

Sociologia

- 24.** Spiega il concetto di Marx di feticismo delle merci. A quale tipo di cultura vengono collegati, dai teorici della scuola di Francoforte, il feticismo delle merci e l'industria culturale?

0 ☐
1 ☐
2 ☐

punto

- 25.** Indica un'ideologia che è a favore del cambiamento dei ruoli sociali degli individui nelle famiglie moderne e spiega il rapporto di potere tra i partner che è incoraggiato da questa ideologia.

0 ☐
1 ☐
2 ☐

punto

SOC D-S040



02

Sociologia

26. Spiega in quale modo le idee religiose e i valori influiscono sui cambiamenti sociali secondo K. Marx e in quale modo secondo M. Weber.

0 ☐
1 ☐
2 ☐
punto

SOC D-S040



02

Sociologia

27. Indica e descrivi il tipo di città nato in seguito della nascita del capitalismo.

0	<input type="checkbox"/>
1	<input type="checkbox"/>
2	<input type="checkbox"/>
punto	

SOC D-S040



02

Sociologia

IV. Quesiti a risposta breve e a risposta lunga

Nei seguenti quesiti rispondi con una risposta breve (con una parola, con alcune parole o con una frase semplice) e con una risposta lunga (con alcune frasi, in modo chiaro e conciso, attenendoti a quello che è importante per il quesito).

Scrivi le risposte **solo** nello spazio previsto nel libretto d'esame.

Non compilare lo spazio per il punteggio.

28. Leggi attentamente il testo.

Uno scienziato, nel corso dell'ultimo anno, con l'ausilio di un dato schema analitico, ha seguito gli articoli di giornale, le trasmissioni radiofoniche e le trasmissioni televisive, per poter analizzare gli atteggiamenti patriarcali e i modi di scrittura in merito ai ruoli di genere nella società croata.

28.1. Come si chiama l'approccio della ricerca descritta nel testo?

0 ☐
1 ☐
punto

28.2. Indica e spiega il metodo usato nella ricerca descritta nel testo.

0 ☐
1 ☐
2 ☐
punto

SOC D-S040



02

Sociologia

29. Leggi attentamente il testo.

Un idraulico svolge ogni giorno il lavoro che ama e lo svolge con diligenza ed impegno, per assicurare l'esistenza a se stesso e alla famiglia. Nello stesso tempo, i suoi colleghi svolgono questo stesso lavoro senza un minimo di passione e di desiderio di successo professionale. Uno dei suoi colleghi vorrebbe avere successo da oggi al domani e perciò spaccia la droga perché ritiene che lavorando onestamente non ci sarebbe mai riuscito.

29.1. Come si chiama la teoria della devianza descritta nel testo?

29.2. Indica e spiega, secondo R. Merton, il tipo di adattamento del singolo individuo allo stato anomico a cui si riferisce l'esempio dell'idraulico che svolge il suo lavoro con diligenza ed impegno.

0 ☐
1 ☐
punto

0 ☐
1 ☐
2 ☐
punto



Sociologia

30. Leggi attentamente il testo.

Dopo essere diventata maggiorenne, Maria ha dovuto lasciare l'Istituto per l'infanzia abbandonata, nel quale aveva trascorso tutta la sua vita. Questo fatto l'ha portata a svolgere un'attività di volontariato in un'associazione, nel corso degli studi di Assistenza sociale, per far sì che dopo il diploma potesse lavorare ed aiutare gli altri ragazzi maggiorenni, che avrebbero dovuto lasciare l'Istituto per l'infanzia abbandonata.

0 ☐
1 ☐
punto

30.1. A quale tipo di socializzazione appartiene l'inserimento di Maria nel lavoro dell'associazione?

30.2. Indica e spiega il tipo d'identità che Maria si costruisce durante il suo lavoro nell'associazione nel corso degli studi.

0 ☐
1 ☐
2 ☐
punto



Sociologia

31. Leggi attentamente il testo.

Le facoltà prestigiose iscrivono gli allievi che nel corso dei loro studi precedenti avevano ottenuto il massimo dei voti e i migliori risultati alle gare del sapere. Alcune di queste facoltà concedono dei punti ad allievi provenienti da situazioni di disagio, in modo da permettere anche a loro di iscriversi alla stessa facoltà.

31.1. Come vengono chiamate, secondo i funzionalisti, le misure obiettive di valutazione delle capacità e dell'impegno degli allievi, sulla cui base le facoltà prestigiose iscrivono gli studenti?

0 ☐
1 ☐
punto

31.2. Indica e spiega la forma d'incoraggiamento all'uguaglianza nell'istruzione descritta nel testo.

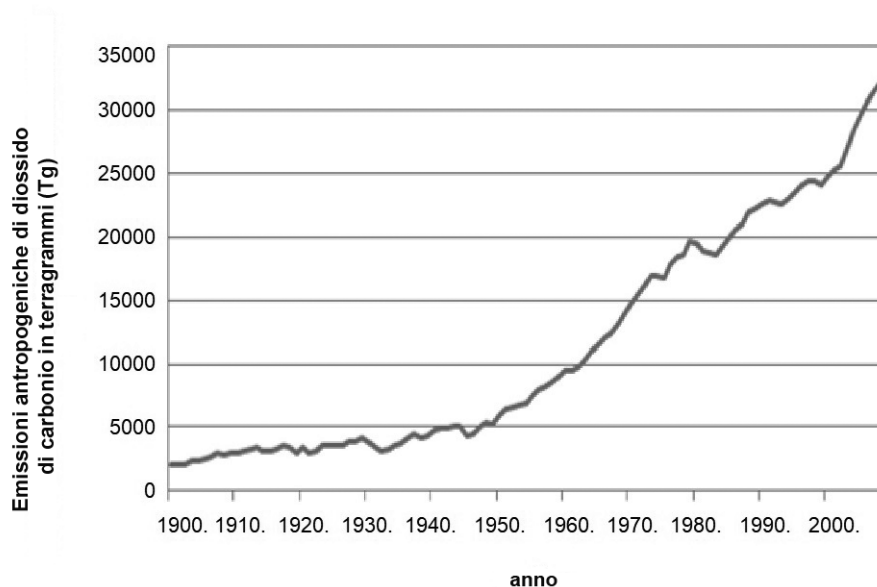
0 ☐
1 ☐
2 ☐
punto



32. Leggi attentamente il testo e osserva il grafico.

Oggi sempre di più, siamo sotto la minaccia di catastrofi ecologiche, di emissioni di gas serra, di cambiamenti economici globali o di cibo geneticamente modificato, che sono tutti prodotti dell'industria moderna. Così i risultati dell'Organizzazione mondiale della sanità dimostrano che oggi respiriamo sempre di più un'aria inquinata. La ricerca scientifica permette una migliore comprensione delle conseguenze di questo comportamento, perciò già oggi sappiamo che nel corso degli anni si svilupperanno certe malattie, come ad esempio i disturbi del tratto respiratorio e le malattie cardiache che accorceranno la vita.

Grafico 1. Emissioni antropogeniche di diossido di carbonio in terragrammi (Tg) dal 1900 al 2007



Fonte: *Le emissioni dei gas serra*, 2014

Avvertenza: I dati sulla fonte del contenuto di partenza, verranno pubblicati nelle soluzioni dell'esame.

32.1. Qual è la tendenza dell'andamento delle emissioni di diossido di carbonio, indicata dalla linea sul grafico?

0 ☐
1 ☐
punto



Sociologia

32.2. Indica e spiega la causa principale, secondo U. Beck, dei pericoli indicati, come ad esempio l'emissione dei gas serra o il cibo modificato geneticamente.

0 ☐
1 ☐
2 ☐
punto

SOC D-S040



02

V. Batteria di quesiti

La batteria di quesiti contiene tre quesiti legati al contenuto di un testo.

Il primo è un **quesito a scelta multipla** nel quale devi segnare la risposta esatta con una X sul foglio delle risposte.

Il secondo è un **quesito a risposta breve** nel quale devi rispondere con una parola, con alcune parole o con una frase semplice nello spazio previsto nel libretto d'esame.

Il terzo **quesito è a risposta lunga** nel quale devi rispondere con alcune frasi, in modo chiaro e conciso, attenendoti a quello che è importante per il quesito.

33. Leggi attentamente il testo.

Il concetto di significato è molto importante per Mead. Il comportamento è ponderato quando usiamo la nostra coscienza per metterci al posto degli altri ed essere così in grado di interpretare il loro pensiero e le loro azioni. Tuttavia, qui come pure altrove, Mead ritiene che i significati non provengano originariamente dalla coscienza, ma piuttosto dalla situazione sociale. Il significato esiste nell'atto sociale, prima dell'apparire della coscienza dello stesso. Un'azione è significativa se il movimento indica ad un attore il risultato del comportamento di un altro attore. Il significato non deve per forza essere cosciente.

(...) Da questo punto di vista, il momento critico nel processo di riflessione è la possibilità di inibizione temporanea delle azioni. Questo significa che anche con l'utilizzo di stimolanti, le persone non debbano per forza dare la risposta desiderata. Essi decidono in merito a ciò che desiderano, considerando consciamente la totalità delle alternative, prima di iniziare a reagire in una situazione concreta.

Fonte: *La teoria sociologica contemporanea*, 1997

Avvertenza: I dati sulla fonte del contenuto di partenza, verranno pubblicati nelle soluzioni dell'esame.



Sociologia

33.1. Quale componente della cultura è la base dell'interazione sociale secondo il testo?

- A. i simboli
- B. le norme
- C. i valori
- D. i rituali

- A. ☐
- B. ☐
- C. ☐
- D. ☐

33.2. Indica il concetto che riguarda le domande quotidiane che ci poniamo in merito ai nostri modi di agire, descritto nell'ultimo passo del testo.

- 0 ☐
- 1 ☐
- punto

33.3. Indica e spiega la prospettiva sociologica descritta nel testo.

- 0 ☐
- 1 ☐
- 2 ☐
- punto

SOC D-S040



02

34. Leggi attentamente il testo.

(...) Il rituale della decorazione della pelle non era riservato a tutti i giorni dell'anno. Era abitudine che il procedimento stesso di tatuaggio iniziasse nel giorno di san Giovanni (il 24 giugno, festa di san Giovanni Battista), nel giorno di san Giuseppe (nel corso della festività di san Giuseppe, il 19 marzo), nella festa dell'Annunciazione del Signore (il 25 marzo), nella Domenica delle palme (che si festeggia una settimana prima della Pasqua) o nel corso di un giorno qualsiasi della Settimana santa. È evidente che la cerimonia del tatuaggio, anche dal punto di vista del calendario, possedeva un carattere confessionale.

Il solo avvenimento della decorazione del corpo rappresentava una festa per la famiglia. Si trattava di una cerimonia di gioia di cui tutti si rallegravano. Per tale motivo, l'avvenimento in sé, veniva anche chiamato festività *dell'amore leggiadro*. In certi luoghi anche *servizio d'amore* in quanto la persona (*dal cuore tenero*) che veniva *punta* per il tatuaggio, con le sue espressioni facciali e le sue grida provocava il riso e l'irrequietezza da parte degli astanti.

Fonte: *I tatuaggi dei cattolici nella Bosnia centrale – l'ornamento simbolico dello spirito e del corpo*, 2017
Avvertenza: I dati sulla fonte del contenuto di partenza, verranno pubblicati nelle soluzioni dell'esame.



Sociologia

34.1. Quale fonte dell'identità era alla base per il rituale del tatuaggio dei cattolici nella Bosnia centrale?

- A. la classe
- B. la parentela
- C. la professione
- D. l'etnicità

A.	<input type="checkbox"/>
B.	<input type="checkbox"/>
C.	<input type="checkbox"/>
D.	<input type="checkbox"/>

34.2. Come si chiama il punto di vista dello scienziato quando interpreta, ad esempio, la tradizione del tatuaggio nella Bosnia centrale?

0	<input type="checkbox"/>
1	<input type="checkbox"/>
punto	

34.3. Indica e spiega il tipo di rituale descritto nel testo.

0	<input type="checkbox"/>
1	<input type="checkbox"/>
2	<input type="checkbox"/>
punto	

SOC D-S040



02

35. Leggi attentamente il testo.

Lei è l'icona della generazione dei giovani che insorta contro i cambiamenti climatici. Ma Greta Thunberg provoca il disprezzo e la derisione di coloro che la considerano una marionetta dell'evangelizzazione ecologica.

Questa svedese, ai suoi 16 anni, è diventata la portavoce di milioni di giovani preoccupati, che riciclano i loro rifiuti, puliscono le spiagge, rifiutano la carne e gli aerei e votano per il partito dei verdi.

(...) Il suo "sciopero scolastico", dopo alcune settimane, ha attirato l'attenzione dei social ed in seguito anche dei media mondiali, facendo così nascere il movimento "Un venerdì per il futuro". Il fenomeno è diventato virale.

(...) La sua sfacciataggine, le trecce e la faccia da bambina, ricordano irresistibilmente Pipi Calze Lunghe, l'eroina del romanzo di Astrid Lindgren, una bambina emancipata che da sola va alla scoperta del mondo attorno a sé, ovvero il modello su cui si basa l'istruzione e l'educazione svedesi dei bambini.

"Non si tratta di un caso che Greta sia svedese. Ritengo che lei non esisterebbe senza Pipi Calze Lunghe o senza Lisbeth Salander", l'haker tatuata della serie letteraria criminalistica "Millennium", afferma la scrittrice svedese Elisabeth Asbrink.

"Il curriculum scolastico svedese incoraggia il pensiero critico degli allievi, invece di un accumulo di saperi" ha accentuato.

Fonte: www.politikaplus.com

Avvertenza: I dati sulla fonte del contenuto di partenza, verranno pubblicati nelle soluzioni dell'esame.



Sociologia

35.1. Quale fattore della socializzazione ha permesso la diffusione del movimento “Un venerdì per il futuro”?

- A. i mezzi di comunicazione di massa
- B. la famiglia
- C. il gruppo dei pari
- D. la scuola

- A. ☐
- B. ☐
- C. ☐
- D. ☐

35.2. A quale tipo d'istruzione appartiene l'istruzione svedese?

- 0 ☐
- 1 ☐
- punto

35.3. Indica e spiega il tipo di movimento sociale al quale, secondo A. Touraineu, appartiene il movimento “Un venerdì per il futuro”.

- 0 ☐
- 1 ☐
- 2 ☐
- punto

SOC D-S040



02

Sociologia

Pagina vuota

SOC D-S040



99

Sociologia

Pagina vuota

SOC D-S040



99

Sociologia

Pagina vuota

SOC D-S040



99