



Nacionalni centar  
za vanjsko vrednovanje  
obrazovanja

Identifikacijska  
naljepnica

PAŽLJIVO NALIJEPI

# LIU

## LIKOVNA UMJETNOST

Ispitna knjižica 2

ANALIZA LIKOVNOGA PRIMJERA

---

**DRŽAVNA MATURA ŠK. GOD. 2021./2022.**

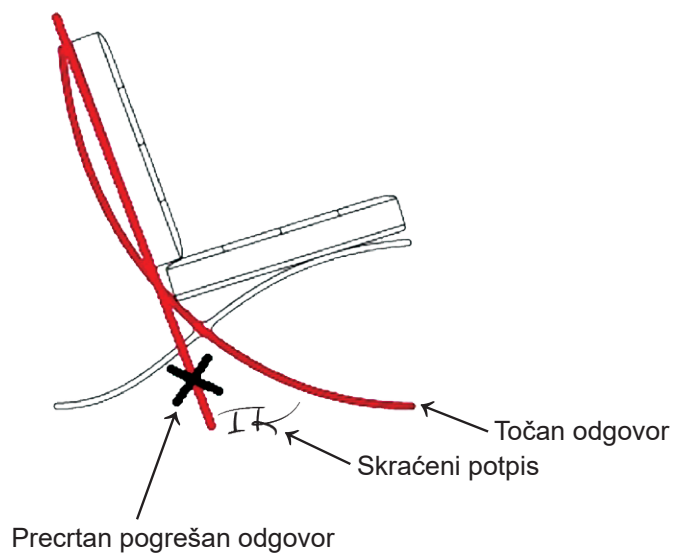
LIU.50.HR.R.K2.20



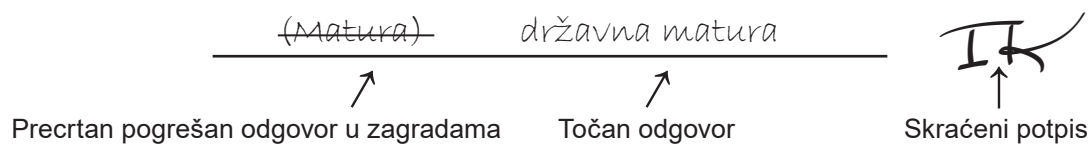
49475

## Načini ispravljanja pogrešaka u ispitnoj knjižici:

Primjer 1.



Primjer 2.



---

## OPĆE UPUTE

Pozorno pročitajte sve upute i slijedite ih.

Ne okrećite stranicu i ne rješavajte zadatke dok to ne odobri voditelj ispitne prostorije.

Nalijepite identifikacijske naljepnice na sve ispitne materijale koje ste dobili u sigurnosnoj vrećici.

Ispit traje **120** minuta bez stanke.

Zadatci se nalaze u dvjema ispitnim knjižicama. Ovaj dio ispita traje **60** minuta.

Dobro rasporedite vrijeme kako biste mogli riješiti sve zadatke.

Ispred svake skupine zadataka uputa je za rješavanje. Pozorno je pročitajte.

Za rješavanje zadataka upotrebljavajte kemijsku olovku kojom se piše plavom ili crnom bojom, flomastere i ravnalo.

Možete pisati po listu za koncept, ali se njegov sadržaj neće bodovati.

Pišite čitko. Nečitki odgovori bodovat će se s nula (0) bodova.

Na 2. stranici ove ispitne knjižice prikazani su načini ispravljanja pogrešaka. Pri ispravljanju pogrešaka potrebno je staviti skraćeni potpis. **Zabranjeno je potpisati se punim imenom i prezimenom.**

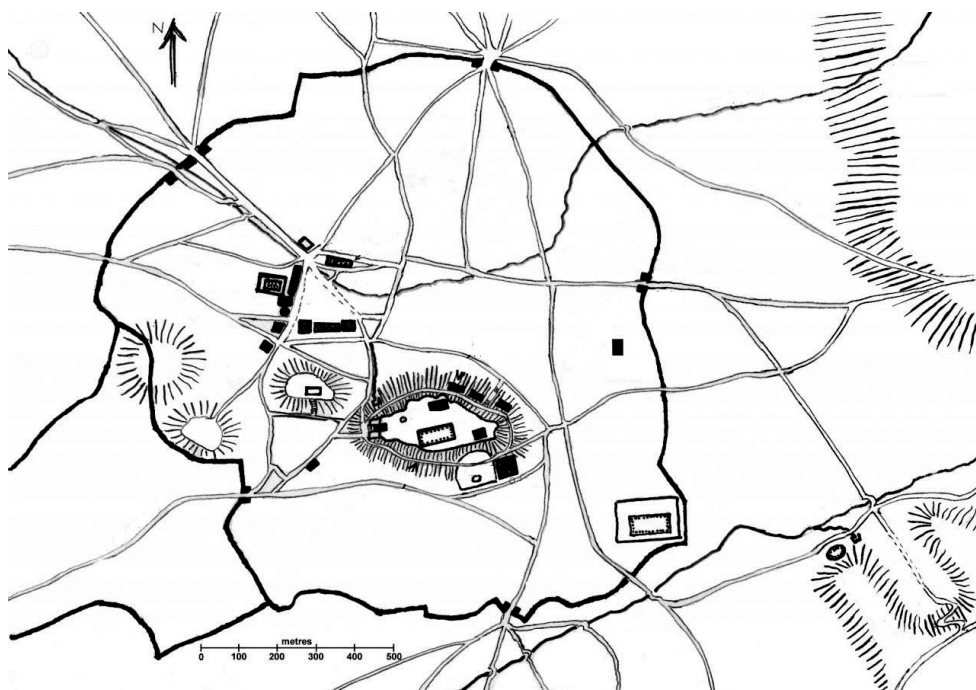
Kada riješite zadatke, provjerite odgovore.

Želimo Vam mnogo uspjeha!

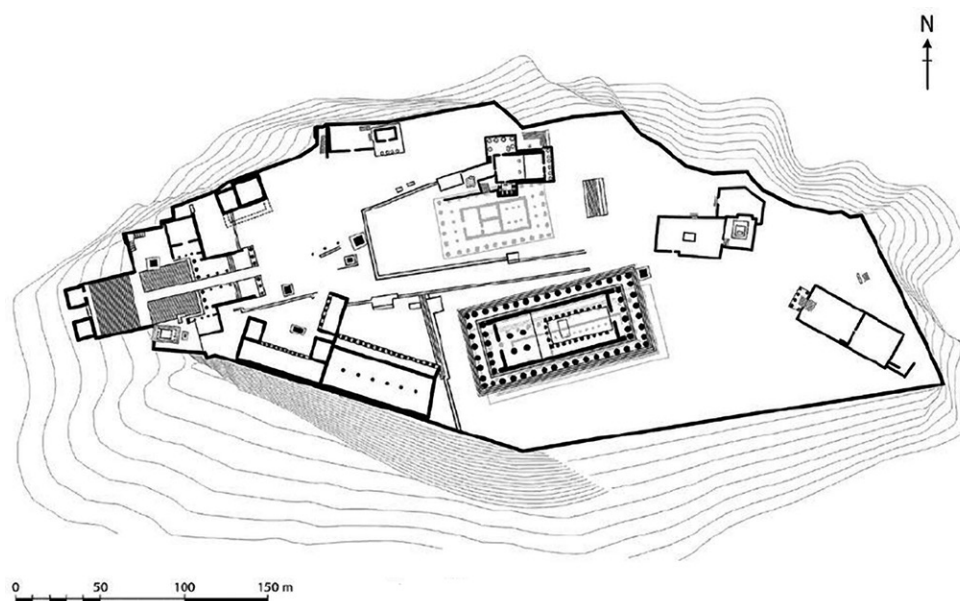
Ova ispitna knjižica ima 20 stranica, od toga 4 prazne.

# Likovna umjetnost

Pozorno promotrite likovni primjer. Nakon likovnoga primjera prikazanoga s nekoliko reprodukcija slijedi 15 zadataka vezanih za taj likovni primjer. Slijedite upute ispred svake vrste zadataka.

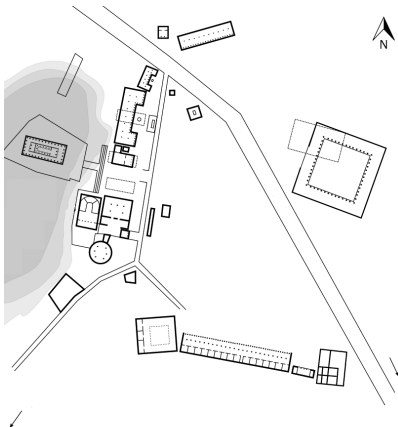


Slika 1.




Slika 2.





**Slika 3.**



**Slika 4.**



**Slika 5.**



**Slika 6.**



**Slika 7.**



**Slika 8.**



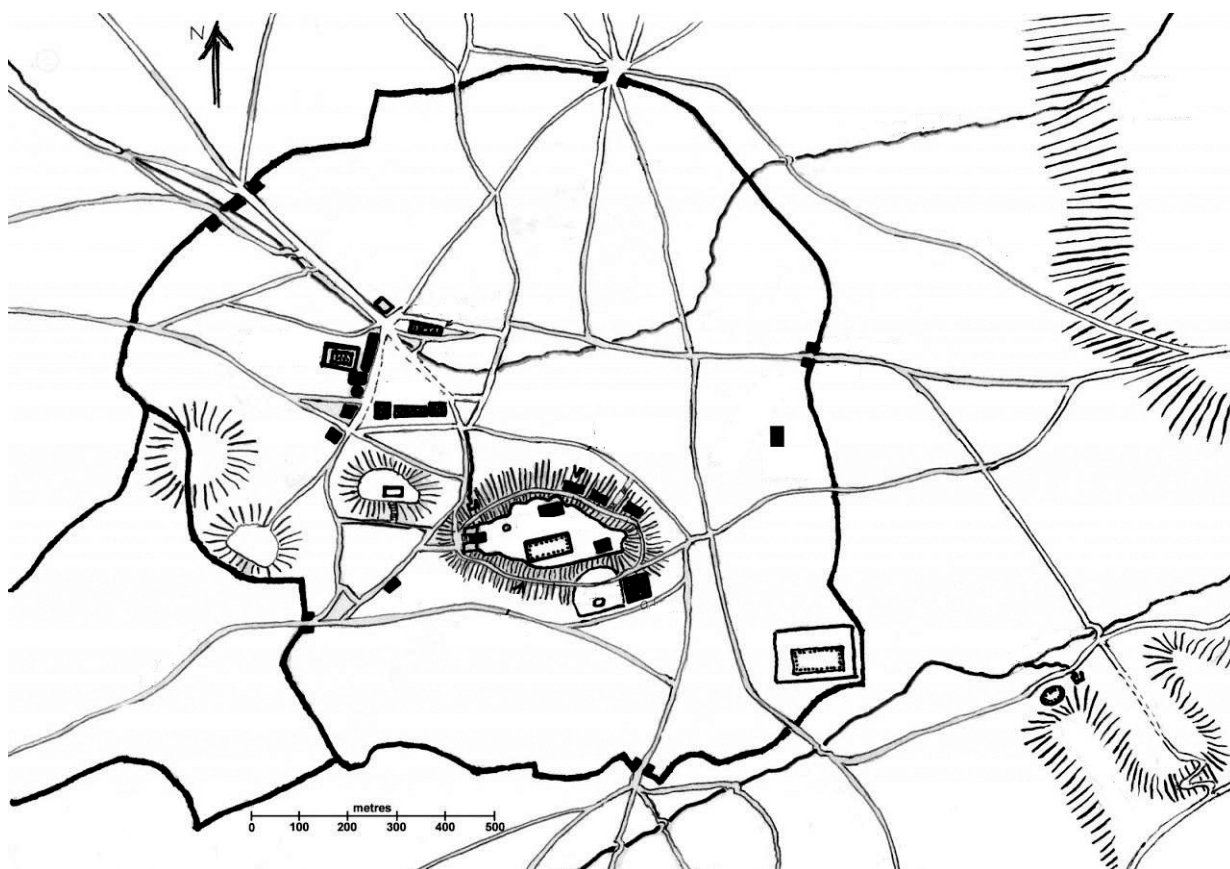
**Slika 9.**

# Likovna umjetnost

## I. Zadatci dopunjavanja

U sljedećim zadacima flomasterom označite traženi sadržaj na likovnome primjeru ili ucrtajte traženi sadržaj na likovni primjer.  
Točan odgovor donosi jedan bod.

1. Na prikazanome tlocrtu zaokružite dva gradska središta.



(1 bod)

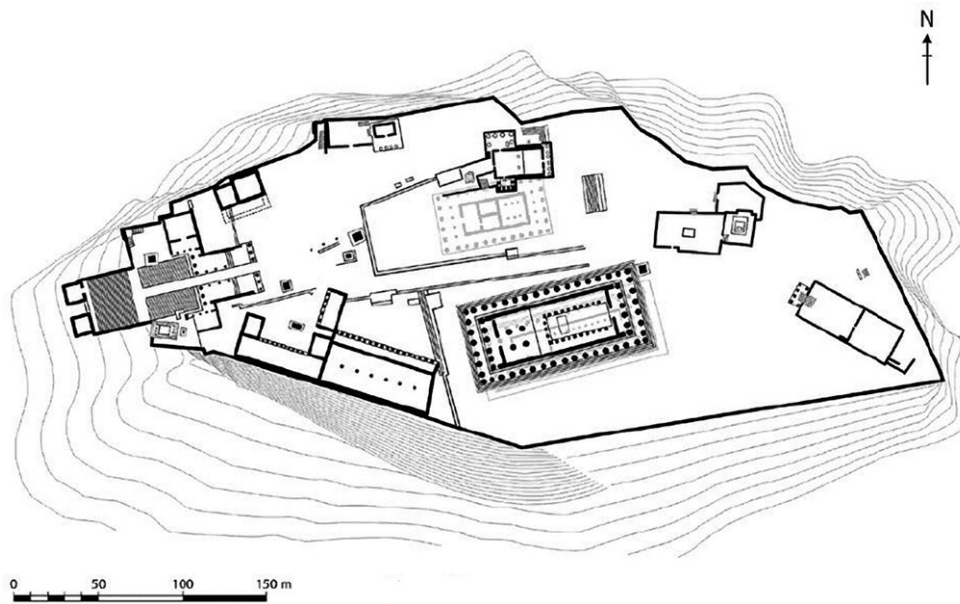
Prostor za ocjenjivača – NE POPUNJAVATI!

0

1

NO

2. Na prikazanome tlocrtu strelicom označite smjer kretanja kroz ulaz u prikazanu urbanu cjelinu.



(1 bod)

0

1

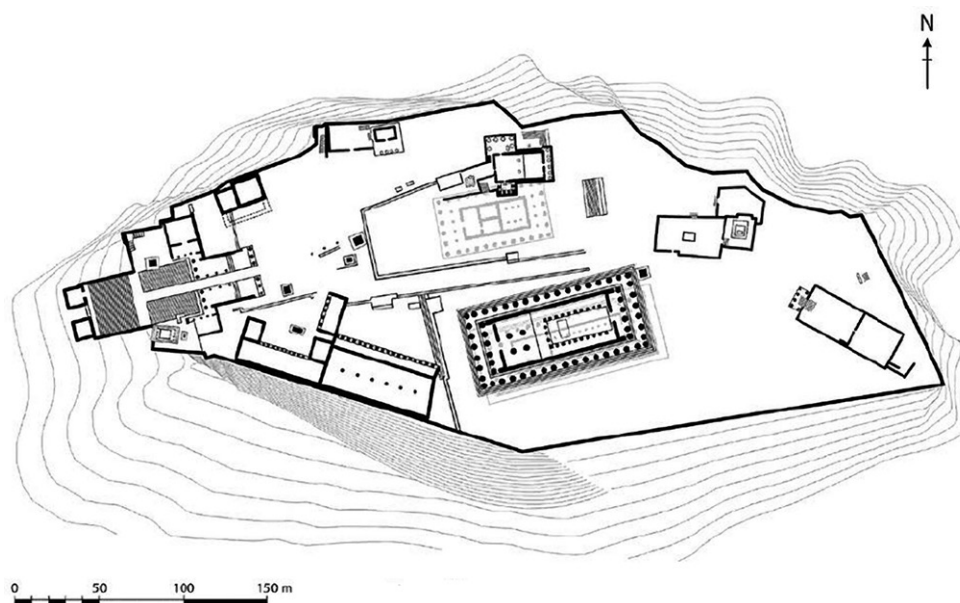
NO

Prostor za ocjenjivača – NE POPUNJAVATI!



# Likovna umjetnost

3. Na prikazanome tlocrtu zaokružite građevinu prikazanu fotografijom.



(1 bod)

Prostor za ocjenjivača – NE POPUNJAVATI!

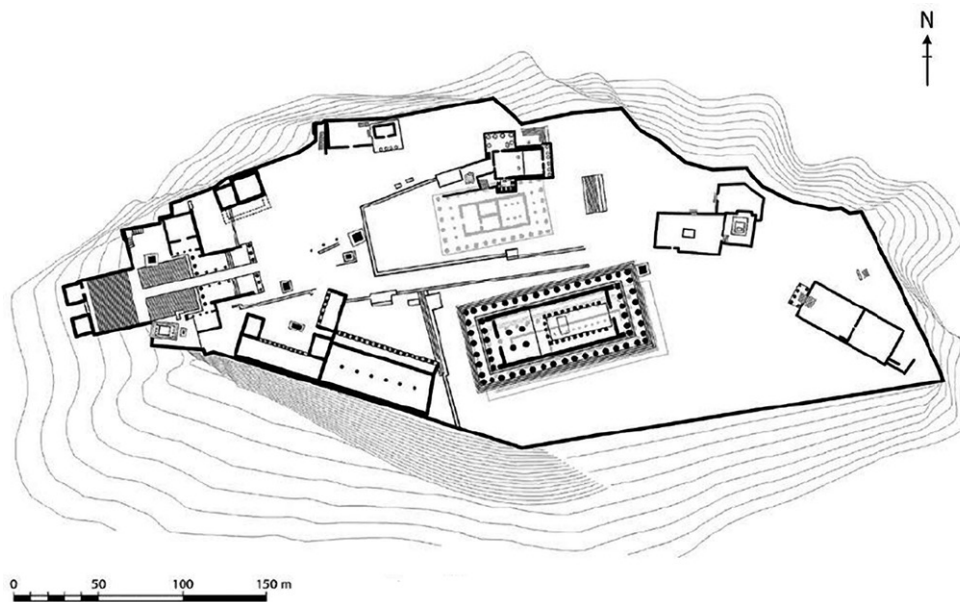
0

1

NO



4. Na prikazanome tlocrtu zaokružite građevinu prikazanu fotografijom.



(1 bod)

Prostor za ocjenjivača – NE POPUNJAVATI!

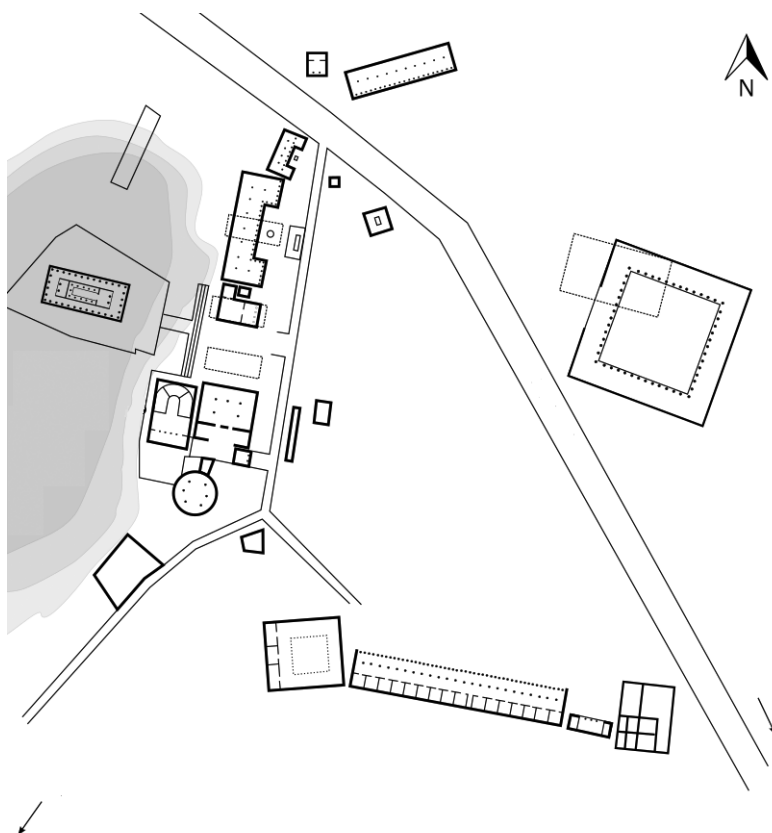
0

1

NO

# Likovna umjetnost

5. Na prikazanome tlocrtu zaokružite najveću stou.



(1 bod)

Prostor za ocjenjivača – NE POPUNJAVATI!

0

1

NO

## II. Zadatci produženoga odgovora

U sljedećim zadacima odgovorite s nekoliko rečenica, jasno i sažeto, usmjeravajući se na ono što je bitno za zadatak.

Odgovore upišite **samo** na predviđeno mjesto u ispitnoj knjižici.

Točan odgovor donosi jedan ili dva boda.

6. Opišite strukturu prikazanoga grada.

---

---

---

---

---

---

---

---

---

---

(2 boda)

# Likovna umjetnost

---

7. Opišite položaj dvaju gradskih središta unutar urbane cjeline grada.

---

---

---

---

---

---

---

---

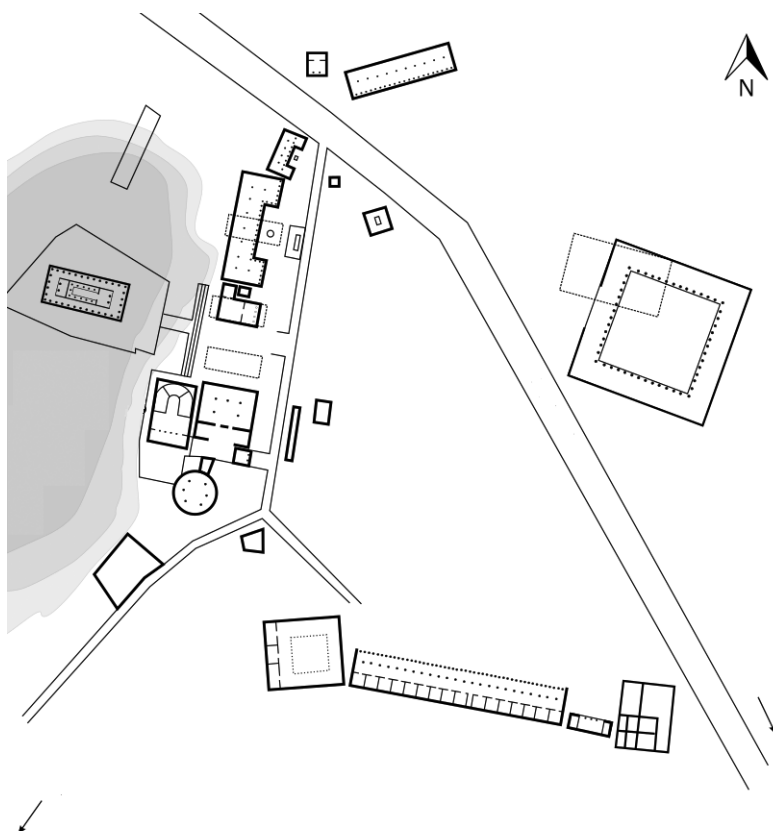
---

---

(2 boda)



8. Opišite razmještaj i funkcije građevina na prikazanome tlocrtu.



---

---

---

---

---

---

---

---

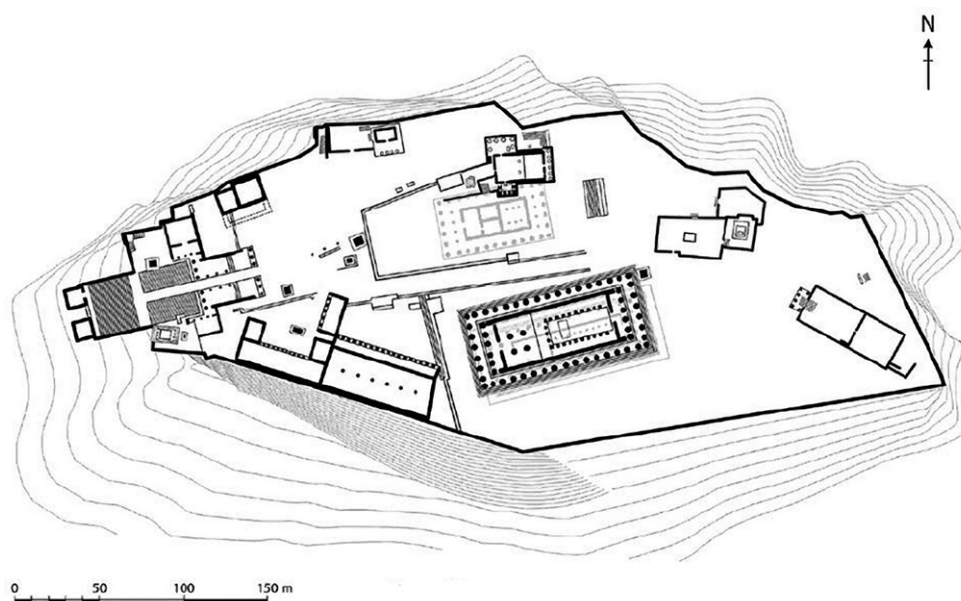
---

---

(2 boda)

# Likovna umjetnost

9. Opišite razmještaj i funkcije građevina na prikazanome tlocrtu.



---

---

---

---

---

---

---

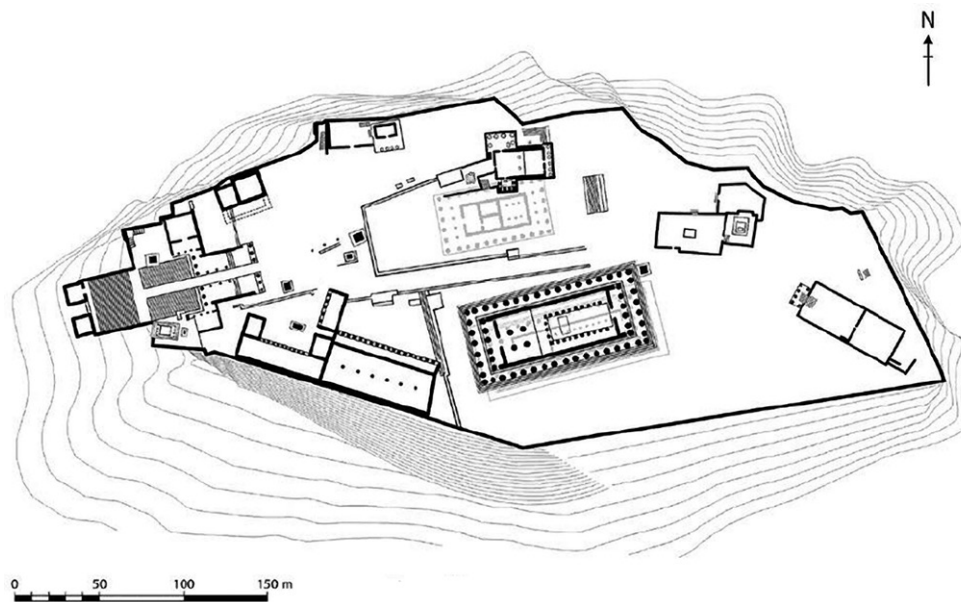
---

---

---

(2 boda)

10. Objasnite povijesni kontekst u kojemu nastaje urbana cjelina prikazana tlocrtom.



---

---

---

---

---

---

---

---

---

---

(2 boda)

# Likovna umjetnost

---

## III. Zadatci kratkoga odgovora

U sljedećim zadacima odgovorite kratkim odgovorom (s jednom ili nekoliko riječi).  
Odgovore upišite **samo** na predviđeno mjesto u ispitnoj knjižici.  
Točan odgovor donosi jedan bod.

11. Kako se naziva prikazani grad?

---

(1 bod)

12. Od kojega su materijala izgrađene građevine prikazane na slikama 7., 8. i 9.?

---

(1 bod)

13. Kako se zovu arhitekti građevine prikazane na slici 7.?

---

(1 bod)

14. Koji je državnik pokrenuo obnovu i izgradnju urbane cjeline prikazane na slici 2.?

---

(1 bod)

15. Kako se zove arhitekt građevine prikazane na slici 9.?

---

(1 bod)



Prazna stranica

Prazna stranica

Prazna stranica

Prazna stranica