



Nacionalni centar
za vanjsko vrednovanje
obrazovanja

Adesivo per l'identificazione

INCOLLARE ATTENTAMENTE

GEOGRAFIA

PROBNI ISPIT DRŽAVNE MATURE
šk. god. 2022./2023.

GEO.52.IT.R.K1.44



51671

Come contrassegnare le risposte sul foglio per le risposte:



Come correggere gli errori sul foglio per le risposte:




La risposta esatta ricopiata



Parafa (Firma breve)

Come correggere gli errori nel libretto d'esame:



La risposta sbagliata barrata e messa tra parentesi

La risposta esatta



Parafa (firma breve)

INDICAZIONI GENERALI

Leggi con attenzione tutte le indicazioni e seguile.

Non voltare la pagina e non risolvere i quesiti finché non lo permetterà il responsabile dell'aula d'esame.

Incolla gli adesivi di identificazione su tutti i materiali d'esame che hai ricevuto nella busta sigillata.

L'esame dura **90** minuti.

Davanti ad ogni gruppo di quesiti c'è l'indicazione per la loro soluzione. Leggila con attenzione.

Puoi scrivere sul foglio per la brutta copia, ma il suo contenuto non verrà valutato.

Scrivi in modo leggibile. Le risposte illeggibili verranno valutate con zero (0) punti.

Nella seconda pagina di questo libretto d'esame è indicato il modo di contrassegnare le risposte e il modo di correggere gli errori. Nel correggere gli errori è necessario apporre una paraфа (firma esclusivamente breve, non il nome e cognome completo).

Usa esclusivamente la penna a sfera di colore blu o nero.

Una volta risolti i quesiti, controlla le risposte.

Ti auguriamo tanto successo!

Questo libretto d'esame contiene 44 pagine, di cui 1 vuota.

I Quesiti a risposta multipla

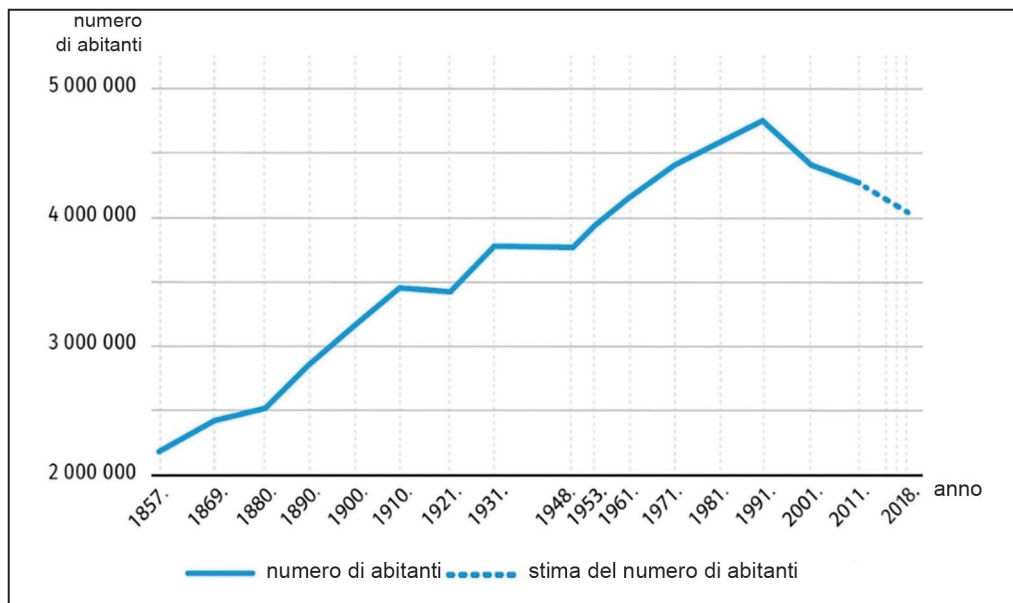
Nei quesiti che seguono **soltanto una** delle risposte a scelta è esatta.
Le risposte esatte vanno contrassegnate con il simbolo X nel foglio delle risposte.
Ogni risposta esatta porta un punto.

1. Quale delle seguenti società ha dominato il mercato globale del cibo e delle bevande dall'anno 2015 al 2019?

A. Mars
B. Nestle
C. PepsiCo
D. The Coca Cola Company

(1 punto)

2. Osserva attentamente il diagramma raffigurato.




Tra quali censimenti il cambiamento medio annuale del numero della popolazione si aggirava attorno ai 35000 abitanti?

A. tra i censimenti del 1869 e del 1880
B. tra i censimenti del 1880 e del 1890
C. tra i censimenti del 1971 e del 1981
D. tra i censimenti del 2001 e del 2011

(1 punto)

3. Osserva attentamente le fotografie raffigurate.



Stando alla genesi, a quale tipo di rocce appartiene la roccia raffigurata di sopra?

- A. alle rocce magmatiche effusive
- B. alle rocce magmatiche intrusive
- C. alle rocce clastiche sedimentarie
- D. alle rocce metamorfiche

(1 punto)

Geografia

4. Osserva attentamente la fotografia raffigurata.

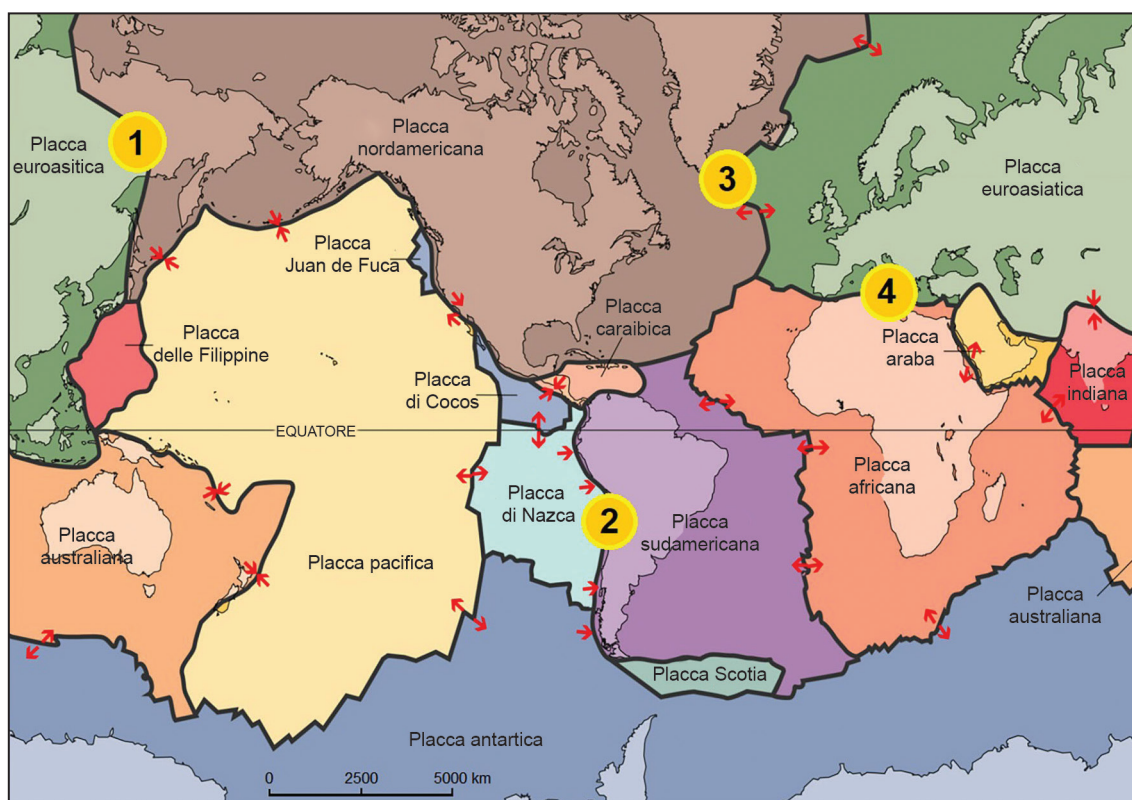


Quale dei seguenti rilievi di tipo marittimo (costiero) è visibile sulla fotografia raffigurata?

- A. piana di abrasione
- B. falesia
- C. tombolo
- D. grotta marina

(1 punto)

5. Osserva attentamente la carta geografica.



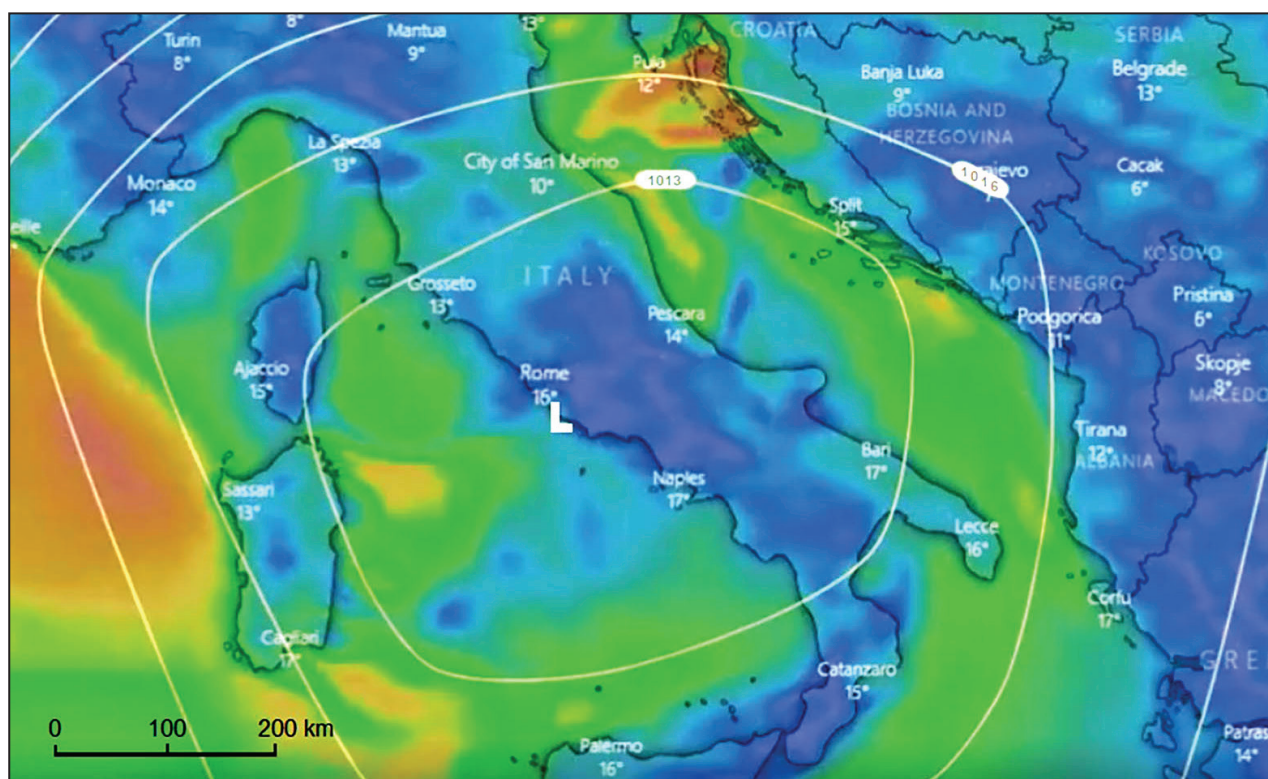
A quale numero corrisponde il margine tra le placche litosferiche lungo il quale la probabilità che si verifichino sismi ad elevatissima magnitudo è alta?

- A. al numero 1
- B. al numero 2
- C. al numero 3
- D. al numero 4

(1 punto)

Geografia

6. Osserva attentamente la carta geografica.



Quale vento soffia sull'area della Regione di Spalato e della Dalmazia nel momento registrato sulla carta sinottica?

- A. bora
- B. libeccio
- C. maestrale
- D. ponente

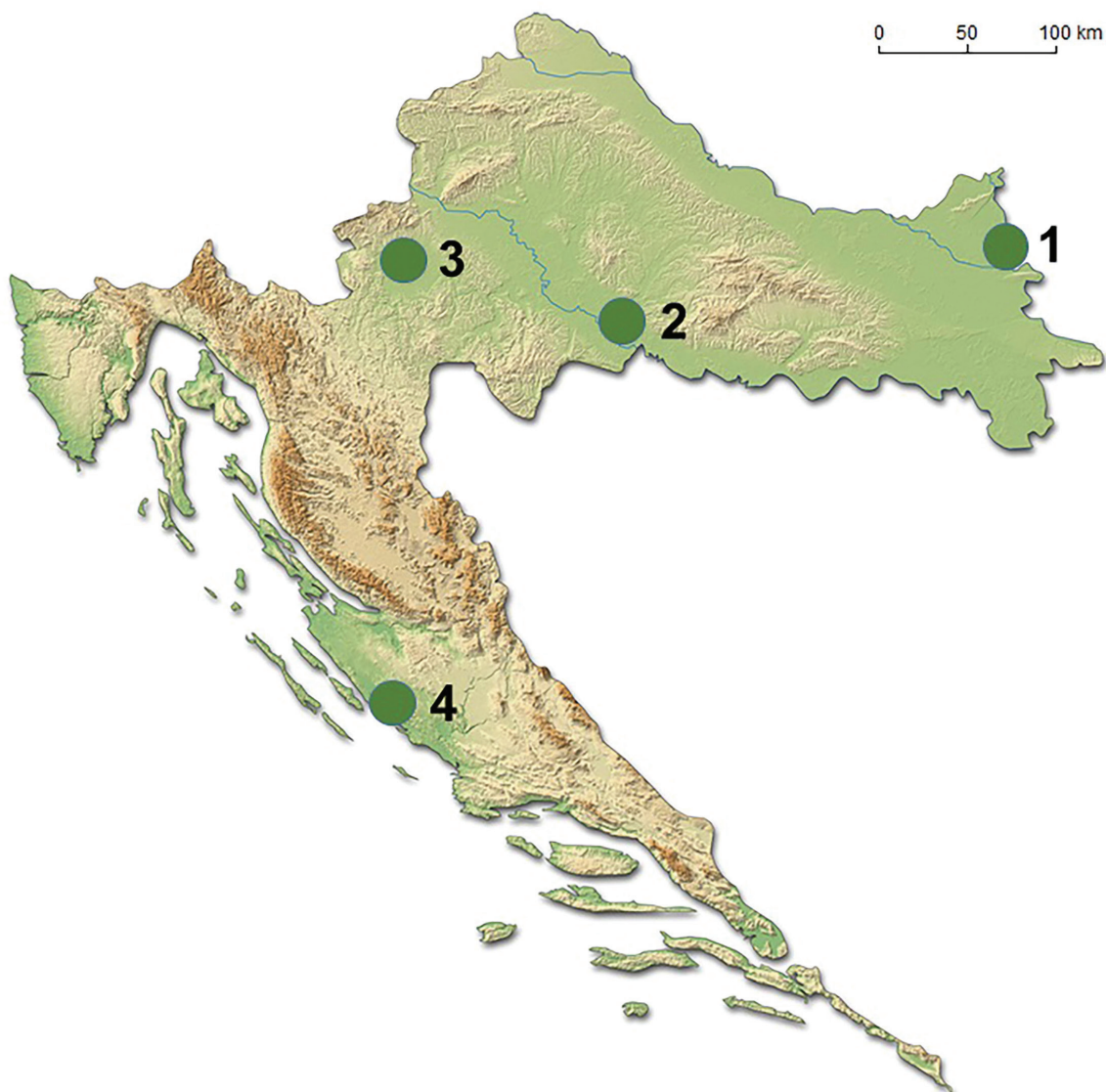
(1 punto)

7. Quale tra i seguenti stati membri dell'OPEC **non** ha ratificato l'Accordo di Parigi del 2016?

- A. Algeria
- B. Iraq
- C. EAU
- D. Venezuela

(1 punto)

8. Osserva attentamente la carta geografica raffigurata.



A quale numero corrisponde l'area palustre dove l'acqua salmastra contribuisce alla biodiversità di tale area?

- A. al numero 1
- B. al numero 2
- C. al numero 3
- D. al numero 4

(1 punto)

Geografia

9. Osserva attentamente la carta geografica raffigurata.



A quale numero corrisponde il lago che **non appartiene** al gruppo dei laghi artificiali?

- A. al numero 1
- B. al numero 2
- C. al numero 3
- D. al numero 4

(1 punto)

10. Leggi attentamente il seguente testo.

Nel corso degli ultimi 40 anni, uno dei seguenti stati si è imbatuito in problemi di natura demografica. Il numero della popolazione anziana era in continua crescita e di conseguenza aumentava l'assistenza e la cura dei concittadini anziani. Una minore quantità di mezzi finanziari è stata investita nello sviluppo dello stato ed è diminuita anche la potenza di difesa militare dello stato. Dall'anno 1987 viene introdotta la nuova politica: è desiderabile avere tre e più figli, viene incentivata la maternità, viene prolungato il congedo parentale per entrambi i genitori mentre i nonni e le nonne hanno il diritto a una parte di esonero fiscale se disponibili a prendersi cura dei loro nipoti. Il governo sponsorizza agenzie per gli incontri tra persone e apre le porte all'ingresso della forza di lavoro dall'estero.

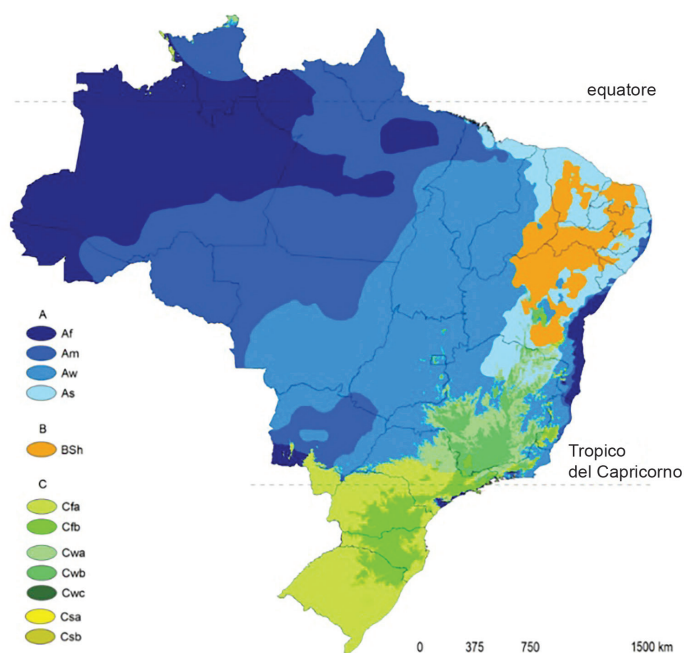
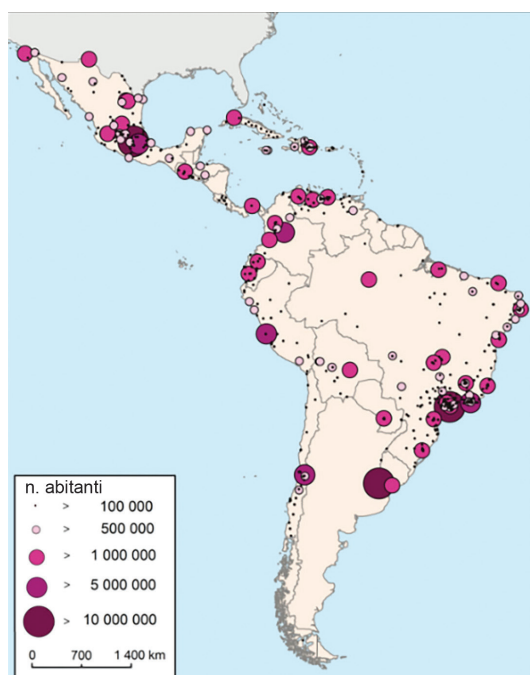
Quale dei seguenti stati conduce questo tipo di politica demografica natalista o amichevole?

- A.** India
- B.** Nigeria
- C.** Singapore
- D.** Tailandia

(1 punto)

Geografia

11. Osserva attentamente le carte geografiche raffigurate.



In Brasile, nella zona di quale tipo di clima è presente il minor numero di città milionarie stando al numero di abitanti?

- A. nella zona del clima tropicale
- B. nella zona del clima della savana
- C. nella zona dei climi temperati caldi e piovosi
- D. nella zona del clima sinico

(1 punto)

12. Osserva attentamente la fotografia raffigurata.



Qual è lo scopo fondamentale delle funivie nella città raffigurata?

- A. visita ai templi nelle zone più alte
- B. visita del centro storico della città
- C. sviluppo del turismo invernale
- D. trasporto dei lavoratori dalle baraccopoli

(1 punto)

Geografia

13. Osserva attentamente le immagini raffigurati.

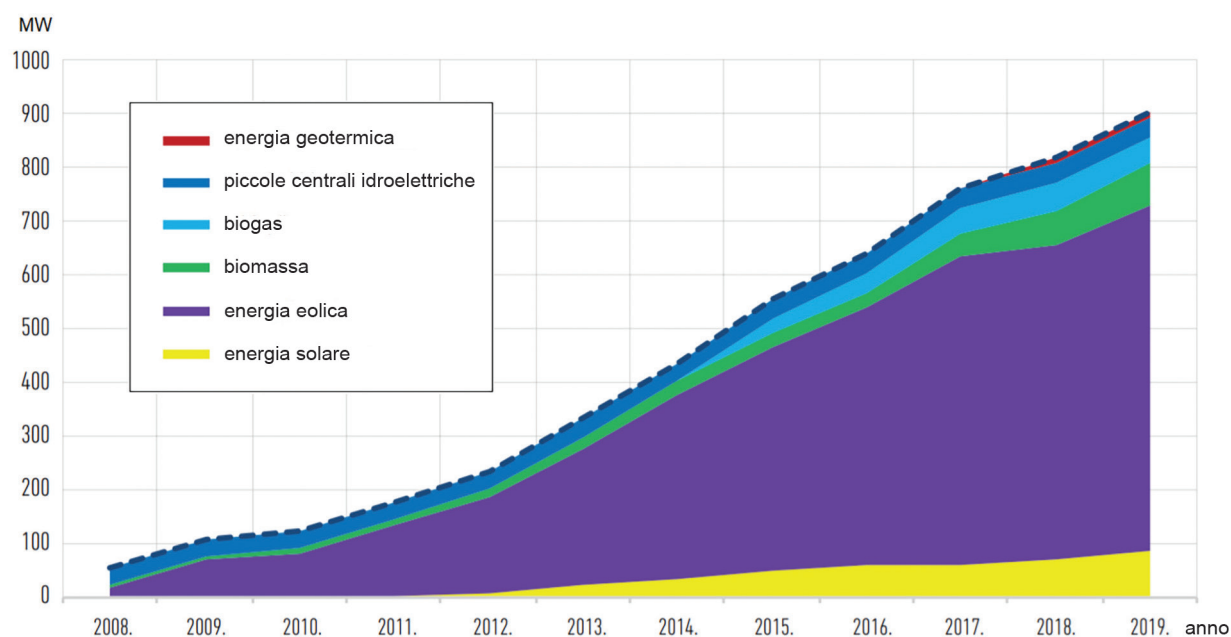


In ambedue le immagini è cerchiato l'indicatore di uno dei fattori appartenenti al raggruppamento denominato fattori di localizzazione geografico-sociale, nell'ambito delle attività economiche. In quale gruppo di fattori rientrano la tradizione e il marchio?

- A. nel gruppo dei fattori demografici
- B. nel gruppo dei fattori storici
- C. nel gruppo dei fattori tecnico-economici
- D. nel gruppo dei fattori economico-politici e sociali

(1 punto)

14. Osserva attentamente il diagramma raffigurato.



Quale delle seguenti fonti rinnovabili di energia registra il maggiore incremento relativo di capacità produttiva dal 2014 al 2019?

- A. capacità degli impianti a biomassa
- B. capacità degli impianti a biogas
- C. capacità degli impianti a energia eolica
- D. capacità degli impianti a energia solare

(1 punto)

Geografia

15. Osserva attentamente la fotografia raffigurata.



Per quale rivoluzione industriale è caratteristica la produzione raffigurata nella fotografia?

- A. per la prima rivoluzione industriale
- B. per la seconda rivoluzione industriale
- C. per la terza rivoluzione industriale
- D. per la quarta rivoluzione industriale

(1 punto)

16. Quale dei seguenti pianeti rientra nei pianeti gioviani?

- A. Mercurio
- B. Venere
- C. Marte
- D. Saturno

(1 punto)

17. Quale attività economica a livello mondiale emana la maggiore quantità di metano in atmosfera?

- A. edilizia
- B. industria
- C. agricoltura
- D. traffico

(1 punto)

18. Osserva attentamente la carta geografica raffigurata.



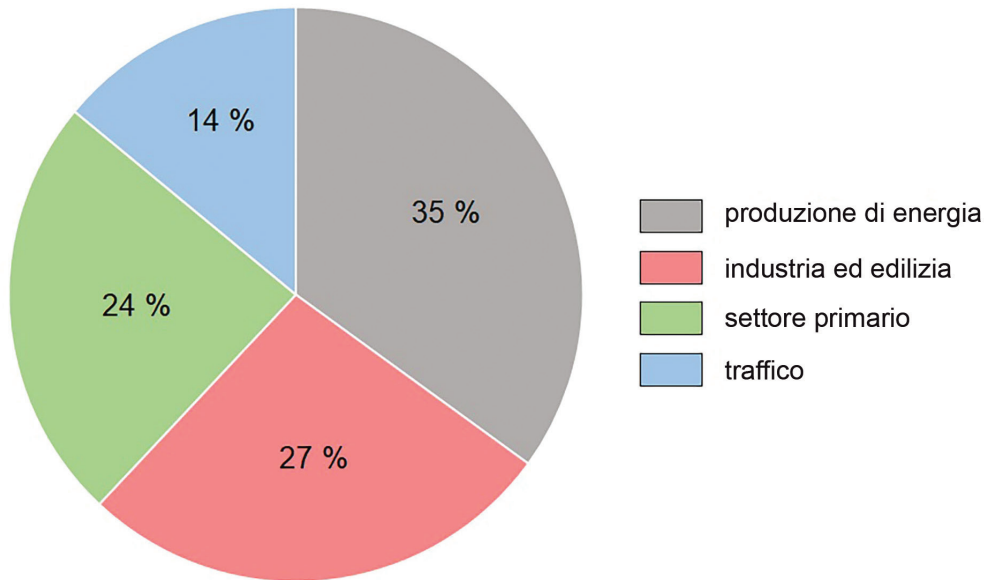
La carta rappresenta le emissioni di CO₂ per abitante espresse in tonnellate negli stati dell'America meridionale. Quale fattore ha influito in maniera dominante sulla grande emissione di CO₂ per abitante nello stato dell'America meridionale che primeggia in questo indicatore?

- A. lo sfruttamento del petrolio
- B. collaborazione industriale con gli Stati Uniti
- C. sviluppo dell'agricoltura
- D. grande concentrazione di automobili

(1 punto)

Geografia

19. Osserva attentamente il diagramma raffigurato.



Il diagramma rappresenta l'emissione globale di gas serra per attività nei settori economici. Quale gruppo di attività ha il maggiore impatto sul riscaldamento globale?

- A. le attività del settore primario
- B. l'industria e l'edilizia
- C. la produzione di energia
- D. il traffico


(1 punto)

20. Stando agli investimenti destinati ai megaprogetti, il Qatar è uno degli stati leader del mondo. Nella costruzione di quale dei seguenti oggetti d'infrastruttura il Qatar **non** ha investito negli ultimi 10 anni?

- A. nella centrale nucleare
- B. nella città sostenibile
- C. nell'infrastruttura del traffico
- D. nell'infrastruttura sportiva

(1 punto)

21. Osserva attentamente la fotografia raffigurata.



Qual è il nome del fiume presente sul territorio della Croazia il cui biorisanamento è in corso, ed è illustrato sulla fotografia?

- A. Korana
- B. Orłjava
- C. Sava
- D. Zrmanja

(1 punto)

Il Quesiti a risposta breve

Nei quesiti che seguono bisogna rispondere con una risposta breve (parola, lettera o numero) o bisogna completare una frase, carta o tabella inserendo il contenuto mancante o bisogna rispondere con almeno una frase.

Le risposte vanno iscritte **solo** nell'apposito spazio all'interno del libretto d'esame.

La risposta esatta porta un punto.

22. Osserva attentamente la fotografia raffigurata.



Qual è il nome della regione croata inclusa nella lista dell'UNESCO collegata all'esempio di patrimonio immateriale raffigurato nella fotografia di sopra?

(1 punto)

23. Come si chiama l'epoca geologica nella quale viviamo?

(1 punto)

24. Osserva attentamente la fotografia raffigurata.



Qual è il nome del tipo di rilievo illustrato sulla fotografia che ha influito sulla scarsa densità di popolazione in Mongolia?

(1 punto)

Geografia

- 25.** In condizioni atmosferiche standard, a quanto ammonta la temperatura dell'aria a 1422 m se la temperatura dell'aria a 266 m corrisponde a 23 °C? Arrotonda la risposta a una cifra decimale.

Spiega il fenomeno che osservi in una frase:

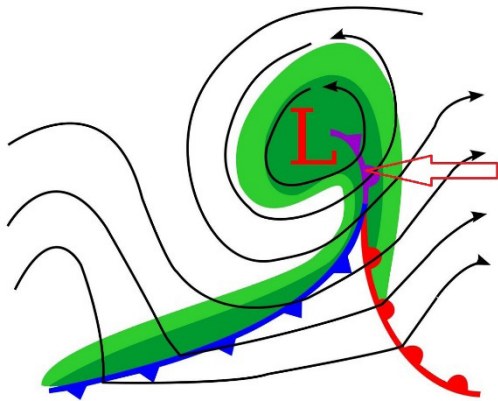
Spazio per il calcolo:

La temperatura dell'aria corrisponde a _____.

Spiegazione:

(1 punto)

26. Osserva attentamente il grafico raffigurato.



Qual è il nome del tipo di fronte d'aria contrassegnato dalla freccia?

(1 punto)

Geografia

27. Osserva attentamente le fotografie raffigurate.



Qual è il nome del fenomeno raffigurato su una delle fotografie, che è conseguenza di cambiamenti climatici contemporanei, fenomeno che è anche la causa di un grande numero di migranti climatici?

(1 punto)

28. Osserva attentamente la fotografia e la carta geografica rappresentate.



A quale numero sulla carta corrisponde il luogo raffigurato sulla fotografia? _____

Qual è il nome di tale luogo? _____

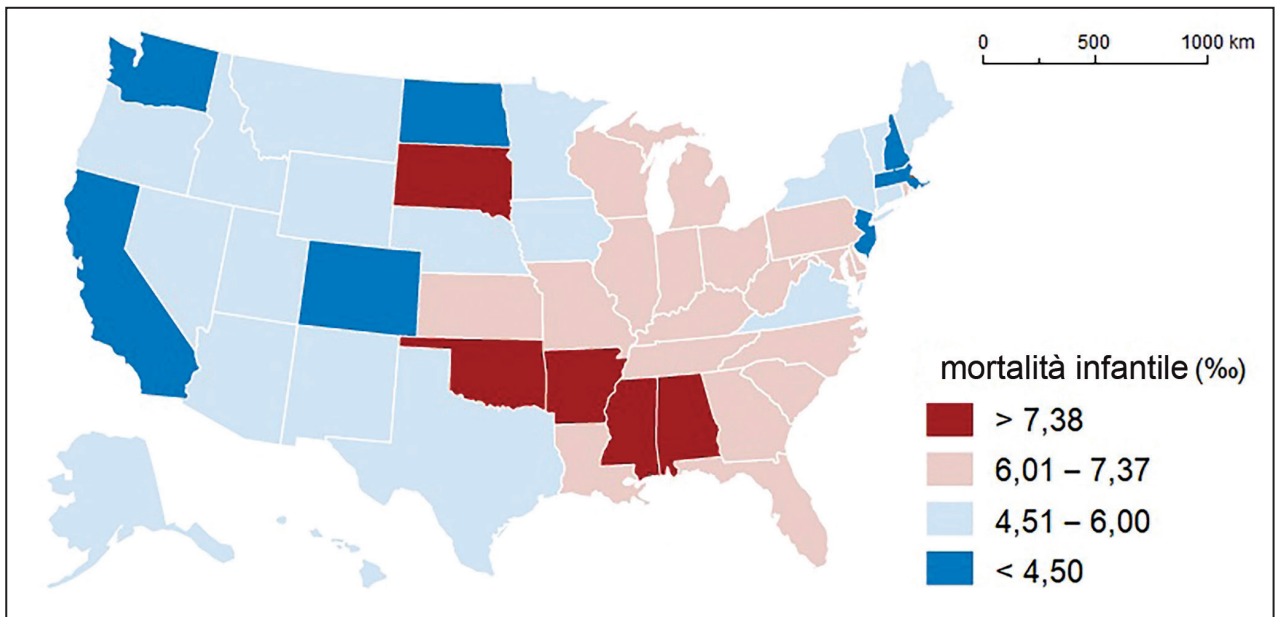
(1 punto)

Geografia

- 29.** Qual è il nome dello stato situato nella zona centrale della penisola appenninica che può venir considerato un'enclave e che risulta più vicina al mar Tirreno che al Mar Adriatico?

(1 punto)

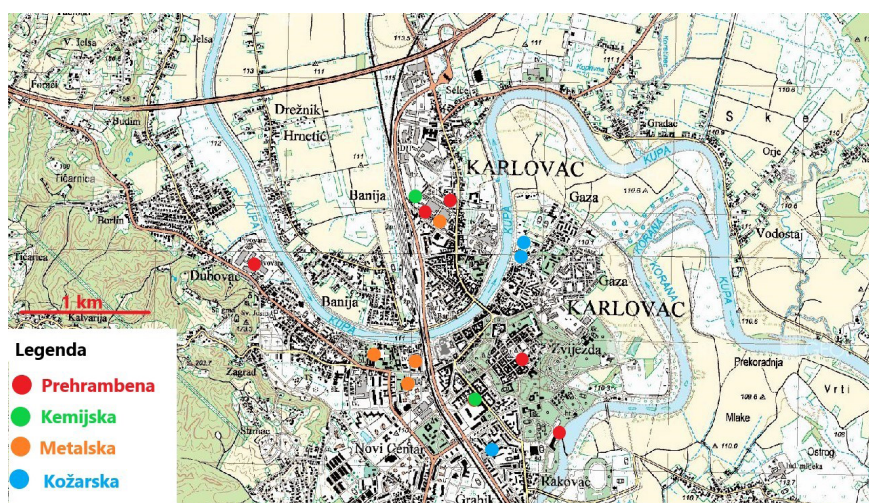
- 30.** Osserva attentamente la carta geografica raffigurata.



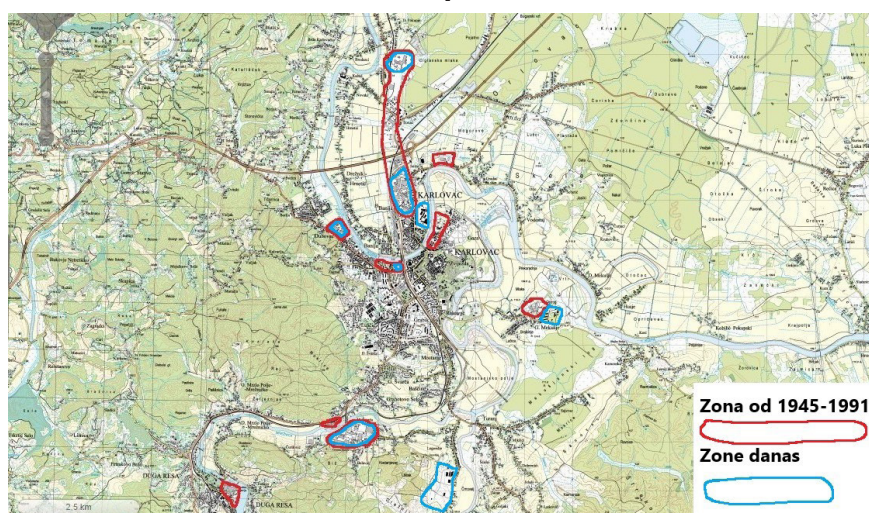
La carta illustra i tassi di mortalità infantile per stati federali degli Stati Uniti nell'anno 2017. Qual è il nome della regione con il maggior numero di stati federali nei quali i tassi di mortalità infantile sono i più alti?

(1 punto)

31. Osserva attentamente le carte geografiche raffigurate.



1



2

Sulla carta numero 1 è rappresentata la distribuzione spaziale degli impianti industriali a Karlovac prima della Seconda guerra mondiale mentre sulla carta numero 2 sono rappresentate le zone industriali nel periodo socialista nonché la distribuzione spaziale delle zone industriali al giorno d'oggi. Spiega con almeno una frase quali sono i cambiamenti che si sono verificati nell'ambito degli aspetti funzionali di Karlovac.


(1 punto)

Geografia

32. Osserva attentamente le fotografie raffigurate.



1



2

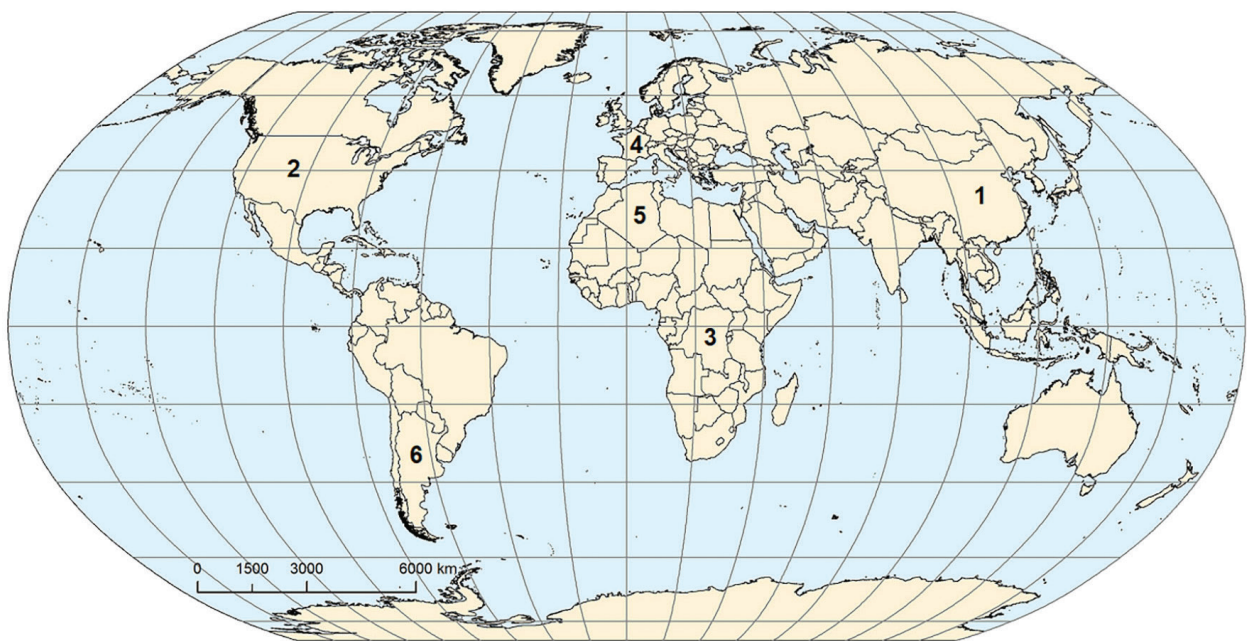


3

Arsia (Raša) (1) e *Albona* (Labin) (2) sono città istriane nate negli anni 1930 come città-progetto architettoniche. In maniera simile è stato costruito l'insediamento denominato Borovo Naselje (3), oggi parte integrante della città di Vukovar. Considerando gli elementi di scopo e finalità di una città, queste città appartengono a un determinato aspetto genetico culturale. Qual è il nome di questo tipo di città?

(1 punto)

33. Osserva attentamente la carta geografica e la tabella raffigurate.



Tab. 1. Struttura del PIL e struttura economica della popolazione nello stato selezionato nell'anno 2017.

I settori dell'attività	Percentuale del settore nel PIL (%)	Impiegati per settori di attività (%)
Settore primario	7,9	27,7
Settore secondario	40,5	28,8
Settore terziario	51,6	43,5

A quale numero sulla carta corrisponde lo stato i cui dati sono raffigurati nella tabella?

Qual è il nome di questo stato?

(1 punto)

Geografia

34. Osserva attentamente la fotografia raffigurata.



Qual è il nome del luogo turistico raffigurato nella fotografia?

(1 punto)

35. Osserva attentamente la fotografia raffigurata.




Qual è il nome del processo di degrado del suolo osservabile sulla fotografia, processo che è anche la conseguenza dell'irrigazione nelle zone aride?

(1 punto)

Geografia

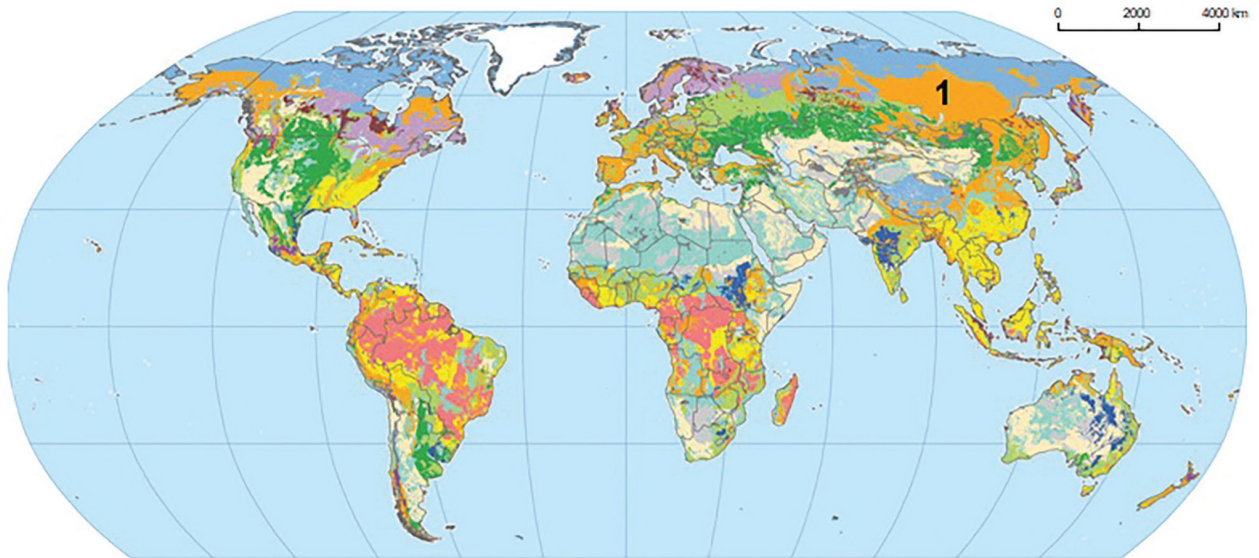
36. Osserva attentamente la fotografia raffigurata.



Spiega in una frase una conseguenza negativa del processo di robotizzazione nell'ambito dell'industria.

(1 punto)

37. Osserva attentamente la carta geografica raffigurata.



Qual è il nome del tipo di suolo zonale contrassegnato dal numero **1** sulla carta di sopra?

(1 punto)

38. Osserva attentamente la tabella raffigurata.

Tab. 2. Rifornimento annuale di pesce e dei prodotti ittici
per abitante negli stati selezionati (kg per abitanti) negli anni 1991 e 2011.

Stato	1991	2011
Malesia	47,1	58,1
Repubblica di Corea	42,5	58,1
Portogallo	61,7	56,8
Myanmar/ Birmania	14,6	55,0
Norvegia	44,6	53,4
Giappone	66,7	51,4
Spagna	35,0	42,4
Finlandia	32,1	35,6
Cambogia	12,4	35,5

Qual è il nome dello stato i cui abitanti hanno aumentato di più il consumo di pesce nell'intervallo di tempo osservato?

(1 punto)

III Quesiti a risposta lunga

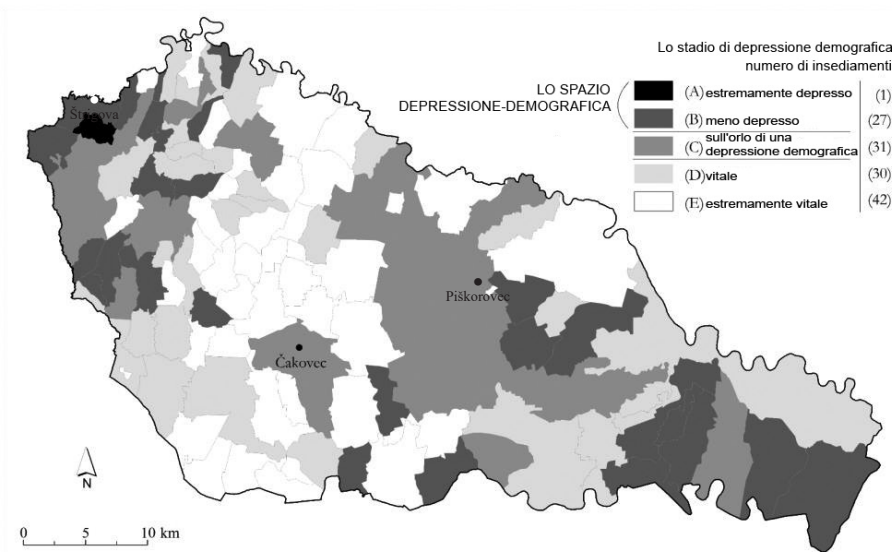
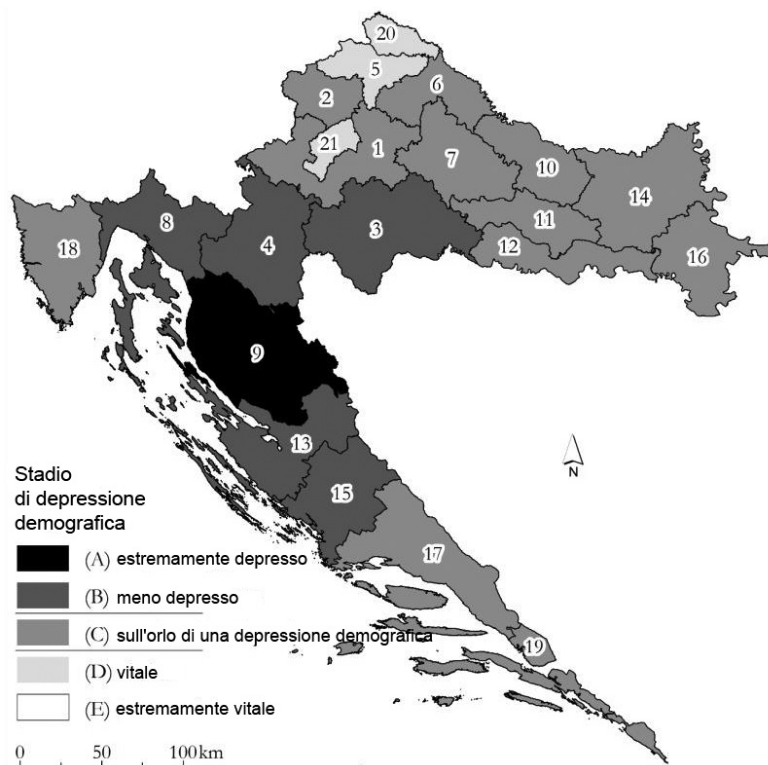
Nei quesiti che seguono bisogna rispondere con alcune frasi, in modo chiaro, conciso e attenendosi a ciò che è rilevante per il quesito.

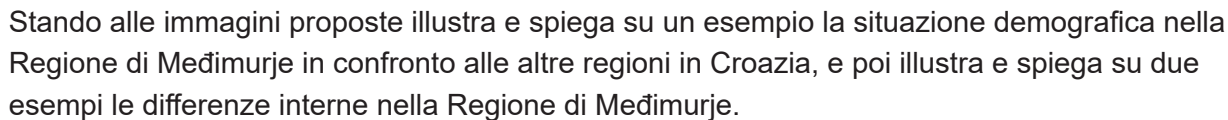
Le risposte vanno iscritte solo nell'apposito spazio all'interno del libretto d'esame.

La risposta giusta porta uno, due o tre punti.

39. Leggi attentamente il presente testo e osserva le immagini raffigurate.

Per più di 30 anni, in Croazia, si sta verificando il decremento del numero della popolazione. Già nel censimento del 2011, la Croazia si trovava in uno stadio di alta senilità demografica; rilevando poi i dati per insediamento il 37% si trova nello stadio di alta senilità e il 45% si trova nello stadio della più alta senilità. Gli insediamenti demograficamente depressi sono caratterizzati dalla dominazione della popolazione anziana in correlazione con un deficit di popolazione giovane e adulta mentre gli insediamenti definiti “vitali” sono caratterizzati dalla dominazione della popolazione giovane e giovane-adulta.

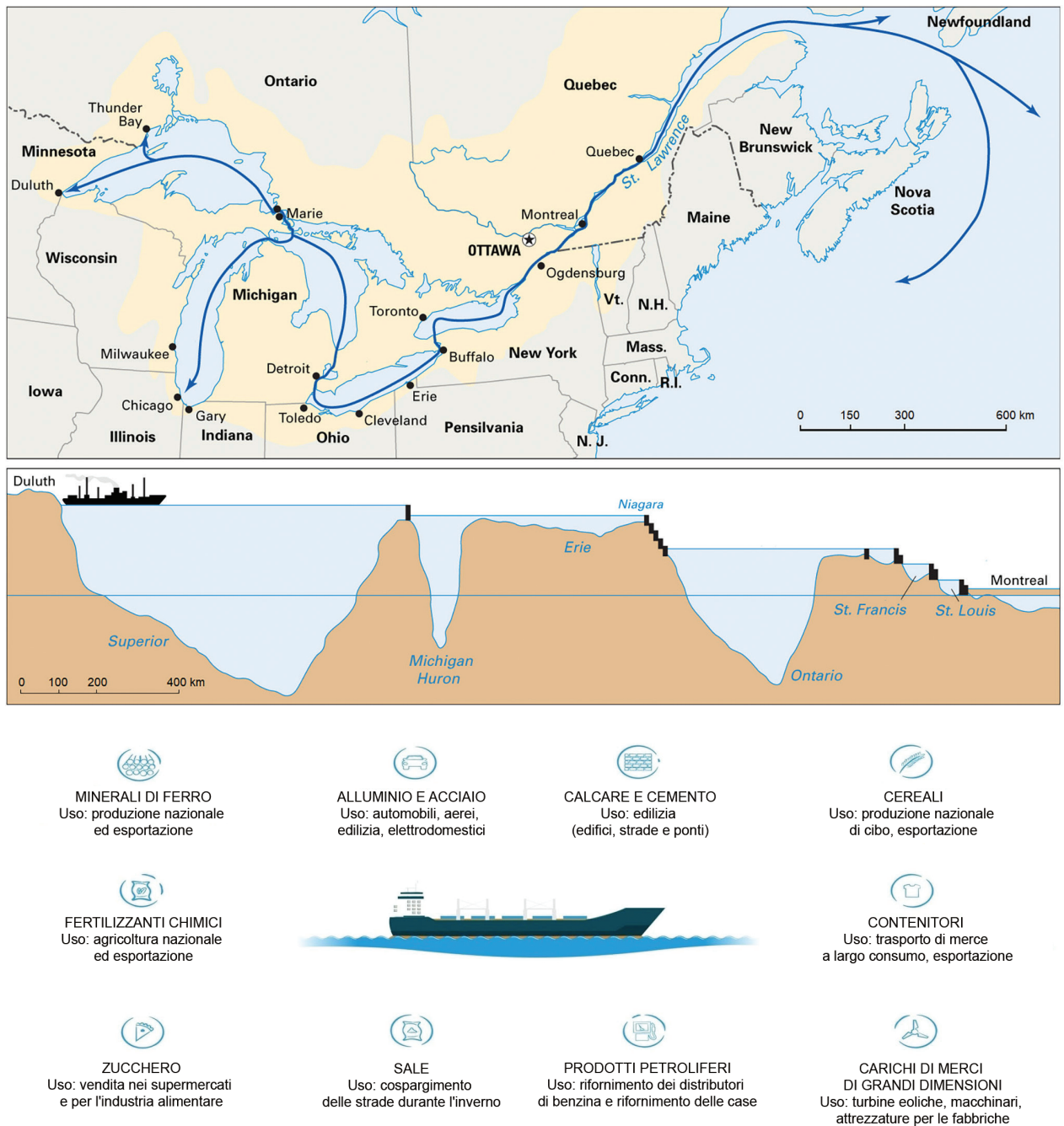


This image shows a blank sheet of white paper with horizontal ruling lines. The lines are evenly spaced and extend across the width of the page. There are no margins, text, or other markings on the paper.

(3 punti)

Geografia

40. Osserva attentamente le immagini raffigurate.



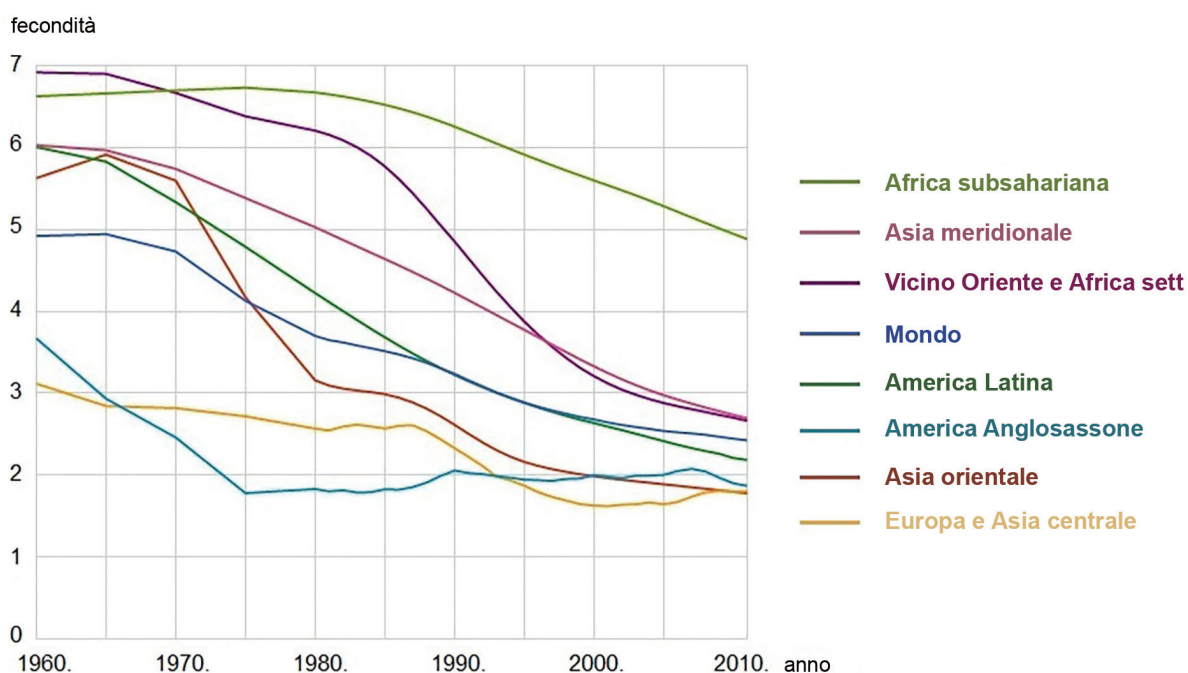
Nell'anno 2017 nella regione dei Grandi Laghi e quella del fiume St. Lawrence sono stati aperti 237 868 nuovi posti di lavoro e sono stati trasportati 143,5 milioni di tonnellate di merce nel valore di 35 miliardi di dollari statunitensi.

Spiega il ruolo dei Grandi Laghi e del fiume St. Lawrence nel mercato marittimo interno, transfrontaliero e internazionale.

39/44

Geografia

41. Osserva attentamente il diagramma raffigurato.



Scegli due aree o territori e spiega per ciascuno la tendenza di cambiamento del tasso di fecondità e, nel caso dell'Africa subsahariana, spiega anche il motivo del cambiamento del TFR.

41/44

42. Osserva attentamente le fotografie raffigurate.



Nomina i tipi di suolo rappresentati sulle fotografie e per ciascun tipo di suolo nomina le coltivazioni agricole tradizionali relative alle grandi regioni geografiche della Croazia.

[illegible]

(3 punti)

Pagina vuota