



Nacionalni centar
za vanjsko vrednovanje
obrazovanja

Identifikacijska
naljepnica

PAŽLJIVO NALIJEPI

POVIJEST

PROBNI ISPIT DRŽAVNE MATURE

šk. god. 2022./2023.

POV.49.HR.T.K1.48



50412

Povijest

Način **označavanja odgovora** na listu za odgovore:

A ☒ B ☐ C ☐

Način **ispravljanja pogrešaka** na listu za odgovore:

A ☒ B ☐ C ☒ C IK

Prepisan točan odgovor

Paraf (Skraćeni potpis)

Način **ispravljanja pogrešaka** u ispitnoj knjižici:

~~(Matura)~~ državna matura

Precrtan pogrešan odgovor u zagradama

Točan odgovor

IK

Paraf (Skraćeni potpis)

OPĆE UPUTE

Pozorno pročitajte **sve** upute i **slijedite ih**.

Ne okrećite stranicu i **ne rješavajte** zadatke dok to **ne odobri** voditelj ispitne prostorije.

Nalijepite identifikacijske naljepnice na sve ispitne materijale koje ste dobili u sigurnosnoj vrećici.

Ispit traje **135** minuta.

Ispred svake skupine zadataka **uputa** je za rješavanje.

Pozorno je pročitajte.

Možete pisati po listu za koncept, ali se njegov sadržaj **neće** bodovati.

Pišite **čitko**. **Nečitki** odgovori bodovat će se s **nula (0)** bodova.

Na **2.** stranici ove ispitne knjižice prikazan je **način označavanja** odgovora i načini **ispravljanja pogrešaka**.

Pri **ispravljanju pogrešaka** potrebno je staviti **paraf** (isključivo **skraćeni potpis**, a **ne puno** ime i prezime).

Upotrebljavajte **isključivo kemijsku** olovku kojom se piše **plavom** ili **crnom** bojom.

Kada riješite zadatke, **provjerite** odgovore.

Želimo Vam mnogo uspjeha!

Ova ispitna knjižica ima **48** stranica, od toga **3** prazne.

I. Zadatci višestrukoga izbora

U sljedećim zadatcima **od više** ponuđenih odgovora samo je **jedan točan**.
Točan odgovor morate **označiti** znakom **X** na **listu za odgovore**.
Točan odgovor donosi **jedan bod**.

1. Što je od navedenoga bila **posljedica** Suline **diktature**?

- A. osvajanje Kartage
- B. pobjeda nad Galima
- C. uvođenje ostracizma
- D. uvođenje proskripcija

(1 bod)

2. Iz kojega razdoblja **potječu nalazi** čovjekova pretka s **Hušnjakova brda** kraj Krapine?


- A. iz paleolitika
- B. iz mezolitika
- C. iz bakrenoga doba
- D. iz željeznoga doba

(1 bod)

3. Pozorno pogledajte **slikovne priloge**.



1



2



3



4

Kojim je **brojem** označena građevina u kojoj su se u **antičko doba grčke** povijesti održavale **kazališne predstave**?

- A. brojem 1
- B. brojem 2
- C. brojem 3
- D. brojem 4

(1 bod)

Povijest

4. Koji je narod u **antičko** doba **nastanjivao** priobalno područje i otoke **između rijeka** Raše i Krke?

- A. Ardijejci
- B. Delmati
- C. Japodi
- D. Liburni

(1 bod)

5. Zašto se smatra da je **demokracija** u Ateni na **vrhuncu u doba Perikla**?

- A. jer je uveden ostracizam
- B. jer je provedena agrarna reforma
- C. jer je uvedeno pravo glasa za žene
- D. jer su uvedene plaće za državne službe

(1 bod)

6. Pozorno pročitajte **povijesni izvor**.

„Da stane dakle na kraj tim glasovima, podmetne Neron krivce i stavi na najrafiniranije muke one koji su bili omraženi zbog svojih gadosti, a koje je prosti narod nazivao kršćanima. Ime im to dolazi od Krista koji za Tiberijeve vladavine bude pogubljen po naredbi prokuratora Poncija Pilata. Potisnuto začas, ponovo provali to pogubno praznovjerje, ne samo u Judeji gdje je to zlo imalo svoj izvor, već i u samom Rimu, gdje se sa svih strana stječe i veliča sve što je sramotno i užasno.”

Iz čije je perspektive **napisan tekst** povijesnoga izvora?

- A. crkvenih otaca
- B. evanđelista
- C. mnogobošca
- D. kršćanina

(1 bod)

Povijest

7. Pozorno pročitajte **povijesni izvor**.

„(...) Kapetani i vojvode, ljudi i naprijed spomenuta lica koja su njihovi podanici i pripadnici budu dali vjeru da će nam nepokolebljivo služiti, svaka porodica koja bude stanovala u jednoj kući, pod jednim krovom i na jednom imanju, mora, može i smije u roku od 20 godina bez prekida slobodno živjeti na našem području, u mjestu koje joj spomenuti generalni kapetan bude odredio, bez ikakva plaćanja poreza i bilo kakve zakupnine, obrađivati zemlju ili dati na obradu, primati sav plod i prihod s te zemlje bez ikakve zapreke ili protivljenja. (...) Zatim ćemo narediti da se svakom kapetanu ili vojvodi (...) koji pod svojim vodstvom ili upravom bude imao 200 ljudi svake godine dade, isplati i izbroji plaća u novcu od 50 rajnskih forinti (...). Osim toga: što god oni iz ruku nevjernika i stalnih neprijatelja kršćanske vjere (...) dobiju u svoju vlast i zaplijene sve ima pripasti samim tim (...).”

Na koji se **dio** hrvatskoga teritorija **odnose društveni odnosi** opisani u povijesnome izvoru?

- A. na Vojnu granicu
- B. na Zagrebačku biskupiju
- C. na posjede obitelji Eltz
- D. na Dubrovačku Republiku

(1 bod)

8. Što je od navedenoga **posljedica** „drugoga kmetstva”?

- A. razvoj gildi
- B. seljačke bune
- C. tropoljni sustav
- D. dvopoljni sustav

(1 bod)

9. **S kojom** su se od navedenih **namjera** hrvatski intelektualci **okupljali** u **ozaljskome krugu**?

- A. radi priključenja Dalmacije
- B. radi urote protiv Leopolda I.
- C. radi pokretanja novoga rata protiv Turaka
- D. radi oblikovanja jedinstvenoga hrvatskog jezika

(1 bod)

Povijest

10. Pozorno pogledajte **povijesni zemljovid**.



Kojim je dokumentom **provedena** prikazana **teritorijalna promjena**?

- A. Aachenskim ugovorom 812. godine
- B. Verdunskim ugovorom 843. godine
- C. Otonovim povlasticama 962. godine
- D. Wormskim konkordatom 1122. godine

(1 bod)

11. Što je bio **uzrok pobune** Zrinskih i Frankopana u **17. stoljeću**?

- A. vjerski progoni
- B. apsolutizam Habsburgovaca
- C. troškovi Tridesetogodišnjega rata
- D. pokretanje ratova protiv Mlečana

(1 bod)

12. Pozorno pogledajte **povijesni zemljovid**.



Po kojoj su od navedenih institucija u doba **razvijenoga** i **kasnoga srednjeg** vijeka bili **poznati gradovi** prikazani na povijesnome zemljovidu?

- A. po sveučilištu
- B. po vladarskome dvoru
- C. po biskupskome sjedištu
- D. po sjedištima cehova i gildi

(1 bod)

Povijest

13. Pozorno pročitatajte **povijesni izvor**.

„Doznali smo pak da je nedavno časni naš brat (Bernard) splitski nadbiskup istjerao iz gradova Splita i Trogira dosta patarena. Plemeniti muž Kulin, ban bosanski, ne samo da je pružio sigurno sklonište njihovoj opaćini, nego i očiglednu zaštitu, te ih je, izlažući njihovoj opaćini svoju zemlju u sebe sama, častio kao katolike, dapače više od katolika, nazivajući ih izričito kršćanima. (...) Molimo, opominjemo i potičemo kraljevsku visost (...) nalažući tebi za oproštenje grijeha da se pripraviš silom i kako dolikuje kraljevskoj moći, kako bi toliku nepravdu, nanesenu Kristu i kršćanima osvetio (...).”

Čija je **perspektiva** opisana u povijesnome izvoru?

- A. rimskoga pape
- B. bosanskih krstjana
- C. bosanskoga vladara
- D. splitskoga nadbiskupa

(1 bod)

14. Što je od navedenoga **najviše utjecalo** na **porast broja** stanovnika **od 40 % u SAD-u** krajem **19.** i početkom **20.** stoljeća?

- A. otkriće zlata
- B. uzgoj kukuruza
- C. ukidanje ropstva
- D. intenzivne imigracije

(1 bod)

15. Koji je **dio** hrvatskoga teritorija **intenzivno koloniziran** tijekom

18. stoljeća?

- A. Dubrovačka Republika
- B. Istra
- C. Međimurje
- D. Slavonija

(1 bod)

16. Pozorno pročitajte **povijesni izvor**.

„Veliko mnoštvo ljudi koje se sakupilo (...) da vidi što će biti iz „Fultonova ludovanja”, urlikalo je i rugalo se: „Neka ti bog pomogne Bobby”, „Donesi nam komad Sjevernog pola!” Fulton je sa smiješkom vršio (...) posljednje pripreme za odlazak, jer je previđao, da će se ovo živo negodovanje uskoro pretvoriti u obratno.”

Koji je **tehnički izum** opisan u povijesnome izvoru?

- A. zrakoplov
- B. parobrod
- C. željeznica
- D. automobil

(1 bod)

Povijest

17. Pozorno pročitajte **povijesni izvor**.

„Općinstvo naše držalo se je osobito u početku sasvim nehajno ili se izjavljivalo u protivnom smislu, jer se je kazalo, da je ideja (...), izrod mladih ugrianih glava, pak će svega toga doskora nestati; ko što nestaje u svijetu mnogih drugih nezrelih i dječinskih igara. Ali na sreću ni Gaj niti njegovi pristaše nedadoše se ušutkati tim otporom.”

Iz **čije** je **perspektive** napisan povijesni izvor?

- A. pravaša
- B. unionista
- C. hrvatskih preporoditelja
- D. turopoljskoga sitnog plemstva

(1 bod)

18. Tko su bili **konstruktori prvoga** automobila iz **1885.** godine?

- A. Friedrich Benz i Gottlieb Daimler
- B. Nikola Tesla i Thomas Alva Edison
- C. Samuel Morse i Guglielmo Marconi
- D. Werner von Siemens i Antonio Pacinotti

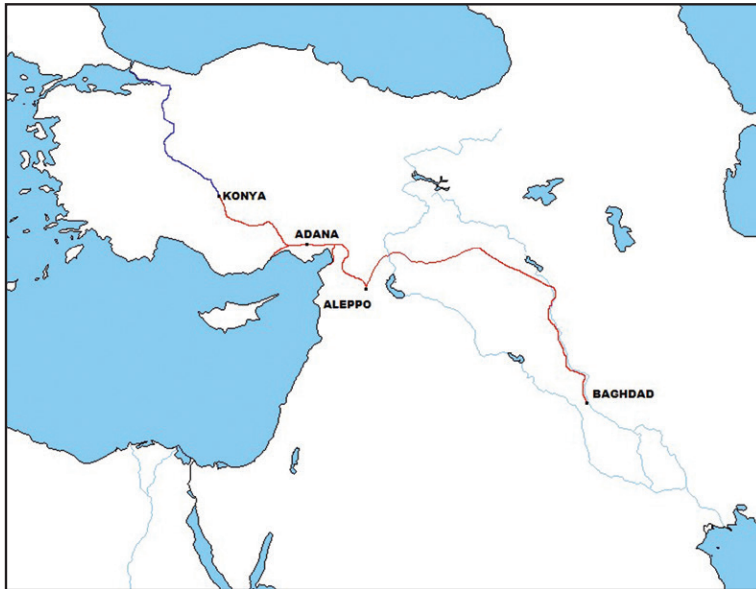
(1 bod)

19. Što je bio **uzrok** narodnoga pokreta iz **1883.** godine?

- A. politika novoga kursa
- B. odluke sabora iz 1861. godine
- C. neriješen status Hrvata u Bosni i Hercegovini
- D. nezadovoljstvo položajem Hrvatske po nagodbi s Ugarskom

(1 bod)

20. Pozorno pogledajte **povijesni zemljovid**.



Koja je europska država **početkom 20. stoljeća** dobila **koncesiju za gradnju** željezničke pruge čija je **trasa** prikazana na povijesnome zemljovidu?

- A. Belgija
- B. Francuska
- C. Njemačka
- D. Velika Britanija

(1 bod)

21. Koji su umjetnici **oslikali** Zlatnu dvoranu, sjedište Odjela za bogoštovlje i nastavu **u doba Izidora Kršnjavoga**?

- A. Celestin Medović i Vlaho Bukovac
- B. Ivan Generalić i Ivan Lacković
- C. Ivan Duknović i Ivan Ranger
- D. Vjekoslav Karas i Miroslav Kraljević

(1 bod)

Povijest

22. Koja je bila **posljedica** zalaganja Stjepana Radića za **pravo glasa žena** u Kraljevini SHS?

- A. Žene i dalje nisu imale pravo glasa.
- B. Uvedeno je opće pravo glasa žena.
- C. Pravo glasa imale su samo žene iz plemstva.
- D. Uvedeno je pravo glasa svih obrazovanih žena.

(1 bod)

23. Pozorno pogledajte **slikovni prilog**.



Prijevod slikovnoga priloga: ZA ZASLUGE; 4. OŽUJKA 1912. ŠTRAJK GLAĐU

Koji je pokret **dodjeljivao medalju** prikazanu na slikovnome prilogu?

- A. sufražetski
- B. antifašistički
- C. komunistički
- D. abolicionistički

(1 bod)

24. Koji je dokument **nastao kao reakcija** hrvatskih intelektualaca na **Novosadski dogovor** iz **1954.** godine?

- A. Memorandum SANU
- B. Zagrebačke punktacije
- C. Deklaracija o nazivu i položaju hrvatskoga književnog jezika
- D. zaključci X. sjednice Centralnoga komiteta Saveza komunista Hrvatske

(1 bod)

Povijest

25. Pozorno pogledajte **slikovni prilog**.



Prijevod teksta sa slikovnog priloga:

„Pokažimo džokera”

„Rooseveltov New Deal”

Na karti – „Socijalistički eksperiment”

Što je u programu „New Deal” **kritizirano** prikazanom karikaturom?

- A. jačanje sindikata
- B. politika izolacionizma
- C. plaćanje zdravstvenih usluga
- D. smanjenje poreza bogatašima

(1 bod)

26. Na što se **odnosi** Protokol iz Kyota?

- A.** na upotrebu nuklearnoga oružja
- B.** na promjene međunarodnih granica
- C.** na zajednička svemirska istraživanja
- D.** na smanjenje emisije stakleničkih plinova

(1 bod)

Povijest

27. Pozorno pogledajte slikovni prilog.

“See how many are staying on our side.”



Don Wright: *The Miami News*, 1961.

Prijevod teksta sa slikovnoga priloga:

„Pogledajte koliko ih je mnogo ostalo na našoj strani.
Berlinski zid podignut 13. kolovoza 1961. godine”

Tko su bili **čelnici suprotstavljenih sila** u vrijeme događaja prikazanoga na slikovnome prilogu?

- A. John Fitzgerald Kennedy i Nikita Hruščov
- B. Dwight David Eisenhower i Josif Visarionovič Staljin
- C. Ronald Reagan i Mihail Gorbačov
- D. Woodrow Wilson i Vladimir Iljič Lenjin

(1 bod)

28. Što je bila **posljedica** Sporazuma Tito – Šubašić?

- A. sukob s Informbiroom
- B. povratak kralja u zemlju
- C. zajedničke ratne operacije
- D. sastavljanje zajedničkih vlada

(1 bod)


29. Na koji se **proces** iz **vremena Domovinskoga** rata odnosi **Erdutski sporazum**?

- A. na jačanje hrvatske vojske
- B. na uvođenje nove valute hrvatski dinar
- C. na reintegraciju istočne Slavonije, Baranje i zapadnoga Srijema
- D. na pripremu operacije „Oluja” i suradnju s Armijom Bosne i Hercegovine

(1 bod)

Povijest

30. Pozorno pogledajte **slikovni prilog**.



Koji je povijesni događaj **bio povod nastanku** prikazanoga spomenika?

- A. stradanja u Prvome svjetskom ratu
- B. stradanja u Jasenovcu
- C. stradanja na Bleiburgu
- D. stradanja u Domovinskoj ratu

(1 bod)

II. Zadatci višestrukoga izbora (kronologije)

U sljedećim zadatcima **od više** ponuđenih odgovora samo je **jedan točan**.
Točne odgovore morate **označiti** znakom **X** na **listu za odgovore**.
Točan odgovor donosi **jedan bod**.

31. U kojemu su nizu **točno kronološki** poredani vladari **židovske** države u **starome vijeku**?

- A. Salomon → David → Saul → Roboam i Jeroboam
- B. David → Saul → Salomon → Roboam i Jeroboam
- C. Saul → David → Salomon → Roboam i Jeroboam
- D. Roboam i Jeroboam → David → Salomon → Saul

(1 bod)

32. U kojemu su nizu **točno kronološki** poredani događaji iz razdoblja **prvoga** tisućljeća prije Krista na području gdje su **živjeli Iliri**?

- A. rat protiv Teute → Gentijev poraz
→ pohod protiv Dimitrija Farskoga → Batonov poraz
- B. Gentijev poraz → pohod protiv Dimitrija Farskoga
→ rat protiv Teute → Batonov poraz
- C. pohod protiv Dimitrija Farskoga → rat protiv Teute
→ Gentijev poraz → Batonov poraz
- D. rat protiv Teute → pohod protiv Dimitrija Farskoga
→ Gentijev poraz → Batonov poraz

(1 bod)

Povijest

33. U kojemu su nizu **točno kronološki** poredani događaji iz razdoblja **povijesti Bizanta**?

- A.** Justinijanova rekonkvista
→ obrana Carigrada od Slavena, Avara i Perzijanaca
→ ratovi protiv Arapa → ratovi protiv Turaka Seldžuka
- B.** ratovi protiv Turaka Seldžuka → Justinijanova rekonkvista
→ obrana Carigrada od Slavena, Avara i Perzijanaca
→ ratovi protiv Arapa
- C.** Justinijanova rekonkvista → ratovi protiv Turaka Seldžuka
→ ratovi protiv Arapa
→ obrana Carigrada od Slavena, Avara i Perzijanaca
- D.** ratovi protiv Arapa → Justinijanova rekonkvista
→ obrana Carigrada od Slavena, Avara i Perzijanaca
→ ratovi protiv Turaka Seldžuka

(1 bod)

34. U kojemu su nizu **točno kronološki** poredani izvori iz **ranosrednjovjekovne povijesti Hrvata**?

- A.** natpis iz Šopota → natpis iz Rižinica
→ natpis kraljice Jelene → Bašćanska ploča
- B.** natpis iz Rižinica → natpis iz Šopota
→ natpis kraljice Jelene → Bašćanska ploča
- C.** natpis iz Rižinica → natpis kraljice Jelene
→ natpis iz Šopota → Bašćanska ploča
- D.** Bašćanska ploča → natpis iz Šopota
→ natpis kraljice Jelene → natpis iz Rižinica

(1 bod)

35. U kojemu su nizu **točno kronološki** poredani događaji iz **američke povijesti**?

- A.** Bostonska čajanka → nastanak Deklaracije neovisnosti
→ sklopljen Mir u Parizu → provođenje Monroeove doktrine
- B.** nastanak Deklaracije neovisnosti → sklopljen Mir u Parizu
→ provođenje Monroeove doktrine → Bostonska čajanka
- C.** Bostonska čajanka → provođenje Monroeove doktrine
→ nastanak Deklaracije neovisnosti → sklopljen Mir u Parizu
- D.** Bostonska čajanka → sklopljen Mir u Parizu
→ nastanak Deklaracije neovisnosti → provođenje Monroeove doktrine

(1 bod)

Povijest

36. U kojemu su nizu **točno kronološki** poredani događaji iz **hrvatske** povijesti u vrijeme **Prvoga** svjetskog rata?

- A.** potpisivanje Ožujске deklaracije
 - nastanak Narodnoga vijeća Slovenaca, Hrvata i Srba
 - potpisivanje Ženevske deklaracije
 - nastanak Države Slovenaca, Hrvata i Srba
- B.** potpisivanje Ožujске deklaracije
 - nastanak Narodnoga vijeća Slovenaca, Hrvata i Srba
 - nastanak Države Slovenaca, Hrvata i Srba
 - potpisivanje Ženevske deklaracije
- C.** nastanak Narodnoga vijeća Slovenaca, Hrvata i Srba
 - potpisivanje Ožujске deklaracije
 - nastanak Države Slovenaca, Hrvata i Srba
 - potpisivanje Ženevske deklaracije
- D.** nastanak Države Slovenaca, Hrvata i Srba
 - potpisivanje Ožujске deklaracije
 - nastanak Narodnoga vijeća Slovenaca, Hrvata i Srba
 - potpisivanje Ženevske deklaracije

(1 bod)

37. U kojemu su nizu **točno kronološki** poredani događaji iz **njemačke** povijesti **za** vrijeme i **nakon Prvoga** svjetskog rata?

- A. abdikacija Vilima II. → Hitlerov puč
→ pobuna Spartakovaca → potpisivanje Versajskoga ugovora
- B. potpisivanje Versajskoga ugovora → abdikacija Vilima II.
→ pobuna Spartakovaca → Hitlerov puč
- C. abdikacija Vilima II. → pobuna Spartakovaca
→ potpisivanje Versajskoga ugovora → Hitlerov puč
- D. pobuna Spartakovaca → abdikacija Vilima II.
→ potpisivanje Versajskoga ugovora → Hitlerov puč

(1 bod)

38. U kojemu su nizu **točno kronološki** poredani događaji iz razdoblja **hrvatske** povijesti u **20.** stoljeću?

- A. nastanak tzv. zelenoga kadra → nastanak Banovine Hrvatske
→ proglašenje Nezavisne Države Hrvatske
→ kapitulacija Kraljevine Jugoslavije
- B. nastanak tzv. zelenog kadra → nastanak Banovine Hrvatske
→ kapitulacija Kraljevine Jugoslavije
→ proglašenje Nezavisne Države Hrvatske
- C. nastanak Banovine Hrvatske → nastanak tzv. zelenoga kadra
→ proglašenje Nezavisne Države Hrvatske
→ kapitulacija Kraljevine Jugoslavije
- D. kapitulacija Kraljevine Jugoslavije
→ proglašenje Nezavisne Države Hrvatske
→ nastanak tzv. zelenoga kadra → nastanak Banovine Hrvatske

(1 bod)

III. Zadatci višestrukoga izbora (uz polazni sadržaj)

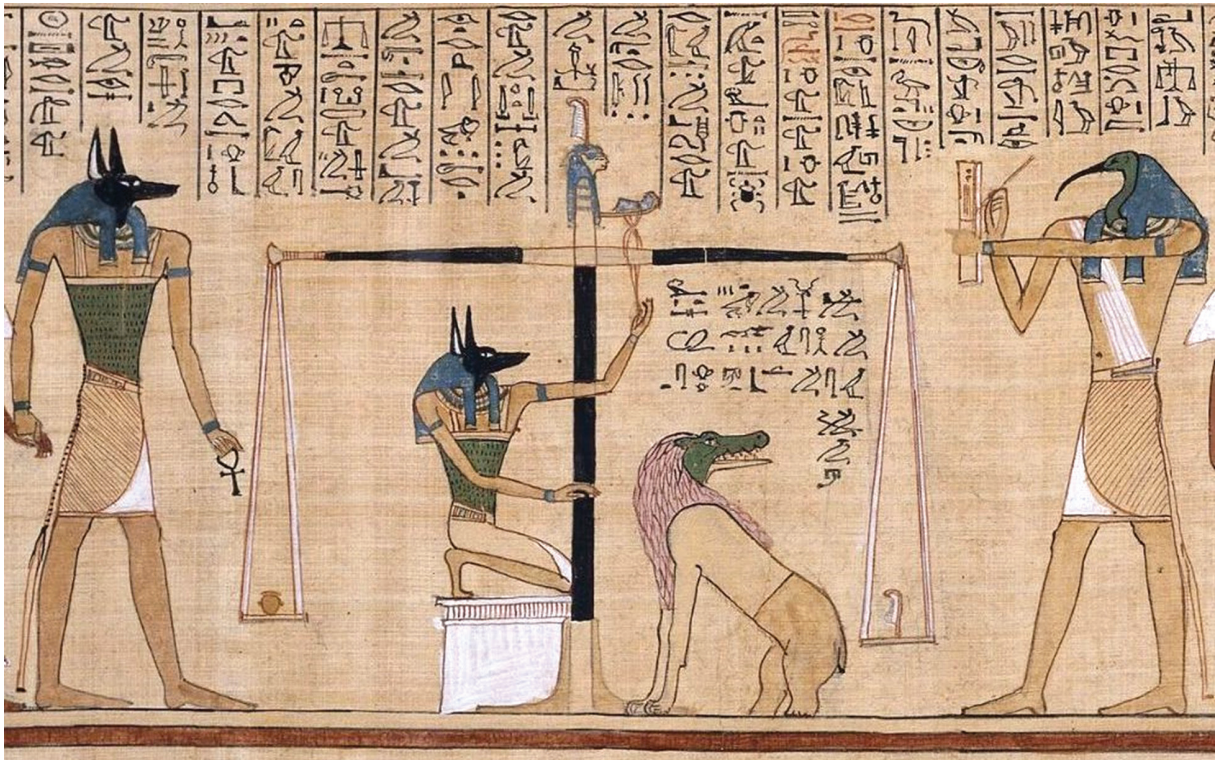
U sljedećim zadatcima proučite **povijesne izvore**, povijesne **zemljovide** i **slikovne priloge** te **odgovorite** na postavljena pitanja.

Od više ponuđenih odgovora samo je **jedan točan**.

Točne odgovore morate **označiti** znakom **X** na **listu za odgovore**.

Točan odgovor donosi **jedan bod**.

39. Pozorno pogledajte **slikovni prilog** i **odgovorite** na postavljena pitanja.



39.1. Što je prikazano na slikovnome prilogu?

- A. faraonov trijumf
- B. plaćanje poreza
- C. put u zagrobni život
- D. kažnjavanje robova

(1 bod)

39.2. U kojemu se od navedenih tekstova **nalazi** slikovni prilog?

- A. u Knjizi mrtvih
- B. u Žalopojci Ipuvera
- C. u tekstovima piramida
- D. u Pripovijesti o Sinuheu Egipćaninu

(1 bod)

Povijest

40. Pozorno pogledajte **slikovni prilog** i **odgovorite** na postavljena pitanja.



40.1. S kojim je rimskim carem povezan **nastanak prikazane** građevine?

- A. s Augustom
- B. s Dioklecijanom
- C. s Karakalom
- D. s Trajanom

(1 bod)

40.2. Koja je bila **prvotna namjena** prikazane građevine?

- A. arena
- B. terme
- C. mauzolej
- D. skupština

(1 bod)

41. Pozorno pročitajte **povijesni izvor** i **odgovorite** na postavljena pitanja.

„Narod nije stvoren radi kneza, nego knez radi naroda, jer bez naroda ne bi on bio nikakva knez. On je zato tu da svojim podanicima upravlja pravedno i pravično (...) Pod izlikom religije pokušao je španjolski kralj uvesti tiraniju te je, ne mareći ni za kakav prigovor zemlje, povrijedio njezine povlastice pogazio zakletvu kojom se zakleo na njeno održanje. I stoga mi sada izjavljujemo da je kralj španjolski izgubio svaku vlast u Nizozemskoj (...)”

41.1. U kojemu se **stoljeću odvio** opisani događaj?

- A. u 14. stoljeću
- B. u 15. stoljeću
- C. u 16. stoljeću
- D. u 17. stoljeću

(1 bod)

41.2. Kakav je **oblik vlasti** uspostavljen kao **posljedica** opisanih događaja?

- A. ustavna monarhija
- B. apsolutna monarhija
- C. federativna republika
- D. centralistička republika

(1 bod)

Povijest

42. Pozorno pogledajte **povijesni zemljovid** i odgovorite na postavljena pitanja.



42.1. Vojni pohodi kojega su hrvatskoga vladara prikazani **dvjema strelicama** na povijesnome zemljovidu?

- A. Branimira
- B. Domagoja
- C. Tomislava
- D. Trpimira

(1 bod)

42.2. Kako se naziva područje označeno brojem **1** na povijesnome zemljovidu?

- A. Bagibareja
- B. Karantanija
- C. Paganija
- D. Travunja

(1 bod)

Povijest

43. Pozorno pročitajte **povijesni izvor** i **odgovorite** na postavljena pitanja.

„III.

Vladar i nacija ne smiju nikada smetnuti s uma da je zemljište jedini izvor bogatstva i da ih zemljoradnja umnožava (...)
(...)

IX.

Nacija koja ima mnogo obradive zemlje te može lako voditi razgranatu trgovinu sirovinama neka ne štiti upotrebu novca i ljudi previše na rukotvorine i trgovinu luksuznom robom ako to ide na štetu zemljoradničkih radova i izdataka (...)

43.1. Kako se naziva **gospodarska politika** opisana u povijesnome izvoru?

- A. fiziokratizam
- B. merkantilizam
- C. liberalni kapitalizam
- D. državni kapitalizam

(1 bod)

43.2. Tko je **autor** navedenih **načela** gospodarske politike?

- A. Adam Smith
- B. François Quesnay
- C. John Locke
- D. Jean Jacques Rousseau

(1 bod)

44. Pozorno pročitajte **povijesni izvor** i **odgovorite** na postavljena pitanja.

„Stanični organi bili su u velikoj većini Mađari, među tadašnjim nižim službenicima bilo je nešto tzv. potčinovništva iz Hrvatske koji su se znali izuzetno ‘popeti’ do predstojnika stanice. Na viša mjesta činovnička puštali su se uz ‘importirani’ sloj tek sinovi Mađara željezničara koji su služili ovdje (...) Kada su 1886. g. utemeljeni željeznički i brodarski tečajevi u Pešti bio je pristup domaćem elementu, koji bi morao desetak mjeseci živjeti u Pešti o svojem trošku, i s te strane naročito oteščan. Tek na urgenciju (...) osnovano je, mislim 1898. g., kojih deset stipendija za slušaoce tih kursova iz Hrvatske. Ali ti su slušaoci odmah poslije svršenih studija ‘eksportirani’, odnosno zadržani u Mađarskoj odakle se mnogi vratio u domovinu kao ljuti janjičar (...)”

44.1. Tko je **bio hrvatski ban** u **razdoblju** opisanome u povijesnome izvoru?

- A. Ivan Mažuranić
- B. Josip Šokčević
- C. Károly Khuen-Héderváry
- D. Levin Rauch

(1 bod)

44.2. Kako se **naziva proces** opisan u povijesnome izvoru?

- A. germanizacija
- B. austroslavizam
- C. iredentizam
- D. mađarizacija

(1 bod)

Povijest

45. Pozorno pogledajte **slikovni prilog** iz razdoblja **Drugoga** svjetskog rata i **odgovorite** na postavljena pitanja.



Prijevod teksta sa slikovnoga priloga: „Zajedno ćemo zadaviti hitlerizam”

45.1. Iz **perspektive kojega** je **vojnog** saveza **nastao** slikovni prilog?

- A. Antifašističke koalicije
- B. Trojnoga pakta
- C. Centralnih sila
- D. Male Antante

(1 bod)

45.2. Koja je bila **prepreka** prikazanomu savezništvu u vremenu **prije nastanka** slikovnog priloga?

- A. vjerski razlozi
- B. kulturni razlozi
- C. ideološki razlozi
- D. gospodarski razlozi

(1 bod)

Povijest

46. Pozorno pogledajte **povijesni zemljovid** i **odgovorite** na postavljena pitanja.



46.1. Kako se **naziva država** čiji je zemljovid **prikazan** na slikovnome prilogu?

- A. Banovina Hrvatska
- B. Država Slovenaca, Hrvata i Srba
- C. Kraljevina Jugoslavija
- D. Kraljevstvo Srba, Hrvata i Slovenaca

(1 bod)

46.2. Kada je **uspostavljena** prikazana **teritorijalna podjela**?

- A. nakon donošenja Vidovdanskoga ustava
- B. nakon uspostave šestosiječanjske diktature
- C. nakon atentata na kralja Aleksandra
- D. nakon sklapanja Sporazuma Cvetković – Maček

(1 bod)

IV. Zadatak produženoga odgovora

U sljedećemu zadatku pažljivo promotrite **povijesni izvor** i **odgovorite** na postavljena pitanja **na predviđeno mjesto** u ispitnoj knjižici.

47. Pažljivo promotrite **slikovni prilog** i **odgovorite** na postavljena pitanja.



Prijevod teksta sa slikovnog priloga: „Vražja riba u egipatskim vodama”
Američka karikatura nepoznatoga autora iz 1882. godine

47.1. Odredite vrijeme i prostor nastanka slikovnog priloga.

Objasnite društveno-povijesne okolnosti koristeći se sljedećim pojmovima: „nastanak britanskoga kolonijalnog posjeda”, „Indija”, „dominioni”, „Sueski kanal” i „američki imperijalizam”.

[illegible]

(3 boda)

Povijest

47.2. Navedite komu je slikovni prilog bio namijenjen.

Objasnite **svrhu i poruku** slikovnog priloga.

[illegible]

(3 boda)

47.3. Navedite **tri primjera/elementa** sa slikovnog priloga koji **upućuju** na njegovu **svrhu**.

[illegible]

(3 boda)

Prazna stranica

Prazna stranica

Prazna stranica