



Nacionalni centar
za vanjsko vrednovanje
obrazovanja

Identifikacijska
naljepnica

PAŽLJIVO NALIJEPI

LIKOVNA UMJETNOST

DRŽAVNA MATURA

šk. god. 2022./2023.

Ispitna knjižica 2
ANALIZA LIKOVNOGA PRIMJERA

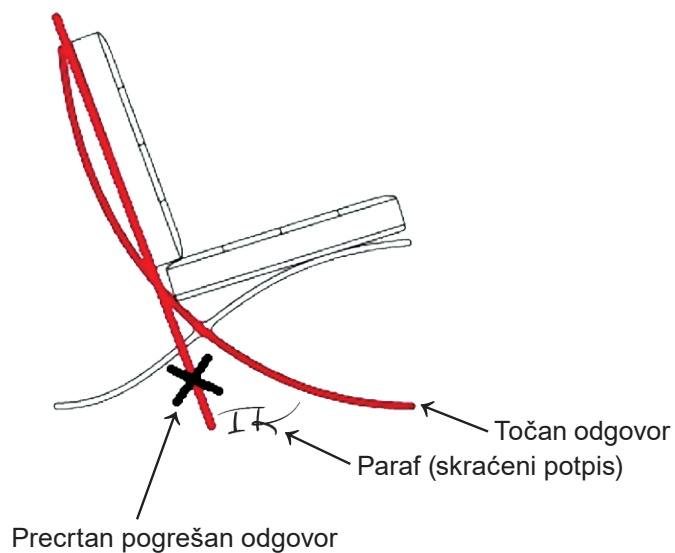
LIU.55.HR.R.K2.20



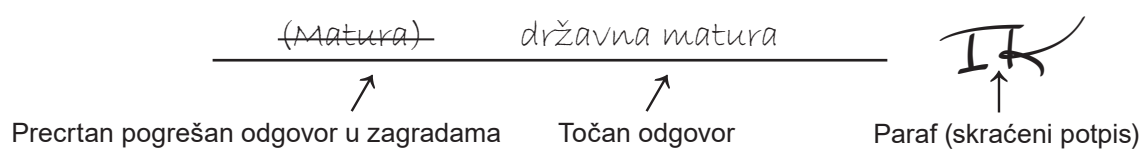
53506

Načini ispravljanja pogrešaka u ispitnoj knjižici:

Primjer 1.



Primjer 2.



OPĆE UPUTE

Pozorno pročitajte sve upute i slijedite ih.

Ne okrećite stranicu i ne rješavajte zadatke dok to ne odobri voditelj ispitne prostorije.

Nalijepite identifikacijske naljepnice na sve ispitne materijale koje ste dobili u sigurnosnoj vrećici.

Ispit traje **120** minuta bez stanke.

Zadatci se nalaze u dvjema ispitnim knjižicama. Ovaj dio ispita traje **60** minuta.

Dobro rasporedite vrijeme kako biste mogli riješiti sve zadatke.

Ispred svake skupine zadataka uputa je za rješavanje. Pozorno je pročitajte.

Za rješavanje zadataka upotrebljavajte kemijsku olovku kojom se piše plavom ili crnom bojom, flomastere i ravnalo.

Možete pisati po listu za koncept, ali se njegov sadržaj neće bodovati.

Pišite čitko. Nečitki odgovori bodovat će se s nula (0) bodova.

Na 2. stranici ove ispitne knjižice prikazani su načini ispravljanja pogrešaka. Pri ispravljanju pogrešaka potrebno je staviti paraf (isključivo skraćeni potpis, a ne puno ime i prezime).

Kada riješite zadatke, provjerite odgovore.

Želimo Vam mnogo uspjeha!

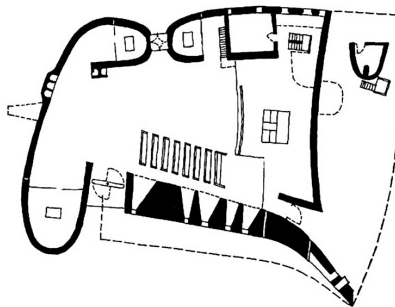
Ova ispitna knjižica ima 20 stranica, od toga 4 prazne.

Likovna umjetnost

Pozorno promotrite likovni primjer. Nakon likovnoga primjera prikazanoga s nekoliko reprodukcija slijedi 15 zadataka vezanih za taj likovni primjer. Slijedite upute ispred svake vrste zadataka.



Slika 1.



Slika 2.



Slika 3.



Slika 4.



Slika 5.



Slika 6.



Slika 7.



Slika 8.




Slika 9.



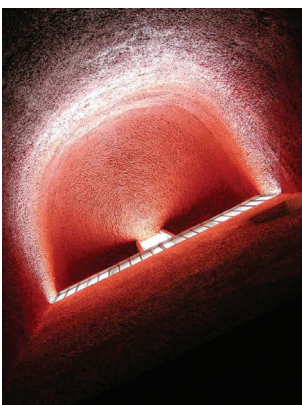
Slika 10.



Slika 11.



Slika 12.




Slika 13.



Slika 14.



Slika 15.



Slika 16.



Slika 17.



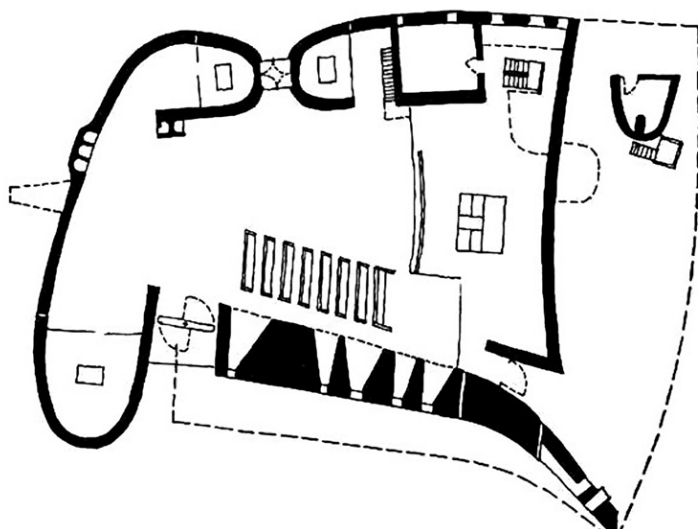
Slika 18.

Likovna umjetnost

I. Zadatci dopunjavanja

U sljedećim zadacima flomasterom označite traženi sadržaj na likovnome primjeru ili ucrtajte traženi sadržaj na likovni primjer.
Točan odgovor donosi jedan bod.

1. Na prikazanome tlocrtu znakom X označite mjesto s kojega je snimljen prikazani detalj vanjštine građevine.



Detalj

Prostor za ocjenjivača – NE POPUNJAVATI!

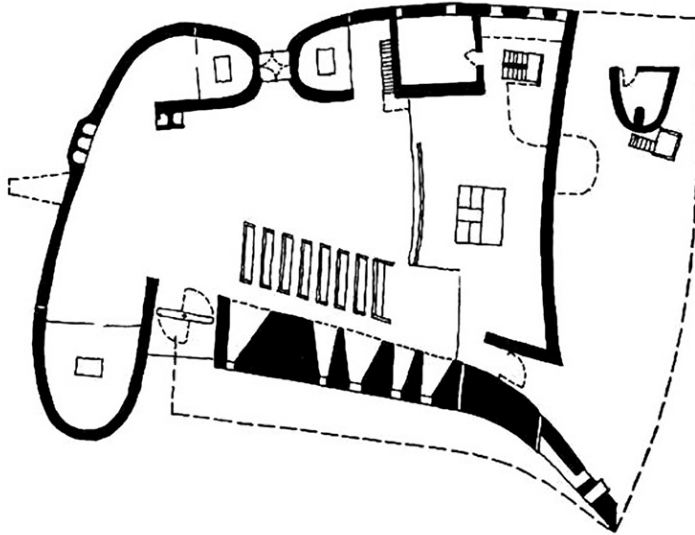
0

1

NO

(1 bod)

2. Na prikazanome tlocrtu znakom X označite mjesto s kojega je snimljen prikazani detalj vanjštine građevine.



Detalj

(1 bod)

Prostor za ocjenjivača – NE POPUNJAVATI!

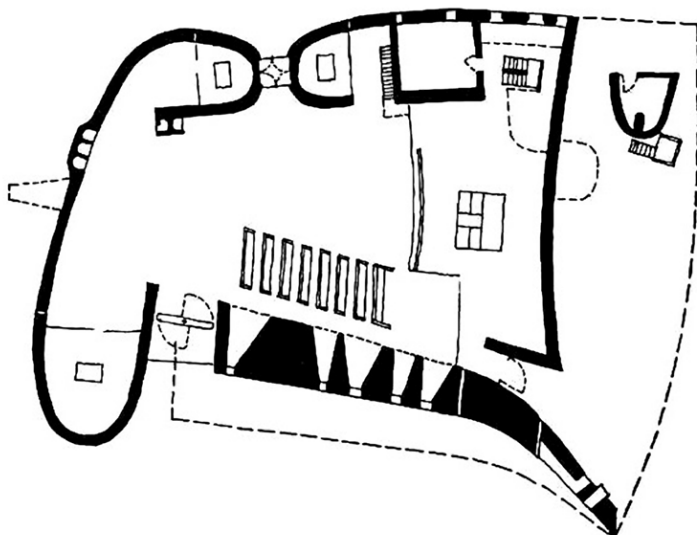
0

1

NO

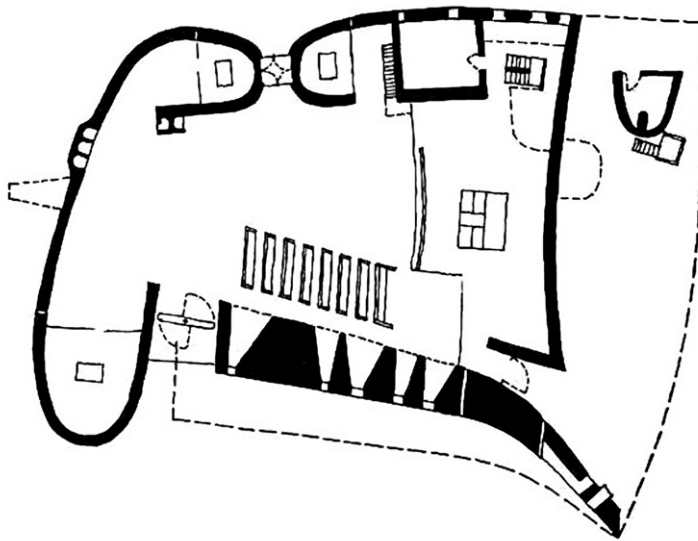
Likovna umjetnost

3. Na prikazanome tlocrtu znakom X označite mjesto s kojega je snimljena prikazana unutrašnjost građevine.



(1 bod)

4. Na prikazanome tlocrtu strelicom označite jedan ulaz u građevinu.



(1 bod)

0
1
NO

Prostor za ocjenjivača – NE POPUNJAVATI!

Likovna umjetnost

5. Na prikazanoj vanjštini građevine linijom označite granicu između zida i krova.



(1 bod)

Prostor za ocjenjivača – NE POPUNJAVATI!

0

1

NO

II. Zadatci produženoga odgovora

U sljedećim zadacima odgovorite s nekoliko rečenica, jasno i sažeto, usmjeravajući se na ono što je bitno za zadatak.

Odgovore upišite **samo** na predviđeno mjesto u ispitnoj knjižici.

Točan odgovor donosi jedan ili dva boda.

6. Opišite formu građevine kroz oblikovanje njezine vanjštine.

(2 boda)

Likovna umjetnost

7. Opišite materijale i njihovu upotrebu u konstrukciji građevine.

(2 boda)

8. Opišite raščlambu prikazanoga zida građevine.



(2 boda)

Likovna umjetnost

9. Objasnite ulogu svjetlosti u oblikovanju unutrašnjosti građevine kroz pet elemenata.

(2 boda)

10. Objasnite povijesni kontekst nastanka prikazane građevine.

(2 boda)

Likovna umjetnost

III. Zadaci kratkoga odgovora

U sljedećim zadacima odgovorite kratkim odgovorom (s jednom ili nekoliko riječi).
Odgovore upišite **samo** na predviđeno mjesto u ispitnoj knjižici.
Točan odgovor donosi jedan bod.

11. Kako se zove arhitekt prikazane građevine?

(1 bod)

12. Koje je ime prikazane građevine?

(1 bod)

13. Koje je ime mjesta u kojemu se nalazi prikazana građevina?

(1 bod)

14. Koja je namjena prikazane građevine?

(1 bod)

15. Koje je godine izgrađena prikazana građevina?

(1 bod)

Prazna stranica

Prazna stranica

Prazna stranica

Prazna stranica