



Nacionalni centar  
za vanjsko vrednovanje  
obrazovanja

Идентификациона  
налепница

ПАЖЉИВО НАЛЕПИТИ

# ЛИКОВНА УМЕТНОСТ

DRŽAVNA MATURA

šk. god. 2023./2024.

Испитна књижица 2  
АНАЛИЗА ЛИКОВНОГ ПРИМЕРА

---

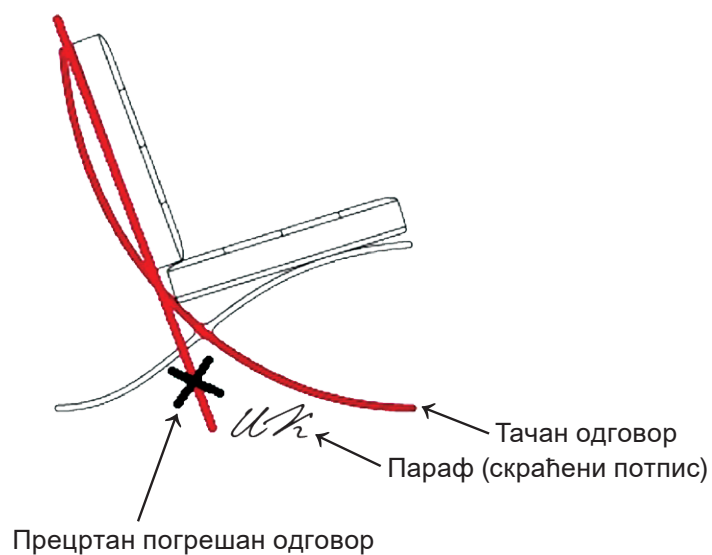
LIU.60.SR.R.K2.16



60026

## Начини исправљања грешака у испитној књижици:

Пример 1.



Пример 2.



---

## ОПШТА УПУТСТВА

Пажљиво прочитајте сва упутства и следите их.

Не okreћите страницу и не решавајте задатке док то не одобри водитељ испитне просторије.

Испит траје **120** минута без паузе.

Задаци се налазе у две испитне књижице. Овај део испита траје **60** минута.

Добро распоредите време како бисте могли решити све задатке.

Испред сваке групе задатака је упутство за решавање. Пажљиво га прочитајте.

За решавање задатака употребљавајте хемијску оловку која пише плавом или црном бојом, фломастере и лењир.

Можете писати по листу за концепт, али се његов садржај неће бодовати.

Пишите читко. Нечитки одговори ће се бодовати са нула (0) бодова.

На 2. страници ове испитне књижице приказани су начини исправљања грешака.

Приликом исправљања грешака потребно је ставити параф (искључиво скраћени потпис, а не пуно име и презиме).

Када решите задатке, проверите одговоре.

Проверите да ли сте налепили идентификационе налепнице на све испитне материјале.


Желимо Вам много успеха!

Ова испитна књижица има 16 страница, од тога 2 празне.

# Ликовна уметност

---


Пажљиво проучите ликовни пример. Након ликовног примера приказаног с неколико репродукција следи 15 задатака везаних за тај ликовни пример. Следите упутства испред сваке врсте задатака.



Слика 1.



Слика 2.



Слика 3.



## I Задаци допуњавања

У следећим задацима фломастером означите тражени садржај на ликовном примеру или уцртајте тражени садржај на ликовни пример.  
Тачан одговор доноси један бод.

1. На детаљу слике уцртајте композицијску линију приказаног лика.



(1 бод)

Простор за оцењивача – НЕ ПОПУЊАВАТИ!

0


1

NO




# Ликовна уметност

2. На приказану слику уцртајте обрисну линију пејзажа.



(1 бод)

3. На приказаној слици заокружите централни иконографски мотив.



(1 бод)

Простор за оцењивача – НЕ ПОПУЊАВАТИ!

0

1


NO

0

1

NO

4. На приказану слику уцртајте границе издвојеног детаља.



Детаљ

(1 бод)

Простор за оцењивача – НЕ ПОПУЊАВАТИ!

0


1

NO



# Ликовна уметност

5. На приказаној слици заокружите детаљ драперије насликан хладном бојом.



(1 бод)

Простор за оцењивача – НЕ ПОПУЊАВАТИ!



## II Задаци продуженог одговора

У следећим задацима одговорите с неколико реченица, јасно и сажето, усмеравајући се на оно шта је важно за задатак.

Одговоре упишите **само** на предвиђено место у испитној књижици.

Тачан одговор доноси један или два бода.

6. Опишите тему и садржај приказане слике кроз шест елемената.

---

---

---

---

---

---

---

---

---

---

(2 бода)

# Ликовна уметност

---

7. Опишите два начина обликовања ликова на приказаној слици.

---

---

---

---

---

---

---

---

---

---

(2 бода)

8. Опишите три композицијске карактеристике приказане слике.

---

---

---

---

---

---

---

---

---

---

(2 бода)



# Ликовна уметност

---

9. Опишите употребу боја на приказаној слици.

---

---

---

---

---

---

---

---

---

---

(2 бода)

**10.** Опишите карактеристике сликарског рукописа на приказаној слици.

---

---

---

---

---

---

---

---

---

---

---

(2 бода)

# Ликовна уметност

---

## III Задаци кратког одговора

У следећим задацима одговорите кратким одговором (с једном или неколико речи).  
Одговоре упишите **само** на предвиђено место у испитној књижици.  
Тачан одговор доноси један бод.

11. Који је назив грађевине у којој се налази приказана слика?

\_\_\_\_\_ (1 бод)

12. Како се зове аутор приказане слике?

\_\_\_\_\_ (1 бод)

13. Како се назива сликарска техника којом је израђена приказана слика?

\_\_\_\_\_ (1 бод)

14. У којем веку је настала приказана слика?

\_\_\_\_\_ (1 бод)

15. Како се назива стилско раздобље којем припада приказана слика?

\_\_\_\_\_ (1 бод)



Празна страница

Празна страница