



Nacionalni centar  
za vanjsko vrednovanje  
obrazovanja

Identifikacijska  
naljepnica

PAŽLJIVO NALIJEPI

# LIKOVNA UMJETNOST

DRŽAVNA MATURA

šk. god. 2023./2024.

Ispitna knjižica 2  
ANALIZA LIKOVNOGA PRIMJERA

---

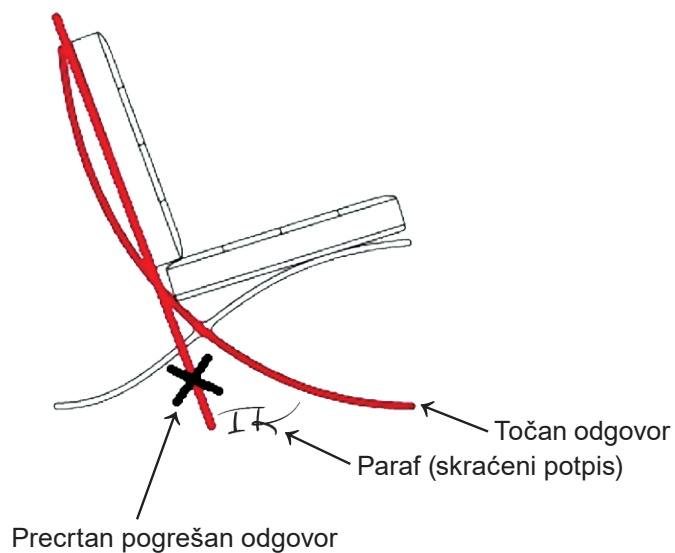
LIU.59.HR.R.K2.20



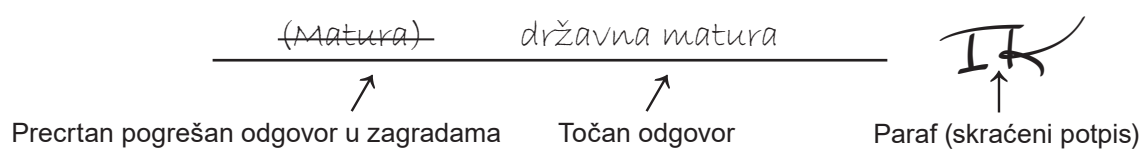
57470

## Načini ispravljanja pogrešaka u ispitnoj knjižici:

Primjer 1.



Primjer 2.



---

## OPĆE UPUTE

Pozorno pročitajte sve upute i slijedite ih.

Ne okrećite stranicu i ne rješavajte zadatke dok to ne odobri voditelj ispitne prostorije.

Ispit traje **120** minuta bez stanke.

Zadaci se nalaze u dvjema ispitnim knjižicama. Ovaj dio ispita traje **60** minuta.

Dobro rasporedite vrijeme kako biste mogli riješiti sve zadatke.

Ispred svake skupine zadataka uputa je za rješavanje. Pozorno je pročitajte.

Za rješavanje zadataka upotrebljavajte kemijsku olovku kojom se piše plavom ili crnom bojom, flomastere i ravnalo.

Možete pisati po listu za koncept, ali se njegov sadržaj neće bodovati.

Pišite čitko. Nečitki odgovori bodovat će se s nula (0) bodova.

Na 2. stranici ove ispitne knjižice prikazani su načini ispravljanja pogrešaka. Pri ispravljanju pogrešaka potrebno je staviti paraf (isključivo skraćeni potpis, a ne puno ime i prezime).

Kada riješite zadatke, provjerite odgovore.

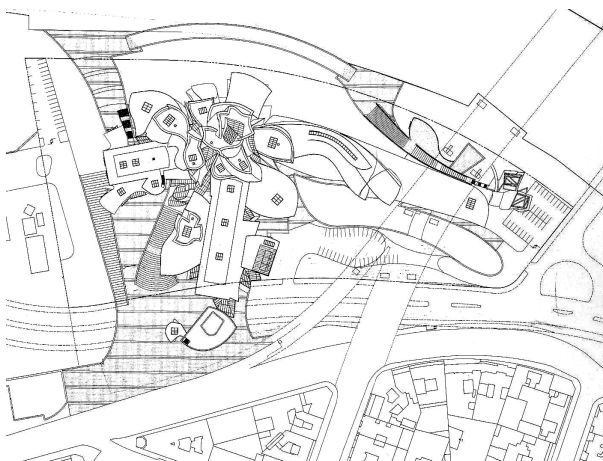
Provjerite jeste li zalijepili identifikacijske naljepnice na sve ispitne materijale.

Želimo Vam mnogo uspjeha!

Ova ispitna knjižica ima 20 stranica, od toga 4 prazne.

# Likovna umjetnost


Pozorno promotrite likovni primjer. Nakon likovnoga primjera prikazanoga s nekoliko reprodukcija slijedi 15 zadataka vezanih za taj likovni primjer. Slijedite upute ispred svake vrste zadataka.



Slika 1.



Slika 2.



Slika 3.



Slika 4.




Slika 5.






Slika 6.



Slika 7.



Slika 8.



Slika 9.

# Likovna umjetnost

## I. Zadatci dopunjavanja

U sljedećim zadacima flomasterom označite traženi sadržaj na likovnome primjeru ili ucrtajte traženi sadržaj na likovni primjer.  
Točan odgovor donosi jedan bod.

1. Na prikazanu vanjštinu građevine ucrtajte obrisnu liniju.



(1 bod)

Prostor za ocjenjivača – NE POPUNJAVATI!

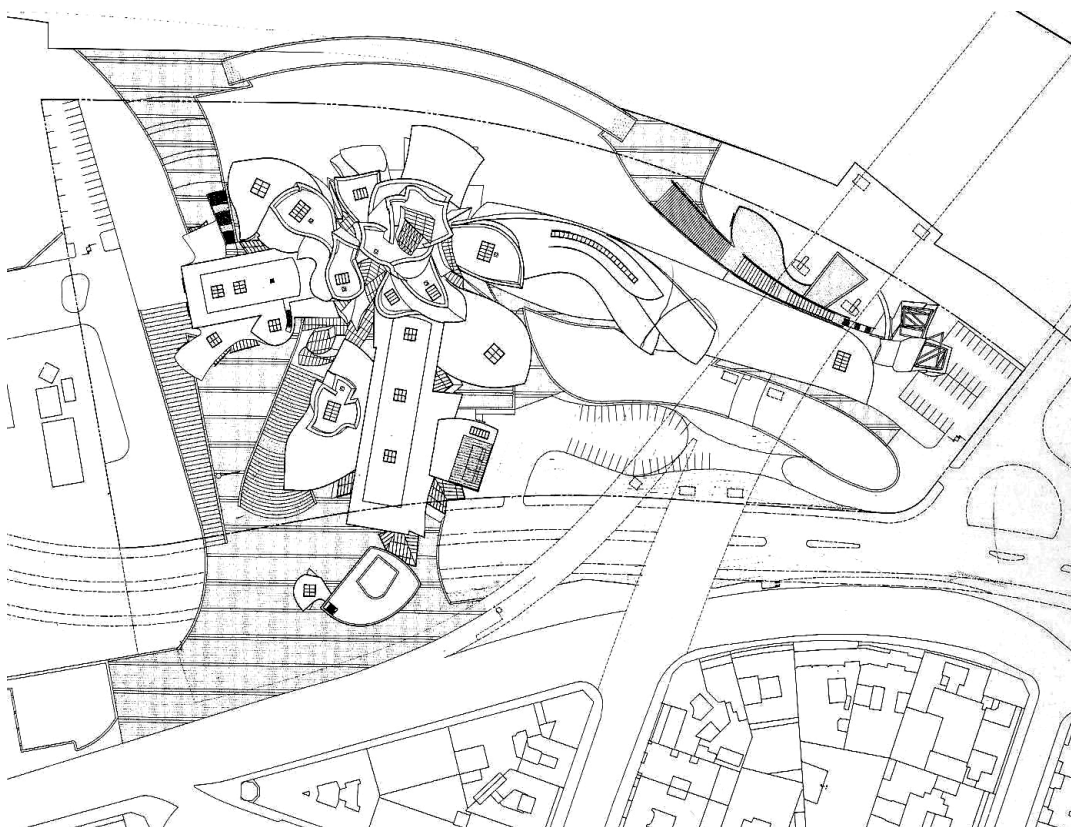
0

1

NO



2. Na tlocrtu strelicom označite glavni ulaz u građevinu.



(1 bod)

Prostor za ocjenjivača – NE POPUNJAVATI!

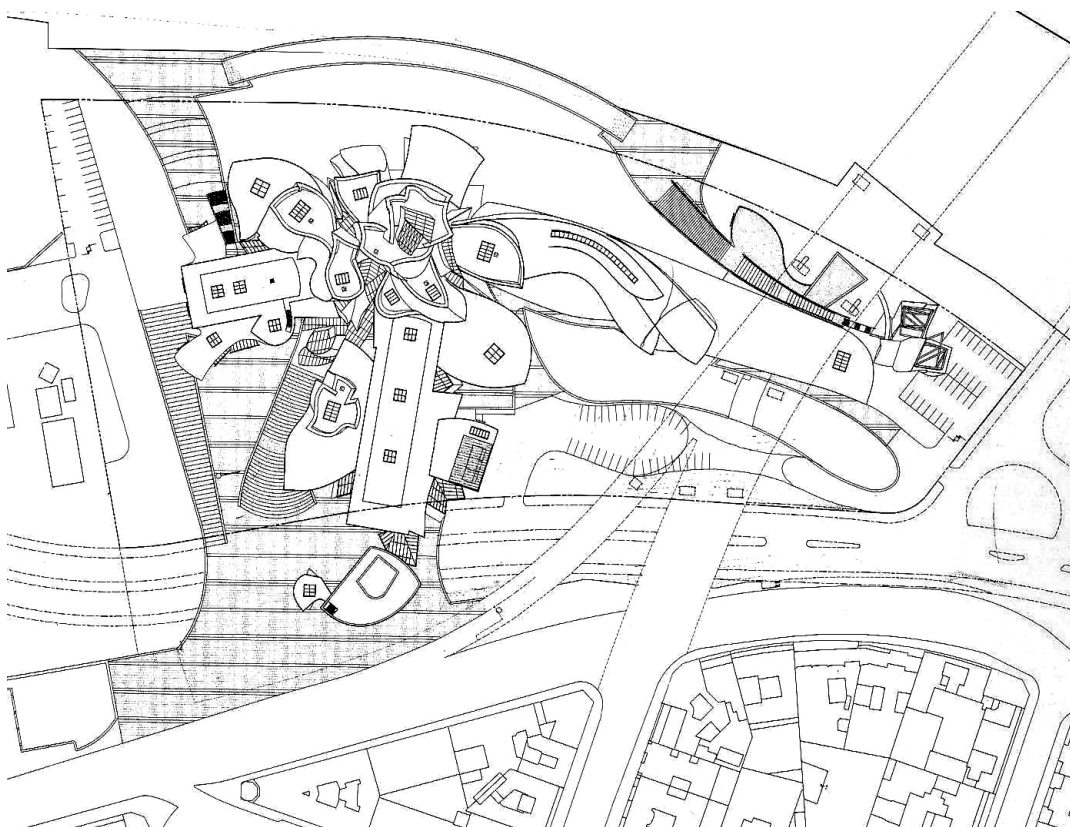
0

1

NO

# Likovna umjetnost

3. Na tlocrtu strelicom označite smjer iz kojega je snimljena prikazana građevina.



(1 bod)

Prostor za ocjenjivača – NE POPUNJAVATI!


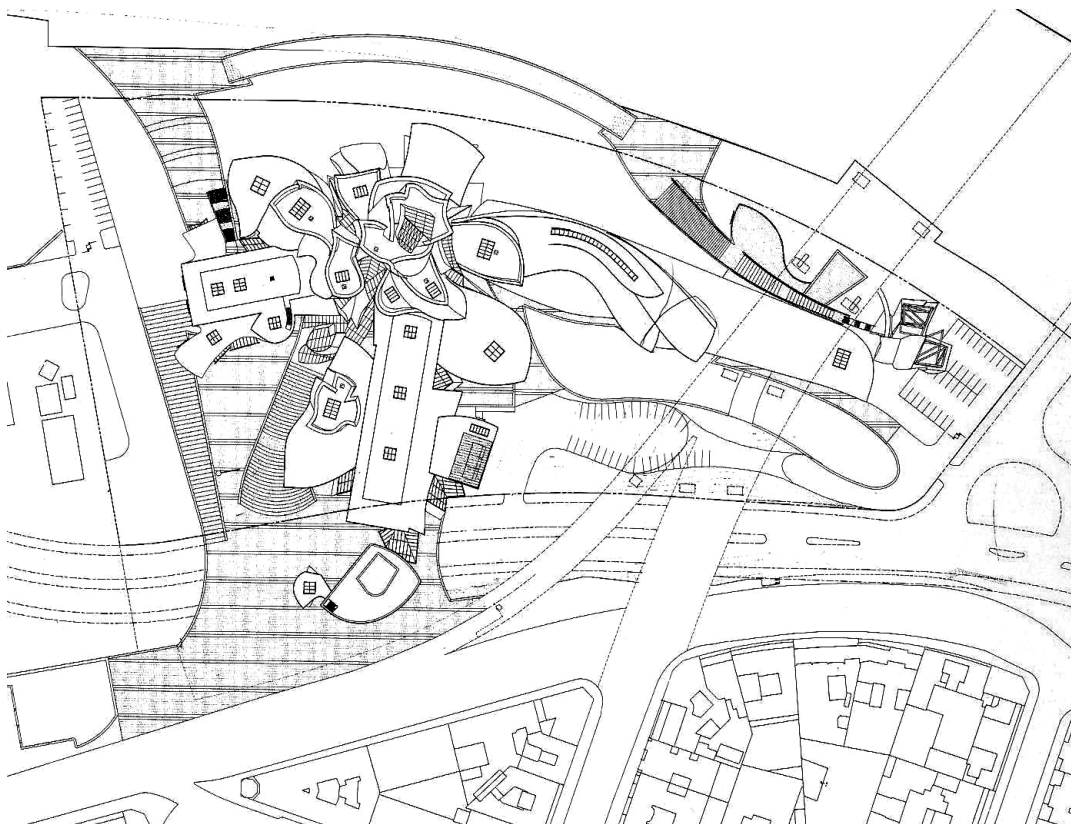
0

1

NO



4. Na tlocrtu znakom X označite mjesto na kojemu se nalazi skulptura zaokružena na fotografiji.



(1 bod)

Prostor za ocjenjivača – NE POPUNJAVATI!

0

1

NO



# Likovna umjetnost

5. Na prikazanu vanjštinu građevine ucrtajte granice prozora u prednjemu planu fotografije.



(1 bod)

Prostor za ocjenjivača – NE POPUNJAVATI!

0

1

NO

## II. Zadatci produženoga odgovora

U sljedećim zadacima odgovorite s nekoliko rečenica, jasno i sažeto, usmjeravajući se na ono što je bitno za zadatak.

Odgovore upišite **samo** na predviđeno mjesto u ispitnoj knjižici.

Točan odgovor donosi jedan ili dva boda.

6. Opišite pet kompozicijskih obilježja tlocrta prikazane građevine.

---

---

---

---

---

---

---

---

---

---

(2 boda)

# Likovna umjetnost

7. Opišite formu vanjšine prikazane građevine.



---

---

---

---

---

---

---

---

---

---

(2 boda)

8. Opišite materijale korištene u izgradnji te njihov učinak na izgled građevine.

---

---

---

---

---

---

---

---

---

---

---

(2 boda)

# Likovna umjetnost

---

9. Objasnite ulogu suvremenih tehnologija u izvedbi prikazane građevine.

---

---

---

---

---

---

---

---

---

---

(2 boda)



**10.** Objasnite utjecaj građevine na razvoj grada u kojemu se nalazi.

---

---

---

---

---

---

---

---

---

---

---

(2 boda)

# Likovna umjetnost

## III. Zadatci kratkoga odgovora

U sljedećim zadacima odgovorite kratkim odgovorom (s jednom ili nekoliko riječi).  
Odgovore upišite **samo** na predviđeno mjesto u ispitnoj knjižici.  
Točan odgovor donosi jedan bod.

11. Kako se zove arhitekt prikazane građevine?

(1 bod)

12. Koji je naziv prikazane građevine?

(1 bod)

13. Koje je ime grada u kojemu se nalazi prikazana građevina?

(1 bod)

14. U kojemu je stoljeću izgrađena prikazana građevina?

(1 bod)

15. Kako se naziva arhitektonski pravac kojemu pripada prikazana građevina?

(1 bod)

Prazna stranica

Prazna stranica

Prazna stranica



Prazna stranica